



# CONCURSO PÚBLICO – PROVA OBJETIVA

ASSINATURA DO(A) CANDIDATO(A):

Nº DE INSCRIÇÃO

## PREFEITURA MUNICIPAL DE CONCEIÇÃO

### CONCURSO PÚBLICO N.º 001/2018

**CARGO: FISIOTERAPEUTA**

#### INSTRUÇÕES:

##### VERIFIQUE SE ESTE CADERNO:

- Corresponde a sua opção de cargo.
- Contém 40 (quarenta) questões, numeradas de 01 a 40, caso contrário reclame ao fiscal da sala outro caderno. **NÃO** serão aceitas reclamações posteriores.
- Para cada questão existe apenas **UMA** resposta certa.
- Você deve ler cuidadosamente cada uma das questões e escolher a resposta certa.
- A alternativa escolhida deve ser marcada na **FOLHA DE RESPOSTAS** que você recebeu.

##### VOCÊ DEVE:

- Procurar na **FOLHA DE RESPOSTAS**, o número da questão que você está respondendo.
- Verificar no caderno de prova qual a letra (A, B, C, D, E) da resposta que você escolheu.
- Marcar essa letra na **FOLHA DE RESPOSTAS**, conforme o exemplo: [■].

##### ATENÇÃO:

- Marque as respostas com caneta esferográfica azul ou preta.
- Marque apenas uma letra para cada questão, mais de uma letra assinalada implicará nota zero à questão.
- Não será permitida qualquer espécie de consulta, nem o uso de máquina calculadora.
- Você terá 3 (três) horas para responder a todas as questões e preencher a folha de respostas.
- Devolva esse caderno de prova ao aplicador, juntamente com a sua folha de respostas.
- Proibida a divulgação ou impressão parcial ou total da presente prova. **Direitos Reservados.**

**LINGUA PORTUGUESA – 1 A 12**  
**02 PONTOS**

Leia o trecho abaixo para responder às questões **1 a 6**.

No início \_\_\_\_\_ século, as cidades de São Paulo e Rio de Janeiro fizeram uma campanha de saúde pública em que se ofereciam 100 réis por cada rato levado ao incinerador público. \_\_\_\_\_ época, o lixo vivia espalhado por todo lado e esses animais proliferavam em abundância, transmitindo doenças à população.

Francisco Luiz Rodrigues e Vilma Maria Calvinatto. *Lixo: de onde vem? Para onde vai?* 1 ed. São Paulo: Moderna, 1997.

1. Assinale a alternativa que completa, respectivamente, as lacunas presentes no trecho acima:

- a) Desse – Nessa
- b) Deste – Nesta
- c) Deste – Nessa
- d) Desse – Nesta
- e) Nesse – Deste

2. As palavras que completam as lacunas da questão anterior são classificadas como:

- a) Advérbios de lugar
- b) Pronomes demonstrativos
- c) Conjunções integrantes
- d) Locuções prepositivas
- e) Advérbios de modo

3. Observe: “... se ofereciam 100 réis **por cada** rato levado ao incinerador público.” O trecho destacado é uma figura de linguagem conhecida por:

- a) Anáfora
- b) Catacrese
- c) Metonímia
- d) Cacofonia
- e) Elipse

4. A conjunção em destaque, no período do trecho: “Nessa época, o lixo vivia espalhado por todo

lado e esses animais proliferavam em abundância...”, assume o mesmo valor de:

- a) Gosto muito dele, **bem como** gosto muito de você.
- b) Venha agora, **senão** vão perder o avião.
- c) Eu acreditei na sua história, **mas** era tudo mentira.
- d) Eu e minha família vamos mudar de cidade, **logo** terei de sair do colégio.
- e) Não esperem por mim, **porque** estou no trabalho.

5. O texto acima deve ser considerado:

- a) Argumentativo
- b) Injuntivo
- c) Descritivo
- d) Expositivo
- e) Narrativo

6. Analise as proposições abaixo e assinale a alternativa **CORRETA**:

I – No Primeiro parágrafo do texto temos ao menos cinco palavras acentuadas graficamente pela mesma regra.

II – A palavra “**rato**”, no texto, foi usada em seu sentido denotativo.

III – A palavra “**proliferavam**”, presente no texto, poderia ser substituída sem prejuízo de sentido por “**pululavam**”.

- a) Estão corretas apenas I e II
- b) Estão corretas apenas I e III
- c) Estão corretas apenas II e III
- d) Está correta apenas I
- e) Está correta apenas II

Leia o texto abaixo para responder às questões de **7 a 12**.

**Brumadinho é Velho Chico: Roberto Malvezzi**

Brumadinho pertence a vasta bacia hidrográfica do São Francisco (Uma das 12 Regiões Hidrográficas do Brasil, segundo a ANA), desaguando no Paraopeba, que deságua dentro da barragem de Três Marias, a primeira de uma cascata de barragens ao longo do Rio São Francisco.

O Brasil criou uma legislação da água com a Lei 9.433/97, tendo como base de planejamento as bacias hidrográficas. A mesma lei criou uma política nacional de recursos hídricos, tendo os comitês de bacia na base e no topo o Conselho Nacional de Recursos Hídricos. Depois FHC criou a Agência Nacional de Águas (ANA) como um corpo estranho a lei, mas era a construção das Agências Reguladoras no Brasil, para oferecer segurança jurídica ao capital.

O Comitê da Bacia do São Francisco foi um dos primeiros a ser criado. Ele tem a obrigação legal de criar o Plano de Bacia, que tem composição tripartite, isto é, poder público, sociedade civil e usuários. Aí no meio dos usuários estão as mineradoras, as indústrias, o agronegócio e as geradoras de energia. O capital impõe seus interesses, apesar da boa vontade de tantos que participam dos comitês de bacia ao longo do Brasil.

Em poucos dias as águas vermelhas de Brumadinho chegarão à barragem de Três Marias, mesmo que fiquem contidas por algum tempo nas barragens intermediárias. Com as chuvas, é questão de tempo.

Virão juntos todos os contaminantes de metais pesados – cobre, manganês, zinco, cromo, cobalto, níquel, chumbo – que se espalharão pela calha do Velho Chico, por cerca de dois mil km, passando aqui entre Juazeiro e Petrolina, até chegar ao mar entre Sergipe e Alagoas. São 15 milhões de pessoas, espalhadas por inúmeros municípios, ao longo de cinco estados. Agora temos que somar os paraibanos da região de Campina Grande que também bebem dessa água.

Bolsonaro não inaugurou o menosprezo pela natureza aqui no Brasil. Apenas se propõe a consolidar e aprofundar esse desprezo, já que é assim mesmo que o capital trata o meio ambiente. Há coerência de sua parte. Porém, a eliminação da Amazônia, do Cerrado vai aos poucos eliminando nossa malha hidrográfica antes abundante e que nos colocava no privilégio mundial de deter 13% das águas doces do planeta. Entretanto, as mineradoras e outras poluidoras nos oferecem a dádiva de acabar com a qualidade das nossas águas.

Sinceramente, grande parte das esquerdas jamais entendeu e respeitou nossa luta pelo meio ambiente, nunca entendeu que as desgraças são socioambientais e também nos acham como empecilhos do progresso e do desenvolvimento. Há conflitos entre o meio ambiente e os interesses econômicos que são insuperáveis, ou seja, ou um ou outro, jamais os dois ao mesmo tempo. É o caso da devastação da Amazônia e do Cerrado pelo agronegócio, ou dos “dejeitos” das mineradoras.

Termino esse texto com a frase no zap de uma pessoa da família que mora perto de uma usina de cana: “Bom dia, hoje amanhecemos tomando um banho de veneno do avião pulverizador da usina”.

Presente em: <https://leonardoboff.wordpress.com/> - acesso em 30/01/2019

7. Podemos identificar como tema central do texto:

- a) O uso indiscriminado de agrotóxicos em nosso país e o sofrimento da população que mora ao redor dos locais onde são feitas pulverizações.
- b) A transposição do Rio São Francisco e os males que a água sofre durante o percurso até chegar em seu destino final.
- c) A tragédia de Brumadinhos, que deixou inúmeros mortos e desaparecidos em Minas Gerais.
- d) A falta de interesse do poder público pela Amazônia.
- e) A falta de cuidado com o meio ambiente ao longo dos anos, sobretudo, por parte dos governantes, que não se preocupam em mudar a situação, muitas vezes por interesse econômico.

8. Propositamente, omitiu-se o uso da crase nos primeiro e segundo parágrafos do texto. Em quantas situações nesses parágrafos o uso do acento indicativo de crase deveria ser utilizado, obrigatoriamente:

- a) Uma
- b) Duas
- c) Três
- d) Quatro
- e) Nenhuma

9. Assinale a alternativa acentuada graficamente pela mesma regra da palavra em destaque no trecho: “O Brasil criou uma legislação da **água** com a Lei 9.433/97”:

- a) Hidrográfica
- b) Manganês
- c) Jurídica
- d) Aí
- e) Usuários

10. Assinale a alternativa em que a palavra em destaque teve o mesmo valor semântico do termo

em destaque no trecho: “A mesma lei criou uma política nacional de recursos hídricos, tendo os comitês de bacia na base e no topo o Conselho Nacional de Recursos Hídricos.”.

- a) Passeei bastante e descansei.
- b) Faço tudo e não vejo nada pronto.
- c) Vou à praia, e está chovendo.
- d) Você mexe-se e eu atiro.
- e) Faço o bolo e levo na hora dos parabéns.

11. Analise as proposições abaixo e assinale a alternativa **CORRETA**:

I – Há um erro de concordância em “Brumadinho pertence a vasta bacia hidrográfica do São Francisco (**Uma** das 12 Regiões Hidrográficas do Brasil, segundo a ANA), pois o termo em destaque deveria concordar com o numeral e ir para o plural.

II – De acordo com o texto, a solução para o problema seria o atual governo federal investir em políticas públicas ambientais.

III – A palavra em destaque no trecho: “**Entretanto**, as mineradoras e outras poluidoras nos oferecem a dádiva de acabar com a qualidade das nossas águas.”, poderia ser substituída, sem prejuízo de sentido pela palavra “**pois**”.

- a) Estão corretas apenas I e II
- b) Estão corretas apenas I e III
- c) Estão corretas apenas II e III
- d) Todas estão corretas
- e) Todas estão incorretas

12. Ao se referir ao Rio São Francisco como ‘**Velho Chico**’ o autor faz uso de uma importante figura de linguagem. Assinale a alternativa **CORRETA** quanto ao uso dessa figura:

- a) Sinestesia
- b) Sinédoque
- c) Eufemismo
- d) Metonímia
- e) Prosopopeia

**RACIOCÍNIO LÓGICO – 13 A 16**  
**02 PONTOS**

13. Observe a tabela a seguir.

A	B	?
V	V	V
V	F	V
F	V	V
F	F	F

A relação lógica representada acima é

- a)  $A \wedge B$
- b)  $A \vee B$
- c)  $A \Rightarrow B$
- d)  $\sim A \vee B$
- e)  $A \wedge \sim B$

14. A **negação** da proposição “disparou o alarme e o carro foi roubado” é

- a) não disparou o alarme e o carro não foi roubado
- b) se não disparou o alarme, então o carro não foi roubado
- c) não disparou o alarme ou o carro não foi roubado
- d) não disparou o alarme ou o carro foi roubado
- e) disparou o alarme e o carro não foi roubado

15. O resultado da seguinte operação

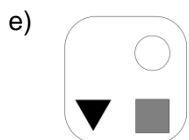
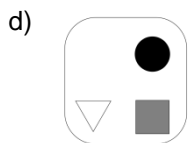
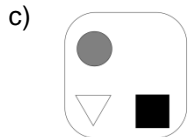
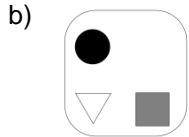
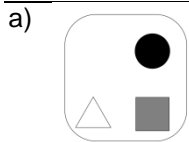
$$4 + 4 \times 4 - 4 \div 4 \text{ é:}$$

- a) 16
- b) 31
- c) 4
- d) 7
- e) 19

16. Observe as figuras na sequência abaixo.



A figura que vem a seguir é:



**ATUALIDADES – 17 A 20**  
**02 PONTOS**

17. O Prêmio Jabuti é a mais tradicional premiação literária do país, sendo considerado um ativo cultural da sociedade brasileira. A Câmara Brasileira do Livro (CBL) anunciou que o ganhador do Prêmio Jabuti em 2018 na categoria Livro do Ano foi o escritor cearense Mailson Furtado Viana que receberá a importância de R\$ 100 mil reais. A cerimônia foi realizada no Auditório do Ibirapuera, em São Paulo. A respeito das informações fornecidas é **CORRETO** afirmar que o Livro do Ano do Prêmio Jabuti 2018 teve como título:

- a) Alfabetização: a questão dos métodos
- b) À sombra do iluminado
- c) À cidade
- d) O teatro do mundo
- e) À saga do nordestino brasileiro

18. O celular é uma tecnologia bastante utilizada pelos brasileiros. Contudo, cresce o número de celulares considerados “piratas” no país, que podem causar risco à saúde dos consumidores ou afetar às redes de telecomunicações. Com o objetivo de sanar o problema e também de combater o uso de

celulares roubados, furtados ou extraviados a ANATEL - Agência Nacional de Telecomunicações lançou o projeto “Celular Legal” e anunciou que todos os celulares irregulares que estão circulando no país serão bloqueados, para tanto foi previsto um calendário composto por três fases, sendo a primeira fase iniciada no dia 22 de fevereiro de 2018. É **CORRETO** afirmar que os estados atingidos pela medida nesta primeira fase são:

- a) Goiás e Distrito Federal
- b) Rio de Janeiro e Espírito Santo
- c) Mato Grosso e Distrito Federal
- d) Rio de Janeiro e São Paulo
- e) São Paulo e Distrito Federal

19. A Política Nacional de Resíduos Sólidos determinou que todos os lixões do país deveriam ter sido fechados até agosto de 2014, entretanto quase 200 municípios da Paraíba não possuem aterro sanitário, resultando em danos ambientais e à segurança das pessoas.

**Considerando os 223 municípios da Paraíba, analise as afirmativas abaixo:**

- I. João Pessoa e Campina Grande possuem aterros sanitários.
- II. Dos municípios paraibanos com mais de 50 mil habitantes, apenas João Pessoa e Campina Grande possuem aterros sanitários.
- III. Conceição, Campina Grande, Guarabira, João Pessoa e Sousa possuem aterros sanitários.
- IV. Conceição, Patos e Sousa, localizados no sertão paraibano, possuem aterros sanitários.
- V. Conceição, Piancó e Sousa, localizados no sertão paraibano, possuem aterros sanitários.

Assinale a resposta **CORRETA**:

- a) Apenas I e II são verdadeiras
- b) Apenas II e IV são falsas
- c) Apenas I, II e III são verdadeiras
- d) Apenas I e V são verdadeiras
- e) Apenas II e V são falsas

20. Considere os itens, colocando **(V)** ou **(F)** nos parênteses, se caso for verdadeiro ou falso, respectivamente, a respeito da Operação Lava Jato considerada a maior investigação em andamento no Brasil.

(\_\_\_) A Operação Lava Jato tem por objetivo apurar os crimes de corrupção, crimes contra o Sistema Financeiro Internacional, lavagem de dinheiro, formação de organização criminosa, além de outros crimes.

(\_\_\_) Recebeu o nome de “Operação Lava Jato”, devido a existência de um lava jato que existia nas instalações que fica próximo de um posto de gasolina que estava sendo investigado.

(\_\_\_) Na Operação Lava Jato cada fase recebe um nome especial, a exemplo da quadragésima oitava operação ocorrida no primeiro semestre de 2018, denominada de “Operação Integração, que decorre da investigação de um esquema nas concessões de rodovias do chamado “Anel de Integração” do Paraná e em outros três estados.

(\_\_\_) Sérgio Moro, juiz responsável por julgar os réus que cometeram os crimes na Operação Lava Jato pediu exoneração do cargo de juiz federal do TRF da 4ª Região para se dedicar ao Ministério da Justiça e Segurança Pública, sendo substituído provisoriamente por Gabriela Hardt.

(\_\_\_) O ex-presidente Lula foi condenado pela justiça brasileira em segunda instância a uma pena de 12 anos e 1 mês de prisão por corrupção e lavagem de dinheiro com o início da pena em regime fechado.

A sequência **CORRETA** é:

- a) V – V – V – V – V
- b) V – F – V – V – V
- c) V – V – F – V – V
- d) V – F – F – V – V
- e) V – F – F – F – V

### CONHECIMENTOS ESPECÍFICOS – 21 A 40 03 PONTOS

21. Fenômeno comum apresentado no organismo, relacionado diretamente ao exercício, é o estado \_\_\_\_\_. Esse é um comportamento oposto à homeostase, que diz respeito à estabilidade que é provocada em alguns órgãos, músculos e tecidos, e que pode manter o equilíbrio da produção de substratos energéticos e a manutenção da frequência cardíaca para a realização do exercício.

Assinale a alternativa que preenche **CORRETAMENTE** a lacuna do texto:

- a) Estável.
- b) Energético.
- c) Conversivo.
- d) Consuptível.
- e) Dinâmico.

22. Entende-se que uma quilocaloria (1kcal) corresponde à quantidade de energia térmica (calor) necessária para aumentar a temperatura de um quilograma (1kg) ou um litro de água em um grau Celsius (1°C). Assim, a oxidação de um grama de gordura é responsável pela produção de:

- a) 3 kcal de energia.
- b) 5 kcal de energia.
- c) 7 kcal de energia.
- d) 9 kcal de energia.
- e) 12 kcal de energia.

23. A adenosina trifosfato, popularmente conhecida como ATP, é uma molécula de alta energia produzida pelo organismo, presente em todas as células, que consiste em uma molécula de adenosina (adenina) unida a uma molécula de nucleosídeo (ribose) e a três radicais fosfato, composto de:

- a) Fósforo unidos a oxigênios.
- b) Fósforo unidos a nitrogênios.
- c) Fósforo unidos a carbonos.
- d) Oxigênio unidos a nitrogênios.
- e) Oxigênio unidos a hidrogênios.

24. O glicogênio armazenado no fígado é sintetizado a partir da glicose, por meio de um processo denominado glicogênese, sendo que o catabolismo desse glicogênio para a utilização na via anaeróbia é denominado de glicogenólise. A glicogenólise necessita de três enzimas, sendo a principal delas, responsável pela liberação da glicose a partir do glicogênio, denominada:

- a) Enzima desramificante.
- b) Fosfoglicomutase.
- c) Fosforilase.
- d) Lactato.
- e) Insulina.

25. Quando a manifestação neurológica desaparece e reaparece periodicamente ao longo da mesma doença denomina-se:



- a) Remitente.
- b) Intermitente.
- c) Recorrente.
- d) Recidivante.
- e) Imprecisa.

26. Dor em queimação, com hiperestesia e parestesias, no terceiro e quarto pododáctilos caracterizam o neuroma de:

- a) Morton.
- b) Joplin.
- c) With.
- d) Heuter.
- e) Pie.

27. O Nervo glúteo inferior é responsável pela:

- a) Flexão da perna.
- b) Adução da coxa.
- c) Extensão da perna.
- d) Flexão da coxa.
- e) Extensão da coxa.

28. "Em decúbito dorsal e membros inferiores em extensão, com os pés em posição vertical. Em caso de déficit dos músculos rotatórios internos dos membros inferiores, os pés desviam-se para fora. É manobra importante no paciente em coma, quando o déficit indica hemiplegia."

O trecho acima discorre a aplicação pelo fisioterapeuta da:

- a) Manobra de Barré.
- b) Manobra de Kristeller.
- c) Manobra de Epley.
- d) Manobra do escaleno.
- e) Manobra do pé.

29. O centro de massa está habitualmente localizado anterior à segunda vértebra sacral e, durante a marcha normal, desloca-se nos três planos de movimento. Existe uma série de mecanismos fisiológicos empregados para que tal deslocamento seja o menor e mais suave possível, e que, em última instância, ocorra conservação de energia. Esses mecanismos são chamados de determinantes da marcha, sendo eles:

*I - Elevação e rotação externa da pelve no início da fase de apoio.*

*II - Primeira onda de flexão dos joelhos na resposta à carga.*

*III - Leve varo do joelho e adução do quadril na resposta à carga.*

*IV - Mecanismos de rolamento dos tornozelos na fase de apoio.*

Está correto o que se afirma em:

- a) I e III, apenas.
- b) II e IV, apenas.
- c) I e II, apenas.
- d) III e IV, apenas.
- e) I e IV, apenas.

30. Sistemas de classificação têm sido desenvolvidos nas últimas décadas com a finalidade de tentar definir os padrões mais frequentes da marcha na paralisia cerebral. Em 1987, Winters e colaboradores identificaram alguns padrões em pacientes com hemiparesia espástica, com base no comportamento dos joelhos no plano sagital. Quando apresentam equino do tornozelo apenas durante a fase de balanço os pacientes são classificados em tipo:

- a) I.
- b) II.
- c) III.
- d) IV.
- e) V.

31. A integração entre a Vigilância em Saúde e Atenção Básica é condição essencial para o alcance de resultados que atendam às necessidades de saúde da população, na ótica da integralidade da atenção à saúde e visa estabelecer processos de trabalho que considerem:

- a) Os determinantes, os riscos e danos à saúde, na perspectiva da intra e intersetorialidade.
- b) Apoiar e estimular a adoção da Estratégia Saúde da Família - ESF como estratégia prioritária de expansão, consolidação e qualificação da Atenção Básica.
- c) Contribuir com o financiamento tripartite para fortalecimento da Atenção Básica.

d) Assegurar ao usuário o acesso universal, equânime e ordenado às ações e serviços de saúde do SUS, além de outras atribuições que venham a ser pactuadas pelas Comissões Intergestores.

e) Desenvolver mecanismos técnicos e estratégias organizacionais de qualificação da força de trabalho para gestão e atenção à saúde, estimular e viabilizar a formação, educação permanente e continuada dos profissionais, garantir direitos trabalhistas e previdenciários, qualificar os vínculos de trabalho e implantar carreiras que associem desenvolvimento do trabalhador com qualificação dos serviços ofertados às pessoas.

32. É responsabilidade de todas as esferas gestoras frente à Atenção Básica, estabelecer mecanismos regulares de autoavaliação para as equipes que atuam na Atenção Básica, a fim de:

a) Adotar estratégias para garantir um amplo escopo de ações e serviços a serem ofertados na Atenção Básica, compatíveis com as necessidades de saúde de cada localidade.

b) Desenvolver as ações de assistência farmacêutica e do uso racional de medicamentos, garantindo a disponibilidade e acesso a medicamentos e insumos.

c) Definir e rever periodicamente, de forma pactuada, na Comissão Intergestores Tripartite (CIT), as diretrizes da Política Nacional de Atenção Básica.

d) Fomentar as práticas de monitoramento, avaliação e planejamento em saúde.

e) Estimular a participação popular e o controle social.

33. As estratégias de articulação junto às gestões estaduais e municipais do SUS, com vistas à institucionalização da avaliação e qualificação da Atenção Básica são definidas de forma:

- a) Bipartite.
- b) Tripartite.
- c) Quadripartite.
- d) Regional.
- e) Complementar.

34. Na perspectiva de superar as dificuldades apontadas ao longo de sua história, os gestores do Sistema Único de Saúde (SUS) assumiram o compromisso público da construção do PACTO

PELA SAÚDE 2006, que deve ser anualmente revisado, com base nos princípios constitucionais do SUS, ênfase nas necessidades de saúde da população e que implicará o exercício simultâneo de definição de prioridades articuladas e integradas. O Pacto pela Saúde é articulado em três componentes, sendo eles:

a) Pacto Sanitário, Pacto em Defesa do SUS e Pacto de Compromisso com o SUS.

b) Pacto Sanitário, Pacto em Defesa do SUS e Pacto de Gestão do SUS.

c) Pacto pela Vida, Pacto de Compromisso com o SUS e Pacto de Gestão do SUS.

d) Pacto pela Vida, Pacto Sanitário e Pacto de Compromisso com o SUS.

e) Pacto pela Vida, Pacto em Defesa do SUS e Pacto de Gestão do SUS.

35. Transcorridas quase duas décadas do processo de institucionalização do Sistema Único de Saúde, a sua implantação e implementação evoluíram muito, especialmente em relação aos processos de descentralização e municipalização das ações e serviços de saúde. O processo de descentralização:

*I - Ampliou o contato do Sistema com a realidade social, política e administrativa do país e com suas especificidades regionais, tornando-se mais complexo.*

*II - Colocou os gestores a frente de desafios que busquem superar a fragmentação das políticas e programas de saúde através da organização de uma rede regionalizada e hierarquizada de ações e serviços e da qualificação da gestão.*

*III - Promoveu inovações nos processos e instrumentos de gestão que visam alcançar maior efetividade, eficiência e qualidade de suas respostas e ao mesmo tempo, redefiniu responsabilidades coletivas por resultados sanitários em função das necessidades de saúde da população e na busca da equidade social.*

Está **CORRETO** o que se afirma em:

- a) I, apenas.
- b) I e II, apenas.
- c) I e III, apenas.
- d) II e III, apenas.
- e) I, II e III.



36. É INCORRETO afirmar que os indicadores de saúde medem na população diferentes aspectos relacionados com:

- a) A função ou incapacidade.
- b) A ocorrência de doença ou óbito.
- c) Aspectos relacionados com os recursos dos serviços de saúde.
- d) Aspectos relacionados com desempenho dos serviços de saúde.
- e) Aspectos ligados à atividade física, a presença de dor, o nível do sono, de energia e o isolamento social.

37. Os indicadores de \_\_\_\_\_ medem a frequência de problemas de saúde específicos como infecções, cânceres ou acidentes de trabalho. As fontes de dados costumam ser registros de hospitais e serviços de saúde, notificação de doenças sob vigilância e inquéritos de soroprevalência e de autorrelato de doenças, entre outros.

Assinale a alternativa que preenche **corretamente** a lacuna do texto:

- a) Prevalência.
- b) Incidência.
- c) Morbidade.
- d) Mortalidade.
- e) Integridade.

38. A quantificação dos problemas de saúde na população requer procedimentos e técnicas estatísticas diversas, algumas delas de relativa complexidade. Dadas as características de múltiplos fatores dos problemas de saúde, as técnicas qualitativas são também valiosas para aproximar-se do conhecimento dos determinantes da saúde. É por isso que existe a necessidade de:

- a) Incorporar, de forma dialética, métodos e técnicas quantitativas e qualitativas que permitam estudar os diversos componentes dos objetos de estudo.
- b) Capacitação permanente da equipe local de saúde e das suas redes na coleta, manuseio, análise e interpretação de dados epidemiológicos.
- c) Limitações do manuseio correto da informação numérica, sua análise e interpretação, funções que requerem o uso dos princípios da epidemiologia e da bioestatística.

d) Um programa informatizado que reduza notavelmente o tempo de cálculo, processamento e análise dos dados.

e) Observação dos fenômenos de saúde e doença na população.

39. É possível observar que o desempenho dos Conselhos de Saúde está relacionado à com os seguintes aspectos, **EXCETO**:

- a) A maneira como seus integrantes se articulam com as bases sociais.
- b) A maneira como seus integrantes transformam os direitos e as necessidades de seus segmentos em demandas e projetos de interesse público.
- c) Como seus integrantes participam da deliberação da política de saúde a ser adotada em cada esfera de governo.
- d) A ampliação do processo da capacitação para a educação permanente para o controle social no SUS.
- e) O trato das questões de saúde sob sua avaliação, e que reforçam a necessidade de interatividade dos seus segmentos.

40. Em seu processo de consolidação no âmbito das políticas públicas, os Conselhos de Saúde, como instâncias colegiadas e deliberativas à estrutura do SUS, representam espaços participativos nos quais emerge uma nova cultura política, configurando-se como uma prática na qual se faz presente:

- a) A descentralização das ações do SUS.
- b) O diálogo, a contestação e a negociação a favor da democracia e da cidadania.
- c) A necessidade de interatividade público-privada.
- d) Processos de ordem técnico-normativa e de ordem econômico-jurídica.
- e) Práticas de educação em saúde, educação permanente em saúde e educação comunitária.

**RASCUNHO**