



PREFEITURA MUNICIPAL DE BOM JESUS ESTADO DO RIO GRANDE DO SUL CONCURSO PÚBLICO Nº 01/2018

MÉDICO CLÍNICO GERAL

Instruções

Leia atentamente e cumpra rigorosamente as instruções que seguem, pois elas são parte integrante das provas e das normas que regem esse Concurso ou Processo Seletivo.

1. Atente-se aos avisos contidos no quadro da sala.
2. Seus pertences deverão ser armazenados dentro do saco plástico fornecido pelo fiscal. Somente devem permanecer em posse do candidato caneta esferográfica de material transparente, com tinta azul ou preta de ponta grossa, documento de identidade, lanche e água, se houver. A utilização de qualquer material não permitido em edital é expressamente proibida, acarretando a imediata exclusão do candidato.
3. Certifique-se de que este caderno:
 - contém 40 (quarenta) questões;
 - refere-se ao cargo para o qual realizou a inscrição;
4. Cada questão oferece 5 (cinco) alternativas de respostas, representadas pelas letras A, B, C, D e E, sendo apenas 1 (uma) a resposta correta.
5. No caderno de prova, pode-se rabiscar, riscar e calcular.
6. Será respeitado o tempo para realização da prova conforme previsto em edital, incluindo o preenchimento da grade de respostas.
7. A responsabilidade referente à interpretação dos conteúdos das questões é exclusiva do candidato.
8. Os dois últimos candidatos deverão retirar-se da sala de prova ao mesmo tempo, devendo assinar a Ata de Prova.
9. Os gabaritos preliminares da prova objetiva serão divulgados na data descrita no Cronograma de Execução.



Instrução: As questões de números 01 a 10 referem-se ao texto abaixo. Os destaques ao longo do texto estão citados nas questões.

Dinheiro e saúde

Dráuzio Varela

01 Dinheiro não _____ felicidade, diz o povo. Embora _____ controvérsias, a julgar pelo
02 exemplo dos Estados Unidos, nem saúde; pelo segundo ano consecutivo, a expectativa de vida
03 dos americanos diminuiu. Em 1960, tal expectativa era a mais alta do mundo. Chegava a 2,4
04 anos a mais do que a média dos países da Organização para a Cooperação e o Desenvolvimento
05 Econômico (OCDE), uma cesta de 35 países,, os mais ricos e desenvolvidos. Em 1998,
06 a expectativa de vida no país ficou para _____ da média da OCDE. Hoje, a diferença já é de 1,6
07 anos: 78,7 anos ante 80,3 anos na OCDE.

08 Um painel conjunto do *National Research Council* e do *Institute of Medicine* investigou as
09 causas dessa desvantagem crescente. A conclusão foi a de que a saúde dos americanos é mais
10 pobre em diversos aspectos: obesidade, diabetes, doenças cardiovasculares, ferimentos,
11 homicídios, complicações de parto, gravidez na adolescência, consumo de drogas ilícitas e
12 infecções pelo HIV. Ficou evidente, também, que o estilo de vida é menos salutar
13 países da OCDE: as cidades privilegiam o automóvel, a população costuma preferir alimentos
14 altamente calóricos mais saudáveis, abusar de álcool e possuir armas de fogo. Aqueles
15 com renda familiar mais baixa têm menos suporte social, previdenciário e acesso limitado à
16 assistência médica. As mortes por overdose aumentam a cada ano. Em 2015, foram 64 mil; neste
17 ano serão 70 mil, números que ultrapassam o total das mortes de soldados americanos na Guerra
18 do Vietnã.

19 Numa análise publicada no *Bristish Medical Journal*, por Steven Woolf e Laudan Aron, os
20 autores consideraram esses óbitos a "ponta do iceberg" de uma crise de saúde mais abrangente:
21 a mortalidade associada ao abuso de álcool e aos suicídios, que afeta especialmente os brancos
22 de meia-idade e certas comunidades rurais. As causas estariam ligadas ao colapso das indústrias
23 locais, à erosão dos laços comunitários, ao isolamento social, à pressão financeira e à consciência
24 dos trabalhadores de que perderam o padrão de vida que os pais um dia tiveram. Ao contrário,
25 entre os negros, o número de suicídios e de mortes por overdose não aumentou. Os autores
26 atribuem esse fenômeno à maior resiliência de mulheres e homens negros, habituados a
27 enfrentar desvantagens econômicas, discriminação, preconceito social e mortalidade geral mais
28 elevada.

29 De outro lado, nos últimos anos, as diferenças sociais se acentuaram, a performance escolar
30 piorou, os salários da classe média estagnaram, e os níveis de pobreza aumentaram em relação
31 aos dos países desenvolvidos. O país é rico, mas desigual: os mais pobres têm dificuldade de
32 acesso a serviços sociais, à assistência médica, à prevenção e ao tratamento de transtornos
33 psiquiátricos e dependência química. Os Estados Unidos investem em saúde 17% de um PIB de
34 19 trilhões de dólares, ou seja, cerca de 3,2 trilhões de dólares. É mais do que o PIB inteiro do
35 Brasil. Para justificar esse gasto, o americano médio deveria viver 110 anos, pelo menos. Quem
36 nasce em Santa Catarina vive mais.

Disponível em <https://www.cartacapital.com.br/revista/1024/saude-e-dinheiro> (Texto adaptado especialmente para esta prova.)

QUESTÃO 01 – Assinale a alternativa que completa, correta e respectivamente, as lacunas tracejadas das linhas 01 e 06.

- A) traz – haja – trás
- B) trás – hajam – traz
- C) traz – aja – trás
- D) trás– ajam – traz
- E) traz – exista – trás

QUESTÃO 02 – Assinale a alternativa que completa, correta e respectivamente, as lacunas pontilhadas das linhas 05, 12 e 14.

- A) dos quais – do que os – do que os
- B) entre os quais – do que o dos – aos
- C) nos quais – do que os – do que os
- D) dentro dos quais – aos – que o dos
- E) dentre os quais – que os – do que os

QUESTÃO 03 – Das seguintes alternativas de substituição da oração “a julgar” (l. 01), assinale a que acarretaria mudança substancial de sentido no texto.

- A) Se julgarmos.
- B) Julgando.
- C) Caso julguemos.
- D) Quando julgamos.
- E) Embora se julgue.

QUESTÃO 04 – Sobre o emprego de acento gráfico em vocábulos do texto, foram feitas as seguintes considerações:

- I. **País** e **países** recebem acento gráfico em função de regras diferentes.
- II. **Análise**, **álcool** e **econômicas** recebem acento gráfico em função da mesma regra.
- III. **Assistência**, **suicídios** e **média** pertencem ao mesmo grupo de palavras em relação à regra de acentuação gráfica.
- IV. A diferença de acentuação tônica, em **país** e **pais**, determina que um vocábulo receba acento gráfico, e o outro, não.

Quais estão corretas?

- A) Apenas I e II.
- B) Apenas II e IV.
- C) Apenas I, III e IV.
- D) Apenas II, III e IV.
- E) I, II, III e IV.

QUESTÃO 05 – As alternativas a seguir apresentam sinônimos possíveis para “colapso” (l. 22) e “resiliência” (l. 26), considerando o contexto em que tais palavras se encontram, EXCETO:

- A) Enfraquecimento – resistência
- B) Síncope – aceitação
- C) Derrocada – estoicismo
- D) Ruína – força
- E) Decadência – invulnerabilidade

QUESTÃO 06 – Considere as seguintes sugestões de substituição de elementos do texto.

- I. **ligadas** (l. 22) por **relacionadas**.
- II. **atribuem** (l. 26) por **imputam**.
- III. **enfrentar desvantagens** (l. 27) por **luta contra as desvantagens**.
- IV. **acesso** (l. 32) por **acessar**.

Quais delas determinariam mudanças estruturais no texto?

- A) Apenas I e II.
- B) Apenas III e IV.
- C) Apenas I, II e III.
- D) Apenas II, III e IV.
- E) I, II, III e IV.

QUESTÃO 07 – Assinale a alternativa em que se faz a correta passagem do período a seguir, retirado do texto, para a voz passiva analítica.

“Os Estados Unidos investem em saúde 17% de um PIB de 19 trilhões de dólares, ou seja, cerca de 3,2 trilhões de dólares.”

- A) 17% de um PIB de 19 trilhões de dólares os Estados Unidos têm investido em saúde, ou seja: cerca de 3,2 trilhões de dólares.
- B) Investem-se em saúde, nos Estados Unidos, 17% de um PIB de 19 trilhões de dólares, ou seja, cerca de 3,2 trilhões de dólares.
- C) Cerca de 3,2 trilhões de dólares, ou seja, 17% de um PIB de 19 trilhões de dólares: é o que é investido em saúde nos Estados Unidos.
- D) Nos Estados Unidos, são investidos em saúde 17% de um PIB de 19 trilhões de dólares, ou seja, cerca de 3,2 trilhões de dólares.
- E) 17% de um PIB de 19 trilhões de dólares, ou seja, cerca de 3,2 trilhões de dólares, são investidos em saúde pelos Estados Unidos.

QUESTÃO 08 – Assinale a alternativa que apresenta afirmação INCORRETA acerca do emprego de sinais de pontuação no texto.

- A) A segunda vírgula da linha 01 justifica-se porque separa uma oração adverbial antecipada.
- B) O sinal de dois-pontos da linha 02 justifica-se por introduzir uma explicação em relação ao que há antes.
- C) Seria mantida a correção do texto se o sinal de dois-pontos da linha 02 fosse substituído por “pois” entre vírgulas.
- D) As vírgulas das linhas 03, 05 (terceira ocorrência) e 06 desempenham a mesma função: separar adjuntos adverbiais.
- E) Não é possível substituir o ponto final da linha 06 (após OCDE) por ponto e vírgula (com a devida mudança na inicial da oração seguinte), pois isso acarretaria um erro na estrutura do texto.

QUESTÃO 09 – Nos segmentos “as cidades privilegiam o automóvel” (l. 13) e “os salários da classe média estagnaram” (l. 30), aparecem as seguintes figuras de linguagem, respectivamente:

- A) Personificação e metáfora.
- B) Hipérbole e metáfora.
- C) Prosopopeia e sinestesia.
- D) Metonímia e ironia.
- E) Sinestesia e personificação.

QUESTÃO 10 – Analise as seguintes assertivas sobre o conteúdo do texto:

- I. Se considerarmos a população dos Estados Unidos como parâmetro, é fato que dinheiro não traz saúde nem felicidade.
- II. O número de suicídios e de mortes por overdose, entre os negros, diminuiu nos Estados Unidos.
- III. A desigualdade social nos Estados Unidos é uma das causas, segundo o autor do texto, da queda da expectativa de vida nesse país.
- IV. Tendo em vista o fato de os Estados Unidos investirem altas cifras em saúde, sua população deveria ter uma expectativa de vida mais elevada.

Quais constituem inferências possíveis a partir da leitura do texto?

- A) Apenas I e II.
- B) Apenas II e III.
- C) Apenas III e IV.
- D) Apenas I, III e IV.
- E) I, II, III e IV.

LEGISLAÇÃO

QUESTÃO 11 – A Lei Orgânica, ao tratar da competência do Município de Bom Jesus, concorrentemente com a União ou o Estado, ou supletivamente a eles, estabelece que, dentre outras competências, é de responsabilidade do Município:

- I. Abrir e conservar estradas e caminhos e determinar a execução de serviços públicos.
- II. Promover a defesa sanitária vegetal e animal, a extinção de insetos e animais daninhos.
- III. Preservar as florestas, a fauna e a flora.

Quais estão corretas?

- A) Apenas I.
- B) Apenas II.
- C) Apenas III.
- D) Apenas I e II.
- E) I, II e III.

QUESTÃO 12 – Compete à Câmara do Município de Bom Jesus, com a sanção do Prefeito, votar:

- I. O plano plurianual.
- II. As diretrizes orçamentárias.
- III. As aprovações dos créditos suplementares requeridos por parte do Governo do Estado.

Quais estão INCORRETAS?

- A) Apenas I.
- B) Apenas II.
- C) Apenas III.
- D) Apenas I e II.
- E) I, II e III.

QUESTÃO 13 – Emendar a Lei Orgânica ou reformá-la é uma competência exclusiva do(a):

- A) Prefeito e de seu Vice.
- B) Câmara Municipal.
- C) Poder Judiciário.
- D) Poder Executivo.
- E) Comissão Especial de Assuntos Administrativos.

QUESTÃO 14 – Considerando a Lei Orgânica, no verso que trata da Fiscalização Contábil Financeira e Orçamentária do Município de Bom Jesus, qual o órgão que auxilia no controle externo da Câmara Municipal, ao qual não poderá ser negada qualquer informação, a pretexto de sigilo?

- A) Tribunal de Contas do Estado.
- B) Tribunal de Contas Municipal.
- C) Departamento Técnico da União.
- D) Ministério Público Estadual.
- E) Ministério Público Federal.

QUESTÃO 15 – A substituição dos servidores do Município de Bom Jesus, alocados em cargos em Comissão ou de função de direção, chefia e assessoramento, ocorrerá durante seu impedimento legal e somente haverá substituição quando o afastamento do titular do cargo for superior a _____ dias corridos.

Assinale a alternativa que preenche corretamente a lacuna do trecho acima.

- A) dez
- B) vinte
- C) trinta
- D) quarenta e cinco
- E) sessenta

QUESTÃO 16 – É considerado trabalho noturno, o qual dá direito ao servidor público do Município de Bom Jesus a receber adicional noturno, serviços executados das vinte e duas horas às _____ horas do dia seguinte.

Assinale a alternativa que preenche corretamente a lacuna do trecho acima.

- A) três
- B) quatro
- C) cinco
- D) seis
- E) sete

QUESTÃO 17 – Estão previstas no Estatuto dos Servidores licenças para os servidores públicos do Município de Bom Jesus, quais sejam:

- I. Desempenho de mandato classista.
- II. Qualificação profissional.
- III. Assistência à família.

Quais estão corretas?

- A) Apenas I.
- B) Apenas II.
- C) Apenas III.
- D) Apenas I e II.
- E) I, II e III.

QUESTÃO 18 – Qual a forma prevista para que os servidores do Município de Bom Jesus possam requerer o direito de licença para tratamento de saúde, com base em exame médico ou por acidente de trabalho, sem prejuízo da remuneração a que faz jus?

- A) A pedido ou de ofício.
- B) Por medida cautelar.
- C) Através de petição.
- D) Por decisão coercitiva.
- E) Por meio de solicitação em formulário eletrônico próprio.

QUESTÃO 19 – Em relação às promoções dos servidores municipais, analise as assertivas abaixo e assinale P, para os itens que estão previstos, ou NP, para os itens não previstos.

- () As promoções poderão ocorrer anualmente, por desempenho, aos servidores estáveis; ou por escolaridade, a todos os servidores atingidos pelo estatuto dos servidores.
- () A cada promoção por desempenho, o servidor terá direito a 15% (quinze por cento) de seu vencimento básico, contando como vantagem de natureza pessoal, vedada a incorporação para efeitos de cálculos de outras vantagens da mesma natureza.
- () Dar-se-á promoção por escolaridade, equivalente a um adicional de 10% (dez por cento) sobre o valor básico do vencimento, vedada a acumulação das vantagens para efeito de cálculo, a partir do terceiro mês após a comprovação de conclusão de ensino fundamental, ensino médio, ensino superior, pós-graduação em área relacionada à função do servidor, mestrado e doutorado.
- () O interstício para o servidor ter direito a nova promoção por merecimento será de 05 (cinco) anos.

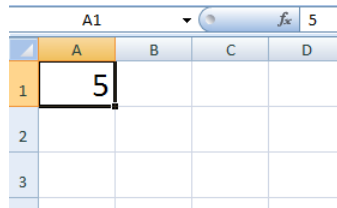
A ordem correta de preenchimento dos parênteses, de cima para baixo, é:

- A) P – P – NP – NP.
- B) NP – P – P – P.
- C) P – NP – P – NP.
- D) P – P – NP – P.
- E) NP – NP – NP – NP.

QUESTÃO 20 – Analise as assertivas abaixo em relação às disposições gerais do Plano de Carreira, na parte em que trata dos níveis do quadro dos servidores públicos do Município de Bom Jesus e assinale a alternativa correta.

- I. São cinco os níveis do quadro de servidores municipais dispostos da seguinte forma: Nível Fundamental Incompleto, Nível Fundamental Completo, Nível Médio, Nível Superior e Nível Pós-graduado.
 - II. O enquadramento dos cargos nos níveis e respectivas faixas estão vinculados à descrição, avaliação e classificação dos referidos cargos.
 - III. Os detentores de empregos, sob o regime da CLT, e os ocupantes de cargos efetivos em extinção, serão agrupados em quadro próprio e extinto à medida que vagarem.
- A) Apenas III está incorreta.
 - B) Apenas I e II estão corretas.
 - C) Apenas II e III estão corretas.
 - D) Todas as assertivas são corretas.
 - E) Todas as assertivas são incorretas.

QUESTÃO 21 – Com base na Figura 1 abaixo, se o usuário digitar no endereço de célula A2 o seguinte: =FATORIAL(A1) e, logo após, pressionar a tecla Enter do teclado, que valor conterà em A2?




	A	B	C	D
1	5			
2				
3				

Figura 1 – Visão parcial de uma planilha do Microsoft Excel 2013, em sua configuração padrão

- A) 40.
- B) 70.
- C) 90.
- D) 100.
- E) 120.

QUESTÃO 22 – Com base na Figura 2 abaixo, se o usuário posicionar o mouse sobre a alça da célula, conforme a seta exibida na mesma Figura, e manter o botão esquerdo do mouse, configurado para destros, pressionado e soltar sobre o endereço de célula A10, que valor conterà, respectivamente, em A4 e A9?



	A	B	C	D
1	1			
2	2			
3	3			
4				
5	5			
6	6			
7	7			
8	8			
9				
10	10			

Figura 2 – Visão parcial de uma planilha do Microsoft Excel 2013, em sua configuração padrão


- A) 1 e 1.
- B) 2 e 4.
- C) 4 e 9.
- D) 5 e 7.
- E) 10 e 12.

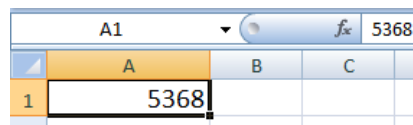
QUESTÃO 23 – Com base na Figura 3 abaixo, se o usuário digitar no endereço de célula A6 o seguinte: =SOMA(A4:D4;B1:D1) e, logo após, pressionar a tecla Enter do teclado, que valor conterà em A6?

	A	B	C	D
1	26	4	10	7
2	6	9	5	3
3	11	18	21	9
4	1	2	3	4
5	5	6	7	8
6				

Figura 3 – Visão parcial de uma planilha do Microsoft Excel 2013, em sua configuração padrão

- A) 16.
- B) 26.
- C) 31.
- D) 39.
- E) 40.

QUESTÃO 24 – Com base na Figura 4 abaixo, se o usuário clicar com o botão esquerdo do mouse, configurado para destros, no ícone  separador de milhares, que valor conterà em A1?



	A	B	C
1	5368		

Figura 4 – Visão parcial de uma planilha do programa Microsoft Excel 2013, em sua configuração padrão, onde o recurso de AutoAjuste já está ativado

- A) 53,68.
- B) 536,80.
- C) 5.368,00.
- D) 53.680,00.
- E) 536.800,00.

QUESTÃO 25 – Em relação ao programa Microsoft Excel 2013, em sua configuração padrão, analise as assertivas abaixo:

- I. É possível inserir um SmartArt em uma planilha.
- II. Letra Capitular é um recurso do programa.
- III. Ao desejar imprimir uma parte específica de uma planilha, pode ser utilizado o recurso Definir Área de Impressão.

Quais estão corretas?

- A) Apenas I.
- B) Apenas II.
- C) Apenas III.
- D) Apenas I e II.
- E) I, II e III.

QUESTÃO 26 – XLSX é a extensão padrão e nativa de que Software abaixo?

- A) Microsoft Word 2013.
- B) Microsoft Excel 2013.
- C) Microsoft Windows 10.
- D) Outlook Express.
- E) Microsoft Outlook 2016.

QUESTÃO 27 – Em relação ao programa Microsoft Excel 2013, em sua configuração padrão, assinale a alternativa INCORRETA.

- A) Uma Pasta de trabalho pode conter mais de duas planilhas.
- B) Uma planilha contém Pasta de trabalho.
- C) É possível unir fórmulas diferentes.
- D) É possível unir funções diferentes.
- E) É possível utilizar o recurso Zoom com percentuais diferentes entre planilhas diferentes.

QUESTÃO 28 – O ícone Colar, frequentemente utilizado, fica localizado em que Grupo do programa Microsoft Word 2013, em sua configuração padrão?

- A) Fonte.
- B) Janela.
- C) Páginas.
- D) Estilo.
- E) Área de Transferência.

QUESTÃO 29 – Ao desejar visualizar duas seções de um documento ao mesmo tempo, em processo de edição, referente ao programa Microsoft Word 2013, o usuário se utiliza do recurso:

- A) Macros.
- B) Sintonização.
- C) Rolagem Sincronizada.
- D) Dividir.
- E) Largura da página.

QUESTÃO 30 – Quando um usuário necessita copiar somente a Formatação de um texto para outro, do programa Microsoft Word 2013, em sua configuração padrão, utiliza o ícone chamado de:

- A) Copiar.
- B) Formatação.
- C) Pincel de Formatação.
- D) Estilo de Formatação.
- E) Formatação Ativa.

CONHECIMENTOS ESPECÍFICOS

QUESTÃO 31 – A incontinência urinária é definida como perda involuntária de urina. Sendo que, mais importante do que conhecer, é fundamental o seu reconhecimento, já que muitos pacientes podem não entender isso como um problema de saúde. Analise as assertivas abaixo sobre os tipos, causas e tratamento:

- I. A incontinência urinária de esforço manifesta-se pelo vazamento de urina resultante de forças mecânicas sobre uma bexiga hiperdistendida.
- II. A incontinência urinária de urgência ocorre pela incapacidade de retardar a micção depois que a sensação de enchimento vesical é sentida.
- III. Entre as causas da incontinência urinária de transbordamento, estão a obstrução anatômica pela próstata, a cistocele e a bexiga acontrátil, associada com diabetes melito.
- IV. Medicamentos agonistas α -adrenérgicos, como a duloxetina, são usados no tratamento da incontinência de urgência, reduzindo a hiperatividade do detrusor.
- V. Os principais tratamentos para a incontinência de esforço incluem exercícios para fortalecimento das estruturas do assoalho pélvico, estrogênio tópico e suspensão cirúrgica do colo vesical.

Quais estão corretas?

- A) Apenas I e III.
- B) Apenas I, II e V.
- C) Apenas II, III e IV.
- D) Apenas II, III e V.
- E) Apenas II, III, IV e V.

QUESTÃO 32 – O Lúpus Eritematoso Sistêmico (LES) é uma doença autoimune multissistêmica que ocorre frente a danos teciduais mediados pelo sistema imune. Analise as assertivas abaixo sobre o LES:

- I. Uma característica marcante do LES é que ele ocorre em uma frequência muito maior no sexo feminino do que no masculino.
- II. A erupção eritematosa facial, com distribuição em asas de borboleta pelas proeminências nasais e malaras, poupando as pregas nasolabiais, é erupção cutânea clássica do LES.
- III. Artralgias e artrites não erosivas são uma das características clínicas mais comuns do LES, sendo encontradas em mais de 85% dos pacientes.
- IV. A bronquite é a manifestação mais frequente do envolvimento pulmonar do LES e ocorre em cerca de 30% dos pacientes em algum momento da evolução da doença.

Quais estão corretas?

- A) Apenas I e III.
- B) Apenas II e IV.
- C) Apenas I, II e III.
- D) Apenas I, III e IV.
- E) I, II, III e IV.

QUESTÃO 33 – Sobre a leptospirose, assinale a alternativa INCORRETA.

- A) A transmissão aos humanos ocorre quando as leptospirosas presentes na urina penetram na pele ou em membranas mucosas durante o contato com água, solo ou vegetação contaminada.
- B) O início de febre alta (38-40°C), de mialgias e de cefaleia (retroorbitária e frontal) pode ser abrupto e acompanhado por sintomas de náusea, vômitos, dor abdominal, diarreia, tosse e fotofobia. A dor à palpação muscular é pronunciada, especialmente nas panturrilhas e região lombar.
- C) A sufusão conjuntival é um sintoma patognomônico, visto em cerca de 30% dos pacientes, o qual se desenvolve no fim da fase inicial da doença e é caracterizado por hiperemia dos vasos conjuntivais ao longo das fissuras palpebrais e quemose.
- D) Os sintomas se manifestam de 5 a 14 dias após a exposição, embora o período de incubação possa variar de 2 a 30 dias.
- E) É uma doença de notificação nacional obrigatória, sendo o caso confirmado apenas após a confirmação laboratorial da doença.

QUESTÃO 34 – A toxoplasmose é causada pelo protozoário *Toxoplasma gondii*, que infecta inúmeros mamíferos e aves por todo o mundo. Sobre essa doença, assinale a alternativa correta.

- A) A toxoplasmose congênita ocorre por via transplacentária e a frequência de transmissão varia consideravelmente dependendo da idade gestacional em que ocorreu a infecção: quanto mais cedo, maiores serão as consequências sobre o feto.
- B) Há três formas do parasita: o taquizoíto, forma sexuada invasiva; o cisto tecidual, contendo bradizoítos, que permanece no tecido do hospedeiro; e o oocisto, contendo esporozoítos, que é produzido durante a fase assexuada do ciclo.
- C) A infecção é sintomática na grande maioria dos casos e manifesta-se com linfadenopatia cervical, febre, mialgia, artralgia, dor de garganta e hepatoesplenomegalia.
- D) Os testes sorológicos são comumente utilizados para o diagnóstico da infecção: os anticorpos IgM são detectados na infecção tardia, já os anticorpos IgG são identificados na infecção aguda.
- E) O tratamento da toxoplasmose deve ser realizado em todos os pacientes e sua duração depende das manifestações clínicas e do estado imunológico do paciente.

QUESTÃO 35 – O diabetes melito é um distúrbio crônico caracterizado pelo comprometimento do metabolismo da glicose e de outros substratos produtores de energia. Em relação ao tratamento medicamentoso, relacione a Coluna 1 à Coluna 2.

Coluna 1

- 1. Sulfonilureias.
- 2. Biguanidas.
- 3. Tiazolidinedionas.
- 4. Inibidores da α -glicosidase.

Coluna 2

- () Atuam principalmente para reduzir a produção de glicose hepática, mediante a supressão da gliconeogênese.
- () Secretagogos de insulina; devem ser usados com cautela pelo risco de hipoglicemia.
- () Retardam a absorção de carboidratos complexos, mas não afetam a absorção da glicose.
- () Estimulam o metabolismo periférico da glicose e reduzem a lipólise.

A ordem correta de preenchimento dos parênteses, de cima para baixo, é:

- A) 1 – 2 – 3 – 4.
- B) 2 – 1 – 4 – 3.
- C) 1 – 3 – 4 – 2.
- D) 2 – 3 – 1 – 4.
- E) 3 – 1 – 4 – 2.

QUESTÃO 36 – A doença de Parkinson representa o segundo distúrbio degenerativo mais comum. Muitas das características da doença ocorrem por causa da perda de dopamina no neostriado. Assinale a alternativa que representa um indício clínico para investigação de outras causas de parkinsonismo.

- A) Rigidez.
- B) Acinesia ou bradicinesia.
- C) Ataxia.
- D) Depressão.
- E) Alucinações visuais.

QUESTÃO 37 – Sobre a Insuficiência Cardíaca (IC), assinale a alternativa INCORRETA.

- A) O antagonista da aldosterona, a espironolactona, melhora sintomas e reduz internações quando é adicionado a um Inibidor da Enzima Conversora da Angiotensina (IECA) em pacientes com fração de ejeção reduzida e uma IC gravemente sintomática.
- B) História de angioedema e diagnóstico de estenose da artéria renal bilateral são contraindicações para o uso de IECA.
- C) Os IECA reduzem a degradação da bradicinina, que é responsável, direta ou indiretamente, por um dos efeitos adversos específicos desses medicamentos: a tosse.
- D) As principais contraindicações para uso de β -bloqueador na IC são asma e bloqueio átrio-ventricular de 2º e 3º grau.
- E) A digoxina aumenta a atividade do sistema nervoso simpático e reduz a atividade do sistema nervoso parassimpático, bem como inibe a liberação de renina.

QUESTÃO 38 – A rinite alérgica é uma doença caracterizada por sintomas nasais e oculares decorrentes do desenvolvimento de reações inflamatórias de hipersensibilidade a aeroalérgenos depositados nas mucosas nasal e conjuntiva. Qual das manifestações abaixo NÃO está relacionada à rinite alérgica?

- A) Otite média recorrente.
- B) Amigdalite.
- C) Respiração bucal.
- D) Asma.
- E) Tosse.

QUESTÃO 39 – As hepatites virais agudas são doenças caracterizadas clinicamente por sintomas como mal-estar, náusea, dor abdominal e icterícia. Laboratorialmente, causam elevação abrupta das bilirrubinas e transaminases. Em relação às sorologias das hepatites virais, assinale a alternativa correta.

- A) Anti-HAV IgM é diagnóstico de hepatite A aguda e, assim como o anti-HAV total, persistem a títulos elevados por toda a vida.
- B) O HBsAg é um marcador para o diagnóstico de infecção aguda pelo vírus B, já o marcador anti-HBc é marcador de hepatite B crônica, quando o HBsAg é negativo.
- C) O anti-HBs é indicativo apenas de imunização por vacinação.
- D) O anti-HCV não é confirmatório de infecção aguda, podendo representar também infecção crônica ou cura.
- E) Na evidência de marcador anti-HDV, é necessária a investigação de infecção pelo HCV, já que o vírus D precisa do vírus C para sua reprodução.

QUESTÃO 40 – Considere as assertivas abaixo em relação à morfologia dos eritrócitos e ao provável diagnóstico:

- I. Microcitose pode ser indicador de deficiência de ferro e talassemias.
- II. Esquizócitos são indicativos de hemólise e doenças hepáticas.
- III. Formação em Rouleaux é indicativo de mieloma múltiplo.
- IV. Estomatócitos podem representar alcoolismo.

Quais estão corretas?

- A) Apenas I e II.
- B) Apenas I e III.
- C) Apenas II e III.
- D) Apenas III e IV.
- E) Apenas I, III e IV.