

# PREFEITURA MUNICIPAL DE AREAL/RJ

CONCURSO PÚBLICO 002/2019

EDITAL nº 001/2019

## GUARDA MUNICIPAL

ORGANIZADORA:



“A persistência é o caminho do êxito”.

*Charles Chaplin.*

EM BRANCO

# CADERNO DE PROVAS

Caro(a) Candidato(a): **Antes de iniciar a prova leia atentamente as instruções a seguir:**

1. Este caderno contém 40 (quarenta) questões objetivas com 04 (quatro) opções (A, B, C, D). A prova terá duração máxima de 03(três) horas. A prova terá seu horário de início em sala, a contar após a distribuição dos cadernos de prova e autorização do aplicador(a).
2. Confira em seu caderno de provas a sequência de questões. Você tem até 10 (dez) minutos do início das provas para solicitar a troca do caderno de provas que apresentar algum problema de impressão ou qualquer outro que inviabilize a realização da mesma, pois não serão aceitas reclamações posteriores nesse sentido.
3. A interpretação das questões, bem como das instruções, faz parte da prova. Portanto, ao aplicador(a) de sala e fiscais não há autorização para fornecer esclarecimentos sobre o conteúdo das provas, sendo esta atribuição de única e exclusiva responsabilidade do(a) candidato(a).
4. Você receberá do aplicador o cartão de respostas 30 (trinta) minutos após o início da prova, o cartão de respostas deverá obrigatoriamente ser assinado pelo(a) candidato(a) no local em que há a indicação: “**ASSINATURA**”, utilizando sempre caneta esferográfica de tinta preta ou azul.
5. Caso realmente precise, utilize como rascunho os espaços em branco nas folhas do caderno de prova. Sugerimos que você assinale, inicialmente, no próprio caderno de provas, todas as respostas que julgar correta. Depois, passe-as para o cartão de respostas.
6. Questões com mais de uma alternativa assinalada, rasurada ou em branco serão **ANULADAS**. Portanto, ao preencher o cartão de respostas faça-o cuidadosamente. Evite erros, pois em hipótese alguma haverá substituição do cartão de respostas por erro do(a) candidato(a).
7. Ao terminar a prova ou findo o horário limite para sua realização, o candidato deverá **OBRIGATORIAMENTE** entregar seu cartão de respostas “**ASSINADO**”, ao aplicador(a) de sala. O(a) candidato(a) que não devolver seu cartão de respostas será automaticamente **eliminado(a)** e não terá classificação alguma no concurso público.
8. **Atenção!** Preencha o cartão-resposta na mesma sequência numérica das questões do caderno de provas.
9. Somente será permitido levar o caderno de questões (prova), depois de decorrido o período de **120 (cento e vinte) minutos do início das provas.**
10. Não serão permitidas consultas a quaisquer materiais, uso de telefone celular ou outros aparelhos eletrônicos, assim como os demais procedimentos constantes no subitem 9.6 e no subitem 9.8 do Edital 001/2019.
11. Após o término da prova, o(a) candidato(a) deverá deixar imediatamente o recinto da mesma, sendo **terminantemente proibido** fazer contato com os(as) candidatos(as) que ainda não terminaram a prova sob pena de ser excluído do Concurso Público.
12. O desrespeito às normas que regem o presente concurso, bem como, a desobediência às exigências registradas no edital, além de sanções legais cabíveis implica na desclassificação do candidato.
13. Aguarde a ordem do aplicador para iniciar a prova.
14. Os dois últimos candidatos ao terminarem as provas deverão retirar-se da sala simultaneamente, após testemunharem o fechamento (lacre) do envelope de provas, assinando a Ata Relatório.
15. O candidato, após a divulgação dos gabaritos oficiais preliminares da Prova Objetiva, que será feita às **20 horas** do dia **09/02/2020**, no site [www.gualimp.com.br](http://www.gualimp.com.br), poderá peticionar **RECURSO** à banca examinadora, quando julgar que ocorreu erro na formulação das questões e divulgação do gabarito preliminar, nos dias **10/02/2020 e 11/02/2020.**

**NÃO ESQUEÇA!**  
**Ao sair, entregue o cartão de respostas devidamente assinado.**  
**BOA PROVA!!!**

# ATENÇÃO!!!

- O CARTÃO DE RESPOSTAS ABAIXO É PARA SER UTILIZADO SOMENTE COMO RASCUNHO.
- AO RECEBER O CARTÃO DE RESPOSTAS DEFINITIVO CONFIRA OS DADOS DE IDENTIFICAÇÃO (NOME, CARGO, NÚMERO DE INSCRIÇÃO) E EM SEGUIDA ASSINE NO LOCAL INDICADO.

## CARTÃO RESPOSTA



PREFEITURA MUNICIPAL DE AREAL - RJ CONCURSO PUBLICO 002/2019					A M P L I A B O				
Nome:		Local:							
Cargo:		Data:		Turno:					
Sala:	Nº de inscrição:								
<p>* Marcar apenas uma opção para cada questão, evitando-se ultrapassar o círculo;                      * O círculo correspondente à questão escolhida deve ser totalmente preenchido, evitando-se ultrapassar o círculo;                      * Marcar apenas a quantidade de questões existentes na sua prova;                      * Utilize somente caneta esferográfica azul ou preta, não rasurar ou sujar o cartão;                      É NECESSIDADE DO CANDIDATO A CONFERÊNCIA DOS DADOS DE SEU CARTÃO DE RESPOSTA</p>					<b>TIPO DE PROVA</b> PROVA PADRÃO				
01	(A)	(B)	(C)	(D)	21	(A)	(B)	(C)	(D)
02	(A)	(B)	(C)	(D)	22	(A)	(B)	(C)	(D)
03	(A)	(B)	(C)	(D)	23	(A)	(B)	(C)	(D)
04	(A)	(B)	(C)	(D)	24	(A)	(B)	(C)	(D)
05	(A)	(B)	(C)	(D)	25	(A)	(B)	(C)	(D)
06	(A)	(B)	(C)	(D)	26	(A)	(B)	(C)	(D)
07	(A)	(B)	(C)	(D)	27	(A)	(B)	(C)	(D)
08	(A)	(B)	(C)	(D)	28	(A)	(B)	(C)	(D)
09	(A)	(B)	(C)	(D)	29	(A)	(B)	(C)	(D)
10	(A)	(B)	(C)	(D)	30	(A)	(B)	(C)	(D)
11	(A)	(B)	(C)	(D)	31	(A)	(B)	(C)	(D)
12	(A)	(B)	(C)	(D)	32	(A)	(B)	(C)	(D)
13	(A)	(B)	(C)	(D)	33	(A)	(B)	(C)	(D)
14	(A)	(B)	(C)	(D)	34	(A)	(B)	(C)	(D)
15	(A)	(B)	(C)	(D)	35	(A)	(B)	(C)	(D)
16	(A)	(B)	(C)	(D)	36	(A)	(B)	(C)	(D)
17	(A)	(B)	(C)	(D)	37	(A)	(B)	(C)	(D)
18	(A)	(B)	(C)	(D)	38	(A)	(B)	(C)	(D)
19	(A)	(B)	(C)	(D)	39	(A)	(B)	(C)	(D)
20	(A)	(B)	(C)	(D)	40	(A)	(B)	(C)	(D)
_____ Assinatura do Candidato					Nº DE INSCRIÇÃO				

**OBS.: O candidato deverá OBRIGATORIAMENTE, entregar seu cartão de repostas definitivo preenchido e ASSINADO, sob pena de ter seu cartão de respostas ANULADO. (item 9.14 do edital 001/2019)**

## QUESTÕES DE LINGUA PORTUGUESA

Leia com atenção o texto a seguir para responder as questões 01 e 02.

### Viver em sociedade

Dalmo de Abreu Dallari

A sociedade humana é um conjunto de pessoas ligadas pela necessidade de se ajudarem umas às outras, \_\_\_\_\_ que possam garantir a continuidade da vida e satisfazer seus interesses e desejos.

Sem vida em sociedade, as pessoas não conseguiriam sobreviver, pois o ser humano, durante muito tempo, necessita de outros para conseguir alimentação e abrigo. E no mundo moderno, com a grande maioria das pessoas morando na cidade, com hábitos que tornam necessários muitos bens produzidos pela indústria, não \_\_\_\_\_ quem não necessite dos outros muitas vezes por dia.

Mas as necessidades dos seres humanos não são apenas de ordem material, como os alimentos, a roupa, a moradia, os meios de transporte e os cuidados de saúde. Elas são também de ordem espiritual e psicológica. Toda pessoa humana necessita de afeto, precisa amar e sentir-se amada, quer sempre que alguém lhe dê atenção e que todos a respeitem. Além disso, todo ser humano tem suas crenças, tem sua fé em alguma coisa, que é a base de suas esperanças.

Os seres humanos não vivem juntos, não vivem em sociedade, apenas \_\_\_\_\_ escolhem esse modo de vida, mas \_\_\_\_\_ a vida em sociedade é uma necessidade da natureza humana. Assim, por exemplo, se dependesse apenas da vontade, seria possível uma pessoa muito rica isolar-se em algum lugar, onde tivesse armazenado grande quantidade de alimentos. Mas essa pessoa estaria, em pouco tempo, sentindo falta de companhia, sofrendo a tristeza da solidão, precisando de alguém com quem falar e trocar ideias, necessitada de dar e receber afeto. E muito provavelmente ficaria louca se continuasse sozinha por muito tempo.

Mas, justamente \_\_\_\_\_ vivendo em sociedade é que a pessoa humana pode satisfazer suas necessidades, é preciso que a sociedade seja organizada de tal modo que sirva, realmente, para esse fim. E não basta que a vida social permita apenas a satisfação de algumas necessidades da pessoa humana ou de todas as necessidades de apenas algumas pessoas. A sociedade organizada com justiça é aquela em que se procura fazer com que todas as pessoas possam satisfazer todas as suas necessidades, é aquela em que todos, desde o momento em que nascem, têm as mesmas oportunidades, aquela em que os benefícios e encargos são repartidos igualmente entre todos.

Para que essa repartição se faça com justiça, é preciso que todos procurem conhecer seus direitos e exijam que eles sejam respeitados, como também devem conhecer e cumprir seus deveres e suas responsabilidades sociais.

### 01. Analise as seguintes afirmações:

- I - A acentuação gráfica das palavras saúde e indústria seguem a mesma regra.
- II - A palavra destacada em "...sofrendo a tristeza da solidão..." classifica-se como substantivo.
- III - De acordo com a posição da sílaba tônica, as palavras transportes, crença e justiça classificam-se como paroxítonas.
- IV - No trecho "...aquela em que se procura fazer" o pronome oblíquo átono encontra-se proclítico ao verbo.
- V - Quanto ao gênero, o substantivo "pessoa" classifica-se como comum de dois gêneros.

Estão CORRETAS, apenas:

- (A) I e IV.
- (B) I e V.
- (C) II, III e IV.
- (D) II, III e V.

## 02. Assinale a afirmação INCORRETA.

- (A) A tese defendida pelo autor é que não haveria sobrevivência sem vida em sociedade.
- (B) As lacunas serão correta e respectivamente preenchidas por: **a fim de, há, porque, porque e porque.**
- (C) O autor mostra que os seres humanos vivem em sociedade porque necessitam apenas de apoio espiritual.
- (D) Segundo o texto, não seria possível a sobrevivência se não existisse sociedade, pois os seres humanos dependem dos outros para sobreviver.

## 03. A concordância verbal está INCORRETA na frase da alternativa:

- (A) A queda nas vendas e as dívidas complicaram as finanças da empresa.
- (B) Algum de nós contará a verdade a ele?
- (C) Mais de dez automóveis foram levados pela enchente.
- (D) Vossa Excelência sempre sereis lembrado por sua dignidade política.

## 04. A oração destacada em: “Cumprimentei-o ao lhe entregar o prêmio” classifica-se como:

- (A) Coordenada sindética explicativa.
- (B) Subordinada adverbial causal reduzida de participio.
- (C) Subordinada adverbial temporal reduzida de infinitivo.
- (D) Subordinada substantivo objetiva indireta.

## 05. A pontuação está CORRETA na frase da alternativa:

- (A) A subida até o alto da montanha, deixou o alpinista cansado mas, feliz por poder contemplar a belíssima vista.
- (B) Apesar, do Sol de verão faz sempre muito frio, no alto das montanhas.
- (C) Brasília, capital da República foi fundada em 1960.
- (D) Mercúrio é o planeta mais próximo do Sol, e uma das suas faces é permanentemente voltada para o Astro-Rei.

## 06. Assinale a alternativa em que a análise do termo destacado está INCORRETA em:

- (A) Libertai-me, **Senhor**, de todos os males! (= Vocativo)
- (B) O galpão da empresa de fogos de artifício foi destruído **pelo fogo**. (= Objeto indireto)
- (C) O jogador de tênis tem certeza **da vitória**. (= Complemento nominal)
- (D) Serena e calma corre **a vida**. (= Sujeito)

## 07. Dos termos destacados nas frases abaixo, o único que está INADEQUADO ao contexto ocorre em:

- (A) Políticos corruptos desviaram **vultuosa** quantia de dinheiro público.
- (B) O juiz **infligiu** pena de um ano de prisão aos pichadores do prédio histórico.
- (C) Houve **cessão** gratuita de imagens de uma emissora para outra.
- (D) O juiz expediu o **mandado** de intimação para o empresário do ramo de transportes.

## 08. Há ERRO de regência nominal em:

- (A) O programa é passível em mudanças.
- (B) Provou-nos seu bom gosto em relação à música.
- (C) Toda a equipe está constituída por notáveis cientistas.
- (D) Todos nós somos favoráveis a que você participe da festa.

## 09. Leia as orações:

- 1) Fomos à cidade.
- 2) Aqui, venta bastante.
- 3) Roubaram minha carteira.

Os sujeitos das orações acima são, respectivamente:

- (A) 1. indeterminado / 2. inexistente / 3. simples.
- (B) 1. simples / 2. implícito / 3. Indeterminado.
- (C) 1. implícito / 2. inexistente / 3. Indeterminado.
- (D) 1. inexistente / 2. implícito / 3. Indeterminado.

## 10. Identifique a alternativa em que a voz verbal foi classificada de forma INCORRETA.

- (A) Diagnosticaram-se os sintomas da doença em pouco tempo. (passiva sintética)
- (B) Logo após o chamado, o SAMU chegou para socorrer a pessoa acidentada. (ativa)
- (C) O desenho do barco foi feito por um desenhista famoso. (passiva analítica)
- (D) Os genes de alguns animais foram congelados por cientistas. (ativa)

## QUESTÕES DE MATEMÁTICA

### 11. Roberto foi a uma doceria e viu a seguinte tabela com os preços de alguns docinhos:

PRODUTO	PREÇO
Brigadeiro	R\$ 1,20
Beijinho	R\$ 1,30
Cajuzinho	R\$ 1,20
Docinho de leite	R\$ 1,00
Ninho com Nutella	R\$ 1,80
Coco com morango	R\$ 1,50

Paulo comprou 8 produtos dessa loja. Dentre esses produtos, ele comprou dois docinhos de Ninho com Nutella e um Beijinho. Ele pagou sua compra com uma nota de R\$ 20,00. Qual é o maior troco possível recebido por Paulo?

- (A) R\$ 16,90.                      (B) R\$ 15,60.                      (C) R\$ 15,10.                      (D) R\$ 13,80.

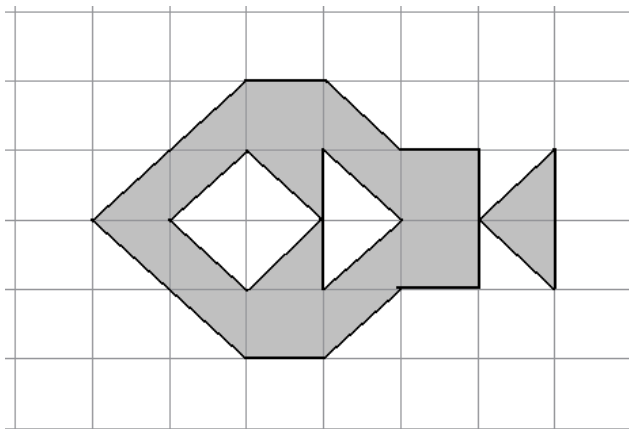
12. Para conhecer melhor os gostos dos seus clientes, uma sorveteria realizou uma enquete para saber quais os sabores de picolés preferidos por eles. O resultado dessa enquete foi: 124 gostam de morango, 107 gostam de uva, 139 gostam de coco, 34 gostam de morango e coco, 42 gostam de morango e uva, 37 gostam de uva e coco, 12 pessoas gostam dos três sabores e 15 pessoas responderam que não gostam de nenhum desses sabores. Qual o número de pessoas que respondeu essa enquete?

- (A) 510.                      (B) 284.                      (C) 495.                      (D) 618.

13. Em uma escola, há 15 mulheres a mais do que homens, e o produto entre o número de mulheres e o número de homens é 1.350. Podemos afirmar que o número de homens dessa escola:

- (A) É um número entre 33 e 38.
- (B) É um quadrado perfeito.
- (C) É um número entre 25 e 32.
- (D) É um número primo.

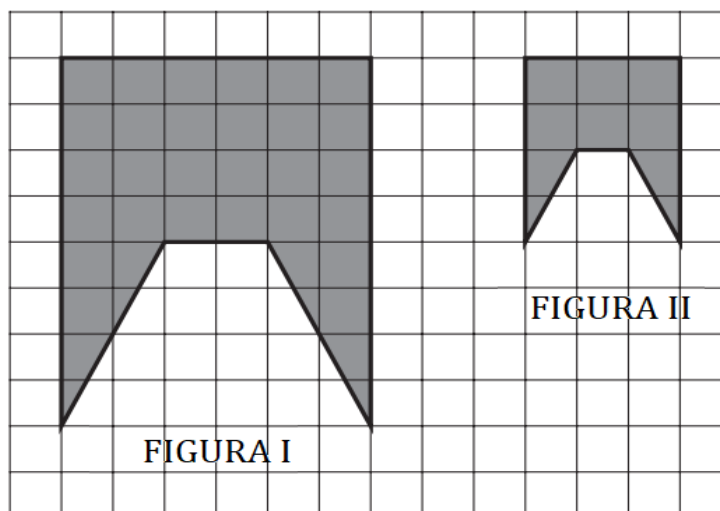
**14.** A malha quadriculada abaixo possui quadradinhos com lados medindo 3 cm.



Qual o perímetro da figura pintada de cinza?

- (A) 11 cm                      (B) 33 cm                      (C) 99 cm                      (D)  $6(5 + 7\sqrt{2})$  cm

**15.** Observe as figuras I e II desenhadas sobre a malha quadriculada abaixo.



Analisando a imagem acima, podemos afirmar que:

- (A) A área da Figura I é o quádruplo da área da Figura II.  
 (B) A área da Figura I é o dobro da área da Figura II.  
 (C) A área da Figura I é  $\frac{8}{6}$  Da área da Figura II.  
 (D) A área da Figura I é o triplo da área da Figura II.

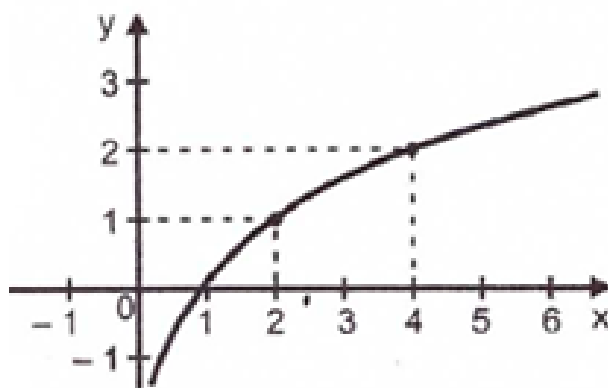
**16.** O governo de um determinado estado determinou que seja instalado posto policial a cada 75 km de uma BR. Essa BR já conta com um posto policial no KM 28 e outro no KM 928. Quantos novos postos policiais deverão ser construídos para atender a nova exigência do governo?

- (A) 18.                      (B) 19.                      (C) 20.                      (D) 21.

EM BRANCO



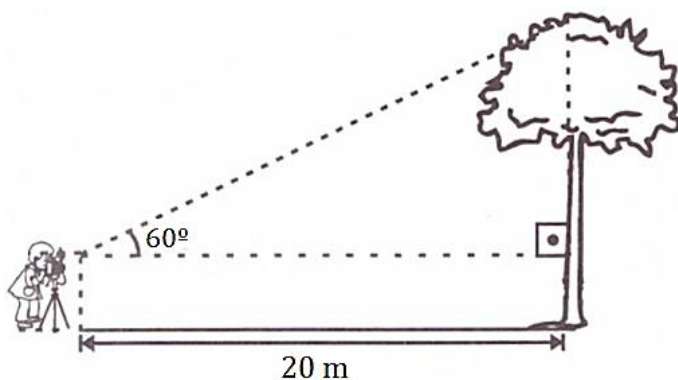
**17.** Considere a função  $f: \mathbb{R} \rightarrow \mathbb{R}$  cujo o gráfico está esboçado abaixo.



Qual é a lei de formação da função  $f$ ?

- (A)  $y = \log_2(x + 1)$
- (B)  $y = \log_2 x$
- (C)  $y = \log x$
- (D)  $y = \log x + 1$

**18.** Um fotógrafo decidiu fotografar uma árvore de 35,7 metros de altura. Ele se posicionou à 20 metros de distância, conforme figura abaixo.



Considere:  $\text{sen}60^\circ \cong 0,86$ ;  $\text{cos}60^\circ = 0,5$ ;  $\text{tg}60^\circ \cong 1,7$ .

Qual a altura do fotógrafo?

- (A) 1,8 m.
- (B) 1,85 m.
- (C) 1,75 m.
- (D) 1,7 m.

**19.** Uma empresa vende bombons no formato de cubos com 4 cm de lado. Essa empresa resolveu mudar os formatos dos seus bombons, passando a serem em formato esférico, mas contendo a mesma quantidade de chocolate de antes. Qual é a medida do diâmetro desse novo bombom?

Considere:  $\pi \cong 3$ .

- (A)  $2\sqrt{2}$  cm.
- (B)  $8\sqrt{2}$  cm.
- (C)  $4\sqrt{2}$  cm.
- (D)  $6\sqrt{2}$  cm.



**25.** Conforme a Lei nº 13.022 de 2014, que dispõe sobre o Estatuto Geral das Guardas Municipais, analise as proposições e responda.

- I - Proteção dos direitos humanos fundamentais, do exercício da cidadania e das liberdades públicas.
- II - Preservação da vida, redução do sofrimento e diminuição das perdas.
- III - Patrulhamento repressivo.
- IV - Compromisso com a evolução social da comunidade.
- V - Uso progressivo da força.

É CORRETO afirmar que são princípios mínimos de atuação das guardas municipais:

- (A) I, II e IV, apenas.      (B) I, II, IV e V, apenas.      (C) I, II, III, IV e V.      (D) II e IV, apenas.

**26.** O Estatuto Geral das Guardas Municipais estabelece que o Município pode criar, por Lei, sua guarda. Nesse sentido, é correto afirmar que as guardas municipais, em municípios com até 50.000 (cinquenta mil) habitantes, não poderão ter efetivo superior a:

- (A) 0,4% (quatro décimos por cento) da população.
- (B) 0,6% (seis décimos por cento) da população.
- (C) 0,8% (oito décimos por cento) da população.
- (D) 0,9% (nove décimos por cento) da população.

**27.** O funcionamento das guardas municipais será acompanhado por órgãos próprios, permanentes, autônomos e com atribuições de fiscalização, investigação e auditoria, mediante controle interno, exercido por corregedoria, para apurar as infrações disciplinares atribuídas aos integrantes de seu quadro, em todas as que utilizam arma de fogo e naquelas com efetivo superior a:

- (A) 100 (cem) servidores da guarda.
- (B) 90 (noventa) servidores da guarda.
- (C) 80 (cinquenta) servidores da guarda.
- (D) 50 (cinquenta) servidores da guarda.

**28.** Considerando a classificação dos fogos (Classe A, B, C e D) prevista na norma regulamentadora 23 que trata sobre a proteção contra incêndios e os diferentes tipos de extintores e suas respectivas aplicações, assinale a alternativa INCORRETA:

- (A) O extintor tipo "Água Pressurizada", ou "Água-Gás", pode ser utilizado nos fogos Classe A, B, C ou D.
- (B) O extintor tipo "Químico Seco" usar-se-á nos fogos das Classes B e C.
- (C) O extintor tipo "Dióxido de Carbono" será usado, preferencialmente, nos fogos das Classes B e C, embora possa ser usado também nos fogos de Classe A em seu início.
- (D) O extintor tipo "Espuma" será usado nos fogos de Classe A e B.

**29.** Em conformidade com o Estatuto da Criança e do Adolescente, disposto pela Lei 8.069 de 1990, os hospitais e demais estabelecimentos de atenção à saúde de gestantes, públicos e particulares, são obrigados, EXCETO, a:

- (A) Identificar o recém-nascido mediante o registro de sua impressão plantar e digital e da impressão digital da mãe, sem prejuízo de outras formas normatizadas pela autoridade administrativa competente.
- (B) Proceder a exames visando ao diagnóstico e terapêutica de anormalidades no metabolismo do recém-nascido, bem como prestar orientação aos pais.
- (C) Manter registro das atividades desenvolvidas, através de prontuários individuais, pelo prazo de vinte e um anos.
- (D) Fornecer declaração de nascimento onde constem necessariamente as intercorrências do parto e do desenvolvimento do neonato.

**30.** Em conformidade com o Código de Trânsito Brasileiro (CTB), analise as proposições e responda.

- I - Os Conselhos Estaduais de Trânsito - CETRAN e o Conselho de Trânsito do Distrito Federal - CONTRANDIFE, órgãos normativos, consultivos e coordenadores.
- II - Os órgãos e entidades executivos de trânsito da União, dos Estados, do Distrito Federal e dos Municípios.
- III - Os órgãos e entidades executivos rodoviários da União, dos Estados, do Distrito Federal e dos Municípios.
- IV - As Polícias Militares dos Estados e do Distrito Federal.

É CORRETO afirmar que compõem o Sistema Nacional de Trânsito:

- (A) I, II e III, somente.      (B) I, II, III e IV.      (C) I e III, somente.      (D) I, apenas.

**31.** Em conformidade com a Lei 13.022 de 2014, que vem dispor sobre o Estatuto Geral das Guardas Municipais, podemos afirmar que são princípios mínimos de atuação das guardas municipais, EXCETO:

- (A) Preservação da vida, redução do sofrimento e diminuição das perdas.
- (B) Patrulhamento repressivo.
- (C) Compromisso com a evolução social da comunidade.
- (D) Uso progressivo da força.

**32.** Complete corretamente a lacuna do trecho abaixo:

Define-se como \_\_\_\_\_ a parte da rodovia, contígua à pista de rolamento, destinada ao suporte lateral do pavimento e proteção aos efeitos da erosão e, eventualmente, em caso de emergência, parada ou trânsito de veículos.

(Fonte: Glossário de Termos Técnicos Rodoviários> disponível em: <<file:///C:/Users/Supervis%C3%A3o/Downloads/DNER700GTRR.pdf>>)

- (A) Acidente Topográfico.      (B) Via Coletora.      (C) Acostamento.      (D) Via Arterial.

**33.** Estabelece o Estatuto Geral das Guardas Municipais que o funcionamento das guardas municipais será acompanhado por órgãos próprios, permanentes, autônomos e com atribuições de fiscalização, investigação e auditoria, mediante controle interno, exercido por corregedoria para apurar as infrações disciplinares atribuídas aos integrantes de seu quadro, EXCETO:

- (A) Naquelas com efetivo superior a 50 (cinquenta) servidores.
- (B) Em todas as que utilizam arma de fogo.
- (C) Naquelas com efetivo superior a 100 (cem) servidores.
- (D) Em todas com efetivo superior a 30 (trinta servidores), ainda que não utilizem arma de fogo.

**34.** Em conformidade com a Constituição Federal de 1988, a polícia federal, instituída por lei como órgão permanente, organizado e mantido pela União e estruturado em carreira, destina-se, EXCETO, a:

- (A) Exercer as funções de polícia marítima, aeroportuária e de fronteiras.
- (B) Exercer, concorrentemente com outros órgãos, as funções de polícia judiciária da União.
- (C) Prevenir e reprimir o tráfico ilícito de entorpecentes e drogas afins, o contrabando e o descaminho, sem prejuízo da ação fazendária e de outros órgãos públicos nas respectivas áreas de competência.
- (D) Apurar infrações penais contra a ordem política e social ou em detrimento de bens, serviços e interesses da União ou de suas entidades autárquicas e empresas públicas, assim como outras infrações cuja prática tenha repercussão interestadual ou internacional e exija repressão uniforme, segundo se dispuser em lei.

**35.** Em consonância com a Constituição Federal de 1988, a segurança pública, dever do Estado, direito e responsabilidade de todos, é exercida para a preservação da ordem pública e da incolumidade das pessoas e do patrimônio, através dos seguintes órgãos, EXCETO.

- (A) Polícias penais estaduais e municipais.
- (B) Polícia ferroviária federal.
- (C) Polícias civis.
- (D) Corpo de bombeiros militares.

**36.** Com base no Estatuto do desarmamento e sua regulamentação estabelecida pela Lei nº 10.826 de 2003, a autorização para o porte de arma de fogo de uso permitido, em todo o território nacional, é de competência:

- (A) Do Exército e somente será concedida após autorização da Polícia Federal.
- (B) Do Sinarm e somente será concedida após autorização do Exército.
- (C) Da Polícia Federal e somente será concedida após autorização do Sinarm.
- (D) Do Exército e somente será concedida após autorizada pelo Ministério Público Federal.

**37.** Para fins de aquisição de arma de fogo de uso permitido e de emissão do Certificado de Registro de Arma de Fogo, o interessado deverá cumprir determinados requisitos estabelecidos pelo Decreto nº 9.847 de 2019. Cumpridos tais requisitos, a autorização para a aquisição da arma de fogo em nome do interessado, contado da data do protocolo da solicitação, será expedida no prazo de até:

- (A) 15 (quinze) dias.
- (B) 60 (sessenta) dias.
- (C) 45 (quarenta e cinco) dias.
- (D) 30 (trinta) dias.

**38.** A respiração é uma das funções essenciais à vida. É através dela que o corpo promove permanentemente o suprimento de oxigênio necessário ao organismo, vital para a manutenção da vida. Sobre os tipos de respiração, assinale a CORRETA.

- (A) Eupneia - Respiração que se processa por movimentos regulares, sem dificuldades, na frequência média.
- (B) Apneia - Dificuldade na execução dos movimentos respiratórios.
- (C) Dispneia - É a ausência dos movimentos respiratórios. Equivale a parada respiratória.
- (D) Taquipneia - Diminuição na frequência média dos movimentos respiratórios.

**39.** Em consonância com a Lei Orgânica do Município de Areal, o município integra a união indissolúvel da República Federativa do Brasil e tem como fundamentos, expressos pela lei, EXCETO.

- (A) Autonomia.
- (B) Legalidade.
- (C) Cidadania.
- (D) Dignidade da pessoa humana.

**40.** Os Cones de Sinalização são objetos extremamente necessários para a boa sinalização e orientação do tráfego nos locais em que são colocados. Assinale a alternativa CORRETA quanto a utilização do Cone de Sinalização:

- (A) No isolamento e sinalização de áreas de trabalho, poços de inspeção, entrada de galerias subterrâneas e situações semelhantes.
- (B) Em situações de emergência ou perigo no trânsito, como acidentes ou presença de objetos na via, os cones de sinalização ajudam a organizar o trânsito e alertar os motoristas.
- (C) Na delimitação e isolamento de áreas de trabalho.
- (D) No isolamento das partes energizadas da rede durante a execução de tarefas.