



CÂMARA MUNICIPAL DE VEREADORES DE SARANDI ESTADO DO RIO GRANDE DO SUL CONCURSO PÚBLICO Nº 001/2016

AGENTE DE MANUTENÇÃO (SERVENTE)

Instruções

Leia atentamente e cumpra rigorosamente as instruções que seguem, pois elas são parte integrante das provas e das normas que regem esse Concurso ou Processo Seletivo.

1. Atente-se aos avisos contidos no quadro da sala.
2. Seus pertences deverão ser armazenados dentro do saco plástico fornecido pelo fiscal. Somente devem permanecer em posse do candidato caneta esferográfica de material transparente com tinta azul ou preta de ponta grossa, documento de identidade, lanche e água, se houver. A utilização de qualquer material não permitido em edital é expressamente proibida, acarretando a imediata exclusão do candidato.
3. Verifique se o cargo constante na capa deste caderno é aquele para o qual realizou a inscrição.
4. Cada questão oferece 5 (cinco) alternativas de respostas, representadas pelas letras A, B, C, D e E, sendo apenas 1 (uma) a resposta correta.
5. Será respeitado o tempo para realização da prova conforme previsto em edital, incluindo o preenchimento da grade de respostas.
6. Os dois últimos candidatos deverão retirar-se da sala de prova ao mesmo tempo, devendo assinar a Ata de Prova.
7. Nenhuma informação sobre o conteúdo das questões será dada pelo fiscal.
8. No caderno de prova, o candidato poderá rabiscar, riscar e calcular.
9. Os gabaritos preliminares da prova objetiva serão divulgados na data descrita no Cronograma de Execução desse Concurso ou Processo Seletivo.
10. Certifique-se de que este caderno contém 30 (trinta) questões. Caso contrário, solicite ao fiscal da sala a sua substituição.

Boa prova!



Instrução: As questões de números 01 a 05 referem-se ao texto abaixo.

Segurança começa em casa

01 Into_icação, quedas, queimaduras. Esses são alguns dos acidentes que podem acontecer
02 dentro da nossa casa – que perigo, não é? Pois saiba que há formas de preveni-los: basta fazer
03 adaptações simples na nossa sala, quarto, cozinha e banheiro para evitar que crianças pequenas
04 tenham acesso a produtos de limpeza, por exemplo, ou que idosos escorreguem e caiam.

05 Um projeto chamado Casa Mais Segura, liderado pela Associação Médica Brasileira com
06 apoio do Governo do Estado de São Paulo, preparou uma exposição para falar sobre o tema. Em
07 uma estrutura que simula uma casa de seis cômodos, foram colocados móveis e ambientes
08 semelhantes aos que temos em casa. Em cada um deles, o vi_itante encontra observações sobre
09 como deixá-los mais seguros.

10 Vejam alguns exemplos de cuidados na cozinha: No fogão, sempre deixar o cabo das
11 panelas virados para o lado de dentro; Na pia, não deixar eletrodomésticos de uso e_porádico
12 ligados na tomada; guardar facas com o corte virado para baixo; armazenar o lixo em recipientes
13 com tampa, etc. E então, vamos começar a cuidar da segurança no lugar mais importante, que é
14 o nossa casa?!

<http://chc.org.br/seguranca-comeca-em-casa/> – texto adaptado

QUESTÃO 01 – Qual o objetivo principal do texto?

- A) Informar sobre boas práticas em casa para evitar acidentes.
- B) Divulgar uma cartilha de cuidados que teremos que utilizar em nossas casas.
- C) Alarmar a população sobre graves problemas de acidentes que estão ocorrendo nas residências.
- D) Identificar os problemas que ocorrem por não cuidarmos da limpeza da casa.
- E) Realizar um evento sobre os cuidados na segurança de nossas casas.

QUESTÃO 02 – Assinale a alternativa que preenche, correta e respectivamente, as lacunas das palavras das linhas 01, 08 e 11.

- A) s – z – s
- B) s – z – z
- C) ç – s – z
- D) x – s – s
- E) x – z – s

QUESTÃO 03 – A palavra **Segurança** (título) é classificada como um:

- A) Verbo.
- B) Substantivo.
- C) Adjetivo.
- D) Pronome.
- E) Advérbio.

QUESTÃO 04 – Qual das palavras abaixo é um substantivo masculino?

- A) casa (linha 02).
- B) sala (linha 03).
- C) quarto (linha 03).
- D) cozinha (linha 03).
- E) crianças (linha 03).

QUESTÃO 05 – Na frase “crianças pequenas tenham acesso a produtos de limpeza” (linhas 03-04) se substituirmos “crianças” por “a criança” a concordância correta ficará:

- A) A criança pequenas tenham acesso a produtos de limpeza.
- B) A criança pequena tenham acesso a produtos de limpeza.
- C) A criança pequenas tenham acessos a produtos de limpeza.
- D) A criança pequenas tenha acesso a produtos de limpeza.
- E) A criança pequena tenha acesso a produtos de limpeza.

CONHECIMENTOS GERAIS

QUESTÃO 06 – Sarandi se consolida, cada vez mais, como um município referência _____, por seu crescimento e pelo variado parque industrial, além de um crescente comércio, bons prestadores de serviços e um povo voltado ao trabalho.

Assinale a alternativa que preenche corretamente a lacuna do trecho acima.

- A) na Campanha
- B) nos Campos de Cima da Serra
- C) na Região da Produção
- D) na Região das Missões
- E) no Planalto Médio

QUESTÃO 07 – O município de Sarandi tem uma história de conquistas. Possui tradições e hábitos cultivados até hoje pela população. Também podemos observar a presença, na comunidade sarandiense atual, de referências às raízes étnicas, além da religiosidade: arquitetura, culinária e folclore.

Quem foram os primeiros imigrantes nas terras da região de Sarandi?

- A) Alemães e americanos.
- B) Alemães e italianos.
- C) Portugueses e italianos.
- D) Espanhóis e portugueses.
- E) Italianos e franceses.

QUESTÃO 08 – Qual foi a origem do nome do município de Sarandi?

- A) Da flor de um arbusto que nascia de um riacho afluente do Rio Passo Fundo.
- B) Do tupi sarã e significa "ananás ruim (incomestível)", em referência ao fruto da flor que se encontrava nas árvores da região.
- C) Devido à existência de alguns arbustos floridos às margens do Rio Paranã.
- D) De origem tupi, "Sarandi" significa: arbusto de praias, terra estéril, terra maninha, ilhota pedregosa.
- E) Devido ao Parque Industrial e da Preservação Natural da Águas Minerais Sarandi, que estão localizados às margens da RS 569.

QUESTÃO 09 – Foi uma cantora brasileira, conhecida por sua competência vocal, musicalidade e presença de palco. É considerada por muitos críticos a melhor cantora popular do Brasil. Nasceu na cidade de Porto Alegre, em 1945, onde começou sua carreira como cantora aos onze anos de idade em um programa de rádio para crianças. Entre suas composições mais famosas está:

"Alô, alô, Marciano
Aqui quem fala é da Terra
Pra variar, estamos em guerra
Você não imagina a loucura (...)"

Quem é esta cantora?

- A) Cássia Eller.
- B) Elis Regina.
- C) Gal Costa.
- D) Marisa Monte.
- E) Paula Fernandes.

QUESTÃO 10 – O turismo rural é uma opção cultural, gastronômica, de lazer, religiosidade e de resgate histórico, que está conquistando cada vez mais adeptos em Sarandi.

_____, já tradicional no município, recebe visitantes de todas as regiões do estado, que degustam da gastronomia típica italiana, com café da manhã e almoço, regados com muito suco de uva e vinhos, além da colheita e degustação de uva direto do parreiral, visitação à agroindústria de sucos e vinícola.

Assinale a alternativa que preenche corretamente a lacuna do trecho acima.

- A) A Expofesa – Exposição Feira de Sarandi
- B) A Feisa – Feira da Indústria de Sarandi
- C) O Roteiro do Queijo e Vinho
- D) A Rota das Flores
- E) O Roteiro da Uva e Vinho

MATEMÁTICA

QUESTÃO 11 – Joana está inscrita no cargo de Servente para o concurso da Câmara de Sarandi e, no dia da prova, dos 150 candidatos que concorriam para o mesmo cargo de Joana, 15 estavam ausentes. Sendo assim, qual o percentual de abstenção?

- A) 5%.
- B) 10%.
- C) 15%.
- D) 20%.
- E) 25%.

QUESTÃO 12 – Roberta precisa comprar Água Sanitária para a higienização da empresa. Considerando que o preço de um litro desse produto é R\$ 2,80, quantos litros é possível comprar com R\$ 46,20?

- A) 15.
- B) 15,5.
- C) 16.
- D) 16,5.
- E) 17.

QUESTÃO 13 – William comprou dois potes de sorvete, que contêm a mesma quantidade, um de chocolate e outro de morango, para dividir com seus colegas. Do sorvete de chocolate, William e seus colegas comeram a metade do pote e, do sorvete de morango, apenas a sexta parte. Das frações abaixo, qual representa a quantidade total de sorvete que William e seu colegas comeram?

- A) $\frac{4}{6}$
- B) $\frac{1}{8}$
- C) $\frac{2}{6}$
- D) $\frac{2}{8}$
- E) $\frac{1}{3}$

QUESTÃO 14 – Renan comprou materiais de limpeza a prazo, para ser pago em 10 meses. O valor gasto na compra foi de R\$ 1.200,00 e a taxa de juros cobrada para compras a prazo é de 2% ao mês. Se aplicado o regime de juros simples, ao final dos 10 meses, qual será o valor gasto nessa compra por Renan?

- A) R\$ 1.220,00.
- B) R\$ 1.224,00.
- C) R\$ 1.300,00.
- D) R\$ 1.424,00.
- E) R\$ 1.440,00.

QUESTÃO 15 – Gabriela realizou o concurso para a Câmara de Sarandi, no qual a prova era composta de 40 questões e cada questão valia 2,25. Na prova de Português, Gabriela acertou 6 questões, na de Matemática 9, na de Legislação 8 e na de Conhecimentos Gerais 7. Sabendo disso, qual o número de questões que Gabriela acertou e qual será sua nota final?

- A) 28 – 63,0.
- B) 29 – 65,25.
- C) 30 – 67,5.
- D) 31 – 69,75.
- E) 32 – 72,0.

CONHECIMENTOS ESPECÍFICOS

QUESTÃO 16 – Sobre o uso de produtos químicos para limpeza de ambientes, assinale a alternativa correta.

- A) Não é necessário ler atentamente os rótulos de instruções de produtos de limpeza, pois a maioria tem a mesma aplicação.
- B) O uso de espanador não é recomendado para tirar o pó de móveis.
- C) Produtos sem rótulos podem ser utilizados, pois o cheiro já os identifica.
- D) O uso de sprays ou aerossóis é recomendado, pois produtos nesses formatos são mais seguros para a saúde.
- E) Não é recomendado umedecer o piso antes de varrer o chão.

QUESTÃO 17 – As boas práticas de higiene devem ser obedecidas pelos manipuladores de alimentos, ou seja, por quem prepara os alimentos, e têm como objetivo:

- A) Evitar a ocorrência de doenças provocadas pelo consumo de alimentos contaminados.
- B) Ensinar o uso correto dos utensílios utilizados no preparo de alimentos.
- C) Evitar o preparo de alimentos não saudáveis.
- D) Impedir que as pessoas não lavem as mãos antes do preparo dos alimentos.
- E) Ensinar o uso correto de equipamentos de segurança para cozinhar.

QUESTÃO 18 – O que um preparador de alimentos NÃO deve fazer?

- A) Tomar banho diariamente.
- B) Usar cabelos presos e cobertos com redes ou toucas.
- C) Trocar o uniforme somente quando ele estiver sujo.
- D) Usar o uniforme de trabalho somente na área de preparo de alimentos.
- E) Lavar as mãos antes de preparar os alimentos e depois de usar o banheiro.

QUESTÃO 19 – Com que frequência é recomendada a higienização de caixas-d'água?

- A) Uma vez ao ano.
- B) Duas vezes ao ano.
- C) A cada dois anos.
- D) A cada três anos.
- E) A cada cinco anos.

QUESTÃO 20 – Assinale a alternativa INCORRETA em relação à separação de lixos.

- A) Não misturar lixos recicláveis com orgânicos, tais como sobras de alimentos, cascas de frutas e legumes.
- B) Colocar plásticos, vidros, metais e papéis em sacos separados.
- C) Lavar as embalagens do tipo longa vida, latas, garrafas e frascos de vidro e plástico, secando antes de depositar nos coletores.
- D) Embrulhar vidros quebrados e outros materiais cortantes em papel grosso (do tipo jornal) ou colocados em uma caixa para evitar acidentes.
- E) Secar os papéis e amassá-los para ocupar menos espaço no lixo.

QUESTÃO 21 – São considerados resíduos recicláveis:

- I. Papelão.
- II. Produtos eletrônicos.
- III. Espelhos.

Quais estão corretos?

- A) Apenas I.
- B) Apenas II.
- C) Apenas III.
- D) Apenas I e II.
- E) I, II e III.

QUESTÃO 22 – Na limpeza geral, são realizados os seguintes procedimentos, EXCETO:

- A) Recolher o lixo.
- B) Lavar o piso.
- C) Limpar tetos e paredes.
- D) Limpar janelas e portas.
- E) Interditar todo o local durante a limpeza.

QUESTÃO 23 – Em relação ao uso de EPIs, NÃO cabe ao empregado:

- A) Substituí-los imediatamente, quando danificado ou extraviado.
- B) Utilizá-los apenas para a finalidade a que se destina.
- C) Responsabilizar-se pela guarda e conservação.
- D) Comunicar ao empregador qualquer alteração que os tornem impróprios para uso.
- E) Cumprir as determinações do empregador sobre o uso adequado.

QUESTÃO 24 – Para a manutenção da pintura da parede externa de um prédio, o tipo de tinta mais recomendado, que tem secagem rápida e que pode ser diluído em água, é:

- A) Latéx PVA.
- B) Acrílica.
- C) Superlaváveis.
- D) Sintética.
- E) Epóxi.

QUESTÃO 25 – São equipamentos necessários para aplicação de massa corrida em paredes, EXCETO:

- A) Lixa grossa.
- B) Lixa fina.
- C) Desempenadeira.
- D) Pincel.
- E) Espátula.

QUESTÃO 26 – Sobre os tipos de lixo, relacione a Coluna 1 à Coluna 2.

Coluna 1

1. Orgânico.
2. Inorgânico.

Coluna 2

- () Material de origem biológica.
- () Papéis secos, plásticos, vidros, metais ferrosos e não ferrosos.
- () É encaminhado ao serviço de coleta ou à compostagem.
- () Após a triagem, segue para os fabricantes de matérias-primas.
- () O lixo contendo restos de alimentos ou outras substâncias deve ser lavado.
- () Pode virar adubo ou ser usado em usinas termoelétricas para produção de energia com base no gás que emite.

A ordem correta de preenchimento dos parênteses, de cima para baixo, é:

- A) 2 – 1 – 1 – 2 – 1 – 2.
- B) 1 – 1 – 2 – 2 – 1 – 2.
- C) 1 – 2 – 1 – 2 – 2 – 1.
- D) 1 – 2 – 2 – 1 – 2 – 1.
- E) 2 – 2 – 1 – 1 – 2 – 1.

QUESTÃO 27 – Você precisa atualizar o estoque do seu local de trabalho com produtos/equipamentos para limpeza dos banheiros. Assim, entrariam no seu pedido os seguintes itens:

- I. Luvas de borracha.
- II. Desinfetante.
- III. Touca.
- IV. Balde com espremedor.

Quais estão corretos?

- A) Apenas I e II.
- B) Apenas I e IV.
- C) Apenas II e III.
- D) Apenas I, II e IV.
- E) I, II, III e IV.

QUESTÃO 28 – Analise as afirmações abaixo sobre o processo de limpeza e assinale V, se verdadeiras, ou F, se falsas.

- () Equipamentos elétricos e eletrônicos devem ser limpos com pano seco.
- () Luvas de proteção devem ser utilizadas durante todo o trabalho, até mesmo para abrir maçanetas e atender telefones.
- () Todo material usado para limpeza (baldes, panos, vassouras etc.) deverá ser limpo e guardado em local apropriado.
- () A limpeza deve ser iniciada pelo piso e, posteriormente, ser seguida de mesas, paredes e tetos.

A ordem correta de preenchimento dos parênteses, de cima para baixo, é:

- A) V – F – V – F.
- B) V – V – V – V.
- C) F – F – V – V.
- D) F – V – F – F.
- E) V – F – F – V.

QUESTÃO 29 – Relacione a Coluna 1 à Coluna 2, associando as cores ao que elas representam em relação aos riscos.

Coluna 1

1. Amarelo.
2. Vermelho.
3. Azul.

Coluna 2

- () Inflamabilidade.
- () Toxicidade.
- () Reatividade.

A ordem correta de preenchimento dos parênteses, de cima para baixo, é:



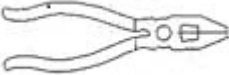

- A) 1 - 2 - 3.
- B) 2 - 1 - 3.
- C) 2 - 3 - 1.
- D) 3 - 1 - 2.
- E) 1 - 3 - 2.

QUESTÃO 30 – Para instalações e reparos elétricos, é necessário conhecer as ferramentas utilizadas para esses tipos de trabalhos. Assim, relacione a Coluna 1 à Coluna 2, associando as imagens às nomenclaturas.

Coluna 1

1. Chave de fendas.
2. Alicate de eletricista.
3. Alicate de corte.
4. Busca-polo.

Coluna 2

- () 
- () 
- () 
- () 

A ordem correta de preenchimento dos parênteses, de cima para baixo, é:

- A) 2 - 1 - 3 - 4.
- B) 1 - 3 - 4 - 2.
- C) 1 - 2 - 3 - 4.
- D) 4 - 3 - 2 - 1.
- E) 3 - 1 - 2 - 4.