

PREFEITURA MUNICIPAL DE PORCIÚNCULA/RJ

CONCURSO PÚBLICO 001/2019

EDITAL nº 001/2019

TÉCNICO DE ENFERMAGEM

ORGANIZADORA:



"A persistência é o caminho do êxito".

Charles Chaplin.

EM BRANCO

CADERNO DE PROVAS

Caro(a) Candidato(a): **Antes de iniciar a prova leia atentamente as instruções a seguir:**

1. Este caderno contém 60 (sessenta) questões objetivas com 04 (quatro) opções (A, B, C, D). A prova terá duração máxima de 04(quatro) horas. A prova terá seu horário de início em sala, a contar após a distribuição dos cadernos de prova e autorização do aplicador(a).
2. Confira em seu caderno de provas a sequência de questões. Você tem até 10 (dez) minutos do início das provas para solicitar a troca do caderno de provas que apresentar algum problema de impressão ou qualquer outro que inviabilize a realização da mesma, pois não serão aceitas reclamações posteriores nesse sentido.
3. A interpretação das questões, bem como das instruções, faz parte da prova. Portanto, ao aplicador(a) de sala e fiscais não há autorização para fornecer esclarecimentos sobre o conteúdo das provas, sendo esta atribuição de única e exclusiva responsabilidade do(a) candidato(a).
4. Você receberá do aplicador o cartão de respostas 30 (trinta) minutos após o início da prova, o cartão de respostas deverá obrigatoriamente ser assinado pelo(a) candidato(a) no local em que há a indicação: “**ASSINATURA**”, utilizando sempre caneta esferográfica de tinta preta ou azul.
5. Caso realmente precise, utilize como rascunho os espaços em branco nas folhas do caderno de prova. Sugerimos que você assinale, inicialmente, no próprio caderno de provas, todas as respostas que julgar correta. Depois, passe-as para o cartão de respostas.
6. Questões com mais de uma alternativa assinalada, rasurada ou em branco serão **ANULADAS**. Portanto, ao preencher o cartão de respostas faça-o cuidadosamente. Evite erros, pois em hipótese alguma haverá substituição do cartão de respostas por erro do(a) candidato(a).
7. Ao terminar a prova ou findo o horário limite para sua realização, o candidato deverá **OBRIGATORIAMENTE** entregar seu cartão de respostas “**ASSINADO**”, ao aplicador(a) de sala. O(a) candidato(a) que não devolver seu cartão de respostas será automaticamente **eliminado(a)** e não terá classificação alguma no concurso público.
8. **Atenção!** Preencha o cartão-resposta na mesma sequência numérica das questões do caderno de provas.
9. Somente será permitido levar o caderno de questões (prova), depois de decorrido o período de **120 (cento e vinte) minutos do início das provas.**
10. Não serão permitidas consultas a quaisquer materiais, uso de telefone celular ou outros aparelhos eletrônicos, assim como os demais procedimentos constantes no subitem 9.5 e no subitem 9.7 do Edital 001/2019.
11. Após o término da prova, o(a) candidato(a) deverá deixar imediatamente o recinto da mesma, sendo **terminantemente proibido** fazer contato com os(as) candidatos(as) que ainda não terminaram a prova sob pena de ser excluído do Concurso Público.
12. O desrespeito às normas que regem o presente concurso, bem como, a desobediência às exigências registradas no edital, além de sanções legais cabíveis implica na desclassificação do candidato.
13. Aguarde a ordem do aplicador para iniciar a prova.
14. Os dois últimos candidatos ao terminarem as provas deverão retirar-se da sala simultaneamente, após testemunharem o fechamento (lacre) do envelope de provas, assinando a Ata Relatório.
15. O candidato, após a divulgação dos gabaritos oficiais preliminares da Prova Objetiva, que será feita às **14 horas** do dia **16/09/2019**, no site www.gualimp.com.br, poderá peticionar **RECURSO** à banca examinadora, quando julgar que ocorreu erro na formulação das questões e divulgação do gabarito preliminar, nos dias **17/09/2019 e 18/09/2019.**

NÃO ESQUEÇA!
Ao sair, entregue o cartão de respostas devidamente assinado.
BOA PROVA!!!

ATENÇÃO!!!

- O CARTÃO DE RESPOSTAS ABAIXO É PARA SER UTILIZADO SOMENTE COMO RASCUNHO.
- AO RECEBER O CARTÃO DE RESPOSTAS DEFINITIVO CONFIRA OS DADOS DE IDENTIFICAÇÃO (NOME, CARGO, NÚMERO DE INSCRIÇÃO) E EM SEGUIDA ASSINE NO LOCAL INDICADO.

CARTÃO RESPOSTA








PREFEITURA MUNICIPAL DE PORCIÚNCULA - RJ
CONCURSO PÚBLICO 001/2019

Nome: _____

Cargo: _____ Local: _____

Sala: _____ Nº de inscrição: _____ Data: xx/xx/2019 Turno: _____

* Marcar apenas uma opção para cada questão, evitando ultrapassar o círculo;
 * O círculo correspondente à questão escolhida deve ser totalmente preenchido;
 * Marcar apenas a quantidade de questões existentes na sua prova;
 * Utilize somente caneta azul ou preta, não rasurar ou sujar o cartão;
É responsabilidade do candidato a conferência dos dados de seu cartão     

TIPO DE PROVA
PADRÃO

01	A	B	C	D	21	A	B	C	D	41	A	B	C	D
02	A	B	C	D	22	A	B	C	D	42	A	B	C	D
03	A	B	C	D	23	A	B	C	D	43	A	B	C	D
04	A	B	C	D	24	A	B	C	D	44	A	B	C	D
05	A	B	C	D	25	A	B	C	D	45	A	B	C	D
06	A	B	C	D	26	A	B	C	D	46	A	B	C	D
07	A	B	C	D	27	A	B	C	D	47	A	B	C	D
08	A	B	C	D	28	A	B	C	D	48	A	B	C	D
09	A	B	C	D	29	A	B	C	D	49	A	B	C	D
10	A	B	C	D	30	A	B	C	D	50	A	B	C	D
11	A	B	C	D	31	A	B	C	D	51	A	B	C	D
12	A	B	C	D	32	A	B	C	D	52	A	B	C	D
13	A	B	C	D	33	A	B	C	D	53	A	B	C	D
14	A	B	C	D	34	A	B	C	D	54	A	B	C	D
15	A	B	C	D	35	A	B	C	D	55	A	B	C	D
16	A	B	C	D	36	A	B	C	D	56	A	B	C	D
17	A	B	C	D	37	A	B	C	D	57	A	B	C	D
18	A	B	C	D	38	A	B	C	D	58	A	B	C	D
19	A	B	C	D	39	A	B	C	D	59	A	B	C	D
20	A	B	C	D	40	A	B	C	D	60	A	B	C	D

_____ Assinatura do Candidato	Nº DE INSCRIÇÃO _____
----------------------------------	-------------------------------------

OBS.: O candidato deverá OBRIGATORIAMENTE, entregar seu cartão de respostas preenchido e ASSINADO, sob pena de ter seu cartão de respostas ANULADO. (item 9.12 do edital 001/2019)

QUESTÕES DE LINGUA PORTUGUESA

Leia o texto a seguir para responder às questões de 1 a 3.

Incêndio em Notre-Dame: os principais fatos históricos sobre catedral tomada pelo fogo em Paris.

Ao longo dos seus mais de 850 anos de existência, a Catedral de Notre-Dame, em Paris, viu passarem pelo trono francês três dezenas de reis, sobreviveu à Revolução Francesa, coroou Napoleão Bonaparte como imperador, testemunhou a ascensão da República na França e resistiu a duas guerras mundiais.

Atingida pelo fogo, nessa segunda-feira, a igreja era uma das mais famosas do mundo e um dos principais pontos turísticos da França. A causa do incêndio ainda não é conhecida. [...]

Um dos elementos mais memoráveis da catedral são suas gárgulas, esculturas com aspecto animalesco monstruoso.

As estátuas eram usadas na Idade Média para ornar desaguadouros - canos projetados para fora do telhado que ajudam a escoar água das chuvas. Acreditava-se que elas protegiam a catedral contra espíritos malévolos. [...]

A catedral de Notre-Dame começou a ser construída em 1163, por decisão de Maurice de Sully, bispo de Paris.

A ideia era erguer uma catedral dedicada à Virgem Maria. Por isso, o nome Notre-Dame - "Nossa Senhora", em francês. O lançamento da pedra fundamental teria ocorrido na presença do Papa Alexandre III. [...]

Em 2013, a igreja completou 850 anos de existência. O fato foi marcado por um ano de comemorações na França, que contou com restaurações, exposições e um simpósio científico.

A catedral de Notre-Dame só foi completamente concluída 180 anos depois do início da construção. Porém, já por volta de 1250, estavam erguidas as duas torres da fachada.

Mesmo antes de terminada, a obra em construção já atraía cavaleiros medievais que, durante as Cruzadas, iam ao local rezar e pedir proteção antes de partir para o Oriente.

Em 1685, foi instalado o sino Emmanuel, na torre sul, o maior da catedral. Além de marcar a passagem das horas durante o dia, o Emmanuel badalou para marcar a liberação de Paris do controle alemão em 1944.

O local onde fica a catedral foi um dia uma cidade romana chamada Lutécia. Escavações realizadas no terreno sugerem que havia na área um possível templo pagão romano, dedicado a Júpiter. A estrutura teria sido substituída por uma igreja cristã, anterior à construção de Notre-Dame.

Parte das escavações deram origem a um museu, a Cripta Arqueológica, que podia ser visitada nos subterrâneos da Notre-Dame, indicando como era a vida no Império Romano.

A última vez em que a catedral sofreu grandes danos foi durante a Revolução Francesa (1789-1799). Nesse período, a igreja foi pilhada e uma torre do século 13 foi desmantelada. [...]

A igreja foi transformada em um templo do Culto à Razão, uma espécie de religião da nova República. Em seu interior, as estátuas da Virgem Maria foram substituídas por esculturas da Deusa da Liberdade, e cruzeiros foram removidas. Apenas em 1801 a catedral voltou a ser um templo católico.

Apesar de muito antiga e imponente, a catedral de Notre-Dame só passou a abrigar importantes celebrações francesas com a ascensão de Napoleão Bonaparte, que escolheu a igreja para ser coroado imperador da França em 2 de dezembro de 1804.

Para receber a cerimônia, a Notre-Dame precisou passar por alguns processos de recuperação - já que, antes disso, estava vivendo um processo de degradação. [...]

O romance histórico *O Corcunda de Notre-Dame*, do escritor francês Victor Hugo, foi publicado em 1831, e ajudou a popularizar a catedral no mundo todo com a história do tocador de sinos corcunda Quasimodo. [...]

Em seu romance Victor Hugo descreve o péssimo estado de conservação da construção gótica na época.

A pressão criada pela popularização da obra literária ajudou a fazer com que a catedral fosse restaurada entre 1844 e 1864.

No ano passado, a catedral de Notre-Dame lançou um pedido urgente de arrecadação de fundos para recuperar sua estrutura, que estava começando a desmoronar. O valor necessário para a restauração era estimado em 150 milhões de euros. [...]

Acesso em: 02/09/2019: <https://www.bbc.com/portuguese/geral-47941953>
(texto adaptado)

01. O texto lido foi estruturado a partir de características do seguinte gênero:

- (A) Artigo de opinião, pois o autor pretende informar e persuadir o leitor sobre o assunto tratado.
- (B) Crônica, pois apresenta uma narrativa informal e breve, ligada à vida cotidiana.
- (C) Notícia, porque possui um teor informativo sobre um fato real e atual.
- (D) Reportagem, por se tratar de um texto opinativo com o objetivo de informar sobre um fato.

02. Analise as afirmativas a seguir:

- I. O argumento de provas concretas foi um recurso utilizado pelo autor do texto.
- II. A tipologia textual predominante no texto é injuntiva.
- III. O autor fez uso de conectivos como elementos de ligação entre as ideias apresentadas.
- IV. A linguagem do texto permite considerar que seu principal objetivo é metalinguístico.

De acordo com o texto, estão **INCORRETAS** apenas as afirmativas:

- (A) I e II.
- (B) I e III.
- (C) II e IV.
- (D) I, III e IV.

03. São fatos históricos citados no texto sobre a Catedral de Notre-Dame, **EXCETO**:

- (A) A Catedral de Notre-Dame resistiu à Revolução Francesa (1789-1799).
- (B) A popularização do romance regionalista *O Corcunda de Notre-Dame* de Victor Hugo.
- (C) As escavações abaixo da Notre-Dame que revelaram vestígios de cidade romana.
- (D) Napoleão Bonaparte foi coroado imperador da França na Catedral em 1804.

04. Leia com atenção e responda:



O primeiro período do texto acima de Victor Hugo apresenta uma ideia de:

- (A) Conformidade.
- (B) Comparação.
- (C) Explicação.
- (D) Consequência.

05. A forma infinitiva do verbo destacado na frase abaixo é:

“(...) a igreja completou 850 anos de existência. O fato foi marcado por um ano de comemorações (...)”.

- (A) For.
- (B) Ir.
- (C) Ser.
- (D) Estar.

06. Assinale a alternativa que apresenta a sequência correta para completar as frases abaixo:

Ultimamente não tenho feito outra coisa _____ estudar.

O Caio está _____ de mim.

_____ dias eu venho dormindo muito _____.

Vendi meu carro _____ precisava pagar o cartão de crédito.

- (A) Senão – afim – A – mal – por que.
- (B) Se não – a fim – A – mal – porque.
- (C) Se não – afim – Há – mau – porque.
- (D) Senão – a fim – Há – mal – porque.

07. Analise a oração abaixo:

“O amor, meu amigo, não é para alguém que entrou na minha vida ontem, amor é para quem quer caminhar para um futuro ao meu lado, para as tragédias, poesias, riso e também choro.”

O termo destacado exerce a função de:

- (A) Aposto.
- (B) Vocativo.
- (C) Interjeição.
- (D) Onomatopeia.

08. Julgue as afirmações abaixo em (V) verdadeiro ou (F) falso:

- “Vou comemorar meu aniversário em um pub em São Paulo” – é um exemplo de “estrangeirismo”;
- “De hoje em diante teremos live ao vivo todos os dias no canal!” – é um exemplo de “pleonasm”;
- “Malhei tanto na academia ontem, que hoje sinto o peso de dez elefantes nas minhas coxas.” – é um exemplo de “eufemismo”.

Assinale a alternativa correta:

- (A) V – V – F.
- (B) V – V – V.
- (C) F – F – V.
- (D) F – V – F.

09. Na frase: “O meu desejo é casar com ela.”, exerce a função de pronome possessivo:

- (A) Meu.
- (B) Casar.
- (C) Ela.
- (D) Desejo.

10. “E, no entanto, duas ou três gerações atrás, o homem preferia morrer a perder a honra.”

A regência do verbo destacado não contraria os padrões da linguagem escrita em:

- (A) Naquela época, o homem preferia muito mais morrer a perder a honra.
- (B) Naquela época, o homem preferia mais morrer que perder a honra.
- (C) Naquela época, o homem preferia morrer do que perder a honra.
- (D) Naquela época, o homem preferia a morte a ser desonesto.

11. Marque a alternativa que apresenta grafia correta.

- (A) Se alguém infligir a lei, será punido exemplarmente.
- (B) Não entendemos o por quê do espanto com atitudes honestas.
- (C) O motorista de táxi quis devolver ao passageiro as sacolas esquecidas.
- (D) Ninguém esperava que aquele rapaz se comportasse mau.

12. Leia com atenção a tirinha a seguir.



Fonte: <https://www.google.com>

Considerando a colocação pronominal no trecho “(...) que não se faz e sei lá o quê!”, é correto afirmar:

- (A) A conjunção exigiu a próclise do pronome “se”.
- (B) O advérbio exigiu a próclise do pronome “se”.
- (C) O pronome relativo determinou o uso da ênclise.
- (D) A ênclise é de rigor nas orações exclamativas.

13. Analise a tabela abaixo com a conjugação do verbo “comer” no Presente do Modo Indicativo:

PRESENTE	PRETÉRITO IMPERFEITO
Como	
Comes	
Come	
Comemos	
Comeis	
Comem	

Assinale a alternativa que preenche adequada e respectivamente o modo indicativo no Pretérito Imperfeito do verbo “comer” na coluna em branco:

- (A) Comi – Comeste – Comeu – Comemos – Comestes – Comeram.
- (B) Comería – Comerías – Comería – Comeríamos – Comeríeis – Comeriam.
- (C) Comia – Comias – Comia – Comíamos – Comíeis – Comiam.
- (D) Comera – Comeras – Comera – Comêramos – Comêreis – Comeram.

14. “Na semana passada, estive em São José dos Ausentes, uma pequena cidade encravada no alto da serra gaúcha.”

Assinale a alternativa que classifica corretamente a parte sublinhada desse período.

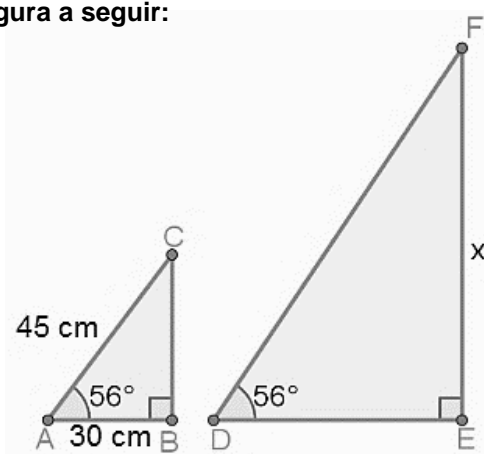
- (A) Aposto.
- (B) Vocativo.
- (C) Agente da passiva.
- (D) Adjunto adverbial.

15. A substituição do termo grifado pelo pronome correspondente, com os necessários ajustes, está INCORRETA em:

- (A) Ter o nome sujo era uma vergonha. = Tê-lo sujo era uma vergonha.
- (B) Pessoas comuns encontraram dinheiro perdido e devolveram. = Pessoas comuns encontraram-no e devolveram.
- (C) Cumprimentei a dona do pequeno hotel. = Cumprimentei-lhe.
- (D) O secretário perguntou a um senhor por que fazia isso. = O secretário perguntou-lhe por que fazia isso.

QUESTÕES DE MATEMÁTICA

16. Observe a figura a seguir:



Considerado que o triângulo ABC é proporcional ao DEF, assinale a alternativa que contenha o valor de x.

- (A) $\cong 33,54$ cm.
- (B) $\cong 52,80$ cm.
- (C) $\cong 75,23$ cm.
- (D) $\cong 67,08$ cm.

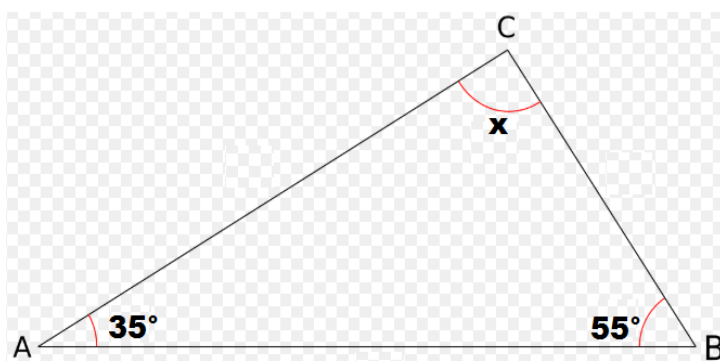
17. A mãe de Juca pretende encher uma piscina com capacidade total de 3.600 litros. Para isso, a mesma abriu 02 torneiras cuja vazão de água por minuto é de 15 litros cada uma. Logo, quanto tempo levará para a piscina encher até a metade de sua capacidade total?

- (A) 90 minutos.
- (B) 120 minutos.
- (C) 60 minutos.
- (D) 75 minutos.

18. Um lote de componentes eletrônicos tem seu valor expresso pelo polinômio $(10x^5 - 6x^4)$. Supondo que o valor deste lote seja rateado em partes iguais entre 02 pessoas, cuja divisão será dada pelo monômio $(+ 2x)$ que representa a parte que cada uma terá de pagar, marque a alternativa que demonstre este valor?

- (A) $12x^6 - 8x^5$
- (B) $20x^6 - 12x^5$
- (C) $8x^4 - 4x^3$
- (D) $5x^4 - 3x^3$

19. Assinale a alternativa que substitua corretamente o valor de x na figura a seguir:



- (A) 90° (B) 85° (C) 95° (D) 100°

20. Durante alguns dias do mês de fevereiro, uma confecção produziu a seguinte quantidade de roupas:

Dia	Quantidade de Roupas
01	250
02	100
03	190
04	80
05	220
06	160
07	75
08	200
09	250
10	40
11	250
12	90
13	110

Assinale a alternativa que represente a mediana deste intervalo de dias.

- (A) 210. (B) 75. (C) 250. (D) 155.

21. A fórmula que compõe o custo de produção de uma máquina é dada pela expressão " $4a \cdot (2a - 3x)$ ". Sendo assim, significa dizer que o custo também pode ser demonstrado pela seguinte expressão:

- (A) $8a^2 - 12ax$ (B) $8a - 3x$ (C) $8a^2 - 3ax$ (D) $8a - 12ax$

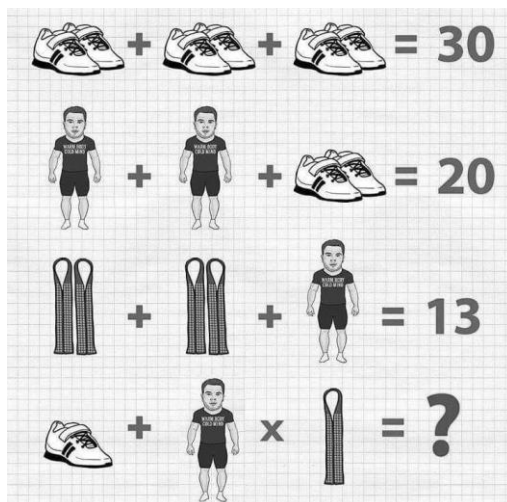
22. Fazendo uma brincadeira referente às taxas de juros abusivas cobradas pelos bancos, Fernando fez uma suposição: "Se hoje eu devo 07 reais para o banco, no próximo mês vou dever o triplo e no outro 63". Supondo que seja verdade esta afirmação e caso a dívida siga esta progressão, qual será o valor devido caso Fernando atrase por 07 meses esta dívida?

- (A) R\$ 5.103,00 (B) R\$ 700,00 (C) R\$ 7.651,00 (D) R\$ 1.701,00

23. Em relação à progressão aritmética (13, 20, 27...), determine $a_8 + a_{13}$ e assinale a alternativa correspondente:

- (A) 156. (B) 159. (C) 154. (D) 147.

24. Observe a imagem a seguir e marque a alternativa que apresente corretamente o resultado do enigma:



- (A) 30. (B) 60. (C) 19. (D) 15.

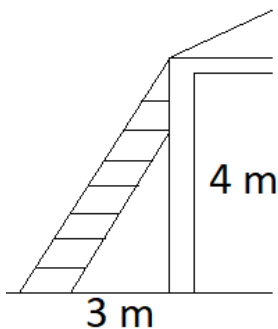
25. A barraca de pastel de Cícero vende diariamente 150 pastéis de carne por R\$ 4,00. Segundo estimativa feita por Cícero, ele venderia 15 pastéis de carne a mais a cada 25 centavos que ele abaixasse do preço. Levando em consideração que a estimativa de Cícero se concretizou e num determinado dia ele tenha vendido 240 pastéis de carne, qual foi o valor de venda do pastel de carne neste dia?

- (A) R\$ 2,50 (B) R\$ 2,75 (C) R\$ 3,00 (D) R\$ 3,25

26. No lançamento de um dado não viciado, é correto afirmar que a probabilidade de cair o número 3 é igual a:

- (A) 1/4 (B) 1/6 (C) 1/8 (D) 1/10

27. Para subir em um telhado situado a uma altura de 4 metros, uma escada é apoiada no topo do telhado a uma distância horizontal de 3 metros da parede, conforme demonstra a figura a seguir. Com base nisso, assinale a alternativa que representa corretamente o comprimento da escada:

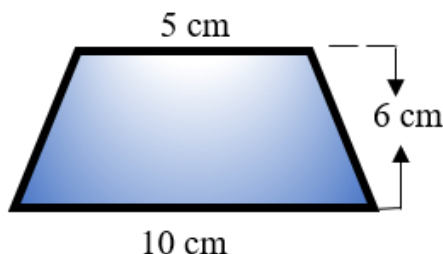


- (A) 4 metros. (B) 5 metros. (C) 6 metros. (D) 8 metros.

28. A solução da equação $8^x = 128$ é:

- (A) $X = \frac{2}{7}$ (B) $X = \frac{3}{7}$ (C) $X = \frac{4}{2}$ (D) $X = \frac{3}{5}$

29. Observe a figura abaixo:



Qual a área desse trapézio?

- (A) 50 cm^2 (B) 21 cm^2 (C) 45 cm^2 (D) 10 cm^2

30. Sendo k um número inteiro maior do que 1, define-se fatorial de k como o produto dos k números naturais consecutivos de k a 1. Representamos por:

- (A) $(k - 1)!$ (B) \hat{k} (C) $k?$ (D) $k!$

NOÇÕES BÁSICAS DE SAÚDE PÚBLICA

31. São atribuições do Sistema Único de Saúde – SUS de acordo com a Lei nº 8.080/90, EXCETO:

- (A) Execução de ações de assistência terapêutica integral, inclusive farmacêutica.
 (B) Colaboração na proteção do meio ambiente, nele compreendido o do trabalho.
 (C) Incremento, em sua área de atuação, das ações de saneamento ambiental e controle ecológico.
 (D) Formulação e execução da política de sangue e seus derivados.

32. O acesso aos serviços de saúde em todos os níveis de assistência é descrito pelo SUS pelo princípio da:

- (A) Descentralização.
 (B) Universalidade.
 (C) Regionalização.
 (D) Participação popular.

33. São prioridades do Pacto pela Vida, EXCETO:

- (A) Reduzir a mortalidade materna, infantil neonatal, infantil por doença diarreica e por pneumonias.
 (B) Contribuir para a redução da mortalidade por câncer de pulmão e de mama na população.
 (C) Fortalecer a capacidade de resposta do sistema de saúde às doenças emergentes e endemias.
 (D) Consolidar e qualificar a estratégia da Saúde da Família como modelo de atenção básica à saúde e como centro ordenador das redes de atenção à saúde do SUS.

34. Com relação aos artigos da constituição federal, da seção II, da saúde, considere a alternativa correta:

- (A) O artigo 198 da constituição federal descreve a conjugação dos recursos financeiros, tecnológicos, materiais e humanos como uma das diretrizes do SUS.
- (B) O artigo 198 determina aos gestores locais do sistema único de saúde, que estes só poderão admitir agentes comunitários de saúde e agentes de combate às endemias por meio de concurso público municipal.
- (C) O artigo 200 discorre que compete ao SUS a formação de recursos humanos na área de saúde.
- (D) O artigo 197 determina que são de relevância pública as ações e serviços de saúde, cabendo ao Poder Público dispor, nos termos da lei, sobre sua regulamentação, fiscalização e controle, devendo sua execução ser feita diretamente ou através de terceiros e, também, por pessoa física ou jurídica de direito privado.

35. Considere os itens a seguir com relação à Vigilância em Saúde:

- I. A vigilância em saúde deve ser entendida como um modelo assistencial alternativo, que deve ser desenvolvido a partir de problemas reais de uma área delimitada, em uma perspectiva de intersetorialidade;
- II. A vigilância em saúde está fundamentada nos princípios da universalidade, integralidade e equidade das ações de promoção da saúde entre os indivíduos e grupos familiares, das ações das vigilâncias epidemiológica, ambiental e sanitária dirigidas à prevenção de riscos e danos; e da atenção primária, na moradia e nas unidades de saúde, com ênfase em grupos populacionais específicos e na reorientação da demanda a serviços, envolvendo vários programas;
- III. A vigilância em saúde visa o conhecimento e a detecção ou prevenção de qualquer mudança nos fatores determinantes e condicionantes do meio ambiente que interferem na saúde humana, com a finalidade de recomendar e adotar medidas de promoção da saúde ambiental, prevenção e controle dos fatores de riscos relacionados às doenças e outros agravos à saúde.

Dos itens acima:

- (A) Apenas o item I está correto.
- (B) Apenas o item II está correto.
- (C) Apenas os itens I e II estão corretos.
- (D) Apenas os itens I e III estão corretos.

36. De acordo com a Constituição Federal, ao Sistema Único de Saúde compete, além de outras atribuições, nos termos da lei, EXCETO:

- (A) Controlar e fiscalizar procedimentos, produtos e substâncias de interesse para a saúde e participar da produção de medicamentos, equipamentos, imunobiológicos, hemoderivados e outros insumos.
- (B) Executar as ações de vigilância sanitária e epidemiológica, bem como as de saúde do trabalhador.
- (C) Participar da formulação da política, com exceção às ações de saneamento básico.
- (D) Incrementar, em sua área de atuação, o desenvolvimento científico e tecnológico e a inovação.

37. “Entendida como um conjunto articulado e contínuo das ações e serviços preventivos e curativos, individuais e coletivos, exigidos para cada caso em todos os níveis de complexidade do sistema.”

A definição acima refere-se a qual princípio do SUS?

- (A) Universalização.
- (B) Equidade.
- (C) Integralidade.
- (D) Hierarquização.

38. Leia e observe atentamente a imagem a seguir:



Fonte: <https://www.facebook.com/unfpabrasil>

Considerando dados demográficos e a saúde pública, em especial fecundidade no Brasil é adequado afirmar que:

- (A) Meninas de 15 a 19 anos grávidas ou com filhos acabam muitas vezes exercendo menos direitos básicos, como educação, saúde, lazer e trabalho.
- (B) A gestação na adolescência possibilita ascensão profissional às jovens de 15 a 19 anos, uma vez que, nesta condição, elas passam a integrar obrigatoriamente o programa do governo federal “menor aprendiz”.
- (C) No Brasil, para meninas de 15 a 19 anos grávidas, em primeira gestação, há a opção legal do aborto como método contraceptivo.
- (D) Na prevenção da gravidez não intencional voltadas para adolescentes e jovens, o preservativo e a pílula anticoncepcional são considerados políticas públicas inadequadas a este público.

39. Assinale a alternativa que preenche corretamente as lacunas.

A Política de Educação Permanente em Saúde parte do pressuposto da _____, ou seja, educadores e estudantes têm papéis diferentes dos tradicionais.

- (A) Aprendizagem Significativa.
- (B) Política educacional.
- (C) Qualificação prévia.
- (D) Formação inicial.

40. São orientações gerais da Política Nacional de Humanização, EXCETO:

- (A) Fortalecimento de trabalho em equipe multiprofissional, fomentando a transversalidade e a grupalidade.
- (B) Construção de autonomia e protagonismo dos sujeitos e coletivos implicados na rede do SUS.
- (C) Fortalecimento do controle social, com caráter participativo, em todas as instâncias gestoras do SUS.
- (D) Desvalorização da dimensão subjetiva e coletiva em todas as práticas de atenção e gestão no SUS.

QUESTÕES DE CONHECIMENTOS ESPECÍFICOS

41. O padrão respiratório de uma pessoa pode sofrer alterações fisiológicas em algumas situações, como na realização de esforços físicos, estresse emocional ou durante o choro. Entre os principais padrões respiratórios temos:

- I. Bradipneia - frequência respiratória abaixo do normal;
- II. Taquipneia - frequência respiratória acima do normal;
- III. Ortopneia - dificuldade respiratória.

Dos itens acima:

- (A) Apenas os itens I e II estão corretos.
- (B) Apenas os itens I e III estão corretos.
- (C) Apenas os itens II e III estão corretos.
- (D) Todos os itens estão corretos.

42. Considere a imagem a seguir:



Dos equipamentos de oxigenoterapia, o demonstrado na imagem acima denomina-se:

- (A) Tubo conjugado.
- (B) Fluxômetro.
- (C) Nebulizador.
- (D) Máscara facial.

43. Quanto à causa, as feridas podem ser classificadas em intencional, nos casos de:

- (A) Feridas perfurantes.
- (B) Queimaduras.
- (C) Úlcera por pressão.
- (D) Incisão cirúrgica.

44. Atualmente é recomendado a limpeza de feridas através de irrigação com solução fisiológica morna e sob pressão, utilizando-se seringa de 20ml conectada à agulha de:

- (A) 13 x 4,5.
- (B) 25 x 7.
- (C) 25 x 8.
- (D) 40 x 12.

45. Uma ampola de ceftriaxona 500 mg foi diluída em 40 mL de soro glicosado 5%. Se dessa solução, for infundido apenas 24 mL, qual dosagem do medicamento o paciente receberá?

- (A) 280 mg.
- (B) 300 mg.
- (C) 320 mg.
- (D) 340 mg.

46. Uma ampola de hidrocortisona 100 mg foi diluída em 35 mL de soro fisiológico 0,9%. Para que essa infusão seja feita em 25 minutos o gotejamento será de:

- (A) 28 gotas por minuto ou 84 microgotas por minuto.
- (B) 29 gotas por minuto ou 87 microgotas por minuto.
- (C) 31 gotas por minuto ou 93 microgotas por minuto.
- (D) 33 gotas por minuto ou 99 microgotas por minuto.

47. Para realizar a mensuração da pressão arterial pela artéria braquial, o técnico em enfermagem deverá colocar o manguito, sem deixar folgas, 2 a 3 cm:

- (A) Acima da fossa cubital.
- (B) Abaixo da fossa cubital.
- (C) Acima da região poplítea.
- (D) Abaixo da região poplítea.

48. Segundo o Ministério da Saúde, qual das alternativas a seguir indica pressão arterial limítrofe?

- (A) 129 x 84 mmHg.
- (B) 133 x 88 mmHg.
- (C) 142 x 85 mmHg.
- (D) 149 x 92 mmHg.

49. Considerando o calendário vacinal do Programa Nacional de Imunização (PNI), 0,5 mL por via intramuscular é a dosagem recomendada para as seguintes vacinas, EXCETO:

- (A) Vacina adsorvida difteria, tétano, pertussis (DTP).
- (B) Vacina meningocócica C (conjugada) - Meningo C.
- (C) Vacina febre amarela (atenuada) (FA).
- (D) Vacina papilomavirus humano 6, 11, 16 e 18 (recombinante).

50. Considere os itens a seguir com relação aos cuidados pós-drenagem de tórax em recém-nascidos (RN):

- I. Observar se há oscilação no circuito;
- II. Posicionar o frasco de drenagem bem fixado à superfície e localizado no mesmo nível do tórax do RN;
- III. Evitar o pinçamento inadvertido do dreno.

Dos itens acima:

- (A) Apenas os itens I e II estão corretos.
- (B) Apenas os itens I e III estão corretos.
- (C) Apenas os itens II e III estão corretos.
- (D) Todos os itens estão corretos.

51. A úlcera venosa pode ser definida como uma lesão aberta, na perna ou no pé, decorrente da hipertensão venosa persistente no local. Ocorre devido à insuficiência venosa crônica, que se caracteriza por hipertensão venosa persistente nos membros inferiores, devido ao refluxo nas veias superficiais, perfurantes ou profundas ou à oclusão venosa. A abordagem à pessoa com úlcera venosa requer um conhecimento específico, tanto na fisiopatologia, quanto na prevenção e no tratamento. Sobre a terapia de compressão podemos afirmar que:

- (A) Aumenta o refluxo patológico, durante a deambulação, e diminui o volume de ejeção durante a ativação dos músculos da panturrilha.
- (B) Aumenta a saída de líquidos e macromoléculas dos capilares e vênulas para o tecido intersticial, o que favorece a reabsorção do edema e melhora a drenagem linfática.
- (C) Aumentar o retorno venoso profundo.
- (D) Diminui a microcirculação.

52. Em quadros clínicos típicos, o paciente encontra-se com palidez cutaneomucosa, sudorese fria e confuso. À monitorização observa-se diminuição da saturação o que impõe ofertar O₂ através de catéteres ou máscara. Hipotensão associada à taquicardia, taquipneia, diminuição do débito urinário, febre alta associada à infecção e rebaixamento do nível de consciência são os sintomas mais evidentes desse quadro clínico. O quadro clínico descrito é:

- (A) Choque hipovolêmico.
- (B) Choque anafilático.
- (C) Choque cardiogênico.
- (D) Choque séptico.

53. A insulina é um hormônio que tem a finalidade de reduzir o nível de glicose no sangue promove o aumento do transporte da glicose nos músculos e nas células. Existem vários tipos de insulina, as diferenças estão em sua origem e tempo de ação. Podemos afirmar que a Insulina Rápida:

- (A) É caracterizada por absorção lenta. Administrada por via subcutânea, não é indicada em situações de emergência, nem no tratamento inicial da cetoacidose. Pico de ação entre 8 e 12 horas.
- (B) Pode ser administrada por via subcutânea, endovenosa ou intramuscular, próximo às refeições. É indicada nos casos de cetoacidose diabética, principalmente nas administrações por via endovenosa e intramuscular. Pico de ação em 1 hora.
- (C) Pode ser administrada por via subcutânea, endovenosa ou intramuscular. É indicada nos casos de diabetes descompensada associada a situações de infecção, choque e trauma cirúrgico e cetoacidose. Pico de ação entre 2 e 4 horas.
- (D) Tem seu início de ação muito lento, podendo provocar hiperglicemia no período da manhã. Indicada para ser administrada em dose única diária, não sendo aconselhável dividir a dose. Não há pico de ação, pois sua liberação é praticamente contínua e com efeito prolongado.

54. Na atenção integral à saúde da mulher, a atenção pré-natal e puerperal deve ser organizada de forma a atender às reais necessidades das mulheres durante a gestação e o puerpério, mediante a utilização dos conhecimentos técnico-científicos existentes e dos meios e recursos disponíveis mais adequados para cada caso, num contexto de humanização da assistência. Cabe ao técnico de enfermagem, EXCETO:

- (A) Realizar ações educativas para as mulheres e suas famílias.
- (B) Solicitar exames de rotina e orienta tratamento conforme protocolo do serviço.
- (C) Verificar o peso, a altura e a pressão arterial e anota os dados no cartão da gestante.
- (D) Aplicar vacina antitetânica.

59. O planejamento familiar beneficia mães, recém-nascidos, famílias e comunidades. Muitas mulheres sexualmente ativas ou que estão considerando tornarem-se sexualmente ativas podem beneficiar-se de um aprendizado sobre contracepção. A equipe de enfermagem deve ajudar as clientes a fazer escolhas contraceptivas precisam ouvir, ter tempo para responder às perguntas e ensinar e ajudar as clientes a escolher o método preferido. É importante que as mulheres recebam informações imparciais e neutras, compreendam os benefícios e os riscos de cada método, aprendam sobre as alternativas e como utilizá-las e recebam um reforço positivo e aceitação de sua opção. São dispositivos de barreira mecânica, exceto:

- (A) Diafragma.
- (B) Capuz cervical.
- (C) Implante subdérmico.
- (D) Espermicida.

60. Segundo a RDC nº15, de março de 2012 e os conhecimentos sobre Central de Material Esterilizado – CME analise as assertivas abaixo:

- I - É obrigatória a identificação nas embalagens dos produtos para saúde submetidos à esterilização por meio de rótulos ou etiquetas.
- II - É proibido o uso de autoclave gravitacional de capacidade superior a 150 litros.
- III - O ciclo de esterilização a vapor para uso imediato só pode ocorrer em caso de urgência e emergência.
- IV - Os produtos esterilizados devem ser armazenados em local limpo e seco, podendo receber luz solar direta e serem submetidos à manipulação.
- V - O monitoramento do processo de esterilização com indicadores físicos deve ser registrado a cada ciclo de esterilização.

É correto o que se afirma em:

- (A) II e III apenas.
- (B) I, IV e V apenas.
- (C) III e IV apenas.
- (D) I, III e V apenas

EM BRANCO