

# CENTRO DE INTEGRAÇÃO EMPRESA-ESCOLA - CIEE

## PROCESSO SELETIVO PARA INGRESSO DE ESTUDANTES NO PROGRAMA DE ESTÁGIO REMUNERADO DO TJDFT/VII


Caderno de Questões

### ENSINO SUPERIOR – EXCETO PSICOLOGIA E SERVIÇO SOCIAL

Data: 26/07/2015 – Horário: A partir das 13H00 (HORÁRIO DE BRASÍLIA)

Número de questões: 30 (trinta)

#### LEIA ATENTAMENTE AS INSTRUÇÕES E AGUARDE AUTORIZAÇÃO PARA ABRIR ESTE CADERNO DE QUESTÕES

1. Verifique se este Caderno de Questões corresponde com o curso que você está matriculado, caso não seja, solicite a substituição para o fiscal da sala.
2. Não haverá substituição da Folha de Respostas, em caso de rasura a resposta será anulada. Preencher a folha pintando toda a bolinha, conforme exemplo: 
3. Cada candidato receberá um Caderno de Questões e uma Folha de Resposta com seu nome e CPF para transcrever as respostas da prova. Confira se os dados estão corretos.
4. A Folha de Resposta não será substituído em qualquer hipótese, devendo o candidato tomar o devido cuidado no seu manuseio e preenchimento.
5. Na correção da Folha de Resposta, será atribuída nota 0 (zero) às questões não assinaladas ou que contiverem mais de uma alternativa marcada ou emenda ou rasura, ainda que legível. Não deverá ser feita nenhuma marca fora do campo reservado às respostas, pois qualquer marca poderá ser lida pelas leitoras ópticas, prejudicando o desempenho do candidato.
6. O tempo previsto para aplicação das provas será de 1h30min, não havendo, por qualquer motivo, prorrogação em virtude de afastamento de candidato da sala.
7. Não será permitido ao estudante retirar-se do local de realização das provas levando o Caderno de Questões.
8. As provas serão realizadas sem consulta a qualquer material, não sendo permitida, durante sua realização, a comunicação entre os estudantes ou a utilização de aparelhos eletrônicos (BIP, telefone celular, *walkman*, agenda eletrônica, *palmtop*, *notebook*, receptor, máquina de calcular, máquina fotográfica, controle de alarme de carro, relógio do tipo *databank*, gravador, *pager*, etc.), livros, anotações, etc.
9. O Processo Seletivo será constituído de um etapa, a saber:  
\*Primeira etapa: prova objetiva, de caráter seletivo, eliminatório e classificatório;
10. Os gabaritos serão divulgados no sítio do CIEE no dia 27/07/2015.
11. Os recursos referentes às questões aplicadas nas provas e respectivas respostas corretas publicadas em gabarito provisório, só serão aceitos, das 08h00 às 17h00 (horário de Brasília) do dia 28/07/2015, através de Formulário específico( a ser obtido diretamente no sítio do CIEE) .
12. Se do exame dos recursos resultarem anulação de questão, a pontuação correspondente a essa questão será atribuída a todos os candidatos, independentemente de terem recorrido.
13. Somente será considerado aprovado o candidato que não obtiver nota zero em nenhuma das provas.
14. Os estudantes serão classificados em lista decrescente de pontos obtidos nas provas objetivas.
15. Não será fornecido ao estudante comprovante de classificação no processo seletivo, valendo, para esse fim, as listas de classificação divulgadas no sítio do CIEE na internet.
16. A aprovação na primeira fase do processo seletivo gera para o estudante apenas expectativa de ser convocado para preencher vaga de estágio.
17. O resultado será divulgado no dia 27/08/2015, para os estudantes de nível médio e nível superior, no sítio do CIEE na internet.
18. O processo seletivo terá validade de 12 meses, podendo ser prorrogado a critério do TJDFT/VII.
19. É de inteira responsabilidade do candidato, acompanhar a publicação de todos os atos, Editais e comunicados referentes a este processo seletivo, os quais serão afixados no sítio do Centro de Integração Empresa Escola – CIEE [www.ciee.org.br](http://www.ciee.org.br), devendo manter atualizados seus dados cadastrais junto a esta instituição.
20. A participação no processo seletivo implica na concordância com todas as normas e condições contidas no Edital de Seleção e respectivo Termo Aditivo.

**Boa Sorte!**

## LÍNGUA PORTUGUESA

1. De acordo com a norma-padrão da Língua Portuguesa e com relação à ocorrência de crase, assinale a alternativa correta.

- (A) Sempre vou ao trabalho à pé.
- (B) Preciso ter uma conversa com você cara à cara.
- (C) Vou à Bahia passar minhas férias.
- (D) Depois de doze horas de voo, enfim cheguei à Paris.

2. De acordo com a norma-padrão da Língua Portuguesa e com relação à ocorrência ou não de crase, assinale a alternativa correta.

- (A) A reunião começará, impreterivelmente, às duas horas.
- (B) Após os oitenta anos, meu avô passou à caminhar a passos lentos.
- (C) Meus pais chegaram a noite, após terem enfrentado um temporal no caminho para cá.
- (D) Dirijo-me à Vossa Excelência com o intuito de solicitar a sua colaboração.

3. De acordo com a norma-padrão da Língua Portuguesa e com relação à ortografia, assinale a alternativa correta.

- (A) Ontem, passei o dia fazendo fachina.
- (B) Após pôr o café da manhã na bandeja, servi meu filho.
- (C) Tenho o hábito de cantar no chuveiro.
- (D) Adoro dançar, mesmo que eu não tenha muito geito.

4. De acordo com a norma-padrão da Língua Portuguesa e com relação à ortografia, assinale a alternativa que contenha apenas palavras escritas com "x".

- (A) \_inelo/ beli\_e/ azevi\_e
- (B) ca\_ambu/ ca\_emira/ gra\_a
- (C) arro\_o/ borra\_a/ boli\_e
- (D) capu\_inho/ capri\_o/ bro\_e

5. De acordo com a norma-padrão da Língua Portuguesa e com relação à concordância verbal, assinale a alternativa correta.

- (A) Os músicos da orquestra tocou Bach a noite toda.
- (B) Os Estados Unidos é um país desenvolvido.
- (C) 15% dos alunos ficou de recuperação.
- (D) Fui eu quem paguei a conta.

6. De acordo com a norma-padrão da Língua Portuguesa e com relação à concordância verbal, assinale a alternativa correta.

- (A) Haviam muitas pessoas na festa.
- (B) Fazem quinze anos que casei.
- (C) Vossa Excelência é advogado?
- (D) Deu cinco horas quando eu saí do recinto.

7. De acordo com a norma-padrão da Língua Portuguesa e com relação à concordância nominal, assinale a alternativa correta.

- (A) O adorável Davi e Lucas deram uma linda festa de aniversário.
- (B) Água de coco é boa para a saúde.
- (C) João e Marcos saíram só.
- (D) É proibida a entrada de pessoas com traje de banho.

8. De acordo com a norma-padrão da Língua Portuguesa e com relação à concordância nominal, assinale a alternativa correta.

- (A) Segue anexo as documentações.
- (B) Márcia agradeceu a gentileza: – Muito obrigada!
- (C) Seguem inclusas a proposta das sócias.
- (D) Hoje, paguei a você na mesma moeda. Estamos quite.

9. De acordo com a norma-padrão da Língua Portuguesa e com relação à acentuação, assinale a alternativa correta.

- (A) Minha irmã é assessora do prefeito de Itú.
- (B) Achei minhas bijuterias dentro do baú.
- (C) Jorge viajou para Itamarajú.
- (D) Detesto comer peixe cru.

10. De acordo com a norma-padrão da Língua Portuguesa e com relação à acentuação, assinale a alternativa que apresenta as mesmas regras de acentuação das palavras abaixo.

Lapis/ joquei

- (A) juri/ tuneis
- (B) virus/ polen
- (C) ions/ orfã
- (D) biceps/ torax

## NOÇÕES DE INFORMÁTICA


11. Observe, abaixo, a planilha elaborada no Microsoft Excel 2010.

	A	B	C
1	<b>Controle de estoque</b>		
2			
3	<b>Cód. Peça</b>	<b>Quantidade</b>	<b>Controle</b>
4	R1	3	Encomendar
5	R2	19	OK
6	R3	45	OK
7	T1	1	Encomendar
8	T2	6	OK

Com essa planilha, precisa-se calcular se uma loja necessita fazer uma encomenda quando a coluna B chega a um número igual ou inferior a quatro peças.

Assinale a alternativa que apresenta a fórmula correta inserida na coluna C.

- (A) =SE(B4>=4; "Encomendar"; "OK")  
 (B) =SE(B4>=4; "OK"; "Encomendar")  
 (C) =CASO(B4>=4; "Encomendar"; "OK")  
 (D) =CASO(B4>=4; "OK"; "Encomendar")

12. Em uma célula, está digitado o número "3". Caso o usuário clique no botão , o resultado será

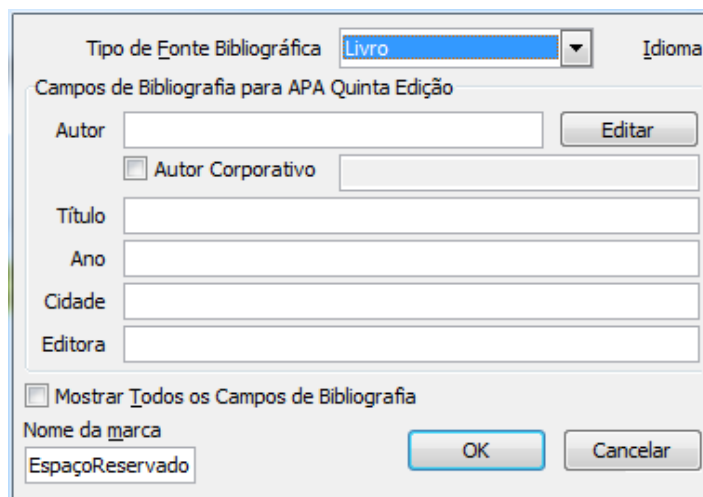
- (A) 0,3%.  
 (B) 3%.  
 (C) 30%.  
 (D) 300%.

13. Acerca dos atalhos de teclado da versão em Português (Brasil) do Microsoft Word 2010 (Coluna A) e suas respectivas funções (Coluna B), correlacione as colunas e, em seguida, assinale a alternativa que apresenta a sequência correta.




Coluna A	Coluna B
1. Ctrl + A	( ) Pincel de formatação.
2. Ctrl + P	( ) Imprimir.
3. Ctrl + Shift + C	( ) Abrir um novo arquivo.
4. Ctrl + Shift + U	( ) Aplicar estilos.

- (A) 2/ 3/ 1/ 4  
 (B) 3/ 2/ 1/ 4  
 (C) 2/ 3/ 4/ 1  
 (D) 4/ 3/ 2/ 1

14. Observe a figura abaixo.



Assinale a alternativa que "chama" a tela da figura no menu "referências" no Microsoft Word 2010.

- (A)  Inserir Citação ▾  
 (B)  Marcar Entrada  
 (C)  Marcar Citação  
 (D)  Sumário

15. Assinale a alternativa que apresenta um formato de vídeo **incompatível** com uma apresentação feita no Microsoft PowerPoint 2010.

- (A) AVI.  
 (B) MP4.  
 (C) H.265.  
 (D) ASF.

16. Assinale a alternativa que apresenta a sequência correta do procedimento de inserção de um vídeo em uma apresentação do Microsoft PowerPoint 2010.

- (A) Inserir > Mídia > Vídeo.  
 (B) Design > Vídeo > Inserir.  
 (C) Vídeo > Anexar > Slides.  
 (D) Fotografias > Animações > Vídeos.

17. Acerca das teclas de atalhos dos favoritos do menu do Google Chrome e suas respectivas funções, correlacione as colunas e, em seguida, assinale a alternativa que apresenta a sequência correta.

1. Ctrl+Shift+B	( )	Exibe barra de favoritos.
2. Ctrl+Shift+O	( )	Adiciona esta página aos favoritos.
3. Ctrl+D	( )	Gerenciador de Favorito.

- (A) 3/ 1/ 2  
(B) 1/ 3/ 2  
(C) 3/ 2/ 1  
(D) 1/ 2/ 3

18. Com relação à segurança dos sites, analise as assertivas abaixo.

- I. A sigla HTTP, disponibilizada no endereço de um site, possui segurança inferior aos sites que possuem a sigla HTTPS.  
II. Alguns sites mais seguros utilizam a sigla SHHTTP, que significa Super HTTP.  
III. O site da figura abaixo é considerado seguro devido ao ícone do cadeado exibido ao lado do link.



É correto o que se afirma em

- (A) I, apenas.  
(B) I e II, apenas.  
(C) I e III, apenas.  
(D) III, apenas.

19. Com relação ao armazenamento em nuvem, analise as assertivas abaixo.

- I. Google Drive é um espaço de armazenamento em nuvem no qual é possível guardar, acessar e compartilhar arquivos (vídeos, fotos, Google Docs, PDFs).  
II. O Google Drive não possui limite de armazenamento e é totalmente gratuito, podendo ser utilizado facilmente por qualquer usuário que possua uma conta Google.  
III. O Drive também, praticamente, acaba com os anexos de e-mail, o que torna muito mais fácil compartilhar arquivos. Um usuário pode mostrar a um amigo um vídeo das suas férias através de um link para o arquivo, em vez de anexá-lo a um e-mail.

É correto o que se afirma em

- (A) I, apenas.  
(B) I e II, apenas.  
(C) I e III, apenas.  
(D) III, apenas.

20. Com relação à inserção de imagens em provedores de e-mail, analise as assertivas abaixo.

- I. Quando uma figura é anexada em um e-mail, de qualquer provedor, a imagem é convertida para um formato automaticamente menor para facilitar a transmissão dos dados para a Internet.  
II. Todos os provedores limitam o número de cinco fotos enviadas em um e-mail.  
III. Um arquivo Bitmap do Windows pode ser anexado em qualquer provedor de e-mail.

É correto o que se afirma em

- (A) I, apenas.  
(B) I e II, apenas.  
(C) I e III, apenas.  
(D) III, apenas.

## CONHECIMENTOS GERAIS

21. O presente de Evo Morales ao papa Francisco – um peculiar crucifixo em madeira com Cristo sobre uma foice e um martelo – provocou polêmica e muitos religiosos consideraram a iniciativa uma “provocação”. Morales, no entanto, se defendeu e disse que o presente era uma criação de um jesuíta, Luis Espinal, assassinado em 1980 por paramilitares de direita, durante o golpe militar de Luis García Meza, atualmente preso por crimes contra os direitos humanos. É correto afirmar que Evo Morales é presidente do(a)

- (A) Chile.  
(B) Argentina.  
(C) Bolívia.  
(D) Peru.

22. Segundo notícia veiculada em julho de 2015, no portal do Correio Braziliense, um estudo *Mobile Phone Monthly Tracker*, realizado pela IDC, serviços de consultoria e conferências com as indústrias de Tecnologia da Informação e Telecomunicações, apontou que as vendas de celulares inteligentes registraram queda pela primeira vez no país: em abril, foram cerca de 4,86 milhões de aparelhos comercializados, 1% a menos do que no mesmo mês de 2014. É correto afirmar que esses celulares inteligentes são mais conhecidos como

- (A) *cellphones*.  
(B) *dialphones*.  
(C) *redialphones*.  
(D) *smartphones*.

23. Em julho de 2015, o engenheiro finlandês Matti Makkone morreu aos 63 anos. Antes da internet móvel, do WhatsApp, por exemplo, as pessoas utilizavam o serviço de mensagens curtas para se comunicar via texto pelos telefones. O que poucos sabem é que o criador dessa tecnologia foi Matti Makkonen. Assinale a alternativa que apresenta como é chamada essa tecnologia.

- (A) Orkut.
- (B) SMS.
- (C) 4G.
- (D) Tinder.

24. Este ator egípcio, famoso por estrelar filmes como “Lawrence da Arábia”, “Doutor Jivago” e “Funny girl – Uma garota genial”, morreu, no último dia 10 de julho, aos 83 anos. Assinale a alternativa que apresenta seu nome.

- (A) Bill Murray.
- (B) Omar Sharif.
- (C) Kevin Costner.
- (D) Morgan Freeman.

25. Leia o trecho abaixo, retirado de notícia veiculada em julho de 2015, no portal do Correio Braziliense, e, em seguida, assinale a alternativa que preenche corretamente a lacuna.

“Conhecido por causar câncer e doenças cardiovasculares, o(a) \_\_\_\_\_ também poderia aumentar o risco de transtornos psiquiátricos graves, como psicoses como a esquizofrenia – segundo um estudo publicado na revista *Lancet Psychiatry*. Uma ‘associação’ estatística entre o fumo e as psicoses, em especial a esquizofrenia, foi descoberta em estudos anteriores, lembram os investigadores europeus que assinam o trabalho.”

- (A) cigarro
- (B) maconha
- (C) crack
- (D) charuto

26. De acordo com notícia veiculada em julho de 2015, no portal do Correio Braziliense, muito produzida por humanos, a proteína reelin protege os neurônios contra os efeitos tóxicos dos fragmentos de beta-amiloídes, placas que se acumulam no cérebro, provocam a degeneração dessas células nervosas e desencadeiam esta doença, na qual, de início, o paciente começa a perder sua memória mais recente. Diante do exposto, assinale a alternativa que apresenta a que doença se refere a descrição.

- (A) Parkinson.
- (B) Câncer.
- (C) Acidente Vascular Cerebral.
- (D) Alzheimer.

27. Segundo notícia veiculada em julho de 2015, os Ministérios da Educação e da Saúde informaram que autorizaram a abertura de 2.290 vagas para alunos de medicina em instituições particulares de dez estados do país. Dez por cento das vagas devem ser concedidas com bolsas voltadas para estudantes de baixa renda. A medida faz parte do programa que contratou médicos estrangeiros

para exercer seu trabalho no Brasil. Assinale a alternativa que apresenta este programa.

- (A) Mais Médicos.
- (B) Bolsa Família.
- (C) Por Mais Saúde.
- (D) Mais Educação.

28. Segundo notícia veiculada em julho de 2015, no portal G1, a Polícia Federal e a Casa da Moeda apresentaram o novo modelo de passaporte comum brasileiro, que passa a ter o dobro do tempo de validade dos anteriores e itens de segurança mais avançados. O valor também mudou: de R\$157,05 para R\$257,25, um aumento de 64,8%. É correto afirmar que, com a mudança, o passaporte comum passa a ter validade de

- (A) 5 anos.
- (B) 20 anos.
- (C) 10 anos.
- (D) 40 anos.

29. Segundo notícia veiculada em julho de 2015, no portal G1, a Secretaria Estadual e o Ministério da Saúde apuram se o aumento de casos suspeitos desta doença, no Rio de Janeiro, foi causado por uma redução da eficácia da vacina ao longo do tempo. Trata-se de uma doença que consiste em uma infecção viral que afeta as glândulas parótidas, ou seja, um dos três pares de glândulas que produzem saliva. É correto afirmar que a doença a que se refere a descrição é a

- (A) dengue.
- (B) varíola.
- (C) catapora.
- (D) caxumba.

30. De acordo com notícia veiculada em julho de 2015, no portal G1 de notícias, as abelhas não estão se adaptando bem às mudanças climáticas. Em vez de migrarem para o norte para buscarem temperaturas mais clementes, esses insetos cruciais para a polinização estão morrendo, de acordo com pesquisa publicada na revista *Science*. Tal fato está ocorrendo devido ao aquecimento global, o qual provoca o(a)

- (A) diminuição das temperaturas médias.
- (B) redução da poluição atmosférica.
- (C) aumento das temperaturas médias.
- (D) aumento das calotas polares.