

CADERNO DE PROVA

CARGO: FISCAL DE OBRAS E POSTURAS

Leia as instruções antes de iniciar a prova.

1. O candidato receberá:

1.1 Um caderno de Provas contendo 35 (trinta e cinco) questões objetivas de múltipla escolha, com 04 (quatro) alternativas para responder as opções A, B, C, e D, sendo que apenas uma 01 (uma) deverá ser assinalada como **correta**.

1.2 Um cartão de respostas personalizado para a Prova Objetiva.

1.3 É responsabilidade do candidato, certificar-se que os dados informados nos materiais recebidos estão corretos. *Após ser autorizado o início da prova, verifique no caderno de prova se a numeração das questões e a paginação estão corretas.*

2. Regras gerais:

2.1 O candidato está autorizado a usar caneta **esferográfica preta** fabricada em material transparente. O descumprimento desta regra será de responsabilidade exclusiva do candidato que poderá ser eliminado do certame, caso não seja possível a leitura ótica do cartão resposta.

2.2 O candidato dispõe de 3 (Três) horas para realizar a Prova Objetiva, e não poderá entregar a prova e sair do prédio antes de decorrido o tempo mínimo de 1 (uma) hora do início. Após este prazo o candidato poderá entregar o material de prova e sair do prédio, sem o caderno de provas.

2.3 O candidato poderá levar consigo o caderno de provas quando estiver faltando 30 (trinta) minutos para o término da prova.

2.4 Durante a prova o candidato não deverá levantar-se ou comunicar-se com outros candidatos.

2.5 Ao final das provas o candidato deverá entregar: o caderno de prova, o cartão-resposta, texto definitivo (prova de redação) e caso não tenha assinado a lista de presença deverá assiná-la.

2.6 Os 3 (três) últimos candidatos de cada sala só poderão ser liberados juntos.

3. Preenchimento do cartão- resposta:

3.1 O candidato deverá assinalar no **CARTÃO-RESPOSTA** uma única alternativa que julgar correta e **sem rasuras**. O preenchimento do cartão deverá obedecer às instruções nele contidas. Observe atentamente o número da questão antes de marcar, pois não haverá substituição do **CARTÃO-RESPOSTA**.

3.2 Não é permitida a consulta aos apontamentos, livros, dicionários e uso de aparelhos eletrônicos.

3.3 Será considerada nula a questão que tiver mais de uma alternativa assinalada, com rasuras ou que esteja em branco ou em desacordo com as instruções de preenchimento informadas no cartão resposta.

4. Informações finais:

4.1 O gabarito das provas objetivas será divulgado no primeiro dia útil subsequente a aplicação da prova nos sites www.itame.com.br e www.edeia.go.gov.br

4.2 Os Recursos contra itens do gabarito preliminar poderão ser interpostos na forma do Edital Regulamento.

4.3 Qualquer informação sobre o concurso será fornecida pela Prefeitura Municipal, através da Comissão Especial do Concurso Público, ou pela Banca Examinadora.

REALIZAÇÃO:



Texto para as questões 01 a 04

Construção

Chico Buarque

Amou daquela vez como se fosse a última
Beijou sua mulher como se fosse a última
E cada filho seu como se fosse o único
E atravessou a rua com seu passo tímido

Subiu a construção como se fosse máquina
Ergueu no patamar quatro paredes sólidas
Tijolo com tijolo num desenho mágico
Seus olhos embotados de cimento e lágrima

Sentou pra descansar como se fosse sábado
Comeu feijão com arroz como se fosse um príncipe
Bebeu e soluçou como se fosse um náufrago
Dançou e gargalhou como se ouvisse música

E tropeçou no céu como se fosse um bêbado
E flutuou no ar como se fosse um pássaro
E se acabou no chão feito um pacote flácido
Agonizou no meio do passeio público
Morreu na contramão, atrapalhando o tráfego

Amou daquela vez como se fosse o último
Beijou sua mulher como se fosse a única
E cada filho seu como se fosse o pródigo
E atravessou a rua com seu passo bêbado
Subiu a construção como se fosse sólido
Ergueu no patamar quatro paredes mágicas
Tijolo com tijolo num desenho lógico
Seus olhos embotados de cimento e tráfego

(trecho da música Construção de Chico Buarque, 1971)

01) De acordo com a interpretação dessa parte do poema acima, o autor quis dizer que:

- (A) O eu-lírico representa um personagem que não se enxerga como pertencente a uma classe social que tem uma trajetória histórica. Enxerga tão somente o presente.
- (B) A maioria dos pedreiros das grandes construções são bêbados.
- (C) As construções são depósitos de seres humanos com problemas pessoais.
- (D) Grande parte dos trabalhadores das construções estão depressivos.

02) Os verbos: amou, beijou, sentou... como a maioria dos outros, no poema, estão conjugados no tempo:

- (A) pretérito mais que perfeito do indicativo;

- (B) presente do subjuntivo;
- (C) futuro do pretérito do indicativo;
- (D) pretérito perfeito do indicativo.

03) Nos versos cuja formação o poeta se utiliza da expressão: "...como se fosse..." a figura de linguagem utilizada é:

- (A) prosopopeia
- (B) onomatopeia
- (C) comparação
- (D) metáfora

04) As palavras: *pródigo*, *feijão*, *príncipe*, podem ser corretamente classificadas quanto à acentuação gráfica como:

- (A) oxítona, proparoxítona, oxítona;
- (B) proparoxítona, oxítona, proparoxítona;
- (C) paroxítona, oxítona, paroxítona;
- (D) proparoxítona, oxítona, paroxítona.

Texto para as questões 05 e 06

O bicho alfabeto

O bicho alfabeto
Tem vinte e três patas
Ou quase

Por onde ele passa
Nascem palavras
E frases

Com frases
Se fazem asas
Palavras
O vento leve

O bicho alfabeto
Passa
Fica o que não
Se escreve.

Paulo Leminski. In: *La vie em close*. 5ª ed. São Paulo: Brasiliense, 1994.

05) A ideia central desse poema encontra-se resumida na alternativa:

- (A) processo e sentido da escrita associados aos atos de semear e de soltar a imaginação.
- (B) a linguagem está cada vez mais leve e solta, por isso é fácil o processo da escrita.
- (C) usar as letras formando palavras e frases é um processo que denota estudo, preparação e correção.

(D) o alfabeto é simples, por isso qualquer indivíduo é capaz de usar a criatividade para construir poemas.

Nos versos:

“O bicho alfabeto
tem vinte e três patas
ou quase”

06) O sujeito da oração está corretamente identificado e classificado na alternativa:

- (A) “vinte e três” – sujeito composto
- (B) “O bicho alfabeto” – sujeito simples
- (C) “tem” – sujeito indeterminado
- (D) “ou quase” – sujeito oculto

07) Na oração “Dizem que os cariocas somos pouco dados aos jardins públicos”, de **Machado de Assis**, assinale a figura predominante:

- (A) Metonímia
- (B) Eufemismo
- (C) Ironia
- (D) Silepse de pessoa

08) Identifique a alternativa onde ocorre erro de regência verbal:

- (A) Esse filme? Assisti ele.
- (B) Prefiro estudar a trabalhar.
- (C) Simpatizei com aquela pessoa.
- (D) O aluno se esqueceu do caderno.

09) Julgue os itens a seguir e assinale a alternativa que NÃO está de acordo com a concordância nominal e verbal.

- (A) Eu não sou mais um na multidão capitalista.
- (B) Em todas as circunstâncias sou eu quem toma as decisões.
- (C) Encontramos caídas as roupas e os prendedores, provavelmente foi o vento.
- (D) O acordo não substitui as reivindicação, a não ser que desistamo dos direitos e da luta.

10) Julgue os itens a seguir quanto ao emprego da crase.

- 1- Os passageiros partirão às dezenove horas. (indicador de horas +locução adverbial).
- 2- Ele estava à cantar quando seu pai apareceu repentinamente. (Verbo no infinitivo)
- 3- As informações foram solicitadas à diretora. (Preposição + artigo).
- 4- Entregamos a encomenda àquela menina. (preposição + pronome demonstrativo).

A alternativa que apresenta a sequência correta é:

- (A) 1, 2, 3 estão corretos.

(B) 2, 3, 4 estão corretos.

(C) 1, 3, 4 estão corretos.

(D) 2, 1, 4. Estão corretos.

11) Com quatro palitos de tamanhos iguais forma-se um quadrado de área **A** e perímetro **P**. Sabendo que $A \cdot P = -4$, então cada palito mede:

- (A) 2
- (B) 4
- (C) 6
- (D) 8

12) Sabe-se que a carga máxima que pode ser transportada por um caminhão é igual à 50 sacos de cimento ou 75 sacos de argamassa. Se neste caminhão, já foram colocados 32 sacos de cimento, para atingir a carga máxima do caminhão, ainda podem ser colocados quantos sacos de argamassa?

- (A) 25
- (B) 26
- (C) 27
- (D) 28

13) Um quadro foi vendido por R\$ 880,00, dado que o lucro obtido na venda foi de 25% sobre o valor de custo, então podemos afirmar que o valor de custo do quadro foi igual à:

- (A) R\$ 604,10
- (B) R\$ 704,00
- (C) R\$ 804,20
- (D) R\$ 904,00

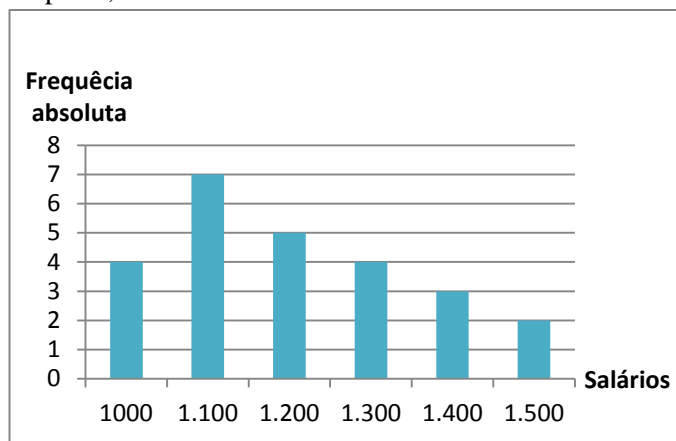
14) No alto de uma torre de transmissão de rádio, duas luzes “pisçam” com frequências diferentes. A primeira luz pisca 12 vezes por minuto e a segunda pisca 16 vezes por minuto. Se em um dado momento as duas luzes piscam simultaneamente, então, elas voltarão a piscar simultaneamente após:

- (A) 0,8 horas
- (B) 1 minuto
- (C) 10 horas
- (D) 14 segundos

15) Usando seis dos algarismos 1, 2, 3, 4, 5, 6 e 7 sem repeti-los, a quantidade de números pares que podem ser formados é igual à:

- (A) 840
- (B) 960
- (C) 2160
- (D) 2520


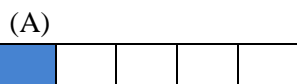
16) O gráfico a seguir apresenta a frequência absoluta dos salários dos funcionários de uma empresa, observe:



Com base nos dados do gráfico podemos afirmar que a média aritmética salarial dos trabalhadores que recebem abaixo de R\$ 1.300,00 é igual à:

- (A) R\$ 1100,70
- (B) R\$ 1101,55
- (C) R\$ 1105,70
- (D) R\$ 1106,25

17) A geratriz da dízima periódica $0,8\bar{3}$ pode ser representada geometricamente como:



18) A quantidade de múltiplos de 4 que existem entre 100 e 1000 é igual à:

- (A) 200
- (B) 224
- (C) 244
- (D) 264

19) Três rolos de fio medindo respectivamente 40 m, 50 m e 170 m, foram cortados em pedaços iguais e com maior tamanho possível, sem deixar sobras. Nessas condições o número de pedaços obtidos e o tamanho de cada um deles serão, respectivamente, iguais à:

- (A) 20 pedaços com 10 metros
- (B) 22 pedaços com 12 metros
- (C) 26 pedaços com 10 metros
- (D) 10 pedaços com 26 metros

20) Um menino de 1,50 m de altura observa em um dia ensolarado, a sombra de uma árvore e a sua própria sombra. Não dispondo de fita métrica ou de trena, ele toma uma corda, mede sua sombra e a compara com a da árvore, verificando esta ser 12 vezes maior que a sua. Nessas condições a altura da árvore é igual à:

- (A) 18 m
- (B) 20 m
- (C) 22 m
- (D) 24 m

21) Uma atividade requerida na execução de uma obra, é a medição dos serviços executados com vistas à emissão de faturas e ao pagamento correspondente. Acerca da medição e emissão de faturas, assinale a opção correta:

- (A) Somente poderão ser considerados para efeito de medição e pagamento os serviços e obras efetivamente executados pela Contratada e aprovados pela Fiscalização, respeitada a rigorosa correspondência com o projeto e suas modificações expressa e previamente aprovadas pelo Contratante;
- (B) A medição de serviços e obras será baseada em relatórios periódicos elaborados pela Contratada, registrando os levantamentos, cálculos e gráficos necessários à discriminação e determinação das quantidades dos serviços efetivamente executados;
- (C) A discriminação e quantificação dos serviços e obras considerados na medição deverão respeitar rigorosamente as planilhas de orçamento anexas ao contrato, inclusive critérios de medição e pagamento;
- (D) É de competência do serviço de fiscalização e medição de obras a elaboração, durante a obra, dos projetos “as built” (como construído), que devem retratar, de forma exata, como foi construído o objeto contratado.

22) O emprego de uma “escala” na representação gráfica de um projeto arquitetônico permite relacionar cada medida do desenho à dimensão real correspondente do objeto arquitetônico representado, esta regra é normatizada pela NBR 8196. Em relação ao que dispõe a norma, podemos afirmar:

- (A) 20:1 e 5:1 são escalas de redução;
- (B) a escala real ou de verdadeira grandeza é representada pela fração 1:1, tendo em vista o sistema decimal;
- (C) quando uma rua de 12 metros de largura é desenhada com 6 milímetros de largura, a escala de desenho adotada é 1:2000;
- (D) Quando a medida do desenho é igual a 60 cm e a medida real é igual a 30 cm, a escala adotada é 1:2.

23) A NBR 9050: 2015, define os critérios e parâmetros técnicos que devem ser observados nos projetos, construções, instalações e adaptações do meio urbano, rural e de edificações para as condições de acessibilidade. Em relação aos acessos e à circulação das edificações, as rampas devem ter

(A) inclinação entre 6,25% e 8,33% e devem ser previstas áreas de descanso nos patamares, a cada 10 m do percurso;

(B) inclinação transversal não excedente a 7% em rampas internas e 10% em rampas externas;

(C) largura livre mínima recomendável de 1,00 metro sendo o mínimo admissível de 0,80 metros para as rampas em rotas acessíveis;

(D) guias de balizamento com altura mínima de 0,05 metros, quando não houver paredes laterais instaladas ou construídas nos limites da largura da rampa, e na projeção dos guarda-corpos.

24) As infrações à higiene pública e às normas sanitárias e epidemiológicas, estão definidas no capítulo III do Código de Posturas do Município de Edéia, a respeito dessas infrações é correto afirmar que

(A) as infrações sanitárias devem ser obrigatoriamente punidas isoladamente.

(B) uma das penalidades impostas à infração cometida à higiene pública e às normas sanitárias e epidemiológicas é a inutilização do produto.

(C) as infrações sanitárias devem ser sempre punidas cumulativamente com outras penalidades.

(D) o resultado da infração sanitária será imputável a quem lhe deu causa e inimputável a quem a ela concorreu.

25) São infrações sanitárias punidas apenas com advertência ou multa, segundo o Código de Posturas do Município de Edéia.

(A) Construir, instalar ou fazer funcionar, em qualquer parte do território do Município, estabelecimentos submetidos ao regime desta lei, sem licença do órgão sanitário competente ou contrariando as normas legais e regulamentares pertinentes.

(B) Praticar os atos de comércio e indústria ou assemelhados, compreendendo substâncias, produtos e artigos de interesse da saúde pública individual ou coletiva, sem a necessária licença ou autorização do órgão competente ou contrariando o disposto nesta lei e nas demais normas legais regulamentares pertinentes.

(C) Impedir ou dificultar a aplicação das medidas sanitárias e epidemiológicas relativas a doenças

transmissíveis e ao sacrifício de animais domésticos considerados nocivos pelas autoridades sanitárias

(D) Obstar a ação das autoridades sanitárias e epidemiológicas competentes no exercício regular de suas funções.

26) O Uso de Equipamento de Proteção Individual - EPI, é um fator importante para a proteção de riscos e segurança individual do trabalhador. De acordo com a NR nº 06 (NR-06) do Ministério do Trabalho que regulamenta o uso de tais equipamentos é correto afirmar que

(A) o equipamento de proteção individual, de fabricação nacional ou importado, só poderá ser posto à venda ou utilizado com a indicação do Certificado de Aprovação - CA, expedido pelo órgão nacional competente em matéria de segurança e saúde no trabalho do Ministério do Trabalho e Emprego;

(B) os capacetes de segurança são protetores do crânio, e seu uso é exigido somente nos trabalhos sujeitos a impactos provenientes de quedas e projeção de objetos;

(C) Não é obrigação da empresa o fornecimento de EPI gratuitamente, quando houver necessidade de uso, os equipamentos serão fornecidos e a empresa poderá reter do empregado o equivalente a 50% do custo do equipamento.

(D) O empregador deve responsabilizar-se pela conservação do EPI.

27) De acordo com o Código de Posturas de Edéia, aquele que:

“desrespeitar interdições de uso, de passagens e outras estabelecidas administrativamente para a proteção da saúde pública ou, nesses casos, impedir ou dificultar a atuação de agente do poder público.” Estará sujeito ao pagamento de multa correspondente ao valor de

(A) 100 a 1.000 UFIM.

(B) 1.000 a 10.000 UFIM.

(C) 1.000 a 50.000 UFIM.

(D) 10.000 a 100.000 UFIM.

28) Improbidade Administrativa é o ato ilegal ou contrário aos princípios básicos da Administração Pública. O § 7º do artigo 89 da Lei Orgânica do Município de Edéia, estabelece que os atos de improbidade administrativa serão objeto das seguintes sanções.

(I) Perda da função pública.

(II) Suspensão dos direitos políticos.

(III) Indisponibilidade dos bens e o ressarcimento ao erário.

(IV) Prisão domiciliar.

- (A) Apenas as afirmativas I e II estão corretas.
- (B) Apenas as afirmativas II, III e IV estão corretas.
- (C) Apenas as afirmativas III e IV estão corretas.
- (D) Apenas as afirmativas I, II e III estão corretas.

29) De acordo com o Estatuto dos Servidores Públicos de Edéia, a posse ocorrerá no prazo de 30 (trinta) dias contados da data de publicação do ato de provimento, podendo ser prorrogável por mais

- (A) 90 dias
- (B) 60 dias
- (C) 30 dias
- (D) 15 dias

30) Acerca do estágio probatório previsto pelo Estatuto dos Servidores Públicos de Edéia, assinale a única afirmativa incorreta

- (A) O servidor em estágio probatório que for nomeado para outro cargo por aproveitamento em concurso público, terá seu estágio concluído no novo cargo, exceto se o novo cargo for legalmente acumulável.
- (B) Durante o estágio probatório será observado o desempenho do servidor, quanto a idoneidade moral, aptidão, pontualidade, assiduidade, disciplina, responsabilidade, eficiência, produtividade e iniciativa.
- (C) Compete ao chefe imediato o acompanhamento do servidor em estágio probatório.
- (D) Durante o período de cumprimento do estágio probatório o servidor poderá solicitar afastamento do cargo pelo prazo improrrogável de 30 dias.

31) Ao pressionar as teclas CTRL + B no Microsoft Word 2010, o que ocorre?

- (A) Salva o documento.
- (B) Copia parte do texto.
- (C) Negrita o texto selecionado.
- (D) Altera background.

32) Em relação a arquivos e pastas no sistema operacional Windows é correto afirmar:

- (A) a extensão da Pasta no Windows é .EXE;
- (B) arquivos com extensão .xlsx são próprio do Power Point;
- (C) a estrutura de uma Pasta pode ser composta com Pastas e Subpastas;
- (D) arquivos com extensão .docx podem ser abertos pelo software PAINT.

33) Localizada na Mesorregião do Sul Goiano, Edéia se insere na microrregião

- (A) Meia Ponte
- (B) Sul de Goiás

- (C) Sudoeste de Goiás
- (D) Vale do Rio dos Bois

34) Observe a imagem e analise as afirmativas.



Disponível em: https://www.revistaplaneta.com.br/wp-content/uploads/sites/3/2017/11/5_pl536_cerrado1.jpg. Acesso em: 29 dez. 2019.

I. A vegetação, em sua maior parte, é semelhante à de savana, com gramíneas, arbustos e árvores esparsas.

II. As árvores têm caules retorcidos e raízes longas, que permitem a absorção da água

III. Durante a estação de seca quase todas as plantas perdem as folhas para diminuir a transpiração e evitar a perda de água armazenada.

Pode-se associar à vegetação revelada pela imagem, apenas a(s) afirmativa(s)

- (A) III
- (B) I e II
- (C) I e III
- (D) II e III

35) Os franceses viveram, neste sábado 28 de dezembro de 2019, um novo fim de semana complicado nos transportes, no 24º dia de greve.

O movimento grevista se opõe ao projeto

- (A) de políticas afirmativas para imigrantes.
- (B) de estatização de cooperativas financeiras.
- (C) de sistema de aposentadoria universal por pontos.
- (D) que propõe a retirada da França da União Europeia.