



SISTEMA  
**ACAFE**

# Vestibular de VERÃO 2019

Edital N. 02/2018/ACAFE

18/11/2018

## Instruções

1. Confira se o nome impresso no Cartão Resposta corresponde ao seu, e se as demais informações estão corretas. Caso haja qualquer irregularidade, comunique imediatamente ao fiscal. Assine no local indicado.
2. Verifique se o número de inscrição constante da Folha de Redação está correto. Em caso de divergência, notifique imediatamente o fiscal.
3. A prova é composta por 01 (uma) redação e 35 (trinta e cinco) questões objetivas, de múltipla escolha, com 04 (quatro) alternativas de resposta - A, B, C, D - das quais, somente 01 (uma) deverá ser assinalada como correta. Confira a impressão e o número das páginas do Caderno de Questões. Caso necessário solicite um novo caderno.
4. As questões deverão ser resolvidas no caderno de prova e transcritas para o Cartão Resposta utilizando caneta esferográfica, tubo transparente, com tinta indelével, de cor preta.
5. Não serão prestados quaisquer esclarecimentos sobre as questões das provas durante a sua realização. O candidato poderá, se for o caso, interpor recurso no prazo definido pelo Edital.
6. O texto produzido deverá ser transcrito na íntegra para a Folha de Redação Personalizada com caneta esferográfica, tubo transparente, com tinta indelével, de cor preta.
7. O Cartão Resposta e a Folha de Redação não serão substituídos em caso de marcação errada, rasura ou destaque inadequado.
8. Não será permitido ao candidato manter em seu poder qualquer tipo de equipamento eletrônico ou de comunicação, mesmo que desligado devendo ser colocados **OBRIGATORIAMENTE** no saco plástico. Caso essa exigência seja descumprida, o candidato será excluído do concurso.
9. Todo material deve ser acomodado em local a ser indicado pelos fiscais de sala de prova.
10. Também não será permitida qualquer tipo de consulta (livros, revistas, apostilas, resumos, dicionários, cadernos, anotações, réguas de cálculo, etc.), ou uso de óculos escuros, protetor auricular ou quaisquer acessórios de chapelaria (chapéu, boné, gorro, lenço ou similares), ou o porte de qualquer arma. O não cumprimento dessas exigências implicará na eliminação do candidato.
11. Somente será permitida a sua retirada da sala após duas horas do início da prova que terá, no máximo, três horas de duração. Os três últimos candidatos deverão permanecer em sala até que todos conclua a prova e possam sair juntos.
12. O tempo de resolução das questões, incluindo o tempo de transcrição para o Cartão Resposta e Folha de Redação Personalizados é de três horas.
13. Ao concluir a prova, permaneça em seu lugar e comunique ao fiscal de sala.
14. Aguarde autorização para entregar o Caderno de Questões, o Cartão Resposta e Folha de Redação.

Diante de qualquer dúvida você deve comunicar-se com o fiscal de sala.

**DURAÇÃO DA PROVA: 3 horas**

exceto  
MEDICINA

**OUTROS CURSOS**

TABELA PERIÓDICA

TABELA PERIÓDICA

1A																	0						
1 H 1,008																	2 He 4,003						
2A																	3A	4A	5A	6A	7A	8	
3 Li 6,941	4 Be 9,012																	5 B 10,811	6 C 12,011	7 N 14,007	8 O 15,999	9 F 18,998	10 Ne 20,180
11	12																	13	14	15	16	17	18
Na 22,990	Mg 24,305																	Al 26,982	Si 28,086	P 30,974	S 32,066	Cl 35,453	Ar 39,948
19	20	21	22	23	24	25	26	27	28	29	30	31	32	33	34	35	36						
K 39,098	Ca 40,078	Sc 44,956	Ti 47,867	V 50,942	Cr 51,996	Mn 54,938	Fe 55,847	Co 58,933	Ni 58,693	Cu 63,546	Zn 65,39	Ga 69,723	Ge 72,59	As 74,922	Se 78,96	Br 79,904	Kr 83,80						
37	38	39	40	41	42	43	44	45	46	47	48	49	50	51	52	53	54						
Rb 85,468	Sr 87,62	Y 88,906	Zr 91,224	Nb 92,906	Mo 95,94	Tc (98)	Ru 101,07	Rh 102,91	Pd 106,42	Ag 107,87	Cd 112,41	In 114,82	Sn 118,71	Sb 121,76	Te 127,60	I 126,90	Xe 131,29						
55	56	57-71	72	73	74	75	76	77	78	79	80	81	82	83	84	85	86						
Cs 132,91	Ba 137,33	La-Lu 178,49	Hf 178,49	Ta 180,95	W 183,85	Re 186,21	Os 190,23	Ir 192,22	Pt 195,08	Au 196,97	Hg 200,59	Tl 204,38	Pb 207,2	Bi 208,98	Po (209)	At (210)	Rn (222)						
87	88	89-103	104	105	106	107	108	109	110	111	112	113	114	115	116	117	118						
Fr (223)	Ra 226,03	Ac-Lr (261)	Rf (262)	Db (263)	Sg (262)	Bh (265)	Hs (265)	Mt (265)															

57	58	59	60	61	62	63	64	65	66	67	68	69	70	71
La 138,91	Ce 140,12	Pr 140,91	Nd 144,24	Pm (145)	Sn 150,36	Eu 151,96	Gd 157,25	Tb 158,93	Dy 162,50	Ho 164,93	Er 167,26	Tm 168,93	Yb 173,04	Lu 174,97
89	90	91	92	93	94	95	96	97	98	99	100	101	102	103
Ac 227,03	Th 232,04	Pa 231,04	U 238,03	Np 237,05	Pu (244)	Am (243)	Cm (247)	Bk (247)	Cf (251)	Es (252)	Fm (257)	Md (258)	No (259)	Lr (262)

Rf, rutherfordóio, do nome E. R. Rutherford, físico e químico da Nova Zelândia. Db, dúbnio, do nome Dubna, local do Instituto Nuclear em Dubna, Rússia onde foi sintetizado este elemento. Sg, seabórgio, do nome Glenn T. Seaborg, químico nuclear americano. Bh, bório, do nome Niels Bohr, físico dinamarquês. Hs, hássio, do nome em latim Hassias, que significa Hess (um estado da Alemanha). Mt, meitnério, do nome Lise Meitner, física austríaca.

FORMULÁRIO DE FÍSICA

$x = x_0 + v_0 t + \frac{1}{2} a t^2$	$v^2 = v_0^2 + 2 a \Delta x$
$f_{at} = \mu N$	$E_p = mgh$
$T = \Delta E_C = \Delta E_p$	$\vec{q} = m \cdot \vec{v}$
$\rho = \frac{m}{V}$	$p = p_0 + \rho gh$
$E = \rho Vg$	$V = R i$
$F = q \cdot v \cdot B \cdot \text{sen}\theta$	$\epsilon = \frac{\Delta\phi}{\Delta t}$
$v = v_0 + at$	$\vec{F} = m \cdot \vec{a} \Rightarrow \vec{P} = m \cdot \vec{g}$
$T = F d \cos\theta$	$E_C = \frac{1}{2} m \cdot v^2$
$P = \frac{\Delta T}{\Delta t}$	$\vec{I} = \vec{F} \cdot \Delta t = \Delta q$
$p = \frac{F}{A}$	$\Delta Q = mc \cdot \Delta t$
$i = \frac{\Delta q}{\Delta t}$	$P = V i$
$F = i \cdot \ell \cdot B \cdot \text{sen}\theta$	$\phi = B \cdot A \cdot \cos\theta$
$F = k_0 \frac{q_1 \times q_2}{d^2}$	$f = \frac{v}{\lambda}$
$v = \frac{2\pi R}{T} \rightarrow T = \frac{2\pi R}{v}$	$F_c = \frac{mv^2}{R}$
$Q = mL$	$E = \frac{KQ}{d^2}$
$M = F \cdot d \cdot \text{sen}\theta$	$v = \frac{KQ}{d}$

## QUÍMICA

**20)** Considere as seguintes espécies químicas: cloropentano, pentanol, pentan-1,5-diol e pentano. Baseado nas informações fornecidas e nos conceitos químicos, assinale a alternativa **correta** que contém a ordem decrescente de solubilidade em água:

**A**  $\Rightarrow$  pentano > cloropentano > pentanol > pentan-1,5-diol

B ⇒ pentan-1,5-diol < pentanol < cloropentano < pentano

C ⇒ pentano < cloropentano < pentanol < pentan-1,5-diol

D ⇒ pentan-1,5-diol > pentanol > cloropentano > pentano

**Alternativa correta:**

pentano: hidrocarboneto e apolar

cloropentano: hidrocarboneto com cloro conferindo maior polaridade

pentanol: 1 grupo (-OH) que faz ligação de hidrogênio

pentan-1,5-diol: 2 grupos (-OH) que faz um maior número de ligações de hidrogênio

Logo: pentan-1,5-diol > pentanol > cloropentano > pentano

21) Considere o trecho retirado de um artigo da revista Veja publicada no dia 13/05/2016 relatando que o excesso de ácido fólico na gravidez pode dobrar o risco de autismo na criança “[...] Excesso de ácido fólico na gestação pode aumentar em até duas vezes o risco de autismo na criança. A conclusão é de um estudo realizado por pesquisadores da Universidade Johns Hopkins, nos Estados Unidos, apresentado nesta sexta-feira durante o Encontro Internacional para Pesquisa sobre Autismo de 2016, em Baltimore. [...]”.

Sob condições apropriadas, uma solução aquosa de ácido fólico apresenta  $[H^+] = 4,5 \times 10^{-5}$  mol/L (sob temperatura de 25 °C). Assinale a alternativa **correta** que contém o valor do pH dessa solução.

Dados:  $\log 2 = 0,30$ ;  $\log 3 = 0,48$ .

A ⇒ 4,50

B ⇒ 4,64

C ⇒ 5,66

D ⇒ 4,34

**Alternativa correta:**

$pH = -\log[H^+]$

$pH = -(\log 4,5 \times 10^{-5})$

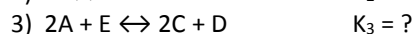
$pH = -(\log(9/2) + \log 10^{-5})$

$pH = -((2 \cdot \log 3 - \log 2) + \log 10^{-5})$

$pH = -((0,96 - 0,30) + (-5))$

$pH = 4,34$

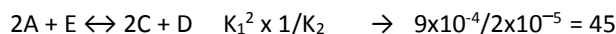
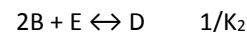
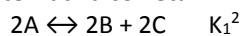
22) Considere os equilíbrios químicos genéricos a seguir e suas respectivas constantes, sob temperatura de 25 °C:



Baseado nos conceitos químicos e nas informações fornecidas, assinale a alternativa **correta** que contém o valor da constante  $K_3$ :

A ⇒ 45

**Alternativa correta:**



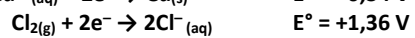
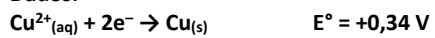
B ⇒ 3000

C ⇒  $6 \cdot 10^{-7}$

D ⇒ 1500

23) Sob condições apropriadas a eletrólise de uma solução aquosa de  $CuCl_2$  produz  $Cu_{(s)}$  e  $Cl_{2(g)}$ . Assinale a alternativa que contém a força eletromotriz (f.e.m.) externa mínima para que esse processo ocorra sob condições padrão.

Dados:

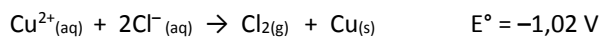
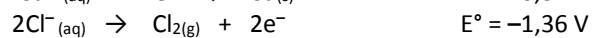
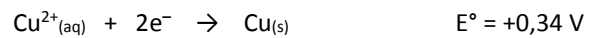


$$\text{A} \Rightarrow -1,02 \text{ V}$$

$$\text{B} \Rightarrow +1,7 \text{ V}$$

$$\text{C} \Rightarrow +1,02 \text{ V}$$

**Alternativa correta:**



Logo a f.e.m. externa deve ser de, no mínimo, +1,02 V para forçar a ocorrência da eletrólise.

$$\text{D} \Rightarrow -1,7 \text{ V}$$