



PREFEITURA MUNICIPAL DE VACARIA
ESTADO DO RIO GRANDE DO SUL
CONCURSO PÚBLICO Nº 01/2016

TÉCNICO EM CONTABILIDADE

Instruções

Leia atentamente e cumpra rigorosamente as instruções que seguem, pois elas são parte integrante das provas e das normas que regem esse Concurso ou Processo Seletivo.

1. Atente-se aos avisos contidos no quadro da sala.
2. Seus pertences deverão ser armazenados dentro do saco plástico fornecido pelo fiscal. Somente devem permanecer em posse do candidato caneta esferográfica de material transparente de tinta azul ou preta de ponta grossa, documento de identidade, lanche e água, se houver. A utilização de qualquer material não permitido em edital é expressamente proibida, acarretando a imediata exclusão do candidato.
3. Verifique se o cargo constante na capa deste caderno é aquele para o qual realizou a inscrição.
4. Cada questão oferece 5 (cinco) alternativas de respostas, representadas pelas letras A, B, C, D e E, sendo apenas 1 (uma) a resposta correta.
5. Será respeitado o tempo para realização da prova conforme previsto em edital, incluindo o preenchimento da grade de respostas.
6. Os dois últimos candidatos deverão retirar-se da sala de prova ao mesmo tempo, devendo assinar a Ata de Prova.
7. Nenhuma informação sobre o conteúdo das questões será dada pelo fiscal.
8. No caderno de prova, o candidato poderá rabiscar, riscar e calcular.
9. Os gabaritos preliminares da prova objetiva serão divulgados na data descrita no Cronograma de Execução desse Concurso ou Processo Seletivo.
10. Certifique-se de que este caderno contém 40 (quarenta) questões. Caso contrário, solicite ao fiscal da sala a sua substituição.



Instrução: As questões de números 01 a 10 referem-se ao texto abaixo.

Número de idosos no Brasil quadruplicará até 2060

01 _____ pela maior expectativa de vida, o número de brasileiros acima de 65 anos deve
02 praticamente quadruplicar até 2060, confirmando a tendência de envelhecimento acelerado da
03 população já apontada por demógrafos. A estimativa faz parte de uma série de projeções
04 populacionais baseada no Censo de 2010 divulgadas pelo IBGE. Segundo o órgão, a população
05 com essa faixa etária deve passar de 14,9 milhões (7,4% do total), em 2013, para 58,4 milhões
06 (26,7% do total), em 2060. No período, a expectativa média de vida do brasileiro deve aumentar
07 dos atuais 75 anos para 81 anos. De acordo com o IBGE, as mulheres continuarão vivendo mais
08 do que os homens: em 2060, a expectativa de vida delas será de 84,4 anos, contra 78,03 dos
09 homens. Hoje, elas vivem, em média, até os 78,5 anos, enquanto eles, até os 71,5 anos.

10 Com a mudança da estrutura etária brasileira, resultado da redução do número de jovens e
11 do aumento da população idosa, o Brasil deve passar por profundas transformações
12 socioeconômicas. A principal delas diz respeito ao que especialistas chamam de "bônus
13 demográfico" ou "janela de oportunidades". O conceito engloba as oportunidades que surgem
14 para o país quando o número de pessoas consideradas economicamente produtivas (as que o
15 IBGE considera em idade de trabalhar, entre 15 a 64 anos) é maior do que a parcela da população
16 dependente (ou seja, menores e idosos que não trabalham). Calcula-se que, em 2013, cada grupo
17 de cem indivíduos em idade ativa sustentava 46 indivíduos. Segundo estimativas do IBGE, até
18 2022 esse número irá caindo – indicando um grande número de pessoas economicamente ativas.
19 Nesse ano, porém, ocorrerá uma inversão, chegando em 2033 ao mesmo nível de 2013. Já em
20 2060, a proporção deverá ser de 65,9, ou seja, cada grupo de cem indivíduos em idade ativa
21 sustentará 65,9 indivíduos.

22 Ainda segundo o IBGE, ao passo que aumentará a expectativa de vida, cairá o número de
23 filhos por mulher. O coeficiente, representado pela taxa de fecundidade total, é, atualmente, de
24 1,77 filhos em média por mulher. Em 2030, especula-se que o índice caia para 1,5. Segundo os
25 especialistas, a taxa já está abaixo da considerada necessária para a reposição natural da
26 população, de 2,1 filhos por mulher. O levantamento destaca que a queda do número de filhos
27 será registrada, inclusive, em Estados que hoje apresentam taxas superiores média
28 nacional, como o Acre (2,6 filhos por mulher) ou o Amazonas (2,4 filhos por mulher). Neles, o
29 coeficiente passará respectivamente, para 1,8 filho por mulher e 1,4 filho por mulher em 2030.
30 De acordo com o IBGE, o menor número de filhos, tendência registrada desde a década de 70, é
31 explicado pelo adiamento da maternidade. Em 2013, as brasileiras tinham o primeiro filho aos
32 26,9 anos, em média. Em 2030, ele virá quase três anos depois, aos 29,3 anos.

33 A queda no número médio de filhos por mulher terá um impacto negativo sobre o
34 crescimento da população brasileira, indicam as projeções. Segundo o cálculo do IBGE, o número
35 de brasileiros _____ crescer até 2042 e, a partir daí, o número de óbitos superará o de
36 nascimentos. Em 2060, as estimativas apontam que o país terá o mesmo número de habitantes
37 do que 2025 (218,2 milhões). A população do Brasil já ultrapassou, pela primeira vez, a marca
38 de 200 milhões de pessoas, chegando a 201 milhões no fim de 2013.

Fonte: http://www.bbc.com/portuguese/noticias/2013/08/130829_demografia_ibge_
Texto adaptado especialmente para esta prova.

QUESTÃO 01 – Assinale a alternativa que preenche, correta e respectivamente, as lacunas tracejadas das linhas 01 e 35.

- A) Amparado – vai
- B) Amparada – vão
- C) Amparados – vão
- D) Amparado – vão
- E) Amparada – vai

QUESTÃO 02 – Assinale a alternativa que preenche corretamente a lacuna pontilhada da linha 27.

- A) que a
- B) a
- C) à
- D) da
- E) sobre a

QUESTÃO 03 – O tema principal do texto é:

- A) A qualidade de vida do brasileiro.
- B) A expectativa de vida do brasileiro na atualidade.
- C) A saúde da população brasileira.
- D) As mudanças no perfil demográfico do Brasil.
- E) A redução do número de filhos nas famílias brasileiras.

QUESTÃO 04 – Considere as seguintes afirmações sobre o texto:

- I. Até 2022, haverá mais pessoas economicamente ativas no Brasil do que existem hoje.
- II. Em 2060, haverá menos pessoas economicamente ativas no Brasil do que existem hoje.
- III. As mulheres viverão mais do que os homens porque passarão a ter menos filhos.

Quais estão corretas?

- A) Apenas II.
- B) Apenas III.
- C) Apenas I e II.
- D) Apenas II e III.
- E) I, II e III.

QUESTÃO 05 – A retirada do acento gráfico de algumas palavras faz surgirem outras palavras existentes na língua portuguesa, tal como acontece em número (substantivo) / numero (verbo conjugado na 1ª pessoa do singular do Presente do Indicativo). Isso acontece com as palavras a seguir, retiradas do texto, EXCETO em:

- A) cálculo – país.
- B) ocorrerá – cairá.
- C) superará – ocorrerá.
- D) está – é.
- E) média – será.

QUESTÃO 06 – Assinale a alternativa que faz uma associação INCORRETA entre elementos do texto.

- A) “órgão” (l. 04) refere-se a IBGE (l. 04).
- B) “essa faixa etária” (l. 05) refere-se a “acima de 65 anos” (l. 01).
- C) “delas” (l. 12) refere-se a “profundas transformações socioeconômicas” (l. 11-12).
- D) “nesse ano” (l. 19) refere-se a 2013 (l. 16).
- E) “ele” (l. 32) refere-se a “primeiro filho” (l. 31).

QUESTÃO 07 – A seguir são propostas trocas de algumas palavras do texto por outras. Assinale a alternativa em que a substituição fica adequada ao contexto e não provoca nenhuma alteração no texto.

- A) “tendência (l. 02) por moda.
- B) “praticamente” (l. 02) por precisamente.
- C) “faixa” (l. 05) por banda.
- D) “idososa” (l. 11) por velha.
- E) “estimativas” (l. 17 e 36) por previsões.

QUESTÃO 08 – Assinale a alternativa em que a reescrita do seguinte fragmento do texto altera o seu sentido.

Ainda segundo o IBGE, ao passo que aumentará a expectativa de vida, cairá o número de filhos por mulher.

- A) Ainda segundo o IBGE, conforme aumentar a expectativa de vida, cairá o número de filhos por mulher.
- B) Ainda segundo o IBGE, à medida que aumentar a expectativa de vida, cairá o número de filhos por mulher.
- C) Ainda segundo o IBGE, ainda que aumente a expectativa de vida, cairá o número de filhos por mulher.
- D) Ainda segundo o IBGE, o número de filhos por mulher cairá acompanhando o aumento da expectativa de vida.
- E) Ainda segundo o IBGE, a expectativa de vida aumentará à proporção que cairá o número de filhos por mulher.

QUESTÃO 09 – Assinale a alternativa em que o tipo de formação da palavra está INCORRETO.

- A) IBGE – sigla.
- B) economicamente – derivação sufixal.
- C) socioeconômico – composição por justaposição.
- D) cálculo – derivação regressiva.
- E) ultrapassou – derivação parassintética.

QUESTÃO 10 – Analise as assertivas feitas sobre a pontuação do seguinte período do texto.

O coeficiente, representado pela taxa de fecundidade total, é, atualmente, de 1,77 filhos em média por mulher.

- I. O emprego das vírgulas no primeiro trecho sublinhado justifica-se por se tratar de uma oração de caráter explicativo.
- II. O emprego das vírgulas no segundo trecho sublinhado justifica-se por se tratar de um aposto.
- III. Seria correto substituir as duas primeiras vírgulas por travessões.

Quais estão corretas?

- A) Apenas II.
- B) Apenas I e II.
- C) Apenas I e III.
- D) Apenas II e III.
- E) I, II e III.

Para responder às questões 11 a 13, considere a Lei Orgânica do Município de Vacaria.

QUESTÃO 11 – Os recursos públicos do Município de Vacaria destinados à educação serão aplicados nas escolas públicas, podendo ser dirigidas a escolas comunitárias, confessionais ou filantrópicas, definidas em Lei que:

- I. Comprovem finalidade não lucrativa e apliquem seus excedentes financeiros em educação.
- II. Atestem, conforme previsto em Lei, os parâmetros pré-estabelecidos no orçamento participativo.
- III. Assegurem a destinação de seu patrimônio a outra escola comunitária filantrópica ou confessional, ou ao poder público, no caso de encerramento de suas atividades.

Quais estão INCORRETAS?

- A) Apenas I.
- B) Apenas II.
- C) Apenas III.
- D) Apenas I e II.
- E) I, II e III.

QUESTÃO 12 – Valdeir é cidadão vacariense, residente no município, e cumpre com seus deveres como tal. Ele tem um filho de quatorze anos matriculado na rede pública de ensino do Município, e, na condição de pai, quer participar da organização do Grêmio Estudantil da escola de seu filho. De acordo com a referida Lei, no que diz respeito à organização de grêmios e associações:

- A) É vedada a participação de pais nas entidades representativas dos alunos em escolas da rede pública de ensino.
- B) Sob forma de exceção, conforme previsto em Lei, será liberada a participação de no máximo dois pais no Grêmio Estudantil e demais associações das escolas da rede pública de ensino.
- C) É assegurada a participação dos pais nos grêmios estudantis, apenas na condição de conselheiro.
- D) É assegurado aos pais, professores, alunos e funcionários organizarem-se em todos os estabelecimentos municipais de ensino através de associações, grêmios e outras formas.
- E) É assegurado somente aos pais e professores da rede pública de ensino do Município a participação na organização de grêmios e demais associações que se fizerem necessária.

QUESTÃO 13 – Helena, uma empresária de sucesso no Município de Vacaria, é considerada uma mulher à frente de seu tempo. Uma das últimas iniciativas de Helena foi tentar participar do Sistema Único de Saúde, mesmo sua empresa sendo da iniciativa privada. No que diz respeito à participação de empresas da iniciativa privada no Sistema Único de Saúde do Município:

- A) É vedada em todas as instâncias, não cabendo recursos às instâncias majorais do Poder Público.
- B) É tida como um remédio constitucional, conforme previsto na Constituição.
- C) Se dá mediante contrato de direito privado ou convênio, tendo preferência as entidades filantrópicas e as sem fim lucrativo.
- D) Não há previsão em Lei para a participação de empresas da iniciativa privada no Sistema Único de Saúde.
- E) Conforme previsto em Lei, pode participar como doadora de recursos.

QUESTÃO 14 – De acordo com a Lei Complementar nº 9/2011, que dispõe sobre os quadros de cargos e funções públicas do Município de Vacaria, estabelece o plano de carreira dos servidores e dá outras providências, o servidor público do Município, centralizado do Poder Executivo Municipal, é integrado nos quadros de cargos:

- I. De provimento efetivo.
- II. Em comissão.
- III. De funções gratificadas.

Quais estão corretas?

- A) Apenas I.
- B) Apenas II.
- C) Apenas III.
- D) Apenas I e II.
- E) I, II e III.

Para responder às questões 15 e 16, considere a Lei Complementar nº 8/2011, que dispõe sobre o regime jurídico dos servidores municipais de Vacaria.

QUESTÃO 15 – Configura acidente de trabalho o dano físico ou mental sofrido pelo servidor do Município de Vacaria que se relacione, mediata ou imediatamente, com as atribuições do cargo exercido, ressaltando que equipara-se ao acidente de trabalho o dano:

- I. Decorrente de agressão sofrida e não provocada pelo servidor no exercício do cargo.
- II. Sofrido no percurso da residência para o trabalho, e vice-versa.
- III. Sofrido pelo servidor durante as licenças remuneradas.

Quais estão INCORRETAS?

- A) Apenas I.
- B) Apenas II.
- C) Apenas III.
- D) Apenas II e III.
- E) I, II e III.

QUESTÃO 16 – Mauro é servidor público estável do Município de Vacaria e, por estar sendo investigado, teve suspensão preventiva decretada pela autoridade competente durante a instrução do processo. De acordo com a referida Lei, o tempo de suspensão preventiva para os servidores do Município de Vacaria afastados durante a apuração da falta a ele imputada é de:

- A) Até sessenta dias, prorrogáveis por mais trinta.
- B) Sessenta dias.
- C) Trinta dias, prorrogáveis por igual período.
- D) Noventa dias.
- E) Até cento e sessenta dias corridos.

Para responder às questões 17 a 20, considere a Lei Complementar nº 5/2010, que dispõe sobre o novo código de posturas do Município de Vacaria e dá outras providências.

QUESTÃO 17 – A referida Lei, no capítulo em que trata das infrações e procedimentos para o Município de Vacaria, determina que, quando couber, será aplicada, a critério do órgão competente, _____ com a multa, a pena de apreensão que consistirá na tomada dos objetos que constituem a infração, sendo seu recolhimento feito mediante recibo descritivo.

Assinale a alternativa que preenche corretamente a lacuna do trecho acima.

- A) concomitantemente
- B) separadamente
- C) parcialmente
- D) exiguamente
- E) rigorosamente

QUESTÃO 18 – Rogério é proprietário de um restaurante na cidade de Vacaria. Seu estabelecimento, num ato de infração, foi multado por um fiscal da Vigilância Sanitária, durante uma inspeção no estabelecimento, conforme prevê a Lei. As infrações resultantes do descumprimento das disposições da referida Lei serão punidas com as penalidades relacionadas abaixo, EXCETO:

- A) Apreensão.
- B) Desagravo.
- C) Embargo.
- D) Obrigação de fazer ou desfazer.
- E) Cassação de alvará de localização.

QUESTÃO 19 – Com base nas disposições da referida Lei, assinale a alternativa que representa a previsão legal de vistoria administrativa.

- A) Empresas enquadradas no Lucro Presumido de Apuração, quando denunciadas por um consumidor, deverão ser vistoriadas administrativamente.
- B) A vistoria está prevista nos autos da presente Lei para auditoria contábil e fiscal das empresas enquadradas no regime de apuração Lucro Real.
- C) A vistoria administrativa refere-se à aferição e ao porte do Ministério Público nas contas do Estados e Município.
- D) A vistoria administrativa terá lugar quando, em edificação, instalação ou aparelho, forem constatados riscos que ameacem a segurança pública, a saúde ou o meio ambiente.
- E) Os projetos de novas construções ou reformas civis no Município de Vacaria, obrigatoriamente, deverão passar por vistoria administrativa prévia.

QUESTÃO 20 – O desenvolvimento de programas de informação, através da educação formal e informal, sobre materiais recicláveis e matérias biodegradáveis, de acordo com a referida Lei, é um dever:

- A) Da Secretaria do Meio Ambiente Estadual.
- B) Do Poder Legislativo Municipal.
- C) Exclusivo da Secretaria de Saúde em parceria com a Secretaria de Educação.
- D) Do IBAMA em parceria conjunta com as pastas da Saúde e Educação.
- E) Do Poder Executivo Municipal.

QUESTÃO 21 – Com base na Figura 1 abaixo, considere que o usuário digitou na célula B4 o seguinte: =PROCV(35;A1:C3;3;0) e, logo após, pressionou a tecla Enter. Que valor conterà em B4?

	A	B	C
1	25	18	21
2	27	32	27
3	35	19	18
4			
5			

Figura 1 – Visão parcial de uma planilha do programa Microsoft Excel 2007

- A) 18
- B) 19
- C) 21
- D) 27
- E) 35

QUESTÃO 22 – Tendo como referência a Figura 2 abaixo, considere que o usuário digitou o seguinte na célula A7: =SOMASE(C1:C6;"2";A1:A6) e, logo após, pressionou a tecla Enter. Que valor conterà em A7?

	A	B	C	D
1	3	2	9	3
2	5	3	2	1
3	7	8	1	5
4	6	4	2	7
5	4	9	6	2
6	2	11	9	4
7				
8				

Figura 2 – Visão parcial de uma planilha do programa Microsoft Excel 2007

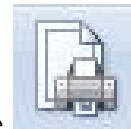
- A) 2
- B) 5
- C) 9
- D) 11
- E) 12

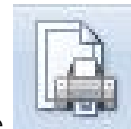
QUESTÃO 23 – Considere que o usuário digitou, na célula C4 da Figura 3 abaixo, o seguinte: =MÉDIA(A3:C3) e, logo após, pressionou a tecla Enter. Que valor conterà em C4?

	A	B	C
1	2	3	4
2	1	7	7
3	10	10	1
4			
5			

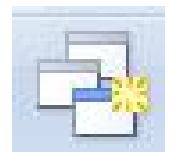
Figura 3 – Visão parcial de uma planilha do programa Microsoft Excel 2007

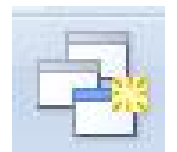
- A) 2
- B) 3
- C) 7
- D) 9
- E) 10



QUESTÃO 24 – O ícone , pertencente ao programa Microsoft Excel 2007, é chamado de:

- A) Imprimir.
- B) Área de Impressão.
- C) Planilha.
- D) Vínculo.
- E) Imprimir Títulos.



QUESTÃO 25 – O ícone , pertencente ao software Microsoft Word 2007, é chamado de:

- A) Dividir.
- B) Duas Páginas.
- C) Macros.
- D) Organizar Tudo.
- E) Nova Janela.

QUESTÃO 26 – Na Área de Trabalho do Microsoft Windows Seven Professional, o ícone



é chamado de:

- A) Suspensão.
- B) Atalho.
- C) Derivação.
- D) Rastreador.
- E) Indexação.

QUESTÃO 27 – O software Microsoft Windows Seven Professional é responsável por:

- A) Executar cálculos lineares.
- B) Fazer slides.
- C) Elaborar gráficos em 3D.
- D) Gerenciar todos os hardwares e softwares.
- E) Elaborar documentos como, por exemplo, Ofícios, memorandos, entre outros.

QUESTÃO 28 – A tecla de atalho F12 do programa Microsoft Word 2007 possui a função de:

- A) Abrir.
- B) Ortografia e gramática.
- C) Ajuda.
- D) Copiar.
- E) Salvar como.

QUESTÃO 29 – Dentre os caracteres abaixo, qual é utilizado para multiplicar no software Microsoft Excel 2007?

- A) #
- B) \$
- C) *
- D) ^
- E) /

QUESTÃO 30 – Ao acessar o programa Microsoft Word 2007 pela primeira vez, o usuário visualiza, por padrão, uma fonte, cujo nome é:

- A) Calibri (Corpo).
- B) Verdana.
- C) Arial.
- D) Algerian.
- E) Agency.

CONHECIMENTOS ESPECÍFICOS

QUESTÃO 31 – Qual princípio estabelece que as autorizações orçamentárias e, conseqüentemente, o exercício financeiro deve corresponder a doze meses e coincidir com o ano civil?

- A) Princípio da Continuidade.
- B) Princípio da Prudência.
- C) Princípio da Oportunidade.
- D) Princípio da Anualidade.
- E) Princípio da Competência.

QUESTÃO 32 – O Balanço Patrimonial divide-se em grupos de contas, de características semelhantes, facilitando, dessa forma, a sua leitura, análise e interpretação. Assinale a alternativa INCORRETA em relação ao conceito apresentado.

- A) Ativo Circulante: compreende as contas que estão constantemente em giro. Sua conversão em dinheiro ocorrerá no máximo até o próximo exercício social.
- B) Ativo Não Circulante: compreende todas as contas do ativo que não tenham seus recebimentos marcados até o próximo exercício social.
- C) Passivo Circulante: compreende as obrigações exigíveis, as quais serão liquidadas no próximo exercício social.
- D) Passivo Não Circulante: compreende todas as obrigações que não tenham seus pagamentos marcados até o próximo exercício social.
- E) Patrimônio Líquido: compreende os recursos de terceiros aplicados na empresa, acrescidos com os novos aumentos de capital e com os rendimentos resultantes do capital aplicado, o qual denominamos de lucro.

QUESTÃO 33 – De acordo com Marion, o regime contábil adotado pela organização é que determinará quais serão as despesas e receitas que irão integrar ou não o resultado de um exercício social. Dois são os regimes contábeis conhecidos: Regime de Caixa e Regime de Competência. Nesse sentido, analise as assertivas abaixo:

- I. Regime de Caixa é uma forma simplificada da Contabilidade, em que a receita é contabilizada no momento do seu recebimento e a despesa é contabilizada no momento do seu pagamento.
- II. Regime de Competência: os efeitos das transações são reconhecidos quando ocorrem e lançados nos registros contábeis, sendo reportados nas demonstrações contábeis dos períodos a que se referem.
- III. No Regime de Caixa, o lucro será apurado, considerando-se determinado período, toda a despesa gerada no período subtraindo-se do total da receita, também gerada no mesmo período.
- IV. No Regime de Competência, o lucro será apurado subtraindo-se, da receita recebida, toda a despesa paga.

Quais estão INCORRETAS?

- A) Apenas I.
- B) Apenas II.
- C) Apenas IV.
- D) Apenas III e IV.
- E) I, II, III e IV.

QUESTÃO 34 – Para atender às exigências legais, a empresa precisa adequar seus métodos de apuração de custos aos princípios contábeis e estar em conformidade com as normas e as legislações vigentes. Para a tomada de decisão, podem ser empregados métodos de custeio capazes de fornecer informações que atendam às necessidades gerenciais da empresa. Assinale a alternativa correta quanto à definição do Método de Custeio apresentado.

- A) Custeio por Absorção: caracteriza-se por apropriar aos custos de produção do período, unicamente os custos variáveis.
- B) Custeio Variável: caracteriza-se por apropriar os custos totais de produção de um período de maneira direta ou indireta, independente desses custos terem comportamento fixo ou variável em relação ao volume fabricado.
- C) Custeio ABC: caracteriza-se por avaliar as atividades desenvolvidas em uma empresa, utilizando direcionadores para alocar as despesas e custos diretos de uma forma mais realista aos produtos e serviços.
- D) Custeio por Absorção: é estruturado para atender à administração da empresa, possibilitando que seja utilizado como ferramenta no processo decisório, por apresentar a margem de contribuição de cada produto.
- E) Custeio Variável: é estruturado para atender às disposições legais quanto à apuração de resultados e à avaliação patrimonial da empresa.

QUESTÃO 35 – Segundo Martins, Custo de Fabricação compreende a soma dos gastos com bens e serviços aplicados ou consumidos na fabricação de outros bens. São três os elementos componentes do custo de fabricação:

- A) Materiais, Mão de obra e Gastos Gerais de Fabricação.
- B) Materiais de Embalagem, Mão de obra Direta e Materiais Auxiliares.
- C) Custo Industrial, Materiais e Gastos Gerais de Fabricação.
- D) Matéria-Prima, Mão de obra Direta e Materiais Secundários.
- E) Matéria-Prima, Mão de obra Indireta e Materiais Auxiliares.

QUESTÃO 36 – A Despesa Orçamentária ou Despesa Pública constitui um conjunto de gastos públicos autorizados por intermédio do orçamento ou de créditos adicionais, devendo evidenciar a política econômico-financeira e o programa do Governo, destinado a satisfazer à necessidade da comunidade. Em relação às fases da Despesa Orçamentária, analise as assertivas abaixo, assinalando V, se verdadeiras, ou F, se falsas.

- () Autorização: aprovação do orçamento ou crédito adicional.
- () Programação: definição das prioridades a serem atendidas e definição do cronograma de pagamentos das despesas já compromissadas.
- () Licitação: comprometimento da dotação orçamentária.
- () Empenho: verificação do direito adquirido pelo credor.

A ordem correta de preenchimento dos parênteses, de cima para baixo, é:

- A) V – F – F – V.
- B) V – V – F – F.
- C) V – F – V – F.
- D) F – V – F – V.
- E) F – F – V – V.

QUESTÃO 37 – A ferramenta legal de planejamento do Estado onde são apresentadas as receitas previstas e despesas fixadas que serão realizados pelo ente, em um determinado período, objetivando a execução de programas de governo, bem como as transferências legais e voluntárias, os pagamentos de dívidas e outros encargos decorrentes da atividade estatal denomina-se:

- A) Orçamento Participativo.
- B) Ciclo Orçamentário.
- C) Orçamento-programa.
- D) Orçamento Público.
- E) Orçamento Base Zero.

QUESTÃO 38 – A análise de balanços visa relatar, com base nas informações contábeis fornecidas pela empresa, a posição econômico-financeira atual, as causas que determinaram a evolução apresentada e as tendências futuras. A _____ identifica a evolução dos diversos elementos patrimoniais e de resultados ao longo de determinado período de tempo. A _____ permite conhecer a estrutura financeira e econômica da empresa, ou seja, a participação relativa de cada elemento patrimonial e de resultados. _____ permitem relacionar elementos afins das demonstrações contábeis de forma à melhor extrair conclusões sobre a situação da empresa.

Assinale a alternativa que preenche, correta e respectivamente, as lacunas do trecho acima.

- A) Análise Vertical – Análise Horizontal – Indicadores Econômico-financeiros
- B) Análise Vertical – Alavancagem Financeira – Diagramas de Índices
- C) Análise Horizontal – Análise de Rentabilidade – Diagramas de Índices
- D) Análise Horizontal – Análise Vertical – Indicadores Econômico-financeiros
- E) Ebitda – EVA – Retornos sobre o Investimento Operacional

QUESTÃO 39 – Assinale a alternativa correta quanto à definição do objetivo da Contabilidade Pública.

- A) Possibilitar o controle dos custos nos termos do Código Civil Brasileiro.
- B) Fornecer informações úteis, atualizadas e exatas dos fatos e atos administrativos aos seus usuários.
- C) Levantar informações das variações patrimoniais da entidade, mesmo quando não demandadas pelos usuários.
- D) Fornecer informações úteis, atualizadas e exatas, de natureza orçamentária, financeira e patrimonial, de modo a subsidiar a tomada de decisão por parte dos usuários internos e externos.
- E) Levantar informações sobre o patrimônio da entidade pública, para que o administrador público se certifique de que tomou a decisão certa no mês anterior.

QUESTÃO 40 – Os Índices de Liquidez são medidas de avaliação da capacidade financeira da empresa em satisfazer os compromissos de terceiros e visam fornecer um indicador da capacidade da empresa de pagar suas dívidas a partir da comparação entre os direitos realizáveis e as suas exigibilidades. A _____ mede a relação existente entre as disponibilidades e o passivo circulante, refletindo na porcentagem existente entre as dívidas de curto prazo e as disponibilidades que a empresa dispõe em caixa. Na _____, é medida a relação entre o ativo circulante e o passivo circulante indicando se a empresa possui dívidas de curto prazo. A _____ revela o percentual das dívidas de curto prazo que pode ser resgatado mediante o uso de ativos circulantes de maior liquidez. Na _____, é apresentado a situação financeira da empresa no curto e no longo prazo.

Assinale a alternativa que preenche, correta e respectivamente, as lacunas do trecho acima.

- A) liquidez corrente – liquidez seca – liquidez imediata – liquidez geral
- B) liquidez corrente – liquidez imediata – liquidez geral – liquidez seca
- C) liquidez seca – liquidez geral – liquidez imediata – liquidez geral
- D) liquidez imediata – liquidez seca – liquidez geral – liquidez corrente
- E) liquidez imediata – liquidez corrente – liquidez seca – liquidez geral