

IPSMI

INSTITUTO DE PREVIDÊNCIA DOS SERVIDORES MUNICIPAIS DE ITAQUAQUECETUBA
ESTADO DE SÃO PAULO

CONCURSO PÚBLICO

002. PROVA OBJETIVA

VIGIA

- ◆ Você recebeu sua folha de respostas e este caderno contendo 40 questões objetivas.
- ◆ Confira seus dados impressos na capa deste caderno e na folha de respostas.
- ◆ Quando for permitido abrir o caderno, verifique se está completo ou se apresenta imperfeições. Caso haja algum problema, informe ao fiscal da sala.
- ◆ Leia cuidadosamente todas as questões e escolha a resposta que você considera correta.
- ◆ Marque, na folha de respostas, com caneta de tinta azul ou preta, a letra correspondente à alternativa que você escolheu.
- ◆ A duração da prova é de 3 horas, já incluído o tempo para o preenchimento da folha de respostas.
- ◆ Só será permitida a saída definitiva da sala e do prédio após transcorridos 75% do tempo de duração da prova.
- ◆ Ao sair, você entregará ao fiscal a folha de respostas e este caderno, podendo levar apenas o rascunho de gabarito, localizado em sua carteira, para futura conferência.
- ◆ Até que você saia do prédio, todas as proibições e orientações continuam válidas.

AGUARDE A ORDEM DO FISCAL PARA ABRIR ESTE CADERNO DE QUESTÕES.

Nome do candidato

Prédio

Sala

Carteira

Inscrição

CONHECIMENTOS GERAIS

LÍNGUA PORTUGUESA

Leia o texto para responder às questões de números **01** a **07**.

Praia, horrorosa praia

Antenor odiava praia. Costumava pensar que, se tudo que faz parte de uma praia fosse friamente analisado, não haveria como não sentir nojo desse ambiente agressivo à saúde e ao bem-estar. Pensava nos malditos grãos de areia que sempre insistem em entrar onde não devem, pinicando todo o corpo, um sol infeliz torrando a pele e multiplicando problemas, além de uma água imunda e mal cheirosa, espalhando bactérias que fazem a festa no corpo dos ingênuos que ali se divertem.

Por tantas razões, ao chegar aos 60 anos, Antenor nunca reservara um dia sequer de suas férias para ir a praias entupidas de pessoas com micoses, como costumava dizer. Os amigos e familiares, claro, sempre se incomodaram. As férias de Antenor sempre se limitaram a viagens para o interior, fuga do caos urbano para o tédio de alguns poucos monumentos e turismo de aventura.

Mas quando Antenor completou 60 anos, a família decidiu mudar esta história. Sem o conhecimento dele, compraram um pacote turístico para uma badalada praia do Nordeste. Tudo incluso: passagem, hospedagem, alimentação e até transporte local. E, obviamente, tudo mantido sob rigoroso segredo. Para o Antenor, diziam que as férias seriam no interior. Só depois que o enfiaram dentro do avião, devidamente preso nos cintos de segurança, comunicaram-lhe que o destino seria uma praia. Houve um princípio de escândalo.

– Alguém me tire daqui, eu não quero ficar doente, não quero ter micose!

Mas com alguma conversa, inclusive ameaça de divórcio da dona Arlete, Antenor ficou de boca fechada a viagem toda. Porém, ainda dava para ver nos olhos dele a raiva diante da traição de todos.

Ao chegarem à praia, a família esperou pelo pior: um escândalo maior. Porém, ao contrário, o semblante de búfalo mal-humorado do velho Antenor cedeu diante da visão do mar, da agradável intensidade que o casamento entre sol, areia e mar proporcionava.

A família nunca tinha visto um Antenor tão feliz quanto naquele dia ensolarado. Na semana seguinte, na viagem de volta, Antenor garantiu que não aguentaria esperar as próximas férias. No máximo em alguns poucos meses, daria um jeito de voltar para a praia.

(<http://www.corrosiva.com.br/author/juliano-martinz/>. 13.01.2016. Adaptado)

01. De acordo com o texto, é correto afirmar que Antenor, antes de viajar com a família, em relação à praia, era

- (A) despreocupado.
- (B) indiferente.
- (C) resistente.
- (D) paciente.
- (E) interessado.

02. Segundo o texto, a família de Antenor

- (A) não escondeu dele, em nenhum momento, a decisão de ir ao Nordeste.
- (B) não se importava por não ir à praia.
- (C) perguntou antes a ele que lugar do Nordeste ele desejava conhecer.
- (D) pediu à dona Arlete que perguntasse a ele se aceitava ir para o Nordeste.
- (E) comunicou a ida ao Nordeste assim que ele entrou no avião.

03. De acordo com o texto, depois que viajou com a família, a reação de Antenor ao ver o mar foi

- (A) esperada.
- (B) surpreendente.
- (C) frustrante.
- (D) previsível.
- (E) desanimadora.

04. Na frase – ... o **semblante** de búfalo mal-humorado do velho Antenor cedeu diante da visão do mar ... –, a expressão destacada pode ser substituída, sem alteração de sentido, por

- (A) a alegria.
- (B) a tristeza.
- (C) a ansiedade.
- (D) a vivacidade.
- (E) a fisionomia.

05. Assinale a alternativa que apresenta palavras empregadas em sentido figurado.

- (A) ... tudo mantido sob rigoroso segredo.
- (B) ... diziam que as férias seriam no interior.
- (C) ... comunicaram-lhe que o destino seria uma praia.
- (D) ... bactérias que fazem a festa no corpo dos ingênuos...
- (E) ... daria um jeito de voltar para a praia.

06. Assinale a alternativa em que o verbo destacado está no tempo presente.

- (A) ... bactérias que **fazem** a festa no corpo...
- (B) ... não **haveria** como não sentir nojo...
- (C) ... a família **decidiu** mudar esta história.
- (D) Antenor **odiava** praia.
- (E) **Pensava** nos malditos grãos de areia...

07. No trecho do 1º parágrafo – ... ambiente **agressivo** à saúde... –, a palavra em destaque expressa uma característica do ambiente.

Assinale a alternativa cuja palavra destacada tem a mesma função.

- (A) ... espalhando **bactérias** que fazem a festa...
- (B) ... a família decidiu **mudar** esta história.
- (C) ... passagem, hospedagem, alimentação e **até** transporte...
- (D) ... além de uma água **imunda**...
- (E) ... não quero ter **micose!**


08. A pontuação está empregada de acordo com a norma-padrão da língua portuguesa em:

- (A) Antenor, achava as praias, muito sujas.
- (B) Assim que chegaram, ao litoral, compraram novos maiôs.
- (C) Dona Arlete, esposa de Antenor, fez algumas ameaças.
- (D) As pessoas jogam, muito lixo, nas praias.
- (E) A família de Antenor, resolveu viajar, para bem longe.

09. O emprego da crase está de acordo com a norma-padrão da língua portuguesa em:

- (A) Antenor não se dispunha **à** viajar para o litoral.
- (B) A família decidiu ir **à** essa cidade do Nordeste.
- (C) Eles compraram **à** passagem antecipadamente.
- (D) Graças **à** ameaça de dona Arlete, Antenor ficou quieto.
- (E) Dali **à** algum tempo, Antenor viajaria novamente.

Leia o texto dos quadrinhos para responder às questões de números 10 a 12.



(<http://www.giekim.com/> 13.01.2016. Adaptado)

10. Conforme os textos do 1º e 2º quadrinhos, é correto afirmar que a garota está

- (A) nervosa.
- (B) temerosa.
- (C) irritada.
- (D) ansiosa.
- (E) entusiasmada.

11. Considerando o último quadrinho, pode-se afirmar que o rapaz

- (A) não está em sintonia com a garota.
- (B) sente o mesmo que ela em relação ao lugar.
- (C) demonstra o mesmo interesse para agradá-la.
- (D) prefere ler para não incomodá-la.
- (E) está tão envolvido com a paisagem quanto a garota.

12. No trecho do 2º quadrinho – Ah! Curtir tudo isso **com** meu amor! – a palavra destacada estabelece sentido de

- (A) finalidade.
- (B) tempo.
- (C) companhia.
- (D) causa.
- (E) assunto.

13. Assinale a alternativa em que a colocação dos pronomes está de acordo com a norma-padrão da língua portuguesa.

- (A) Me indicaram dois livros para ler nas férias.
- (B) Ele nunca dedicou-se muito aos familiares.
- (C) Assim que avisaram-me, retornei ao hotel.
- (D) Eu não telefonei-lhe porque estava viajando.
- (E) Reservaram-lhe duas passagens aéreas.

14. A alternativa em que a concordância verbal está de acordo com a norma-padrão da língua portuguesa está em:

- (A) Foi distribuído saquinhos de lixo aos turistas.
- (B) Já faz três anos que ele não vai ao Nordeste.
- (C) Geralmente eles comete os mesmos erros.
- (D) Nas férias, é comum haverem congestionamentos.
- (E) Os hóspedes deveria respeitar as normas do hotel.

15. Assinale a alternativa que completa as lacunas, correta e respectivamente, considerando a norma-padrão da língua portuguesa.

_____ a mulher admirava a praia, o marido _____ alheio _____ tudo.

- (A) Porque ... estaria ... com
- (B) Enquanto ... estava ... a
- (C) Então ... estará ... em
- (D) Se ... esteve ... de
- (E) Conforme ... está ... por

16. Patrícia recebeu uma encomenda de 250 caixas decorativas, sendo que, em cada caixa, são utilizados 30 centímetros de fita. Sabendo que essas fitas são vendidas em rolos fechados de 10 metros e supondo que não há desperdício durante a produção das caixas, então o número mínimo de rolos de fita, necessários para essa encomenda, é igual a

- (A) 10.
- (B) 8.
- (C) 6.
- (D) 4.
- (E) 2.

17. Observe a seguinte notícia publicada em 28.01.2016.

OMS espera 4 milhões de casos de zika nas Américas; 1,5 milhão no Brasil

(<http://noticias.uol.com.br/2016/01/28>. Adaptado)

Isso significa afirmar que, dos casos de zika esperados nas Américas, o Brasil corresponderá a:

- (A) 2,5%
- (B) 25%
- (C) 37,5%
- (D) 45%
- (E) 50%

18. Há dois anos atrás, um copo de leite com achocolatado custava R\$ 1,00 e um pão com manteiga R\$ 0,50. Atualmente, o copo de leite com achocolatado passou a custar R\$ 1,40 e o pão com manteiga R\$ 0,75. Sendo assim, o gasto atual para consumir um copo de leite e um pão por dia, durante 30 dias, equivaleria, há dois anos atrás, considerando o mesmo consumo diário, a um período de

- (A) 43 dias.
- (B) 55 dias.
- (C) 60 dias.
- (D) 65 dias.
- (E) 73 dias.

19. Airton é responsável por gerenciar a produção de um determinado setor de uma empresa de componentes eletrônicos. Ele observou que a produção de seu funcionário mais rápido, Ronaldo, estava 50% maior que a de seu funcionário mais lento, Marcelo. Isso se justifica pelo fato de que enquanto Ronaldo produzia 1 800 peças, Marcelo produzia

- (A) 1 750 peças.
- (B) 1 600 peças.
- (C) 1 200 peças.
- (D) 1 050 peças.
- (E) 900 peças.

20. Observe alguns hábitos que contribuem para o gasto excessivo de água.

Torneira gotejando	46 litros / dia
Escovar os dentes com a torneira meio aberta	12 litros / 5 min
Lavar carro com a mangueira	90 litros / 5 min
Lavar calçada com a mangueira	95 litros / 5 min
Banho de chuveiro elétrico	48 litros / 5 min

(www.sabesp.com.br. Adaptado)

Desses, aquele que consome maior quantidade de litros de água, por minuto, é:

- (A) Torneira gotejando
- (B) Escovar os dentes com a torneira meio aberta
- (C) Lavar o carro com a mangueira
- (D) Lavar a calçada com a mangueira
- (E) Banho de chuveiro elétrico
21. A classificação de um país nas olimpíadas não é determinada pelo número total de medalhas, mas sim, a partir dos tipos de medalhas que conquistou, sendo o número de medalhas de ouro o primeiro critério para classificação. Caso haja empate, é analisado o número de medalhas de prata, e, caso ocorra um novo empate, então é analisado o número de medalhas de bronze. A seguir, têm-se os resultados do Brasil nas últimas 6 edições das olimpíadas.

Edição	Ouro	Prata	Bronze
1992 Barcelona	2	1	0
1996 Atlanta	3	3	9
2000 Sydney	0	6	6
2004 Atenas	5	2	3
2008 Pequim	3	4	8
2012 Londres	3	5	9

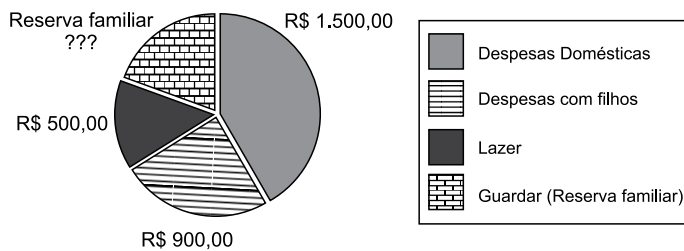
(<https://pt.wikipedia.org>)

Analisando o quadro de medalhas, pode-se perceber que, ao longo do período apresentado, Atenas (2004) foi o melhor resultado brasileiro. Já o segundo melhor resultado ocorreu na edição de

- (A) 1992 Barcelona.
- (B) 1996 Atlanta.
- (C) 2000 Sydney.
- (D) 2008 Pequim.
- (E) 2012 Londres.

22. Paulo está retornando de uma viagem com sua família. Ainda faltam 192 km para chegar em casa e, no painel do carro, há a indicação de que ainda resta um quarto da capacidade do tanque com combustível. Sabendo que a autonomia do carro é de 12 km por litro de combustível e que a capacidade total do tanque é de 42 litros, então Paulo
- (A) poderá terminar a viagem e ainda restarão 31 litros de combustível.
- (B) poderá terminar a viagem e ainda restarão 8 litros de combustível.
- (C) não poderá terminar a viagem sem reabastecer, pois faltarão, no mínimo, 10,5 litros de combustível.
- (D) não poderá terminar a viagem sem reabastecer, pois faltarão, no mínimo, 8 litros de combustível.
- (E) não poderá terminar a viagem sem reabastecer, pois faltarão, no mínimo, 5,5 litros de combustível.

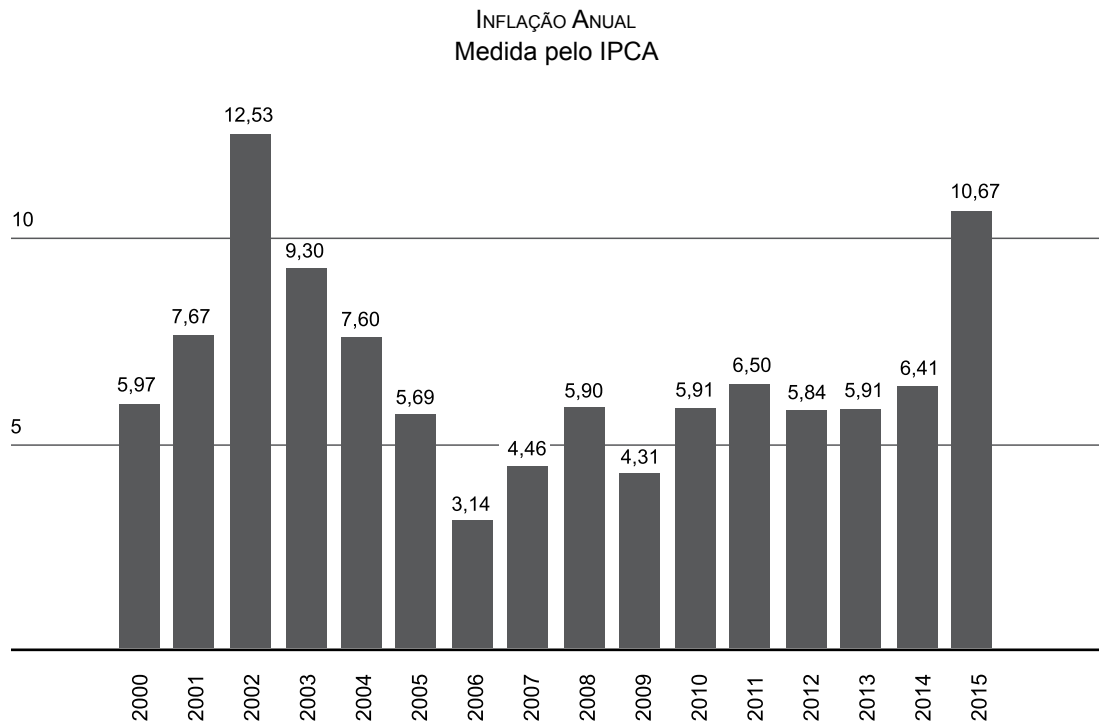
23. Vitor estava assistindo a uma série de televisão na qual um economista dava pequenas dicas sobre controle de gastos mensal. Ao longo do primeiro episódio da série, Vitor percebeu o quanto é importante organizar os gastos familiares, além de ter, como meta, guardar pelo menos 10% da renda familiar. Então, Vitor decidiu fazer o levantamento dos gastos no mês anterior, obtendo o seguinte gráfico:



Sendo assim, se a renda familiar é de R\$ 3.600,00, e considerando as dicas dadas no programa, então é correto afirmar que o valor destinado à reserva familiar

- (A) ultrapassou a meta em R\$ 460,00.
- (B) ultrapassou a meta em R\$ 340,00.
- (C) atingiu exatamente a meta.
- (D) faltou R\$ 340,00 para atingir a meta.
- (E) faltou R\$ 460,00 para atingir a meta.

24. A seguir é apresentado um gráfico com os índices da inflação no Brasil desde o ano 2000 até 2015.



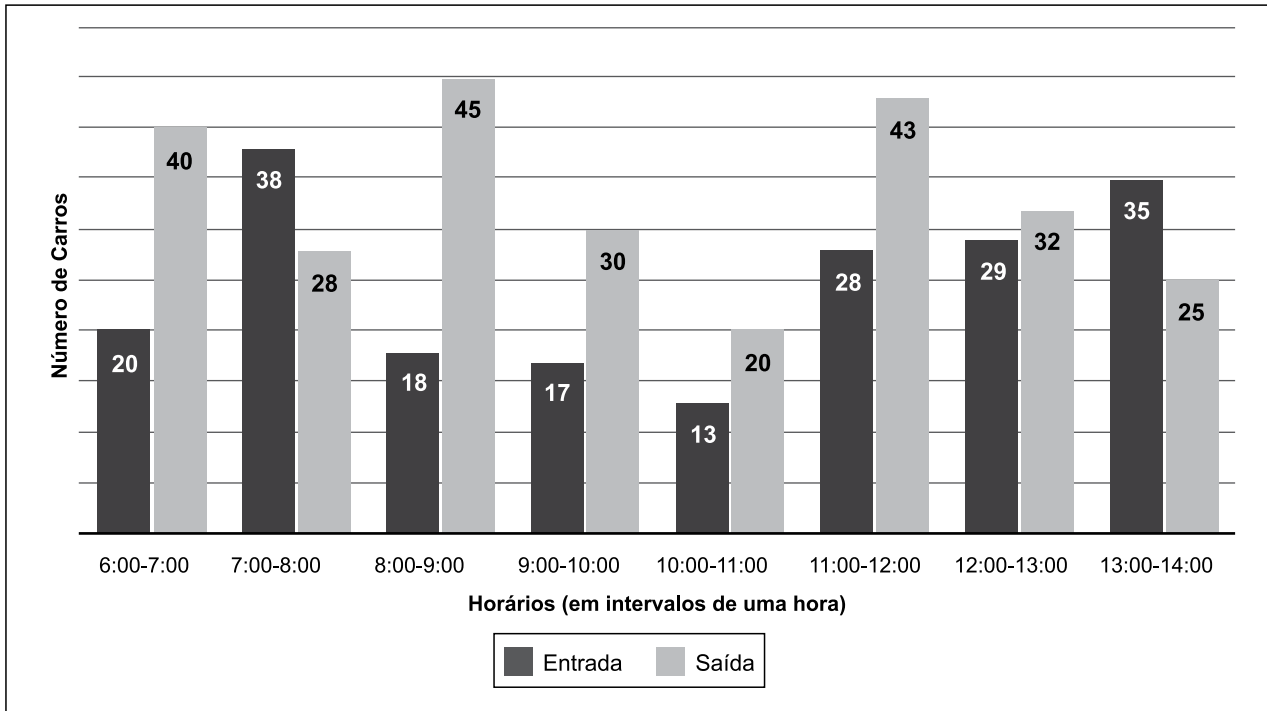
(<http://www1.folha.uol.com.br/mercado/2016/01>)

Tomando-se como referência a inflação anotada no ano 2000, é correto afirmar que a diferença entre o número de anos em que a inflação superou esse dado e o número de anos em que a inflação ficou abaixo é igual a

- (A) – 2.
- (B) – 1.
- (C) 0.
- (D) 1.
- (E) 2.

R A S C U N H O

25. A maior parte das tentativas de assalto a prédios ocorre nos horários em que há o maior fluxo de carros na entrada e na saída dos edifícios e, por isso, esses momentos exigem atenção redobrada de vigias e porteiros. A seguir, é apresentado um gráfico com a movimentação de entrada e saída de carros em um determinado turno de um vigia que trabalha em um edifício residencial.



Considerando-se a soma entre o número de carros que entram e saem nos intervalos de uma hora, é correto afirmar que os dois períodos de maior fluxo são

- (A) 8:00-9:00 e 13:00-14:00.
- (B) 8:00-9:00 e 11:00-12:00.
- (C) 7:00-8:00 e 8:00-9:00.
- (D) 7:00-8:00 e 11:00-12:00.
- (E) 7:00-8:00 e 13:00-14:00.

R A S C U N H O

26. As preocupações em torno da economia do país têm abalado os mercados internacionais e uma derrubada nas principais bolsas de valores do mundo.

Prevê-se que a desaceleração da economia do país poderá ser maior do que vêm indicando as projeções para o PIB (Produto Interno Bruto) oficial.

(<http://glo.bo/1fBmRxj>. Adaptado)

A notícia publicada em agosto de 2015 refere-se

- (A) aos Estados Unidos.
- (B) ao Japão.
- (C) à Itália.
- (D) à Rússia.
- (E) à China.

27. Uma série de ataques coordenados, com explosões e tiroteios, aconteceu na noite de sexta-feira (13 de novembro de 2015) em diferentes locais da capital deste país europeu.

No sábado (14 de novembro), o Estado Islâmico assumiu a autoria dos atentados em série. No comunicado, disse que o país é o “principal alvo” do grupo e destacou que a localização dos ataques foi cuidadosamente estudada.

(<http://rss.uol.com.br/>. Adaptado)

Os atentados ocorreram

- (A) na Alemanha.
- (B) na França.
- (C) na Grécia.
- (D) no Reino Unido.
- (E) na Suécia.

28. No final do ano de 2015, as TVs, os jornais e as revistas fizeram um balanço dos principais fatos políticos e econômicos ocorridos no Brasil. No setor econômico, destacou-se o fato de

- (A) o Brasil não exportar mais soja para a China.
- (B) a inflação ter sido controlada e mantida em 3% no ano.
- (C) os empregos no setor industrial terem aumentado.
- (D) o PIB (Produto Interno Bruto) brasileiro ter “encolhido”.
- (E) o dólar ter se mantido em queda nos últimos meses do ano.

29. Observe a charge publicada em 17 de janeiro de 2016.



Chargeonline.com.br – © Copyright do autor

(<http://www.tribunadainternet.com.br>)

Sobre a Operação que inspirou a charge, é correto afirmar que

- (A) tem sido considerada a maior investigação de corrupção do país.
- (B) se desenvolve no Rio de Janeiro, onde está a base das investigações.
- (C) foi encerrada no final de 2015 com a prisão dos envolvidos.
- (D) foi criada para investigar fraudes nas exportações brasileiras.
- (E) se destina a recuperar recursos financeiros enviados para a Suíça.

30. Leia a notícia publicada em 19 de dezembro de 2015.

Estado de São Paulo cria força-tarefa para deter zika vírus

(<http://exame.abril.com.br>)

O zika vírus

- (A) é uma epidemia restrita aos estados litorâneos.
- (B) atinge somente mulheres grávidas e idosos.
- (C) deve se alastrar por muitos outros países do mundo.
- (D) está sendo controlado por uma nova vacina.
- (E) tem tratamento à base de antibióticos e analgésicos.

CONHECIMENTOS ESPECÍFICOS

31. A vigilância patrimonial é uma atividade autorizada, controlada e fiscalizada

- (A) pelo Departamento de Polícia Federal.
- (B) pela Polícia Militar.
- (C) pela Polícia Civil.
- (D) pela Guarda Municipal.
- (E) pela Vara Criminal.

32. Em todos os locais em que o vigilante atua, seu objetivo deve estar voltado à _____, à preservação da _____, à proteção da _____, à constatação de irregularidades com as correspondentes providências e a satisfação do usuário final.

Assinale a alternativa que completa, correta e respectivamente, o enunciado.

- (A) garantia da ordem pública ... saúde ... integridade física
- (B) garantia da ordem interna ... vida ... ordem externa
- (C) proteção do patrimônio ... vida ... ordem pública
- (D) garantia da ordem interna e externa ... integridade patrimonial ... vida
- (E) garantia da ordem interna ... integridade patrimonial ... integridade pessoal

33. São, entre outros, pilares do relacionamento interpessoal no trabalho:

- (A) autoconhecimento e vaidade pessoal.
- (B) assertividade e intransigência.
- (C) arrogância e assertividade.
- (D) autoconhecimento e cordialidade.
- (E) intolerância e intransigência.

34. São, entre outros, exemplos de pontos vulneráveis ou de riscos:

- (A) paredes externas e portas de sanitários.
- (B) acessos não controlados e ausência de medida de segurança.
- (C) botijão de gás e garrafas de álcool.
- (D) gabinetes e salas de conferência.
- (E) caixas de disjuntores e tomadas energizadas.

35. Com relação ao controle de entrada e saída de veículos, é correto afirmar que o vigia deverá

- (A) evitar a inspeção visual do veículo visando não constranger os ocupantes.
- (B) evitar a identificação do condutor quando houver a identificação da placa do veículo, sendo esta relacionada.
- (C) fazer o devido registro dos dados de acordo com as normas estabelecidas.
- (D) em se tratando de veículo com compartimento fechado, verificar apenas a nota fiscal não havendo a necessidade de fiscalizar o interior do baú.
- (E) evitar a fiscalização do veículo de pessoa conhecida, de forma a não gerar situações constrangedoras.

36. São, entre outros, fatores positivos que, num somatório geral, irão contribuir para uma boa qualidade no atendimento público:

- (A) compreensão mútua e comportamento defensivo.
- (B) comportamento receptivo e empatia.
- (C) comportamento defensivo e empatia.
- (D) empatia e intolerância.
- (E) comportamento receptivo e defensivo.

37. _____ trata-se de mera peça informativa a respeito dos dados relacionados com a prática da infração penal, como, por exemplo, as partes envolvidas, as testemunhas, o local e os objetos inerentes à natureza da infração penal, as perícias que deverão ser realizadas, enfim, todos os atos necessários para a efetiva investigação criminal.

Assinale a alternativa que completa corretamente o enunciado.

- (A) Processo Judicial
- (B) Relatório de Vigilância
- (C) Controle de entrada
- (D) Denúncia do Promotor
- (E) Boletim de Ocorrência

38. No atendimento de ligações telefônicas, o vigia deverá

- (A) falar naturalmente e claramente, somente o necessário.
- (B) utilizar sempre termos técnicos, pois esta forma de atender valoriza o serviço do órgão.
- (C) não localizando o funcionário, informar a sua rotina diária (horário de entrada e saída), visando facilitar a sua localização na próxima ligação.
- (D) utilizar-se, quando possível, de termos como “querida”, “amor”, “benzinho”, pois as pessoas gostam desse tipo de tratamento.
- (E) atender ao telefone somente após o terceiro toque, aguardando para confirmar a ligação.

39. O triângulo do fogo é formado por

- (A) pressão, combustível e chama.
- (B) oxigênio, hidrogênio e nitrogênio.
- (C) papel, cigarro e lata de lixo.
- (D) calor, combustível e comburente.
- (E) fogo, incêndio e bombeiro.

40. Constatando um incêndio, o vigia deverá telefonar para o Corpo de Bombeiros, por meio do número

- (A) 153.
- (B) 192.
- (C) 193.
- (D) 181.
- (E) 194.

