



PREFEITURA MUNICIPAL DE ALUMÍNIO

ESTADO DE SÃO PAULO

CONCURSO PÚBLICO

007. PROVA OBJETIVA

AUXILIAR DE CONSULTÓRIO DENTÁRIO

- ◆ Você recebeu sua folha de respostas e este caderno contendo 40 questões objetivas.
- ◆ Confira seus dados impressos na capa deste caderno e na folha de respostas.
- ◆ Quando for permitido abrir o caderno, verifique se está completo ou se apresenta imperfeições. Caso haja algum problema, informe ao fiscal da sala.
- ◆ Leia cuidadosamente todas as questões e escolha a resposta que você considera correta.
- ◆ Marque, na folha de respostas, com caneta de tinta azul ou preta, a letra correspondente à alternativa que você escolheu.
- ◆ A duração da prova é de 3 horas, já incluído o tempo para o preenchimento da folha de respostas.
- ◆ Só será permitida a saída definitiva da sala e do prédio após transcorridos 75% do tempo de duração da prova.
- ◆ Deverão permanecer em cada uma das salas de prova os 3 últimos candidatos, até que o último deles entregue sua prova, assinando termo respectivo.
- ◆ Ao sair, você entregará ao fiscal a folha de respostas e este caderno, podendo levar apenas o rascunho de gabarito, localizado em sua carteira, para futura conferência.
- ◆ Até que você saia do prédio, todas as proibições e orientações continuam válidas.

AGUARDE A ORDEM DO FISCAL PARA ABRIR ESTE CADERNO DE QUESTÕES.

Nome do candidato _____

RG _____

Inscrição _____

Prédio _____

Sala _____

Carteira _____

01. Leia a tirinha.

HAGAR DIK BROWNE



(Folha de S. Paulo, 23 de abril de 2016)

(Personagens: à esquerda, Eddie Sortudo, no centro, a garçonete, e à direita, Hagar.)

O efeito de humor se deve

- (A) ao pronto atendimento da garçonete ao pedido de Hagar.
- (B) à interpretação dada por Hagar à sugestão de Eddie Sortudo.
- (C) ao fato de Eddie Sortudo não saber que vacas são vegetarianas.
- (D) à falta de atenção da garçonete ao pedido de Hagar.
- (E) à apreciação de Hagar pela comida vegetariana.

Leia o texto para responder às questões de números 02 a 09.

Os perigos de estar sempre conectado

Quem acha que o comportamento dos jovens – e de muitos adultos – que não desgrudam os olhos e os dedos da tela de um celular quando estão em grupo é apenas sinal de falta de educação ou de respeito com quem está em volta pode começar a se preocupar com outras questões mais sérias.

Um novo estudo da Universidade Estadual de Michigan, nos Estados Unidos, mostra que mesmo os alunos mais inteligentes podem piorar seu desempenho acadêmico quando o uso de celulares, tablets ou notebooks torna-se frequente em sala de aula. Foram avaliados 500 alunos de psicologia. Todos eles (mesmo aqueles com melhores habilidades intelectuais) tiveram uma queda de rendimento e notas, à medida que crescia o uso de internet durante as aulas – olhando notícias, respondendo a e-mails ou publicando nas redes sociais.

Se o fenômeno ocorre com os mais jovens – em teoria, mais bem adaptados a administrar múltiplas tarefas ao mesmo tempo –, não é difícil imaginar que os mais velhos enfrentem o mesmo tipo de problema em seu trabalho, quando pulverizam sua atenção em estímulos vindos do celular e dos computadores. Os resultados desse trabalho da Universidade de Michigan sugerem que as atividades extremamente envolventes da internet podem tirar até os mais “brilhantes” do rumo.

Outro estudo, em Atlanta, nos Estados Unidos, investigou o fenômeno das mensagens pelo celular. O resultado mostrou que 41% dos jovens que já dirigem admitiram ter mandado um texto ou um e-mail enquanto guiavam seu carro. Em alguns Estados, esse índice ultrapassou 60%. Trata-se, claramente, de um comportamento cada vez mais comum entre eles. A questão aqui é a habilidade em conduzir um veículo de maneira segura quando o foco de atenção do motorista, além dos olhos e das mãos, está longe do volante. Os jovens, que tendem a ter comportamentos mais impulsivos, correm maior risco de acidentes.

Como não é possível imaginar um mundo e uma escola sem celulares e internet, o importante é saber qual o momento mais adequado e seguro para usar essas tecnologias. Que tal desligar o aparelho e prestar um pouco mais de atenção à aula e ao trânsito?

(Jairo Bouer. Época, 30 de junho de 2014. Adaptado)

02. De acordo com as informações do texto,

- (A) além de significar, para alguns, falta de educação usar demasiadamente o celular quando se está com outras pessoas, ele pode representar também prejuízo de outra ordem.
- (B) a Universidade de Michigan não considera falta de respeito ficar falando ao celular o tempo todo quando se está em grupo de pessoas amigas.
- (C) o uso frequente do celular em sala de aula causa aos alunos menos inteligentes prejuízo em seu desempenho escolar, o que não ocorre com os mais inteligentes.
- (D) à medida que cresce o uso do celular em sala de aula, respondendo a e-mails, os bons alunos aperfeiçoam suas habilidades e apresentam melhorias em seu rendimento escolar.
- (E) os adultos, diferentemente dos jovens, quando estão no trabalho, não ficam com os olhos e os dedos na tela de um celular porque se desconcentram e consideram-no prejudicial à saúde.

03. O autor do texto sugere que

- (A) celulares e computadores devem ser definitivamente proibidos nas escolas para que os alunos possam melhor se concentrar nas aulas.
- (B) teoricamente, pessoas mais velhas têm a capacidade de realizar várias atividades ao mesmo tempo, o que não acontece com os jovens.
- (C) os estímulos atraentes que vêm do celular e do computador fazem com que as pessoas mais velhas se concentrem mais em seus trabalhos.
- (D) o uso do celular em sala de aula deve se restringir a ocasiões adequadas a fim de que a atenção do aluno não seja desviada para outro foco.
- (E) as pessoas mais velhas estão imunes aos danos que o uso indiscriminado da tecnologia virtual causa aos jovens.

04. De acordo com o penúltimo parágrafo do texto, é correto afirmar que

- (A) uma pesquisa em Atlanta mostrou que mais da metade dos jovens que já dirigem cogitaram em mandar e-mails enquanto guiavam.
- (B) o número de jovens impulsivos que mandam texto ou e-mail enquanto estão dirigindo é insignificante e eles são hábeis, não desgrudam as mãos do volante.
- (C) para maior segurança, os olhos e as mãos podem estar distantes do volante, desde que o motorista tenha muita atenção e habilidade ao dirigir um veículo.
- (D) se o motorista tem a atenção no volante, não é perigoso mandar e-mails ou textos, desde que ele saiba dominar seus impulsos.
- (E) jovens normalmente agem mais irrefletidamente que adultos, por isso, ao enviarem e-mails enquanto dirigem, estão mais sujeitos a se envolverem em desastres.

05. Leia os seguintes trechos.

Todos eles tiveram uma queda de rendimento e notas à medida que crescia o uso de internet... (2º parágrafo)
Como não é possível imaginar um mundo e uma escola sem celulares e internet, o importante é ... (5º parágrafo)

As conjunções em destaque estabelecem, respectivamente, entre as orações, relações de

- (A) conclusão e oposição.
- (B) proporcionalidade e adição.
- (C) proporcionalidade e causa.
- (D) conclusão e comparação.
- (E) conformidade e condição.

06. Assinale a alternativa cuja frase apresenta palavra ou expressão empregada com sentido figurado.

- (A) ... mostra que mesmo os alunos mais inteligentes podem piorar seu desempenho acadêmico... (2º parágrafo)
- (B) ... imaginar que os mais velhos enfrentem o mesmo tipo de problema em seu trabalho, quando pulverizam sua atenção em estímulos... (3º parágrafo)
- (C) ... não é difícil imaginar que os mais velhos enfrentem o mesmo tipo de problema em seu trabalho... (4º parágrafo)
- (D) ... o importante é saber qual o momento mais adequado e seguro para usar essas tecnologias. (5º parágrafo)
- (E) Que tal desligar o aparelho e prestar um pouco mais de atenção à aula e ao trânsito? (5º parágrafo)

07. Nos trechos dos terceiro e quarto parágrafos – ...tiveram uma queda de rendimento e notas, à medida que crescia o uso de internet durante as aulas ... – e – Trata-se, claramente, de um comportamento cada vez mais comum entre eles. – os termos destacados expressam, correta e respectivamente, sentidos de

- (A) lugar e intensidade.
- (B) tempo e comparação.
- (C) modo e afirmação.
- (D) modo e modo.
- (E) tempo e modo.

08. Assinale a alternativa em que a frase do texto, ao ser reescrita, está de acordo com a norma-padrão quanto à pontuação e à colocação pronominal.

- (A) Atualmente devido ao uso indiscriminado do celular as escolas, enfrentam problemas com os alunos porque estes não concentram-se nas aulas.
- (B) Atualmente, devido ao uso indiscriminado do celular as escolas, enfrentam problemas, com os alunos porque estes não se concentram nas aulas.
- (C) Atualmente, devido ao uso indiscriminado do celular, as escolas enfrentam problemas com os alunos porque estes não se concentram nas aulas.
- (D) Atualmente, devido ao uso indiscriminado, do celular, as escolas enfrentam, problemas com os alunos porque estes, não concentram-se nas aulas.
- (E) Atualmente devido ao uso indiscriminado do celular, as escolas, enfrentam problemas, com os alunos, porque estes não concentram-se nas aulas.

09. A alternativa cuja frase possui a concordância de acordo com a norma-padrão é:

- (A) O uso de internet durante as aulas fizeram o rendimento dos alunos piorarem.
- (B) Administrar múltiplas tarefas ao mesmo tempo não constituem privilégio dos jovens.
- (C) Os resultados de uma pesquisa mostrou que as atividades fascinantes da internet podem tirar o foco dos estudos.
- (D) A maioria dos jovens não desgruda os olhos do celular quando está em grupo.
- (E) O índice de jovens que dirige e usa o celular ao mesmo tempo ultrapassaram os 60%.

10. Assinale a alternativa que completa, correta e respectivamente, de acordo com a norma-padrão da língua portuguesa, as lacunas do texto.

Jovens e adolescentes estão cada vez mais conectados _____ internet pelo celular. Calcula-se que _____ muitos equipamentos para cada grupo de pessoas. Este é um sinal _____ estamos cada vez mais conectados. E sabe-se, também, que o uso abusivo do celular é prejudicial _____ todos e que, se esse quadro se _____, teremos sérios problemas.

- (A) à ... haja ... de que ... a ... mantiver
- (B) a ... haja ... que ... à ... mantiver
- (C) à ... hajam ... de que ... a ... manter
- (D) a ... hajam ... de que ... à ... manter
- (E) à ... hajam ... que ... a ... mantiver

11. A tabela mostra a movimentação da conta corrente de uma pessoa no mês de abril.

Dia	Movimentação	Valor
12	Saldo	+R\$ 528,00
15	Farmácia	-R\$ 130,00
17	Supermercado	-R\$ 275,00
25	Depósito	?
25	Salto total	+R\$ 255,00

O valor do depósito feito no dia 25 foi de

- (A) R\$ 155,00.
- (B) R\$ 147,00.
- (C) R\$ 138,00.
- (D) R\$ 132,00.
- (E) R\$ 123,00.

12. Em um escritório há 96 pastas que precisam ser arquivadas.

Na 1ª hora de serviço foram arquivados $\frac{3}{8}$ do número total de

pastas e, na 2ª hora de serviço, foram arquivados $\frac{4}{5}$ das

pastas restantes. O número de pastas que ainda precisam ser arquivadas é

- (A) 12.
- (B) 16.
- (C) 18.
- (D) 20.
- (E) 22.

13. Em certo dia, em um consultório médico, foram agendadas 28 consultas. Sabendo que a razão entre o número de pacientes que não compareceram à consulta e o número de pacientes que compareceram foi de $\frac{1}{6}$, então, o número

de pacientes que não compareceram à consulta nesse dia foi

- (A) 5.
- (B) 4.
- (C) 3.
- (D) 2.
- (E) 1.

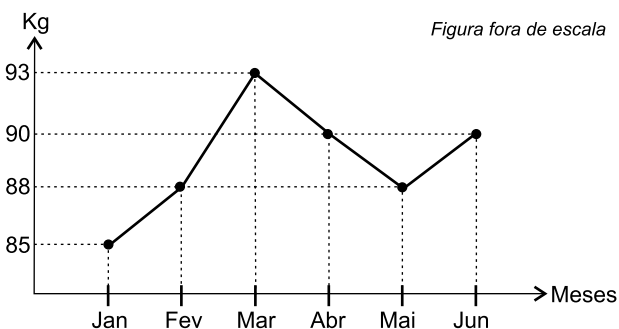
14. Uma pessoa comprou dois frascos de sabonete líquido, cada um com 900 mL, e os diluiu na seguinte proporção: 100 mL de água para 400 mL de sabonete. Com esses dois frascos de sabonete comprados, a quantidade, em mL, que essa pessoa poderá fazer de sabonete diluído (sabonete + água) é
- (A) 2850.
 - (B) 2700.
 - (C) 2550.
 - (D) 2400.
 - (E) 2250.
15. Uma loja comprou um lote com 150 lâmpadas, sendo 30% delas de luz verde, 20% das lâmpadas restantes de luz azul, e as demais de luz branca. O número de lâmpadas de luz branca era
- (A) 70.
 - (B) 76.
 - (C) 84.
 - (D) 88.
 - (E) 92.
16. Para confeccionar um lote de camisetas, uma costureira leva 10 dias, trabalhando 4 horas por dia. Se essa costureira trabalhar 5 horas por dia, o número de dias necessários para confeccionar o mesmo lote de camisetas será
- (A) 5.
 - (B) 6.
 - (C) 7.
 - (D) 8.
 - (E) 9.
17. Com o dinheiro que uma pessoa possui na carteira é possível comprar 6 canetas, todas de mesmo preço, e ainda resta R\$ 1,10. Porém, se ela quiser comprar 8 dessas canetas, ficará faltando R\$ 1,30. O valor, em dinheiro, que essa pessoa possui na carteira é
- (A) R\$ 8,30.
 - (B) R\$ 8,50.
 - (C) R\$ 8,90.
 - (D) R\$ 9,20.
 - (E) R\$ 9,60.

18. A tabela mostra a duração de cada uma das 5 faixas de um CD de música clássica.

faixas	duração
1	5 minutos e 30 segundos
2	?
3	6 minutos e 18 segundos
4	4 minutos e 42 segundos
5	5 minutos e 45 segundos

Sabendo-se que o tempo total de duração dessas 5 faixas é 28 minutos e 27 segundos, então, o tempo de duração da 2ª faixa é

- (A) 5 minutos e 50 segundos.
 (B) 5 minutos e 56 segundos.
 (C) 6 minutos e 02 segundos.
 (D) 6 minutos e 08 segundos.
 (E) 6 minutos e 12 segundos.
19. Com a água que estava em uma jarra foi possível encher 3 canecas, cada uma delas com 320 mL; 4 copos, com 130 mL cada um e ainda restaram 120 mL de água dentro da jarra. A quantidade de água, em litros, que estava inicialmente dentro da jarra era
- (A) 1,4.
 (B) 1,5.
 (C) 1,6.
 (D) 1,7.
 (E) 1,8.
20. O gráfico mostra a variação da massa corporal, em kg, de uma pessoa no decorrer dos seis primeiros meses do ano de 2016.



De acordo com as informações apresentadas no gráfico, é correto afirmar que a massa corporal dessa pessoa

- (A) sempre diminuiu entre março e junho.
 (B) apresentou a maior redução mensal entre março e abril.
 (C) atingiu o menor valor em maio.
 (D) aumentou somente entre janeiro e março.
 (E) apresentou o maior aumento mensal entre maio e junho.

ATUALIDADES

Leia a notícia do dia 14 de abril de 2016.

21. Para o Brasil, os sinais de melhora da _____ são importantes. Apesar da queda no preço das *commodities*, a _____ continua a ser o maior comprador no exterior dos produtos brasileiros –18,6% das nossas exportações rumaram para os portos da _____ no ano passado.

(<http://folha.com/no1761155>. Adaptado)

As três lacunas devem ser corretamente preenchidas com:

- (A) França.
 - (B) China.
 - (C) Itália.
 - (D) Suécia.
 - (E) Holanda.
22. O presidente do país vizinho decretou nesta quarta-feira (06/04) que, diante da severa seca provocada pelo fenômeno El Niño, haverá feriado nas sextas-feiras, como parte de um “plano especial” para poupar energia elétrica. O país, que viveu uma dura crise elétrica em 2010, ainda sofre constantes apagões, especialmente nas províncias.

(<http://glo.bo/1UY5FVO>. Adaptado)

A notícia refere-se

- (A) à Venezuela.
- (B) à Bolívia.
- (C) ao Peru.
- (D) ao Equador.
- (E) ao Chile.

23. O vírus da zika chegou ao Brasil muito antes do que se imaginava, segundo um estudo publicado nesta quinta-feira (24/03) na revista “Science”.

(<http://glo.bo/1VKv3gQ>. Adaptado)

Assinale o texto que completa corretamente a notícia acima.

- (A) A epidemia ainda se restringe ao Brasil, não tendo atingido outros países.
 - (B) O zika está associado a vários problemas, sendo a microcefalia o mais conhecido.
 - (C) A epidemia tem âmbito restrito e felizmente não se alastra por grandes áreas.
 - (D) A vacina que protege da doença já está sendo oferecida aos idosos e às crianças.
 - (E) O inseto que transmite a doença não deve ser confundido com o mosquito da dengue.
24. Segundo o site www.adorocinema.com, até o mês de abril de 2016, o filme brasileiro com maior número de ingressos vendidos foi
- (A) De onde eu te vejo.
 - (B) Mundo cão.
 - (C) Os dez mandamentos.
 - (D) Reza a lenda.
 - (E) Que horas ela volta?

25. Em 13 de março, o juiz Sérgio Moro afirmou que gostaria que a Operação chegasse ao seu fim até dezembro. Ele tem dito a interlocutores que esta é a sua ‘expectativa’.

(<http://politica.estadao.com.br/blogs/fausto-macedo/moro-sonha-com-fim-ate-dezembro/>. Adaptado)

A Operação citada pelo juiz Sergio Moro denomina-se


- (A) Zelotes.
- (B) Acarajé.
- (C) Castelo de areia.
- (D) Petrolão.
- (E) Lava jato

26. Em alguns cargos, é comum a necessidade de anotar recados ou outras pequenas informações. No MS-Windows 7, em sua configuração padrão, existe um aplicativo acessório que permite fazer anotações na forma de bilhetes na Área de Trabalho.

Assinale a alternativa que contém o aplicativo descrito no enunciado.

- (A) Bloco de Notas.
- (B) WordPad.
- (C) Acessibilidade.
- (D) Recados.
- (E) Notas Autoadesivas.

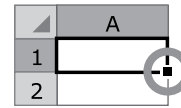
27. O trecho do documento exibido a seguir está sendo editado por meio do MS-Word 2010, em sua configuração padrão, e foi obtido após a digitação de uma palavra em cada parágrafo, seguido da aplicação de formatação de alinhamento de texto.



Assinale a alternativa que correlaciona corretamente os parágrafos ao respectivo alinhamento aplicado.

- (A) Jogo – justificado; Tesoura – alinhado à esquerda.
- (B) Pedra – justificado; Papel – alinhado à direita.
- (C) Pedra – centralizado; Tesoura – alinhado à direita.
- (D) Tesoura – centralizado; Pedra – justificado.
- (E) Jogo – justificado; Papel – alinhado à esquerda.

28. A imagem a seguir foi retirada do MS-Excel 2010, em sua configuração padrão, e mostra uma célula selecionada.



Assinale a alternativa que contém o nome dado ao local marcado com um círculo.

- (A) Menu de contexto.
- (B) Alça de preenchimento.
- (C) Aba de funções.
- (D) Auxiliar de formatações.
- (E) Menu auxiliar.

29. Ao criar uma nova apresentação de slides, por meio do MS-PowerPoint 2010, em sua configuração padrão, a orientação padrão do slide é

- (A) Exibição de Leitura.
- (B) Normal.
- (C) Mestre.
- (D) Paisagem.
- (E) Retrato.

30. É importante reconhecer o padrão de endereços de e-mails válidos no momento em que se anota o endereço de e-mail de alguém, de modo a minimizar a chance de anotá-lo erroneamente.

Assinale a alternativa que contém o formato correto para endereços de e-mail.

- (A) bla.blabla.com.br
- (B) blabla@br
- (C) bla@blabla.com.br
- (D) www.bla.com.br
- (E) @blabla.com.br

CONHECIMENTOS ESPECÍFICOS

31. Higiene bucal adequada é uma das medidas fundamentais para a saúde bucal e sistêmica, logo, a técnica deve ser observada e adaptada às condições clínicas do paciente. Frente ao exposto, é correto afirmar que
- (A) em algumas situações, o paciente poderá ser encorajado a evitar a higiene bucal por ser incômoda ou haver risco de hemorragia, como após a extração dentária.
 - (B) após cirurgia periodontal, o paciente deve ser orientado a realizar uma escovação rigorosa com a finalidade de remover o sangue que ficou impregnado.
 - (C) paciente hipertenso deve ser orientado a evitar passar o fio dental em áreas onde se observa sangramento gengival provocado pelas medicações, evitando machucar o sulco gengival.
 - (D) paciente portador de prótese fixa deve ser orientado a utilizar o passa-fio com o fio dental por debaixo dos pânticos.
 - (E) paciente portador de prótese total deve ser orientado a utilizar a escova macia com pasta dental sem flúor para higienizar todas as áreas da prótese e não riscá-la.
32. Dentre as tarefas diárias que se executam durante o expediente, está o processamento radiográfico e seu arquivamento. É fundamental para a obtenção da radiografia com qualidade considerar que
- (A) durante a revelação, se obtenha um véu químico de brometo de prata que garanta o contraste e a fixação da imagem.
 - (B) a lavagem da película deve ser diminuta, permitindo que a solução fixadora permaneça em pequena quantidade, possibilitando a validade da imagem ao longo do tempo.
 - (C) a temperatura do revelador altera o tempo do processo de revelação e a qualidade radiográfica.
 - (D) após a imersão na solução reveladora, o filme radiográfico deverá ser imediatamente imerso na solução fixadora para que a imagem adquira o máximo de nitidez.
 - (E) antes da imersão da película na solução reveladora, ela deve ser imersa em água por 5 minutos para retirar qualquer resíduo de radiação.
33. Paciente apresenta dor contínua, exacerbada pelo calor no molar superior esquerdo. Após o diagnóstico preciso, o cirurgião dentista propõe o tratamento endodôntico desse elemento dental. Durante a fase de preparo do canal, o material que deve estar disponível para a utilização é
- (A) fluoreto de sódio.
 - (B) solução de fenol.
 - (C) hipoclorito de sódio.
 - (D) detergente enzimático.
 - (E) solução iodada.
34. A respeito dos materiais de moldagem de uso odontológico, é correto afirmar que
- (A) siliconas apresentam menor fidelidade quando comparadas às ceras.
 - (B) pasta zinco-eugenólica é utilizada para a moldagem de bocas totalmente desdentadas.
 - (C) godiva é um material que adere perfeitamente à moldadeira por ser elástica.
 - (D) o tempo de manipulação dos materiais para moldagem é maior que 60 minutos.
 - (E) alginato apresenta maior precisão quando comparado ao eucaliptol.
35. A manipulação do gesso e a confecção dos modelos estão presentes na prática clínica odontológica e deve-se considerar que
- (A) quanto menos água na mistura com o gesso, maior o tempo de presa.
 - (B) uma maior velocidade de espatulação da mistura gesso e água aumenta o tempo de presa do gesso.
 - (C) a temperatura entre os limites de 20 °C e 25 °C tem grande influência no tempo de presa do gesso.
 - (D) acrescentar cloreto de sódio na mistura gesso e água altera o tempo de presa.
 - (E) água em excesso na mistura com gesso aumenta a resistência do modelo.
36. O compasso de Willis, calcadores de Paiva, grampos para isolamento, curetas Gracey e Mc Cal são instrumentais odontológicos utilizados, respectivamente, nas especialidades:
- (A) prótese, endodontia, dentística e periodontia.
 - (B) dentística, endodontia, cirurgia, periodontia.
 - (C) endodontia, endodontia, dentística e cirurgia.
 - (D) periodontia, endodontia, endodontia e cirurgia.
 - (E) prótese, periodontia, endodontia e cirurgia.

37. Os materiais odontológicos que podem ser utilizados durante os procedimentos clínicos de restauração de resina composta, restauração de amálgama, obturação endodôntica, cimentação de núcleo radicular e restauração provisória são, respectivamente:
- (A) ácido fosfórico 37%, verniz cavitário, cone de guta-percha, cimento de fosfato de zinco, e cimento de óxido de zinco e eugenol.
 - (B) ácido acético 37%, cimento de hidróxido de cálcio, cimento de óxido de zinco e eugenol, cimento resinoso e resina composta.
 - (C) adesivo dentinário, cimento de hidróxido de cálcio, cimento de fosfato de zinco, cimento de óxido de zinco e eugenol, e amálgama.
 - (D) ácido fluorídrico 10%, verniz cavitário, cone de guta-percha, cimento de fosfato de zinco, e cimento de óxido de zinco e eugenol.
 - (E) adesivo dentinário, verniz cavitário, cimento de óxido de zinco e eugenol, cimento de ionômero de vidro e cone de guta-percha.
38. Paciente grávida, de 25 anos, comparece ao consultório e relata preocupação frente ao sangramento gengival nunca observado. Diante da situação clínica, é correto afirmar que
- (A) se deve descrever de maneira clara na ficha da paciente e encaminhar para uma aplicação tópica de flúor, objetivando o controle do sangramento gengival.
 - (B) é dispensável a descrição na ficha da paciente por ser uma situação corriqueira sem possibilidade de evolução da doença.
 - (C) se deve relatar na ficha clínica a queixa da paciente e a gravidez, além de orientá-la quanto às técnicas de higiene e controle de placa bacteriana.
 - (D) o uso de selantes nos dentes será indicado pela condição sistêmica apresentada, o qual controlará o sangramento gengival.
 - (E) é possível que a paciente apresente fluorose, provocando fragilidade capilar e sangramento gengival.
39. Dentre as atribuições específicas do auxiliar de consultório dentário, é correto citar:
- (A) proceder à esterilização do ambiente de trabalho com a sanificação do material, mantendo os cuidados para a conservação dos equipamentos.
 - (B) realizar procedimento educativo, preventivo, emergencial, e orientar cuidados pós-operatórios, mesmo na ausência do técnico de higiene dental e do cirurgião-dentista.
 - (C) preparar o instrumental metálico e desinfetá-lo em hipoclorito de sódio de 0,5 a 5% para o próximo atendimento.
 - (D) anestesiá-lo paciente, sempre com a autorização do cirurgião-dentista, quando este estiver impossibilitado, porém presente.
 - (E) realizar procedimentos coletivos como escovação supervisionada, evidenciação de placa bacteriana e bochechos fluorados na Unidade Básica de Saúde da Família e espaços sociais identificados.
40. Ácido paracético 0,2%, clorexidina 0,12%, glutaraldeído 2%, fluoreto de sódio a 0,05%, álcool etílico a 70% são utilizados, respectivamente, com as seguintes finalidades:
- (A) solução bucal anti-tártaro de uso diário, desinfetante de epiderme, desinfetante de alto nível por imersão, composição da pasta dental, desinfetante de nível intermediário de artigos e superfícies.
 - (B) desinfetante de alto nível por imersão, solução bucal anti-cárie, desinfetante de baixo nível por meio de fricção, solução semanal de bochecho bucal, desinfetante de nível intermediário por meio de imersão.
 - (C) solução de enxágue bucal pós-cirúrgico, solução bucal para doenças periodontais, desinfetante de alto nível por meio de imersão, solução de bochecho diário, desinfetante de nível intermediário utilizado por meio de fricção.
 - (D) desinfetante de nível intermediário por imersão, solução bucal anti-cárie, desinfetante de baixo nível por meio de fricção, solução diária de bochecho bucal, desinfetante de nível intermediário por meio de imersão.
 - (E) desinfetante de alto nível por meio de imersão, solução de enxágue bucal pós-cirúrgica, desinfetante de alto nível por meio de imersão, solução de bochecho diário, desinfetante de nível intermediário utilizado por meio de fricção

