


**PROVA PARA PROVIMENTO DO CARGO DE**  
**AGENTE ADMINISTRATIVO – AUXILIAR DE CONSULTÓRIO DENTÁRIO –**  
**AUXILIAR DE SALA – EDUCADOR SOCIAL – AUXILIAR DE FARMÁCIA –**  
**FISCAL DE OBRAS – FISCAL DE TRIBUTOS – FISCAL SANITÁRIO-**  
**ORIENTADOR SOCIAL – PROFESSOR ZONA RURAL**  
**TIPO DE PROVA “1”**

**INSTRUÇÕES:**

- ✓ Deixe sobre a carteira apenas o documento de identificação e a caneta esferográfica de tinta preta ou azul, de material transparente.
- ✓ Preencha o **CARTÃO DE IDENTIFICAÇÃO**, com as informações solicitadas.
- ✓ Confira se sua prova é para o cargo ao qual se inscreveu e se a mesma contém 40 questões, numeradas de 1 a 40. Caso contrário, informe imediatamente ao fiscal de sala.
- ✓ Não serão aceitas reclamações posteriores por falha de impressão e/ou total de questões.
- ✓ Para cada questão existe apenas **UMA** resposta certa.
- ✓ A resposta certa deve ser marcada no **CARTÃO DE RESPOSTA**.

**VOCÊ DEVE:**

- ✓ Verificar o **TIPO DE SUA PROVA**, descrito acima, e preencher o quadrado do **CARTÃO DE RESPOSTA** ao qual ela corresponder, conforme ao lado demonstrado.
- CARTÃO RESPOSTA**  
Tipo de Prova:  1  2  3  4
- ✓ Verificar, no caderno de provas qual é a letra (A, B, C, D) da resposta que você escolheu e preencher essa letra no **CARTÃO DE RESPOSTA**.
  - ✓ Forma correta de preencher o **Tipo de Prova** e o **Cartão de Resposta (Gabarito):** 

**ATENÇÃO:**

- ✓ As marcações duplas, rasuradas ou marcadas diferente do modelo acima, ocasionará a anulação de sua prova e/ou questões.
- ✓ É de responsabilidade do candidato o preenchimento dos dados do **CARTÃO DE RESPOSTA**.
- ✓ A prova terá duração de **04h**, incluído neste horário, o tempo para o preenchimento do **CARTÃO DE RESPOSTA**.
- ✓ A saída da sala só poderá ocorrer depois de decorridos 30 (trinta) minutos do início das provas.
- ✓ Ao sair da sala, entregue o **CARTÃO DE RESPOSTA**, **CADERNO PROVA** e o **CARTÃO DE IDENTIFICAÇÃO** ao fiscal da sala e retire-se imediatamente do local de aplicação das provas.

## PORTUGUÊS

### (Texto 01)

1 Em surpreendente decisão por unanimidade, vereadores de Curitiba aprovaram um projeto de lei que proíbe o uso de veículos movidos por tração animal. Em resumo, isso significa o seguinte: carroça, só se for puxada pelos nossos parentes literalmente mais próximos: os *Homo sapiens*.

A decisão levanta um profundo paradoxo ético: vivemos a humanização do animal ou a animalização do humano? Com o nobre objetivo de evitar que carnicheiros abusem dos cavalos, a resolução, ao proibir o uso de carroças dentro da cidade, não deixa dúvidas a respeito do quanto o nosso dilema pode ser tremendamente significativo.

Entretanto, as perguntas mais importantes a serem feitas neste momento são outras: a preocupação com os maus-tratos e, conseqüentemente, com a saúde dos animais implica a proibição do uso de todos os

10 veículos com tração animal? Vale mesmo a pena transformar um problema acidental – a “desumana” maneira como os alguns animais vêm sendo tratado pelos seus proprietários – em um problema formal? Os equinos e bovinos, juntamente com lobos e cachorros, estão entre os primeiros animais domesticados. Durante as caçadas pré-históricas, os filhotes, que continuavam perto das mães assassinadas, eram recolhidos e criados em cativeiro, começando-se assim uma longa história de convivência (parasitária, é

15 verdade) entre espécies. Acredito que a única resposta sensata para essas duas perguntas só poderá ser um categórico “não”. Não resta dúvida de que os maus-tratos com relação aos animais deveriam ser considerados crime. Mas criminalizar o uso de todos os animais para a suposta nobreza do nosso desenvolvimento obviamente não faz o menor sentido. O excesso dessa humanidade com relação aos animais, no fundo, caracteriza o forte

20 indicio de que ainda não superamos a nossa própria condição animal.

(Adaptado de Gazeta do Povo, 06/10/2015)

1. Assinale a alternativa correta em relação às ideias do texto:

- a) O autor evidentemente não é favorável à aprovação do projeto de lei, pois é contra a desumanização dos animais.
- b) Os animais devem ser tratados como seres em equidade com os humanos, uma vez que tratamento diferenciado é considerado crime.
- c) Ser contra os maus-tratos aos animais não equivale a proibir o uso de todos os veículos de tração animal, pois, neste caso, restaria tal tarefa ao homem.
- d) Os animais existem para suprir as necessidades do homem, sendo, portanto, irracional o projeto de lei aprovado.

2. De acordo com as ideias do texto, durante as caçadas pré-históricas:

- a) Todos os filhotes encontrados eram recolhidos e mantidos em cativeiro.
- b) Apenas os filhotes que estavam perto da mãe assassinada eram recolhidos e mantidos em cativeiro.
- c) Todos os filhotes mantinham-se perto das mães assassinadas e eles eram recolhidos e mantidos em cativeiro.
- d) Os filhotes mantidos em cativeiro foram encontrados com as mães assassinadas.

3. Avalie as propostas de reelaboração do seguinte trecho do texto:

“Em resumo, isso significa o seguinte: carroça, só se for puxada pelos nossos parentes literalmente mais próximos: os *Homo sapiens*.”  
(Linhas 2 e 3)

I. Em resumo isso significa, o seguinte: carroça só se for puxada pelos nossos parentes, literalmente, mais próximos - os *Homo sapiens*.

II. Em resumo isso significa o seguinte: carroça, só se for puxada pelos nossos parentes literalmente mais próximos; os *Homo sapiens*.

III. Em resumo isso, significa o seguinte: carroça - só se for puxada pelos nossos parentes, literalmente mais próximos - os *Homo sapiens*.

A relação entre as ideias e a correção gramatical é respeitada em:

- a) Em I
- b) Em II
- c) Em III
- d) Em nenhuma propostas.

4. Assinale a opção incorreta em relação ao período “Não resta dúvida de que os maus-tratos com relação aos animais deveriam ser considerados crime.” (linha 17):

- a) O período possui uma oração principal e uma oração subordinada.
- b) A locução verbal “deveriam ser considerados” poderia ser corretamente substituída por “deveriam serem considerados”.
- c) O núcleo do sujeito da locução verbal “deveriam ser considerados” é a expressão “maus-tratos”.
- d) “Não” é um adjunto adverbial de negação.

5. A respeito da concordância e da coesão textual, analise as afirmativas a seguir e assinale a alternativa correta:

- a) A palavra “puxada” (linha 3) concorda em gênero e número com a palavra a que se refere “carroça” (linha 2)
- b) O verbo “resta” (linha 17) concorda com seu sujeito oculto, por isso está na terceira pessoa do singular.
- c) A expressão “não deixa dúvidas” (linha 6) concorda com o seu sujeito “objetivo” (linha 5)

d) A expressão “essas duas perguntas” (linha 16) refere-se à pergunta feita no segundo parágrafo do texto e à pergunta feita no terceiro parágrafo do texto.

6. Analise as afirmativas abaixo e assinale a opção correta:

- I. A palavra “ético” (linha 4) é acentuada pela regra que vogal “e” aberta leva acento agudo.
- II. A forma “começando-se” (linha 14) poderia ser corretamente substituída por “se começando”, sem alteração da correção gramatical do texto.
- III. A partícula “que” (linha 16) e a partícula “que” (linha 17) exercem a mesma função morfológica.

- a) Apenas I está correto.
- b) Apenas II está incorreto.
- c) Apenas III está correto.
- d) Todas estão corretas.

7. Assinale a opção que apresenta uma palavra que no texto exerça a mesma função sintática que a partícula “que” (linha 1):

- a) “que” (linha 13)
- b) “convivência” (linha 14)
- c) “que” (linha 17)
- d) “humanidade” (linha 19)

8. Assinale a opção que preenche corretamente as lacunas das frases abaixo na ordem em que aparecem:

“ \_\_\_ bem dos teus animais!”  
 “ \_\_\_ vai parar a falta de consciência do homem?”  
 “Os animais não estão sendo cuidados \_\_\_?”

- a) Cuida – Onde – por quê
- b) Cuide – Aonde – porquê
- c) Cuida – Aonde – por que
- d) Cuide – Onde - porque

(Texto 2)



(revistaescola.abril.com.br, em 12/10/2015)

9. Em relação aos quadrinhos acima, assinale a opção correta:

- a) É correto afirmar que Calvin sentiu-se mais desesperado com o término do tempo do que com a aposta feita com o colega.
- b) Os desenhos são fundamentais para a interpretação visual dos sentimentos de Calvin durante a história.
- c) O colega de Calvin estava sendo irônico ao lembrá-lo da aposta, irritando-o ainda mais.
- d) A professora de Calvin estava aparentemente sem paciência com a demora de Calvin para entregar o teste.

10. Em relação às estruturas linguísticas dos quadrinhos, assinale a opção correta:

- a) O uso da palavra “onde” no primeiro quadrinho está incorreto, devendo ser substituída por “aonde”.
- b) O uso do imperativo em “entregue” na fala da professora está incorreto, devendo ser substituído por “entrega”.

c) Poderíamos reescrever a fala do colega de Calvin com correção gramatical na forma: “Não se esqueça da nossa aposta de quem vai tirar a maior nota.”

d) A professora de Calvin utiliza um aposto em sua fala.

11. As aparições no último quadrinho das palavras “aposta”, “aposto” e “apostas” são classificadas morfologicamente, respectivamente, como:

- a) Adjetivo – Advérbio – Substantivo
- b) Substantivo – Verbo – Substantivo
- c) Advérbio – Verbo – Adjetivo
- d) Substantivo – Verbo – Advérbio.

12. Substituindo as palavras destacadas das frases abaixo por pronomes oblíquos, temos:

I. Dei a ele todos os exemplares.

II. Compramos os livros como o professor orientou.

III. Acharam o programa muito interessante.

- a) I. Dei-lhe ; II. Compramo-lo; III. Acharam-no
- b) I. Dei-lo; II. Compramos-no; III. Acharam-lhe
- c) I. Dei-lhe ; II. Compramo-no; III. Acharam-o
- d) I. Dei-lhe; II. Compramos-lhe; III. Acharam-no

13. Assinale a opção em que o verbo foi empregado incorretamente:

- a) Os pais intervieram na briga dos filhos.
- b) Quando reouvermos o dinheiro, pagaremos.
- c) O fato é que os jurados não haviam previsto a conjuntura.
- d) Diego não intervêm em casos como este.

14. Assinale o grupo de palavras em que todas as palavras estão corretamente grifadas:

- a) vatapá – vírus – excessão
- b) pretenção – moinho – excelente
- c) escândalo – admissão – agasalho
- d) xuxu – acessível – boia

15. Assinale a alternativa que apresenta erro na forma do plural:

- a) escritorezinhos; sóis; arco-íris
- b) salário-famílias; girassóis; anãos
- c) projéteis; tórax; atuns
- d) fregueses; ônibus; peixes-espadas

## MATEMÁTICA

16. Na compra de uma sala de jantar qual o desconto oferecido pelo lojista onde o produto comprado ficou com  $\frac{6}{8}$  do preço original.

- a) 30%
- b) 25%
- c) 20%
- d) 15%

17. Resolva a inequação abaixo:

$$"27x - 35 < 15x + 1"$$

- a)  $X < 3$ .
- b)  $X > 5$ .
- c)  $X < 5$ .
- d)  $X > 3$ .

18. Resolva esta potencia:

$$"7^4"$$

- a) 11
- b) 49.
- c) 343.
- d) 2.401.

19. Calcule a soma dos 6 primeiros termos da P. G. (2, 6, 18, ...):

- a)  $S_n = 827$ .
- b)  $S_n = 586$ .
- c)  $S_n = 678$ .
- d)  $S_n = 728$ .

20. Qual a probabilidade de você acertar uma questão se houver quatro possíveis alternativas e somente uma correta?

- a)  $\frac{1}{5}$
- b)  $\frac{1}{1}$
- c)  $\frac{1}{6}$
- d)  $\frac{1}{4}$

21. Havendo um acréscimo de 25% no produto de R\$ 120,00 qual o valor referente ao aumento?

- a) R\$ 25,00
- b) R\$ 30,00
- c) R\$ 35,00
- d) R\$ 40,00

22. Calcule a média entre 15, 36 e 48:

- a) 36.
- b) 25.
- c) 38.
- d) 33.

23. Dê o resultado em metros para:

*"32dm + 63,8 cm + 600mm"*

- a) 3,548m.
- b) 1,985m.
- c) 4,438m.
- d) 2,356m.

24. O poliedro que tem 10 arestas é chamado de:

- a) Octaedro.
- b) Hexaedro.
- c) Icosaedro.
- d) Heptaedro.

25. Uma escola tem 70 pessoas trabalhando diariamente. 30% delas são mulheres. Quantos homens trabalham neste prédio?

- a) 35.
- b) 54.
- c) 49.
- d) 40.

26. Um rolo de 2,5 m de tecido custa R\$ 80,75. Qual o valor do metro?

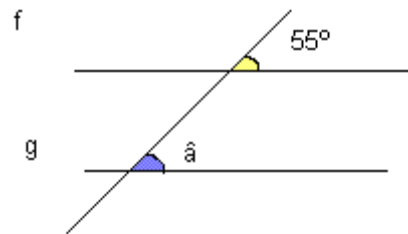
- a) R\$ 32,30
- b) R\$ 32,75
- c) R\$ 33,28

d) R\$ 40,37

27. Qual o número que multiplicado por 5 somado a 8 dividido por 3 e subtraído por 8 dá 58 como resposta:

- a) 22
- b) 18
- c) 38
- d) 25

28. Qual a medida do ângulo abaixo representado pela reta g?



- a) 35°.
- b) 60°.
- c) 45°.
- d) 55°.

29. Aplicando um capital de R\$ 4500,00, durante 5 meses, a uma taxa de juros x ao mês, no regime de juros simples, gerará um montante de R\$ 5850,00. O valor de x é:

- a) 5%
- b) 3%
- c) 4%
- d) 6%

30. Quantos minutos são 2h 45m?

- a) 120 minutos.
- b) 145 minutos.
- c) 165 minutos.
- d) 190 minutos.

### **INFORMÁTICA**

31. Item considerado de entrada e saída de dados:

- a) Mouse
- b) Impressora multifuncional
- c) Monitor
- d) Placa de Som

32. Quando precisamos selecionar uma palavra de forma rápida em um documento do MS Word, podemos clicar em cima dessa palavra:


- a) Uma vez.
- b) Duas vezes.
- c) Três vezes.
- d) Uma vez e manter pressionado o clique por 2 segundos.

33. Não é um Browser de internet:

- a) TelNet.
- b) Safari.
- c) Firefox.
- d) Chrome.

34. Para eliminar os vírus do computador devemos:

- a) Não acessar sites de conteúdo duvidoso.
- b) Não usar o computador em rede.
- c) Rodar um antivírus semanalmente.
- d) Limpar o computador com uma flanela.

35. Qual a função do botão  no Office?

- a) Mudar a caixa do caractere (minúsculo/maiúsculo).
- b) Dar efeitos nos textos selecionados.
- c) Aumentar o tamanho do caractere.
- d) Mudar a cor do caractere.

### **CONHECIMENTOS GERAIS**

36. A energia fotovoltaica possui duas possíveis formas de ser coletadas, seja por lâminas ou por painéis conhecidos por painéis fotovoltaicos, tanto um como o outro são compostos de um material que possui capacidade de capturar a

radiação liberada pelo \_\_\_\_\_ e produzir energia elétrica.

Complete a lacuna corretamente:

- a) Sol.
- b) Vento.
- c) Mar.
- d) Urânio.

37. Existem durante o ano quatro estações climáticas, são elas: outono, inverno, primavera e verão. No mês de abril a estação climática é:

- a) Outono.
- b) Inverno.
- c) Primavera.
- d) Verão.

38. Assinale a alternativa incorreta. Na América do Sul, são países que tem como presidente atualmente uma mulher:

- a) Chile.
- b) Argentina.
- c) Brasil.
- d) Venezuela.

39. A Semana de Arte Moderna de vinte e dois, foi realizada entre os dias 11 e 18 de fevereiro de 1922. A semana foi um marco na história da arte brasileira. Dos nomes abaixo foi um artista da pintura brasileira:

- a) Salvador Dalí.
- b) Rafael Rodrigues.
- c) Di Cavalcanti.
- d) Anita de Souza.

40. São países que tem como idioma o português, exceto:

- a) Portugal.
- b) Angola.
- c) Guiné Equatorial.
- d) Cabo Verde.