



## PREFEITURA DA ESTÂNCIA HIDROMINERAL DE POÁ

ESTADO DE SÃO PAULO

Concurso Público

### 056. PROVA OBJETIVA

#### Terapeuta Ocupacional

- ◆ Você recebeu sua folha de respostas e este caderno contendo 60 questões objetivas.
- ◆ Confira seus dados impressos na capa deste caderno e na folha de respostas.
- ◆ Quando for permitido abrir o caderno, verifique se está completo ou se apresenta imperfeições. Caso haja algum problema, informe ao fiscal da sala.
- ◆ Leia cuidadosamente todas as questões e escolha a resposta que você considera correta.
- ◆ Marque, na folha de respostas, com caneta de tinta azul ou preta, a letra correspondente à alternativa que você escolheu.
- ◆ A duração da prova é de 3 horas e 30 minutos, já incluído o tempo para o preenchimento da folha de respostas.
- ◆ Só será permitida a saída definitiva da sala e do prédio após transcorridos 75% do tempo de duração da prova.
- ◆ Ao sair, você entregará ao fiscal a folha de respostas e este caderno, podendo levar apenas o rascunho de gabarito, localizado em sua carteira, para futura conferência.
- ◆ Até que você saia do prédio, todas as proibições e orientações continuam válidas.

**AGUARDE A ORDEM DO FISCAL PARA ABRIR ESTE CADERNO DE QUESTÕES.**

Nome do candidato \_\_\_\_\_

Prédio \_\_\_\_\_

Sala \_\_\_\_\_

Carteira \_\_\_\_\_

Inscrição \_\_\_\_\_

## CONHECIMENTOS GERAIS

### LÍNGUA PORTUGUESA

Leia o texto, para responder às questões de números **01** a **09**.

Em 1956, John McCarthy, um cientista da computação do Dartmouth College, então com menos de 30 anos, cunhou a expressão inteligência artificial (IA). De forma simples como os aros pesados de seus óculos, ele definiu o novo campo de estudos: “A engenharia de fabricar máquinas inteligentes”.

A ambição de criar robôs dotados de esperteza é anterior, remete aos mitos da Grécia antiga, tal qual o de Talo, o gigante de bronze criado pelos deuses. Mas foi só a partir de meados do século passado, com o trabalho de estudiosos como McCarthy, que a chance de produzir andróides começou a ser levada a sério. Rapidamente brotaram medos exagerados e possibilidades descabidas, refletidas na ficção em obras da literatura. O exemplo mais evidente é o clássico *Eu, Robô*, de Isaac Asimov – no qual se apresentaram as Três Leis da Robótica, que controlariam a IA e, desrespeitadas, gerariam monstros de ferro e alumínio nas veias. Hoje, sabe-se que não passa de bobagem a mirabolante visão de um futuro de guerras fratricidas contra nossas crias.

A IA progrediu e, silenciosamente, está perto de superar a capacidade mental humana, principalmente em tarefas padronizadas e exatas, como nos cálculos financeiros ou na promessa de carros sem motorista. Não há o conflito desenhado, a não ser no cinema. É cada um na sua. As máquinas não param de evoluir, mas estritamente como máquinas. Os humanos serão cada vez mais humanos, com fraquezas, inseguranças e imperfeições.

Pedir a um software capaz de pintar como Van Gogh que cortasse a própria orelha deixaria os algoritmos tontos, perdidos, incapazes de entender o comando suicida.

(Felipe Vilic, Raquel Beer e Rita Loiola, Cada um na sua. *Veja*, 22.07.2015, p. 78. Adaptado)

**01.** Segundo o texto, obras literárias de ficção, como *Eu, Robô*, de Isaac Asimov,

- (A) difundiram as descobertas da IA, levando ao público uma perspectiva realista de abordagem da robótica.
- (B) contribuíram para alavancar os estudos da ciência, levando os pesquisadores a superar os limites da IA.
- (C) pouco influenciaram as pesquisas sobre robôs, embora tais obras tenham estimulado a imaginação de muitos cientistas.
- (D) conseguiram frear o avanço de guerras envolvendo países que, em conjunto, formularam as Três Leis da Robótica.
- (E) criaram uma visão delirante acerca da robótica e da IA, prevendo confrontos bélicos entre humanos e robôs.

**02.** O comentário do último parágrafo é um argumento que exemplifica a seguinte afirmação do texto:

- (A) ... ele definiu o novo campo de estudos: “A engenharia de fabricar máquinas inteligentes”. (Primeiro parágrafo)
- (B) Hoje, sabe-se que não passa de bobagem a mirabolante visão de um futuro de guerras fratricidas contra nossas crias. (Segundo parágrafo)
- (C) A IA progrediu e, silenciosamente, está perto de superar a capacidade mental humana... (Terceiro parágrafo)
- (D) As máquinas não param de evoluir, mas estritamente como máquinas. (Terceiro parágrafo)
- (E) A ambição de criar robôs dotados de esperteza é anterior, remete aos mitos da Grécia antiga... (Segundo parágrafo)

**03.** Assinale a alternativa em que a palavra “então” está empregada com o sentido que tem na passagem – Em 1956, John McCarthy, um cientista da computação do Dartmouth College, **então** com menos de 30 anos, cunhou a expressão inteligência artificial (IA).

- (A) Trabalha até muito tarde; então, precisa dormir um pouco mais pela manhã.
- (B) Começou a trabalhar quando a empresa foi criada e, desde então, revelou-se um ótimo funcionário.
- (C) Se as medidas de segurança forem rigorosamente seguidas, então não teremos problemas com a fiscalização.
- (D) Comenta-se que novas demissões serão anunciadas amanhã. E então? Será verdade?
- (E) Então, como é? Vamos ou não vamos fazer negócios com essa empresa?

**04.** Assinale a alternativa contendo sinônimos, respectivamente, das palavras destacadas em:

- Rapidamente brotaram medos exagerados e possibilidades **descabidas**, refletidas na ficção em obras da literatura.
- A IA progrediu e, silenciosamente, está perto de superar a capacidade mental humana, principalmente em tarefas **padronizadas** e exatas...

- (A) sem tamanho / normais
- (B) enormes / excepcionais
- (C) imprudentes / perfeitas
- (D) despropositadas / estandardizadas
- (E) desnecessárias / regradas

Para responder às questões de números **05** e **06**, considere a seguinte passagem:

A ambição de criar robôs dotados de esperteza é anterior, remete aos mitos da Grécia antiga, **tal qual** o de Talo, o gigante de bronze criado pelos deuses. **Mas** foi só a partir de meados do século passado, com o trabalho de estudiosos como McCarthy, que a chance de produzir andróides começou a ser levada a sério.

**05.** Mantendo-se o sentido do texto, as expressões destacadas podem ser substituídas, respectivamente, por:

- (A) como / Todavia
- (B) ainda que / Contanto que
- (C) como tal / Ora
- (D) assim / Onde
- (E) embora / Porém

**06.** A passagem – ... com o trabalho de estudiosos como McCarthy... – expressa, no contexto, circunstância de

- (A) companhia, com o sentido de “junto do trabalho de estudiosos como McCarthy”.
- (B) tempo, com o sentido de “ao longo do trabalho de estudiosos como McCarthy”.
- (C) causa, com o sentido de “graças ao trabalho de estudiosos como McCarthy”.
- (D) modo, com o sentido de “à maneira do trabalho de estudiosos como McCarthy”.
- (E) finalidade, com o sentido de “para o trabalho de estudiosos como McCarthy”.

**07.** Assinale a alternativa em que, reescritas, as frases – ... a chance de produzir andróides começou a ser levada a sério. / Não há o conflito desenhado, a não ser no cinema. – têm concordância verbal e nominal de acordo com a norma-padrão.

- (A) As chances de se produzirem andróides começou a ser levada a sério. / Não haviam os conflitos desenhados, a não serem no cinema.
- (B) As chances de se produzirem andróides começaram a ser levadas a sério. / Não havia os conflitos desenhados, a não ser no cinema.
- (C) As chances de se produzir andróides começaram a serem levado a sério. / Não havia os conflitos desenhados, a não serem no cinema.
- (D) As chances de se produzirem andróides começaram a ser levado a sério. / Não haviam os conflitos desenhado, a não ser no cinema.
- (E) As chances de se produzir andróides começou a serem levados a sério. / Não havia os conflitos desenhado, a não ser no cinema.

**08.** Assinale a alternativa que reescreve o trecho destacado em – Pedir a um software capaz de pintar como Van Gogh **que cortasse a própria orelha deixaria os algoritmos tontos, perdidos, incapazes de entender o comando suicida.** – de acordo com a norma-padrão de emprego do sinal indicativo de crase e de colocação de pronomes.

- (A) ... que se dispusesse à mutilação, cortando a própria orelha, mexeria com os algoritmos e deixaria-os tontos, perdidos e incapazes de obedecer a ordem suicida.
- (B) ... que dispusesse-se a mutilação, cortando a própria orelha, mexeria com os algoritmos e deixaria-os tontos, perdidos e incapazes de obedecer à ordem suicida.
- (C) ... que se dispusesse à mutilação, cortando a própria orelha, mexeria com os algoritmos e os deixaria tontos, perdidos e incapazes de obedecer à ordem suicida.
- (D) ... que dispusesse-se a mutilação, cortando a própria orelha, mexeria com os algoritmos e deixá-los-ia tontos, perdidos e incapazes de obedecer a ordem suicida.
- (E) ... que se dispusesse a mutilação, cortando a própria orelha, mexeria com os algoritmos e deixaria eles tontos, perdidos e incapazes de obedecer à ordem suicida.

**09.** Assinale a alternativa em que a pontuação e o emprego de pronomes e verbos estão de acordo com a norma-padrão.

- (A) Sabe-se hoje, que: não passa de bobagem a mirabolante visão, onde se delineia um futuro de guerras, fratricidas, contra até, nossas crias.
- (B) Na concepção literária onde o objetivo não é científico, os robôs afiguram-se, a seres monstruosos compostos somente de: ferro e alumínio.
- (C) A ideia de criar robôs não é recente; advém da antiguidade grega, que os mitos dela (como o de Talo), já haviam criado um gigante de bronze.
- (D) Já perto de superar a capacidade, humana a IA evolue em tarefas padronizadas o qual é exemplo: o cálculo financeiro.
- (E) De McCarthy, cujo trabalho no campo da ciência da computação foi pioneiro, proveio a famosa expressão “inteligência artificial”.

10. Para responder a esta questão, considere a tira.



(André Dahmer, Malvados. Folha de S. Paulo, 21.07.2015)

O efeito de sentido de humor, na tira, deve-se

- (A) à ambiguidade produzida no contexto pela fala do último quadrinho.
- (B) ao emprego em sentido figurado das palavras “produtividade” e “acabou”.
- (C) à ideia de que o fim da produtividade é a razão do fim do casamento.
- (D) ao emprego das palavras “trabalho” e “casamento” em sentido próprio.
- (E) à declaração da impossibilidade de conciliar trabalho e casamento no Facebook.

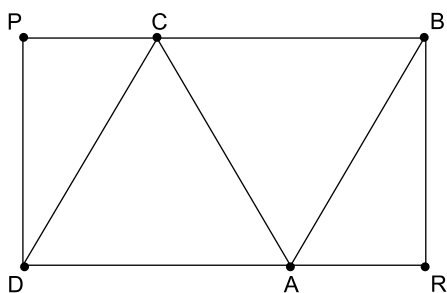
## MATEMÁTICA

11. Um refresco deve ser preparado na razão de 6 partes de água para 1 parte de suco concentrado. Ao preparar um grande tonel desse refresco, Raul colocou 5 litros de suco concentrado e 17 litros de água. Para deixar o refresco na proporção indicada, Raul pode adicionar a esse tonel
- (A) 1 litro de suco.
  - (B) 6 litros de suco.
  - (C) 8 litros de suco.
  - (D) 8 litros de água.
  - (E) 13 litros de água.
12. Amanda conseguiu guardar 75% do dinheiro que precisava para comprar um carro, e seu pai decidiu ajudá-la completando os 25% que faltavam. Quando chegou à concessionária, foi informada de que o modelo que ela desejava teve um aumento de 5%, e então era R\$ 1.366,00 mais caro. Amanda desistiu do negócio e devolveu ao seu pai o dinheiro que ele havia lhe dado, que foi
- (A) R\$ 6.320,00.
  - (B) R\$ 6.566,00.
  - (C) R\$ 6.830,00.
  - (D) R\$ 7.042,00.
  - (E) R\$ 7.128,00.
13. O responsável pela área de pagamentos de uma empresa encontra três colegas de trabalho e afirma:
- “A média dos seus salários é R\$ 1.800,00.”
- Os três colegas desconheciam os salários uns dos outros, mas sabem que na empresa os salários vão de R\$ 1.000,00 a R\$ 2.000,00 e são múltiplos de R\$ 100,00, o que permite afirmar com certeza sobre os ganhos desses três colegas que
- (A) um deles ganha menos de R\$ 1.500,00.
  - (B) pelo menos um deles ganha mais de R\$ 1.800,00.
  - (C) os três ganham mais de R\$ 1.500,00 cada.
  - (D) nenhum ganha R\$ 1.300,00.
  - (E) dois ganham menos de R\$ 2.000,00.
14. Um comerciante vendeu duas máquinas por R\$ 19.500,00 cada. Uma das máquinas foi vendida por um preço 25% superior ao preço de custo, e a venda da outra máquina resultou em prejuízo de 20% sobre o preço de custo. Em relação aos preços de custo, o valor obtido com a venda dessas duas máquinas
- (A) resultou em prejuízo de R\$ 975,00.
  - (B) resultou em prejuízo de R\$ 390,00.
  - (C) não gerou nem lucro nem prejuízo.
  - (D) gerou lucro de R\$ 205,00.
  - (E) gerou lucro de R\$ 800,00.

15. Um atleta percorre um trecho de bicicleta e depois volta por esse mesmo trecho correndo, em um total de 59 minutos. Se esse atleta percorrer esse trecho na ida e na volta de bicicleta, ele levará 17 minutos. Logo, para correr o trecho na ida e na volta, o atleta levará
- (A) 1 h 25 min.  
(B) 1 h 37 min.  
(C) 1 h 41 min.  
(D) 1 h 50 min.  
(E) 1 h 52 min.

16. Em um acampamento militar, 18 soldados estão em treinamento, e os mantimentos que possuem são suficientes para mais 8 dias. Um outro grupo em treinamento, em um acampamento próximo ao primeiro grupo, conta com 6 soldados e possui mantimentos para 12 dias. Após 2 dias de treinamento, os dois grupos se juntam e passam a compartilhar seus provimentos. A partir desse agrupamento e considerando que todos os soldados sempre comem uma mesma quantidade diária de alimento, o número de dias em que eles ainda poderão se alimentar é igual a
- (A) 6.  
(B) 7.  
(C) 8.  
(D) 9.  
(E) 10.

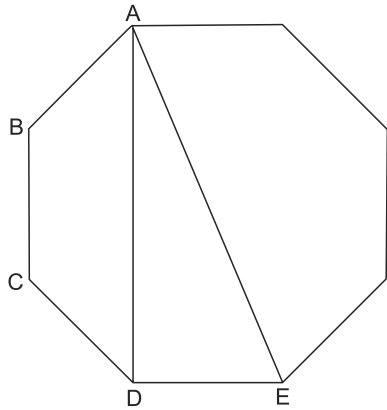
17. Os triângulos ABC e ACD são equiláteros e têm  $9\sqrt{3}$  cm<sup>2</sup> de área cada um, com os pontos A e C pertencentes aos lados do retângulo BPDR, conforme mostra a figura.



A área desse retângulo, em cm<sup>2</sup>, vale

- (A)  $21\sqrt{3}$ .  
(B) 39.  
(C)  $24\sqrt{3}$ .  
(D) 45.  
(E)  $27\sqrt{3}$ .

18. A figura ilustra um octógono regular de lado  $\sqrt{2}$  cm.



Sendo a altura do trapézio ABCD igual a 1 cm, a área do triângulo retângulo ADE vale, em  $\text{cm}^2$ ,

- (A) 5.  
 (B) 4.  
 (C)  $\sqrt{5}$ .  
 (D)  $\sqrt{2} + 1$ .  
 (E) 2.
19. Juliana é 5 anos mais velha que sua irmã Bruna e 2 anos mais nova que sua irmã Gabriela. O produto das idades de Gabriela e Bruna é 108 a mais que a média das idades dessas três irmãs. O produto das idades de Bruna e Juliana é igual a
- (A) 104.  
 (B) 126.  
 (C) 150.  
 (D) 176.  
 (E) 192.
20. Joana e Beatriz trabalham com manuseio e postagem de encomendas. Todos os dias, cada uma delas deve preparar X encomendas. Joana sempre precisa de 7 horas para terminar o serviço, e Beatriz sempre precisa de 6 horas. Um certo dia, foi determinado que elas trabalhassem juntas para preparar as X encomendas e verificou-se que elas prepararam 3 pacotes a mais por hora do que era o esperado pela soma da força de trabalho individual de cada uma. Se nesse dia elas prepararam as X encomendas em 3 horas, então, em um dia normal, quando cada uma deve preparar X encomendas, a eficiência de Beatriz é maior do que a de Joana, em encomendas por hora, em
- (A) 2.  
 (B) 3.  
 (C) 6.  
 (D) 7.  
 (E) 9.

## ATUALIDADES

21. A equipe econômica diminuiu para R\$ 8,747 bilhões – 0,15% do Produto Interno Bruto (PIB, soma das riquezas produzidas no país) – a meta de superávit primário do setor público para este ano. O indicador mede a economia de recursos para pagar os juros da dívida pública.

(EBC, 22 jul. 15. Disponível em: <http://goo.gl/YdmYRr>. Adaptado)

Essa diminuição ocorreu devido

- (A) à política de investimentos do governo, que levou a um aumento de gastos públicos.
- (B) ao impacto no orçamento do reajuste de salários dos servidores do Poder Judiciário aprovado pelo Congresso.
- (C) à queda na arrecadação federal provocada pela retração na economia.
- (D) ao custo que o reajuste das aposentadorias muito acima da inflação terá para o governo.
- (E) aos prejuízos causados pela valorização do real, que amplia o endividamento público.

22. O movimento de Boicote, Desinvestimento e Sanções contra Israel (BDS) pediu aos músicos brasileiros Caetano Veloso e Gilberto Gil para cancelarem o seu show em Tel Aviv, em Israel, marcado para 28 de julho.

(Folha.com, 10 mai. 15. Disponível em: <http://goo.gl/Dhtqzg>. Adaptado)

O pedido se deu porque, para o movimento, realizar o show significa

- (A) aceitar a posse de inúmeras ogivas nucleares pelo exército de Israel.
  - (B) apoiar implicitamente a ocupação da Palestina por israelenses.
  - (C) concordar com a política israelense de combate armado ao Estado Islâmico.
  - (D) legitimar as guerras que Israel travou contra o Líbano nos anos 1980 e 1990.
  - (E) consentir com a ameaça de ataque de Israel às instalações nucleares do Irã.
23. A noite mais violenta do ano na Grande São Paulo deixou ao menos 18 pessoas mortas e seis feridas, em um intervalo de aproximadamente três horas. Os crimes ocorreram na noite desta quinta-feira (13 de agosto), dentro de um raio de 10 km.

(Folha.com, 14 ago. 15. Disponível em: <http://goo.gl/X110RE>. Adaptado)

Os crimes a que se refere o trecho ocorreram nas cidades de

- (A) Taboão da Serra e Embu das Artes.
- (B) Carapicuíba e Jandira.
- (C) Suzano e Mogi das Cruzes.
- (D) Guarulhos e Mairiporã.
- (E) Osasco e Barueri.

24. Sete crianças e oito adultos que permaneciam como reféns por remanescentes do grupo guerrilheiro Sendero Luminoso foram resgatados pelas Forças Armadas, que na segunda-feira passada libertaram outros 26 menores, informou o governo. As sete crianças foram encontradas em um estado de saúde deplorável, com doenças na pele e desnutrição. Elas receberam atendimento médico imediato, afirmou o vice-ministro da Defesa, Iván Vega. As crianças têm idades entre 4 e 13 anos. Também foram resgatados oito adultos, entre mulheres e idosos.

(G1, 1 ago. 15. Disponível em: <http://goo.gl/vkXqQm>. Adaptado)

O resgate ocorreu

- (A) no Peru.
- (B) na Venezuela.
- (C) na Colômbia.
- (D) na Bolívia.
- (E) no Equador.

25. A China vai continuar comprando ações para estabilizar seu mercado financeiro, minimizando o impacto das perdas, informou a agência estatal do país nesta segunda-feira (27 de julho), depois que a Bolsa de Xangai despencou mais de 8%, com a maior queda em oito anos. O governo chinês continuará liberando recursos, informou a agência estatal do país Xinhua, que citou o porta-voz da Comissão de Valores Mobiliários da China.

(G1, 27 jul. 15. Disponível em: <http://goo.gl/ArJcrV>. Adaptado)

É correto identificar como uma das causas da queda abrupta da Bolsa de Xangai


- (A) o aquecimento recente da economia chinesa, insustentável do ponto de vista da infraestrutura energética.
- (B) a espiral inflacionária à qual está submetida a economia chinesa, o que mina a confiança dos investidores.
- (C) a assinatura de um acordo comercial entre os EUA e o Japão, que ameaça a hegemonia econômica chinesa na Ásia.
- (D) o esgotamento das políticas de transferência de renda do governo chinês que vinham mantendo a economia aquecida.
- (E) a alta da bolsa nos últimos meses, desconectada da economia real que está em desaceleração.

## NOÇÕES DE INFORMÁTICA

26. No MS-Windows 7, em sua configuração padrão, pode-se utilizar um aplicativo acessório padrão que, entre outras coisas, permite verificar o espaço em disco ocupado por arquivos e pastas. Assinale a alternativa que apresenta o nome desse aplicativo.

- (A) Windows Explorer.
- (B) Gerenciador de Uso de Espaço.
- (C) Monitor.
- (D) Media Center.
- (E) Calculadora.

27. As imagens a seguir foram retiradas do MS-Word 2010, em sua configuração padrão, e representam uma parte de um documento em dois momentos distintos: **antes** e **depois** da aplicação de um recurso de formatação de parágrafo.



Assinale a alternativa que contém o nome do recurso de formatação aplicado.

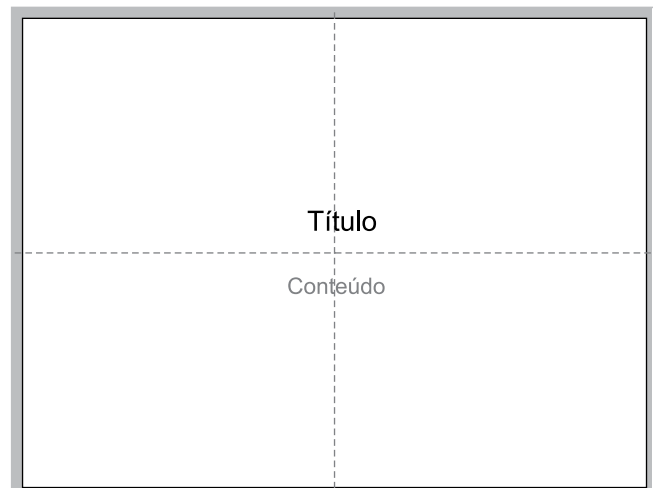
- (A) Centralizar.
- (B) Justificar.
- (C) Recuo.
- (D) Espaçamento.
- (E) Alinhamento.

28. Em uma nova planilha do MS-Excel 2010, em sua configuração padrão, que acaba de ser aberta e ainda não tem nenhuma formatação aplicada, um usuário digita o número 1 na célula A1 e tecla Enter. Depois, deseja formatar a célula A1 com Estilo de Porcentagem clicando no ícone % da Página Inicial, após selecionar a célula A1.

Assinale a alternativa que apresenta o valor que será exibido na célula A1, após o usuário efetuar a formatação descrita no enunciado.

- (A) 0,01%
- (B) 0,1%
- (C) 1%
- (D) 10%
- (E) 100%

29. Observe a imagem a seguir, retirada do MS-PowerPoint 2010, em sua configuração padrão. As linhas tracejadas foram exibidas ao se clicar em um recurso da guia Exibição.



Esse recurso é denominado

- (A) Régua.
- (B) Linhas de Grade.
- (C) Guias.
- (D) Escalas.
- (E) Zoom.

30. Um usuário que pretende enviar por e-mail um arquivo do MS-Word 2010 por meio do MS-Outlook 2010, em sua configuração padrão, pode, na janela de edição do e-mail, acionar o botão \_\_\_\_\_, localizado no grupo Incluir da guia Mensagem.

Assinale a alternativa que preenche corretamente a lacuna.

- (A) Anexar Item
- (B) Anexar Arquivo
- (C) Inserir Item
- (D) Inserir Arquivo
- (E) Incluir Anexo



## CONHECIMENTOS ESPECÍFICOS

31. Em relação ao contexto em que se desenvolveu a História da Terapia Ocupacional Social, assinale a alternativa correta.

- (A) A inserção de terapeutas ocupacionais no campo social teve início após o regime militar.
- (B) A inserção da terapia ocupacional no campo social combateu a reprodução do modelo de confinamento e disciplinarização às crianças e jovens pobres.
- (C) O terapeuta ocupacional social teve uma inserção precoce nas equipes multiprofissionais diante das outras categorias profissionais.
- (D) A inserção da terapia ocupacional no campo social se deu num momento em que o discurso científico justificava a segregação pela intenção da reeducação, da “cura”.
- (E) O termo Terapia Ocupacional Social foi pela primeira vez empregado em uma publicação no Brasil, num trabalho desenvolvido a partir da experiência na Fundação CASA / Rio de Janeiro junto a adolescentes, em 1979.

32. Assinale a alternativa correta.

- (A) O posicionamento político do terapeuta ocupacional que atua na área social deve se manter neutro diante das questões sociais que a ele se colocam.
- (B) Desde a década de 90, a Terapia Ocupacional Social vem se constituindo enquanto área de atuação que não se fundamenta nos referenciais teórico-metodológicos mais aplicados sobre os problemas do campo da saúde.
- (C) A questão social brasileira tem pouca influência na revisão das pertinências do papel profissional do terapeuta ocupacional na área social.
- (D) Cabe ao terapeuta ocupacional da área social constituir ações moduladas por procedimentos técnicos preestabelecidos.
- (E) A abordagem da pessoa é secundária no âmbito da terapia ocupacional social, uma vez que a família deve ser a categoria principal por meio da qual se analisa e intervém nos problemas enfocados nesse campo.

33. Em intervenções que visam o \_\_\_\_\_ de pessoas, grupo e/ou comunidades, a terapia ocupacional social utiliza as atividades enquanto tecnologias de \_\_\_\_\_, privilegiando processos de \_\_\_\_\_.

Assinale a alternativa que completa, correta e respectivamente, as lacunas da frase.

- (A) papel social ... emancipação ... histórias
- (B) papel emocional ... avaliação ... trabalho
- (C) papel social ... avaliação ... histórias
- (D) papel educacional ... avaliação ... trabalho
- (E) papel educacional ... emancipação ... histórias

34. No Brasil, a Reforma Psiquiátrica emergiu de um processo de crítica às instituições asilares e do esforço de transformação do modelo assistencial em saúde mental. Assinale a alternativa que expressa corretamente uma das relações estabelecidas entre a terapia ocupacional e a Reforma Psiquiátrica.

- (A) Os terapeutas ocupacionais foram impactados pela necessidade de se concentrar nos tratamentos reabilitativos, visando a remissão dos sintomas.
- (B) A Reforma Psiquiátrica provocou a expansão dos *settings* usuais de terapia ocupacional, na medida em que os terapeutas ocupacionais buscaram construir espaços de agregação, expressão e reflexão com foco na transformação cotidiana institucional.
- (C) Diante dos diversos obstáculos políticos, institucionais e técnicos, os terapeutas ocupacionais se depararam com barreiras que limitaram a sua participação nesse movimento.
- (D) Pautados nos referenciais da desinstitucionalização, os terapeutas ocupacionais foram levados a valorizar o papel das doenças mentais nas desordens ocupacionais.
- (E) No início da década de 90, os terapeutas ocupacionais que atuavam em saúde mental davam prioridade à reinserção de pessoas com transtorno psíquico grave na vida familiar e comunitária.

35. A Reforma Psiquiátrica brasileira colocou em pauta a necessidade de superação do modelo asilar e de criação de redes de atenção que contemplam as demandas de usuários e profissionais em um dado território concreto. Nessa perspectiva, a Rede de Atenção Psicossocial (RAPS) envolve diferentes componentes e pontos de atenção. Relacione corretamente alguns desses pontos, apresentados de I a IV, a uma das características apresentadas a seguir.

- I. CENTRO DE ATENÇÃO PSICOSSOCIAL (CAPS II)
- II. CENTRO DE CONVIVÊNCIA
- III. SERVIÇO RESIDENCIAL TERAPÊUTICO
- IV. COOPERATIVA SOCIAL

- ( ) Acolhe pessoas egressas de internações de longa permanência, oferecendo modalidade de atenção substitutiva a esta.
- ( ) Oferece espaços de sociabilidade, produção e intervenção na cultura e na cidade.
- ( ) É um dos pontos relacionados ao componente de Reabilitação Psicossocial.
- ( ) Está ligado ao componente Atenção Psicossocial Especializado, e oferece cuidado diário às pessoas com transtorno mental grave e persistente e pode atender usuários com necessidades decorrentes do uso de *crack*, álcool e outras drogas.

Assinale a ordem correta, de cima para baixo.

- (A) IV-III-II-I.
- (B) III-I-IV-II.
- (C) III-II-IV-I.
- (D) I-II-III-IV.
- (E) III-IV-II-I.

36. Foi a partir da promulgação da Constituição de 1988 e a implementação do Sistema Único de Saúde (SUS) que possibilitou o avanço para as novas formas de pensar e lidar com as pessoas em sofrimento psíquico. Assinale o item a seguir que corresponde aos programas que objetivam a transformação do modelo de atenção em saúde mental.
- (A) De Volta Para Casa – Economia Solidária – Residência Terapêutica.
- (B) Residência Terapêutica – Estratégia Saúde da Família – De Volta Para Casa.
- (C) Reestruturação da Assistência Psiquiátrica Hospitalar – Programa Saúde da Família – Economia Solidária.
- (D) De Volta Para Casa – Reestruturação da Assistência Psiquiátrica Hospitalar – Estratégia Saúde da Família.
- (E) Residência Terapêutica – Centro de Atenção Psicossocial – De Volta Para Casa.
37. O Brasil, devido à transição demográfica e epidemiológica, vem apresentando uma população crescente de idosos. Nessa população, há um aumento significativo das condições crônicas degenerativas, dentre elas, as demências que causam importantes comprometimentos cognitivos, emocionais e sociais no indivíduo acometido, impactando sua vida, sua família e sociedade em geral. Sendo o Terapeuta Ocupacional um dos profissionais que atuam junto a essa população com a estimulação cognitiva na atenção secundária, é correto afirmar que cabe ao terapeuta ocupacional
- (A) focar seu objetivos terapêuticos na estimulação da memória.
- (B) focar no treino das atividades básicas de vida diária.
- (C) identificar as habilidades que possam ser restauradas ou adaptadas no intuito de maximizar a independência e a autonomia desse idoso.
- (D) focar no treino das atividades instrumentais de vida diária.
- (E) acolher e atender as demandas trazidas pela família, diante do grande comprometimento cognitivo do idoso desde o início da doença.
38. O processo avaliativo de um idoso com quadro demencial é amplo e complexo, envolvendo o idoso e sua família. Considerando que uma das áreas de atuação do terapeuta ocupacional junto ao idoso com demência é a estimulação cognitiva, assinale a alternativa correta que contempla os principais pontos a serem considerados pelo terapeuta ocupacional numa avaliação inicial.
- (A) Desempenho Ocupacional – Avaliação Física – Mobilidade Funcional.
- (B) Avaliação Física – Situação Socioeconômica – Mobilidade Funcional.
- (C) Avaliação Física – Alterações Comportamentais – Situação Socioeconômica.
- (D) Cognição – Situação Socioeconômica – Mobilidade Funcional.
- (E) Desempenho Funcional – Cognição – Alterações Comportamentais.
39. O papel da Terapia Ocupacional gerontológica nos diferentes locais de atenção à pessoa idosa é variado. A Portaria 73 MPAS/SEAS 2001 tem como princípio norteador a prioridade aos serviços que privilegiam a permanência do idoso em sua família e considera-se o atendimento institucional a última alternativa. Dessa forma, relacione os itens de 1 a 4 de acordo com a principal função desempenhada pelo terapeuta ocupacional em cada local.
- (1) República
- (2) Centro de Convivência
- (3) Instituição de Longa Permanência
- (4) Centro Dia
- ( ) Planejamento do Cronograma de atividades de acordo com o perfil funcional e sócio-histórico.
- ( ) Desenvolvimento de trabalhos comunitários de promoção de saúde e cidadania.
- ( ) Facilitação dos processos de inserção comunitária.
- ( ) Caracteriza-se por ser um espaço para atender idosos que possuem limitações para a realização das Atividades de Vida Diária (AVD), que convivem com suas famílias, porém, não dispõem de atendimento de tempo integral no domicílio.
- Assinale a alternativa com a sequência correta, de cima para baixo.
- (A) 2-1-3-4.
- (B) 3-2-4-1.
- (C) 1-2-4-3.
- (D) 2-3-1-4.
- (E) 3-2-1-4.
40. A partir do conceito de Família Acolhedora que “é aquela que apresenta condições adequadas para receber o idoso...” “As famílias deverão ser cadastradas e capacitadas para oferecer abrigo às pessoas em situação de abandono, sem família ou impossibilitados de conviver com as mesmas. Nesse atendimento, que será continuamente supervisionado pelos órgãos gestores”, o papel do terapeuta ocupacional é
- (A) reabilitar de forma intensiva os casos internados apenas nas áreas físicas.
- (B) indicar o membro da família que deverá prestar os principais cuidados.
- (C) acompanhar periodicamente os idosos acamados.
- (D) colaborar na realização do cadastro das famílias.
- (E) promover a adequação ambiental da moradia definitiva.

41. As atividades terapêuticas ocupacionais para as pessoas idosas são planejadas num *continuum* de menor para maior complexidade, iniciando com as \_\_\_\_\_ que são os procedimentos que preparam o idoso para o desempenho ocupacional e são preliminares. Em seguida, as atividades \_\_\_\_\_ que são aquelas que estimulam o engajamento do idoso em atividades significativas que treinam as funções necessárias para a realização da atividade, e por último, as atividades \_\_\_\_\_ que são aquelas que denotam um objetivo, uma meta, para aquele idoso em específico.

Assinale a alternativa que completa, correta e respectivamente, as lacunas do texto.

- (A) coadjuvantes ... habilitadoras ... significantes
- (B) terapêuticas ... habilitadoras ... expressivas
- (C) coadjuvantes ... significantes ... expressivas
- (D) terapêuticas ... habilitadoras ... expressivas
- (E) significantes ... habilitadoras ... coadjuvantes

42. Estudos realizados sobre os efeitos da intervenção da terapia ocupacional junto a portadores da Doença de Alzheimer têm mostrado que esta se associa à diminuição dos distúrbios comportamentais, do uso de contenções físicas e do uso de medicamentos. Assinale a alternativa que apresenta os objetivos que orientam o trabalho do terapeuta ocupacional junto a idosos com esse tipo de demência.

- (A) Recuperar as habilidades funcionais e cognitivas perdidas.
- (B) Incentivar a participação do idoso em diversas atividades no intuito de combater a ociosidade.
- (C) Propor ao idoso atividades que o estimule a aprender nova habilidade.
- (D) Preservar habilidades remanescentes e minimizar as consequências dos déficits cognitivos.
- (E) Orientar a família quanto à necessidade de auxiliar o idoso em todas as suas atividades instrumentais e básicas de vida diária independentemente do seu nível de comprometimento.

43. O terapeuta ocupacional que atua em gerontologia deve estar familiarizado com alguns conceitos básicos. Relacione a segunda coluna com as definições correspondentes na primeira coluna.

(1) Idade Psicológica	( ) Tem relação com a capacidade de adequação do indivíduo ao desempenho de papéis e comportamentos esperados para a idade.
(2) Idade Social	( ) Está relacionada ao senso subjetivo do indivíduo em relação aos marcadores biológicos, sociais e psicológicos.
(3) Idade Biológica	( ) Está relacionada com critérios que definem os direitos e deveres da população.
(4) Idade Cronológica	( ) Serve como um referencial para o processo de socialização.

Assinale a sequência correta, de cima para baixo.

- (A) 1-2-3-4.
- (B) 2-4-1-3.
- (C) 3-2-1-4.
- (D) 2-1-4-3.
- (E) 4-1-3-2.

44. O terapeuta ocupacional que trabalha com idoso deve dominar conceitos fundamentais sobre essa clientela. Assinale a alternativa que apresenta corretamente um desses conceitos.

- (A) Senilidade é caracterizada por modificações determinadas pelo processo normal de envelhecimento.
- (B) Autonomia é capacidade de decisão e de comando diante de uma atividade.
- (C) Senescência é a consequência da somatória de alterações orgânicas, funcionais e psicológicas próprias do envelhecimento patológico.
- (D) Independência é a incapacidade do idoso funcionar satisfatoriamente sem ajuda.
- (E) Dependência é a capacidade de realizar sozinho todas as atividades básicas de vida diária.

45. A partir da década de 60, o envelhecimento populacional, que era um fenômeno conhecido em países europeus, passou a ser considerado nos países em desenvolvimento, como no Brasil. Esse aumento na proporção de idosos ocorreu devido à diminuição da mortalidade e da fecundidade, e prolongamento da esperança de vida. No que diz respeito aos principais conceitos utilizados na epidemiologia do envelhecimento, assinale a alternativa correta.
- (A) A feminização do envelhecimento é o processo caracterizado pelo aumento da prevalência de doenças crônicas entre as mulheres.
  - (B) A transição demográfica nas diversas regiões do Brasil se deu de maneira uniforme, não havendo diferenças entre as regiões.
  - (C) Transição Demográfica é o processo gradual pelo qual uma sociedade passa de uma situação de baixas taxas de mortalidade e fecundidade gerando o aumento da expectativa de vida e o envelhecimento populacional.
  - (D) Transição Epidemiológica refere-se a mudanças nos padrões de natalidade e fecundidade que caracterizam uma população.
  - (E) No Brasil, o envelhecimento populacional foi lento e gradativo, gerando demandas de criação de políticas públicas específicas para o segmento populacional idoso.
46. Sobre os contextos de atuação do profissional, cujos objetivos se orientam para o fornecimento da inclusão escolar de crianças e jovens com deficiência, pode-se afirmar corretamente que
- (A) o terapeuta ocupacional pode contribuir para a desmistificação das necessidades das crianças e/ou jovens com deficiência.
  - (B) frequentemente existe clara convergência entre os pontos de vista dos educadores e dos terapeutas ocupacionais acerca das condições necessárias para a inclusão escolar de crianças e/ou jovens com deficiência.
  - (C) a atuação do terapeuta ocupacional em escolas regulares é uma prática já estabelecida no Brasil, auxiliando a comunidade escolar na adaptação desse ambiente.
  - (D) o terapeuta ocupacional pode ser o facilitador entre a família e a escola no intuito de estabelecer as necessidades de educação especial, não podendo interferir na vida diária da criança e/ou jovem com deficiência fora da escola.
  - (E) o papel do terapeuta ocupacional é indicado, prioritariamente, no momento em que a criança e/ou jovem com deficiência é inserida na escola regular.
47. O cenário atual da inclusão escolar da criança com deficiência permite que o terapeuta ocupacional contribua da seguinte forma:
- (A) treinando a equipe pedagógica para lidar com as dificuldades das crianças com deficiência no processo educacional que são homogêneas.
  - (B) adaptando uma atividade com um menor grau de dificuldade para que todos os alunos, inclusive aqueles com algum tipo de deficiência, possam participar.
  - (C) construindo um ambiente lúdico, que propicie relações menos individualizadas e mais coletivas, onde a autonomia possa contribuir para gerar relações solidárias.
  - (D) valorizando as atividades que potencializem o desempenho intelectual.
  - (E) orientando prioritariamente a realização de atividades lúdicas.
48. De acordo com a Portaria nº 4.279/GM/MS, as diretrizes para a organização da Rede de Atenção à Saúde no âmbito do Sistema Único de Saúde (SUS), na Rede de Cuidados à Pessoa com deficiência, envolve:
- (A) PROMOÇÃO DA QUALIDADE DE VIDA E PREVENÇÃO DE DEFICIÊNCIAS – ATENÇÃO INTEGRAL À SAÚDE – MELHORIA DOS MECANISMOS DE INFORMAÇÃO – CAPACITAÇÃO DOS RECURSOS HUMANOS – ORGANIZAÇÃO DOS SERVIÇOS.
  - (B) PROMOÇÃO DA QUALIDADE DE VIDA – UNIVERSALIDADE – EQUIDADE – FUNCIONAMENTO DOS SERVIÇOS – INTEGRALIDADE.
  - (C) UNIVERSALIDADE – EQUIDADE – INTEGRALIDADE – REGIONALIZAÇÃO – HIERARQUIZAÇÃO.
  - (D) UNIVERSALIDADE – EQUIDADE – INTEGRALIDADE – REGIONALIZAÇÃO – CAPACITAÇÃO DOS RECURSOS HUMANOS.
  - (E) PROMOÇÃO DA QUALIDADE DE VIDA – REGIONALIZAÇÃO – HIERARQUIZAÇÃO – CAPACITAÇÃO DOS RECURSOS HUMANOS – INTEGRALIDADE.

49. De acordo com a Portaria nº 793 do MS, de 24 de abril de 2012, a Rede de Cuidados à Pessoa com Deficiência se organiza nos três componentes que são ATENÇÃO BÁSICA, ATENÇÃO ESPECIALIZADA EM REABILITAÇÃO AUDITIVA, FÍSICA, INTELECTUAL, VISUAL, OSTOMIA E MÚLTIPLAS DEFICIÊNCIAS e ATENÇÃO HOSPITALAR DE URGÊNCIA E EMERGÊNCIA. Deverão estar articulados entre si, de forma a garantir a integralidade do cuidado e o acesso regulado a cada ponto de atenção e/ou serviços de apoio, observadas as especificidades indispensáveis à garantia de equidade.

Assinale a segunda coluna de acordo com os pontos de atenção englobados pelos níveis citados na primeira coluna.

(1) atenção básica.	( ) Terá como pontos de atenção estabelecimentos de saúde habilitados em um serviço de reabilitação, centros especializados em Reabilitação (CER) e Centro de Especialidades Odontológicas (CEO).
(2) atenção especializada em reabilitação auditiva, física, intelectual, visual, ostomia e múltiplas deficiências.	( ) Terá como pontos de atenção as Unidades Básicas de Saúde (UBS) e contará com o Núcleo de Apoio à Saúde da Família (NASF), quando houver, e atenção odontológica.
(3) atenção hospitalar de urgência e emergência.	( ) Deverá, dentre outros, responsabilizar-se pelo acolhimento, classificação de risco e cuidado das pessoas com deficiência.

Assinale a alternativa que corresponde à sequência correta de cima para baixo.

- (A) 1-2-3.  
 (B) 2-1-3.  
 (C) 3-2-1.  
 (D) 3-1-2.  
 (E) 2-3-1.

50. Assinale a alternativa que apresenta uma condição que tem sido frequentemente encontrada por terapeutas ocupacionais que trabalham em hospitais gerais, isto é, em unidades que oferecem atenção nas especialidades básicas.

- (A) Clientela constituída, em sua maioria, por pacientes cardiopatas graves.  
 (B) Grande número de pacientes vivenciando prioritariamente problemas associados a internações recorrentes.  
 (C) Bom sistema de informações relevantes acerca de procedimentos e ocorrências relacionadas aos pacientes.  
 (D) Grande rotatividade de pacientes em decorrência de breves períodos de internação.  
 (E) Amplo conjunto de referências teórico-metodológicas que orientam a atuação profissional no contexto hospitalar.

51. A Política Nacional de Humanização foi criada pelo Ministério da Saúde, atuando de forma transversal às demais políticas de saúde, a fim de impactá-las e interferir na qualificação da atenção e gestão do SUS. Sua criação ocorreu devido à necessidade de avanço e qualificação do sistema nacional de saúde, na relação e nos processos de atenção ao usuário, bem como no trabalho de gestores e trabalhadores da área, reconhecendo a singularidade e a capacidade criadora de cada sujeito envolvido. Essa política foi criada no ano de

- (A) 2003.  
 (B) 2006.  
 (C) 2011.  
 (D) 2013.  
 (E) 2015.

52. A Política Nacional de Humanização está fundamentada em três princípios. São eles:

- (A) transversalidade – responsabilização dos sujeitos – dissociação entre a atenção e a gestão.  
 (B) inseparabilidade entre a atenção e a gestão – transversalidade – protagonismo dos sujeitos.  
 (C) inseparabilidade entre a atenção e a gestão – responsabilização dos sujeitos – transversalidade.  
 (D) verticalidade – responsabilização dos sujeitos – dissociação entre a atenção e a gestão.  
 (E) inseparabilidade entre a atenção e a gestão – responsabilização dos sujeitos – verticalidade.

53. Atualmente, as funções realizadas pelos terapeutas ocupacionais em hospital geral envolvem, prioritariamente:

- (A) acompanhamento em grupos diante do curto período de internação da grande maioria dos pacientes.  
 (B) priorizar orientações de cuidado voltadas para o período de internação.  
 (C) prevenção secundária das incapacidades já instaladas.  
 (D) intervenção precoce sobre condições que podem acarretar deformidades, disfunções e agravos físicos e/ou psicoafetivos e sociais.  
 (E) redução dos comprometimentos funcionais associados às doenças crônicas ou deficiências permanentes.

54. A modificação de objetos para que estes se convertam em tecnologia assistiva para uma pessoa com deficiência pode ocupar um lugar estratégico no Projeto Terapêutico Singular elaborado e desenvolvido em um Centro Especializado de Reabilitação (CER). Nesse procedimento, cabe ao terapeuta ocupacional assegurar que, além de gerar ganhos de autonomia para a pessoa atendida, esses objetos
- (A) não levem em consideração os desejos da pessoa que dele necessite.
  - (B) tenham uso seguro e eficiente.
  - (C) tenham um baixo custo, de forma a ser acessível a todos.
  - (D) não apresentem necessidade de manutenção periódica.
  - (E) sejam passíveis de reutilização por outra pessoa que deles necessite.
55. A Política Nacional de Saúde da Pessoa com Deficiência, criada pelo Ministério da Saúde, voltada para a inclusão de pessoas com deficiência em toda a rede de serviços do Sistema Único de Saúde (SUS), foi aprovada no ano de
- (A) 1998.
  - (B) 1999.
  - (C) 2000.
  - (D) 2001.
  - (E) 2002.
56. Considerando o universo conceitual da Tecnologia Assistiva, assinale a alternativa correta.
- (A) Mobilidade Funcional é definida como a capacidade de mover-se na comunidade e utilizar os meios de transportes públicos ou privados.
  - (B) Mobilidade na comunidade é definida como a capacidade de o indivíduo mover-se ou mudar-se de uma posição para outra ao desempenhar atividades cotidianas.
  - (C) Órtese é um dispositivo acrescentado ao corpo para substituir esteticamente um membro perdido.
  - (D) Prótese é um dispositivo aplicado externamente ao corpo para modificar as características funcionais do sistema musculoesquelético.
  - (E) Tecnologia Assistiva é a aplicação de qualquer item, peça de equipamento ou sistema de produto, quer seja adquirido comercialmente, modificado ou customizado, que é usado para aumentar, manter ou melhorar a capacidade funcional dos indivíduos com deficiências.
57. Assinale a alternativa que apresenta uma afirmação correta acerca do processo de prescrição de cadeira de rodas.
- (A) No Brasil, é comum que sejam utilizados protocolos e instrumentos bem estruturados e delimitados.
  - (B) O resultado da avaliação cognitiva não interfere na prescrição do equipamento mais apropriado para o sujeito avaliado.
  - (C) Na prescrição, a avaliação abrange as habilidades físicas, sensoriais, cognitivas e funcionais do usuário, além da identificação de suas necessidades.
  - (D) Frequentemente, é realizada no início do processo de reabilitação física de uma pessoa com mobilidade reduzida.
  - (E) É realizado mediante a exclusão da hipótese de desenvolvimento de deformidade associada ao uso da cadeira.
58. Embora a cadeira de rodas ainda seja um estigma de incapacidade e dependência, a liberdade de ir e vir está diretamente relacionada à melhora na qualidade de vida, maior independência, conforto e segurança.
- Assinale a alternativa que define corretamente o tipo de cadeira de rodas e sua indicação.
- (A) Cadeira de rodas padrão é indicada para pacientes capazes de manejá-las de forma independente.
  - (B) Cadeira de rodas esportiva é projetada visando o maior desempenho do atleta, independentemente da modalidade praticada.
  - (C) Cadeira de rodas reclinável é indicada para pacientes com déficit de controle cervical e de tronco, quando há prognóstico de melhora.
  - (D) Cadeira de rodas motorizada é indicada para pacientes com alto poder aquisitivo independentemente do grau de comprometimento de sua capacidade física.
  - (E) Cadeira de rodas higiênica deve ser prescrita levando em consideração, prioritariamente, as necessidades do usuário.

59. A Portaria Interministerial nº 362, de 24 de outubro de 2012, dispõe sobre o limite de renda mensal dos tomadores de recursos nas operações de crédito para aquisição de bens e serviços de Tecnologia Assistiva destinados às pessoas com deficiência e sobre o rol dos bens e serviços. As aquisições de bens e serviços de Tecnologia Assistiva devem ser precedidos de orientação e prescrição de profissional de saúde habilitado, quando necessário.

Assinale os exemplos contidos na segunda coluna que correspondem à categoria de tecnologia assistiva citado na primeira coluna.

(1) Recursos de acessibilidade ao computador.	( ) Bengalas, muletas, andadores.
(2) Projetos arquitetônicos para acessibilidade.	( ) <i>Softwares</i> de teclado virtual com dispositivo de varredura.
(3) Auxílios para a qualificação da habilidade visual e recursos que ampliam a informação a pessoas com baixa visão ou cegas.	( ) Apoio de parede com assento para banheiro.
(4) Auxílios de Mobilidade.	( ) Mesa tátil.

Assinale a sequência correta de cima para baixo.

- (A) 1-2-3-4.
- (B) 2-1-3-4.
- (C) 2-3-1-4.
- (D) 4-1-2-3.
- (E) 4-1-3-2.

60. A Política Nacional de Saúde da Pessoa com Deficiência traz em seus propósitos gerais, um amplo leque de possibilidades que vai da prevenção de agravos à proteção da saúde, passando pela reabilitação. Contribui para a inclusão da pessoa com deficiência em todas as esferas da vida social e busca prevenir agravos que possam determinar o aparecimento de deficiências.

No que diz respeito às diretrizes da referida política, assinale a alternativa correta.

- (A) Especificamente na área da Saúde, buscar-se-á tornar acessíveis as unidades de saúde, por meio do cumprimento da normatização arquitetônica (de acordo com a Norma Brasileira 9050/ABNT, como descrito no Manual de Estrutura Física das Unidades Básicas de Saúde).
- (B) A Saúde deve unir esforços com ações intersetoriais estritamente com as áreas da educação e direitos humanos.
- (C) As ações como acompanhamento do crescimento infantil, acompanhamento aos diabéticos, hipertensos e pessoas com hanseníase não devem estar inseridas nessa política.
- (D) As medidas preventivas devem envolver ações de natureza informativa e educacional, voltadas apenas à população em todo o território nacional.
- (E) Todas as pessoas com deficiências têm o direito de ser atendidas nos serviços de saúde do SUS desde que suas necessidades estejam vinculadas à deficiência que apresentam.

