



## PREFEITURA DA ESTÂNCIA HIDROMINERAL DE POÁ

ESTADO DE SÃO PAULO

Concurso Público

### 011. PROVA OBJETIVA

#### Fiscal Sanitário

- ◆ Você recebeu sua folha de respostas e este caderno contendo 50 questões objetivas.
- ◆ Confira seus dados impressos na capa deste caderno e na folha de respostas.
- ◆ Quando for permitido abrir o caderno, verifique se está completo ou se apresenta imperfeições. Caso haja algum problema, informe ao fiscal da sala.
- ◆ Leia cuidadosamente todas as questões e escolha a resposta que você considera correta.
- ◆ Marque, na folha de respostas, com caneta de tinta azul ou preta, a letra correspondente à alternativa que você escolheu.
- ◆ A duração da prova é de 3 horas, já incluído o tempo para o preenchimento da folha de respostas.
- ◆ Só será permitida a saída definitiva da sala e do prédio após transcorridos 75% do tempo de duração da prova.
- ◆ Ao sair, você entregará ao fiscal a folha de respostas e este caderno, podendo levar apenas o rascunho de gabarito, localizado em sua carteira, para futura conferência.
- ◆ Até que você saia do prédio, todas as proibições e orientações continuam válidas.

**AGUARDE A ORDEM DO FISCAL PARA ABRIR ESTE CADERNO DE QUESTÕES.**

Nome do candidato \_\_\_\_\_

Prédio \_\_\_\_\_

Sala \_\_\_\_\_

Carteira \_\_\_\_\_

Inscrição \_\_\_\_\_



## CONHECIMENTOS GERAIS

### LÍNGUA PORTUGUESA

Leia o texto para responder às questões de números **01** a **05**.

Entro no restaurante, sento-me, consulto o cardápio. E então reparo que alguns dos presentes, nas mesas em volta, não comem. Fotografam. O prato está pronto, e eles, antes de usarem os talheres, tiram foto da refeição com os celulares – de todos os ângulos, como se tivessem uma Gisele Bündchen na frente.

Por momentos, penso que o problema é médico: pessoas com primeiros sintomas de demência que gostam de registrar o que comeram ao almoço para não repetirem ao jantar.

Depois sou informado de que não: é moda fotografar os pratos e enviá-los para as redes sociais. Se os “amigos” sabem onde estamos e o que fazemos 24 horas por dia, é inevitável saberem também o que comemos. Desconfio até de que existem competições gastronômicas em que os pratos são usados como exibição de classe. Se as férias em família já servem para isso – esqui na Suíça, praia em Bali – por que não o almoço ou o jantar?

Mas o pasmo não termina com os fotógrafos. Continua com os enólogos amadores que tomaram conta do espaço público. No mesmo restaurante, os clientes giram os copos, cheiram, conferem a cor. Depois provam, fecham os olhos e invariavelmente convidam o empregado a servir o vinho. Quando foi que o mundo distribuiu diplomas de enologia pelo pessoal? E por que motivo eu não fui convidado?

(João Pereira Coutinho, In vino veritas. *Folha de S.Paulo*, 21.07.2015. Adaptado)

**01.** É correto afirmar que o autor

- (A) mostra-se incomodado por ter de compartilhar espaço no restaurante com pessoas fotografando a comida.
- (B) recusa-se a conviver com provadores de vinho amadores que frequentam espaços públicos.
- (C) ironiza os hábitos de divulgar em redes sociais até o que se come e de agir como especialista em vinhos.
- (D) declara sua simpatia para com a nova moda de as pessoas ostentarem a classe a que pertencem.
- (E) não confia em competições gastronômicas, as quais considera ostentação de ingredientes caros.

**02.** A expressão destacada na frase – O prato está pronto, e eles, antes de usarem os talheres, tiram foto da refeição **com os celulares** – expressa, no contexto, circunstância com o sentido de

- (A) instrumento.
- (B) companhia.
- (C) lugar.
- (D) finalidade.
- (E) comparação.

**03.** Observe as expressões destacadas nas frases – ... gostam de registrar o que comeram ao almoço **para** não repetirem ao jantar. – e – **Mas** o pasmo não termina com os fotógrafos.

É correto substituí-las, sem prejuízo de sentido, respectivamente, por:

- (A) enquanto / entretanto
- (B) se / portanto
- (C) apesar de / logo
- (D) assim que / contanto que
- (E) a fim de / porém

**04.** Assinale a alternativa em que as frases – ... penso que o problema é médico – e – Desconfio até de que existem competições gastronômicas... – estão reescritas de acordo com a norma-padrão quanto à colocação do pronome destacado e à concordância verbal.

- (A) ... penso que **se** tratava de problemas médicos / Desconfio até de que houve competições gastronômicas...
- (B) ... penso que tratava-**se** de problemas médicos / Desconfio até de que houveram competições gastronômicas...
- (C) ... penso que **se** tratavam de problemas médicos / Desconfio até de que houveram competições gastronômicas...
- (D) ... penso que tratava-**se** de problemas médicos / Desconfio até de que houve competições gastronômicas...
- (E) ... penso que tratavam-**se** de problemas médicos / Desconfio até de que houveram competições gastronômicas...

**05.** Substituindo-se **Se** por **Caso** e **estamos** por **vamos** no trecho – **Se** os “amigos” sabem onde **estamos**... –, obtém-se redação de acordo com a norma-padrão de conjugação e regência dos verbos, em:

- (A) Caso os “amigos” saibam aonde vamos...
- (B) Caso os “amigos” sabem aonde vamos...
- (C) Caso os “amigos” saibam onde vamos...
- (D) Caso os “amigos” sabiam onde vamos...
- (E) Caso os “amigos” saberem aonde vamos...

Leia o texto para responder às questões de números 06 a 08.

Minha avó gostava de festa. Minha mãe gosta de festa. Eu gosto de festa.

Quando penso em dar uma festa, meu coração se anima. Muitas vezes, no meio da lista de convidados e acepipes, tenho vontade de desistir diante da trabalhadeira da empreitada.

Respiro, me lembro das últimas festas que dei, penso na minha avó e na minha mãe em seus mistos de alegria e tensão, e acabo seguindo em frente.

Há que comemorar, há que manter os bolos, as velas, os brindes.

Há que passar adiante o “Parabéns pra Você”, mesmo que no meio da canção tudo pareça engraçado e sem sentido. Vale a pena. Nunca me arrependi de dar uma festa. No mínimo, fico feliz de ver meus vários afetos misturados em minha casa, conversando entre si, se juntando em tranças que retornam ao novelo do meu coração.

Não sei direito o porquê, mas tenho especial prazer em ver o namorado da filha da minha amiga em papo animado com a minha sogra, por exemplo. Improváveis misturas humanas a partir de mim. Foi assim que meu pai fez amizade com a mãe do segundo marido de minha mãe.

Tuta era uma senhora sacudida. Sempre de salto alto, se maquiava muito, punha flores no cabelo, fazia discursos, cantava e tocava piano.

Tinha passado a maior parte da vida longe da família e foi resgatada por minha mãe, que, inconformada e antes tarde do que nunca, decidiu presentear seu marido com o reencontro emocionado com a mãe desgarrada. Tuta passou, então, a frequentar as festas da família.

Conviveu com o filho, a nova nora e os parentes que pouco conhecia durante algum tempo, até que Fernando se foi. Viúva, minha mãe herdou de seu amado a mãe excêntrica, que continuou a fazer seus discursos, a tocar e a cantar nas festas lá de casa até seus 98.

Um tempo depois da morte de Fernando, meu pai voltou a frequentar as festas. Também afeito à cantoria, se juntou a Tuta nas canções e até declamavam poesias. Em uma festa de aniversário que ela promoveu em seu pequeno apartamento na Tijuca, minha mãe deu de cara com uma cena curiosa: os dois sozinhos na sala. Tuta ao piano e meu pai já exibindo pela janela sua linda voz de tenor. Numa manobra do destino, meu pai virou grande amigo da mãe do segundo marido de minha mãe.

A vida faz um bom crochê. As festas ajudam. Há que celebrar.

(Denise Fraga, Há que celebrar. <http://www1.folha.uol.com.br/colunas>. Acesso em: 24.07.2015. Adaptado)

06. A maneira como a autora descreve as festas que promove revela nela um sentimento de

- (A) indisposição, principalmente porque dá muito trabalho preparar tudo sozinha.
- (B) intolerância, diante de convidados que gostam de cantoria e discursos sem fim.
- (C) nostalgia, acordando lembranças boas de reuniões com pessoas amadas.
- (D) tristeza, porque a família já não se reúne mais como costumava fazer antigamente.
- (E) insatisfação, especialmente com a presença de estranhos, que querem misturar-se à família.

07. Os adjetivos destacados nas expressões – mãe **excêntrica** – e – mãe **desgarrada** – significam, no contexto, respectivamente,

- (A) extraordinária e acanhada.
- (B) assanhada e desnaturada.
- (C) estourada e inconsequente.
- (D) extravagante e afastada.
- (E) esquisita e desrespeitosa.

08. Assinale a alternativa que preenche, respectivamente, as lacunas da frase a seguir, de acordo com a norma-padrão de emprego do sinal indicativo de crase.

Meu pai voltou a comparecer \_\_\_\_\_ festas e conheceu Tuta, unindo-se \_\_\_\_\_ ela nas cantorias.

- (A) as ... à
- (B) às ... a
- (C) às ... à
- (D) à ... a
- (E) a ... à

09. A pontuação da frase está de acordo com a norma-padrão em:

- (A) Informo, a Vossa Senhoria que: todos os documentos foram extraviados.
- (B) Os funcionários perguntam, se o plantão vai ser mantido.
- (C) Aconteceram dois incidentes: o furto da impressora e a invasão da lanchonete.
- (D) A investigação revelou irregularidades, principalmente no uso, das verbas.
- (E) Fuzarco Bronca funcionário do setor responsável, pelo transporte, demitiu-se.

10. Leia a tira.



(Charles M Schulz, Snoopy – Feliz dia dos namorados!)

É correto afirmar que a reação da garota aos comentários do menino indica que ela

- (A) tem um ponto de vista nada coerente com sua postura de acomodação.
- (B) revela sua falta de disposição para a aquisição de conhecimentos.
- (C) censura o uso de recursos tecnológicos, que não devem substituir a aprendizagem.
- (D) se submete às condições impostas pela escola, que a obriga a estudar.
- (E) expressa seu receio de não saber nada, num futuro muito próximo.

MATEMÁTICA

11. Para recobrir o piso de uma casa, foram compradas 1000 lajotas, todas iguais, porém 5% delas estavam com algum defeito e não puderam ser usadas. Das lajotas sem defeitos,  $\frac{2}{5}$  foram utilizadas na primeira etapa do serviço e,  $\frac{5}{6}$  das lajotas restantes foram utilizadas na segunda etapa. O número de lajotas sem defeitos que restaram após as duas primeiras etapas da obra foi
- (A) 85.
  - (B) 90.
  - (C) 95.
  - (D) 100.
  - (E) 105.
12. Em uma obra, onde trabalham determinado número de operários, 12% deles faltaram na 2ª feira. Dos demais operários, 2 passaram mal e foram embora mais cedo, permanecendo na obra 20 operários até o final do dia. Em relação ao número total de operários que trabalham nessa obra, o número de operários que permaneceram até o final do dia, representa uma porcentagem de
- (A) 60%
  - (B) 65%
  - (C) 70%
  - (D) 75%
  - (E) 80%
13. Um restaurante especializado em massas comprou determinada quantidade de macarrão fresco e utilizou 200 g desse macarrão no preparo de cada prato. Se esse restaurante utilizasse 160 g no preparo de cada prato, poderia, com a mesma quantidade de macarrão comprada, ter preparado 5 pratos a mais. A quantidade de macarrão comprada, em quilogramas, foi
- (A) 6.
  - (B) 5.
  - (C) 4.
  - (D) 3.
  - (E) 2.

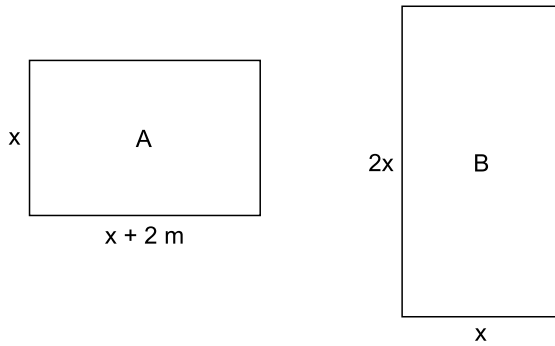
14. Uma pessoa comprou várias garrafas de diferentes sabores de suco de frutas. A tabela mostra o sabor do suco, a respectiva quantidade de garrafas e o preço unitário da garrafa.

SUCO	QUANTIDADE	PREÇO UNITÁRIO
maracujá	4	R\$ 6,65
uva	3	R\$ 5,80
caju	5	?

Considerando-se o número total de garrafas compradas, o preço de uma garrafa de suco foi, em média, R\$ 5,00. O preço de uma garrafa de suco de caju é

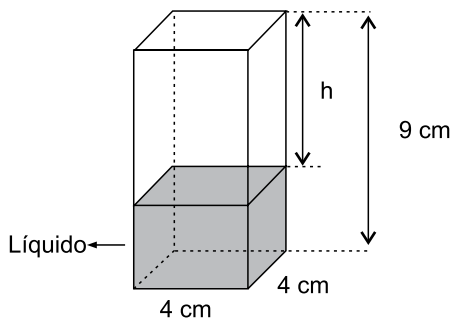
- (A) R\$ 4,00.  
(B) R\$ 3,80.  
(C) R\$ 3,50.  
(D) R\$ 3,20.  
(E) R\$ 3,00.
15. Um capital aplicado a juro simples com taxa de 8,4% ao ano, durante 5 meses, rendeu um juro de R\$ 28,00. O valor que deveria ser acrescentado inicialmente a esse capital para que o juro obtido, nesse mesmo período de tempo e com a mesma taxa anual, fosse de R\$ 31,50, é de
- (A) R\$ 100,00.  
(B) R\$ 200,00.  
(C) R\$ 300,00.  
(D) R\$ 400,00.  
(E) R\$ 500,00.
16. Em determinada área, foram plantadas três tipos diferentes de árvores: A, B e C; totalizando 108 árvores. O número de árvores do tipo A é igual à média aritmética entre o número de árvores dos tipos B e C; e o número de árvores do tipo B é igual a  $\frac{5}{7}$  do número de árvores do tipo C. O número de árvores do tipo B é
- (A) 25.  
(B) 30.  
(C) 36.  
(D) 42.  
(E) 45.

17. Duas salas, A e B, ambas retangulares, tem dimensões em metros, conforme mostram as figuras.



Sabendo que o perímetro da sala B é numericamente igual à área da sala A, é correto afirmar que o perímetro da sala A, em metros, é

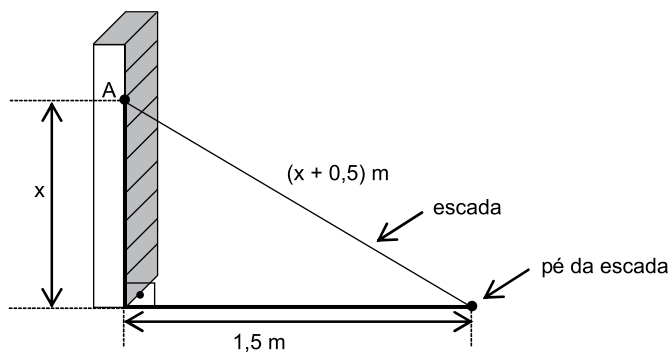
- (A) 14.  
 (B) 16.  
 (C) 18.  
 (D) 20.  
 (E) 22.
18. Em um prisma reto de base quadrada com 4 cm de aresta e 9 cm de altura, foram colocados 100 cm<sup>3</sup> de líquido, conforme mostra a figura.



A altura  $h$ , em cm, é

- (A) 2,25.  
 (B) 2,75.  
 (C) 3,50.  
 (D) 3,85.  
 (E) 4,15.

19. Uma escada foi apoiada no ponto A de uma estante, de modo que seu pé encontra-se a 1,5 m da estante, conforme mostra a figura.



O comprimento, em metros, dessa escada, é

- (A) 2,50.  
(B) 2,75.  
(C) 3,00.  
(D) 3,25.  
(E) 3,50.
20. Para adubar certa quantidade de terra, um agricultor misturou 2 tipos diferentes de fertilizantes, na seguinte proporção: 300 g do fertilizante A, para 450 g do fertilizante B. Ao preparar 3 kg dessa mistura (fertilizante A + fertilizante B), a quantidade utilizada do fertilizante A, em kg, foi
- (A) 1,6.  
(B) 1,5.  
(C) 1,4.  
(D) 1,3.  
(E) 1,2.



## ATUALIDADES

21. O Senado aprovou, nesta quarta-feira (01.07), o texto base do projeto que estende os efeitos da chamada PEC da Bengala para todos os servidores públicos da União, estados e municípios, assim como aconteceu com os ministros do Supremo Tribunal Federal (STF).

(*Estadão*, disponível em: <http://goo.gl/MWloV3>, 01.07.2015. Adaptado)

Essa proposta de emenda à Constituição

- (A) garante a renovação mais rápida dos quadros do funcionalismo público.
- (B) iguala homens e mulheres na concessão de pensão por morte do cônjuge.
- (C) estipula a reserva de um terço das vagas dos concursos públicos a idosos.
- (D) estabelece a idade de 75 anos para a aposentadoria compulsória dos servidores públicos.
- (E) eleva os gastos públicos com o pagamento de convênios médicos ao funcionalismo.

22. A presidente Dilma Rousseff afirmou que, durante sua gestão à frente do Mercosul, entre dezembro de 2014 e julho deste ano, trabalhou para “acelerar trâmites” a fim de possibilitar a “entrada tranquila” do país no bloco econômico. A adesão ainda não foi oficializada e aguarda aprovação dos parlamentos dos países permanentes do bloco.

(G1, disponível em: <http://goo.gl/wQlsHM>, 17.07.2015. Adaptado)

O novo membro pleno do Mercosul do qual trata a notícia é

- (A) a Bolívia.
- (B) o Chile.
- (C) o Equador.
- (D) o Peru.
- (E) a Venezuela.

23. EUA e Cuba formalizaram, no dia 20 de julho de 2015, o reatamento de relações diplomáticas, pondo fim a mais de 50 anos de hostilidade. A medida que simbolizou a reaproximação desses países foi

- (A) o fim do embargo comercial norte-americano.
- (B) a reabertura das embaixadas nos dois países.
- (C) a devolução da base de Guantánamo a Cuba.
- (D) a libertação de todos os presos políticos cubanos.
- (E) a delegação conjunta nos Jogos Pan-Americanos.

24. Depois de cinco meses de negociações, Atenas e seus credores europeus alcançaram, em 13 de julho, um acordo que prevê um novo plano de resgate para o país, mas em troca de duras reformas. O Parlamento grego adotou um segundo pacote de reformas reclamadas pelos credores da Grécia como passo prévio ao terceiro resgate.

(*Exame*, disponível em: <http://goo.gl/931rjs>, 23.07.2015. Adaptado)

Entre as “duras reformas” a realizar, é correto citar

- (A) o aumento do deficit público.
- (B) a fundação de novas empresas estatais.
- (C) a extinção do sistema de justiça civil.
- (D) a diminuição na arrecadação de impostos.
- (E) a mudança no sistema de aposentadorias.

25. Sinais de desaceleração da economia chinesa intensificaram o clima entre os investidores nesta segunda-feira (27.07), derrubando as Bolsas globais e pressionando a cotação do dólar para cima. É a maior cotação nominal desde março de 2003.

(*Folha de S.Paulo*, disponível em: <http://goo.gl/VpcA8R>, 28.07.2015. Adaptado)

Além dos problemas mundiais que afetam o Brasil, essa desvalorização do real em relação ao dólar esteve ligada, internamente,

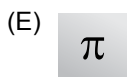



- (A) ao pagamento total da dívida pública.
- (B) à queda brusca da taxa básica de juros.
- (C) à dificuldade de importação de commodities.
- (D) à divulgação dos prejuízos do Banco Central.
- (E) ao anúncio de redução da meta do superávit primário.

26. O ícone exibido a seguir, foi retirado do MS-Windows 7, em sua configuração padrão.



O nome do aplicativo ao qual o ícone se refere é

- (A) Painel de Controle.
  - (B) Lixeira.
  - (C) Desfragmentador.
  - (D) Volume de Tinta.
  - (E) Limpeza de Disco.
27. O ícone cuja função é mostrar marcas de parágrafo e outros símbolos de formatação ocultos, no MS-Word 2010, em sua configuração padrão, é o representado em:



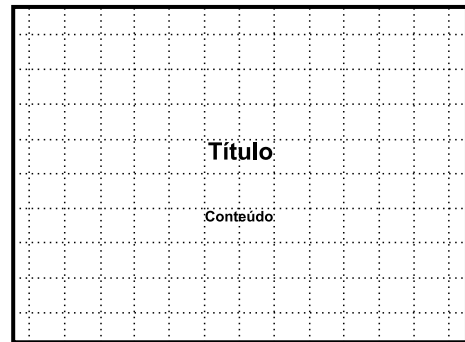
28. Observe a planilha a seguir sendo editada por meio do MS-Excel 2010, em sua configuração padrão.

	A	B	C	D	E
1	1	2	3	4	5
2					

Assinale a alternativa que contém o valor exibido na célula A2 após esta ser preenchida com a fórmula =MAIOR(A1:D1;4)

- (A) 1
- (B) 2
- (C) 3
- (D) 4
- (E) 5

29. Observe a imagem a seguir, retirada do MS-PowerPoint 2010, em sua configuração padrão.



O pontilhado da imagem é exibido ao clicar em um recurso da guia Exibição. O nome deste recurso é

- (A) Formas.
  - (B) Guias.
  - (C) Slide Mestre.
  - (D) Régua.
  - (E) Linhas de Grade.
30. Um recurso de grande utilidade que todo usuário deve conhecer é o envio de arquivos por meio de correio eletrônico. Assinale a alternativa que indica o nome dado ao arquivo enviado por email.
- (A) Rascunho.
  - (B) Assinatura.
  - (C) Anexo.
  - (D) Link.
  - (E) Objeto.

## CONHECIMENTOS ESPECÍFICOS

31. As habitações rurais, quanto às condições sanitárias, devem
- (A) ser construídas com parede de barro e piso de terra, nas áreas mais remotas.
  - (B) ser assentadas diretamente sobre o solo.
  - (C) estar à distância de, pelo menos, 50 m de áreas de lixo ou estrume.
  - (D) ter fossa situada em nível mais baixo e a menos de 30 m de nascentes utilizadas para abastecimento.
  - (E) ter os dejetos sanitários enterrados próximo à residência.
32. As ações e serviços públicos de saúde e os serviços privados contratados ou conveniados que integram o Sistema Único de Saúde (SUS) obedecem ao seguinte princípio:
- (A) igualdade da assistência à saúde, sem preconceitos ou privilégios de qualquer espécie.
  - (B) capacidade de resolução dos serviços no nível de assistência hospitalar.
  - (C) centralização e hierarquização da rede de serviços de saúde.
  - (D) divulgação de informações parciais de acordo com os interesses políticos.
  - (E) garantia de acesso aos serviços de saúde na atenção básica.
33. Para controlar e identificar fatores de risco decorrentes de resíduos de serviços de saúde, é importante a inativação microbiana de acordo com o nível de segurança necessário. A inativação microbiana nível III está corretamente descrita em:
- (A) inativação de bactérias vegetativas, fungos, vírus lipofílicos e hidrofílicos, parasitas e micobactérias com redução  $\geq 6\text{Log}10$  e inativação de esporos de *Bacillus stearothermophilus* ou *B. subtilis* com redução  $\geq 4\text{Log}10$ .
  - (B) inativação de bactérias vegetativas, fungos e vírus lipofílicos com redução  $\geq 3\text{Log}10$  e inativação de esporos de *Clostridium botulinum* com redução  $\geq 5\text{Log}10$ .
  - (C) inativação de bactérias vegetativas, fungos, vírus lipofílicos e hidrofílicos, parasitas e micobactérias com redução  $\geq 2\text{Log}10$  e inativação de esporos de *Clostridium perfringens* com redução  $\geq 4\text{Log}10$ .
  - (D) inativação de bactérias vegetativas, fungos, vírus lipofílicos e hidrofílicos, parasitas e micobactérias com redução  $\geq 7\text{Log}10$ .
  - (E) inativação de bactérias vegetativas, fungos, vírus lipofílicos e hidrofílicos, parasitas e micobactérias com redução  $\geq 5\text{Log}10$  e inativação de esporos de *B. subtilis* com redução  $\geq 4\text{Log}10$ .
34. As ações de vigilância em saúde abrangem toda a população brasileira e envolvem práticas e processos de trabalho voltados para a
- (A) detecção, mesmo que não oportuna, e adoção de medidas para respostas às emergências radioativas.
  - (B) importação de vacinas contra doenças crônicas e não transmissíveis.
  - (C) regulamentação da legislação relativa à Consolidação das Leis do Trabalho.
  - (D) vigilância, prevenção e controle das doenças transmissíveis.
  - (E) orientação da população sobre medidas promotoras e preventivas de saúde.
35. Os resíduos de serviços de saúde são classificados segundo RDC 306 nos grupos A, B, C, D e E. Os resíduos Grupo C são compostos por materiais
- (A) perfurocortantes.
  - (B) radioativos.
  - (C) biológicos com risco de infecção.
  - (D) resultantes de atividades diárias.
  - (E) contendo solventes inorgânicos.
36. Entende-se por saúde do trabalhador, um conjunto de atividades que se destina à promoção e à proteção da saúde dos trabalhadores, abrangendo
- (A) revisão mensal da listagem oficial de doenças originadas no processo de trabalho.
  - (B) a interdição da empresa quando houver denúncia sobre riscos aos trabalhadores pelo sindicato.
  - (C) informação ao diretor da empresa sobre os riscos de acidentes de trabalho e doença profissional.
  - (D) consulta aos trabalhadores na normalização e controle dos serviços de saúde apenas nas empresas públicas.
  - (E) participação dos trabalhadores no controle das condições de produção que apresentam riscos à sua saúde.
37. A área de distribuição geográfica de pessoas que apresentaram gastroenterite infecciosa deve ser feita de acordo com o local
- (A) de residência.
  - (B) de consumo de alimentos.
  - (C) de trabalho.
  - (D) de atendimento médico.
  - (E) escolar.

- 38.** É ação desenvolvida pela equipe técnica da vigilância sanitária municipal:
- (A) controle químico de artrópodes nocivos ao homem.
  - (B) notificação dos casos de dengue do município.
  - (C) aplicação de vacinas em crianças até 1 ano de idade.
  - (D) organização do serviço de acolhimento nas unidades de saúde.
  - (E) inspeção em locais que tenham piscinas de uso público.
- 39.** Durante a primeira inspeção sanitária a uma panificadora, observou-se a ausência de cartazes orientando a lavagem e a desinfecção das mãos. Nesse caso, a equipe técnica agiu corretamente,
- (A) interditando imediatamente o estabelecimento.
  - (B) não adotando nenhuma providência.
  - (C) orientando sobre a importância de tal aviso.
  - (D) lacrando a área de produção de pães.
  - (E) fazendo uma apresentação sobre doenças transmitidas pela água.
- 40.** Para os resíduos destinados à reciclagem, a identificação deve ser feita em recipientes próprios, usando a cor
- (A) amarela para vidros.
  - (B) azul para papéis.
  - (C) vermelha para resíduos orgânicos.
  - (D) cinza para plásticos.
  - (E) preta para materiais radioativos.
- 41.** O refeitório ou local de alimentação de grandes empresas, quando houver, deve obedecer ao(s) seguinte(s) requisito(s):
- (A) paredes revestidas com material liso, lavável e impermeável, até a altura de 2,00 m, no mínimo.
  - (B) piso revestido com material resistente, liso e permeável.
  - (C) ventilação artificial e ventilação forçada de modo a garantir a ausência de janelas.
  - (D) cozinha, no caso de refeições preparadas no estabelecimento, com micro-ondas, evitando uso de gás.
  - (E) comunicação direta com os locais de trabalho e as instalações sanitárias.
- 42.** São muitos os riscos que devem ser controlados pela vigilância sanitária, classificados em riscos
- (A) ambientais: transporte, alimentos, substâncias psicoativas, violências, grupos vulneráveis, necessidades básicas insatisfeitas.
  - (B) ocupacionais: creches, escolas, clubes, hotéis, motéis, portos, aeroportos, fronteiras, estações ferroviárias e rodoviárias, salão de beleza, saunas.
  - (C) iatrogênicos: decorrentes de tratamentos médicos e do uso de serviços de saúde.
  - (D) institucionais: água, esgoto, lixo, vetores e transmissores de doenças, poluição do ar, do solo e de recursos hídricos, transporte de produtos perigosos.
  - (E) sociais: processo de produção, substâncias, intensidades, carga horária, ritmo e ambiente de trabalho.
- 43.** Compete à União, no âmbito do Sistema Nacional de Vigilância Sanitária,
- (A) exercer a fiscalização sanitária nos municípios.
  - (B) atuar em situações de risco biológico fatal à saúde.
  - (C) sugerir ações estaduais da vigilância sanitária.
  - (D) definir a política nacional de vigilância sanitária.
  - (E) normalizar, controlar e fiscalizar produtos e substâncias para uso animal.
- 44.** A Portaria CVS 16/2003 institui o SIVISA, que
- (A) compreende um instrumento padronizado para Cadastro Nacional de Pessoa Jurídica.
  - (B) está sob a coordenação da Agência Nacional de Vigilância Sanitária.
  - (C) faz parte da Coordenação de Vigilância Ambiental dos municípios.
  - (D) significa Sistema de Informação de Vigilância Sanitária.
  - (E) normaliza o Cadastro Municipal de Vigilância Sanitária.
- 45.** Resíduos de saneantes, desinfestantes e efluentes de processadores de imagem, segundo a RDC 306, são classificados no Grupo
- (A) B.
  - (B) A.
  - (C) E.
  - (D) C.
  - (E) D.

- 46.** À direção municipal do Sistema de Saúde (SUS) compete
- (A) acompanhar, controlar e avaliar as redes hierarquizadas do Sistema Único de Saúde.
  - (B) identificar estabelecimentos hospitalares de referência e gerir sistemas públicos de alta complexidade, de referência estadual e regional.
  - (C) definir e coordenar os sistemas de redes integradas de assistência de alta complexidade e de rede de laboratórios de saúde pública.
  - (D) formular, avaliar e apoiar políticas de alimentação e nutrição.
  - (E) planejar, organizar, controlar e avaliar as ações e os serviços de saúde e gerir e executar os serviços públicos de saúde da atenção primária.
- 47.** As instalações de edificações que manipulam ou geram resíduos de Nível Classe de Risco 4 devem possuir barreiras secundárias, como
- (A) porta de acesso simples com fechamento manual.
  - (B) equipamento para exaustão de ar recirculante.
  - (C) fluxo de ar negativo dentro do laboratório.
  - (D) sistemas de abastecimento e de escape abertos.
  - (E) separação da área contaminada por porta quádrupla.
- 48.** Os resíduos do Grupo A são subdivididos em 5 categorias. O Grupo A2 compreende
- (A) culturas e estoque de microrganismos e resíduos de fabricação de produtos biológicos, inclusive hemoderivados.
  - (B) carcaças, peças anatômicas, vísceras e outros resíduos de animais submetidos a processos de experimentação com inoculação de microrganismos.
  - (C) sobras de amostras de laboratório, contendo sangue ou líquidos corpóreos, e bolsas transfusionais, contendo sangue ou hemocompetentes rejeitados por contaminação.
  - (D) peças anatômicas (membros) do ser humano e produtos de fecundação sem sinais vitais com peso menor do que 500 g ou estatura menor do que 25 cm ou idade gestacional menor do que 20 semanas.
  - (E) filtros de ar e gases aspirados de área contaminada e membranas filtrantes de equipamentos médico-hospitalares e de pesquisa.
- 49.** Os reservatórios prediais de água devem
- (A) ter superfície lisa, resistente e permeável.
  - (B) ser dotados de extravasor com diâmetro inferior ao da canalização de alimentação.
  - (C) impossibilitar o seu esgotamento total.
  - (D) ser equipados com torneira de boia na tubulação de alimentação.
  - (E) ter a instalação de dispositivos para sucção de água diretamente das redes de distribuição.
- 50.** As inspeções sanitárias municipais são
- (A) realizadas somente em empresas particulares.
  - (B) responsáveis pela regulamentação do comércio ambulante.
  - (C) procedimentos realizados *in loco* para avaliar riscos à saúde na produção e circulação de mercadorias.
  - (D) feitas imediatamente após a solicitação de cadastro pela empresa.
  - (E) dependentes de autorização prévia da empresa fiscalizada.





