



## PREFEITURA DA ESTÂNCIA HIDROMINERAL DE POÁ

ESTADO DE SÃO PAULO

Concurso Público

### 009. PROVA OBJETIVA

#### Fiscal de Trânsito

- ◆ Você recebeu sua folha de respostas e este caderno contendo 50 questões objetivas.
- ◆ Confira seus dados impressos na capa deste caderno e na folha de respostas.
- ◆ Quando for permitido abrir o caderno, verifique se está completo ou se apresenta imperfeições. Caso haja algum problema, informe ao fiscal da sala.
- ◆ Leia cuidadosamente todas as questões e escolha a resposta que você considera correta.
- ◆ Marque, na folha de respostas, com caneta de tinta azul ou preta, a letra correspondente à alternativa que você escolheu.
- ◆ A duração da prova é de 3 horas, já incluído o tempo para o preenchimento da folha de respostas.
- ◆ Só será permitida a saída definitiva da sala e do prédio após transcorridos 75% do tempo de duração da prova.
- ◆ Ao sair, você entregará ao fiscal a folha de respostas e este caderno, podendo levar apenas o rascunho de gabarito, localizado em sua carteira, para futura conferência.
- ◆ Até que você saia do prédio, todas as proibições e orientações continuam válidas.

**AGUARDE A ORDEM DO FISCAL PARA ABRIR ESTE CADERNO DE QUESTÕES.**

Nome do candidato \_\_\_\_\_

Prédio \_\_\_\_\_

Sala \_\_\_\_\_

Carteira \_\_\_\_\_

Inscrição \_\_\_\_\_



## CONHECIMENTOS GERAIS

### LÍNGUA PORTUGUESA

Leia o texto para responder às questões de números **01** a **05**.

Entro no restaurante, sento-me, consulto o cardápio. E então reparo que alguns dos presentes, nas mesas em volta, não comem. Fotografam. O prato está pronto, e eles, antes de usarem os talheres, tiram foto da refeição com os celulares – de todos os ângulos, como se tivessem uma Gisele Bündchen na frente.

Por momentos, penso que o problema é médico: pessoas com primeiros sintomas de demência que gostam de registrar o que comeram ao almoço para não repetirem ao jantar.

Depois sou informado de que não: é moda fotografar os pratos e enviá-los para as redes sociais. Se os “amigos” sabem onde estamos e o que fazemos 24 horas por dia, é inevitável saberem também o que comemos. Desconfio até de que existem competições gastronômicas em que os pratos são usados como exibição de classe. Se as férias em família já servem para isso – esqui na Suíça, praia em Bali – por que não o almoço ou o jantar?

Mas o pasmo não termina com os fotógrafos. Continua com os enólogos amadores que tomaram conta do espaço público. No mesmo restaurante, os clientes giram os copos, cheiram, conferem a cor. Depois provam, fecham os olhos e invariavelmente convidam o empregado a servir o vinho. Quando foi que o mundo distribuiu diplomas de enologia pelo pessoal? E por que motivo eu não fui convidado?

(João Pereira Coutinho, In vino veritas. *Folha de S.Paulo*, 21.07.2015. Adaptado)

**01.** É correto afirmar que o autor

- (A) mostra-se incomodado por ter de compartilhar espaço no restaurante com pessoas fotografando a comida.
- (B) recusa-se a conviver com provadores de vinho amadores que frequentam espaços públicos.
- (C) ironiza os hábitos de divulgar em redes sociais até o que se come e de agir como especialista em vinhos.
- (D) declara sua simpatia para com a nova moda de as pessoas ostentarem a classe a que pertencem.
- (E) não confia em competições gastronômicas, as quais considera ostentação de ingredientes caros.

**02.** A expressão destacada na frase – O prato está pronto, e eles, antes de usarem os talheres, tiram foto da refeição **com os celulares** – expressa, no contexto, circunstância com o sentido de

- (A) instrumento.
- (B) companhia.
- (C) lugar.
- (D) finalidade.
- (E) comparação.

**03.** Observe as expressões destacadas nas frases – ... gostam de registrar o que comeram ao almoço **para** não repetirem ao jantar. – e – **Mas** o pasmo não termina com os fotógrafos.

É correto substituí-las, sem prejuízo de sentido, respectivamente, por:

- (A) enquanto / entretanto
- (B) se / portanto
- (C) apesar de / logo
- (D) assim que / contanto que
- (E) a fim de / porém

**04.** Assinale a alternativa em que as frases – ... penso que o problema é médico – e – Desconfio até de que existem competições gastronômicas... – estão reescritas de acordo com a norma-padrão quanto à colocação do pronome destacado e à concordância verbal.

- (A) ... penso que **se** tratava de problemas médicos / Desconfio até de que houve competições gastronômicas...
- (B) ... penso que tratava-**se** de problemas médicos / Desconfio até de que houveram competições gastronômicas...
- (C) ... penso que **se** tratavam de problemas médicos / Desconfio até de que houveram competições gastronômicas...
- (D) ... penso que tratava-**se** de problemas médicos / Desconfio até de que houve competições gastronômicas...
- (E) ... penso que tratavam-**se** de problemas médicos / Desconfio até de que houveram competições gastronômicas...

**05.** Substituindo-se **Se** por **Caso** e **estamos** por **vamos** no trecho – **Se** os “amigos” sabem onde **estamos**... –, obtém-se redação de acordo com a norma-padrão de conjugação e regência dos verbos, em:

- (A) Caso os “amigos” saibam aonde vamos...
- (B) Caso os “amigos” sabem aonde vamos...
- (C) Caso os “amigos” saibam onde vamos...
- (D) Caso os “amigos” sabiam onde vamos...
- (E) Caso os “amigos” saberem aonde vamos...

Leia o texto para responder às questões de números 06 a 08.

Minha avó gostava de festa. Minha mãe gosta de festa. Eu gosto de festa.

Quando penso em dar uma festa, meu coração se anima. Muitas vezes, no meio da lista de convidados e acepipes, tenho vontade de desistir diante da trabalhadeira da empreitada.

Respiro, me lembro das últimas festas que dei, penso na minha avó e na minha mãe em seus mistos de alegria e tensão, e acabo seguindo em frente.

Há que comemorar, há que manter os bolos, as velas, os brindes.

Há que passar adiante o “Parabéns pra Você”, mesmo que no meio da canção tudo pareça engraçado e sem sentido. Vale a pena. Nunca me arrependi de dar uma festa. No mínimo, fico feliz de ver meus vários afetos misturados em minha casa, conversando entre si, se juntando em tranças que retornam ao novelo do meu coração.

Não sei direito o porquê, mas tenho especial prazer em ver o namorado da filha da minha amiga em papo animado com a minha sogra, por exemplo. Improváveis misturas humanas a partir de mim. Foi assim que meu pai fez amizade com a mãe do segundo marido de minha mãe.

Tuta era uma senhora sacudida. Sempre de salto alto, se maquiava muito, punha flores no cabelo, fazia discursos, cantava e tocava piano.

Tinha passado a maior parte da vida longe da família e foi resgatada por minha mãe, que, inconformada e antes tarde do que nunca, decidiu presentear seu marido com o reencontro emocionado com a mãe desgarrada. Tuta passou, então, a frequentar as festas da família.

Conviveu com o filho, a nova nora e os parentes que pouco conhecia durante algum tempo, até que Fernando se foi. Viúva, minha mãe herdou de seu amado a mãe excêntrica, que continuou a fazer seus discursos, a tocar e a cantar nas festas lá de casa até seus 98.

Um tempo depois da morte de Fernando, meu pai voltou a frequentar as festas. Também afeito à cantoria, se juntou a Tuta nas canções e até declamavam poesias. Em uma festa de aniversário que ela promoveu em seu pequeno apartamento na Tijuca, minha mãe deu de cara com uma cena curiosa: os dois sozinhos na sala. Tuta ao piano e meu pai já exibindo pela janela sua linda voz de tenor. Numa manobra do destino, meu pai virou grande amigo da mãe do segundo marido de minha mãe.

A vida faz um bom crochê. As festas ajudam. Há que celebrar.

(Denise Fraga, Há que celebrar. <http://www1.folha.uol.com.br/colunas>. Acesso em: 24.07.2015. Adaptado)

06. A maneira como a autora descreve as festas que promove revela nela um sentimento de

- (A) indisposição, principalmente porque dá muito trabalho preparar tudo sozinha.
- (B) intolerância, diante de convidados que gostam de cantoria e discursos sem fim.
- (C) nostalgia, acordando lembranças boas de reuniões com pessoas amadas.
- (D) tristeza, porque a família já não se reúne mais como costumava fazer antigamente.
- (E) insatisfação, especialmente com a presença de estranhos, que querem misturar-se à família.

07. Os adjetivos destacados nas expressões – mãe **excêntrica** – e – mãe **desgarrada** – significam, no contexto, respectivamente,

- (A) extraordinária e acanhada.
- (B) assanhada e desnaturada.
- (C) estourada e inconsequente.
- (D) extravagante e afastada.
- (E) esquisita e desrespeitosa.

08. Assinale a alternativa que preenche, respectivamente, as lacunas da frase a seguir, de acordo com a norma-padrão de emprego do sinal indicativo de crase.

Meu pai voltou a comparecer \_\_\_\_\_ festas e conheceu Tuta, unindo-se \_\_\_\_\_ ela nas cantorias.

- (A) as ... à
- (B) às ... a
- (C) às ... à
- (D) à ... a
- (E) a ... à

09. A pontuação da frase está de acordo com a norma-padrão em:

- (A) Informo, a Vossa Senhoria que: todos os documentos foram extraviados.
- (B) Os funcionários perguntam, se o plantão vai ser mantido.
- (C) Aconteceram dois incidentes: o furto da impressora e a invasão da lanchonete.
- (D) A investigação revelou irregularidades, principalmente no uso, das verbas.
- (E) Fuzarco Bronca funcionário do setor responsável, pelo transporte, demitiu-se.

10. Leia a tira.



(Charles M Schulz, Snoopy – Feliz dia dos namorados!)

É correto afirmar que a reação da garota aos comentários do menino indica que ela

- (A) tem um ponto de vista nada coerente com sua postura de acomodação.
- (B) revela sua falta de disposição para a aquisição de conhecimentos.
- (C) censura o uso de recursos tecnológicos, que não devem substituir a aprendizagem.
- (D) se submete às condições impostas pela escola, que a obriga a estudar.
- (E) expressa seu receio de não saber nada, num futuro muito próximo.

MATEMÁTICA

11. Para recobrir o piso de uma casa, foram compradas 1000 lajotas, todas iguais, porém 5% delas estavam com algum defeito e não puderam ser usadas. Das lajotas sem defeitos,  $\frac{2}{5}$  foram utilizadas na primeira etapa do serviço e,  $\frac{5}{6}$  das lajotas restantes foram utilizadas na segunda etapa. O número de lajotas sem defeitos que restaram após as duas primeiras etapas da obra foi
- (A) 85.
  - (B) 90.
  - (C) 95.
  - (D) 100.
  - (E) 105.
12. Em uma obra, onde trabalham determinado número de operários, 12% deles faltaram na 2ª feira. Dos demais operários, 2 passaram mal e foram embora mais cedo, permanecendo na obra 20 operários até o final do dia. Em relação ao número total de operários que trabalham nessa obra, o número de operários que permaneceram até o final do dia, representa uma porcentagem de
- (A) 60%
  - (B) 65%
  - (C) 70%
  - (D) 75%
  - (E) 80%
13. Um restaurante especializado em massas comprou determinada quantidade de macarrão fresco e utilizou 200 g desse macarrão no preparo de cada prato. Se esse restaurante utilizasse 160 g no preparo de cada prato, poderia, com a mesma quantidade de macarrão comprada, ter preparado 5 pratos a mais. A quantidade de macarrão comprada, em quilogramas, foi
- (A) 6.
  - (B) 5.
  - (C) 4.
  - (D) 3.
  - (E) 2.

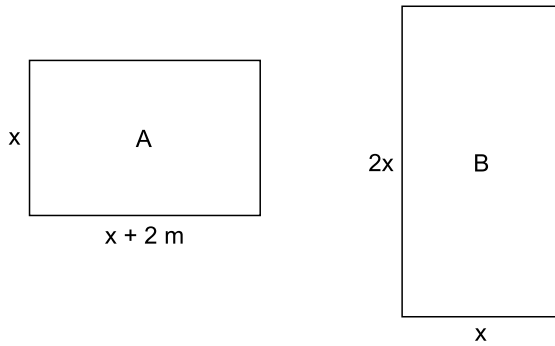
14. Uma pessoa comprou várias garrafas de diferentes sabores de suco de frutas. A tabela mostra o sabor do suco, a respectiva quantidade de garrafas e o preço unitário da garrafa.

SUCO	QUANTIDADE	PREÇO UNITÁRIO
maracujá	4	R\$ 6,65
uva	3	R\$ 5,80
caju	5	?

Considerando-se o número total de garrafas compradas, o preço de uma garrafa de suco foi, em média, R\$ 5,00. O preço de uma garrafa de suco de caju é

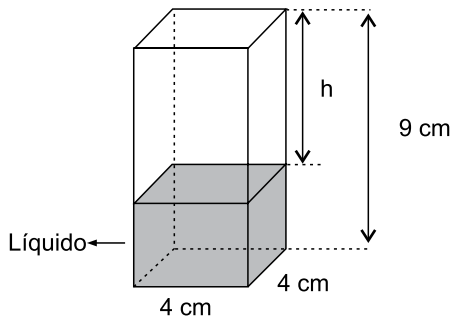
- (A) R\$ 4,00.  
(B) R\$ 3,80.  
(C) R\$ 3,50.  
(D) R\$ 3,20.  
(E) R\$ 3,00.
15. Um capital aplicado a juro simples com taxa de 8,4% ao ano, durante 5 meses, rendeu um juro de R\$ 28,00. O valor que deveria ser acrescentado inicialmente a esse capital para que o juro obtido, nesse mesmo período de tempo e com a mesma taxa anual, fosse de R\$ 31,50, é de
- (A) R\$ 100,00.  
(B) R\$ 200,00.  
(C) R\$ 300,00.  
(D) R\$ 400,00.  
(E) R\$ 500,00.
16. Em determinada área, foram plantadas três tipos diferentes de árvores: A, B e C; totalizando 108 árvores. O número de árvores do tipo A é igual à média aritmética entre o número de árvores dos tipos B e C; e o número de árvores do tipo B é igual a  $\frac{5}{7}$  do número de árvores do tipo C. O número de árvores do tipo B é
- (A) 25.  
(B) 30.  
(C) 36.  
(D) 42.  
(E) 45.

17. Duas salas, A e B, ambas retangulares, tem dimensões em metros, conforme mostram as figuras.



Sabendo que o perímetro da sala B é numericamente igual à área da sala A, é correto afirmar que o perímetro da sala A, em metros, é

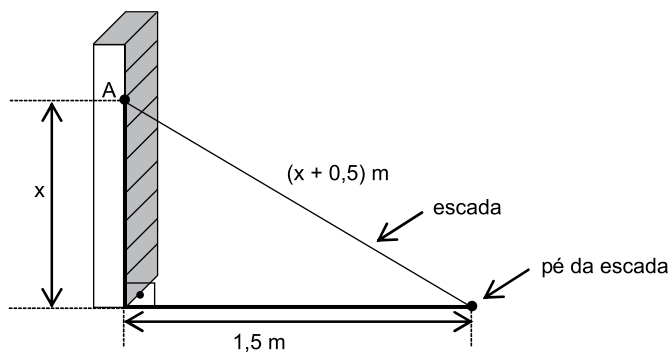
- (A) 14.  
 (B) 16.  
 (C) 18.  
 (D) 20.  
 (E) 22.
18. Em um prisma reto de base quadrada com 4 cm de aresta e 9 cm de altura, foram colocados  $100 \text{ cm}^3$  de líquido, conforme mostra a figura.



A altura  $h$ , em cm, é

- (A) 2,25.  
 (B) 2,75.  
 (C) 3,50.  
 (D) 3,85.  
 (E) 4,15.

19. Uma escada foi apoiada no ponto A de uma estante, de modo que seu pé encontra-se a 1,5 m da estante, conforme mostra a figura.



O comprimento, em metros, dessa escada, é

- (A) 2,50.  
(B) 2,75.  
(C) 3,00.  
(D) 3,25.  
(E) 3,50.
20. Para adubar certa quantia de terra, um agricultor misturou 2 tipos diferentes de fertilizantes, na seguinte proporção: 300 g do fertilizante A, para 450 g do fertilizante B. Ao preparar 3 kg dessa mistura (fertilizante A + fertilizante B), a quantia utilizada do fertilizante A, em kg, foi
- (A) 1,6.  
(B) 1,5.  
(C) 1,4.  
(D) 1,3.  
(E) 1,2.



## ATUALIDADES

21. O Senado aprovou, nesta quarta-feira (01.07), o texto base do projeto que estende os efeitos da chamada PEC da Bengala para todos os servidores públicos da União, estados e municípios, assim como aconteceu com os ministros do Supremo Tribunal Federal (STF).

(*Estadão*, disponível em: <http://goo.gl/MWloV3>, 01.07.2015. Adaptado)

Essa proposta de emenda à Constituição

- (A) garante a renovação mais rápida dos quadros do funcionalismo público.
- (B) iguala homens e mulheres na concessão de pensão por morte do cônjuge.
- (C) estipula a reserva de um terço das vagas dos concursos públicos a idosos.
- (D) estabelece a idade de 75 anos para a aposentadoria compulsória dos servidores públicos.
- (E) eleva os gastos públicos com o pagamento de convênios médicos ao funcionalismo.

22. A presidente Dilma Rousseff afirmou que, durante sua gestão à frente do Mercosul, entre dezembro de 2014 e julho deste ano, trabalhou para “acelerar trâmites” a fim de possibilitar a “entrada tranquila” do país no bloco econômico. A adesão ainda não foi oficializada e aguarda aprovação dos parlamentos dos países permanentes do bloco.

(G1, disponível em: <http://goo.gl/wQlsHM>, 17.07.2015. Adaptado)

O novo membro pleno do Mercosul do qual trata a notícia é

- (A) a Bolívia.
- (B) o Chile.
- (C) o Equador.
- (D) o Peru.
- (E) a Venezuela.

23. EUA e Cuba formalizaram, no dia 20 de julho de 2015, o reatamento de relações diplomáticas, pondo fim a mais de 50 anos de hostilidade. A medida que simbolizou a reaproximação desses países foi

- (A) o fim do embargo comercial norte-americano.
- (B) a reabertura das embaixadas nos dois países.
- (C) a devolução da base de Guantánamo a Cuba.
- (D) a libertação de todos os presos políticos cubanos.
- (E) a delegação conjunta nos Jogos Pan-Americanos.

24. Depois de cinco meses de negociações, Atenas e seus credores europeus alcançaram, em 13 de julho, um acordo que prevê um novo plano de resgate para o país, mas em troca de duras reformas. O Parlamento grego adotou um segundo pacote de reformas reclamadas pelos credores da Grécia como passo prévio ao terceiro resgate.

(*Exame*, disponível em: <http://goo.gl/931rjs>, 23.07.2015. Adaptado)

Entre as “duras reformas” a realizar, é correto citar

- (A) o aumento do deficit público.
- (B) a fundação de novas empresas estatais.
- (C) a extinção do sistema de justiça civil.
- (D) a diminuição na arrecadação de impostos.
- (E) a mudança no sistema de aposentadorias.

25. Sinais de desaceleração da economia chinesa intensificaram o clima entre os investidores nesta segunda-feira (27.07), derrubando as Bolsas globais e pressionando a cotação do dólar para cima. É a maior cotação nominal desde março de 2003.

(*Folha de S.Paulo*, disponível em: <http://goo.gl/VpcA8R>, 28.07.2015. Adaptado)

Além dos problemas mundiais que afetam o Brasil, essa desvalorização do real em relação ao dólar esteve ligada, internamente,

- (A) ao pagamento total da dívida pública.
- (B) à queda brusca da taxa básica de juros.
- (C) à dificuldade de importação de commodities.
- (D) à divulgação dos prejuízos do Banco Central.
- (E) ao anúncio de redução da meta do superavit primário.

26. O ícone exibido a seguir, foi retirado do MS-Windows 7, em sua configuração padrão.



O nome do aplicativo ao qual o ícone se refere é

- (A) Painel de Controle.  
 (B) Lixeira.  
 (C) Desfragmentador.  
 (D) Volume de Tinta.  
 (E) Limpeza de Disco.
27. O ícone cuja função é mostrar marcas de parágrafo e outros símbolos de formatação ocultos, no MS-Word 2010, em sua configuração padrão, é o representado em:

- (A)
- (B)
- (C)
- (D)
- (E)

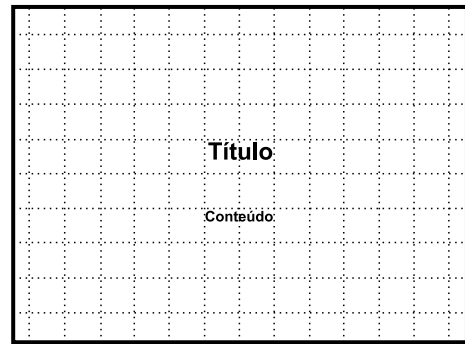
28. Observe a planilha a seguir sendo editada por meio do MS-Excel 2010, em sua configuração padrão.

	A	B	C	D	E
1	1	2	3	4	5
2					

Assinale a alternativa que contém o valor exibido na célula A2 após esta ser preenchida com a fórmula =MAIOR(A1:D1;4)

- (A) 1  
 (B) 2  
 (C) 3  
 (D) 4  
 (E) 5

29. Observe a imagem a seguir, retirada do MS-PowerPoint 2010, em sua configuração padrão.



O pontilhado da imagem é exibido ao clicar em um recurso da guia Exibição. O nome deste recurso é

- (A) Formas.  
 (B) Guias.  
 (C) Slide Mestre.  
 (D) Régua.  
 (E) Linhas de Grade.
30. Um recurso de grande utilidade que todo usuário deve conhecer é o envio de arquivos por meio de correio eletrônico. Assinale a alternativa que indica o nome dado ao arquivo enviado por email.
- (A) Rascunho.  
 (B) Assinatura.  
 (C) Anexo.  
 (D) Link.  
 (E) Objeto.

## CONHECIMENTOS ESPECÍFICOS

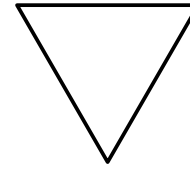
31. Entre as atribuições do Fiscal de Trânsito da Prefeitura da Estância Hidromineral de Poá, está “Executar bloqueios de vias públicas, de acordo com orientação da chefia imediata, providenciando sinalização adequada”. Assinale a alternativa que contém a caracterização correta da infração de trânsito prevista no artigo 209 do Código de Trânsito Brasileiro – CTB que é cometida quando um condutor de veículo automotor desobedece a restrição estabelecida pela sinalização deste tipo de bloqueio, quando temporário.

- (A) Transpor, sem autorização, bloqueio viário com ou sem sinalização ou dispositivos auxiliares, deixar de adentrar às áreas destinadas à pesagem de veículos ou evadir-se para não efetuar o pagamento do pedágio.
- (B) Transpor, sem autorização, bloqueio viário policial.
- (C) Ultrapassar, sem autorização, veículos em fila parados em razão de sinal luminoso, cancela, bloqueio viário parcial ou qualquer outro obstáculo, com exceção dos veículos não motorizados.
- (D) Transpor, sem autorização, limite viário sinalizado.
- (E) Transpor, sem autorização, dispositivos auxiliares de bloqueio viário, deixar de adentrar às áreas de faixa de domínio de pesagem de veículos ou evadir-se para não efetuar o pagamento de pedágio.

32. Assinale a alternativa que contém a disposição correta do artigo 334 do CTB nas suas disposições transitórias quanto às ondulações transversais, popularmente conhecidas como “lombada”.

- (A) As ondulações transversais existentes deverão ser substituídas à medida de seu desgaste por fileiras duplas de tachões, a partir da publicação do Código, devendo ser retiradas em caso contrário.
- (B) Somente poderão ser instaladas ondulações transversais em locais com alto índice de acidentes e próximos de escolas e hospitais.
- (C) As ondulações transversais existentes deverão ser homologadas pelo órgão ou entidade competente no prazo de um ano, a partir da publicação do Código, devendo ser retiradas em caso contrário.
- (D) Somente poderão ser instaladas ondulações transversais nas proximidades de escolas, hospitais, centros de saúde e órgãos públicos.
- (E) As ondulações transversais existentes poderão ser substituídas à medida de desgaste por valetas de drenagem, a partir da publicação do Código, devendo ser retiradas em caso contrário.

33. Assinale a alternativa correta em relação ao formato abaixo de uma placa de sinalização vertical conforme Anexo II do CTB (ajustado pelas Resoluções 180, 243, 236 e 486 do Conselho Nacional de Trânsito CONTRAN)



- (A) É utilizado para diversos tipos de placas com diversos significados.
- (B) Não há previsão de sinalização vertical neste formato.
- (C) Passou a ser utilizado após acordo internacional de trânsito no Mercosul.
- (D) Não pode ser utilizado em rodovias, apenas em áreas urbanas.
- (E) É utilizado apenas para uma placa.

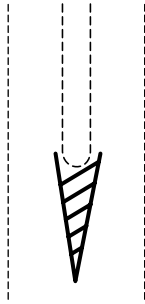
34. Observe as placas a seguir.



Assinale a alternativa correta com relação às duas placas de sinalização vertical conforme Anexo II do CTB (ajustado pelas Resoluções 180, 243, 236 e 486 do Conselho Nacional de Trânsito CONTRAN).

- (A) Ambas são placas de regulamentação.
- (B) A placa 1 é de regulamentação, e a placa 2 é de advertência.
- (C) A placa 1 é de advertência, e a placa 2 é de regulamentação.
- (D) A placa 1 é de regulamentação, e a placa 2 é de serviço.
- (E) Ambas são placas de advertência.

35. Observe, a seguir, a ilustração de um trecho de via



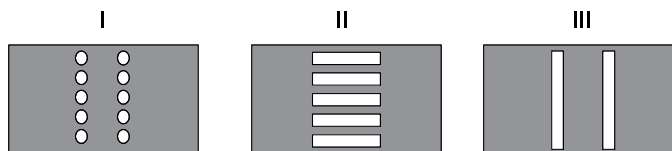
Conforme Anexo II do CTB (ajustado pelas Resoluções 180, 243, 236 e 486 do Conselho Nacional de Trânsito CONTRAN), nesse trecho de via cujas guias e sarjetas estão representadas pelas linhas tracejadas, a sinalização horizontal interna da canalização, representada pelas linhas cheias, junto ao canteiro central, indica que

- (A) a via tem sentido único de circulação.
  - (B) o trecho da pista única tem sentido único de circulação, e as duas pistas no trecho onde há canteiro central têm sentido duplo de circulação.
  - (C) a via tem sentido duplo de circulação.
  - (D) o trecho da pista única tem sentido duplo de circulação, e as duas pistas no trecho onde há canteiro central tem sentido oposto ao do trecho de pista única.
  - (E) a via está incorretamente sinalizada, já que só pode existir canalização em bifurcação de pistas.
36. Qual a distância lateral que deve ser mantida por condutores de veículos automotores ao passar ou ultrapassar bicicletas, segundo o artigo 201 do CTB?
- (A) 1,5 m.
  - (B) 1,7 m.
  - (C) 2,0 m.
  - (D) 2,2 m.
  - (E) 2,5 m.
37. Considerando a sistemática e os procedimentos de registro e apenamento de infrações de trânsito previstas no CTB e na Resolução 404 do CONTRAN, qual é o momento em que pode ser apresentada a Defesa da Autuação?
- (A) Após a emissão da notificação da penalidade.
  - (B) Até 15 dias após a notificação do resultado de recurso de 1ª instância.
  - (C) Até 30 dias após a notificação do resultado de recurso de 2ª instância.
  - (D) Antes da autuação da infração.
  - (E) Antes da aplicação da penalidade.

38. A assinatura do condutor autuado no Auto de Infração, conforme artigo 280 do CTB,

- (A) é obrigatória para que a autuação seja consistida.
  - (B) é obrigatória em infrações cometidas com o veículo estacionado.
  - (C) deve ser posteriormente colhida quando do comparecimento do infrator ao órgão de trânsito após notificado.
  - (D) deve ser colhida sempre que possível.
  - (E) deixou de ser obrigatória para infrações com veículos estacionados, mas deve ser posteriormente colhida para que a autuação seja consistida.
39. Utilizar a via para depósito de mercadorias, materiais ou equipamentos, sem autorização do órgão ou entidade de trânsito com circunscrição sobre a via é uma
- (A) infração que só pode ser estabelecida no código de obras de cada município.
  - (B) prática que não foi tratada no CTB nem nas resoluções do CONTRAN.
  - (C) conduta cuja coibição tem que ser feita com sua tipificação como infração passível somente de aplicação de medida administrativa segundo o CTB.
  - (D) prática comum que passou a ser tolerada após o maciço entendimento judicial de que a legislação de trânsito não pode regular esta questão.
  - (E) infração de trânsito tipificada como tal pelo CTB.
40. Conforme o artigo 280 do CTB e a definição do seu Anexo I, para que o Fiscal de Trânsito possa atuar como Agente de Fiscalização de Trânsito, ele precisa ser, pela Autoridade de Trânsito, expressamente
- (A) nomeado e empossado.
  - (B) designado e empossado.
  - (C) designado e credenciado.
  - (D) credenciado e nomeado.
  - (E) credenciado e empossado.

41. Observe as imagens a seguir



A forma da faixa de pedestres, conforme Anexo II do CTB (ajustado pelas Resoluções 180, 243, 236 e 486 do Conselho Nacional de Trânsito CONTRAN), é representada

- (A) somente pela imagem I.
- (B) pelas imagens I e II.
- (C) pelas imagens I e III.
- (D) pelas imagens II e III.
- (E) somente pela imagem III.

42. Uma das atribuições do Fiscal de Trânsito da Prefeitura da Estância Hidromineral de Poá é “dirigir veículos leves, quando necessário ao exercício de suas atividades”.

Assinale a alternativa que contém as prerrogativas corretas previstas no artigo 29 do CTB para tal veículo em serviço destinado à fiscalização e à operação de trânsito, estando devidamente identificado por dispositivos regulamentares de alarme sonoro e iluminação vermelha intermitente e em serviço de urgência.

- (A) Goza de livre circulação, estacionamento e parada.
- (B) Goza somente de livre parada no local da prestação de serviço.
- (C) Goza somente de livre estacionamento, em qualquer local.
- (D) Goza somente de livre parada, em qualquer local.
- (E) Goza de livre circulação, mas nunca de estacionamento e parada.

43. Além de classificar e detalhar o que é veículo leve, a Resolução 396 do CONTRAN classifica e detalha, para efeitos de regulamentação e fiscalização de velocidade máxima para a via, o que é veículo

- (A) de carga.
- (B) pesado.
- (C) de grande porte.
- (D) médio.
- (E) de passageiro.

44. Leia, a seguir, o artigo do CTB.

“Art. 2º – São vias terrestres urbanas e rurais as ruas, \_\_\_\_\_, as estradas e as rodovias, que terão seu uso regulamentado pelo órgão ou entidade com circunscrição sobre elas, de acordo com as peculiaridades locais e as circunstâncias especiais.”

Assinale a alternativa que completa corretamente a lacuna do texto.

- (A) os logradouros, os caminhos, as passagens, as picadas
- (B) as avenidas, os caminhos, as passagens, as picadas
- (C) as avenidas, os logradouros, as passagens, as picadas
- (D) as avenidas, os logradouros, os caminhos, as picadas
- (E) as avenidas, os logradouros, os caminhos, as passagens

45. O artigo 183 do CTB estabelece que é infração de trânsito parar o veículo sobre a faixa de pedestres

- (A) na mudança do sinal luminoso.
- (B) a qualquer momento.
- (C) quando houver pedestres desejando atravessar.
- (D) e por mais cinco metros além da faixa.
- (E) exceto para desembarque.

46. O artigo 47 do CTB define que a operação de carga e descarga é considerada

- (A) parada.
- (B) estacionamento.
- (C) imobilização temporária.
- (D) estacionamento especial.
- (E) parada especial.

47. O artigo 269 do CTB estabelece que o recolhimento de animais que se encontrem soltos na via é

- (A) uma penalidade.
- (B) uma obrigação do proprietário.
- (C) atribuição exclusiva da Vigilância Sanitária.
- (D) uma medida administrativa.
- (E) uma obrigação do condutor que os avistar.

- 48.** “Veículo automotor de duas rodas, dirigido por condutor em posição sentada” é como o Anexo I do CTB define
- (A) biciclo.
  - (B) motoneta.
  - (C) motocicleta.
  - (D) motociclo.
  - (E) bicicleta motorizada.
- 49.** O estacionamento em ponto de embarque ou desembarque de passageiros é proibido, conforme artigo 181 Inciso XIII do CTB. Qual é a extensão do trecho de proibição antes e depois do marco do ponto, em locais onde não há sinalização horizontal delimitadora?
- (A) 5 metros.
  - (B) 8 metros.
  - (C) 10 metros.
  - (D) 13 metros.
  - (E) 15 metros.
- 50.** Assinale a alternativa que contém somente informações obrigatórias com relação ao cometimento da infração e veículo, que devem constar no auto de infração conforme artigo 280 do CTB.
- (A) Data e hora do cometimento da infração, marca, espécie e cor do veículo.
  - (B) Local e hora do cometimento da infração, marca, espécie e cor do veículo.
  - (C) Local e data do cometimento da infração, marca, espécie e cor do veículo.
  - (D) Local, data e hora do cometimento da infração, marca e espécie do veículo.
  - (E) Local, data e hora do cometimento da infração, marca e cor do veículo.



