



PREFEITURA DA ESTÂNCIA HIDROMINERAL DE POÁ

ESTADO DE SÃO PAULO

Concurso Público

003. PROVA OBJETIVA

Agente Administrativo

- ◆ Você recebeu sua folha de respostas e este caderno contendo 50 questões objetivas.
- ◆ Confira seus dados impressos na capa deste caderno e na folha de respostas.
- ◆ Quando for permitido abrir o caderno, verifique se está completo ou se apresenta imperfeições. Caso haja algum problema, informe ao fiscal da sala.
- ◆ Leia cuidadosamente todas as questões e escolha a resposta que você considera correta.
- ◆ Marque, na folha de respostas, com caneta de tinta azul ou preta, a letra correspondente à alternativa que você escolheu.
- ◆ A duração da prova é de 3 horas, já incluído o tempo para o preenchimento da folha de respostas.
- ◆ Só será permitida a saída definitiva da sala e do prédio após transcorridos 75% do tempo de duração da prova.
- ◆ Ao sair, você entregará ao fiscal a folha de respostas e este caderno, podendo levar apenas o rascunho de gabarito, localizado em sua carteira, para futura conferência.
- ◆ Até que você saia do prédio, todas as proibições e orientações continuam válidas.

AGUARDE A ORDEM DO FISCAL PARA ABRIR ESTE CADERNO DE QUESTÕES.

Nome do candidato _____

Prédio _____

Sala _____

Carteira _____

Inscrição _____

CONHECIMENTOS GERAIS

LÍNGUA PORTUGUESA

Leia o texto para responder às questões de números **01** a **06**.

Entro no restaurante, sento-me, consulto o cardápio. E então reparo que alguns dos presentes, nas mesas em volta, não comem. Fotografam. O prato está pronto, e eles, antes de usarem os talheres, tiram foto da refeição com os celulares – de todos os ângulos, como se tivessem uma Gisele Bündchen na frente.

Por momentos, penso que o problema é médico: pessoas com primeiros sintomas de demência que gostam de registrar o que comeram ao almoço para não repetirem ao jantar.

Depois sou informado de que não: é moda fotografar os pratos e enviá-los para as redes sociais. Se os “amigos” sabem onde estamos e o que fazemos 24 horas por dia, é inevitável saberem também o que comemos. Desconfio até de que existem competições gastronômicas em que os pratos são usados como exibição de classe. Se as férias em família já servem para isso – esqui na Suíça, praia em Bali – por que não o almoço ou o jantar?

Mas o pasmo não termina com os fotógrafos. Continua com os enólogos amadores que tomaram conta do espaço público. No mesmo restaurante, os clientes giram os copos, cheiram, conferem a cor. Depois provam, fecham os olhos e invariavelmente convidam o empregado a servir o vinho. Quando foi que o mundo distribuiu diplomas de enologia pelo pessoal? E por que motivo eu não fui convidado?

(João Pereira Coutinho, *In vino veritas. Folha de S.Paulo*, 21.07.2015. Adaptado)

01. É correto afirmar que o autor

- (A) mostra-se incomodado por ter de compartilhar espaço no restaurante com pessoas fotografando a comida.
- (B) recusa-se a conviver com provadores de vinho amadores que frequentam espaços públicos.
- (C) ironiza os hábitos de divulgar em redes sociais até o que se come e de agir como especialista em vinhos.
- (D) declara sua simpatia para com a nova moda de as pessoas ostentarem a classe a que pertencem.
- (E) não confia em competições gastronômicas, as quais considera ostentação de ingredientes caros.

02. A frase que inicia o terceiro parágrafo – Depois sou informado de que não – nega o juízo do autor, segundo o qual

- (A) as pessoas tiravam fotos da comida como se fotografassem a modelo Gisele Bündchen.
- (B) as pessoas estavam, de fato, fotografando pratos da comida que lhes era servida.
- (C) era moda fotografar e expor nas redes sociais os pratos servidos nos restaurantes.
- (D) os amigos divulgam fatos da vida pessoal, expondo as atividades desenvolvidas durante 24 horas.
- (E) as pessoas fotografavam o que comiam para não repetir a refeição, pois começavam a perder a memória.

03. A expressão destacada na frase – O prato está pronto, e eles, antes de usarem os talheres, tiram foto da refeição **com os celulares** – expressa, no contexto, circunstância com o sentido de

- (A) instrumento.
- (B) companhia.
- (C) lugar.
- (D) finalidade.
- (E) comparação.

04. Observe as expressões destacadas nas frases – ... gostam de registrar o que comeram ao almoço **para** não repetirem ao jantar. – e – **Mas** o pasmo não termina com os fotógrafos.

É correto substituí-las, sem prejuízo de sentido, respectivamente, por:

- (A) enquanto / entretanto
- (B) se / portanto
- (C) apesar de / logo
- (D) assim que / contanto que
- (E) a fim de / porém

05. Assinale a alternativa em que as frases – ... penso que o problema é médico – e – Desconfio até de que existem competições gastronômicas... – estão reescritas de acordo com a norma-padrão quanto à colocação do pronome destacado e à concordância verbal.

- (A) ... penso que **se** tratava de problemas médicos / Desconfio até de que houve competições gastronômicas...
- (B) ... penso que tratava-**se** de problemas médicos / Desconfio até de que houveram competições gastronômicas...
- (C) ... penso que **se** tratavam de problemas médicos / Desconfio até de que houveram competições gastronômicas...
- (D) ... penso que tratava-**se** de problemas médicos / Desconfio até de que houve competições gastronômicas...
- (E) ... penso que tratavam-**se** de problemas médicos / Desconfio até de que houveram competições gastronômicas...

06. Substituindo-se **Se** por **Caso** e **estamos** por **vamos** no trecho – **Se** os “amigos” sabem onde **estamos**... –, obtém-se redação de acordo com a norma-padrão de conjugação e regência dos verbos, em:

- (A) Caso os “amigos” saibam aonde vamos...
- (B) Caso os “amigos” sabem aonde vamos...
- (C) Caso os “amigos” saibam onde vamos...
- (D) Caso os “amigos” sabiam onde vamos...
- (E) Caso os “amigos” saberem aonde vamos...

Leia o texto para responder às questões de números 07 a 12.

Minha avó gostava de festa. Minha mãe gosta de festa. Eu gosto de festa.

Quando penso em dar uma festa, meu coração se anima. Muitas vezes, no meio da lista de convidados e acepipes, tenho vontade de desistir diante da trabalhadeira da empreitada.

Respiro, me lembro das últimas festas que dei, penso na minha avó e na minha mãe em seus mistos de alegria e tensão, e acabo seguindo em frente.

Há que comemorar, há que manter os bolos, as velas, os brindes.

Há que passar adiante o “Parabéns pra Você”, mesmo que no meio da canção tudo pareça engraçado e sem sentido. Vale a pena. Nunca me arrependi de dar uma festa. No mínimo, fico feliz de ver meus vários afetos misturados em minha casa, conversando entre si, se juntando em tranças que retornam ao novelo do meu coração.

Não sei direito o porquê, mas tenho especial prazer em ver o namorado da filha da minha amiga em papo animado com a minha sogra, por exemplo. Improváveis misturas humanas a partir de mim. Foi assim que meu pai fez amizade com a mãe do segundo marido de minha mãe.

Tuta era uma senhora sacudida. Sempre de salto alto, se maquiava muito, punha flores no cabelo, fazia discursos, cantava e tocava piano.

Tinha passado a maior parte da vida longe da família e foi resgatada por minha mãe, que, inconformada e antes tarde do que nunca, decidiu presentear seu marido com o reencontro emocionado com a mãe desgarrada. Tuta passou, então, a frequentar as festas da família.

Conviveu com o filho, a nova nora e os parentes que pouco conhecia durante algum tempo, até que Fernando se foi. Viúva, minha mãe herdou de seu amado a mãe excêntrica, que continuou a fazer seus discursos, a tocar e a cantar nas festas lá de casa até seus 98.

Um tempo depois da morte de Fernando, meu pai voltou a frequentar as festas. Também afeito à cantoria, se juntou a Tuta nas canções e até declamavam poesias. Em uma festa de aniversário que ela promoveu em seu pequeno apartamento na Tijuca, minha mãe deu de cara com uma cena curiosa: os dois sozinhos na sala. Tuta ao piano e meu pai já exibindo pela janela sua linda voz de tenor. Numa manobra do destino, meu pai virou grande amigo da mãe do segundo marido de minha mãe.

A vida faz um bom crochê. As festas ajudam. Há que celebrar.

(Denise Fraga, Há que celebrar. <http://www1.folha.uol.com.br/colunas>. Acesso em: 24.07.2015. Adaptado)

07. A maneira como a autora descreve as festas que promove revela nela um sentimento de

- (A) indisposição, principalmente porque dá muito trabalho preparar tudo sozinha.
- (B) intolerância, diante de convidados que gostam de cantoria e discursos sem fim.
- (C) nostalgia, acordando lembranças boas de reuniões com pessoas amadas.
- (D) tristeza, porque a família já não se reúne mais como costumava fazer antigamente.
- (E) insatisfação, especialmente com a presença de estranhos, que querem misturar-se à família.

08. Na frase – A vida faz um bom crochê. – emprega-se palavra em sentido figurado, como também em:

- (A) ... no meio da lista de convidados e acepipes, tenho vontade de desistir diante da trabalhadeira da empreitada.
- (B) ... feliz de ver meus vários afetos [...] se juntando em tranças que retornam ao novelo do meu coração.
- (C) Foi assim que meu pai fez amizade com a mãe do segundo marido de minha mãe.
- (D) Sempre de salto alto, se maquiava muito, punha flores no cabelo, fazia discursos, cantava e tocava piano.
- (E) Conviveu com o filho, a nova nora e os parentes que pouco conhecia durante algum tempo...

09. Assinale a alternativa em que, de acordo com a norma-padrão, o pronome destacado só pode ser colocado antes do verbo a que se vincula.

- (A) ... meu coração **se** anima.
- (B) Nunca **me** arrependi de dar uma festa.
- (C) Sempre de salto alto, **se** maquiava muito...
- (D) Respiro, **me** lembro das últimas festas que dei...
- (E) ... conversando entre si, **se** juntando em tranças...

10. Os adjetivos destacados nas expressões – mãe **excêntrica** – e – mãe **desgarrada** – significam, no contexto, respectivamente,

- (A) extraordinária e acanhada.
- (B) assanhada e desnaturada.
- (C) estourada e inconsequente.
- (D) extravagante e afastada.
- (E) esquisita e desrespeitosa.

11. O verbo destacado na frase – Há que comemorar, há que **manter** os bolos... – é conjugado como o verbo “ter”. Assinale a alternativa em que **manter** está conjugado corretamente.

- (A) Os bolos, velas e brindes se mantiveram em todas as festas.
- (B) Em suas festas tudo se mantinha como no tempo da mãe e da avó.
- (C) A mãe ficaria desapontada se a filha não mantesse tudo como era antes.
- (D) Se elas manterem tudo como era antes, a festa será um sucesso.
- (E) A filha manteu a tradição e fez festas tão boas como as da mãe.

12. Assinale a alternativa que preenche, respectivamente, as lacunas da frase a seguir, de acordo com a norma-padrão de emprego do sinal indicativo de crase.

Meu pai voltou a comparecer _____ festas e conheceu Tuta, unindo-se _____ ela nas cantorias.

- (A) as ... à
- (B) às ... a
- (C) às ... à
- (D) à ... a
- (E) a ... à

13. Considere o seguinte texto:

E o diretor-geral, que era tão passivo e humilde com os superiores, quão arrogante e autoritário com os subalternos, apanhou rapidamente no ar o decreto que o ministro lhe atirou, em risco de lhe bater na cara [...].

(Artur Azevedo, De cima para baixo. *Contos de humor*)

É correto afirmar que *humilde* tem como antônimo, na passagem, a palavra

- (A) subalternos.
- (B) ministro.
- (C) diretor-geral.
- (D) arrogante.
- (E) passivo.

14. A pontuação da frase está de acordo com a norma-padrão em:

- (A) Informo, a Vossa Senhoria que: todos os documentos foram extraviados.
- (B) Os funcionários perguntam, se o plantão vai ser mantido.
- (C) Aconteceram dois incidentes: o furto da impressora e a invasão da lanchonete.
- (D) A investigação revelou irregularidades, principalmente no uso, das verbas.
- (E) Fuzarco Bronca funcionário do setor responsável, pelo transporte, demitiu-se.

15. Leia a tira.



(Charles M Schulz, *Snoopy – Feliz dia dos namorados!*)

É correto afirmar que a reação da garota aos comentários do menino indica que ela

- (A) tem um ponto de vista nada coerente com sua postura de acomodação.
- (B) revela sua falta de disposição para a aquisição de conhecimentos.
- (C) censura o uso de recursos tecnológicos, que não devem substituir a aprendizagem.
- (D) se submete às condições impostas pela escola, que a obriga a estudar.
- (E) expressa seu receio de não saber nada, num futuro muito próximo.

16. Para recobrir o piso de uma casa, foram compradas 1 000 lajotas, todas iguais, porém 5% delas estavam com algum defeito e não puderam ser usadas. Das lajotas sem defeitos, $\frac{2}{5}$ foram utilizadas na primeira etapa do serviço e, $\frac{5}{6}$ das lajotas restantes foram utilizadas na segunda etapa. O número de lajotas sem defeitos que restaram após as duas primeiras etapas da obra foi
- (A) 85.
(B) 90.
(C) 95.
(D) 100.
(E) 105.
17. A secretária de um consultório médico precisa arquivar vários prontuários antigos, e para isso pretende separá-los em grupos, todos com o mesmo número de prontuários. Porém, ao começar a realizar a tarefa, percebeu que colocando 6 prontuários em cada grupo, ou 8 prontuários em cada grupo, ou 9 prontuários em cada grupo sempre sobriaria um prontuário. O número de prontuários que precisam ser arquivados, sabendo que eles não chegam a 100, é
- (A) 68.
(B) 73.
(C) 82.
(D) 90.
(E) 95.
18. Uma pessoa comprou um frasco do medicamento A, com 93 comprimidos, e um frasco do medicamento B, com 87 comprimidos e quer separá-los em pacotinhos, todos com o mesmo número de comprimidos e na maior quantidade possível, de modo que cada pacotinho tenha comprimidos de um só medicamento e que não ocorra nenhuma sobra. O número total de pacotinhos que devem ser feitos, é
- (A) 52.
(B) 55.
(C) 58.
(D) 60.
(E) 63.

19. Uma loja que vende motos e carros usados constatou que, em certo mês, a razão entre o número de carros e o número de motos vendidos, nessa ordem, foi $\frac{2}{3}$. Sabendo que a diferença entre o número de motos e o número de carros vendidos foi 28, o número total de veículos vendidos, entre carros e motos, nesse mês, foi
- (A) 140.
(B) 120.
(C) 96.
(D) 84.
(E) 62.
20. Em uma obra, onde trabalham determinado número de operários, 12% deles faltaram na 2ª feira. Dos demais operários, 2 passaram mal e foram embora mais cedo, permanecendo na obra 20 operários até o final do dia. Em relação ao número total de operários que trabalham nessa obra, o número de operários que permaneceram até o final do dia, representa uma porcentagem de
- (A) 60%
(B) 65%
(C) 70%
(D) 75%
(E) 80%
21. Um restaurante especializado em massas comprou determinada quantidade de macarrão fresco e utilizou 200 g desse macarrão no preparo de cada prato. Se esse restaurante utilizasse 160 g no preparo de cada prato, poderia, com a mesma quantidade de macarrão comprada, ter preparado 5 pratos a mais. A quantidade de macarrão comprada, em quilogramas, foi
- (A) 6.
(B) 5.
(C) 4.
(D) 3.
(E) 2.

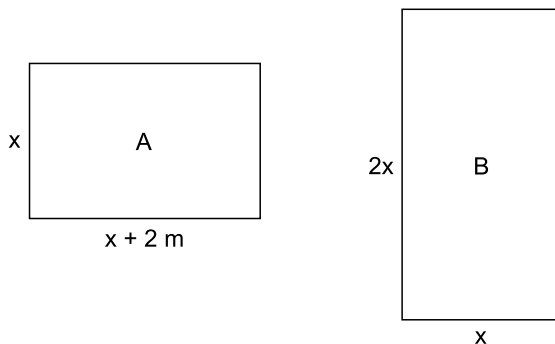
22. Uma pessoa comprou várias garrafas de diferentes sabores de suco de frutas. A tabela mostra o sabor do suco, a respectiva quantidade de garrafas e o preço unitário da garrafa.

SUCO	QUANTIDADE	PREÇO UNITÁRIO
maracujá	4	R\$ 6,65
uva	3	R\$ 5,80
caju	5	?

Considerando-se o número total de garrafas compradas, o preço de uma garrafa de suco foi, em média, R\$ 5,00. O preço de uma garrafa de suco de caju é

- (A) R\$ 4,00.
(B) R\$ 3,80.
(C) R\$ 3,50.
(D) R\$ 3,20.
(E) R\$ 3,00.
23. Um capital aplicado a juro simples com taxa de 8,4% ao ano, durante 5 meses, rendeu um juro de R\$ 28,00. O valor que deveria ser acrescentado inicialmente a esse capital para que o juro obtido, nesse mesmo período de tempo e com a mesma taxa anual, fosse de R\$ 31,50, é de
- (A) R\$ 100,00.
(B) R\$ 200,00.
(C) R\$ 300,00.
(D) R\$ 400,00.
(E) R\$ 500,00.
24. Mara fez muitos biscoitos para presentear seus amigos e comprou várias caixas, todas de mesmo tamanho, para colocar, em cada uma delas, a mesma quantidade de biscoitos. Se ela colocar 30 biscoitos em cada caixa, sobrarão 20 biscoitos, mas se ela colocar 40 biscoitos em cada caixa, irá utilizar 2 caixas a menos e não restará biscoito algum. O número de biscoitos feitos por Mara é
- (A) 240.
(B) 260.
(C) 280.
(D) 300.
(E) 320.

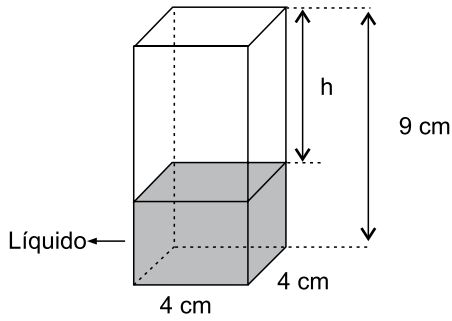
25. Em determinada área, foram plantadas três tipos diferentes de árvores: A, B e C; totalizando 108 árvores. O número de árvores do tipo A é igual à média aritmética entre o número de árvores dos tipos B e C; e o número de árvores do tipo B é igual a $\frac{5}{7}$ do número de árvores do tipo C. O número de árvores do tipo B é
- (A) 25.
(B) 30.
(C) 36.
(D) 42.
(E) 45.
26. Duas salas, A e B, ambas retangulares, tem dimensões em metros, conforme mostram as figuras.



Sabendo que o perímetro da sala B é numericamente igual à área da sala A, é correto afirmar que o perímetro da sala A, em metros, é

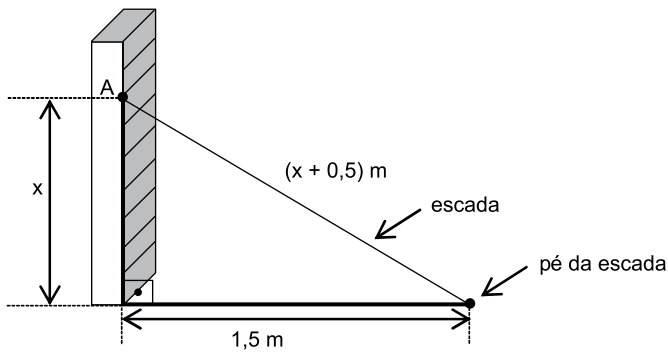
- (A) 14.
(B) 16.
(C) 18.
(D) 20.
(E) 22.
27. Em um canteiro foram plantadas 48 mudas de temperos variados dispostos em fileiras, de modo que o número de mudas de cada fileira é igual ao número de fileiras mais 2. O número de mudas por fileira é
- (A) 6.
(B) 7.
(C) 8.
(D) 9.
(E) 10.

28. Em um prisma reto de base quadrada com 4 cm de aresta e 9 cm de altura, foram colocados 100 cm³ de líquido, conforme mostra a figura.



A altura h , em cm, é

- (A) 2,25.
 (B) 2,75.
 (C) 3,50.
 (D) 3,85.
 (E) 4,15.
29. Uma escada foi apoiada no ponto A de uma estante, de modo que seu pé encontra-se a 1,5 m da estante, conforme mostra a figura.



O comprimento, em metros, dessa escada, é

- (A) 2,50.
 (B) 2,75.
 (C) 3,00.
 (D) 3,25.
 (E) 3,50.
30. Para adubar certa quantia de terra, um agricultor misturou 2 tipos diferentes de fertilizantes, na seguinte proporção: 300 g do fertilizante A, para 450 g do fertilizante B. Ao preparar 3 kg dessa mistura (fertilizante A + fertilizante B), a quantia utilizada do fertilizante A, em kg, foi
- (A) 1,6.
 (B) 1,5.
 (C) 1,4.
 (D) 1,3.
 (E) 1,2.

ATUALIDADES

31. Antes de colocar em votação o projeto de lei que regulamenta a terceirização no país, o Senado realizou, nesta terça-feira (19.05), uma sessão temática para debater a proposta. O texto foi aprovado pela Câmara dos Deputados no mês passado, mas ainda precisa ser apreciado pelos senadores. Não há previsão de quando o projeto será votado no plenário do Senado.

(G1, disponível em: <http://goo.gl/cw5YVf>, 19.05.2015. Adaptado)

Entre as medidas polêmicas desse projeto aprovado na Câmara, está

- (A) a proibição de contratação de ex-funcionários da empresa como terceirizados.
- (B) o aumento das contribuições legais devidas somente pelas empresas contratadas.
- (C) a contratação de funcionários terceirizados para a atividade principal da empresa.
- (D) a falta de responsabilidade da empresa contratante em relação às leis trabalhistas.
- (E) a criação de sindicatos específicos e autônomos para os funcionários terceirizados.

32. O Vaticano assinou, nesta sexta-feira (26.06), seu primeiro tratado com o “Estado”, pedindo “decisões corajosas” para encerrar o conflito entre os dois povos, dando seu apoio à chamada “solução de dois Estados”. Anunciado em maio, o acordo tornou oficial o reconhecimento do país pelo Vaticano.

(Folha de S.Paulo, disponível em: <http://goo.gl/NzvpUo>, 26.06.2015. Adaptado)

A notícia refere-se ao conflito entre

- (A) chineses e tibetanos.
- (B) coreanos do Norte e do Sul.
- (C) israelenses e palestinos.
- (D) sudaneses do Norte e do Sul.
- (E) indianos e paquistaneses.

33. O Senado aprovou, nesta quarta-feira (01.07), o texto base do projeto que estende os efeitos da chamada PEC da Bengala para todos os servidores públicos da União, estados e municípios, assim como aconteceu com os ministros do Supremo Tribunal Federal (STF).

(Estadão, disponível em: <http://goo.gl/MWloV3>, 01.07.2015. Adaptado)

Essa proposta de emenda à Constituição

- (A) garante a renovação mais rápida dos quadros do funcionalismo público.
- (B) iguala homens e mulheres na concessão de pensão por morte do cônjuge.
- (C) estipula a reserva de um terço das vagas dos concursos públicos a idosos.
- (D) estabelece a idade de 75 anos para a aposentadoria compulsória dos servidores públicos.
- (E) eleva os gastos públicos com o pagamento de convênios médicos ao funcionalismo.

34. A presidente Dilma Rousseff afirmou que, durante sua gestão à frente do Mercosul, entre dezembro de 2014 e julho deste ano, trabalhou para “acelerar trâmites” a fim de possibilitar a “entrada tranquila” do país no bloco econômico. A adesão ainda não foi oficializada e aguarda aprovação dos parlamentos dos países permanentes do bloco.

(G1, disponível em: <http://goo.gl/wQIsHM>, 17.07.2015. Adaptado)

O novo membro pleno do Mercosul do qual trata a notícia é

- (A) a Bolívia.
- (B) o Chile.
- (C) o Equador.
- (D) o Peru.
- (E) a Venezuela.

35. No começo de julho de 2015, a Câmara dos Deputados reverteu, em 24 horas, o resultado da votação da proposta inicial de mudança constitucional e aprovou um texto mais brando, que foi votado e aprovado em segundo turno no dia 19 de agosto. O texto seguiu para análise e votação no Senado. Essa proposta trata

- (A) do cálculo da aposentadoria por tempo de serviço.
- (B) da criação de um imposto sobre as grandes fortunas.
- (C) da proibição de castigos físicos dos pais aos filhos.
- (D) da redução da maioria penal para determinados crimes.
- (E) do prazo legal para a demarcação das terras indígenas.

36. EUA e Cuba formalizaram, no dia 20 de julho de 2015, o reatamento de relações diplomáticas, pondo fim a mais de 50 anos de hostilidade. A medida que simbolizou a reaproximação desses países foi

- (A) o fim do embargo comercial norte-americano.
- (B) a reabertura das embaixadas nos dois países.
- (C) a devolução da base de Guantánamo a Cuba.
- (D) a libertação de todos os presos políticos cubanos.
- (E) a delegação conjunta nos Jogos Pan-Americanos.

37. O novo Banco de Desenvolvimento foi inaugurado nesta terça-feira, em Xangai. A instituição internacional tem um capital calculado em 100 bilhões de dólares e financiará grandes projetos de infraestrutura de interesse geral nos países emergentes que solicitarem ajuda.

(UOL, disponível em: <http://goo.gl/nkEisc>, 21.07.2015. Adaptado)

Trata-se do Banco de Desenvolvimento

- (A) dos Brics.
- (B) do Mercosul.
- (C) do Nafta.
- (D) da União Europeia.
- (E) dos Tigres Asiáticos.

38. Depois de cinco meses de negociações, Atenas e seus credores europeus alcançaram, em 13 de julho, um acordo que prevê um novo plano de resgate para o país, mas em troca de duras reformas. O Parlamento grego adotou um segundo pacote de reformas reclamadas pelos credores da Grécia como passo prévio ao terceiro resgate.

(Exame, disponível em: <http://goo.gl/931rjs>, 23.07.2015. Adaptado)

Entre as “duras reformas” a realizar, é correto citar

- (A) o aumento do déficit público.
- (B) a fundação de novas empresas estatais.
- (C) a extinção do sistema de justiça civil.
- (D) a diminuição na arrecadação de impostos.
- (E) a mudança no sistema de aposentadorias.

39. Leia os trechos de notícias a seguir.

Após meses de negociação, a Turquia concordou em permitir que o exército dos Estados Unidos lance ataques aéreos contra o _____ de uma base aérea próxima à fronteira do país com a Síria.

(Veja, disponível em: <http://goo.gl/xbdfCd>, 23.07.2015. Adaptado)

A Turquia, pela primeira vez, realizou bombardeios aéreos contra jihadistas do _____, mudando sua forma de atuação após um violento atentado matar mais de trinta estudantes na cidade de Suruc.

(Veja, disponível em: <http://goo.gl/lhCjUj>, 24.07.2015. Adaptado)

O grupo terrorista a que se referem as notícias é

- (A) Boko Haram.
- (B) Estado Islâmico.
- (C) Hamas.
- (D) Hezbollah.
- (E) Taliban.

40. Sinais de desaceleração da economia chinesa intensificaram o clima entre os investidores nesta segunda-feira (27.07), derrubando as Bolsas globais e pressionando a cotação do dólar para cima. É a maior cotação nominal desde março de 2003.

(Folha de S.Paulo, disponível em: <http://goo.gl/VpcA8R>, 28.07.2015. Adaptado)

Além dos problemas mundiais que afetam o Brasil, essa desvalorização do real em relação ao dólar esteve ligada, internamente,

- (A) ao pagamento total da dívida pública.
- (B) à queda brusca da taxa básica de juros.
- (C) à dificuldade de importação de commodities.
- (D) à divulgação dos prejuízos do Banco Central.
- (E) ao anúncio de redução da meta do superavit primário.

41. Assinale a alternativa que apresenta o ícone do navegador de internet padrão do MS-Windows 7, em sua configuração inicial.

- (A) 
- (B) 
- (C) 
- (D) 
- (E) 

42. O ícone exibido a seguir, foi retirado do MS-Windows 7, em sua configuração padrão.



O nome do aplicativo ao qual o ícone se refere é

- (A) Painel de Controle.
- (B) Lixeira.
- (C) Desfragmentador.
- (D) Volume de Tinta.
- (E) Limpeza de Disco.

43. Ao iniciar um novo documento por meio do MS-Word 2010, em sua configuração padrão, uma série de formatações padrão e de estilo estão pré-selecionadas.

A partir do enunciado, assinale a alternativa que contém o estilo padrão que está aplicado ao iniciar um novo documento.

- (A) AaBbCcDd
¶ Sem Esp...






- (B) **AaB**
Título

- (C) AaBbCcDd
¶ Normal

- (D) AaBbC
Título 1

- (E) *AaBbCc*
Subtítulo

44. O ícone cuja função é mostrar marcas de parágrafo e outros símbolos de formatação ocultos, no MS-Word 2010, em sua configuração padrão, é o representado em:

- (A) 
- (B) 
- (C) 
- (D) 
- (E) 

45. Observe a planilha a seguir sendo editada por meio do MS-Excel 2010, em sua configuração padrão.

	A	B	C	D	E
1	1	2	3	4	5
2					

Assinale a alternativa que contém o valor exibido na célula A2 após esta ser preenchida com a fórmula =MAIOR(A1:D1;4)

- (A) 1
- (B) 2
- (C) 3
- (D) 4
- (E) 5

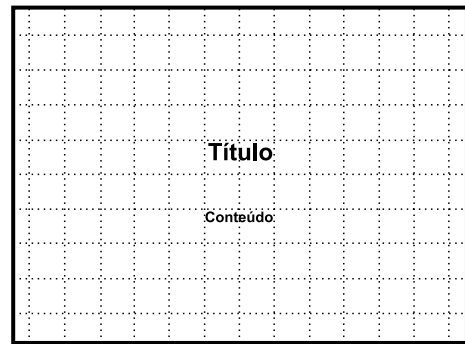
46. A imagem a seguir mostra uma planilha sendo editada por meio do MS-Excel 2010, em sua configuração padrão.

	A	B	C	D
1	6	2	4	
2	1	5	3	

O valor que será exibido na célula D1 após esta ser preenchida com a fórmula =MÁXIMO(B1:C2;4) é

- (A) 6
- (B) 5
- (C) 4
- (D) 3
- (E) 2

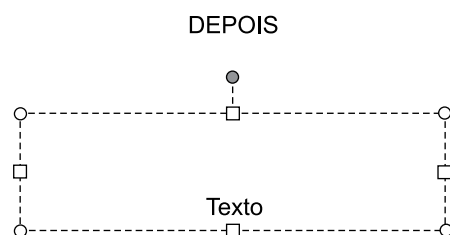
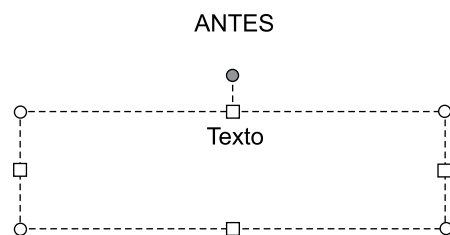
47. Observe a imagem a seguir, retirada do MS-PowerPoint 2010, em sua configuração padrão.



O pontilhado da imagem é exibido ao clicar em um recurso da guia Exibição. O nome deste recurso é

- (A) Formas.
- (B) Guias.
- (C) Slide Mestre.
- (D) Régua.
- (E) Linhas de Grade.

48. As imagens a seguir representam o mesmo slide sendo editado por meio do MS-PowerPoint 2010, em sua configuração padrão.



A diferença entre as imagens ANTES e DEPOIS é a aplicação de um único recurso de edição. Assinale a alternativa que apresenta o nome desse recurso.

- (A) Organização.
- (B) Espaçamento de caracteres.
- (C) Justificado.
- (D) Direção do texto.
- (E) Alinhamento vertical.

49. Para acessar a página inicial da Vunesp na internet, basta acessar seu endereço _____ www.vunesp.com.br.

A lacuna do enunciado é corretamente preenchida por:

- (A) pelo browser
- (B) pela aba
- (C) pelo navegador
- (D) pela URL
- (E) pelo caminho

50. Um recurso de grande utilidade que todo usuário deve conhecer é o envio de arquivos por meio de correio eletrônico. Assinale a alternativa que indica o nome dado ao arquivo enviado por email.

- (A) Rascunho.
- (B) Assinatura.
- (C) Anexo.
- (D) Link.
- (E) Objeto.

