

MARINHA DO BRASIL
DIRETORIA DE ENSINO DA MARINHA

***PROCESSO SELETIVO PARA A PRESTAÇÃO DO
SERVIÇO MILITAR VOLUNTÁRIO (SMV) COMO
OFICIAIS TEMPORÁRIOS DA MARINHA DO BRASIL
PS-SMV-OF/2019***

**NÃO ESTÁ AUTORIZADA A UTILIZAÇÃO DE
MATERIAL EXTRA**

ÁREA MÉDICA

TEXTO 01 (Questões de 01 a 07)

O relógio

O relógio de Nasrudin vivia marcando a hora errada.

- Mas será que não dá para tomar uma providência? - alguém comentou.

- Qual providência? - falou Mullá.

- Bem, o relógio nunca marca a hora certa. Qualquer que seja a providência já será uma melhora.

Nasrudin deu uma martelada no relógio. O relógio parou.

- Você tem toda a razão - disse ele. - De fato, já dá para sentir uma melhora.

- Eu não quis dizer "qualquer providência", assim literalmente. Como é que agora o relógio pode estar melhor do que antes?

- Bem, antes ele nunca marcava a hora certa. Agora, pelo menos, duas vezes por dia ele vai estar certo.

AL-DIN, K. N. O relógio. In: Costa, F. M. de. (org.). Os 100 melhores contos de humor da literatura universal. Rio de Janeiro: Ediouro, 2001.

QUESTÃO 1

Que ditado popular resume a moral do texto?

- (A) Para bom entendedor, meia palavra basta.
- (B) Água mole em pedra dura tanto bate até que fura.
- (C) Com tempo e perseverança tudo se alcança.
- (D) Mais vale um pássaro na mão que dois voando.
- (E) De médico e louco todo mundo tem um pouco.

QUESTÃO 2

No texto, é possível observar o uso do pronome indefinido "qualquer" em duas situações: "Qualquer que seja a providência já será uma melhora." (§4º) e "- Eu não quis dizer "qualquer providência", assim literalmente." (§7º). Cada uma dessas situações indica um significado para o referido pronome. Assinale a opção que apresenta a justificativa mais adequada para a diferença semântica dessas suas frases.

- (A) No primeiro trecho, o pronome "qualquer" apresenta ausência de particularização porque faz referência à oração anterior.
- (B) O primeiro uso de "qualquer" apresenta um pronome substantivo. O segundo uso, um pronome adjetivo.
- (C) O real sentido que o interlocutor quis empregar à palavra "qualquer" é revelado na segunda ocorrência pelo uso das aspas que dão à expressão sentido particular.
- (D) Os dois empregos da palavra "qualquer" são exemplos típicos de homonímia.
- (E) O segundo trecho apresenta o uso conotativo do pronome "qualquer", em função somente do emprego da palavra "literalmente".

QUESTÃO 3

Assinale a opção em que todas as palavras seguem, respectivamente, as mesmas regras de acentuação gráfica presentes em: Mullá, você e alguém.

- (A) pá / café / hífen.
- (B) fará / guichê / parabéns.
- (C) lá / lê / harém.
- (D) cajá / canapé / vêm.
- (E) abadá / crê / éden.

QUESTÃO 4

No trecho "O relógio de Nasrudin vivia marcando a hora errada." (§1º), o verbo "viver" apresenta que valor semântico?

- (A) Estar com vida.
- (B) Permanecer.
- (C) Vivenciar.
- (D) Dedicar-se.
- (E) Passar por.

QUESTÃO 5

Analise as afirmativas abaixo.

Com relação à técnica do diálogo apresentada no texto:

- I- os verbos "comentou" (§2º), "falou" (§3º) e "disse" (§6º) indicam que o interlocutor está com a palavra no discurso direto.
- II- na frase: "O relógio de Nasrudin vivia marcando a hora errada." (§1º), é possível observar a presença do discurso direto.
- III- um exemplo de transposição do discurso indireto para o direto está presente em: Nasrudin disse que antes o relógio nunca marcava a hora certa.
- IV- o uso das interrogações dá vida ao personagem para o leitor, sendo um dos recursos que revela a força da narração no discurso direto.

Assinale a opção correta.

- (A) Apenas as afirmativas II e III são verdadeiras.
- (B) Apenas as afirmativas I e II são verdadeiras.
- (C) Apenas as afirmativas II, III e IV são verdadeiras.
- (D) Apenas as afirmativas I, III e IV são verdadeiras.
- (E) Apenas as afirmativas I e IV são verdadeiras.

QUESTÃO 6

Qual intenção comunicativa se depreende do discurso do personagem em: "Agora, pelo menos, duas vezes por dia ele vai estar certo." (§8º)?

- (A) Jocosidade.
- (B) Negação.
- (C) Hostilidade.
- (D) Hesitação.
- (E) Austeridade.

QUESTÃO 7

Quanto à tipologia do texto, é correto afirmar que:

- (A) o relato do fato e o encadeamento de ações numa relação de causa/efeito se sobrepõem à descrição da imagem.
- (B) o emprego de traços qualificativos permite a caracterização tanto do ambiente quanto dos personagens.
- (C) o encadeamento do raciocínio lógico é o recurso que objetiva defender uma opinião e convencer o leitor.
- (D) a oposição de ideias apresentadas ao longo do texto revela-se como o elemento capaz de criar debates.
- (E) os personagens são caracterizados subjetivamente por meio do predomínio do uso de substantivos e adjetivos.

TEXTO 2 (Questões de 08 a 11)



QUESTÃO 8

No gênero dos quadrinhos, é importante atentar-se à sequência dos acontecimentos e às linguagens verbais e imagéticas para captar o humor próprio do gênero. A comichidade da tirinha ocorre porque a expectativa e a euforia do personagem Cascão foram substituídas pela

- (A) decepção. Cascão esperava por uma bola nova, mas o amigo investe numa chuteira, ocultando que o problema da bola já havia sido resolvido.
- (B) desonestidade. Fica nítido que o amigo de Cascão faltou com a verdade ao dizer que a bola estava furada.
- (C) solidão. Cascão não compreende porque o amigo dá mais valor à chuteira do que à possibilidade de eles brincarem juntos.
- (D) humilhação. Apesar de Cascão estar descalço, o suposto amigo ostenta com satisfação o par de chuteiras novas.
- (E) falsidade. O entusiasmo de Cascão está na possibilidade de brincar com a bola nova, levando-o a desprezar o valor de se ter um amigo verdadeiro.

QUESTÃO 9

Em "Remendei a bola faz tempo!", temos o uso do verbo "fazer" em uma referência de tempo. Na Língua Portuguesa, outros verbos também são utilizados para indicar tempo decorrido. Assinale a opção em que o verbo foi utilizado de acordo com a norma culta.

- (A) Fazem dez anos que não vejo Ricardo.
- (B) Morava no Rio haviam muitos anos.
- (C) Já vão fazer cinco anos que não o encontro.
- (D) Existia anos que não visitava Portugal.
- (E) Havia dois dias que não comia nada.

QUESTÃO 10

Em "Pensei que sua bola tinha furado!", o termo destacado introduz uma oração subordinada que desempenha uma função específica dentro do período composto. Assinale a opção que apresenta uma oração com essa mesma função sintática.

- (A) A verdade é que ele não se preparou para a prova.
- (B) Tenho esperança de que você venha comigo.
- (C) Os servidores esperavam que fosse dia de licença.
- (D) É sabido que você deve comparecer à reunião.
- (E) O diretor necessita de que todos compareçam.

QUESTÃO 11

Assinale a opção em que a conjunção está empregada com valor equivalente àquele da palavra sublinhada em: "Furou! Mas eu peguei minha mesada e guardei...".

- (A) Ninguém chegou cedo nem justificou o atraso.
- (B) Chovia muito e comprei um guarda-chuva.
- (C) Vai à escola ora para ver os amigos ora a professora.
- (D) Arrumou todas as malas e ficou em casa.
- (E) Iremos pessoalmente ou mandaremos um representante.

TEXTO 03 (Questões de 12 a 21)

A Pêndula

Saí dali a saborear o beijo. Não pude dormir; estirei-me na cama, é certo, mas foi o mesmo que nada. Ouvei as horas todas da noite. Usualmente, quando eu perdia o sono, o bater da pêndula fazia-me muito mal; esse tique-taque noturno, vagaroso e seco, parecia dizer a cada golpe que eu ia ter um instante menos de vida. Imaginava então um velho diabo, sentado entre dois sacos, o da vida e da morte, a tirar as moedas da vida para dá-las à morte, e a contá-las assim:

- Outra de menos...
- Outra de menos...
- Outra de menos...
- Outra de menos...

O mais singular é que, se o relógio parava, eu dava-lhe corda, para que ele não deixasse de bater nunca, e eu pudesse contar todos os meus instantes perdidos. Invenções há, que se transformam ou acabam; as mesmas instituições morrem; o relógio é definitivo e perpétuo; o derradeiro homem, ao despedir-se do sol frio e gasto, há de ter um relógio na algibeira, para saber a hora exata em que morre. Naquela noite não padei essa triste sensação de enfado, mas outra, e deleitosa. As fantasias tumultuavam-me cá dentro, vinham umas sobre outras, à semelhança de devotas que se abalroam para ver o anjo-cantor das procissões. Não ouvia os instantes perdidos, mas os minutos ganhos; e de certo tempo em diante não ouvi coisa nenhuma, porque o meu pensamento, ardiloso e traquinas, saltou pela janela fora e bateu as asas na direção da casa de Virgília. Ai achou ao peitoril de uma janela o pensamento de Virgília, saudaram-se e ficaram de palestra. Nós a rolarmos na cama, talvez com frio, necessitados de repouso, e os dois vadios ali postos, a repetirem o velho diálogo de Adão e Eva.

(ASSIS, Machado de. *Obra Completa*. Vol. I. Rio de Janeiro: Nova Aguilar, 199, p. 61-62)

QUESTÃO 12

Assinale a opção que expressa o valor da conjunção sublinhada em: "O mais singular é que, se o relógio parava, eu dava-lhe corda, [...]" (§6º).

- (A) Conclusão.
- (B) Adversidade.
- (C) Comparação.
- (D) Condição.
- (E) Finalidade.

QUESTÃO 13

Em "As fantasias tumultuavam-me cá dentro, [...], à semelhança de devotas que se abalroam para ver o anjo-cantor das procissões." (§6º), tem-se o emprego do sinal indicador de crase. Assinale a opção que NÃO apresenta um emprego desse sinal de acordo com a norma culta.

- (A) Os textos têm um estilo de escrita à Oswald de Andrade.
- (B) Os funcionários solicitaram à Vossa Senhoria os pareceres.
- (C) Somos contrários àqueles elegíveis desonestos.
- (D) As crianças chegaram à noitinha do passeio.
- (E) Aqueles adolescentes estão à margem da sociedade.

QUESTÃO 14

Assinale a opção em que as palavras apresentadas flexionam-se no plural pelas mesmas regras de tique-taque, sol, direção e peitoril, respectivamente.

- (A) cavalo-vapor - carnaval - escrivão - fóssil.
- (B) pingue-pongue - cônsul - cristão - barril.
- (C) navio-escola - farol - gavião - réptil.
- (D) reco-reco - papel - coração - funil.
- (E) abaixo-assinado - mal - cidadão - fuzil

QUESTÃO 15

A ideia de um tempo que exerce sobre a vida uma ação corrosiva pode ser observada no trecho destacado a seguir: "[...]; esse tique-taque soturno, vagaroso e seco, parecia dizer a cada golpe que eu ia ter um instante menos de vida." (§1º). Assinale a opção que apresenta a mesma ideia contida nesse trecho.

- (A) "O tempo não para! / A saudade é que faz as coisas pararem no tempo..." (QUINTANA, Mário. *A saudade.*).
- (B) "Não se pode dizer, ao certo, que tempo estiveram assim calados, alheios e remotos um do outro." (ASSIS, Machado de. *Quincas Borba.*).
- (C) "Desde o instante em que se nasce / Já se começa a morrer." (RICARDO, Cassino. *Relógio.*).
- (D) "Quero viver muitos minutos num só minuto." (LISPECTOR, Clarice. *Um Sopro de Vida.*).
- (E) "Não temos mais decerto que o instante / Em que o pensamos certo." (REIS, Ricardo. *Odes.*).

QUESTÃO 16

Em "Imaginava então um velho diabo, sentado entre dois sacos, o da vida e da morte, [...]" (§1º), o trecho destacado atribui a "dois sacos" um valor de:

- (A) explicação.
- (B) causalidade.
- (C) conclusão.
- (D) restrição.
- (E) modo.

QUESTÃO 17

Assinale a opção em que o trecho destacado está corretamente relacionado à figura de linguagem indicada.

- (A) "[...]; esse tique-taque soturno, vagaroso e seco, [...]" (§1º) - Paronomásia.
- (B) "Ouvi as horas todas da noite." (§1º) - Anacoluto.
- (C) "[...], saudaram-se e ficaram de palestra." (§6º) - Personificação.
- (D) "[...]; as mesmas instituições morrem; [...]" (§6º) - Eufemismo.
- (E) "[...]; e de certo tempo em diante não ouvia coisa nenhuma, [...]" (§6º) - Sinestesia.

QUESTÃO 18

Em "Nós a rolarmos na cama, talvez com frio, necessitados de repouso, e os dois vadios ali postos, a repetirem o velho diálogo de Adão e Eva." (§6º), há orações coordenadas pela conjunção "e", sendo que elas fazem referência a sujeitos diferentes. Assinale a opção correta que apresenta, respectivamente, cada um desses sujeitos.

- (A) Narrador-personagem e Virgília; os pensamentos de Virgília e os de Adão e Eva.
- (B) Narrador-personagem, Virgília e leitor; os pensamentos do narrador-personagem e os de Virgília.
- (C) Narrador-personagem e Virgília; os pensamentos do narrador-personagem e os de Virgília.
- (D) Narrador-personagem e Virgília; os pensamentos do narrador-personagem e os de Adão e Eva.
- (E) Narrador-personagem, Virgília e leitor; os pensamentos de Virgília e os de Adão e Eva.

QUESTÃO 19

Com relação ao emprego da vírgula, assinale a opção em que a frase abaixo está corretamente reescrita:

"Usualmente, quando eu perdia o sono, o bater da pêndula fazia-me muito mal; [...]" (§1º).

- (A) Usualmente, o bater da pêndula fazia-me muito mal quando eu perdia o sono.
- (B) Usualmente, o bater da pêndula, fazia-me muito mal, quando eu perdia o sono.
- (C) Usualmente, o bater da pêndula fazia-me, muito mal, quando eu perdia o sono.
- (D) Usualmente, quando eu perdia, o sono, o bater da pêndula fazia-me muito mal.
- (E) Usualmente, quando, eu perdia o sono, o bater da pêndula, fazia-me muito mal.

QUESTÃO 20

O termo "relógio", presente em "Invenções há, que se transformam ou acabam; as mesmas instituições morrem; o relógio é definitivo e perpétuo; [...]" (§6º), além de representar um aparelho que indica as horas, também é empregado como um símbolo de

- (A) manipulação do tempo.
- (B) pacificação de conflitos diários.
- (C) pensamento cíclico.
- (D) fugacidade da vida cotidiana.
- (E) passagem inevitável do tempo.

QUESTÃO 21

Assinale a opção cuja ação verbal está marcada pela reciprocidade entre sujeitos.

- (A) "[...]; estirei-me na cama, [...]" (§1º).
- (B) "[...], o bater da pêndula fazia-me muito mal; [...]" (§1º).
- (C) "As fantasias tumultuavam-me cá dentro, [...]" (§6º).
- (D) "[...], saudaram-se [...]" (§6º).
- (E) "[...], ao despedir-se do sol frio e gasto, [...]" (§6º).

Texto 04 (Questões de 22 a 25)

Tempo dos Ponteiros

Uma menina coleciona relógios.
De papel, de plástico, de louça, de bronze, de madeira.
Relógios de antes e de agora.
Relógios grandes e pequenos.
Relógios de brincar e de usar.
De pulso, de bolso, de mesa, de parede.
Ela gosta também de recortar relógios das revistas.
Brinca com os ponteiros.
Guarda um relógio que foi do bisavô.
Os ponteiros pararam.
Não andam mais.
Ela não conheceu o bisavô.
A menina conhece o tempo dos ponteiros.

(PARREIRAS, Ninfa. Poemas do Tempo. São Paulo: Paulinas, 2013, 4.ed.)

QUESTÃO 22

Assinale a opção em que o termo sublinhado apresenta a mesma função sintática do destacado em: "Ela gosta também de recortar relógios das revistas."

- (A) A solução do problema parecia fácil.
- (B) A professora queixou-se de dores.
- (C) A casa do vizinho precisa de reforma.
- (D) A chegada do trem trouxe meu grande amor.
- (E) A jovem necessita de transplante.

QUESTÃO 23

Em bolso, coleciona e louça, tem-se o emprego de mais de uma grafia para o mesmo som, conforme destacado. Assinale a opção em que todas as palavras apresentam o emprego INCORRETO dessas letras, respectivamente.

- (A) censo - aborrecer - remanço.
- (B) retensão - acervo - abseço.
- (C) obsecado - concerto - deserção.
- (D) pansa - ância - insoço.
- (E) valsa - acentamento - maciço.

QUESTÃO 24

Assinale a opção em que a função da linguagem está corretamente relacionada ao verso destacado do poema.

- (A) Fática - "Uma menina coleciona relógios." (verso 1).
- (B) Conativa - "Guarda um relógio que foi do bisavô." (verso 9).
- (C) Metalinguística - "Não andam mais." (verso 11).
- (D) Emotiva - "Ela não conheceu o avô." (verso 12).
- (E) Poética - "A menina conhece o tempo dos ponteiros." (verso 13).

QUESTÃO 25

Em "A menina conhece o tempo dos ponteiros." (13º verso), o trecho destacado faz referência a um tempo

- (A) psicológico.
- (B) ilusório.
- (C) fatídico.
- (D) subjetivo.
- (E) cronológico.

QUESTÃO 26

Militar da ativa, do sexo masculino, 30 anos de idade, deu entrada na emergência do Hospital Naval Marcílio Dias com quadro de febre 38,5°C, calafrio, mal-estar, perda ponderal e dor abdominal em flanco esquerdo com irradiação para quadril, virilha e joelho, e que piora à extensão do quadril, com 1 semana de evolução. Possui história de litíase renal. A tomografia computadorizada (TC) demonstrou massa de baixa densidade, à esquerda, dentro do retroperitônio, com inflamação adjacente. O diagnóstico mais provável, nesse caso, é:

- (A) Abscesso do músculo psoas esquerdo.
- (B) Apendicite.
- (C) Diverticulite aguda em cólon ascendente.
- (D) Pielonefrite.
- (E) Paniculite.

QUESTÃO 27

Gestante foi realizar sua primeira Ultrassonografia (USG) e descobre a idade gestacional de 11 semanas e a presença de dois fetos. Na USG foi observado Twin Peak. Sendo assim, é correto afirmar que:

- (A) a gestação é Gemelar Dicoriônica.
- (B) o sexo dos bebês será obrigatoriamente concordante.
- (C) há alto risco de transfusão feto-fetal.
- (D) os gêmeos são dizigóticos.
- (E) a gestação é Gemelar Monocoriônica.

QUESTÃO 28

As leucemias são as neoplasias malignas mais comuns na infância, correspondendo a cerca de 41% de todas as neoplasias que ocorrem nas crianças com até 15 anos de idade. Sobre as leucemias, a mais frequente é:

- (A) Leucemia Infantil.
- (B) Leucemia Linfoblástica Aguda (LLA).
- (C) Leucemia Linfoblástica Crônica (LMC).
- (D) Leucemia Mieloide Crônica Juvenil (LMCJ).
- (E) Leucemia Mieloide Aguda (LMA).

QUESTÃO 29

A alergia alimentar é um grupo de distúrbios no qual os sintomas resultam de respostas imunológicas a antígenos alimentares específicos, e ocorre em até 6% das crianças durante os primeiros 3 anos de vida, incluindo os 2-3% dos lactentes e crianças até 03 anos com alergia ao leite de vaca. A diarreia é um sintoma comum, que ocasiona perda ponderal e que pode levar ao atraso no crescimento e desenvolvimento. Apesar dos inúmeros avanços na farmacoterapia, com os antagonistas dos receptores de leucotrienos (Montelucaste), anticorpos monoclonal anti-IgE (Omalizumab) e anti-IL5 (Reslizumab), a medida mais eficaz para o tratamento é:

- (A) Dieta sem eliminação associada à anti-histamínico.
- (B) Chá de Alecrim e Camomila.
- (C) Dieta de eliminação do alérgeno.
- (D) Loperamida (Imosec®) 2mg/dia.
- (E) Medidas de higiene ambiental.

QUESTÃO 30

De acordo com o estudo HAPO - 2008 (*Hyperglycemia and Adverse Pregnancy Outcome*) realizado pelo International Association of Diabetes and Pregnancy Study Group (IADPSG, 2010), a glicemia de jejum deve ser realizada na 1ª consulta de pré-natal e, caso a glicemia esteja normal, a gestante deve ser submetida a TOTG -75 em que idade gestacional?

- (A) Entre 20 e 22 semanas.
- (B) Entre 32 e 36 semanas.
- (C) Entre 30 e 34 semanas.
- (D) Entre 18 e 20 semanas.
- (E) Entre 24 e 28 semanas.

QUESTÃO 31

A miocardiopatia hipertrófica (MCH) é o distúrbio cardiovascular genético mais comum, ocorrendo em 1 a cada 500 indivíduos e é uma causa destacada de morte súbita antes dos 35 anos de idade. A morte súbita pode ser causada por TV polimórfica/FV. Raramente ocorre TV monomórfica sustentada relacionada com áreas de cicatriz ventricular. Entre os fatores de risco para a miocardiopatia hipertrófica estão, EXCETO:

- (A) Síncope recente (até 6 meses).
- (B) Taquicardia ventricular não sustentada.
- (C) Espessura da parede ventricular menor que 3 cm.
- (D) Incapacidade de elevar a pressão arterial durante exercício.
- (E) Gravidade de obstrução da saída do VE.

QUESTÃO 32

Na adolescência, as massas pélvicas podem ser assintomáticas ou apresentar sintomas agudos ou crônicos. Quais são as massas pélvicas mais frequentes para essa faixa etária?

- (A) Cisto funcional, gravidez e leiomioma uterino.
- (B) Tumores epiteliais ovarianos, Leiomioma uterino e cisto funcional.
- (C) Gravidez, Leiomioma uterino e anomalias vaginais ou uterinas obstrutivas.
- (D) Teratoma cístico, cisto funcional e tumores ovarianos malignos.
- (E) Cisto funcional, gravidez e tumores epiteliais ovarianos.

QUESTÃO 33

A dor é um sintoma comum no pós-operatório e uma das causas mais comuns de atendimento de emergência. Dentre o arsenal terapêutico para o manejo da dor, aquele que deve ser evitado, no período perioperatório por associação com aumento do sangramento, lesão renal e ulceração gástrica é:

- (A) Opioides.
- (B) Dipirona.
- (C) Anti-inflamatórios não estereoidais (AINEs) não seletivos.
- (D) Paracetamol.
- (E) Amitriptilina.

QUESTÃO 34

Paciente de 30 anos relata corrimento vaginal fétido e prurido vulvar. Ao exame, foi observado corrimento vaginal purulento, eritema vaginal focal e teste das aminas positivo. Qual diagnóstico mais provável nesse caso?

- (A) Candidíase vulvovaginal.
- (B) Vaginite por trichomonas.
- (C) Vaginose Bacteriana.
- (D) Vaginite inflamatória.
- (E) Vaginite atrófica.

QUESTÃO 35

Em qual local é mais comum o surgimento do câncer de mama?

- (A) No quadrante inferior interno.
- (B) No quadrante inferior externo.
- (C) No quadrante superior interno.
- (D) No quadrante superior externo.
- (E) Nos dois quadrantes superiores.

QUESTÃO 36

A rabdomiólise pode ser causada por lesões traumáticas como esmagamento, isquemia muscular durante cirurgias vasculares ou ortopédicas, compressão durante o coma ou imobilização, atividade convulsiva prolongada, exercícios excessivos, internação ou hipertermia maligna, infecções ou distúrbios metabólicos como hipofosfatemia, hipotireoidismo grave e miopatias (induzidas por fármacos, metabólicas ou inflamatórias). Os fatores patogênicos da lesão renal aguda na rabdomiólise incluem, EXCETO:

- (A) Vasoconstrição intrarrenal.
- (B) Toxicidade direta nos túbulos proximais.
- (C) Obstrução mecânica do lúmen do néfron distal pela mioglobina ou a hemoglobina.
- (D) Vasodilatação intrarrenal.
- (E) Precipitação da mioglobina ou hemoglobina com a proteína de Tamm-Horsfall (uromodulina, proteína mais comum na urina e produzida no ramo ascendente espesso da alça de Henle).

QUESTÃO 37

Quais são as vacinas obrigatórias na gravidez?

- (A) TDAP, Hepatite B e Tríplice Viral.
- (B) Gripe, TDAP e Hepatite B.
- (C) Febre Amarela, Gripe e Hepatite B.
- (D) Tríplice Viral, Febre Amarela e Hepatite B.
- (E) Gripe, TDAP, Febre Amarela.

QUESTÃO 38

Mulher, enfermeira de CTI, 39 anos, tabagista de 40 maços-ano, deu entrada em uma emergência com quadro de tosse seca, dor pleurítica e febre baixa (38,5°C). Ao exame, apresenta: frequência cardíaca de 113bpm, frequência respiratória de 20 irpm em ar ambiente e ausculta pulmonar com estertor crepitante em terço médio do hemitórax direito. Tomografia de tórax com consolidação no lobo superior direito e pequenos focos de consolidações nos lobos superiores e na língula, com discreta lâmina de derrame pleural ipsilateral. Laboratório com leucocitose 38.100 (normal até 10.500); 26% de bastões; 54% segmentados, plaqueta 318mil; INR: 1,37; Ureia 24mg/dL; TGO = 26 U/L; TGP = 44U/L; sódio = 129mmol/L; PCR: 17,7mg/dL (normal até 0,5), Ácido láctico 2,1mmol/L (normal até 2,0); potássio = 2,0 mmol/L (normal entre 3,5 e 5,5); Creatinina = 0,8mg/dL; Score SOFA = 2. Eletrocardiograma (ECG) com prolongamento de QT (maior que 480ms). Considerando a hipótese de sepse de origem pulmonar, a alteração eletrolítica (potássio = 2,0mmol/L) e no ECG (prolongamento do QT), o antibiótico inicial que deve ser evitado por piorar essa condição eletrocardiográfica é:

- (A) Piperacilina-tazobactam.
- (B) Meropenem.
- (C) Linezolida.
- (D) Vancomicina.
- (E) Moxifloxacino.

QUESTÃO 39

Paciente de 20 anos, primigesta, na 14ª semana de gestação, relata hemorragia volumosa. Ao exame apresenta útero amolecido, volume de acordo com idade gestacional, colo permeável e membranas herniadas. Com o diagnóstico de abortamento inevitável, qual a conduta mais indicada?

- (A) Tratamento expectante.
- (B) Dilatação e aspiração a vácuo.
- (C) Curetagem.
- (D) Ocitocina venosa ou misoprostol por via vaginal.
- (E) Histerectomia.

QUESTÃO 40

A imunização é uma das medidas de prevenção de doenças mais benéficas e custo-efetiva. Como resultado de vacinas eficazes e seguras a varíola foi erradicada, e a incidência da maioria das doenças da infância preveníveis com vacina foi reduzida em mais de 99% da morbidade anual anterior ao desenvolvimento da vacina correspondente. Desde 2017 o Brasil vem apresentando uma incidência cada vez maior de Febre Amarela. Para evitar o aumento de casos, o Ministério da Saúde estendeu a cobertura vacinal para todo o País, e não só áreas endêmicas como anteriormente. Na criança, de acordo com o calendário vacinal do Ministério da Saúde, a vacinação para Febre Amarela está indicada a partir de:

- (A) 6 meses.
- (B) 9 meses.
- (C) 12 meses.
- (D) 15 meses.
- (E) 04 anos.

QUESTÃO 41

A Vitamina D e seus metabólitos estão envolvidos na regulação da homeostase dos íons minerais. A produção cutânea de vitamina D é reduzida pela melanina e pelos fatores de proteção solar e pela diminuição da exposição à luz do sol, o que faz com que a luz ultravioleta não penetre tanto na pele para realizar a sua ativação. Dentre as causas abaixo, assinale a que NÃO causa comprometimento da ação da vitamina D por perda acelerada dessa vitamina.

- (A) Comprometimento da circulação entero-hepática.
- (B) Síndrome nefrótica.
- (C) Aumento do metabolismo por uso de Fenitoína.
- (D) Ausência Dietética.
- (E) Hipoparatiroidismo.

QUESTÃO 42

A complicação mais comum do resfriado simples na infância é:

- (A) Bronquiolite.
- (B) Asma.
- (C) Sinusite.
- (D) Otite Média Aguda.
- (E) Encefalite.

QUESTÃO 43

O Diabetes Mellito (DM) refere-se a um grupo de distúrbios metabólicos comuns que compartilham o fenótipo da hiperglicemia, vários tipos distintos de DM são causados por uma interação complexa de fatores genéticos e ambientais. Dependendo da etiologia do DM, os fatores que contribuem para a hiperglicemia incluem secreção reduzida de insulina, menor utilização de glicose e maior produção de glicose. A desregulação metabólica associada ao DM acarreta alterações fisiopatológicas secundárias em muitos sistemas orgânicos que impõem uma enorme sobrecarga aos indivíduos com diabetes, assim como ao sistema de assistência de saúde. São critérios diagnósticos de Diabetes Mellito, EXCETO:

- (A) Glicemia plasmática em jejum maior que 126mg/dL.
- (B) Hemoglobina glicada (HbA1c) maior ou igual 6,5%.
- (C) Glicose plasmática de 2 horas maior ou igual 200mg/dL, durante teste de tolerância à glicose com 75g de glicose anidra.
- (D) Glicemia plasmática aleatória acima de 200mg/dL.
- (E) Glicemia plasmática aleatória de 180mg/dL.

QUESTÃO 44

As habilidades emergentes no segundo ano de vida modelam na criança o sentido do que é próprio (self) e dos outros. A criança tem uma independência percebida recentemente, a capacidade de caminhar permite-lhe a separação, embora continue a precisar de uma ligação segura com seus pais. Com aproximadamente 18 meses de idade, o surgimento do pensamento e da linguagem simbólicos determina uma reorganização do comportamento com implicações sobre vários outros domínios do desenvolvimento. Sobre o desenvolvimento da linguagem, a criança de 18 meses é capaz de:

- (A) contar uma história.
- (B) verbalizar seu nome completo.
- (C) verbalizar, em média, 10 palavras.
- (D) contar 10 moedas corretamente.
- (E) formar frases com 2 ou 3 palavras para pedir coisas.

QUESTÃO 45

Mulher de 47 anos procura atendimento com queixa de sangramento vaginal irregular. Na colposcopia apresenta lesão com características que sugerem invasão tumoral inicial. Assinale a opção que apresenta essas características.

- (A) Contorno irregular da superfície com perda do epitélio superficial e alteração da cor.
- (B) Vasos sanguíneos anormais e contornos regulares da superfície com perda do epitélio superficial.
- (C) Contorno regular da superfície e alteração da cor.
- (D) Vasos sanguíneos anormais e contorno irregular da superfície sem perda do epitélio superficial.
- (E) Contorno regular da superfície sem perda do epitélio superficial e sem alteração da cor.

QUESTÃO 46

Os miomas são tumores monoclonais benignos das células musculares lisas do miométrio e são as indicações mais frequentes de histerectomia. Assinale a opção que apresenta fatores que podem estar relacionados ao aumento do risco de desenvolvimento de miomas.

- (A) Menarca precoce, história familiar e gravidez (aumento da paridade).
- (B) Menarca tardia, história familiar e gravidez (aumento da paridade).
- (C) Menarca tardia, sedentarismo e história familiar.
- (D) Menarca precoce, gravidez (aumento da paridade) e tabagismo.
- (E) Tabagismo, sedentarismo e menarca tardia.

QUESTÃO 47

A crescente atitude de oposição à vacinação, seja por motivos religiosos, filosóficos ou por medos infundados de reações adversas graves, proporcionou surtos de sarampo em países antes erradicado. Um sinal patognomônico são as manchas de Koplik, que são:

- (A) lesões superficiais de 4 a 8 mm com eritema circunvizinho, podendo associar a vesículas em mãos, pés e boca.
- (B) palidez perioral.
- (C) petéquias ou pequenas lesões róseas no palato.
- (D) eritema no ângulo da mandíbula associado a edema de parótidas.
- (E) lesões redondas, de pequeno diâmetro, com centro branco-azulado e halo com discreta hiperemia, mais comum na mucosa bucal.

QUESTÃO 48

O diagnóstico de Peritonite Bacteriana Espontânea (PBE) é feito no contexto de dor abdominal, febre e/ou leucocitose, ascite com baixo teor proteico e neutrófilos maior ou igual a:

- (A) 50/mm³
- (B) 100/mm³
- (C) 150/mm³
- (D) 200/mm³
- (E) 250/mm³

QUESTÃO 49

Paciente com diagnóstico de câncer de mama com tumor maior que 1cm e menor ou igual a 5cm, em sua maior dimensão, metástase para 1 ou mais linfonodos axilares ipsilaterais, móveis de nível I e II, e sem evidências clínicas nem radiológicas de metástase a distância. Qual o estadiamento:

- (A) Estágio II B.
- (B) Estágio III A.
- (C) Estágio II A.
- (D) Estágio III B.
- (E) Estágio IA.


QUESTÃO 50

Gestante de 24 semanas apresenta dor epigástrica associada à náusea, edema e oligúria. PA 170x80mmHg. Exames laboratoriais evidenciam aumento de transaminases, Fosfatase Alcalina, plaquetopenia, proteinúria. Qual o diagnóstico mais provável?

- (A) Esteatose hepática.
- (B) Síndrome hemolítico-urêmica.
- (C) Hepatite viral.
- (D) Síndrome HELLP.
- (E) Hiperêmese gravídica.

INSTRUÇÕES GERAIS AO CANDIDATO

- 1 - Verifique se a prova recebida e a folha de respostas são da mesma cor (consta no rodapé de cada folha a cor correspondente) e se não faltam questões ou páginas. Escreva e assine corretamente o seu nome, coloque o seu número de inscrição e o dígito verificador (DV) apenas nos locais indicados;
- 2 - O tempo para a realização da prova será de 3 (três) horas, incluindo o tempo necessário à marcação das respostas na folha de respostas, e não será prorrogado;
- 3 - Só inicie a prova após ser autorizado pelo Fiscal, interrompendo a sua execução quando determinado;
- 4 - Iniciada a prova, não haverá mais esclarecimentos. O candidato somente poderá deixar o seu lugar, devidamente autorizado pelo Supervisor/Fiscal, para se retirar definitivamente do recinto de prova ou, nos casos abaixo especificados, devidamente acompanhado por militar designado para esse fim:
 - atendimento médico por pessoal designado pela MB;
 - fazer uso de banheiro; e
 - casos de força maior, comprovados pela supervisão do certame, sem que aconteça saída da área circunscrita para a realização da prova.
 Em nenhum dos casos haverá prorrogação do tempo destinado à realização da prova, em caso de retirada definitiva do recinto de prova, esta será corrigida até onde foi solucionada;
- 5 - Use caneta esferográfica preta ou azul para preencher a folha de respostas;
- 6 - Confira nas folhas de questões as respostas que você assinalou como corretas antes de marcá-las na folha de respostas. Cuidado para não marcar duas opções para uma mesma questão na folha de respostas (a questão será perdida);
- 7 - Para rascunho, use os espaços disponíveis nas folhas de questões, mas só serão corrigidas as respostas marcadas na folha de respostas;
- 8 - O tempo mínimo de permanência dos candidatos no recinto de aplicação de provas é de 90 minutos.
- 9 - Será eliminado sumariamente do processo seletivo/concurso e as suas provas não serão levadas em consideração, o candidato que:
 - a) der ou receber auxílio para a execução de qualquer prova;
 - b) utilizar-se de qualquer material não autorizado;
 - c) desrespeitar qualquer prescrição relativa à execução das provas;
 - d) escrever o nome ou introduzir marcas identificadoras noutro lugar que não o determinado para esse fim;
 - e) cometer ato grave de indisciplina; e
 - f) comparecer ao local de realização da prova após o horário previsto para o fechamento dos portões.
- 10 - Instruções para o preenchimento da folha de respostas:
 - a) use caneta esferográfica azul ou preta;
 - b) escreva seu nome em letra de forma no local indicado;
 - c) assine o seu nome no local indicado;
 - d) no campo inscrição DV, escreva o seu número de inscrição nos retângulos, da esquerda para a direita, um dígito em cada retângulo. Escreva o dígito correspondente ao DV no último retângulo. Após, cubra todo o círculo correspondente a cada número. Não amasse, dobre ou rasgue a folha de respostas sob pena de ser rejeitada pelo equipamento de leitura ótica; e
 - e) só será permitida a troca de folha de respostas até o início da prova, por motivo de erro no preenchimento nos campos nome, assinatura e número de inscrição, sendo de inteira responsabilidade do candidato qualquer erro ou rasura na referida folha de respostas, após o início da prova.
- 11 - Procure preencher a folha com atenção de acordo com o exemplo abaixo:





Nome: **ROBERTO SILVA**

Assinatura: **Roberto Silva**

Instruções de Preenchimento

- * Não rasure esta folha.
- * Não rabisque nas áreas de respostas.
- * Faça marcas sólidas nos círculos.
- * Não use canetas que borrem o papel.

ERRADO:  CORRETO: 

PREENCHIMENTO DO CANDIDATO

INSCRIÇÃO						DV	P	G
5	7	0	2	0	7	0	2	4
0	1	2	3	4	5	6	1	2
6	7	8	9	0	1	2	3	4
5	4	3	2	1	0	9	8	7
6	7	8	9	0	1	2	3	4
5	4	3	2	1	0	9	8	7
6	7	8	9	0	1	2	3	4
5	4	3	2	1	0	9	8	7
6	7	8	9	0	1	2	3	4

PREENCHIMENTO da DEINAM

01	02	03	04	05	06	07	08	09	10	11	12	13	14	15	16	17	18	19	20	21	22	23	24	25
26	27	28	29	30	31	32	33	34	35	36	37	38	39	40	41	42	43	44	45	46	47	48	49	50

T
A
R
J
A

- 12 - Não será permitido levar a prova após sua realização. O candidato está autorizado a transcrever as suas respostas, dentro do horário destinado à solução da prova, utilizando o modelo impresso no fim destas instruções para posterior conferência com o gabarito que será divulgado. É proibida a utilização de qualquer outro tipo de papel para anotação do gabarito.

ANOTE SEU GABARITO										PROVA DE COR _____														
1	2	3	4	5	6	7	8	9	10	11	12	13	14	15	16	17	18	19	20	21	22	23	24	25
26	27	28	29	30	31	32	33	34	35	36	37	38	39	40	41	42	43	44	45	46	47	48	49	50