

CONHECIMENTOS BÁSICOS: PORTUGUÊS

Leia o texto abaixo para responder às questões 1 e 2.

Carros letrados

A turma atrás do balcão do 1º Ofício de Notas, em Copacabana, acha que carro sabe ler. É o que se supõe com a placa que avisa à freguesia: "Transferências de telefones e veículos, só com a cobrança do próprio".

Um gaiato, esta semana quis saber como fazia para subir com seu jipe ao segundo andar, onde funciona o cartório.

GOIS, Ancelmo. O Globo, Rio de Janeiro, set 2002.

1. No fragmento: "... Um gaiato, esta semana quis saber como fazia para subir com seu jipe ao segundo andar, onde funciona o cartório."

O termo em destaque é um:

- a) Pronome demonstrativo.
- b) Pronome interrogativo.
- c) Pronome pessoal do caso reto.
- d) Pronome de tratamento.

2. O jornalista usa de ironia para detectar o sentido construído pelo emprego equivocado do pronome. A ironia é:

- a) Ele afirma que o pessoal do cartório mencionado acha que carros sabem ler.
- b) Ele menciona que o carro tem conhecimento próprio de leitura.
- c) Ele menciona que a placa do carro é totalmente analfabeta.
- d) Ele afirma que o jipe sabe subir sozinho no segundo andar do prédio e ler no cartório.

3. Assinale a alternativa correta em relação ortografia da oração.

- a) Senão houver dinheiro, cancelaremos sua compra.
- b) Se não houver dinheiro, cancelaremos sua compra.
- c) Se não ouver dinheiro, cancelaremos sua compra.
- d) Senão houver dinheiro, canselaremos sua compra.

4. Assinale a alternativa correta quanto o uso do ponto e vírgula.

- a) O rio está poluído os peixes estão; mortos.
- b) O rio; está poluído os peixes estão mortos.
- c) O rio está poluído os peixes; estão mortos.
- d) O rio está poluído; os peixes estão mortos.

O texto abaixo é referência para as questões 5 e 6.



5. No segundo quadrinho a palavra "processo" e "criança", são respectivamente, classificadas como sendo:

- a) Substantivo concreto e próprio.
- b) Substantivo abstrato e próprio.
- c) Substantivo concreto e comum.
- d) Substantivo abstrato e comum.

6. No quarto quadrinho, a mãe de Calvin tem em meio a sua fala as reticências, que indicam:

- a) uma dúvida.
- b) uma constatação.
- c) uma afirmação.
- d) uma negação.

Observe a tirinha e responda às questões 7 e 8.



7. A reflexão feita por Calvin no diálogo com Haroldo é:

- a) Filosófica.
- b) Política.
- c) Social.
- d) Econômica.

8. No primeiro e segundo quadro da tira, Calvin fala de morte e morrer. Morfologicamente temos, respectivamente:

- a) Adjetivo e substantivo.
- b) Substantivo e verbo.
- c) Adjetivo e verbo.
- d) Verbo e advérbio.

9. Identifique a alternativa que completa corretamente as lacunas da oração abaixo: "O chefe pediu mim e colega que trabalhássemos noite?"

- a) à / à / à.
- b) à / à / a.
- c) a / à / à.
- d) a / a / à.

10. Assinale a alternativa que completa corretamente a oração:
 "No fim do _____, os funcionários _____ se para conversar à _____ do prédio"?

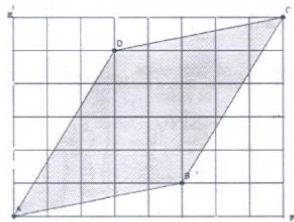
- a) expediente / reuinem / saída.
- b) espediente / reunem / saída.
- c) expediente / reúnem / saída.
- d) espediente / reúnem / saída.

CONHECIMENTOS BÁSICOS: MATEMÁTICA

11. Se $K = 7^{-2x} = \frac{1}{49}$, então o valor de x é igual a:

- a) 0,25
- b) -1
- c) -2
- d) 1

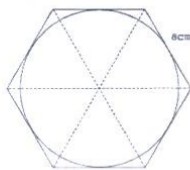
12. Na figura a seguir, a área de cada quadradinho é igual a 1 centímetro quadrado e os vértices estão na figura e coincidem com o cruzamento das linhas verticais e horizontais. A área da região escura, em centímetros quadrados é igual a:



- a) 20 cm²
- b) 22 cm²
- c) 24 cm²
- d) 26 cm²

13. Uma embalagem de mini-pizza tem a forma de um prisma hexagonal regular, tendo como base o lado do hexágono de base 8 cm. Desconsiderando, a espessura da embalagem, o diâmetro da maior mini-pizza que cabe na embalagem, em centímetros, é igual a:

- a) $4\sqrt{3}$
- b) $8\sqrt{3}$
- c) $9\sqrt{3}$
- d) $2(\sqrt{3} + 1)$

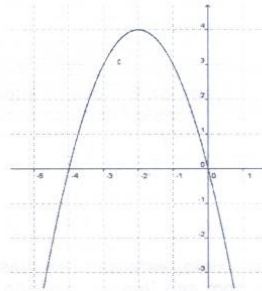


14. João Vítor, observou o relógio que marcava 9 horas e 30 minutos. Calculou a medida do menor ângulo que os ponteiros do relógio formavam nesse momento e descobriu que mede:

- a) 95°
- b) 100°
- c) 105°
- d) 110°

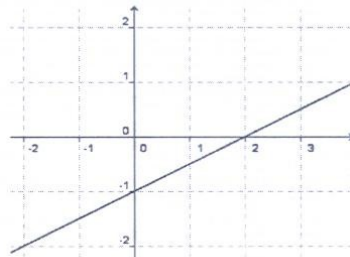


15. A função do 2º grau que está melhor representado no gráfico a seguir é:



- a) $f(x) = -x^2 - 4x$
- b) $f(x) = x^2 + 4x$
- c) $f(x) = -x^2 + 4x - 4$
- d) $f(x) = -x^2 - 2$

16. A função do primeiro grau é definida por $f(x) = ax + b$, com $a, b \in \mathbb{R}$ e $a \neq 0$. A função do primeiro grau melhor representado pelo gráfico a seguir é:



- a) $f(x) = 2x - 1$
- b) $f(x) = x + 2$
- c) $f(x) = -x + 2$
- d) $f(x) = 0,5x - 1$

17. Sabrina trabalhou 18 dias e recebeu R\$ 1.320,00. Sob as mesmas condições em 30 dias trabalhados, Sabrina receberá:

- a) R\$ 2.100,00
- b) R\$ 2.200,00
- c) R\$ 2.250,00
- d) R\$ 2.400,00

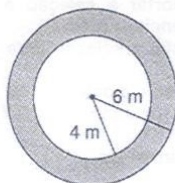
18. Se $N = 0,045 \div 0,09 + 0,01 \times 105 + 0,45$ então N vale:

- a) 2
- b) 0,92
- c) 1,5
- d) 1

19. Uma pessoa pinta uma parede quadrada de 2 m de lado em 35 minutos. Mantendo a mesma performance, o tempo necessário para essa pessoa pintar uma parede retangular de lados 8 m por 4 m, é igual a:

- a) 3 horas e 40 minutos
- b) 4 horas e 40 minutos
- c) 5 horas
- d) 6 horas e 20 minutos

20. A piscina da Dona Gabriela é circular de raio igual a 4 m, ela quer colocar azulejo na região escura delimitada pelas circunferências concêntricas de raio igual a 6 m e a de raio 4 m, para isso ela precisa calcular a área dessa região que é, em metros quadrados, igual a:



- a) 2π
- b) 4π
- c) 16π
- d) 20π

CONHECIMENTOS ESPECÍFICOS

21. Conforme dispõe o Capítulo II do Código de Posturas de Jandira, a multa não paga no prazo será:

- a) inscrita em programa de parcelamento.
- b) inscrita no serviço de proteção ao crédito.
- c) inscrita em dívida ativa.
- d) inscrita no cartório de protestos de títulos.

22. Lei nº 112/66 – “Art. 8º - Nas reincidências, as multas serão cominadas em dobro”.

Assinale a alternativa que define a figura do “reincidente”.

- a) é o que violar preceito do Código de Posturas de Jandira por cuja infração se der pela primeira vez.
- b) é o que violar preceito do Código de Posturas de Jandira por cuja infração já tiver sido autuado e não punido.
- c) é o que violar preceito do Código de Posturas de Jandira por cuja infração já tiver sido punido e não autuado.
- d) é o que violar preceito do Código de Posturas de Jandira por cuja infração já tiver sido autuado e punido.

23. O serviço de limpeza das ruas, praças e logradouros no Município de Jandira será executado:

- a) diretamente pela Prefeitura ou por concessão.
- b) indiretamente pela concessionária.
- c) pela Prefeitura apenas.
- d) pela concessionária apenas.

24. A responsabilidade pelo escoamento de águas estagnadas em terrenos particulares situados em Jandira compete:

- a) a Prefeitura.
- b) a empresa contratada pela Prefeitura sob concessão.
- c) ao inquilino.
- d) ao respectivo proprietário.

25. Código de Posturas - “Art. 44 – É proibido ter em depósitos ou expostos à venda:

- I. aves doentes;
- II. frutas não sazonadas;
- III. legumes, hortalças, frutas ou ovos deteriorados”.

Os incisos acima estão dispostos art. 44 da Lei Municipal nº 112/66”.

O que você entende sobre “frutas sazonadas”?

- a) frutas sem o selo da vigilância sanitária.
- b) frutas maduras ou amadurecidas.
- c) frutas fora de época.
- d) frutas não maduras ou não amadurecidas.

26. Qual o tratamento dado pelo Código de Posturas de Jandira à venda ou exposição de gravuras, livros, revistas ou jornais pornográficos ou obscenos.

- a) proibido a venda somente à menores de idade, na forma da lei.
- b) não há restrição alguma.
- c) expressamente proibido.
- d) só pode ser vendido ou exposto quando acondicionado em envólucro plástico.

27. Sempre que houver necessidade de interromper o trânsito deverá ser tomada a providência de:

- a) colocar sinalização refletiva.
- b) colocar sinalização vermelha claramente visível de dia e luminosa à noite.
- c) sinalizar com luminoso somente à noite.
- d) colocar sinalização vermelha claramente visível durante o dia e à noite.

28. São poderes do Município de Jandira, independentes e harmônicos entre si:

- a) o Legislativo e o Judiciário.
- b) o Legislativo e o Executivo.
- c) o Judiciário e o Executivo.
- d) o Legislativo, o Executivo e o Judiciário.

29. A Bandeira, o Brasão e o Hino Municipal, representam em Jandira:

- a) símbolos municipais.
- b) emblemas municipais.
- c) marcas municipais.
- d) hologramas municipais.

30. Art. 6º/inciso IX/alíneas "a" e "b" da Lei Orgânica - É vedado ao Município de Jandira cobrar tributos:

a - em relação a fatos gerados e ocorridos antes do início da vigência da lei que os houver instituído ou aumentado;

b - no mesmo exercício financeiro em que haja sido publicada a lei que os instituiu ou aumentou.

Quais princípios constitucionais as alíneas "a" e "b" acima se referem:

- a) irretroatividade e anualidade.
- b) capacidade contributiva e anterioridade.
- c) imunidade e anterioridade.
- d) legalidade e anterioridade.

31. Conforme a legislação tributária de Jandira, não se considera espontânea a denúncia apresentada:

- a) antes do início de qualquer procedimento ou medida de fiscalização, relacionada à infração.
- b) após o início de qualquer procedimento ou medida de fiscalização, relacionada à infração.
- c) antes do pagamento do tributo devido e dos juros de mora, ou de depósito da importância arbitrada pela Autoridade Administrativa.
- d) antes da lavratura de termo circunstanciado de início de ação fiscal.

32. Para os efeitos do Código de Posturas de Jandira, consideram-se gêneros alimentícios:

- a) todas as substâncias sólidas, destinadas a ser ingeridas pelo homem, excetuados os medicamentos.
- b) todas as substâncias sólidas, destinadas a ser ingeridas pelo homem, inclusive os medicamentos.
- c) todas as substâncias sólidas ou líquidas, destinadas a ser ingeridas pelo homem, excetuados os medicamentos.
- d) todas as substâncias sólidas ou líquidas, destinadas a ser ingeridas pelo homem, inclusive os medicamentos.

33. Assinale a alternativa que compõe "formalidades" do procedimento fiscal, conforme o Código Tributário do Município de Jandira.

- a) auto de apreensão e relatório de fiscalização.
- b) arbitramento e diligência.
- c) estimativa e homologação.
- d) apreensão e interdição.

34. A responsabilidade por infração à legislação tributária em Jandira é:

- a) impessoal, somente no caso de infração atenuante.
- b) pessoal, apenas no caso de infração agravante.
- c) pessoal e impessoal, dependendo da gravidade do agente.
- d) pessoal ao agente em qualquer tipo de infração.

35. Constituir a guarda municipal destinada à proteção de seus bens, serviços e instalações e de outros serviços de segurança, conforme dispuser a lei, compete:

- a) ao Município.
- b) ao Município e ao Estado.
- c) ao Estado.
- d) ao Município e a Polícia Militar do Estado.

INFORMÁTICA

36. "Recortar", "Copiar" e "Colar" são características convenientes para usar no computador. Você pode criar textos e dados de forma eficiente usando esses recursos.

- I. Para recortar a seleção e copiá-la para a Área de transferência. – (Ctrl+R)
- II. Para copiar a seleção para a Área de transferência. – (Ctrl+C)
- III. Para colar o conteúdo da Área de transferência no ponto de inserção. – (Ctrl+V)

Podemos afirmar que:


- a) Apenas a I e III, estão corretas.
- b) Apenas a II e III, estão corretas.
- c) I, II e III estão corretas.
- d) I, II e III estão incorretas.

37. São textos ou imagens que aparecem sob o texto do documento. Elas normalmente adicionam um atrativo ou identificam o status do documento, como marcando um documento como um *Rascunho*. Você pode vê-la no modo de exibição Layout de Impressão e no modo de exibição Leitura de tela Inteira ou em um documento impresso.

Estamos falando de qual recurso do Microsoft Word?

- a) Caixa de Texto.
- b) Margens.
- c) Marca d'água.
- d) Cabeçalho.

38. Observe a figura:



O desenho marcado corresponde a:

- a) Mostrar Marcas de Parágrafo
- b) Inserir Marcador
- c) Mostrar Sombreamento
- d) Inserir Símbolo

39. Observe a figura:



Assinale a alternativa correta.

- a) botão Acesso Rápido
- b) botão Office
- c) botão Windows
- d) botão Iniciar

40. É possível usar a mala direta quando deseja criar um conjunto de documentos, como uma carta modelo que é enviada a muitos clientes ou uma folha de etiquetas de endereço. Cada carta ou etiqueta tem o mesmo tipo de informações, no entanto o conteúdo é exclusivo. O processo de mala direta inclui algumas etapas gerais, assinale a **incorreta**.

- a) Definir o documento principal e deletar o documento da fonte de dados.
- b) Refinar a lista de destinatários e itens.
- c) Adicionar espaços reservados, chamados campos de mala direta, ao documento.