



PREFEITURA MUNICIPAL DE SUZANO

ESTADO DE SÃO PAULO

CONCURSO PÚBLICO

013. PROVA OBJETIVA

ANALISTA EM GESTÃO ORÇAMENTÁRIA E FINANCEIRA

- ◆ Você recebeu sua folha de respostas e este caderno contendo 60 questões objetivas.
- ◆ Confira seus dados impressos na capa deste caderno e na folha de respostas.
- ◆ Quando for permitido abrir o caderno, verifique se está completo ou se apresenta imperfeições. Caso haja algum problema, informe ao fiscal da sala.
- ◆ Leia cuidadosamente todas as questões e escolha a resposta que você considera correta.
- ◆ Marque, na folha de respostas, com caneta de tinta azul ou preta, a letra correspondente à alternativa que você escolheu.
- ◆ A duração da prova é de 3 horas e 30 minutos, já incluído o tempo para o preenchimento da folha de respostas.
- ◆ Só será permitida a saída definitiva da sala e do prédio após transcorridos 75% do tempo de duração da prova.
- ◆ Deverão permanecer em cada uma das salas de prova os 3 últimos candidatos, até que o último deles entregue sua prova, assinando termo respectivo.
- ◆ Ao sair, você entregará ao fiscal a folha de respostas e este caderno, podendo levar apenas o rascunho de gabarito, localizado em sua carteira, para futura conferência.
- ◆ Até que você saia do prédio, todas as proibições e orientações continuam válidas.

AGUARDE A ORDEM DO FISCAL PARA ABRIR ESTE CADERNO DE QUESTÕES.

Nome do candidato _____

Prédio _____

Sala _____

Carteira _____

Inscrição _____

CONHECIMENTOS GERAIS

LÍNGUA PORTUGUESA

01. Leia a tira, para responder à questão.



(Bill Watterson, *Tiras do Calvin*. Disponível em: <www.aprendizdeescritor.com.br>. Acesso em: 27 jan 2016)

Sabendo-se que a frase citada por Calvin é atribuída a Karl Marx, é correto afirmar que o efeito de sentido da tira está na ideia de que

- (A) a televisão faz apologia de drogas, tais como o ópio, à população, independentemente dos protestos da religião.
- (B) as drogas ainda não eram consumidas pela população mundial quando a frase citada foi escrita.
- (C) a televisão é o que exerce ação hipnótica sobre as faculdades intelectuais das pessoas.
- (D) a religião sinalizava o perigo da televisão, embora Marx não tivesse afirmado isso.
- (E) o ópio entorpece o povo, impedindo-o de apreciar o que há de bom atualmente na televisão.

Leia o texto, para responder às questões de números 02 a 08.

Mesmo os pouco observadores devem ter notado um novo aparelho na temporada de férias. Tecnologia de ponta? Só no sentido mais estritamente literal.

Neste ano, o “pau de selfie”, monopé que permite tirar autorretratos, conquistou o mercado dos viajantes. Não deixará de surpreender que em pleno 2015 o homem tenha redescoberto a utilidade tecnológica de um bastão.

Na pré-história, o homem vagou pelos bosques apoiando-se nele; milhares de anos depois, a moda volta, de forma distorcida: o instrumento que servia para conectar o homem com o que estava sob seus pés – a terra – e o apoiava, literalmente, para abrir passo pelo mundo se converteu em uma ligação com o mundo superior. Se eu não me vejo, como sei que existo? Esse novo cajado nos permite uma perspectiva aérea da existência.

O filósofo alemão Peter Sloterdijk explica que aquilo que nós entendemos por tecnologia é uma tentativa de substituir os sistemas imunológicos implícitos por sistemas imunológicos explícitos.

Em nossa época, os sistemas de defesa que criamos procuram nos isolar de um exterior que se nega a ceder à tendência individualista da sociedade. Por isso andamos de um lugar a outro sem renunciar nunca a nosso mundo: nos transformamos em uma sociedade de caranguejos-eremitas, carregando no lombo nossas casas. Sentados entre centenas de passageiros, nos protegemos, com nossos fones de ouvidos, celulares e vídeos, do encontro com o exterior. Agora, o “pau de selfie” nos permite tirar fotos sem a incômoda necessidade de interagir com estranhos. Nos transformamos em seres autossuficientes e, em decorrência disso, necessariamente antissociais.

A máxima ironia do mundo globalizado é a crescente insularidade do indivíduo. Como o exterior é impessoal, nos embrenhamos no interior; como a comunidade nos debilita, a individualidade se torna preponderante; é assim que a casa familiar dá lugar ao apartamento individual – e a autogamia moderna surge.

O fenômeno do “selfie” responde a essa condição insular e por isso se arraigou como a manifestação estética da revolução digital. O isolamento do indivíduo é tal que, liberto do voyeurismo*, teve de conceber um autovoyeurismo: nos tornamos paparazzi* de nós mesmos. O “selfie” procura esconder nossa natureza isolada e solitária sob o verniz da felicidade e do gozo.

(Emílio Lezama, *Paparazzi de nós mesmos*. *Folha de S.Paulo*, 30-08-2015. Adaptado)

***Voyeurismo**: forma de curiosidade mórbida com relação ao que é privativo, privado ou íntimo.

***Paparazzi**: fotógrafos que perseguem celebridades, para bater fotos indiscretas.

02. Na passagem – Tecnologia de ponta? Só no sentido mais estritamente literal. –, o autor faz referência ao sentido literal


- (A) para destacar a criatividade do novo objeto da temporada, especialmente pela sofisticação de seu emprego.
- (B) como ironia para expor a simplicidade da concepção do “pau de selfie”, por associação com a forma e o uso do objeto.
- (C) como reverência às modernas tecnologias de informática, destacando a relevância do “pau de selfie”.
- (D) como forma de identificar-se aos usuários das tecnologias digitais que são moda nas temporadas de férias.
- (E) para expor um ponto de vista favorável à utilidade do objeto nas mais variadas situações de uso.

03. Com a frase – Se eu não me vejo, como sei que existo? – o autor destaca, em tom irônico,
- (A) a irracionalidade dos meios digitais que levam o sujeito a enxergar-se como parte indissociável do grupo a que pertence.
 - (B) o gosto da autocontemplação como forma de anular o indivíduo, lançando-o na massa dos viciados em tecnologias.
 - (C) o sentimento de participação do sujeito, alcançado graças à globalização, que unifica interesses e gostos.
 - (D) o individualismo decorrente da adoção de mídias que favorecem o descolamento do sujeito do meio que o cerca.
 - (E) a presença de novos valores, que substituem a supremacia da razão pela demanda de objetos de satisfação da coletividade.
04. Assinale a alternativa em que existe, nesta ordem, um par de termos antônimos, como em **implícitos e explícitos** (I), e um par de termos sinônimos, como em **preponderante e dominante** (II).
- (A) ceder e resistir (I) / debilita e esmorece (II).
 - (B) isolamento e comunidade (I) / insularidade e insatisfação (II).
 - (C) incômoda e maçante (I) / liberto e cativo (II).
 - (D) conectar e desligar (I) / carreando e acareando (II).
 - (E) estritamente e contritamente (I) / suficiência e abastança (II).
05. Assinale a alternativa cujos verbos estão corretamente conjugados e cujos pronomes estão colocados na frase de acordo com a norma-padrão.
- (A) Talvez transformemos-nos em uma sociedade de caranguejos-eremitas, que carrea no lombo as casas.
 - (B) Provavelmente com isso nos mantêssemos protegidos do encontro com o exterior.
 - (C) Se eu nunca me vir, como saberei que outros me verão e intervirão, se necessário?
 - (D) ...como a comunidade debilitará-nos, até a individualidade se desfará.
 - (E) Nos tornaremos seres autossuficientes se nos dispormos ao isolamento?
06. A alternativa que se caracteriza pelo emprego das palavras destacadas em sentido figurado é:
- (A) Neste ano, o “**pau de selfie**”, **monopé** que permite tirar autorretratos, conquistou o mercado dos viajantes.
 - (B) Agora, o “pau de selfie” nos permite tirar fotos sem a **incômoda** necessidade de interagir com **estranhos**.
 - (C) Por isso **andamos** de um lugar a outro sem renunciar nunca a nosso **mundo**...
 - (D) Mesmo os pouco **observadores** devem ter notado um novo aparelho na **temporada** de férias.
 - (E) ... nos transformamos em uma **sociedade de caranguejos-eremitas**, carreando no lombo nossas casas.
07. Na passagem – O isolamento do indivíduo é tal que, liberto do voyeurismo, **teve de conceber um autovoyeurismo**... – o trecho destacado expressa, em relação ao que o antecede, a ideia de
- (A) finalidade.
 - (B) restrição.
 - (C) explicação.
 - (D) consequência.
 - (E) modo.
08. Assinale a alternativa que reescreve trecho da passagem a seguir sem prejuízo de sentido e com pontuação de acordo com a norma-padrão.
- Como o exterior é impessoal, nos embrenhamos no interior; como a comunidade nos debilita, a individualidade se torna preponderante; é assim que a casa familiar dá lugar ao apartamento individual – e a autogamia moderna surge.
- (A) Embrenhamo-nos no interior porque o exterior é impessoal, e a individualidade se torna preponderante visto que a comunidade nos debilita.
 - (B) A autogamia moderna surge, portanto, a casa familiar dá lugar, ao apartamento.
 - (C) Dado que nos embrenhamos no interior, o exterior é impessoal e a comunidade nos debilita, pois a individualidade, se torna preponderante.
 - (D) É assim que a casa familiar dá lugar ao apartamento individual, contanto, que a autogamia moderna surja.
 - (E) O exterior é impessoal embora nos embrenhemos no interior. A individualidade se torna preponderante apesar, de a comunidade, nos debilitar.

09. Assinale a alternativa que apresenta concordância nominal e verbal de acordo com a norma-padrão.

- (A) Já recebi bastante apelidos pejorativos, como “go-leiro de pebolim” e outros que o recato me impedem de mencionar.
- (B) Em alguns desses tantos cadastros que se faz no comércio, a atendente me disse que era preciso co-locar anexo uma foto recente.
- (C) Foi preciso pedir emprestado ao colega as requisi-ções de compras, pois ali não se encontravam ne-nhuma delas.
- (D) Entendi que bastavam eles fazerem o depósito até meio-dia e meio, para que não houvesse problemas.
- (E) É necessário paciência para ouvir o que mais de um reclamante tem a dizer acerca do atraso no atendi-mento.

10. Leia a tira, para responder à questão.



(Bill Watterson, Tiras do Calvin. Disponível em: <www1.folhaol.com.br>. Acesso em: 26 jan 2016)

A alternativa que preenche, correta e respectivamente, as lacunas do texto é:

- (A) Porque ... do que ... manter ... a
- (B) Por que ... a ... mantiver ... em
- (C) Por que ... à ... mantivesse ... em
- (D) Porque ... do que ... mantinha ... a
- (E) Por que ... à ... manter ... em

11. Do valor total de uma multa recebida após uma fiscaliza-ção tributária, uma empresa pagou $\frac{2}{5}$ e teve, anistiados,

$\frac{2}{5}$ do valor que restou. Se a empresa ainda deve pagar

R\$ 8.100,00 para quitar essa multa, então o valor original da multa recebida era

- (A) R\$ 18.100,00.
- (B) R\$ 20.400,00.
- (C) R\$ 22.500,00.
- (D) R\$ 26.300,00.
- (E) R\$ 30.200,00.

12. A caminhada diária de Denis dura exatamente n minutos. Sabe-se que na caminhada de sábado, ele percorreu, em média, 1,2 km a cada 12 minutos, e que, na caminhada de domingo, ele percorreu, em média, 1,35 km a cada 15 minutos. Desse modo, é correto afirmar que a distân-cia percorrida por Denis no domingo correspondeu, da distância percorrida no sábado, a:

- (A) $\frac{5}{4}$
- (B) $\frac{7}{6}$
- (C) $\frac{12}{13}$
- (D) $\frac{9}{10}$
- (E) $\frac{3}{4}$

13. Em um município, há dois novos polos industriais, A e B, com 72 e 54 empresas, respectivamente. Para efeito de fiscalização, essas empresas deverão ser totalmente divi-didas em grupos. Todos os grupos deverão ter o mesmo número de empresas, sendo esse número o maior possí-vel, de modo que cada grupo tenha empresas de um só polo e que não reste nenhuma fora de um grupo. Nessas condições, o número de grupos formados será

- (A) 3.
- (B) 5.
- (C) 6.
- (D) 7.
- (E) 9.

14. Sabe-se que na confecção Sigma, em certo período, a razão do número de peças vendidas da linha feminina para o número de peças vendidas da linha masculina foi de 5 para 3, e que os preços médios unitários de venda das peças femininas e das peças masculinas foram, respectivamente, R\$ 68,00 e R\$ 60,00. Nessas condições, é correto afirmar que o preço médio unitário de todas as peças vendidas (masculinas e femininas), nesse período, foi

- (A) R\$ 66,00.
- (B) R\$ 65,75.
- (C) R\$ 65,00.
- (D) R\$ 64,50.
- (E) R\$ 64,00.

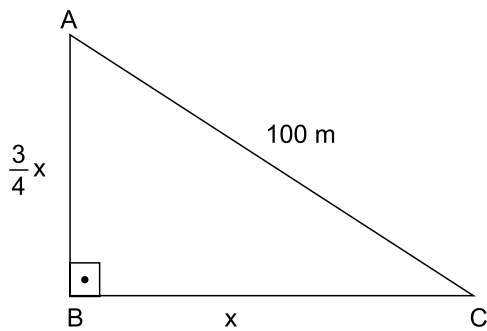
15. Verificando-se as movimentações ocorridas em uma conta corrente empresarial em um determinado período, constatou-se que o resultado da soma de todos os valores creditados e debitados tinha sido igual a 900 mil reais, e que o valor total creditado tinha superado o valor total debitado em 150 mil reais. A relação entre os valores totais creditados (C) e debitados (D), nesse período, é representada corretamente pela seguinte expressão:

- (A) $D = 0,75 C$.
- (B) $D = 0,90 C$.
- (C) $C = 1,15 D$.
- (D) $C = 1,25 D$.
- (E) $C = 1,40 D$.

16. Um número natural x , cujo quadrado menos dois terços deste quadrado resulta 12, indica a medida do lado de uma medalha esportiva, de formato quadrado. Nessas condições, o comprimento total do cordão preso à medalha, que corresponde a $12x$, é igual, em centímetros, a

- (A) 78.
- (B) 72.
- (C) 70.
- (D) 66.
- (E) 60.

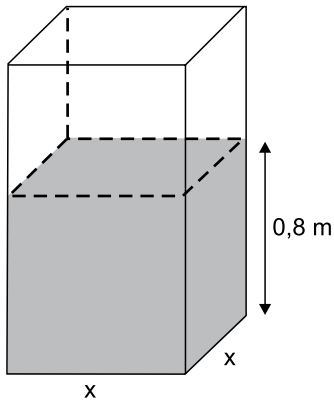
17. Rafael comprou um imóvel por um determinado valor, e gastou uma quantia correspondente a 20% desse valor na reforma dele. Posteriormente, ele vendeu esse imóvel por R\$ 360.000,00, obtendo um lucro correspondente a 50% dos valores da compra e da reforma, somados. Nesse caso, é correto afirmar que o valor gasto por Rafael, na reforma desse imóvel, foi igual a
- (A) R\$ 48.000,00.
(B) R\$ 40.000,00.
(C) R\$ 36.000,00.
(D) R\$ 30.000,00.
(E) R\$ 28.000,00.
18. Em uma praça com a forma de um triângulo retângulo, a medida do lado \overline{AB} é igual a $\frac{3}{4}$ da medida do lado \overline{BC} , e o lado \overline{AC} mede 100 metros, conforme mostra a figura.



Nessas condições, é correto afirmar que a área dessa praça é igual, em m^2 , a

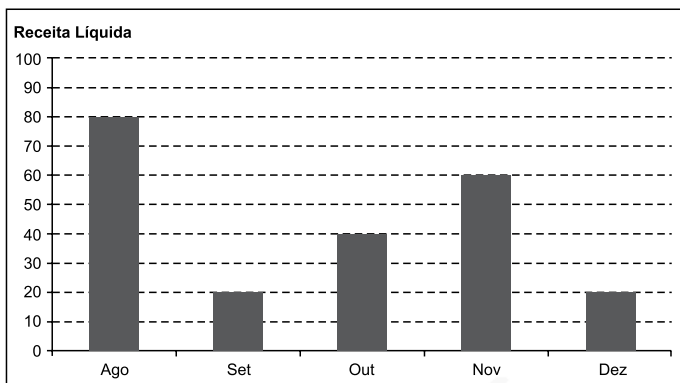
- (A) 2 400.
(B) 2 800.
(C) 3 200.
(D) 3 600.
(E) 4 800.

19. Uma torneira, com vazão constante de $0,02 \text{ m}^3$ por minuto, foi acionada para encher um reservatório com formato de um prisma reto retângulo de base quadrada e paredes de espessura desprezível, inicialmente vazio. Em 1 h 30 min, a altura do nível da água no reservatório atingiu $0,8 \text{ m}$, conforme mostra a figura.



O perímetro da base desse reservatório é igual, em metros, a

- (A) 6,0.
 (B) 5,6.
 (C) 5,2.
 (D) 4,8.
 (E) 4,4.
20. O gráfico mostra a Receita Líquida (RL) mensal, em milhões de reais, de certa empresa nos últimos cinco meses de 2015.



Sabe-se que, nesse período, o Lucro Líquido (LL) médio mensal foi de $6,6$ milhões de reais. O índice que mostra corretamente a relação $\frac{LL_{total}}{RL_{total}}$, no período considerado, é de

- (A) 0,185.
 (B) 0,18.
 (C) 0,17.
 (D) 0,165.
 (E) 0,15.

21. Governo anuncia medidas adicionais para alcançar o reequilíbrio fiscal e melhorar as contas para 2016.

(blog do Planalto. <http://goo.gl/CXeIzP>, 14.09.2015)

Foram propostas para a diminuição de despesas e o aumento da arrecadação, respectivamente,

- (A) o adiamento do reajuste dos salários dos servidores públicos federais e a recriação da CPMF com alíquota de 0,2%.
- (B) a interrupção do programa *Minha Casa Minha Vida* e a cobrança de imposto de renda para quem ganha mais de um salário mínimo nacional.
- (C) o corte dos abonos aos salários dos servidores federais dos três poderes e uma nova tabela para a Previdência Social.
- (D) a suspensão de concursos públicos nos níveis municipal, estadual e federal e a ampliação dos benefícios tributários concedidos às empresas.
- (E) o fim do Programa de Aceleração do Crescimento e a criação de imposto sobre as grandes fortunas e os lucros bancários.

22. Entre muitos aplausos e lágrimas, ministros de 195 países aprovaram na noite de sábado (12.12) o “Acordo de Paris”, primeiro marco jurídico universal de luta contra o aquecimento global. O documento histórico da 21ª Conferência do Clima (COP 21) das Nações Unidas terá caráter “legalmente vinculante”, e define, pela primeira vez, um acordo válido para todas as nações.

(Estadão. <http://goo.gl/9UJspC>, 15.12.2015)

Esse acordo prevê que

- (A) os países do G5 financiarão sozinhos projetos de adaptação dos efeitos do aquecimento global nos países mais pobres.
- (B) as metas globais de redução da emissão de gases de efeito estufa sejam efetivadas, na ordem de 5% a cada ano até 2030.
- (C) os países desenvolvidos poderão manter os níveis industriais de emissão; os demais ficarão nos níveis pré-industriais.
- (D) os mecanismos de sanção econômica sejam aplicados a países que não respeitarem as metas de emissão definidas em Paris.
- (E) os países deverão organizar estratégias para limitar, a menos de 2 °C, o aumento da temperatura média global.

23. O país anunciou nesta quarta-feira (06.01), em sua emissora de televisão estatal, que realizou seu primeiro teste com uma bomba nuclear de hidrogênio, pouco depois que um terremoto de magnitude 5,1 foi detectado no nordeste do país como consequência da detonação atômica. Este seria o primeiro teste realizado com uma arma termonuclear, cuja detonação é muito mais poderosa que a dos dispositivos atômicos utilizados em seus três experimentos anteriores.

(Terra. <http://goo.gl/8ybpvD>. 06.01.2016. Adaptado)

O Conselho de Segurança da ONU condenou fortemente, em reunião neste domingo (07.02), o lançamento de um foguete pelo país. Acredita-se que possa ter sido um teste de um míssil balístico intercontinental.

(G1. <http://goo.gl/s2b8HI>, 07.02.2016. Adaptado)

As notícias referem-se

- (A) à China.
- (B) à Coreia do Norte.
- (C) à Índia.
- (D) ao Irã.
- (E) ao Paquistão.

24. A Petrobras voltou ao nível de 1999 no mercado de ações. Os papéis preferenciais da companhia despencaram 7% nesta segunda-feira (18.01), para R\$ 4,80. Ajustado pela inflação, o valor é o menor desde agosto de 1999. Sem considerar a inflação, as ações atingiram o menor patamar desde novembro de 2003.

(Folha-Uol. <http://goo.gl/mhy2DR>, 19.01.2016)

Essa situação da Petrobras é explicada

- (A) pelas indenizações pagas pela empresa aos Estados Unidos, pela baixa cambial e pela explosão de plataformas na bacia de Campos.
- (B) pela alta cotação internacional do petróleo, pela mudança na presidência da empresa e pela recessão do país.
- (C) pela volta do Irã como fornecedor ao mercado mundial, pela megacapitalização da empresa e pela valorização do real.
- (D) pela queda do preço do petróleo, pela corrupção revelada na Operação Lava Jato e pelo endividamento da empresa.
- (E) pela concorrência da Venezuela, pelo fracasso da extração do pré-sal na bacia de Santos e pelo fim dos investimentos na empresa.

25. Julian Assange afirmou, nesta sexta-feira (05.02), falando na embaixada do Equador em Londres, que o Reino Unido e a Suécia devem aplicar a decisão do comitê legal da ONU.


“Corresponde agora aos Estados da Suécia e do Reino Unido em seu conjunto implementar o veredicto”, afirmou à imprensa por videoconferência junto a sua equipe de advogados.

(G1. <http://goo.gl/6Rfpx>, 05.02.2016. Adaptado)

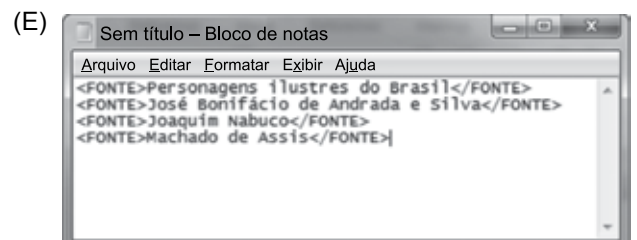
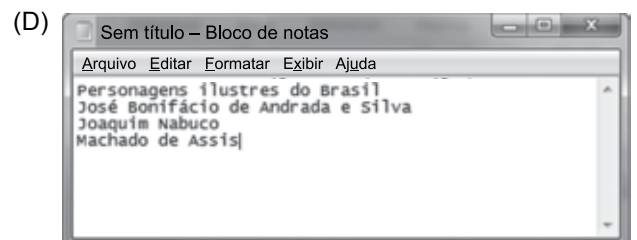
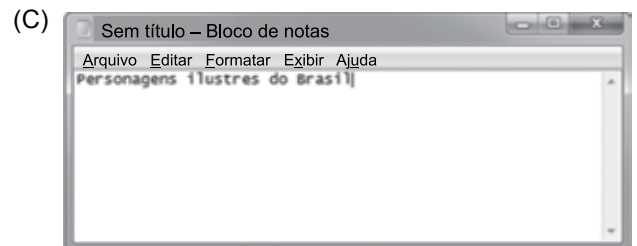
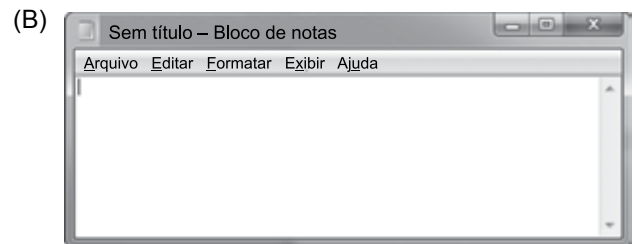
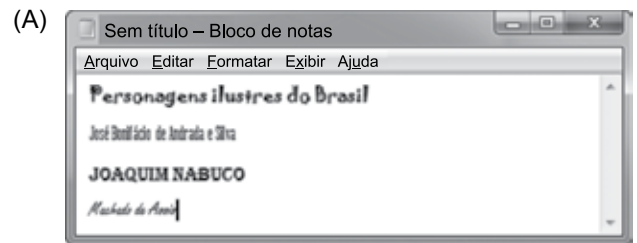
O comitê da ONU

- (A) concluiu que a Suécia e o Reino Unido prejudicaram os negócios de Assange no Equador, ao analisar documentos diplomáticos divulgados pelo site *WikiLeaks*.
- (B) afirmou que Assange foi vítima de perseguição política na Suécia, seu país natal, ao revelar que o governo do país fazia o monitoramento de telefones e dados da internet.
- (C) considerou que Assange foi detido arbitrariamente pelo Reino Unido, que autorizou sua extradição, e pela Suécia, onde ele é investigado por crimes sexuais.
- (D) determinou o pagamento de uma indenização por danos materiais a Assange, por concluir que o Reino Unido impediu que ele continuasse a trabalhar no país como jornalista.
- (E) aprovou a viagem de Assange aos Estados Unidos, onde ele será testemunha no processo contra empresários do Reino Unido e da Suécia acusados de corrupção na Fifa.

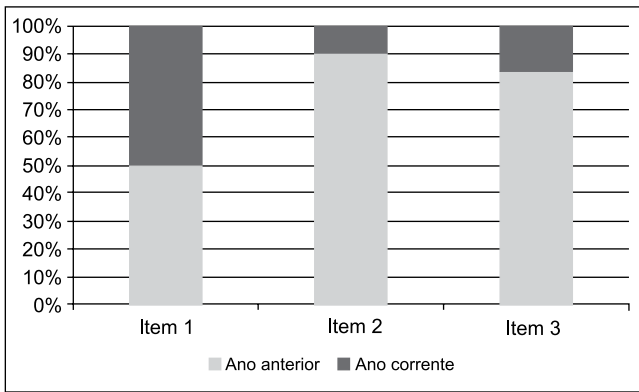
26. Um usuário editou um documento no Microsoft Word 2010, em sua configuração padrão, utilizando-se de diferentes fontes de letra e pressionando ENTER ao final de cada linha, conforme imagem a seguir.



Se o usuário selecionar todas as quatro linhas, pressionar CTRL+C, abrir o bloco de notas do Windows 7, em sua configuração original, e pressionar CTRL+V, o resultado será o seguinte:



27. Assinale a alternativa que apresenta o nome correto do gráfico a seguir, criado no Microsoft Excel 2010, em sua configuração padrão.



- (A) Barras empilhadas
 (B) Área
 (C) Colunas 100% empilhadas
 (D) Dispersão XY
 (E) Superfície
28. No Microsoft Word 2010, em sua configuração padrão, um documento com as margens superior e inferior contendo 2,5 cm, e esquerda e direita com 3 cm, tem a aparência a seguir:



Se um usuário configurar as margens como superior com 15 cm, inferior 2,5 cm, esquerda 10 cm e direita 3 cm, a aparência será da seguinte forma:

- (A)
- (B)
- (C)
- (D)
- (E)

29. Tem-se a planilha a seguir criada no Microsoft Excel 2010, em sua configuração original.

	A	B	C	D
1	1	1	1	
2	1	1	1	
3	1	1	1	
4				
5	9			
6				

Assinale a alternativa que apresenta a fórmula correta que foi aplicada na célula A5 para gerar o resultado 9.

- (A) =CONT.SE(A1:C3;">1")
 (B) =MÁXIMO(A1:C3)
 (C) =SOMASE(A1:C3)
 (D) =MÍNIMO(A1:C3)
 (E) =CONTAR(A1:C3)
30. Um usuário abriu o navegador de Internet Microsoft Internet Explorer 11, em sua configuração original, e acessou o site Google na única aba existente. Depois, na mesma aba, acessou o site da Vunesp. Clicou no link *Quem somos*, que carrega uma página HTML de informações da Vunesp, mantendo a tecla CTRL pressionada e depois clicou no botão *Voltar* do navegador. Assinale a alternativa que apresenta o resultado correto desta última ação.
- (A) O navegador retornou para a página principal do site da Vunesp.
 (B) O navegador retornou para a página do Google.
 (C) O navegador foi encerrado.
 (D) Não aconteceu nada, pois o botão *Voltar* estava inativo.
 (E) O navegador abriu a aba *Quem somos*.

Com base nas informações contábeis e financeiras em 31 de dezembro de 2015, extraídas das áreas contábil e financeira da empresa Controle Orçamentário Ltda., responda às questões de números **31 a 33**.

Nota: Para responder às questões, considere apenas duas casas após a vírgula, bem como, a regra de arredondamento de valores ou índices.

- Caixa e equivalentes de caixa – R\$ 25.000,00
- Passivo circulante – R\$ 125.000,00
- Ativo total – R\$ 360.000,00
- Patrimônio líquido – R\$ 120.000,00
- Estoques – R\$ 80.000,00
- Imobilizado – R\$ 130.000,00
- Lucro líquido – R\$ 85.000,00
- Ativo total do ano anterior – R\$ 320.000,00
- Estoques no ano anterior – R\$ 69.000,00
- Vendas – R\$ 500.000,00
- O índice de liquidez corrente na data foi R\$ 1,60

31. A alternativa que apresenta corretamente o giro do ativo da empresa é

- (A) 0,24.
- (B) 0,25.
- (C) 0,65.
- (D) 1,47.
- (E) 3,84.

32. Assinale a alternativa que apresenta o índice de liquidez seca da empresa.

- (A) R\$ 0,96.
- (B) R\$ 1,06.
- (C) R\$ 1,09.
- (D) R\$ 1,11.
- (E) R\$ 1,13.

33. O índice que demonstra a dependência da empresa em relação a recursos de terceiros é

- (A) 0,49.
- (B) 0,55.
- (C) 0,58.
- (D) 0,67.
- (E) 0,69.

34. Um produto financiado em uma loja de departamento, com valor à vista de R\$ 7.000,00, será pago em uma única parcela, ao final de 90 dias, com a taxa de juros de 2% a.m. capitalizados. O valor total a ser pago pelo produto é:

Nota: Para o cálculo, utilize apenas quatro casas decimais após a vírgula, desprezando, inclusive, o critério de arredondamento.

- (A) R\$ 7.089,30.
- (B) R\$ 7.120,50.
- (C) R\$ 7.428,40.
- (D) R\$ 7.688,60.
- (E) R\$ 7.780,10.

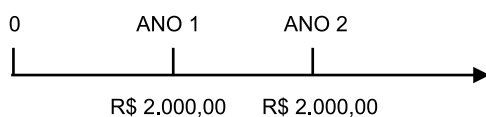
35. Assinale a alternativa que apresenta o valor presente de um montante futuro de R\$ 20.000,00, que será pago ao final de dois anos. O custo de oportunidade equivale a 2% ao ano capitalizado.

Nota: Considere para o cálculo apenas duas casas decimais, depois da vírgula, desprezando, ainda, os centavos.

- (A) R\$ 17.754.
- (B) R\$ 18.780.
- (C) R\$ 18.890.
- (D) R\$ 19.003.
- (E) R\$ 19.230.

36. Com base nas informações a seguir, responda à questão.

- Fluxo de pagamentos:



- Período – 2 anos
- Taxa de juros - 5% a.a.

Tendo em vista as informações apresentadas, calcule o valor presente do fluxo dos dois pagamentos.

Nota: Considere para o cálculo duas casas decimais, depois da vírgula, desprezando, ainda, os centavos.

- (A) R\$ 3.540.
- (B) R\$ 3.722.
- (C) R\$ 3.860.
- (D) R\$ 3.920.
- (E) R\$ 3.943.

37. A geração de propostas, a avaliação e análise, a tomada de decisão, a implementação e o acompanhamento são etapas

- (A) do investimento final.
- (B) da unidade geradora de caixa.
- (C) da racionalização do capital.
- (D) da decisão relevante.
- (E) do orçamento de capital.

38. Os fluxos de caixa relevantes para tomada de decisões de orçamento de capital incluem o investimento inicial, bem como, as entradas de caixa operacionais e um fluxo de caixa residual. Tendo em vista essa afirmação, calcule o valor de um investimento utilizando as informações, relativas à compra, para uma determinada indústria, de um ativo fixo em substituição a um ativo anterior, fornecidas a seguir:

- Substituição de um ativo fixo – equipamento gráfico
- Valor do custo de aquisição – R\$ 180.000,00
- Crédito de imposto sobre a aquisição – R\$ 30.000,00
- Mão de obra para colocar o ativo em funcionamento – R\$ 10.000,00
- Valor residual do ativo em substituição – R\$ 14.000,00
- Valor de venda (a receber) do ativo em substituição – R\$ 77.000,00
- IR e CSL sobre a venda do ativo em substituição – R\$ 11.550,00
- Variação positiva do CCL – R\$ 21.000,00
- Taxa de depreciação do ativo em substituição – 7,14% a.a.
- Tempo de vida útil do ativo velho – 14 anos
- Taxa de juros de mercado – 1,99% a.m.

Assinale a alternativa que apresenta o valor do investimento.

- (A) R\$ 115.500,00.
- (B) R\$ 118.000,00.
- (C) R\$ 119.550,00.
- (D) R\$ 121.500,00.
- (E) R\$ 122.450,00.

39. Por ocasião de uma decisão de expansão de investimentos, o fluxo de caixa residual, que também inclui características do fluxo de caixa relevante, inclui, no estabelecimento de seu valor,

- (A) o valor da venda bruta na realização do ativo novo.
- (B) o valor do desconto dos fluxos gerados pelo ativo novo.
- (C) o valor dos fluxos gerados pelo ativo novo, líquido dos impostos incidentes na geração.
- (D) os recebimentos pela venda do novo ativo, líquidos de impostos.
- (E) os resultados líquidos resultantes dos fluxos de caixa gerados pela nova unidade geradora de caixa.

40. Trata-se da taxa de retorno mínima que uma empresa precisa obter sobre seus investimentos para manter o valor da ação inalterada, ou, mesmo que a empresa necessite obter retorno sobre seus projetos de investimentos, para manter o valor de mercado de suas ações.

O texto trata do

- (A) *cash back*.
- (B) retorno sobre investimento.
- (C) retorno sobre capital.
- (D) *payback*.
- (E) custo de capital.

41. Para a geração de valor, as empresas necessitam captar recursos e investir em ativos. Esses recursos podem ter duas origens: empréstimos ou capitalizações dos sócios/investidores. Para o investidor medir os custos desses capitais, ele pode utilizar o modelo CMPC – Custo Médio Ponderado de Capital.

Considerando que o custo do capital próprio de uma empresa é de 12% a.a. e o custo do capital de terceiros é de 18% a.a., assinale a alternativa que contém o CMPC da empresa, sabendo que o balanço dessa empresa indica que o Passivo Circulante + Passivo não circulante representam 70% do total do patrimônio.

- (A) 21,0%.
- (B) 16,2%.
- (C) 12,6%.
- (D) 12%.
- (E) 9%.

42. Observe as informações a seguir com relação a uma empresa hipotética.

	PRODUTOS (VALORES EM REAIS)					TOTAL
	A	B	C	D	E	
Vendas Brutas	200	330	210	180	400	1.320
Impostos	(30)	(50)	(32)	(27)	(60)	(198)
Vendas Líquidas	170	281	179	153	340	1.122
CMV	(68)	(120)	(105)	(135)	(200)	(628)
Lucro Bruto	102	161	74	18	140	494
Custos Fixos						(340)
Lucro Operacional						154
IR/CSLL						(52)
Lucro Líquido						102

Assinale a alternativa que apresenta a margem de contribuição média dos produtos dessa empresa.

Nota: Utilize duas casas decimais, respeitando o critério de arredondamento.

- (A) 35,93%.
- (B) 37,42%.
- (C) 42,27%.
- (D) 44,03%.
- (E) 54,76%.

43. Sabe-se que, na doutrina de custos, há uma série de métodos de custeio que, conceitualmente, têm um mesmo objetivo, ou seja, significam formas de apropriação de custos. Entre eles, aquele que divide a empresa em atividades, de forma a operacionalizar a aplicação desse método, é

- (A) o custo ABC.
- (B) a absorção departamentalizada.
- (C) o custeio direto.
- (D) o custeio padrão.
- (E) o RKW.

44. Analise as informações a seguir, apresentadas por uma indústria:

Estoque finais	Novembro	Dezembro
Matéria-prima	R\$ 80.000,00	R\$ 60.000,00
Produtos em processo	R\$ 38.000,00	R\$ 57.000,00
Produtos acabados	R\$ 48.000,00	R\$ 57.000,00
Aquisição de material de escritório	R\$ 4.000,00	
Seguros da fábrica	R\$ 3.000,00	
Compras de matéria-prima	R\$ 39.000,00	
Mão de obra direta	R\$ 10.000,00	
Depreciação de máquinas industriais	R\$ 28.000,00	
Depreciação de móveis e utensílios do escritório	R\$ 15.000,00	
Salário de vendedores	R\$ 16.000,00	
Energia elétrica da fábrica	R\$ 108.000,00	
Salários administrativos	R\$ 10.500,00	
Mão de obra indireta	R\$ 42.000,00	
Materiais indiretos consumidos na fábrica	R\$ 9.000,00	
Receita de vendas	R\$ 620.000,00	

Para o mês de dezembro, o custo com materiais diretos, o custo do produto acabado e o custo de produtos vendidos dessa indústria, respectivamente, foram:

- (A) R\$ 59.000,00 – R\$ 235.000,00 – R\$ 210.000,00.
- (B) R\$ 59.000,00 – R\$ 240.000,00 – R\$ 231.000,00.
- (C) R\$ 45.000,00 – R\$ 240.000,00 – R\$ 219.000,00.
- (D) R\$ 45.000,00 – R\$ 235.000,00 – R\$ 210.000,00.
- (E) R\$ 60.000,00 – R\$ 210.000,00 – R\$ 240.000,00.

45. Com base nos preceitos da contabilidade pública e orçamentária, é correto afirmar que
- (A) ressalvada a competência do Tribunal de Contas ou órgão equivalente, a tomada de contas dos agentes responsáveis por bens ou dinheiros públicos será realizada ou superintendida pelos serviços das secretarias fazendárias.
 - (B) os serviços de controles internos serão organizados de forma a permitirem o acompanhamento da execução orçamentária, o conhecimento da composição patrimonial e a determinação dos custos dos serviços industriais, bem como, a garantia da qualidade da informação financeira.
 - (C) a escrituração sintética das operações financeiras e patrimoniais efetuar-se-á pelo método sistêmico.
 - (D) a contabilidade evidenciará, perante a Fazenda Pública, a situação de todos quantos, de qualquer modo, arrecadem receitas, efetuem despesas, administrem ou guardem bens a ela pertencentes ou confiados.
 - (E) para fins orçamentários e determinação dos devedores, ter-se-á o registro contábil das despesas patrimoniais e correntes, fiscalizando-se sua efetivação.
46. A legalidade dos atos dos quais resultem a arrecadação da receita ou a realização da despesa; o nascimento ou a extinção de direitos e obrigações; a fidelidade funcional dos agentes da administração, responsáveis por bens e valores públicos; e o cumprimento do programa de trabalho, expresso em termos monetários e de realização de obras e prestação de serviços, está compreendida
- (A) no plano orçamentário anual.
 - (B) no controle de arrecadação.
 - (C) no plano plurianual.
 - (D) nas metas orçamentárias públicas.
 - (E) no controle da execução orçamentária.
47. A contabilização dos bens imóveis que constituem o patrimônio das pessoas jurídicas de direito público, como objeto de direito pessoal, ou real, de cada uma dessas entidades e, não dispondo a lei em contrário, os bens pertencentes às pessoas jurídicas de direito público a que se tenha dado estrutura de direito privado, como apartamentos, armazéns, casas, glebas, terrenos, lojas, bens destinados a reforma agrária, bens imóveis a alienar entre outros, dar-se-á em bens
- (A) dominiais.
 - (B) de uso especial.
 - (C) de uso comum.
 - (D) próprios.
 - (E) corpóreos.
48. Os passivos contingentes terão seu reconhecimento contábil como apresentado em:
- (A) Registro de passivos contingentes
Natureza de informação: típica de controle
D 7.4.1.x.x.xx.xx Controle de passivos contingentes
C 8.4.1.x.x.xx.xx Execução de passivos contingentes
 - (B) Registro de passivos contingentes
Natureza de informação: típica de contábil
D 6.4.1.x.x.xx.xx Execução de passivos contingentes
C 7.4.1.x.x.xx.xx Provisão para passivos contingentes
 - (C) Registro de passivos contingentes
Natureza de informação: típica de contábil
D 6.4.1.x.x.xx.xx Execução de passivos contingentes
C 7.4.1.x.x.xx.xx Contas a pagar provisionadas
 - (D) Registro de passivos contingentes
Natureza de informação: típica de controle
D 7.4.1.x.x.xx.xx Passivos contingentes
C 8.4.1.x.x.xx.xx Provisão para contingência
 - (E) Registro de passivos contingentes
Natureza de informação: típica de controle
D 8.4.1.x.x.xx.xx Execução de passivos contingentes
C 7.4.1.x.x.xx.xx Controle de passivos contingentes
49. Observe as informações descritas a seguir:
- Receita corrente líquida do período – R\$ 180.000.000,00
 - Receita corrente e de capital – R\$ 230.000.000,00
 - Superavit corrente - R\$ 89.000.000,00
 - Despesas correntes e de capital – R\$ 190.000.000,00
- Com base nessas informações, calcule o limite total de despesa com pessoal, estabelecido para os Municípios, para apresentação em cada período de apuração.
- (A) R\$ 44.500.000,00.
 - (B) R\$ 90.000.000,00.
 - (C) R\$ 108.000.000,00.
 - (D) R\$ 115.000.000,00.
 - (E) R\$ 138.000.000,00.
50. As dotações para despesas, às quais não corresponda contraprestação direta em bens ou serviços, inclusive para contribuições e subvenções destinadas a atender à manifestação de outras entidades de direito público ou privado, serão classificadas como
- (A) despesa de custeio.
 - (B) transferências correntes.
 - (C) subvenções para investimentos correntes.
 - (D) subvenções sociais.
 - (E) inversões financeiras.

51. Ao final do exercício, de acordo com a legislação pertinente, as despesas empenhadas e não pagas dentro do exercício financeiro serão inscritas em restos a pagar. Tais valores, nesse caso, estarão compreendidos

- (A) pelos créditos especiais.
- (B) pela dívida por credores.
- (C) pelo crédito de longo prazo.
- (D) pela dívida flutuante.
- (E) pelas dívidas por pagar no exercício seguinte.

52. De acordo com a legislação em vigor, é o ato emanado de autoridade competente que cria para o Estado a obrigação de pagamento pendente ou não de implemento de condição. Consiste na reserva de dotação orçamentária para um fim específico. O empenho pode ser classificado em:

- (A) ordinário, extraordinário e total.
- (B) inicial, estimativo e efetivo.
- (C) ordinário, estimativo e global.
- (D) inicial, eletivo e final.
- (E) estimativo, ordinário e total.

53. O adiantamento de valores a um servidor, para futura prestação de contas, que constitui despesa orçamentária e, portanto, percorreu os três estágios da despesa orçamentária (empenho, liquidação e pagamento), refere-se a

- (A) fundo perdido.
- (B) suprimidos de fundos.
- (C) adiantamento de empenho.
- (D) adiantamento de viagem.
- (E) concessão programada.

54. O conjunto de créditos tributários e não tributários em favor da Fazenda Pública, não recebidos no prazo para pagamento definido em lei ou em decisão proferida em processo regular, inscrito pelo órgão ou entidade competente, após apuração de certeza e liquidez, refere-se

- (A) à dívida pública.
- (B) ao crédito inscrito.
- (C) ao direito creditório.
- (D) à dívida mobiliária.
- (E) à dívida ativa.

55. No momento do pagamento de restos a pagar, referente à despesa empenhada pelo valor estimado, verifica-se que existe diferença entre o valor da despesa inscrita e o valor real a ser pago. Diante dessa situação, se o valor real a ser pago for superior ao valor inscrito, a diferença entre os valores deve ser

- (A) empenhada na conta de despesas de exercícios anteriores.
- (B) cancelada e emitida por um empenho próprio.
- (C) mantida na conta de restos a pagar no exercício corrente.
- (D) empenhada para conta de despesa de exercício futuro.
- (E) mantida no saldo de contas a pagar até a emissão do empenho por valor real.

56. Observe as informações a seguir:

	Reais
Receitas orçamentárias realizadas	300.000.000,00
Transferências financeiras recebidas	180.000.000,00
Recebimentos extraorçamentários	50.000.000,00
Despesa orçamentária executada	280.000.000,00
Transferências financeiras concedidas	120.000.000,00
Pagamentos extraorçamentários	35.000.000,00
Restos a pagar	25.000.000,00
Resultado de exercícios futuros	12.000.000,00
Despesas antecipadas	8.000.000,00

É correto afirmar que o resultado financeiro apurado é

- (A) R\$ 52.000.000,00.
- (B) R\$ 90.000.000,00.
- (C) R\$ 95.000.000,00.
- (D) R\$ 110.000.000,00.
- (E) R\$ 236.000.000,00.

57. A demonstração, representada pela figura a seguir, inclui a receita e a despesa orçamentárias; os recebimentos e os pagamentos de natureza extraorçamentária, conjugados com os saldos em espécie provenientes do exercício anterior e os saldos que serão transferidos para o exercício seguinte.

INGRESSOS			DISPÊNDIOS		
ESPECIFICAÇÃO	Exercício Atual	Exercício Anterior	ESPECIFICAÇÃO	Exercício Atual	Exercício Anterior
Receita Orçamentária (I)			Despesa Orçamentária (VI)		
Ordinária			Ordinária		
Vinculada			Vinculada		
Previdência Social			Previdência Social		
Transferências obrigatórias de outro ente			Transferências obrigatórias de outro ente		
Convênios			Convênios		
(...)			(...)		
(-) Deduções de Receita Orçamentária					
Transferências Financeiras Recebidas (II)			Transferências Financeiras Concedidas (VII)		
Recebimento Extraorçamentários (III)			Pagamentos Extraorçamentários (VIII)		
Saldo em Espécie do Exercício Anterior (IV)			Saldo em Espécie para o Exercício Seguinte (IX)		
TOTAL (V) = (I + II + III + IV)			TOTAL (X) = (VI + VII + VIII + IX)		

Assinale a alternativa que apresenta corretamente o nome da demonstração apresentada pelo texto e pela figura.

- (A) Demonstração do fluxo de caixa orçamentário.
- (B) Balanço financeiro.
- (C) Balanço orçamentário.
- (D) Demonstração das variações orçamentárias.
- (E) Demonstração do resultado orçamentário.

58. Segundo a legislação específica, as receitas orçamentárias estão classificadas em receitas correntes e receitas de capital. Estão incluídos nas receitas de capital:

- (A) participações e dividendos.
- (B) valores mobiliários.
- (C) receitas imobiliárias.
- (D) amortizações de empréstimos concedidos.
- (E) cobranças de dívida ativa.

59. No caso das despesas orçamentárias, assinale aquelas que estão incluídas nas despesas correntes.

- (A) Despesas de investimentos.
- (B) Despesas imobiliárias.
- (C) Despesas de caixa.
- (D) Despesas das amortizações de obras.
- (E) Despesas de custeio.

60. De acordo com a legislação vigente, a demonstração das variações patrimoniais evidenciará as alterações verificadas no patrimônio, resultantes ou independentes da execução orçamentária, e indicará

- (A) o resultado orçamentário, em consonância com o regime orçamentário adotado.
- (B) o resultado do financeiro do exercício corrente.
- (C) o resultado patrimonial do exercício.
- (D) o resultado contábil do exercício.
- (E) a variação patrimonial real em relação à orçamentária.

PCI Concursos

PCI Concursos