

0 057900 124725



Prefeitura Municipal de Apiacá/ES

CONCURSO PÚBLICO Nº 001/2016



Motorista C

Tarde

Organizadora:



Nossos velhos

Pais heróis e mães rainhas do lar.

Passamos boa parte da nossa existência cultivando estes estereótipos. Até que um dia o pai herói começa a passar o tempo todo sentado, resmunga baixinho e puxa uns assuntos sem pé nem cabeça. A rainha do lar começa a ter dificuldade de concluir as frases e dá pra implicar com a empregada. O que papai e mamãe fizeram para caducar de uma hora para ou...tra? Fizeram 80 anos. Nossos pais envelhecem. Ninguém havia nos preparado pra isso. Um belo dia eles perdem o garbo, ficam mais vulneráveis e adquirem umas manias bobas.

Estão cansados de cuidar dos outros e de servir de exemplo: agora chegou a vez de eles serem cuidados e mimados por nós, nem que pra isso recorram a uma chantagenzinha emocional. Têm muita quilometragem rodada e sabem tudo, e o que não sabem eles inventam. Não fazem mais planos a longo prazo, agora dedicam-se a pequenas aventuras, como comer escondido tudo o que o médico proibiu. Estão com manchas na pele. Ficam tristes de repente. Mas não estão caducos: caducos ficam os filhos, que relutam em aceitar o ciclo da vida. É complicado aceitar que nossos heróis e rainhas já não estão no controle da situação.

Estão frágeis e um pouco esquecidos, têm este direito, mas seguimos exigindo deles a energia de uma usina. Não admitimos suas fraquezas, seu desânimo. Ficamos irritados se eles se atrapalham com o celular e ainda temos a cara-de-pau de corrigi-los quando usam expressões em desuso: calça de brim? frege? auto de praça? Em vez de aceitarmos com serenidade o fato de que as pessoas adotam um ritmo mais lento com o passar dos anos, simplesmente ficamos irritados por eles terem traído nossa confiança, a confiança de que seriam indestrutíveis como os super-heróis. Provocamos discussões inúteis e os enervamos com nossa insistência para que tudo siga como sempre foi. Essa nossa intolerância só pode ser medo. Medo de perdê-los, e medo de perdermos a nós mesmos, medo de também deixarmos de ser lúcidos e joviais. É uma enrascada essa tal de passagem do tempo.

Nos ensinam a tirar proveito de cada etapa da vida, mas é difícil aceitar as etapas dos outros, ainda mais quando os outros são papai e mamãe, nossos alicerces, aqueles para quem sempre podíamos voltar, e que agora estão dando sinais de que um dia irão partir sem nós.

(Martha Medeiros. Disponível em: <http://www.viva50.com.br/nossos-velhos-cronica-de-martha-medeiros/>. Acesso em: 24/06/2016. Adaptado.)

01

O texto “Nossos velhos” pretende nos informar que

- A) nossos pais envelhecem.
- B) pais heróis e mães rainhas do lar sempre estarão no controle da situação.
- C) mudanças físicas ou emocionais podem comprometer a qualidade de vida dos idosos.
- D) o número de idosos está crescendo no mundo porque mais crianças atingem a idade adulta.

02

De acordo com as ideias do texto, é INCORRETO afirmar que os “nossos velhos”

- A) ficam tristes de repente.
- B) adquirem umas manias bobas.
- C) estão cansados de servir de exemplo.
- D) encontram-se num processo de degeneração entre a vida e a morte.

03

No trecho “Um belo dia eles perdem o garbo, ficam mais vulneráveis e adquirem umas manias bobas.” (2º§), o termo destacado, de acordo com o contexto textual, se refere aos

- A) filhos.
- B) pais heróis.
- C) nossos pais.
- D) super-heróis.

04

Assinale, entre as palavras transcritas do texto, a única que se encontra no diminutivo.

- A) Papai.
- B) Situação.
- C) Caducos.
- D) Baixinho.

05

São palavras transcritas do texto que se apresentam no feminino, EXCETO:

- A) Rainha.
- B) Celular.
- C) Passagem.
- D) Chantagenzinha.

06

“É complicado aceitar que nossos heróis e rainhas já não estão no controle da situação.” (3º§) Assinale, a seguir, o antônimo da expressão destacada anteriormente.

- A) Simples. B) Intenso. C) Entusiasmado. D) Incompreensível.

07

“Essa nossa intolerância só pode ser medo.” (4º§) O termo “intolerância”, de acordo com o contexto em que se encontra empregado, significa

- A) paciência. B) exigência. C) relevância. D) arrogância.

08

Em “Estão frágeis e um pouco esquecidos, têm este direito, mas seguimos exigindo deles a energia de uma usina.” (4º§), a expressão destacada pode ser substituída, sem alteração de sentido, por

- A) entretanto. B) sem demora. C) apesar de que. D) ainda por cima.

09

Assinale a alternativa que apresenta palavras transcritas do texto que são acentuadas pelo mesmo motivo.

- A) Já / até. C) Ninguém / traído.
B) Difícil / pé. D) Desânimo / lúcidos.

10

Assinale a afirmativa que apresenta ERRO de grafia.

- A) O idoso é aquele que tem muita idade.
B) A aposentadoria é o ponto de partida para a velhice.
C) É preciso perder o preconceito sobre a idade cronológica das pessoas.
D) A velhice é um processo pessoal, indiscutível e inevitável, para qualquer ser humano, na evolução da vida.

RACIOCÍNIO LÓGICO

11

Um fabricante de picolés gasta R\$ 0,35 na produção de seus picolés e os vende por R\$ 0,80. Para obter um lucro de R\$ 1.500,00, este fabricante deverá fabricar e vender uma quantia de picolés que está compreendida entre

- A) 3.000 e 3.100 picolés. C) 3.201 e 3.300 picolés.
B) 3.101 e 3.200 picolés. D) 3.301 e 3.400 picolés.

12

Walter iniciou seu período de férias no dia 07 de agosto, tendo direito a 42 dias de descanso. É correto afirmar que as férias de Walter terminam em:

- A) 17 de setembro. B) 18 de setembro. C) 19 de setembro. D) 20 de setembro.

13

Gisele bebe 200 ml de água a cada 50 minutos, começando às 9 h da manhã. Obedecendo a esta regra, a que horas ela atingirá um volume de 2 litros de água?

- A) 14:50 h. B) 15:40 h. C) 16:30 h. D) 17:20 h.

14

Cláudia comprou um frasco de xarope cujo volume é de 360 ml e deve tomar 15 ml deste xarope diariamente. Quantos dias um frasco de xarope irá durar para Cláudia?

- A) 12 dias. B) 16 dias. C) 24 dias. D) 30 dias.

15

Qual das alternativas a seguir NÃO pertence ao grupo das demais?

- A) Chile. B) Brasil. C) Canadá. D) Argentina.

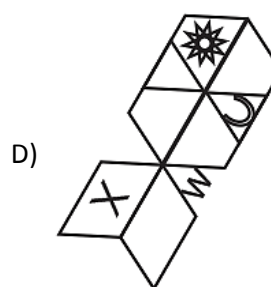
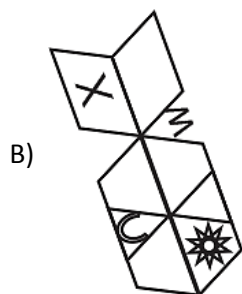
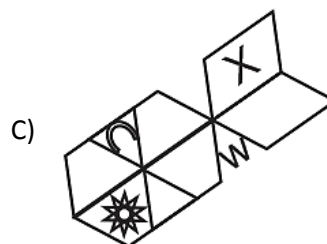
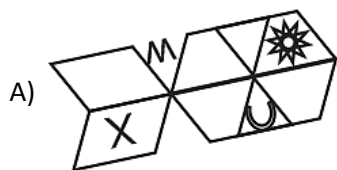
16

Lívia começou a montar um quebra-cabeças às 9h42min da manhã. Sabe-se que Lívia demorou 536 minutos para terminar de montar seu quebra-cabeças. Que horas Lívia terminou?

- A) 15h18min. B) 17h28min. C) 18h18min. D) 18h38min.

17

Qual das figuras a seguir é DIFERENTE das demais?



18

Considere a seguinte sequência:

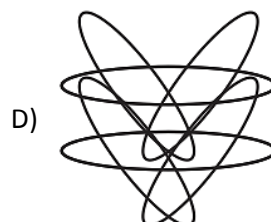
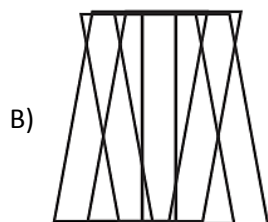
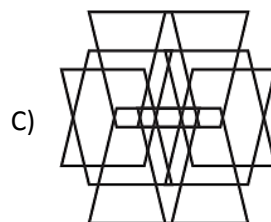
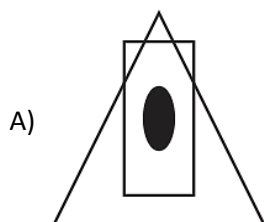
(3, 6, 18, 72, 360, ?)

Qual das alternativas completa a sequência apresentada?

- A) 720. B) 1.800. C) 2.060. D) 2.160.

19

Assinale a figura que apresenta eixo de simetria horizontal.



20

Reorganizando as letras relacionadas, pode-se formar uma palavra que representa um(a):

D R C S P O A E

- A) Fruta. B) Lugar. C) Animal. D) Profissão.

CONHECIMENTOS GERAIS

21

As afirmativas correlatas a seguir falam sobre a distribuição de renda entre a população brasileira; analise-as.

I. “De toda a riqueza produzida no Brasil, ou seja, a renda total no país, 75% ficam nas mãos de um grupo de pessoas que corresponde a apenas 10% dos brasileiros.”

POIS

II. “O restante da riqueza, 25%, é dividido entre 90% dos brasileiros.”

Assinale a alternativa correta.

- A) As afirmativas I e II estão corretas.
- B) As afirmativas I e II estão incorretas.
- C) A afirmativa I está correta, enquanto a II está incorreta.
- D) A afirmativa I está incorreta, enquanto a II está correta.

22

A queda acentuada da mortalidade no Brasil foi fator determinante para impulsionar o crescimento da população brasileira no século passado. Assinale a alternativa que NÃO é uma das explicações para a queda das taxas de mortalidade no Brasil.

- A) Desenvolvimento das vacinas.
- B) Implantação de medidas sanitárias.
- C) Piora nas condições da saúde pública.
- D) Desenvolvimento de medicamentos eficazes.

23

O crescimento econômico da região Sudeste brasileira, gerado pelo desenvolvimento industrial e pela urbanização, foi, sem dúvida, muito importante para que a região pudesse se destacar nacionalmente. Mas esse progresso também trouxe sérias consequências ambientais. Com base nesse contexto, analise as afirmativas a seguir.

- I. A Mata Atlântica, por exemplo, foi severamente devastada pelo processo de industrialização e pela agropecuária.
- II. A presença cada vez mais marcante de veículos motorizados e da intensa atividade industrial tem aumentado a concentração de poluentes na atmosfera urbana na região Sudeste.
- III. Um problema comum nas áreas urbanas onde não existe uma coleta de lixo adequada é o acúmulo de resíduos em áreas impróprias. Em muitas situações, o lixo é depositado em áreas irregulares, como terrenos vazios e margens de rios.

São consequências ambientais do desenvolvimento industrial e urbano na região Sudeste as afirmativas

- A) I, II e III.
- B) I e II, apenas.
- C) I e III, apenas.
- D) II e III, apenas.

24

“É a sede de um dos mais importantes acervos de arte contemporânea do Brasil, sendo considerado o maior centro de arte ao ar livre da América Latina. Está localizado em Brumadinho (Minas Gerais) a apenas 60 km de Belo Horizonte.” O acervo de arte contemporânea retratado refere-se ao:

- A) Museu Imperial.
- B) Instituto Inhotim.
- C) Museu de Arte de São Paulo.
- D) Museu de Arte do Rio de Janeiro.

25

A intensa utilização das fontes de energias fósseis tem provocado sérios danos ao meio ambiente. Na tentativa de minimizar esse problema, o ser humano passou a recorrer a fontes de energias consideradas “limpas”, ou seja, menos agressivas ao meio ambiente. Das fontes de energia a seguir, qual delas NÃO pode ser considerada uma energia limpa?

- A) Eólica.
- B) Solar.
- C) Petróleo.
- D) Hidrelétrica.

26

A educação a nível fundamental é uma das etapas da educação básica no Brasil. Compõe(m) a educação a nível fundamental no Brasil:

- A) Apenas a educação infantil.
- B) Apenas do 1º ano ao 9º ano.
- C) A educação infantil e do 1º ano ao 5º ano.
- D) A educação infantil e do 5º ano ao 9º ano.

27

Atualmente, várias Organizações Não Governamentais (ONGs) realizam campanhas buscando a preservação do meio ambiente. Relacione adequadamente as ONGs às suas respectivas características.

1. WWF – Brasil.

2. Greenpeace.

3. SOS – Mata Atlântica.

4. Conservação Internacional.

() É uma organização não governamental que está presente em, aproximadamente, 40 países. Foi fundada no Canadá em 1971. Seus integrantes atuam na investigação e denúncia de crimes ambientais e, também, na defesa de atitudes em favor do meio ambiente.

() Dedicar-se à conservação da natureza e tem como objetivo harmonizar a atividade humana com a conservação da biodiversidade e promover o uso racional dos recursos naturais em benefícios dos cidadãos de hoje e das futuras gerações.

() É uma organização sem fins lucrativos que luta pela preservação da biodiversidade mundial.

() Atua, desde 1986, na conservação da diversidade biológica e cultural da Mata Atlântica, para a presente e as futuras gerações.

A sequência está correta em

A) 2, 1, 4, 3.

B) 2, 4, 1, 3.

C) 1, 2, 3, 4.

D) 1, 2, 4, 3.

28

Após a aprovação do *impeachment* pelo senado e a notificação do fato à presidente Dilma Rousseff vários eventos se processaram no cenário político. O único fato positivo para a ex-presidente após o episódio do *impeachment* foi:

A) Perda de mandato.

B) Manteve-se elegível.

C) Foi substituída pelo Vice-Presidente Michel Temer.

D) Deixou o palácio da Alvorada para morar em Porto Alegre.

29

Na última década, a questão de segurança pública passou a ser considerada problema fundamental e principal desafio ao estado de direito no Brasil. NÃO é um problema de segurança no Brasil:

A) Violência policial.

C) Redução das taxas de criminalidade.

B) Degradação do espaço público.

D) Aumento da sensação de insegurança.

30

Tecnologia é um termo que envolve conhecimento técnico e científico e aplicação deste conhecimento através de sua transformação no uso de ferramentas, processos e materiais criados e utilizados a partir de tal conhecimento. Das tecnologias listadas a seguir, qual delas pode ser considerada avançada?

A) Fogo .

B) Roda.

C) Escrita.

D) Genética.

ATENÇÃO



NÃO É PERMITIDA a anotação das respostas da prova em QUALQUER MEIO. O candidato flagrado nesta conduta poderá ser ELIMINADO do processo.

INSTRUÇÕES

1. Material a ser utilizado: caneta esferográfica de tinta azul ou preta, feita de material transparente. Os objetos restantes devem ser colocados em local indicado pelo fiscal da sala, inclusive aparelho celular desligado e devidamente identificado.
2. Não é permitida, durante a realização das provas, a utilização de máquinas calculadoras e/ou similares, livros, anotações, impressos ou qualquer outro material de consulta, protetor auricular, lápis, borracha ou corretivo. Especificamente, não é permitido que o candidato ingresse na sala de provas sem o devido recolhimento, com respectiva identificação, dos seguintes equipamentos: *bip*, telefone celular, *walkman*, agenda eletrônica, *notebook*, *palmtop*, *ipod*, *ipad*, *tablet*, *smartphone*, mp3, mp4, receptor, gravador, máquina de calcular, máquina fotográfica, controle de alarme de carro, relógio de qualquer modelo e etc.
3. Não será permitido ao candidato realizar anotação de informações relativas às suas respostas no comprovante de inscrição ou em qualquer outro meio.
4. Durante a prova, o candidato não deve levantar-se, comunicar-se com outros candidatos e fumar.
5. A duração da prova é de 03 (três) horas, já incluindo o tempo destinado à entrega do Caderno de Provas e à identificação – que será feita no decorrer da prova – e ao preenchimento do Cartão de Respostas (Gabarito).
6. Com vistas à garantia da segurança e integridade desse certame, os candidatos serão submetidos ao sistema de detecção de metais quando do ingresso e saída de sanitários. Excepcionalmente, poderão ser realizados, a qualquer tempo durante a realização das provas, outros procedimentos de vistoria além do descrito. Ao término da prova o candidato deverá se retirar do recinto de aplicação, não lhe sendo mais permitido o ingresso nos sanitários.
7. O Caderno de Provas consta de 30 (trinta) questões para o emprego de nível fundamental completo e incompleto e 40 (quarenta) questões para os demais empregos. Leia-o atentamente.
8. **As questões das provas objetivas são do tipo múltipla escolha, com 04 (quatro) opções (A a D) e uma única resposta correta.**
9. Ao receber o material de realização das provas, o candidato deverá conferir atentamente se o Caderno de Provas corresponde ao emprego a que está concorrendo, bem como se os dados constantes no Cartão de Respostas (Gabarito) que lhe foi fornecido estão corretos. Caso os dados estejam incorretos, ou o material esteja incompleto, ou tenha qualquer imperfeição, o candidato deverá informar tal ocorrência ao fiscal.
10. Os fiscais não estão autorizados a emitir opinião e prestar esclarecimentos sobre o conteúdo das provas. Cabe única e exclusivamente ao candidato interpretar e decidir.
11. O candidato somente poderá retirar-se do local de realização das provas escritas levando o Caderno de Provas no decurso dos últimos 30 (trinta) minutos anteriores ao horário previsto para o seu término. O candidato, também, poderá retirar-se do local de provas somente a partir dos 90 (noventa) minutos após o início de sua realização, contudo não poderá levar consigo o Caderno de Provas.
12. Os 3 (três) últimos candidatos de cada sala somente poderão sair juntos. Caso o candidato insista em sair do local de aplicação das provas, deverá assinar um termo desistindo do Concurso Público e, caso se negue, deverá ser lavrado Termo de Ocorrência, testemunhado pelos 2 (dois) outros candidatos, pelo fiscal da sala e pelo Coordenador da Unidade.

RESULTADOS E RECURSOS

- Os gabaritos oficiais preliminares das provas objetivas serão divulgados na *internet*, no endereço eletrônico www.idecan.org.br, a partir das 16h00min do dia subsequente ao da realização das provas.
- O candidato que desejar interpor recursos contra os gabaritos oficiais preliminares das provas objetivas disporá de 2 (dois) dias úteis, a partir do dia subsequente à divulgação, em requerimento próprio disponibilizado no *link* correlato ao Concurso Público no endereço eletrônico www.idecan.org.br.
- A interposição de recursos poderá ser feita via *internet*, através do Sistema Eletrônico de Interposição de Recursos, com acesso pelo candidato ao fornecer dados referentes à sua inscrição apenas no prazo recursal, ao IDECAN, conforme disposições contidas no endereço eletrônico www.idecan.org.br, no *link* correspondente ao Concurso Público.