



PREFEITURA DO MUNICÍPIO DE MORRO AGUDO

ESTADO DE SÃO PAULO

CONCURSO PÚBLICO

024. PROVA OBJETIVA

DENTISTA

- ◆ Você recebeu sua folha de respostas e este caderno contendo 60 questões objetivas.
- ◆ Confira seus dados impressos na capa deste caderno e na folha de respostas.
- ◆ Quando for permitido abrir o caderno, verifique se está completo ou se apresenta imperfeições. Caso haja algum problema, informe ao fiscal da sala.
- ◆ Leia cuidadosamente todas as questões e escolha a resposta que você considera correta.
- ◆ Marque, na folha de respostas, com caneta de tinta preta, a letra correspondente à alternativa que você escolheu.
- ◆ A duração da prova é de 3 horas e 30 minutos, já incluído o tempo para o preenchimento da folha de respostas.
- ◆ Só será permitida a saída definitiva da sala e do prédio após transcorridos 75% do tempo de duração da prova.
- ◆ Deverão permanecer em cada uma das salas de prova os 3 últimos candidatos, até que o último deles entregue sua prova, assinando termo respectivo.
- ◆ Ao sair, você entregará ao fiscal a folha de respostas e este caderno, podendo levar apenas o rascunho de gabarito, localizado em sua carteira, para futura conferência.
- ◆ Até que você saia do prédio, todas as proibições e orientações continuam válidas.

AGUARDE A ORDEM DO FISCAL PARA ABRIR ESTE CADERNO DE QUESTÕES.

Nome do candidato

RG

Inscrição

Prédio

Sala

Carteira

CONHECIMENTOS GERAIS

LÍNGUA PORTUGUESA

Leia o texto, para responder às questões de números **01** a **08**.

Rotulo, logo existo

Nosso cérebro é uma complexa estrutura forjada por milhões de anos de evolução. Por outro lado, é também primitivo e foi lapidado para seres trogloditas que viveram há milhares de anos. É curioso pensar que o mais refinado, erudito e urbano dos moradores deste planeta tenha o mesmo hardware que um caçador coletor que passou a vida errando em uma pequena área de algum lugar em busca de comer, aquecer-se e garantir a reprodução.

Desenvolvida para uma chave amigo-inimigo, nossa mente tende a rotular tudo o que vê, julgando a novidade de acordo com seu conhecimento prévio. Isso garantiu nossa vida por muitas gerações: se eu comer algo que me faz mal, toda vez que olhar para algo semelhante, sentirei repulsa. Nosso cérebro rotula de acordo com a percepção de nossos sentidos. Isso pode ser bom para evitar perigos, porém cria problemas para nossa atualidade.

Encerrar em caixas herméticas dá segurança. Começamos com a minha tribo e a do outro. Se é da minha, diminuem as chances de ataque. Classificar é a primeira forma de dominar e de se defender. O vício entrou em nós. Da tribo, passamos a gostos musicais e sexuais ou escolas artísticas. **Classificar não é ruim ou errado. Supor que algo esteja controlado mentalmente por estar etiquetado é, no fundo, estupidez.**

Tudo pede que você classifique continuamente. Resistir à tentação é um desafio. Pensar em aprofundar, dar uma segunda olhada, fugir do rótulo: parecem ser atitudes que exigem o desafio da vontade férrea. Deixar que sentidos mais amplos invadam sua percepção sem julgar e engavetar de imediato é um ato de resistência. Abrir espaço para complexidades é boa meta. O resto? O rema-rema de frases superficiais, senso comum e a celebração da boçalidade. Talvez, um dia, descubram que se trata de uma bactéria específica transmitida pela digitação. O remédio continua sendo ler com atenção, duvidar como método, analisar possibilidades fora do que está posto e nunca ser o representante da verdade na Terra. Ah, e ajuda abandonar redes sociais por pelo menos uma hora por dia. É preciso ter esperança.

(Leandro Karnal. Disponível em: <www.culturaestadao.com.br>. Acesso em 09.11.2019. Adaptado)

- 01.** É correto afirmar, de acordo com o texto, que a ideia de rótulo está associada a
- (A) atitudes e comportamentos resultantes de reflexão.
 - (B) conhecimento adquirido com dedicação ao estudo.
 - (C) gostos e vícios advindos de atitudes equivocadas.
 - (D) ideias e ações baseadas em estereótipos.
 - (E) manifestações relacionadas ao status na sociedade.

- 02.** Do ponto de vista do autor, a propensão humana para classificar
- (A) é um mecanismo natural que precisa ser controlado pelo exercício do discernimento.
 - (B) garante domínio de situações, propiciando julgamentos justos e ações racionais.
 - (C) está inscrita na mente e permite identificar com clareza qual é o grupo ao qual aderir.
 - (D) cria condições para que o indivíduo pense e julgue levando em conta os diversos lados da questão.
 - (E) é uma forma de interação do sujeito com o mundo, que lhe assegura estar do lado da verdade.
- 03.** Assinale a alternativa contendo afirmação correta acerca do emprego das palavras destacadas na passagem – É curioso pensar que o mais refinado, erudito e urbano dos moradores deste planeta tenha o mesmo **hardware** que um caçador coletor que passou a vida **errando** em uma pequena área de algum lugar em busca de comer, aquecer-se e garantir a reprodução.
- (A) Ambas as palavras estão empregadas em sentido próprio, sendo **hardware** referência a máquinas eletrônicas.
 - (B) Ambas as palavras estão empregadas em sentido próprio; **errando** significa “incorrendo em equívoco”.
 - (C) A palavra **hardware** está empregada em sentido figurado; **errando** está empregada em sentido próprio, de “vagueando”.
 - (D) A palavra **hardware** está empregada em sentido figurado; **errando** está empregada em sentido próprio de “enganando”.
 - (E) Ambas as palavras estão empregadas em sentido figurado; **errando** tem sentido de “perseguido”.
- 04.** Considerando-se o contexto em que se encontra, a frase destacada em – **Desenvolvida para uma chave amigo-inimigo**, nossa mente tende a rotular tudo o que vê – expressa a noção de
- (A) comparação e equivale a – Sendo que se desenvolveu para uma chave amigo-inimigo...
 - (B) concessão e equivale a – Apesar de que se desenvolveu para uma chave amigo-inimigo...
 - (C) proporção e equivale a – À medida que se desenvolveu para uma chave amigo-inimigo...
 - (D) conclusão e equivale a – Portanto, se desenvolveu para uma chave amigo-inimigo...
 - (E) causa e equivale a – Como se desenvolveu para uma chave amigo-inimigo...

05. Assinale a alternativa que reescreve a passagem destacada no 3º parágrafo, expressando sentido coerente com o original e de acordo com a norma-padrão de pontuação.

- (A) Classificar não é ruim ou errado. Ademais supor que por estar etiquetado, algo esteja controlado mentalmente, é, no fundo, estupidez.
- (B) Classificar não é ruim ou errado; no entanto, supor que algo, por estar etiquetado, esteja controlado mentalmente é, no fundo, estupidez.
- (C) Classificar não é ruim ou errado; embora, supor que algo esteja controlado mentalmente, por estar etiquetado é, estupidez, no fundo.
- (D) Classificar não é ruim ou errado. Assim sendo, supor que, por estar etiquetado, algo esteja, mentalmente controlado é estupidez, no fundo.
- (E) Classificar não é ruim ou errado, pois, supor que algo esteja controlado, mentalmente, por estar etiquetado é, no fundo, estupidez.

06. Nas passagens – Isso garantiu nossa vida por muitas gerações ... Talvez, um dia, descubram que se trata de uma bactéria específica transmitida pela digitação. – as preposições destacadas expressam, respectivamente, as noções de

- (A) finalidade e agente.
- (B) finalidade e meio.
- (C) tempo e proximidade.
- (D) tempo e agente.
- (E) duração e proximidade.

07. Assinale a alternativa em que a expressão entre colchetes substitui a destacada, de acordo com a norma-padrão de emprego e colocação de pronome.

- (A) ... parecem ser atitudes que **exigem o desafio da vontade férrea** [exigem-no]
- (B) Deixar que sentidos mais amplos **invadam sua percepção** [invadam-na]
- (C) ... um caçador coletor que **passou a vida** errando em uma pequena área [passou ela]
- (D) ... **analisar possibilidades** fora do que está posto [analisar-lhes]
- (E) **Resistir à tentação** é um desafio. [Resisti-la]

08. O termo destacado está substituído, na expressão entre colchetes, de acordo com a norma-padrão de regência e emprego do sinal de crase, na alternativa:

- (A) ... **abandonar** redes sociais por pelo menos uma hora por dia. [renunciar às]
- (B) Deixar que sentidos mais amplos **invadam** sua percepção [interfiram à]
- (C) ... toda vez que olhar para algo semelhante, **sentirei** repulsa. [experimentarei à]
- (D) Se é da minha tribo, **diminuem** as chances de ataque. [escasseiam às]
- (E) O remédio **continua sendo** ler com atenção... [continua à ser]

Leia a tira, para responder à questão de número 09.



(Quino. Disponível em: <https://meumundocommafalda.wordpress.com>. Acesso em: 09.11.2019.)

09. É correto afirmar que o efeito de sentido crítico da tira está associado

- (A) ao gesto da menina, que acaba por convencer o homem de que há solução para o problema que o aflige.
- (B) à atitude pouco compreensiva do homem diante de um fenômeno comum na natureza.
- (C) à mudança de postura do homem, que redimensiona a importância que atribui à realidade.
- (D) ao estado de alheamento da menina diante dos acontecimentos que afetam o mundo.
- (E) à atitude inconsequente, comum às personagens, em relação aos respectivos focos de interesse.

10. Assinale a alternativa redigida segundo a norma-padrão de concordância.

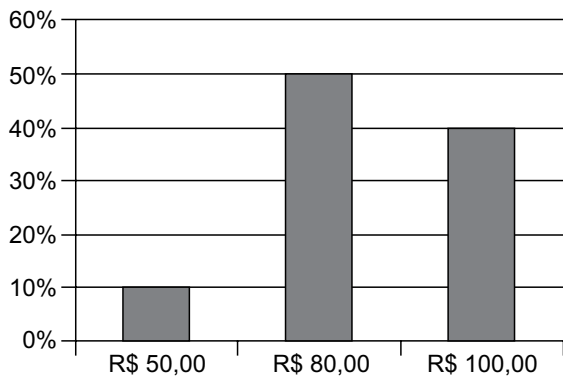
- (A) Anexo, segue a proposta que contempla, no âmbito da reforma tributária, mais de uma mudança que se consideram indispensáveis.
- (B) Está sendo discutido as atuais normas de direito tributário por comissão do legislativo federal, que as julgam complexas.
- (C) Dado a diversidade de entendimentos acerca da melhor solução, as discussões tem-se prolongado até meio-dia e meio.
- (D) Falta ainda muitos dias para o encerramento dos debates que deve levar à elaboração de um projeto de lei.
- (E) As próprias autoridades criticam as leis tributárias e defendem que se realizem as mudanças que se fazem necessárias.

11. Um empréstimo de R\$ 1.300,00, realizado a juros simples, com prazo de 8 meses, teve como juros total o valor de R\$ 260,00. A taxa de juros anual cobrada nesse empréstimo foi de
- (A) 25%
 - (B) 30%
 - (C) 35%
 - (D) 40%
 - (E) 45%
12. Um terreno no formato retangular tem perímetro de 130 m, com o menor lado medindo 1 metro a mais que a terça parte da medida do maior lado. A área desse terreno é de
- (A) 720 m².
 - (B) 768 m².
 - (C) 816 m².
 - (D) 864 m².
 - (E) 900 m².
13. Dois colírios foram indicados a um paciente: um deles para ser utilizado a cada 3 horas, durante o dia, enquanto estiver trabalhando, e o outro para ser utilizado a cada 8 horas. Comprados esses colírios, o paciente iniciou o tratamento, utilizando ambos, às 8 horas de determinado dia, horário em que entra no trabalho. Sabendo-se que o paciente sai do trabalho às 18 horas, e que obedeceu rigorosamente à indicação do oftalmologista, da primeira vez em que ele utilizou os dois colírios, até a terceira vez em que ele também os utilizou, em um mesmo horário, o número de vezes em que o paciente utilizou o colírio de aplicação a cada 3 horas foi
- (A) 6.
 - (B) 7.
 - (C) 8.
 - (D) 9.
 - (E) 10.

14. Uma caixa d'água, com formato interno de paralelepípedo reto retangular, tem como dimensões 1,5 m, 2,0 m e 2,5 m, e está com $\frac{3}{5}$ de sua capacidade máxima de água. Para completar a capacidade dessa caixa, ela receberá água, com razão constante de 180 litros por minuto. Sabendo-se que 1 m^3 corresponde a 1000 litros, o tempo que será necessário para que a caixa fique completamente cheia de água é de
- (A) 16 minutos e 08 segundos.
(B) 16 minutos e 40 segundos.
(C) 17 minutos e 06 segundos.
(D) 17 minutos e 25 segundos.
(E) 17 minutos e 53 segundos.
15. Considere a seguinte informação, divulgada no site de um sindicato do comércio, em outubro de 2019:
- “Dois em cada três consumidores acima de 60 anos já compram online por smartphone”
- Com base nessa informação, considere que a pesquisa realizada para chegar à conclusão divulgada tenha identificado 150 consumidores, acima de 60 anos, que compraram, online, por smartphone. Nesse caso, o número total de pessoas que teria participado da pesquisa, nessa faixa etária, teria sido de
- (A) 225.
(B) 230.
(C) 235.
(D) 240.
(E) 245.
16. Em dois dias, foram vendidas, no total, 30 unidades de um produto, e o valor total dessas vendas foi de R\$ 1.410,00. Sabendo-se que no primeiro dia de venda, cada unidade foi vendida por R\$ 50,00, enquanto que no segundo dia de venda, cada unidade foi vendida por R\$ 45,00, é correto afirmar que o valor das vendas do primeiro dia, em relação ao valor das vendas, do segundo dia, foi
- (A) maior em R\$ 210,00.
(B) maior em R\$ 150,00.
(C) maior em R\$ 160,00.
(D) menor em R\$ 150,00.
(E) menor em R\$ 210,00.

17. O total de 340 bolinhas, sendo 180 na cor branca e o restante na cor preta, será totalmente distribuído em sacolinhas, de forma que em cada uma tenha x unidades de bolinhas na cor branca e y unidades de bolinhas na cor preta. Se todas as sacolinhas deverão conter o menor número de bolinhas possível, a diferença $x - y$ deverá ser igual a
- (A) 1.
(B) 2.
(C) 3.
(D) 4.
(E) 5.

18. Um comerciante revende apenas três produtos, aos preços de R\$ 50,00, R\$ 80,00 e R\$ 100,00. O gráfico apresenta, no último dia de trabalho da semana anterior, a distribuição da receita total das vendas, pelos três preços praticados.



Nesse dia, a média dos preços unitários desses produtos foi de

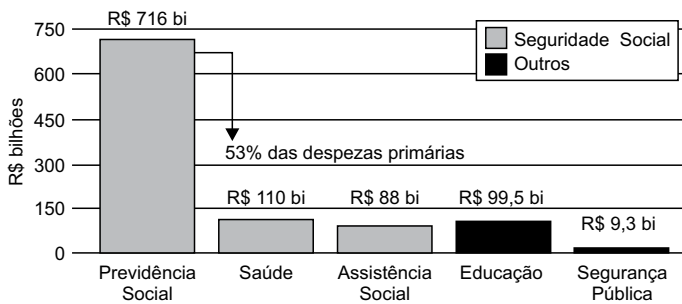
- (A) R\$ 80,00.
(B) R\$ 82,50.
(C) R\$ 85,00.
(D) R\$ 87,50.
(E) R\$ 90,00.

19. Em um grupo com somente pessoas com idades de 20 e 21 anos, a razão entre o número de pessoas com 20 anos e o número de pessoas com 21 anos, atualmente, é $\frac{4}{5}$. No próximo mês, duas pessoas com 20 anos farão aniversário, assim como uma pessoa com 21 anos, e a razão em questão passará a ser de $\frac{5}{8}$. O número total de pessoas nesse grupo é
- (A) 30.
 (B) 29.
 (C) 28.
 (D) 27.
 (E) 26.

20. Considere o seguinte gráfico, publicado em um artigo na internet:

O TAMANHO DO GASTO

Participação da Previdência Social nas despesas do governo federal em 2018



(<https://aosfatos.org/noticias/a-situacao-da-previdencia-social-em-6-graficos/>)

Com base nas informações apresentadas no gráfico, é correto afirmar que o gasto com a Saúde, em 2018, correspondeu, das despesas primárias, a, aproximadamente,

- (A) 6,0%
 (B) 6,5%
 (C) 7,0%
 (D) 7,5%
 (E) 8,0%

21. Promessa de campanha do então candidato republicano, cuja primeira menção data de 5 de agosto de 2014, o muro foi objeto de muitas batalhas, tanto no Congresso quanto nos tribunais.

“Vou construir o maior muro que já se viu, será um muro de Trump, um muro lindo”, disse o bilionário durante a campanha eleitoral.

(<https://bit.ly/36Rm7JT>. Publicado em 28.07.2019)

Sobre a proposta de construção do muro a que o texto se refere:

- (A) tem como objetivo controlar o número de imigrantes que ingressam nos Estados Unidos da América, mas não obteve aprovação no Congresso Nacional.
- (B) apesar do esforço para a sua construção por parte do presidente Trump, a proposta passa por discussões e conflitos políticos relativas ao seu financiamento.
- (C) representa uma das propostas mais populares do presidente Trump, mas sua construção tem sido barrada em decorrência de tensões com a comunidade internacional diante da questão imigratória.
- (D) apesar da resistência da oposição à proposta do presidente Trump, é defendida por ele como uma medida que visa registrar e regular, e não barrar, a entrada de imigrantes no país.
- (E) há uma demanda exigida pelos democratas e que, apesar da resistência de órgãos internacionais imigratórios, deverá ser construído até 2022.

22. O plano, batizado de “Agenda de Transformação de Estado”, prevê a mais profunda reestruturação da máquina pública brasileira desde a promulgação da Constituição Federal de 1988. O tamanho da mudança constitucional sugerida pelo governo pode ser medido pela quantidade de dispositivos que podem ser alterados. Juntos, os projetos somam 30 páginas.

(<https://glo.bo/2Cw3VOJ>. Publicado em 08.11.2019)

O plano a que o texto se refere, defende como objetivo

- (A) ampliar a agenda social do Estado de forma a adequá-la aos propósitos da Constituição de 1988.
- (B) centralizar os gastos públicos no âmbito da federação, de forma a diminuir a autonomia dos gastos estaduais.
- (C) ampliar o número de municípios, garantindo maior distribuição e melhor gestão de gastos públicos.
- (D) diminuir a possibilidade de manobrar recursos por parte do município.
- (E) ampliar a responsabilidade fiscal, buscando diminuir o inchaço dos gastos públicos estatais.

23. O governo chavista tem fechado o cerco contra o líder do parlamento venezuelano e autodeclarado presidente interino da Venezuela. Principal nome da oposição, foi inabilitado para ocupar cargos públicos durante 15 anos pela Controladoria Geral da Venezuela. O controlador do governo, Elvis Amoroso, anunciou na televisão que iria “desativar o exercício de qualquer cargo público do cidadão pelo prazo máximo estabelecido na lei”.

(<https://bit.ly/32ADx0S>. Publicado em 29.03.2019. Adaptado)

A respeito do conflito entre a situação do governo venezuelano e a oposição, é correto afirmar que

- (A) se trata do questionamento da legitimidade da reeleição de Juan Guidó, liderado por Nicolás Maduro.
 - (B) envolve as denúncias de órgãos internacionais, como a ONU, que identificaram fraudes no processo eleitoral que levou Hugo Chaves ao poder e reconhecem Juan Guaidó presidente.
 - (C) se refere à crise política venezuelana que envolve o conflito entre o presidente Nicolás Maduro e o líder da oposição Juan Guaidó.
 - (D) se trata de uma medida criada pelo governo venezuelano para não permitir que ocorram as próximas eleições na Venezuela, inaugurando um período ditatorial.
 - (E) se refere à disputa entre chavistas e bolivarianistas pelo controle do processo político eleitoral na Venezuela.
24. A ministra do Meio Ambiente da França, Elisabeth Borne, alertou nesta terça-feira que seu país não assinará o acordo alcançado entre a União Europeia e os países do bloco Mercosul (Argentina, Brasil, Uruguai e Paraguai) nas condições atuais.

(<https://bit.ly/2Cx1yo>. Publicado em 08.10.2019)

O motivo que gerou a declaração da ministra francesa foi

- (A) a questão da liberação de uma lista de agrotóxicos que incluem substâncias não utilizadas na França.
- (B) o padrão sanitário brasileiro relacionado ao combate às doenças do rebanho bovino.
- (C) as taxas alfandegárias que criam uma concorrência prejudicial aos produtos orgânicos franceses em relação aos brasileiros.
- (D) a repercussão mundial sobre as queimadas ocorridas na Amazônia e as políticas ambientais brasileiras.
- (E) as taxas alfandegárias que prejudicariam os produtos orgânicos franceses em relação aos brasileiros.

25. O filme segue sendo apresentado com muito sucesso em vários festivais de cinema no mundo. “Nosso objetivo principal sempre foi a estreia no Brasil. Os produtores e a distribuidora Paris Filmes vão seguir trabalhando para que isso aconteça”, publicou em nota a O2 Filmes. Em agosto, a O2 havia entrado com um recurso na Ancine solicitando a liberação de verbas para a comercialização do filme antes da assinatura efetiva do contrato com o FSA (Fundo Setorial do Audiovisual), mas o recurso foi negado.

(<https://bit.ly/36TKywU>. Publicado em 12.09.2019. Adaptado)

O texto se refere ao filme

- (A) Bacurau.
- (B) Que horas ela volta?
- (C) A vida invisível.
- (D) Hebe.
- (E) Marighella.

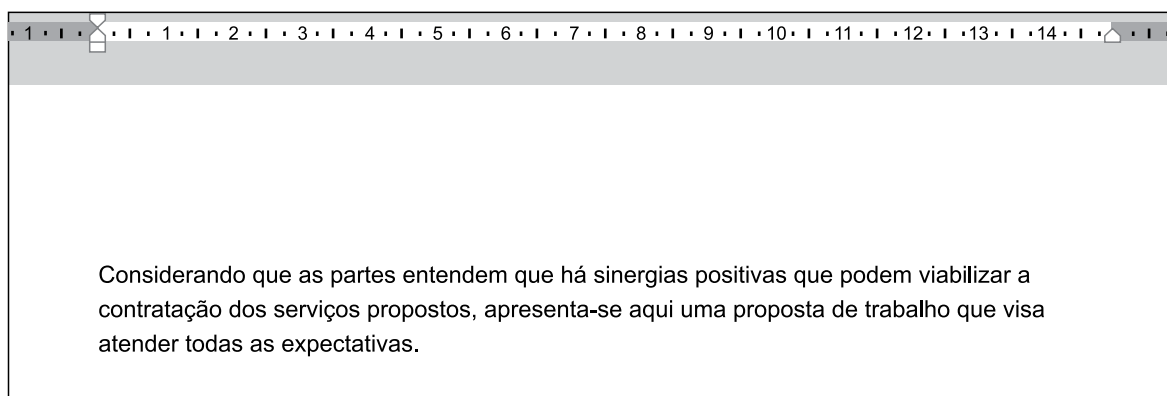
26. Tem-se a seguinte imagem, exibida parcialmente, de um computador com Microsoft Windows 7, em sua configuração original.



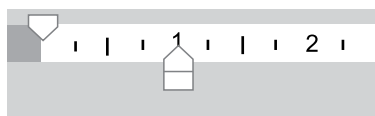
Assinale a alternativa com o resultado da ação, ao clicar com botão invertido do mouse (botão secundário) sobre o ícone do Paint e selecionar a opção Desafixar, da Barra de Tarefas.

- (A) O Paint será desinstalado do computador.
- (B) O Paint continuará aberto para uso, uma vez que está sendo executado, mas ao ser encerrado, seu ícone não estará mais presente na Barra de Tarefas.
- (C) O Paint ficará impedido de uso no computador, até que seja novamente fixado na Barra de Tarefas.
- (D) O aplicativo será encerrado, sem gravar a imagem que está sendo editada.
- (E) O aplicativo será encerrado, gravando automaticamente a imagem que está sendo editada.

27. Tem-se um documento editado no Microsoft Word 2010, em sua configuração original, conforme imagem parcial a seguir.



Um usuário clicou no ícone de recuo, deixando-o da forma a seguir.



Assinale a alternativa que indica a aparência correta que o texto assume com essa configuração.

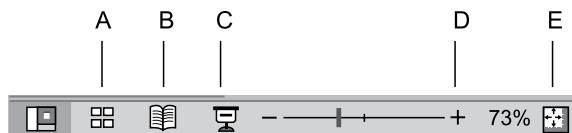
- (A) Considerando que as partes entendem que há sinergias positivas que podem viabilizar a contratação dos serviços propostos, apresenta-se aqui uma proposta de trabalho que visa atender todas as expectativas.
- (B) Considerando que as partes entendem que há sinergias positivas que podem viabilizar a contratação dos serviços propostos, apresenta-se aqui uma proposta de trabalho que visa atender todas as expectativas.
- (C) Considerando que as partes entendem que há sinergias positivas que podem viabilizar a contratação dos serviços propostos, apresenta-se aqui uma proposta de trabalho que visa atender todas as expectativas.
- (D) Considerando que as partes entendem que há sinergias positivas que podem viabilizar a contratação dos serviços propostos, apresenta-se aqui uma proposta de trabalho que visa atender todas as expectativas.
- (E) Considerando que as partes entendem que há sinergias positivas que podem viabilizar a contratação dos serviços propostos, apresenta-se aqui uma proposta de trabalho que visa atender todas as expectativas.

28. Tem-se a seguinte planilha, criada no Microsoft Excel 2010, em sua configuração original.


	A	B	C
1	9	9	6
2	3	4	8
3	9	6	0

Assinale a alternativa com o resultado correto da fórmula =MÉDIASE(A1:C3;">8";A1:C3) a ser inserida na célula A4.

- (A) 0
 (B) 3
 (C) 6
 (D) 8,75
 (E) 9
29. Assinale a alternativa que indica o ícone que inicia o Modo de Apresentação de slides no Microsoft PowerPoint 2010, em sua configuração original.



- (A) A
 (B) B
 (C) C
 (D) D
 (E) E
30. Ao visitar um web site usando o navegador Google Chrome, versão 78, em sua configuração original, o usuário pressionou as teclas CTRL+P para imprimir o conteúdo. Na visualização da impressão, o usuário percebeu que há 9 páginas para se imprimir. Assinale a alternativa que indica como deve ser preenchido o campo sublinhado, com a opção Personalizado selecionada, para que se imprima apenas as páginas 2 a 8.



- (A) -1-9
 (B) -1,-9
 (C) [1],2-8,[9]
 (D) 2-8
 (E) 2,8

CONHECIMENTOS ESPECÍFICOS

31. O espaço bucal cuja infecção resulta em edema na bochecha está situado entre os músculos:
- (A) pterigóideo medial e pterigóideo lateral.
 (B) pterigóideo medial e masseter.
 (C) levantador do ângulo da boca e zigomático maior.
 (D) bucinador e masseter.
 (E) quadrado do lábio superior e depressor do ângulo da boca.
32. A saliva tem função protetora e exerce grande influência sobre a placa bacteriana, seja por meio da limpeza mecânica, do tamponamento de ácidos produzidos por bactérias, e pelo controle da atividade bacteriana.
- Assinale a alternativa que descreve corretamente a função salivar e qual o componente responsável.
- (A) Manutenção da integridade do dente; película de glicoproteína.
 (B) Lubrificação; fluxo físico.
 (C) Proteção física; lactoperoxidase.
 (D) Ação antibacteriana; mucoide.
 (E) Tamponamento; mineral.
33. Paciente tabagista inveterado apresenta projeções difusas em dorso de língua devido à retenção de queratina na superfície das papilas filiformes. O diagnóstico e a possível forma de tratamento para esse paciente são, respectivamente,
- (A) leucoplasia, e realizar biópsia excisional.
 (B) estomatite nicotínica, e parar de fumar.
 (C) língua pilosa, e melhorar as práticas de higiene oral.
 (D) línquen plano, e realizar terapia com corticoides.
 (E) lúpus eritematoso e realizar terapia sintomática paliativa.
34. No estudo da microbiologia, a relação microbiana entre os *Streptococcus* bucais e os *A. actinomycetemcomitans* é classificada como
- (A) comensalismo.
 (B) competição.
 (C) parasitismo.
 (D) sinergismo.
 (E) mutualismo.

35. A primeira hipótese diagnóstica para adolescente, gênero feminino, 16 anos, com lesões com coloração rosa, exofítica, firme, bem edemaciada e sésil com projeções superficiais embotoadas e curtas na região de mucosa labial e palato com 1,5 cm no maior diâmetro, é
- (A) molusco contagioso.
 - (B) condiloma acuminado.
 - (C) granuloma central de células gigantes.
 - (D) fibroma ossificante.
 - (E) estomatite nicotínica.
36. A lesão cariosa é considerada como manifestação clínica de uma infecção bacteriana que atinge cerca de 90% dos adolescentes entre 15 e 19 anos, que apresentam, pelo menos, um dente com experiência de cárie. Frente a esse quadro, para garantir o controle da doença, é necessário
- (A) tratamento protético restaurador.
 - (B) tratamento restaurador atraumático.
 - (C) implementação de laserterapia nos dentes contaminados.
 - (D) prescrição de bochechos com ácido fluorídrico.
 - (E) intervenção sobre os fatores determinantes da doença cárie.
37. Paciente, 24 anos, apresenta queixa de assimetria facial progressiva há 5 meses com laterognatismo, mordida cruzada e aberta, ausência de dor com a manutenção abertura de boca e dos movimentos faciais. Ao exame de imagem, apresenta anormalidade morfológica na região do côndilo e hipercaptação na cintilografia óssea. Frente aos dados coletados, qual o diagnóstico e tratamento adequados, respectivamente, para o paciente?
- (A) Côndilo bífido e sintomáticos para disfunção temporomandibular.
 - (B) Síndrome de Eagle e excisão cirúrgica do processo estiloide.
 - (C) Anquilose da ATM e osteoplastia.
 - (D) Hiperplasia condilar e condilectomia.
 - (E) Hiperplasia coronoide e coronoidectomia.
38. Paciente masculino, 42 anos, comparece ao consultório relatando inicialmente dor intensa ao frio, mas que, atualmente, a dor aumenta com o calor e alivia com frio. Na anamnese e no exame clínico, caracterizou-se a dor como espontânea, intensa, contínua, difusa e mal combatida com analgésicos. O diagnóstico endodôntico desse paciente é:
- (A) abscesso pulpar.
 - (B) necrose pulpar.
 - (C) pulpíte reversível.
 - (D) pulpíte irreversível.
 - (E) pulpíte crônica hiperplásica.
39. O tratamento indicado para paciente com história de odontalgia que aumenta com o calor e alivia com o frio, caracterizada como dor espontânea, intensa, contínua, difusa e mal combatida com analgésicos é:
- (A) pulpectomia.
 - (B) pulpotomia.
 - (C) apicetomia.
 - (D) exodontia.
 - (E) proteção do complexo dentino-pulpar.
40. Sobre a sialolitíase, é correto afirmar que
- (A) ocorre com maior frequência no ducto de Wharton devido ao seu trajeto.
 - (B) seu tratamento consiste em antibioticoterapia e hidratação abundante do paciente.
 - (C) se caracteriza por uma tumefação azulada, flutuante e indolor no assoalho de boca.
 - (D) é um dos tumores glandulares mais prevalentes, podendo apresentar transformação maligna.
 - (E) é uma inflamação das glândulas salivares, podendo ter causas variadas.
41. Paciente comparece ao consultório com queixa de dor gengival generalizada, associada a sangramento na escovação há 14 dias. Ao exame clínico, apresenta áreas eritematosas com pontos azulados em toda gengiva inserida e mucosa alveolar, aspecto liso e brilhante sem mobilidade dentária. Na sondagem, foram constatadas medidas de profundidade de sulco, variando entre 1 a 3 mm.
- Qual o diagnóstico para esse paciente?
- (A) Gengivite localizada.
 - (B) Gengivite difusa generalizada.
 - (C) Gengivite papilar.
 - (D) Gengivite primária.
 - (E) Gengivite ulcerativa necrosante.
42. Os exames de imagem são, muitas vezes, fundamentais no auxílio diagnóstico das patologias, na elaboração do plano de tratamento e também no acompanhamento periódico. A ultrassonografia apresenta como característica
- (A) ampla sobreposição das estruturas anatômicas.
 - (B) difícil aquisição das imagens.
 - (C) ausência de radiação ionizante.
 - (D) alto custo em comparação com os demais exames de imagem.
 - (E) impossibilidade de captação de som.

43. Paciente masculino, 30 anos, com queixa de aumento de volume mandibular indolor há 4 meses com alteração na posição dos dentes. Ao exame de imagem convencional, identifica-se lesão radiolúcida multilocular associada a um padrão semelhante a "raquete de tênis"; na tomografia computadorizada, apresenta-se como lesão hipodensa com trabeculado no seu interior com expansão e afinamento das corticais ósseas.
- Assinale a alternativa que apresenta a hipótese diagnóstica mais adequada para o caso descrito.
- (A) Cisto ósseo aneurismático.
(B) Cisto dentígero.
(C) Cementoblastoma.
(D) Mixoma.
(E) Tumor odontogênico adenomatoide.
44. De qual forma os anestésicos locais interferem no processo de excitação da membrana nervosa?
- (A) Fechando os canais de potássio.
(B) Aumentando a entrada de potássio no axoplasma.
(C) Eliminando o potencial de repouso original.
(D) Aumentando a taxa de despolarização.
(E) Prolongando a taxa de repolarização.
45. O conhecimento de diversas técnicas anestésicas é fundamental para a prática clínica do cirurgião dentista. A técnica para bloqueio do nervo mandibular, onde o anestésico deve ser depositado adjacente ao côndilo mandibular após o contato da agulha com o tecido ósseo, é denominada
- (A) Gow-Gates.
(B) Vazirani-Akinosi.
(C) Newmann.
(D) Hans-evers.
(E) Infiltrativa local.
46. A execução dos procedimentos restauradores é normalmente precedida pelo preparo cavitário, sobre o qual é correto afirmar que
- (A) os preparos cavitários classe V necessitam de acesso indireto para procedimentos restauradores.
(B) a crista marginal deve ser sempre incluída nos preparos cavitários, visando maior resistência das restaurações.
(C) a geometria dos preparos cavitários é fundamental no sucesso clínico das restaurações diretas com compósitos.
(D) a remoção do tecido cariado deve se estender por 1,0 mm de tecido sadio para a confecção das paredes do preparo.
(E) esmalte sem suporte dentinário deve ser removido.
47. O conhecimento dos materiais dentários e suas características permite a obtenção máxima das suas qualidades físico-mecânicas.
- Sobre o processo de fotopolimerização, pode-se afirmar que
- (A) quanto maior a espessura do compósito mais fácil a sua polimerização completa.
(B) todos os aparelhos fotopolimerizadores emitem muito calor, podendo comprometer a saúde pulpar em dentes vitais.
(C) a intensidade da luz de fotopolimerização apresenta relação quadrada inversa com a distância.
(D) a fotopolimerização pela técnica da rampa consiste em uma diminuição progressiva da luz até o final da fotoativação.
(E) quanto maior a distância da fonte de luz à resina composta, maior é a energia disponível devido ao espalhamento da luz.
48. O *Mock-up* é uma importante ferramenta relacionada à proposta de tratamento restaurador estético que permite ao paciente pré-visualizar o resultado final do ser tratamento antes de qualquer desgaste dentário. O material a partir do qual o *Mock-up* pode ser confeccionado é
- (A) o silicone.
(B) o acetato.
(C) a porcelana.
(D) a zircônia.
(E) a resina bisacrílica.
49. Agranulocitose é uma condição patológica na qual existe uma deficiência da medula óssea na produção de quantidade suficiente de glóbulos brancos ou aumento da destruição dos glóbulos brancos. A agranulocitose adquirida pode ser causada por medicamentos como
- (A) dipirona.
(B) codeína.
(C) diclofenaco.
(D) ciprofloxacina.
(E) omeprazol.
50. Nas cirurgias de levantamento de seio maxilar, qual artéria pode representar uma fonte importante de sangramento durante a confecção da janela lateral para acesso ao seio maxilar?
- (A) Palatina.
(B) Facial.
(C) Infraorbital.
(D) Alveolar superior posterior.
(E) Angular.

- 51.** A fratura que pode apresentar risco de morte aos pacientes acometidos pelo trauma mandibular é a
- (A) fratura de sínfise.
 - (B) bilateral de ângulo mandibular.
 - (C) bilateral de côndilo mandibular.
 - (D) bilateral de parassínfise.
 - (E) bilateral de corpo mandibular.
- 52.** A hipotensão ortostática é uma das urgências mais prevalentes no consultório odontológico. A conduta inicial frente ao paciente com relato de tontura e visão turva ao levantar rapidamente da posição supina após tratamento odontológico prolongado deve ser
- (A) administrar medicamentos vasoativos pela via intramuscular.
 - (B) retornar o paciente na posição supina com os pés levemente elevados.
 - (C) acionar serviço de emergências médicas e iniciar protocolo de ressuscitação cardiopulmonar.
 - (D) administrar benzodiazepínico, visando controle do estresse do paciente.
 - (E) estimular a hiperventilação com amônia aromática.
- 53.** Durante atendimento odontológico, paciente apresenta quadro de mal súbito, não responde aos questionamentos do cirurgião dentista e sua respiração se mantém irregular. A conduta de primeiros socorros mais adequada e desejável para o caso descrito é:
- (A) posicionar o paciente em decúbito dorsal no chão e aplicar choques com o desfibrilador.
 - (B) iniciar duas respirações seguidas da aferição do pulso carotídeo e compressões torácicas.
 - (C) iniciar protocolo de ressuscitação cardiopulmonar se possuir auxiliar, caso contrário, evitar manipular o paciente.
 - (D) iniciar protocolo de ressuscitação cardiopulmonar com auxiliar com 30 compressões torácicas para duas ventilações.
 - (E) acionar o serviço de resgate médico, mover o paciente para o chão e iniciar as compressões torácicas.
- 54.** O tratamento preventivo e interceptativo das más oclusões dentárias na Atenção Básica de Saúde do SUS refere-se a
- (A) desgastes seletivos e ortodontia.
 - (B) placa de desprogramação muscular e orientações mastigatórias.
 - (C) nível informativo e de mínima intervenção profissional.
 - (D) profilaxia e tratamento ortopédico funcional.
 - (E) orientações sobre padrão respiratório e ortodontia interceptativa.
- 55.** Paciente diagnosticado com a síndrome de Ehlers-Danlos, apresentando implicações musculoesqueléticas com disfunção das articulações temporomandibulares e luxação recidivante da mandíbula.
- O tratamento cirúrgico indicado após esgotadas as possibilidades conservadoras é:
- (A) discopexia.
 - (B) eminectomia.
 - (C) artrocentese.
 - (D) miotomia do músculo pterigóideo.
 - (E) osteoplastia condilar.
- 56.** O uso da chupeta pode ter sua validade em alguns casos, entretanto, o uso irrestrito pode acarretar desarmonias faciais e dentárias de difícil correção. De acordo com a Associação Brasileira de Odontopediatria e o Ministério da Saúde, a época máxima para eliminação da chupeta é
- (A) 1 ano.
 - (B) 2 anos.
 - (C) 3 anos.
 - (D) 4 anos.
 - (E) 5 anos.
- 57.** Pacientes HIV positivo apresentam diversas alterações em boca e requerem cuidados especiais dos cirurgiões dentistas. Dentre esses cuidados, pode-se afirmar que a
- (A) terapia periodontal conservadora não cirúrgica deve ser a opção de tratamento para todos os pacientes soropositivos para HIV.
 - (B) contagem de CD4+ deve ser solicitada semanalmente durante o tratamento odontológico.
 - (C) higiene oral deve ser realizada apenas com bochechos na presença de ulcerações orais.
 - (D) estomatite ulcerativa necrosante é patognomônica para portadores de HIV+.
 - (E) terapia com antibióticos profiláticos deve ser mantida por longos períodos, minimizando o risco de infecções oportunistas.
- 58.** Sobre os lasers de baixa potência amplamente utilizados na odontologia, é correto afirmar que
- (A) apresentam efeito térmico exotérmico importante.
 - (B) os efeitos clínicos dependem da escolha dos parâmetros de energia e protocolos de utilização adequados.
 - (C) são indicados para procedimentos cirúrgicos pequenos como frenectomias.
 - (D) promovem a degeneração nervosa e o aumento na amplitude do potencial de ação.
 - (E) são indicados para a realização de preparos cavitários.

- 59.** O processo de esterilização deve ser monitorado de forma criteriosa, visando o fornecimento de artigos livres de micro-organismos patogênicos. Sobre os controles e formas de monitoramento dos processos de esterilização, é correto afirmar que
- (A) o monitoramento mecânico consiste na inspeção visual dos materiais e invólucros esterilizados.
 - (B) o monitoramento físico consiste no registro do tempo, temperatura e pressão após o final do ciclo, antes da fase de secagem.
 - (C) o monitoramento químico é realizado por meio de tintas termocrômicas que têm os objetivos de identificar e diferenciar os produtos que foram processados.
 - (D) o monitoramento biológico é baseado no cultivo de microrganismos no primeiro ciclo da autoclave, sendo a leitura dos resultados realizada 1h após a incubação.
 - (E) os instrumentais, cujos indicadores demonstrarem falha no ciclo de esterilização, deverão ser descartados em lixo para descarte de material com risco de contaminação biológico.
- 60.** Sobre os princípios orientadores na Atenção Primária ou Atenção Básica no SUS, é correto afirmar que a
- (A) responsabilidade profissional relaciona-se à qualidade técnica dos profissionais envolvidos no tratamento.
 - (B) integralidade da atenção compreende a possibilidade de atendimento nas diversas especialidades da área da saúde, as quais o usuário necessita, em uma única unidade de saúde.
 - (C) longitudinalidade diz respeito às ações de saúde programadas para cada unidade de atendimento e qual a sua adequação às necessidades da população.
 - (D) abrangência diz respeito ao aporte regular de cuidados pela equipe de saúde que poderia ser traduzida como "relação mútua".
 - (E) coordenação relaciona-se à capacidade do serviço em garantir a continuidade da atenção, o seguimento do usuário no sistema ou garantia da referência a outros níveis de atenção.

