



## PREFEITURA DO MUNICÍPIO DE MORRO AGUDO

ESTADO DE SÃO PAULO

CONCURSO PÚBLICO

### 029. PROVA OBJETIVA

#### FARMACÊUTICO

- ◆ Você recebeu sua folha de respostas e este caderno contendo 60 questões objetivas.
- ◆ Confira seus dados impressos na capa deste caderno e na folha de respostas.
- ◆ Quando for permitido abrir o caderno, verifique se está completo ou se apresenta imperfeições. Caso haja algum problema, informe ao fiscal da sala.
- ◆ Leia cuidadosamente todas as questões e escolha a resposta que você considera correta.
- ◆ Marque, na folha de respostas, com caneta de tinta preta, a letra correspondente à alternativa que você escolheu.
- ◆ A duração da prova é de 3 horas e 30 minutos, já incluído o tempo para o preenchimento da folha de respostas.
- ◆ Só será permitida a saída definitiva da sala e do prédio após transcorridos 75% do tempo de duração da prova.
- ◆ Deverão permanecer em cada uma das salas de prova os 3 últimos candidatos, até que o último deles entregue sua prova, assinando termo respectivo.
- ◆ Ao sair, você entregará ao fiscal a folha de respostas e este caderno, podendo levar apenas o rascunho de gabarito, localizado em sua carteira, para futura conferência.
- ◆ Até que você saia do prédio, todas as proibições e orientações continuam válidas.

**AGUARDE A ORDEM DO FISCAL PARA ABRIR ESTE CADERNO DE QUESTÕES.**

Nome do candidato \_\_\_\_\_

RG \_\_\_\_\_

Inscrição \_\_\_\_\_

Prédio \_\_\_\_\_

Sala \_\_\_\_\_

Carteira \_\_\_\_\_



## CONHECIMENTOS GERAIS

### LÍNGUA PORTUGUESA

Leia o texto, para responder às questões de números **01** a **08**.

#### *Rotulo, logo existo*

Nosso cérebro é uma complexa estrutura forjada por milhões de anos de evolução. Por outro lado, é também primitivo e foi lapidado para seres trogloditas que viveram há milhares de anos. É curioso pensar que o mais refinado, erudito e urbano dos moradores deste planeta tenha o mesmo hardware que um caçador coletor que passou a vida errando em uma pequena área de algum lugar em busca de comer, aquecer-se e garantir a reprodução.

Desenvolvida para uma chave amigo-inimigo, nossa mente tende a rotular tudo o que vê, julgando a novidade de acordo com seu conhecimento prévio. Isso garantiu nossa vida por muitas gerações: se eu comer algo que me faz mal, toda vez que olhar para algo semelhante, sentirei repulsa. Nosso cérebro rotula de acordo com a percepção de nossos sentidos. Isso pode ser bom para evitar perigos, porém cria problemas para nossa atualidade.

Encerrar em caixas herméticas dá segurança. Começamos com a minha tribo e a do outro. Se é da minha, diminuem as chances de ataque. Classificar é a primeira forma de dominar e de se defender. O vício entrou em nós. Da tribo, passamos a gostos musicais e sexuais ou escolas artísticas. **Classificar não é ruim ou errado. Supor que algo esteja controlado mentalmente por estar etiquetado é, no fundo, estupidez.**

Tudo pede que você classifique continuamente. Resistir à tentação é um desafio. Pensar em aprofundar, dar uma segunda olhada, fugir do rótulo: parecem ser atitudes que exigem o desafio da vontade férrea. Deixar que sentidos mais amplos invadam sua percepção sem julgar e engavetar de imediato é um ato de resistência. Abrir espaço para complexidades é boa meta. O resto? O rema-rema de frases superficiais, senso comum e a celebração da boçalidade. Talvez, um dia, descubram que se trata de uma bactéria específica transmitida pela digitação. O remédio continua sendo ler com atenção, duvidar como método, analisar possibilidades fora do que está posto e nunca ser o representante da verdade na Terra. Ah, e ajuda abandonar redes sociais por pelo menos uma hora por dia. É preciso ter esperança.

(Leandro Karnal. Disponível em: <[www.culturaestadao.com.br](http://www.culturaestadao.com.br)>. Acesso em 09.11.2019. Adaptado)

- 01.** É correto afirmar, de acordo com o texto, que a ideia de rótulo está associada a
- (A) atitudes e comportamentos resultantes de reflexão.
  - (B) conhecimento adquirido com dedicação ao estudo.
  - (C) gostos e vícios advindos de atitudes equivocadas.
  - (D) ideias e ações baseadas em estereótipos.
  - (E) manifestações relacionadas ao status na sociedade.

- 02.** Do ponto de vista do autor, a propensão humana para classificar
- (A) é um mecanismo natural que precisa ser controlado pelo exercício do discernimento.
  - (B) garante domínio de situações, propiciando julgamentos justos e ações racionais.
  - (C) está inscrita na mente e permite identificar com clareza qual é o grupo ao qual aderir.
  - (D) cria condições para que o indivíduo pense e julgue levando em conta os diversos lados da questão.
  - (E) é uma forma de interação do sujeito com o mundo, que lhe assegura estar do lado da verdade.
- 03.** Assinale a alternativa contendo afirmação correta acerca do emprego das palavras destacadas na passagem – É curioso pensar que o mais refinado, erudito e urbano dos moradores deste planeta tenha o mesmo **hardware** que um caçador coletor que passou a vida **errando** em uma pequena área de algum lugar em busca de comer, aquecer-se e garantir a reprodução.
- (A) Ambas as palavras estão empregadas em sentido próprio, sendo **hardware** referência a máquinas eletrônicas.
  - (B) Ambas as palavras estão empregadas em sentido próprio; **errando** significa “incorrendo em equívoco”.
  - (C) A palavra **hardware** está empregada em sentido figurado; **errando** está empregada em sentido próprio, de “vagueando”.
  - (D) A palavra **hardware** está empregada em sentido figurado; **errando** está empregada em sentido próprio de “enganando”.
  - (E) Ambas as palavras estão empregadas em sentido figurado; **errando** tem sentido de “perseguido”.
- 04.** Considerando-se o contexto em que se encontra, a frase destacada em – **Desenvolvida para uma chave amigo-inimigo**, nossa mente tende a rotular tudo o que vê – expressa a noção de
- (A) comparação e equivale a – Sendo que se desenvolveu para uma chave amigo-inimigo...
  - (B) concessão e equivale a – Apesar de que se desenvolveu para uma chave amigo-inimigo...
  - (C) proporção e equivale a – À medida que se desenvolveu para uma chave amigo-inimigo...
  - (D) conclusão e equivale a – Portanto, se desenvolveu para uma chave amigo-inimigo...
  - (E) causa e equivale a – Como se desenvolveu para uma chave amigo-inimigo...

05. Assinale a alternativa que reescreve a passagem destacada no 3º parágrafo, expressando sentido coerente com o original e de acordo com a norma-padrão de pontuação.

- (A) Classificar não é ruim ou errado. Ademais supor que por estar etiquetado, algo esteja controlado mentalmente, é, no fundo, estupidez.
- (B) Classificar não é ruim ou errado; no entanto, supor que algo, por estar etiquetado, esteja controlado mentalmente é, no fundo, estupidez.
- (C) Classificar não é ruim ou errado; embora, supor que algo esteja controlado mentalmente, por estar etiquetado é, estupidez, no fundo.
- (D) Classificar não é ruim ou errado. Assim sendo, supor que, por estar etiquetado, algo esteja, mentalmente controlado é estupidez, no fundo.
- (E) Classificar não é ruim ou errado, pois, supor que algo esteja controlado, mentalmente, por estar etiquetado é, no fundo, estupidez.

06. Nas passagens – Isso garantiu nossa vida por muitas gerações ... Talvez, um dia, descubram que se trata de uma bactéria específica transmitida pela digitação. – as preposições destacadas expressam, respectivamente, as noções de

- (A) finalidade e agente.
- (B) finalidade e meio.
- (C) tempo e proximidade.
- (D) tempo e agente.
- (E) duração e proximidade.

07. Assinale a alternativa em que a expressão entre colchetes substitui a destacada, de acordo com a norma-padrão de emprego e colocação de pronome.

- (A) ... parecem ser atitudes que **exigem o desafio da vontade férrea** [exigem-no]
- (B) Deixar que sentidos mais amplos **invadam sua percepção** [invadam-na]
- (C) ... um caçador coletor que **passou a vida** errando em uma pequena área [passou ela]
- (D) ... **analisar possibilidades** fora do que está posto [analisar-lhes]
- (E) **Resistir à tentação** é um desafio. [Resisti-la]

08. O termo destacado está substituído, na expressão entre colchetes, de acordo com a norma-padrão de regência e emprego do sinal de crase, na alternativa:

- (A) ... **abandonar** redes sociais por pelo menos uma hora por dia. [renunciar às]
- (B) Deixar que sentidos mais amplos **invadam** sua percepção [interfiram à]
- (C) ... toda vez que olhar para algo semelhante, **sentirei** repulsa. [experimentarei à]
- (D) Se é da minha tribo, **diminuem** as chances de ataque. [escasseiam às]
- (E) O remédio **continua sendo** ler com atenção... [continua à ser]

Leia a tira, para responder à questão de número 09.



(Quino. Disponível em: <https://meumundocommafalda.wordpress.com>. Acesso em: 09.11.2019.)

09. É correto afirmar que o efeito de sentido crítico da tira está associado

- (A) ao gesto da menina, que acaba por convencer o homem de que há solução para o problema que o aflige.
- (B) à atitude pouco compreensiva do homem diante de um fenômeno comum na natureza.
- (C) à mudança de postura do homem, que redimensiona a importância que atribui à realidade.
- (D) ao estado de alheamento da menina diante dos acontecimentos que afetam o mundo.
- (E) à atitude inconsequente, comum às personagens, em relação aos respectivos focos de interesse.

10. Assinale a alternativa redigida segundo a norma-padrão de concordância.

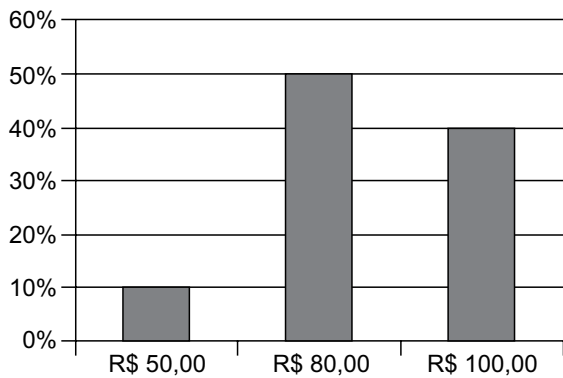
- (A) Anexo, segue a proposta que contempla, no âmbito da reforma tributária, mais de uma mudança que se consideram indispensáveis.
- (B) Está sendo discutido as atuais normas de direito tributário por comissão do legislativo federal, que as julgam complexas.
- (C) Dado a diversidade de entendimentos acerca da melhor solução, as discussões tem-se prolongado até meio-dia e meio.
- (D) Falta ainda muitos dias para o encerramento dos debates que deve levar à elaboração de um projeto de lei.
- (E) As próprias autoridades criticam as leis tributárias e defendem que se realizem as mudanças que se fazem necessárias.

11. Um empréstimo de R\$ 1.300,00, realizado a juros simples, com prazo de 8 meses, teve como juros total o valor de R\$ 260,00. A taxa de juros anual cobrada nesse empréstimo foi de
- (A) 25%
  - (B) 30%
  - (C) 35%
  - (D) 40%
  - (E) 45%
12. Um terreno no formato retangular tem perímetro de 130 m, com o menor lado medindo 1 metro a mais que a terça parte da medida do maior lado. A área desse terreno é de
- (A) 720 m<sup>2</sup>.
  - (B) 768 m<sup>2</sup>.
  - (C) 816 m<sup>2</sup>.
  - (D) 864 m<sup>2</sup>.
  - (E) 900 m<sup>2</sup>.
13. Dois colírios foram indicados a um paciente: um deles para ser utilizado a cada 3 horas, durante o dia, enquanto estiver trabalhando, e o outro para ser utilizado a cada 8 horas. Comprados esses colírios, o paciente iniciou o tratamento, utilizando ambos, às 8 horas de determinado dia, horário em que entra no trabalho. Sabendo-se que o paciente sai do trabalho às 18 horas, e que obedeceu rigorosamente à indicação do oftalmologista, da primeira vez em que ele utilizou os dois colírios, até a terceira vez em que ele também os utilizou, em um mesmo horário, o número de vezes em que o paciente utilizou o colírio de aplicação a cada 3 horas foi
- (A) 6.
  - (B) 7.
  - (C) 8.
  - (D) 9.
  - (E) 10.

14. Uma caixa d'água, com formato interno de paralelepípedo reto retangular, tem como dimensões 1,5 m, 2,0 m e 2,5 m, e está com  $\frac{3}{5}$  de sua capacidade máxima de água. Para completar a capacidade dessa caixa, ela receberá água, com razão constante de 180 litros por minuto. Sabendo-se que  $1 \text{ m}^3$  corresponde a 1000 litros, o tempo que será necessário para que a caixa fique completamente cheia de água é de
- (A) 16 minutos e 08 segundos.  
(B) 16 minutos e 40 segundos.  
(C) 17 minutos e 06 segundos.  
(D) 17 minutos e 25 segundos.  
(E) 17 minutos e 53 segundos.
15. Considere a seguinte informação, divulgada no site de um sindicato do comércio, em outubro de 2019:
- “Dois em cada três consumidores acima de 60 anos já compram online por smartphone”
- Com base nessa informação, considere que a pesquisa realizada para chegar à conclusão divulgada tenha identificado 150 consumidores, acima de 60 anos, que compraram, online, por smartphone. Nesse caso, o número total de pessoas que teria participado da pesquisa, nessa faixa etária, teria sido de
- (A) 225.  
(B) 230.  
(C) 235.  
(D) 240.  
(E) 245.
16. Em dois dias, foram vendidas, no total, 30 unidades de um produto, e o valor total dessas vendas foi de R\$ 1.410,00. Sabendo-se que no primeiro dia de venda, cada unidade foi vendida por R\$ 50,00, enquanto que no segundo dia de venda, cada unidade foi vendida por R\$ 45,00, é correto afirmar que o valor das vendas do primeiro dia, em relação ao valor das vendas, do segundo dia, foi
- (A) maior em R\$ 210,00.  
(B) maior em R\$ 150,00.  
(C) maior em R\$ 160,00.  
(D) menor em R\$ 150,00.  
(E) menor em R\$ 210,00.

17. O total de 340 bolinhas, sendo 180 na cor branca e o restante na cor preta, será totalmente distribuído em sacolinhas, de forma que em cada uma tenha  $x$  unidades de bolinhas na cor branca e  $y$  unidades de bolinhas na cor preta. Se todas as sacolinhas deverão conter o menor número de bolinhas possível, a diferença  $x - y$  deverá ser igual a
- (A) 1.  
(B) 2.  
(C) 3.  
(D) 4.  
(E) 5.

18. Um comerciante revende apenas três produtos, aos preços de R\$ 50,00, R\$ 80,00 e R\$ 100,00. O gráfico apresenta, no último dia de trabalho da semana anterior, a distribuição da receita total das vendas, pelos três preços praticados.



Nesse dia, a média dos preços unitários desses produtos foi de

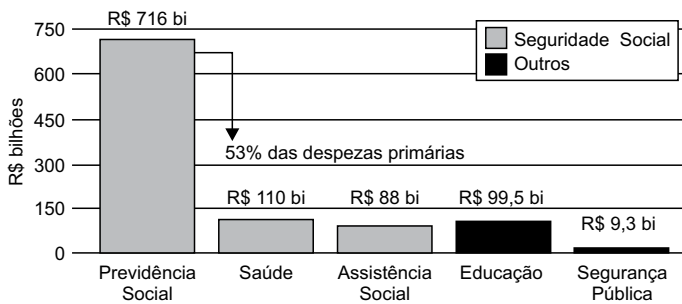
- (A) R\$ 80,00.  
(B) R\$ 82,50.  
(C) R\$ 85,00.  
(D) R\$ 87,50.  
(E) R\$ 90,00.

19. Em um grupo com somente pessoas com idades de 20 e 21 anos, a razão entre o número de pessoas com 20 anos e o número de pessoas com 21 anos, atualmente, é  $\frac{4}{5}$ . No próximo mês, duas pessoas com 20 anos farão aniversário, assim como uma pessoa com 21 anos, e a razão em questão passará a ser de  $\frac{5}{8}$ . O número total de pessoas nesse grupo é
- (A) 30.  
 (B) 29.  
 (C) 28.  
 (D) 27.  
 (E) 26.

20. Considere o seguinte gráfico, publicado em um artigo na internet:

### O TAMANHO DO GASTO

Participação da Previdência Social nas despesas do governo federal em 2018



(<https://aosfatos.org/noticias/a-situacao-da-previdencia-social-em-6-graficos/>)

Com base nas informações apresentadas no gráfico, é correto afirmar que o gasto com a Saúde, em 2018, correspondeu, das despesas primárias, a, aproximadamente,

- (A) 6,0%  
 (B) 6,5%  
 (C) 7,0%  
 (D) 7,5%  
 (E) 8,0%



21. Promessa de campanha do então candidato republicano, cuja primeira menção data de 5 de agosto de 2014, o muro foi objeto de muitas batalhas, tanto no Congresso quanto nos tribunais.

“Vou construir o maior muro que já se viu, será um muro de Trump, um muro lindo”, disse o bilionário durante a campanha eleitoral.

(<https://bit.ly/36Rm7JT>. Publicado em 28.07.2019)

Sobre a proposta de construção do muro a que o texto se refere:

- (A) tem como objetivo controlar o número de imigrantes que ingressam nos Estados Unidos da América, mas não obteve aprovação no Congresso Nacional.
  - (B) apesar do esforço para a sua construção por parte do presidente Trump, a proposta passa por discussões e conflitos políticos relativas ao seu financiamento.
  - (C) representa uma das propostas mais populares do presidente Trump, mas sua construção tem sido barrada em decorrência de tensões com a comunidade internacional diante da questão imigratória.
  - (D) apesar da resistência da oposição à proposta do presidente Trump, é defendida por ele como uma medida que visa registrar e regular, e não barrar, a entrada de imigrantes no país.
  - (E) há uma demanda exigida pelos democratas e que, apesar da resistência de órgãos internacionais imigratórios, deverá ser construído até 2022.
22. O plano, batizado de “Agenda de Transformação de Estado”, prevê a mais profunda reestruturação da máquina pública brasileira desde a promulgação da Constituição Federal de 1988. O tamanho da mudança constitucional sugerida pelo governo pode ser medido pela quantidade de dispositivos que podem ser alterados. Juntos, os projetos somam 30 páginas.

(<https://glo.bo/2Cw3VOJ>. Publicado em 08.11.2019)

O plano a que o texto se refere, defende como objetivo

- (A) ampliar a agenda social do Estado de forma a adequá-la aos propósitos da Constituição de 1988.
- (B) centralizar os gastos públicos no âmbito da federação, de forma a diminuir a autonomia dos gastos estaduais.
- (C) ampliar o número de municípios, garantindo maior distribuição e melhor gestão de gastos públicos.
- (D) diminuir a possibilidade de manobrar recursos por parte do município.
- (E) ampliar a responsabilidade fiscal, buscando diminuir o inchaço dos gastos públicos estatais.

23. O governo chavista tem fechado o cerco contra o líder do parlamento venezuelano e autodeclarado presidente interino da Venezuela. Principal nome da oposição, foi inabilitado para ocupar cargos públicos durante 15 anos pela Controladoria Geral da Venezuela. O controlador do governo, Elvis Amoroso, anunciou na televisão que iria “desativar o exercício de qualquer cargo público do cidadão pelo prazo máximo estabelecido na lei”.

(<https://bit.ly/32ADx0S>. Publicado em 29.03.2019. Adaptado)

A respeito do conflito entre a situação do governo venezuelano e a oposição, é correto afirmar que

- (A) se trata do questionamento da legitimidade da reeleição de Juan Guidó, liderado por Nicolás Maduro.
  - (B) envolve as denúncias de órgãos internacionais, como a ONU, que identificaram fraudes no processo eleitoral que levou Hugo Chaves ao poder e reconhecem Juan Guaidó presidente.
  - (C) se refere à crise política venezuelana que envolve o conflito entre o presidente Nicolás Maduro e o líder da oposição Juan Guaidó.
  - (D) se trata de uma medida criada pelo governo venezuelano para não permitir que ocorram as próximas eleições na Venezuela, inaugurando um período ditatorial.
  - (E) se refere à disputa entre chavistas e bolivarianistas pelo controle do processo político eleitoral na Venezuela.
24. A ministra do Meio Ambiente da França, Elisabeth Borne, alertou nesta terça-feira que seu país não assinará o acordo alcançado entre a União Europeia e os países do bloco Mercosul (Argentina, Brasil, Uruguai e Paraguai) nas condições atuais.

(<https://bit.ly/2Cx1yo>. Publicado em 08.10.2019)

O motivo que gerou a declaração da ministra francesa foi

- (A) a questão da liberação de uma lista de agrotóxicos que incluem substâncias não utilizadas na França.
  - (B) o padrão sanitário brasileiro relacionado ao combate às doenças do rebanho bovino.
  - (C) as taxas alfandegárias que criam uma concorrência prejudicial aos produtos orgânicos franceses em relação aos brasileiros.
  - (D) a repercussão mundial sobre as queimadas ocorridas na Amazônia e as políticas ambientais brasileiras.
  - (E) as taxas alfandegárias que prejudicariam os produtos orgânicos franceses em relação aos brasileiros.
25. O filme segue sendo apresentado com muito sucesso em vários festivais de cinema no mundo. “Nosso objetivo principal sempre foi a estreia no Brasil. Os produtores e a distribuidora Paris Filmes vão seguir trabalhando para que isso aconteça”, publicou em nota a O2 Filmes. Em agosto, a O2 havia entrado com um recurso na Ancine solicitando a liberação de verbas para a comercialização do filme antes da assinatura efetiva do contrato com o FSA (Fundo Setorial do Audiovisual), mas o recurso foi negado.

(<https://bit.ly/36TKywU>. Publicado em 12.09.2019. Adaptado)

O texto se refere ao filme

- (A) Bacurau.
- (B) Que horas ela volta?
- (C) A vida invisível.
- (D) Hebe.
- (E) Marighella.

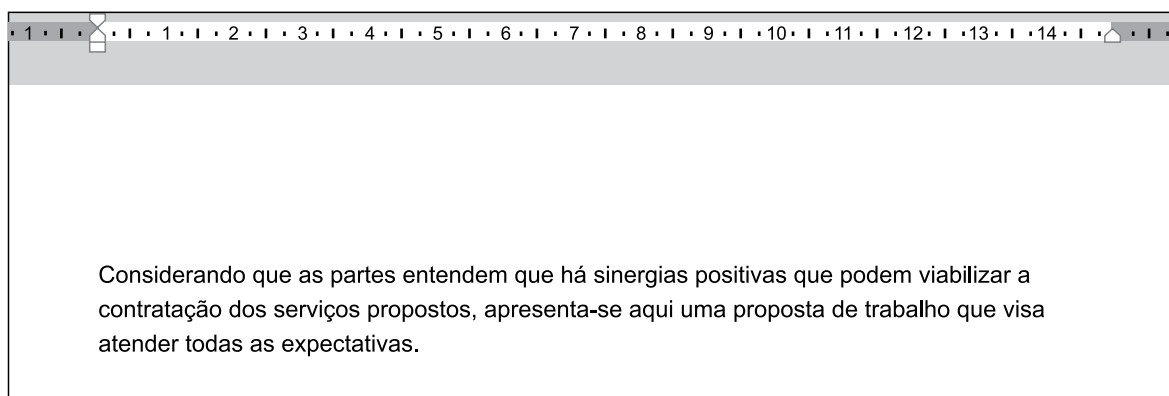
26. Tem-se a seguinte imagem, exibida parcialmente, de um computador com Microsoft Windows 7, em sua configuração original.



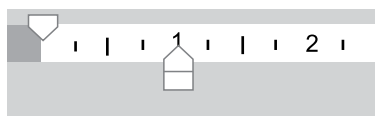
Assinale a alternativa com o resultado da ação, ao clicar com botão invertido do mouse (botão secundário) sobre o ícone do Paint e selecionar a opção Desafixar, da Barra de Tarefas.

- (A) O Paint será desinstalado do computador.
- (B) O Paint continuará aberto para uso, uma vez que está sendo executado, mas ao ser encerrado, seu ícone não estará mais presente na Barra de Tarefas.
- (C) O Paint ficará impedido de uso no computador, até que seja novamente fixado na Barra de Tarefas.
- (D) O aplicativo será encerrado, sem gravar a imagem que está sendo editada.
- (E) O aplicativo será encerrado, gravando automaticamente a imagem que está sendo editada.

27. Tem-se um documento editado no Microsoft Word 2010, em sua configuração original, conforme imagem parcial a seguir.



Um usuário clicou no ícone de recuo, deixando-o da forma a seguir.



Assinale a alternativa que indica a aparência correta que o texto assume com essa configuração.

- (A) Considerando que as partes entendem que há sinergias positivas que podem viabilizar a contratação dos serviços propostos, apresenta-se aqui uma proposta de trabalho que visa atender todas as expectativas.
- (B) Considerando que as partes entendem que há sinergias positivas que podem viabilizar a contratação dos serviços propostos, apresenta-se aqui uma proposta de trabalho que visa atender todas as expectativas.
- (C) Considerando que as partes entendem que há sinergias positivas que podem viabilizar a contratação dos serviços propostos, apresenta-se aqui uma proposta de trabalho que visa atender todas as expectativas.
- (D) Considerando que as partes entendem que há sinergias positivas que podem viabilizar a contratação dos serviços propostos, apresenta-se aqui uma proposta de trabalho que visa atender todas as expectativas.
- (E) Considerando que as partes entendem que há sinergias positivas que podem viabilizar a contratação dos serviços propostos, apresenta-se aqui uma proposta de trabalho que visa atender todas as expectativas.

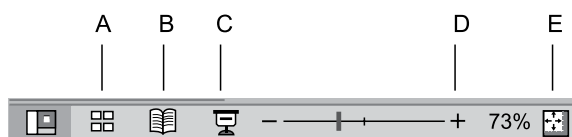
28. Tem-se a seguinte planilha, criada no Microsoft Excel 2010, em sua configuração original.

	A	B	C
1	9	9	6
2	3	4	8
3	9	6	0

Assinale a alternativa com o resultado correto da fórmula =MÉDIASE(A1:C3;">8";A1:C3) a ser inserida na célula A4.

- (A) 0
- (B) 3
- (C) 6
- (D) 8,75
- (E) 9

29. Assinale a alternativa que indica o ícone que inicia o Modo de Apresentação de slides no Microsoft PowerPoint 2010, em sua configuração original.



- (A) A
- (B) B
- (C) C
- (D) D
- (E) E

30. Ao visitar um web site usando o navegador Google Chrome, versão 78, em sua configuração original, o usuário pressionou as teclas CTRL+P para imprimir o conteúdo. Na visualização da impressão, o usuário percebeu que há 9 páginas para se imprimir. Assinale a alternativa que indica como deve ser preenchido o campo sublinhado, com a opção Personalizado selecionada, para que se imprima apenas as páginas 2 a 8.

Páginas

- (A) -1-9
- (B) -1,-9
- (C) [1],2-8,[9]
- (D) 2-8
- (E) 2,8

## CONHECIMENTOS ESPECÍFICOS

31. As ações e serviços de saúde, executados pelo Sistema Único de Saúde (SUS), seja diretamente ou mediante participação complementar da iniciativa privada, serão organizados de forma

- (A) centralizada e hierarquizada em níveis de complexidade crescente.
- (B) centralizada e hierarquizada em níveis de complexidade decrescente.
- (C) regionalizada e hierarquizada em níveis de complexidade crescente.
- (D) regionalizada e hierarquizada em níveis de complexidade decrescente.
- (E) regionalizada e hierarquizada em níveis de complexidade variável, dependendo do município.

32. A Conferência de Saúde

- (A) se reunirá a cada quatro anos com a representação dos vários segmentos sociais, para avaliar a situação de saúde e propor as diretrizes para a formulação da política de saúde nos níveis correspondentes.
- (B) se reunirá anualmente, com a representação dos vários segmentos sociais, para avaliar a situação de saúde e propor as diretrizes para a formulação da política de saúde no nível estatal.
- (C) se reunirá anualmente, sem a representação dos vários segmentos sociais, e a cada quatro anos com a representação dos vários segmentos sociais, para avaliar a situação de saúde e propor as diretrizes para a formulação da política de saúde nos níveis correspondentes.
- (D) tem caráter permanente e deliberativo e é um órgão colegiado composto por representantes do governo, prestadores de serviço, profissionais de saúde e usuários.
- (E) atua na formulação de estratégias e no controle da execução da política de saúde na instância correspondente, inclusive nos aspectos econômicos e financeiros, cujas decisões serão homologadas pelo chefe do poder legalmente constituído em cada esfera do governo.

- 33.** De acordo com a Lei nº 12.401/2011, é correto afirmar que
- (A) órteses, próteses, bolsas coletoras e equipamentos médicos não são produtos de interesse para a saúde.
  - (B) na falta de protocolo clínico ou de diretriz terapêutica, a dispensação será realizada com base no entendimento do corpo médico responsável pelo tratamento do paciente.
  - (C) a incorporação, a exclusão ou a alteração pelo SUS de novos medicamentos, produtos e procedimentos, bem como a constituição ou a alteração de protocolo clínico ou de diretriz terapêutica, são atribuições do Conselho Nacional de Saúde.
  - (D) a Comissão Nacional de Incorporação de Tecnologias no SUS, cuja composição e regimento são definidos em regulamento, contará com a participação de 1 representante indicado pelo Conselho Nacional de Saúde e de 1 representante, especialista na área, indicado pelo CFF.
  - (E) são vedados, em todas as esferas de gestão do SUS o pagamento, o ressarcimento ou o reembolso de medicamento, produto e procedimento clínico ou cirúrgico experimental, ou de uso não autorizado pela ANVISA.
- 34.** De acordo com a Política Nacional de Medicamentos,
- (A) o processo de descentralização exige os gestores federal e estadual da responsabilidade relativa à aquisição e distribuição de medicamentos em situações especiais.
  - (B) o gestor federal, em articulação com a área econômica, deverá identificar medidas com vistas ao acompanhamento das variações e índices de custo dos medicamentos, com ênfase naqueles considerados de uso contínuo.
  - (C) a revisão permanente da Farmacopeia Brasileira, que constitui mecanismo de fundamental importância para as ações legais de vigilância sanitária e das relações de comércio exterior, tanto de importação, quanto de exportação, está ao encargo do CFF.
  - (D) esforços serão concentrados no sentido de que seja estabelecida uma efetiva articulação das atividades de produção de medicamentos da RENAME, exclusivamente a cargo dos segmentos industriais oficiais.
  - (E) deverá ser elaborado e amplamente divulgado o Formulário Terapêutico Nacional, instrumento importante para a orientação da prescrição dos medicamentos. Não farão parte desse Formulário as características de dispensação desses produtos.
- 35.** Assinale a alternativa correta em relação aos conceitos da farmacocinética.
- (A) A depuração total (CL<sub>tot</sub>) de um fármaco é um parâmetro fundamental que descreve a sua eliminação: a taxa de eliminação equivale à CL<sub>tot</sub> dividida pela concentração plasmática.
  - (B) A CL<sub>tot</sub> determina a concentração plasmática em estado de equilíbrio (C<sub>eq</sub>). C<sub>eq</sub> é igual à velocidade de administração do fármaco multiplicada pela CL<sub>tot</sub>.
  - (C) Com a administração repetida ou liberação prolongada de um fármaco, a concentração plasmática atinge um valor de estado de equilíbrio após 3 a 5 meias-vidas.
  - (D) A meia-vida de eliminação é diretamente proporcional ao CL<sub>tot</sub>.
  - (E) Nem em situações de urgência deve-se administrar uma dose de ataque.
- 36.** Em relação aos movimentos de fármacos através das barreiras celulares, é correto afirmar que
- (A) os fármacos atravessam as membranas lipídicas unicamente usando transportadores específicos.
  - (B) o peso molecular de um fármaco é o principal fator que determina a taxa de difusão passiva através das membranas; a lipossolubilidade é menos importante.
  - (C) muitos fármacos são ácidos e bases fortes, portanto seu estado de ionização varia com o pH, de acordo com a equação de Shild.
  - (D) a partição pelo pH significa que os ácidos fracos tendem a acumular-se em compartimentos com pH relativamente baixo, enquanto as bases fracas fazem o oposto.
  - (E) com ácidos ou bases fracas, apenas a espécie apolar (a forma protonada de um ácido fraco ou a forma não protonada de uma base fraca) pode difundir-se através de membranas celulares; isso acarreta a partição pelo pH.
- 37.** “Volume de líquido necessário para conter a quantidade total de um fármaco no organismo na mesma concentração presente no plasma” é a definição de Volume de
- (A) compartimento.
  - (B) distribuição aparente.
  - (C) depuração.
  - (D) eliminação.
  - (E) contensão.

38. Em relação à biodisponibilidade de um fármaco, é correto afirmar que
- (A) indica a velocidade e a extensão de absorção de um princípio ativo em uma forma de dosagem, a partir de sua curva concentração/tempo na circulação sistêmica ou sua excreção na urina.
  - (B) consiste na demonstração de equivalência farmacêutica entre produtos apresentados sob a mesma forma farmacêutica, contendo idêntica composição qualitativa, mas não necessariamente quantitativa de princípio(s) ativo(s).
  - (C) pode ser entendida como extensão e velocidade de eliminação.
  - (D) em indivíduos saudáveis, ela indica a equivalência de formulações e apenas isso. Não há razões científicas para supor que as diferenças interindividuais distingam a proveniência farmacêutica das moléculas de princípio ativo.
  - (E) para a maioria dos fármacos, um produto genérico deve apresentar 95-100% de intervalo de confiança em relação ao produto original, para que seja aceito como bioequivalente.
39. O propranolol é um antiarrítmico de classe
- (A) Ia, e age bloqueando dos canais de cálcio.
  - (B) Ib, e age por antagonismo dos receptores  $\alpha$ -adrenérgicos.
  - (C) II, e age por antagonismo dos receptores  $\beta$ -adrenérgicos.
  - (D) III, e age bloqueando dos canais de sódio.
  - (E) IV, e age como inibidor da ECA.
40. Assinale a alternativa que apresenta apenas fármacos que estimulam a produção de insulina.
- (A) Metformina, clorpropamida, acarbose, pioglitazona.
  - (B) Metformina, sitagliptina, dapagliflozina, liraglutida.
  - (C) Pioglitazona, acarbose, nateglinida, glibenclamida.
  - (D) Nateglinida, glibenclamida, sitagliptina, clorpropamida.
  - (E) Pioglitazona, metformina, sitagliptina, glibenclamida.
41. O zolpidem é um fármaco usado, principalmente, como
- (A) ansiolítico.
  - (B) relaxante muscular.
  - (C) anticonvulsivante.
  - (D) hipnótico.
  - (E) antidepressivo.
42. As cefalosporinas são drogas antibacterianas muito usadas que agem inibindo a
- (A) síntese do peptidoglicano da parede bacteriana.
  - (B) síntese proteica, por transpeptidação.
  - (C) síntese do DNA bacteriano, inibindo a DNA-polimerase.
  - (D) estrutura da membrana bacteriana, desestabilizando a organização dos lipídeos.
  - (E) síntese de ácido fólico e consequente ação da vitamina B.
43. A aquisição centralizada pelo MS de alguns medicamentos essenciais à atenção básica (Cba) é uma das estratégias desenvolvidas visando à garantia de um acesso adequado ao tratamento medicamentoso, a exemplo
- (A) das insulinas para o controle do diabetes e dos medicamentos para asma.
  - (B) dos contraceptivos para as ações da Política Nacional de Atenção Integral à Saúde da Mulher e planejamento familiar e dos medicamentos para hepatite C.
  - (C) das insulinas para o controle do diabetes e dos contraceptivos para as ações da Política Nacional de Atenção Integral à Saúde da Mulher e planejamento familiar.
  - (D) dos medicamentos para asma e para tuberculose.
  - (E) dos medicamentos para tuberculose e lepra.
44. Os medicamentos que constituem as linhas de cuidado para as condições atendidas no Ceaf (Componente especializado da assistência farmacêutica) estão divididos em grupos com características, responsabilidades e formas de organização distintas, a saber:
- (A) O Grupo 1A é constituído por medicamentos que integram o elenco do Componente Básico da Assistência Farmacêutica e cuja responsabilidade pelo financiamento é tripartite, sendo a aquisição e a dispensação de responsabilidade dos municípios.
  - (B) O Grupo 1B é constituído por medicamentos adquiridos pelos estados com transferência de recursos financeiros pelo Ministério da Saúde, na modalidade Fundo a Fundo.
  - (C) O Grupo 1C é constituído por medicamentos cuja responsabilidade pelo financiamento é dos municípios.
  - (D) O Grupo 2 é constituído por medicamentos cuja responsabilidade pelo financiamento é do Ministério da Saúde, sendo a aquisição e a dispensação de responsabilidade das Secretarias Estaduais de Saúde.
  - (E) O Grupo 3 é constituído por medicamentos com aquisição centralizada pelo Ministério da Saúde.

45. Entre outros eixos estratégicos, a Política Nacional de Assistência Farmacêutica engloba, como instrumento racionalizador das ações no âmbito da assistência farmacêutica, a utilização da Relação Nacional de Medicamentos Essenciais (RENAME), atualizada
- (A) semestralmente.
  - (B) anualmente.
  - (C) a cada 4 anos.
  - (D) a cada 5 anos.
  - (E) periodicamente.
46. Assinale a alternativa correta em relação à Comissão de Farmácia e Terapêutica.
- (A) É uma instância colegiada de caráter consultivo, mas não tem caráter deliberativo.
  - (B) Deve atuar de forma eventual, quando solicitada, em diversas atividades, como assessorar a Gerência de Assistência Farmacêutica nos assuntos referentes a medicamentos.
  - (C) Tem por finalidade produzir material informativo sobre medicamentos, mas não de validar protocolos terapêuticos.
  - (D) Não possui função gerencial. Possui funções bem definidas e não pode substituir, desempenhar ou gerenciar a Assistência Farmacêutica.
  - (E) Sua composição depende da disponibilidade dos recursos humanos existentes. Recomenda-se contar com farmacêuticos, enfermeiros, entre outros profissionais de saúde, com exceção de médicos e dentistas.
47. No ciclo da Assistência Farmacêutica, a seleção constitui o ponto de partida, sendo, portanto, uma atividade fundamental. A seleção é um processo de escolha de medicamentos \_\_\_\_\_, imprescindíveis ao atendimento das necessidades de uma dada população, tendo como base as doenças \_\_\_\_\_, com a finalidade de garantir uma terapêutica medicamentosa de qualidade nos diversos níveis de atenção à saúde. Deve estar fundamentada em critérios \_\_\_\_\_, técnicos e econômicos como, também, na estrutura dos serviços de saúde. É um processo dinâmico e participativo, que precisa ser bem articulado e envolver um número representativo de profissionais da área da saúde.
- Assinale a alternativa que completa, correta e respectivamente, as lacunas do texto.
- (A) eficazes e seguros ... prevalentes ... epidemiológicos
  - (B) especiais ... raras ... dinâmicos
  - (C) comumente indicados ... pouco frequentes ... científicos
  - (D) inovadores ... agudas ... específicos
  - (E) clássicos ... comuns ... metodológicos
48. De acordo com o Código de Ética da Profissão Farmacêutica, é dever do farmacêutico comunicar o CRF o encerramento de seu vínculo profissional de qualquer natureza, independentemente de retenção de documentos pelo empregador num período máximo de
- (A) 3 dias.
  - (B) 5 dias.
  - (C) 10 dias.
  - (D) 15 dias.
  - (E) 30 dias.
49. A comunicação à ANVISA da descontinuação temporária ou definitiva da fabricação ou importação de medicamentos, em geral, deverá ser realizada com antecedência da data de sua implementação de, no mínimo,
- (A) 30 dias.
  - (B) 45 dias.
  - (C) 60 dias.
  - (D) 90 dias.
  - (E) 180 dias.
50. O Termo de Ajuste Sanitário (TAS) tem por finalidade
- (A) regulamentar o financiamento e a transferência dos recursos estaduais para ações e serviços de saúde na forma de blocos de financiamento.
  - (B) regulamentar o financiamento e a transferência dos recursos municipais para ações e serviços de saúde na forma de blocos de financiamento.
  - (C) a correção de impropriedades decorrentes do descumprimento de obrigações previstas em normativas do Ministério da Saúde relativas à gestão do SUS, por meio de compromisso firmado pelos gestores do SUS.
  - (D) auditar, nas instâncias do SUS, os diversos órgãos de controle, quando constatadas impropriedades na gestão do sistema, desde que o relatório final destas ações ofereça os pressupostos necessários à instrução do processo.
  - (E) elaborar um plano de trabalho sobre as ações a serem realizadas e o respectivo prazo; as metas a serem alcançadas; e a indicação das fontes de recursos para execução do plano, quando couber.

**51.** Assinale a alternativa correta em relação à RENAME.

- (A) A partir da criação da Comissão Nacional de Farmacologia (CNF) do MS, esta passa a ser responsável por propor a atualização da RENAME, conforme estabelecido no Decreto nº 7.646, de 21 de dezembro de 2011.
- (B) A atualização do elenco da RENAME proposta pela CNF compreende um processo reativo em que os demandantes são apenas órgãos e instituições públicas e um processo ativo conduzido pela Subcomissão Técnica de Atualização da RENAME e do Formulário Terapêutico Nacional.
- (C) É elaborada atendendo aos princípios fundamentais do SUS, isto é, a universalidade, a equidade e a integralidade, configurando-se como a relação dos medicamentos disponibilizados por meio de políticas públicas e indicados para os tratamentos das doenças e agravos que acometem a população brasileira.
- (D) Para a última edição, realizou-se o levantamento de todos os medicamentos incluídos, excluídos e alterados pela CNF entre março/2017 e setembro/2018, e que passaram por pactuação do financiamento no Ministério da Fazenda.
- (E) Na seção A são apresentadas as modificações da lista em relação à edição anterior, organizadas de acordo com as inclusões, exclusões e alterações, bem como as recomendações de não inclusão de medicamentos.

**52.** Em relação aos diferentes tipos de demanda de produtos farmacêuticos, é correto afirmar que demanda

- (A) permanente é a demanda para produtos com vida curta e requer ressurgimento periódico.
- (B) sazonal ou sazonalidade pode ser definida como o conjunto dos movimentos ou flutuações com período igual ou inferior a um ano, sistemáticos, necessariamente regulares, que ocorrem numa série temporal.
- (C) irregular é a que depende de fatores econômicos e financeiros, como taxas de câmbio, promoção e propaganda.
- (D) em desuso ocorre quando a demanda do produto acaba ou um novo produto ocupa o seu lugar.
- (E) derivada é a que está ligada à produtos com sazonais e sua demanda sempre diminui.

**53.** O método de classificação de materiais segundo a curva ABC é uma das estratégias aplicadas para o controle de gastos com estoque. De acordo com esse método, a Classe C

- (A) agrupa cerca de 70% dos itens, cuja importância em valor é pequena, representando cerca de 20% do valor do estoque.
- (B) abriga o grupo de itens mais importantes que correspondem a um pequeno número de medicamentos, cerca de 20% dos itens, que representa cerca de 80% do valor total do estoque.
- (C) abriga o grupo de itens mais importantes que correspondem a um número muito pequeno de medicamentos, cerca de 5% dos itens, que representa cerca de 70% do valor total do estoque.
- (D) representa um grupo de itens em situação e valores intermediários entre a classe A e B, sendo 15% do total de itens.
- (E) representa um grupo de itens em situação e valores intermediários entre a classe A e B, sendo 50% do total de itens.

**54.** O processo de compra de medicamentos no setor público é complexo, envolve um conjunto de exigências legais e administrativas que devem ser cumpridas. Um dos processos envolvidos é a concorrência, que é a modalidade de licitação entre

- (A) interessados devidamente cadastrados ou que atenderem a todas as condições exigidas para cadastramento até o terceiro dia anterior à data do recebimento das propostas, observada a necessária qualificação.
- (B) quaisquer interessados que, na fase inicial de habilitação preliminar, comprovem possuir os requisitos mínimos de qualificação exigidos no edital para execução de seu objeto.
- (C) interessados do ramo pertinente ao seu objeto, cadastrados ou não, escolhidos e convidados em número mínimo de 3 pela unidade administrativa, a qual afixará, em local apropriado, cópia do instrumento convocatório e o estenderá aos demais cadastrados na correspondente especialidade que manifestarem seu interesse com antecedência de até 24 horas da apresentação das propostas.
- (D) quaisquer interessados para escolha de trabalho técnico, científico ou artístico, mediante a instituição de prêmios ou remuneração aos vencedores, conforme critérios constantes de edital publicado na imprensa oficial com antecedência mínima de 45 dias.
- (E) quaisquer interessados para a venda de bens móveis ou imóveis inservíveis para a administração ou de produtos legalmente apreendidos ou penhorados, ou para a alienação de bens imóveis, a quem oferecer o maior lance, igual ou superior ao valor da avaliação.

55. Considerando que o consumo médio mensal de um medicamento em uma unidade hospitalar é de 5 000 unidades, o tempo de ressuprimento é de 2 semanas e que se deseja um nível de segurança de 95%, é correto afirmar que o ponto de ressuprimento deve ser, em unidades,
- (A) 10 000.
  - (B) 7 250.
  - (C) 5 000.
  - (D) 2 250.
  - (E) 1 500.
56. Em relação à prescrição farmacêutica, é correto afirmar que
- (A) o ato da prescrição farmacêutica só poderá ocorrer em estabelecimentos farmacêuticos hospitalares, desde que respeitado o princípio da confidencialidade e a privacidade do paciente no atendimento.
  - (B) a prescrição de medicamentos, no âmbito do SUS, estará necessariamente em conformidade com a Denominação Comum Internacional (DCI).
  - (C) o farmacêutico poderá prescrever medicamentos cuja dispensação exija prescrição médica, desde que condicionado à existência de diagnóstico prévio e apenas quando estiver previsto em programas, protocolos, diretrizes ou normas técnicas, aprovados para uso no âmbito de instituições de saúde ou quando da formalização de acordos de colaboração com outros prescritores ou instituições de saúde.
  - (D) acordo de colaboração é a parceria formal entre o prescritor ou a instituição, com explícito acordo entre quem está delegando (prescritor ou instituição) e quem está recebendo a autorização (paciente).
  - (E) o farmacêutico poderá realizar apenas a prescrição de produtos com finalidade terapêutica, cuja dispensação não exija prescrição médica, incluindo medicamentos industrializados e preparações magistrais – alopáticos ou dinamizados, plantas medicinais, drogas vegetais e outras categorias ou relações de medicamentos que venham a ser aprovadas pelo órgão sanitário federal para prescrição do farmacêutico.
57. No que diz respeito à importação e exportação de substâncias constantes na Portaria nº 344/1998, é correto afirmar que
- (A) a Autorização de Exportação e o Certificado de Não Objeção, ambos de caráter intransferível, serão expedidos em 3 vias, podendo os mesmos serem emitidos por processo informatizado, ou não, os quais terão a seguinte destinação: 1ª via – Órgão competente do Ministério da Saúde; 2ª via – Importador; 3ª via – exportador.
  - (B) para exportar substâncias constantes das listas “A1”, “A2”, “A3”, “C1” e “C2” e os medicamentos que as contenham, o interessado devidamente habilitado perante a Secretaria de Vigilância Sanitária do MS, e ao Órgão equivalente do Estado e Distrito Federal deverá requerer a Autorização de Exportação, devendo ainda apresentar a Autorização expedida pelo órgão competente do país importador.
  - (C) a importação de substâncias constantes das listas “C1”, “C2”, “C3” e “C4” e os medicamentos que as contenham, dependerá da emissão de Autorização de Importação da Secretaria de Vigilância Sanitária do MS.
  - (D) a Autorização de Exportação e o Certificado de Não Objeção, ambos de caráter intransferível, serão expedidos em 2 vias, podendo os mesmos serem emitidos por processo informatizado, ou não, os quais terão a seguinte destinação: 1ª via – Órgão competente do Mas; 2ª via – Importador.
  - (E) a importação de substâncias constantes das listas “A1”, “A2”, “A3”, “B1” e “B2” e os medicamentos que as contenham, dependerá da emissão de Autorização de Importação da Secretaria de Vigilância Sanitária do Ministério da Saúde.
58. De acordo com a Portaria nº 344/1998 e suas atualizações, as substâncias tramadol, oxicodona, femproporex e clorazepam pertencem, respectivamente, às listas
- (A) B2, B1, A1 e A2.
  - (B) B2, B1, A2 e A1.
  - (C) B1, B2, A2 e A1.
  - (D) A1, A2, B1 e B2.
  - (E) A2, A1, B2 e B1.



**59.** Assinale a alternativa correta, de acordo com a Lei nº 13.021/2014.

- (A) Drogaria é o estabelecimento de manipulação de fórmulas magistrais e oficinais, de comércio de drogas, medicamentos, insumos farmacêuticos e correlatos, compreendendo o de dispensação e o de atendimento privativo de unidade hospitalar ou de qualquer outra equivalente de assistência médica.
- (B) A farmácia privativa de unidade hospitalar ou similar destina-se ao atendimento de seus usuários, mas pode atender o público, em geral.
- (C) Ocorrendo a baixa do profissional farmacêutico, obrigam-se os estabelecimentos à contratação de novo farmacêutico, no prazo máximo de 30 (trinta) dias.
- (D) Obriga-se o farmacêutico, no exercício de suas atividades, a notificar os profissionais de saúde e os órgãos sanitários competentes os efeitos colaterais, das reações adversas, das intoxicações, voluntárias ou não, e da farmacodependência observados e registrados na prática da farmacovigilância; a notificação ao laboratório industrial não é obrigatória.
- (E) Obriga-se o farmacêutico, no exercício de suas atividades proceder ao acompanhamento farmacoterapêutico apenas de pacientes internados em estabelecimentos hospitalares, de natureza pública ou privada.

**60.** A variedade de materiais utilizados nos estabelecimentos de saúde pode ser classificada segundo riscos potenciais de transmissão de infecções para os pacientes, em três categorias: críticos, semicríticos e não críticos. Essa classificação determina se o material deve ser esterilizado ou simplesmente sofrer desinfecção. Assinale a alternativa que apresenta apenas artigos semicríticos.

- (A) Mamadeiras e bicos, dieta enteral, máscara de inalação.
- (B) Seringas, mesa de exame, mamadeiras e bicos.
- (C) Fios cirúrgicos, sonda vesical, dieta enteral.
- (D) Comadres e papagaios, medicamentos orais, medicamentos inaláveis.
- (E) Endoscópios, sonda vesical, instrumentais cirúrgicos.





