

Prefeitura Municipal de Manhumirim/MG

CONCURSO PÚBLICO Nº 001/2016



Médico Veterinário

Tarde

Organizadora:



Entre os mundos real e virtual

Ninguém precisa mais se preocupar em invadir a nossa privacidade. Nós nos expomos em rede global.

Nosso mundo pós-moderno é fragmentado. Uma de suas expressões mais evidentes é o videoclipe. Enxurrada de *flashes*, vibrações acústicas, sons distorcidos. Rompe-se a linearidade, enquanto a simultaneidade embaralha passado, presente e futuro. Tudo é simuladamente aqui e agora.

O Iluminismo, ancorado na literatura, cede lugar à digitalização frenética. Mundo que carece de sentido. Forma que dispensa conteúdo. A *performance* do artista ultrapassa a arte que ele produz. Seu nome vale mais que seu desempenho. A valoração dá lugar à exaltação.

Einstein, que desnudou o mistério do Universo com suas equações, foi sucedido por *Steve Jobs*, que nos ofereceu maravilhas tecnológicas embaladas de refinamento estético, movidas a velocidade que desafia o cérebro humano.

Agora a alienação já não resulta de ideologias que distorcem a realidade para nos incutir a mentira como verdade. Basta que sejamos deslocados do real para o virtual. Somos seres que trafegam simultaneamente em dois mundos: o da realidade de nossas necessidades e o da virtualidade de nossos sonhos e desejos.

Trancados em nossos egos, avessos à sociabilidade, navegamos nas redes sociais que dispensam texto e contexto. Bastam vocábulos desconexos, abreviações, o balbuciar de sinais gráficos que nos conectam com a plateia global que, acomodada no teatro do mundo, desconectada do real, mantém os olhos fixos no palco vazio.

As grandes narrativas são deletadas por esse tempo desprovido de memória e utopia. O passado passou, o futuro é uma quimera... Só resta o presente que se sucede prisioneiro da circularidade infinita.

Ninguém ingressa em uma casa sem antes avisar ou ser convidado, marcar hora, identificar-se com o porteiro e justificar a espera e atenção.

No entanto, centenas de pessoas invadem, pelas redes sociais, o nosso espaço privado, ferem a nossa sensibilidade com ofensas e desaforos, desafiam os nossos valores, jogam-nos na vala comum das emoções cifradas. Tudo se assemelha a um jogo de pingue-pongue com rede, porém sem mesa.

Viciados em digitalização, aprisionados pela tecnologia que assegura retorno imediato ao capital, perdemos horas e horas da vida atirados ao ringue onomatopaico. Não navegamos, naufragamos. Deixamo-nos aprisionar pelas redes que nos favorecem a evasão de privacidade.

Ora, ninguém precisa mais se preocupar em invadir a nossa privacidade. Nós mesmos nos expomos em rede global, arrancamos máscaras e roupas, escancaramos nossa indignação cultural e nossa miséria espiritual.

Como artefato tecnológico, somos também apenas uma forma. Um objeto jogado aleatoriamente no turbulento mar da dessignificação.

Escravos da virtualidade, acorrentados nas redes, não somos mais capazes de desligar o celular e de nos desligar dele. É ele que nos permite olhar o mundo pela janelinha eletrônica dessa prisão em que nos trancamos, cuja chave jogamos nas águas que cercam a ilha na qual nos isolamos, desprovidos de alteridade e sentido.

(Frei Betto. O Globo, 10/08/2015.)

01

O trecho “Agora a alienação já não resulta de ideologias que distorcem a realidade para nos incutir a mentira como verdade.” (4º§) tem mantida a correção gramatical e semântica em:

- A) A alienação, resultado de ideologias que distorcem a realidade, nos incute a mentira como verdade.
- B) Contudo, a alienação já não resulta de ideologias que distorcem a realidade para nos incutir a mentira como verdade.
- C) Agora a alienação ainda não resulta de ideologias que distorcem a realidade para nos incutir a mentira como verdade.
- D) Agora a alienação não é mais resultado de ideologias que distorcem a realidade para nos incutir a mentira como verdade.

02

Em relação ao emprego das vírgulas em “Einstein, que desnudou o mistério do Universo com suas equações, foi sucedido por Steve Jobs, que nos ofereceu maravilhas tecnológicas embaladas de refinamento estético [...]” (3º§) assinale a alternativa correta.

- A) Justifica-se o emprego das vírgulas já que isolam orações adjetivas explicativas.
- B) As orações adverbiais são antepostas à principal, fato que justifica o emprego das vírgulas.
- C) As vírgulas utilizadas separam orações que apenas restringem o sentido do termo ao qual estão relacionadas.
- D) É possível a substituição da vírgula após “equações” pelo ponto final, propiciando construções mais curtas e objetivas.

03

De acordo com o posicionamento assumido pelo autor em relação à temática do texto em análise, é correto afirmar que

- A) a literatura do passado, assim como a arte a ela relacionada, assume seu lugar no mundo tecnológico através de um novo ponto de vista.
- B) vivemos em uma sociedade em que a aparência tem mais valor que o conteúdo real, tal conceito está associado ao avanço tecnológico da era pós-moderna.
- C) o mundo atual adquiriu um novo significado, diferente do anterior, agora os desafios são maiores e mais complexos, há um avanço quanto à valorização do sentido atribuído aos fatos.
- D) assim como no passado, a sociedade tecnológica não precisa atribuir sentido às ações por ela executadas, basta a compreensão da engrenagem pós-moderna e a adequação à atualidade está estabelecida.

04

Em relação ao ponto de vista do conteúdo temático do texto de Frei Betto e da charge a seguir, analise as afirmativas.



(Disponível em: <http://tribunadainternet.com.br/charge-do-alpino-362/>. Acesso em: 08/2015.)

- I. O conteúdo temático do texto e da charge se aproximam ao apresentar, em primeiro plano, modos de comportamento da sociedade atual.
- II. Considerando todo o contexto da charge, pode-se afirmar que apesar do comportamento apresentado estabelecer uma relação de sentido com as ideias apresentadas no texto, a fala do personagem gera um distanciamento do mesmo.
- III. No texto predomina a expressão dos sentimentos do sujeito que fala de si de forma predominante e dá vazão a emoções, o que também pode ser visto na charge como característica, predominante especialmente através da expressão em primeira pessoa “eu adoro”.

Está(ão) correta(s) apenas a(s) afirmativa(s)

- A) I.
- B) III.
- C) I e II.
- D) II e III.

05

A palavra “que” pode ter classificação gramatical diversa de acordo com a frase na qual está inserida. Considerando o 4º parágrafo do texto: “Agora a alienação já não resulta de ideologias que distorcem a realidade para nos inculir a mentira como verdade. Basta que sejamos deslocados do real para o virtual. Somos seres que trafegam simultaneamente em dois mundos: o da realidade de nossas necessidades e o da virtualidade de nossos sonhos e desejos.”, assinale a alternativa correta.

- A) Apenas na última ocorrência da palavra “que” ocorre a classificação de preposição, sendo fundamental para a coesão textual.
- B) As três ocorrências da palavra “que” acompanham substantivo, ou seja, podem ser classificadas como pronome adjetivo.
- C) Apenas duas das três ocorrências da palavra “que” acompanham substantivo sendo classificadas como pronome adjetivo.
- D) Em duas das três ocorrências da palavra “que” ocorre a classificação de pronome relativo substituindo substantivo anteriormente explicitado.

06

Em “A valoração dá lugar à exaltação.” (2º§), o emprego do sinal indicativo de crase justifica-se pelo mesmo motivo de seu emprego em:

- A) Pediram arroz à grega.
- B) Estarei em sua casa à meia-noite.
- C) A referência à ajuda foi feita na reunião.
- D) Às vezes, é preciso ter um pouco de paciência.

07

Sabendo-se que a orientação argumentativa pode realizar-se pelo uso de termos ou expressões metafóricas e condizendo com as características esperadas do tipo textual apresentado, assinale o único trecho selecionado em que o emprego indicado anteriormente **NÃO** pode ser evidenciado.

- A) “*Enxurrada de flashes, vibrações acústicas, sons distorcidos.*” (1º§)
- B) “[...] *desconectada do real, mantém os olhos fixos no palco vazio.*” (5º§)
- C) “[...] *marcar hora, identificar-se com o porteiro e justificar a espera e atenção.*” (7º§)
- D) “[...] *desafiam os nossos valores, jogam-nos na vala comum das emoções cifradas.*” (8º§)

08

As palavras assumem significados diferenciados de acordo com o contexto no qual estão inseridas; dentre os vocábulos destacados a seguir, assinale o significado atribuído de forma **INCORRETA**.

- A) “o futuro é uma quimera” (6º§) / utopia
- B) “digitalização frenética” (2º§) / agitada
- C) “evasão de privacidade” (9º§) / imposição
- D) “incutir a mentira como verdade” (4º§) / introduzir

09

Quanto às estratégias de referenciação, pode-se afirmar que referentes já existentes podem ser modificados ou expandidos de acordo com as informações textuais apresentadas. Dentre os termos (expressões) destacados a seguir, pode-se indicar como elementos anafóricos, de papel relevante na construção da coesão e coerência textuais, **EXCETO**:

- A) “de nos desligar dele” (12º§)
- B) “a ilha na qual nos isolamos” (12º§)
- C) “ultrapassa a arte que ele produz” (2º§)
- D) “Tudo é simuladamente aqui e agora” (1º§)

10

De acordo com as características textuais apresentadas é correto afirmar que o texto tem como principal objetivo

- A) relatar processos de evolução da sociedade em relação à tecnologia atual.
- B) discutir acerca do comportamento da sociedade atual diante de determinada tecnologia.
- C) argumentar sobre a necessária adequação ao comportamento social visto em redes virtuais.
- D) fornecer informações acerca das redes sociais de modo a propiciar ao leitor o seu uso consciente.

RACIOCÍNIO LÓGICO

11

Em um restaurante os alimentos são servidos em turnos a cada 20 minutos. Com relação a esses turnos, sabe-se que:

- os turnos começam às 11h00min e acabam às 14h00min;
- a quantidade de alimentos servidos, em quilogramas, é dada pela função $f(x) = ax^2 + bx + c$ na qual “x” representa um turno, ou seja, se $x = 0$, então são 11h00min, se $x = 1$, então são 11h20min, e assim sucessivamente;
- às 13h00min a quantidade de alimentos servidos no turno em questão foi 22 kg;
- às 12h00min a quantidade de alimentos servidos no turno em questão foi 25 kg; e,
- às 13h40min a quantidade de alimentos servidos no turno em questão foi 10 kg.

A quantidade máxima de alimento servido em um turno foi:

- A) 25 kg.
- B) 26 kg.
- C) 28 kg.
- D) 32 kg.

12

Os funcionários de uma vidraçaria produzem atualmente 4.200 peças de vidro diariamente. Se fossem contratados 15 novos funcionários, a produção diária aumentaria para 5.460 peças. O número atual de funcionários dessa vidraçaria é:

- A) 40.
- B) 45.
- C) 50.
- D) 55.


13

Ana guardou seus brinquedos em caixas para serem doados. Na primeira caixa, ela colocou 5 brinquedos; na segunda caixa, ela colocou 9 brinquedos; na terceira, 13 brinquedos; e assim sucessivamente. Sabendo que ao total ela guardou 434 brinquedos, então o número de caixas que Ana usou para guardar os brinquedos foi:

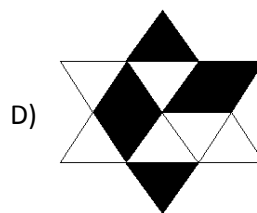
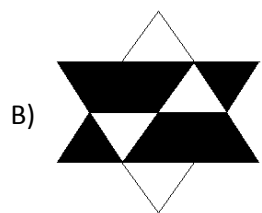
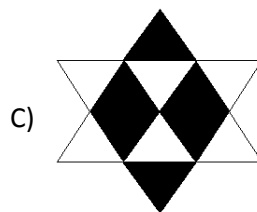
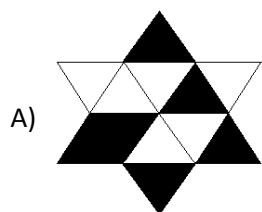
- A) 11.
- B) 12.
- C) 13.
- D) 14.

14

Observe a lógica envolvida nas linhas formadas pelas figuras a seguir:



Das alternativas a seguir a única que substitui o sinal de interrogação, mantendo a lógica da primeira linha na segunda linha, é:



15

Uma loja de condimentos e especiarias disponibiliza para venda 3 tipos de temperos: para carne, para salada e ambos. Sabe-se que em seu estoque encontram-se 220 temperos para salada, 200 temperos para carne e 20 temperos para salada e carne. O número de temperos no estoque dessa loja é:

- A) 380. B) 400. C) 420. D) 440.

CONHECIMENTOS DE INFORMÁTICA

16

“Um usuário possui em seu computador diversos arquivos localizados dentro de um determinado diretório.” Considerando que o usuário dispõe apenas do *prompt* de comandos do MS-DOS e que o diretório em questão encontra-se ativo, o comando utilizado para listar todos os arquivos do diretório de forma pausada para uma melhor visualização é:

- A) cd /s. B) dir /p. C) list /p. D) tree /s.

17

No Sistema Operacional *Microsoft Office Windows 8.1* (Configuração Padrão – Idioma Português Brasil), os comandos utilizados para selecionar todos arquivos de uma janela e copiá-los para memória são, respectivamente:

- A) Ctrl+T / Ctrl+S. B) Ctrl+A / Ctrl+C. C) Ctrl+B / Ctrl+X. D) Ctrl+O / Ctrl+X.

18

Na ferramenta *Microsoft Office Word 2007* (Configuração Padrão – Idioma Português Brasil), as teclas de atalho para selecionar todo o conteúdo e salvar o arquivo são, respectivamente:

- A) Ctrl+A / Ctrl+S. B) Ctrl+L / Ctrl+O. C) Ctrl+T / Ctrl+B. D) Ctrl+R / Ctrl+D.

19

Considere a afirmativa sobre componentes de *hardware* de um computador: “Em um computador o *hardware* responsável pelos cálculos matemáticos, execução de tarefas e processamento de dados denomina-se _____ . O funcionamento deste dispositivo gera muito calor, motivo pelo qual é utilizado o _____ , que tem a função de resfriar este componente”. Assinale a alternativa que completa correta e sequencialmente a afirmativa anterior.

- A) *chipset* / dissipador
 B) processador / *cooler*

- C) disco rígido / exaustor
 D) memória RAM / *chipset*

20

Considere a planilha produzida com a ferramenta *Microsoft Office Excel 2007* (configuração padrão).

	A	B	C	D	E	F	G
1		2012	2013	2014	2015	2016	
2	PRODUTO A	20	30	40	60	90	
3	PRODUTO B	10	4	30	20	1	
4	PRODUTO C	9	26	40	20	8	
5							
6							

Caso seja necessário apresentar na célula A6 o resultado da média de vendas do produto C no período compreendido entre 2013 e 2015 a fórmula utilizada será:

A) =MÉDIA(B4:E4)

B) =MÉDIA(A4:F4)

C) =((C2+D2+E2)/3)

D) =((C4+D4+E4)/3)

CONHECIMENTOS GERAIS

21

“Em meados de maio, uma bomba atingiu o governo. O jornalista Lauro Jardim revelou detalhes de uma delação premiada dos executivos da JBS, maior empresa do ramo alimentício do Brasil e uma das maiores do mundo.” Sabe-se que quando um acusado utiliza do mecanismo da delação premiada pode receber alguns benefícios; analise-os.

- I. Redução de um terço a dois terços do tempo da pena.
 II. Cumprimento da pena em regime semiaberto, no lugar do regime fechado.
 III. A depender do caso, extinção da pena e até mesmo perdão judicial.

Está(ão) correta(s) a(s) afirmativa(s)

- A) I, II e III. B) I, apenas. C) II, apenas. D) II e III, apenas.

22

Com a delação da JBS, ficou incerto o futuro de Temer enquanto presidente. Seu governo pode ser destituído por diversos meios legais. Um deles era a cassação eleitoral, por meio de um processo que corria no Tribunal Superior Eleitoral (TSE) contra ele e sua ex-companheira de chapa, Dilma *Rousseff*. A ação foi movida pelo PSDB, que alegava abuso de poder econômico durante a campanha eleitoral de 2014. No início de junho, deste ano, a decisão do tribunal foi de absolver a chapa: foram 4 votos a favor e 3 contra. No caso da destituição do presidente, com as cadeiras de presidente e vice-presidente sem ocupantes, assumiria, provisoriamente, o presidente do(a):

- A) Câmara dos Senadores. C) Supremo Tribunal Federal.
 B) Câmara dos Deputados. D) Tribunal Superior Eleitoral.

23

A primeira versão da reforma da Previdência Social foi elaborada pelo governo Temer, em dezembro do ano passado. Nos primeiros meses de 2017, a rejeição à proposta foi crescendo e o governo precisou fazer várias concessões. Sobre a nova versão, acerca da aposentadoria elaborada pelo relator em comissão especial, assinale a proposta INCORRETA.

- A) Recuo na idade mínima para mulheres de 60 anos para 66 anos.
 B) Diminuição do tempo de contribuição para aposentadoria integral.
 C) Estabelecimento de um aumento progressivo da idade mínima até 2036.
 D) Manutenção da concessão de idade mínima diferenciada para policiais, professores e trabalhadores rurais.

24

Antes da sanção da nova Lei de Drogas, o país tinha 47 mil presos por tráfico de entorpecentes. Hoje, a cifra chegou a 138 mil – ou um a cada quatro presos. O crescimento de detentos nesse período teria relação com a nova legislação. A nova política de drogas adotada a partir de 2006 trouxe a distinção entre usuário e traficante. Acerca dessa lei, analise as afirmativas a seguir.

- I. O usuário de drogas não poderá ser condenado.
- II. O usuário de drogas poderá ser condenado a penas leves.
- III. O traficante deverá ser condenado de 5 a 15 anos de prisão, mais multa de 500 a 1.500 reais.
- IV. O traficante condenado poderá receber como pena, prestação de serviços comunitários ou medidas educativas.

Estão corretas apenas as afirmativas

- A) I e II.
- B) III e IV.
- C) II e IV.
- D) I, II e III.

25

Quando se busca uma solução para a superpopulação prisional no Brasil, abre-se espaço para discussões sobre a aplicação de penas alternativas à prisão. De acordo com o artigo 44 do Código Penal, as penas restritivas de direitos podem substituir a prisão clássica se a pena for menor do que quatro anos de prisão. Além disso, o crime pelo qual o réu foi condenado não pode ser violento ou de grave ameaça. Também cabem penas alternativas nos casos de crime culposo. Uma das penas alternativas é a prestação pecuniária, que trata-se de:

- A) Confisco de bens e valores do condenado, que são convertidos para o Fundo Penitenciário Nacional.
- B) Suspensão do direito de dirigir, e pode chegar à proibição do condenado frequentar lugares específicos.
- C) Pagamento de um valor em dinheiro à vítima do crime, seus dependentes, ou a uma instituição pública ou privada que vá destinar esse valor ao uso social.
- D) Impedimento do condenado exercer qualquer função, cargo ou a atividade pública, além de qualquer trabalho que dependa de habilitação especial ou autorização.

26

Na cena internacional no mês de junho deste ano, o maior destaque foi para as eleições do parlamento britânico. A disputa foi convocada antecipadamente pela primeira-ministra, *Theresa May*, do partido conservador. *May* tinha como objetivo ampliar sua maioria no parlamento e, assim, ter mais apoio e legitimidade para negociar o famoso *Brexit*. O *Brexit* no parlamento britânico trata-se de:

- A) Eleições no Reino Unido.
- B) Apoio do Reino Unido à União Europeia.
- C) Renúncia da primeira-ministra britânica.
- D) Saída do Reino Unido da União Europeia.

27

Uma PEC que acaba com o foro privilegiado em caso de crimes comuns foi aprovada pelo Senado Federal em segundo turno, no dia 31 de maio passado. Se aprovada, a proposta limita a prerrogativa de foro apenas a casos que ocorram durante o mandato do político e que tenham relação com as suas funções. Sobre o foro privilegiado, assinale a afirmativa INCORRETA.

- A) A autoridade pública deixa de ter direito a foro especial assim que deixa sua função pública.
- B) Trata-se de uma ação penal contra uma autoridade pública julgada por tribunais superiores.
- C) O presidente e os desembargadores eleitos pelo voto direto são os únicos que possuem o foro privilegiado.
- D) Governadores são julgados pelo Superior Tribunal de Justiça e prefeitos são julgados pelos Tribunais de Justiça Estaduais.

28

Março de 2011 na Síria: um grupo de crianças em *Daraa*, no sul da Síria, pichou frases com críticas ao governo e foi preso. Inconformadas, centenas de pessoas saíram às ruas da cidade para protestar contra as restrições à liberdade promovidas pelo governo do ditador *Bashar al-Assad*. Num primeiro momento, simpatizantes dos que se rebelaram contra o governo começaram a pegar em armas – primeiro para se defender e depois para expulsar as forças de segurança de suas regiões. Esse levante de pessoas nas ruas, lutando por democracia, faz parte de um movimento chamado:

- A) Primavera Árabe.
- B) Supremacia Árabe.
- C) Pátria Basca e Liberdade.
- D) Movimento da Resistência Islâmica.

29

O assassinato praticado a uma mulher por motivações de sentimento de posse e controle do seu corpo, limitação da sua emancipação profissional, econômica, social ou intelectual, ou manifestações de ódio e desprezo pela sua condição de gênero foi considerado como crime hediondo, através da implementação da Lei nº 13.104/2015 durante o governo da presidente Dilma Rouseff. Essa lei é conhecida como:

- A) Do feminicídio. C) Do assédio sexual.
B) Maria da Penha. D) Da convenção interamericana.

30

Uma das principais reivindicações do movimento feminista tem sido a descriminalização do aborto, pautada no movimento feminista como a tomada do direito ao próprio corpo. Na legislação brasileira, o aborto é permitido:

- I. Em casos de estupro.
II. Quando há risco de morte da gestante.
III. Quando o feto apresenta anomalias físicas ou mentais irreversíveis.
IV. Quando a mãe não deseja prosseguir a gravidez por motivos pessoais.

Estão corretas as afirmativas

- A) I, II, III e IV. B) I e III, apenas. C) III e IV, apenas. D) I, II e III, apenas.

CONHECIMENTOS ESPECÍFICOS

31

São sintomas comuns após ingerir alimento contaminado com *Staphylococcus aureus*:

- A) Cólicas abdominais, febre, diarreia, fezes com muco e sangue após 24 a 72 horas do consumo do alimento.
B) Náusea e vômito, cólicas abdominais, abatimento sem febre e, em alguns casos, diarreia após 2 a 4 horas (podendo variar de 1 a 8 horas).
C) Dores abdominais, diarreia, calafrios, náusea e vômito, abatimento com febre 18 a 36 horas (podendo variar de 6 a 72 horas) após o consumo do alimento.
D) Tontura, visão dupla ou turva, boca seca, dificuldade para falar, engolir e andar. Esses sintomas aparecem entre 18 e 36 horas (podendo variar de 2 horas a 8 dias). A morte pode ocorrer por parada respiratória.

32

A Lei nº 6.360, de 23 de setembro de 1976, dispõe sobre a Vigilância Sanitária a que ficam sujeitos os medicamentos, as drogas, os insumos farmacêuticos e correlatos, cosméticos, saneantes e outros produtos, e dá outras Providências. Essa Lei estabelece critérios relativos à responsabilidade técnica desses produtos. De acordo com o exposto, assinale a alternativa INCORRETA.

- A) A responsabilidade técnica cessa, imediatamente, ao final do contrato do profissional, assumindo esta o novo contratado.
B) Caberá ao responsável técnico elaborar o relatório a ser apresentado ao Ministério da Saúde, para fins de registro do produto, e dar assistência técnica efetiva ao setor sob sua responsabilidade profissional.
C) As empresas que exerçam as atividades previstas nesta Lei ficam obrigadas a manter responsáveis técnicos legalmente habilitados suficientes, qualitativa e quantitativamente, para a adequada cobertura das diversas espécies de produção, em cada estabelecimento.
D) Independentemente de outras cominações legais, inclusive penais, de que sejam passíveis os responsáveis técnicos e administrativos, a empresa responderá administrativa e civilmente por infração sanitária resultante da inobservância desta Lei e de seus regulamentos e demais normas complementares.

33

São mecanismos de controle do *Aedes sp.*, EXCETO:

- A) Químico. B) Biológico. C) Mecânico. D) Físico-ultrassom.

34

Segundo a legislação, o responsável pelas atividades de manipulação dos alimentos deve ser comprovadamente submetido a curso de capacitação, abordando, no mínimo, os seguintes temas:

- A) Boas práticas. C) Manipulação higiênica dos alimentos.
B) Doenças transmitidas por alimentos. D) Práticas de segurança e combate a incêndios.

35

Sobre a exposição ao consumo do alimento preparado, assinale a afirmativa INCORRETA.

- A) Os manipuladores devem adotar procedimentos que minimizem o risco de contaminação dos alimentos preparados por meio da antissepsia das mãos e pelo uso de utensílios ou luvas descartáveis.
- B) Os utensílios utilizados na consumação do alimento, tais como pratos, copos, talheres, devem ser de material não descartável, devidamente higienizados, sendo armazenados em local protegido.
- C) O equipamento de exposição do alimento preparado na área de consumação deve dispor de barreiras de proteção que previnam a contaminação do mesmo em decorrência da proximidade ou da ação do consumidor e de outras fontes.
- D) Os equipamentos, necessários à exposição ou distribuição de alimentos preparados sob temperaturas controladas, devem ser devidamente dimensionados, e estar em adequado estado de higiene, conservação e funcionamento. A temperatura desses equipamentos deve ser regularmente monitorada.

36

A RDC nº 14, de 28 de março de 2014, que dispõe sobre matérias estranhas macroscópicas e microscópicas em alimentos e bebidas, seus limites de tolerância e dá outras providências, são conceitos de matéria estranha, EXCETO:

- A) Matérias estranhas inevitáveis: são aquelas que ocorrem no alimento mesmo com a aplicação das boas práticas.
- B) Matérias estranhas microscópicas: são aquelas detectadas com auxílio de instrumentos ópticos, com aumento mínimo de 30 vezes.
- C) Matérias estranhas macroscópicas: são aquelas detectadas por observação direta (olho nu), podendo ser confirmadas com auxílio de instrumentos ópticos.
- D) Matéria estranha: qualquer material não constituinte do produto associado a condições ou práticas inadequadas na produção, manipulação, armazenamento ou distribuição e que ocorrem no alimento mesmo com a aplicação de boas práticas.

37

Existem vários mecanismos patogênicos envolvidos com a determinação das Doenças Transmitidas por Alimentos (DTAs). Segundo o Manual Integrado de Vigilância, Prevenção e Controle de Doenças Transmitidas por Alimentos do Ministério da Saúde, de forma simplificada, pode-se agrupar as DTAs nas seguintes categorias, EXCETO:

- A) Toxinfecções: são causadas por micro-organismos toxigênicos, cujo quadro clínico é provocado por toxinas liberadas quando estes se multiplicam, esporulam ou sofrem lise na luz intestinal. Essas toxinas atuam nos mecanismos de secreção/absorção da mucosa do intestino. As infecções por *Escherichia coli* enterotoxigênica, *Vibrio cholerae*, *Vibrio parahaemolyticus*, *Clostridium perfringens* e *Bacillus cereus* (cepa diarreica) são exemplos clássicos. Normalmente, a diarreia, nestes casos, é intensa, sem sangue ou leucócitos, febre discreta ou ausente, sendo comum a desidratação.
- B) Intoxicações: são provocadas pela ingestão de toxinas formadas em decorrência da intensa proliferação do micro-organismo patogênico no alimento. Os mecanismos de ação dessas toxinas em humanos não estão bem esclarecidos. Observações em animais sugerem alterações na permeabilidade vascular e inibição da absorção de água e sódio levando às diarreias. Os vômitos possivelmente estão associados a uma ação das toxinas sobre o sistema nervoso central. Exemplos clássicos deste processo são as intoxicações causadas por *Staphylococcus aureus*, *Bacillus cereus* (cepa emética) e *Clostridium botulinum*.
- C) Intoxicações não bacterianas: quando outros agentes não bacterianos estão envolvidos com DTA, como nas intoxicações por metais pesados, agrotóxicos, fungos silvestres, plantas e animais tóxicos (como exemplos: moluscos, peixes). Os mecanismos fisiopatológicos são variáveis, envolvendo ação química direta do próprio agente sobre tecidos ou órgãos específicos ou a ação de amins biogênicas presentes no alimento tóxico. A ação mecânica da *Giardia lamblia* deve-se à aderência do parasita à mucosa intestinal, impedindo a absorção das gorduras, levando a diarreias persistentes. A irritação superficial da mucosa também agrava condições patológicas coexistentes.
- D) Infecções: são causadas pela ingestão de micro-organismos patogênicos, denominados invasivos, com capacidade de penetrar e invadir tecidos, originando quadro clínico característico como as infecções por *Escherichia coli* enterotoxigênica, *Vibrio cholerae*, *Vibrio parahaemolyticus*, *Clostridium perfringens* e *Bacillus cereus* (cepa diarreica). Estes quadros geralmente são associados a diarreias frequentes, mas não volumosas, contendo sangue e pus, dores abdominais intensas, febre e desidratação leve, sugerindo infecção do intestino grosso por bactérias invasivas. Agentes virais, protozoários e helmintos também estão envolvidos com DTA, cujo mecanismo de ação é a invasão tecidual, embora o quadro clínico geralmente não tenha as mesmas características discutidas anteriormente.

38

São limites de tolerância para matérias estranhas, exceto ácaros, por grupos de alimentos. Nesse sentido, assinale a alternativa INCORRETA.

- A) Chá de boldo – fragmentos de pelo de roedor – não permitido.
- B) Alimentos em geral – areia – 1,5% de areia ou cinzas insolúveis em ácido.
- C) Chocolate e produtos achocolatados – fragmentos de pelo de roedor – 1 em 100 g.
- D) Café torrado e moído – fragmentos de insetos indicativos de falhas das boas práticas (não considerados indicativos de risco) – 60 em 25 g.

39

Sobre doenças de notificação compulsória segundo a ANVISA, assinale a afirmativa INCORRETA.

- A) É vedado aos gestores estaduais e municipais do SUS a exclusão de doenças, agravos e eventos constantes nos Anexos a Portaria nº 104, de 25 janeiro de 2011, bem como a elaboração de listas estaduais ou municipais de Notificação Compulsória.
- B) Os casos de esquistossomose nas áreas endêmicas serão registrados no Sistema de Informação do Programa de Vigilância e Controle da Esquistossomose – SISPCE e os casos de formas graves deverão ser registrados no Sinan, sendo que, nas áreas não endêmicas, todos os casos devem ser registrados no Sinan.
- C) A notificação compulsória é obrigatória a todos os profissionais de saúde: médicos, enfermeiros, odontólogos, médicos veterinários, biólogos, biomédicos, farmacêuticos e outros no exercício da profissão, bem como os responsáveis por organizações e estabelecimentos públicos e particulares de saúde e de ensino, em conformidade com os Arts. 7º e 8º, da Lei nº 6.259, de 30 de outubro de 1975.
- D) Emergência de Saúde Pública de Importância Nacional – ESPIN: é um evento que apresente risco de propagação ou disseminação de doenças para mais de uma Unidade Federada – Estados e Distrito Federal – com priorização das doenças de notificação imediata e outros eventos de saúde pública, independentemente da natureza ou origem, depois de avaliação de risco, e que possa necessitar de resposta nacional imediata.

40

Comunicar ao Conselho Regional, com discricção e de forma fundamentada, qualquer fato de que tenha conhecimento, o qual possa caracterizar infração ao código de ética e às demais normas e leis que regem o exercício da Medicina Veterinária, é obrigação do médico veterinário. Para tanto, é necessário conhecer as normas que regem a profissão. Nesse contexto, é INCORRETO afirmar que:

- A) A granja de produção comercial, quando constituída na forma de pessoa física, será cadastrada no CRMV da respectiva jurisdição, através do CPF do produtor, sendo atribuído a ele um número de registro de produtor rural.
- B) As pessoas jurídicas que prestam serviços de estética, banho e tosa, cuja atividade básica não exija o registro no Sistema CFMV/CRMVs, são obrigadas a fazer prova de que têm a seu serviço médico veterinário, registrando o contrato perante o CRMV da jurisdição de seu domicílio.
- C) A responsabilidade técnica pelos laboratórios, exames laboratoriais e emissão de laudos necessários ao exercício da medicina veterinária deve ser exercida por profissional médico veterinário, regularmente inscrito no Conselho Regional da sua área de atuação. No caso da não existência de laboratório médico veterinário no Município, fica autorizado o uso de laboratório humano.
- D) Com relação aos animais submetidos a procedimentos de higiene e estética, o responsável técnico pelo serviço deve supervisionar a elaboração de manual de boas práticas que contemple as necessidades básicas das espécies em questão e de instrumento de registro e acompanhamento das atividades desenvolvidas, observadas as exigências contidas nos manuais de responsabilidade técnica dos respectivos CRMVs.

ATENÇÃO



NÃO É PERMITIDA a anotação das respostas da prova em QUALQUER MEIO. O candidato flagrado nesta conduta poderá ser ELIMINADO do processo.

INSTRUÇÕES

1. Material a ser utilizado: caneta esferográfica de tinta azul ou preta, feita de material transparente e de ponta grossa. Os objetos restantes devem ser colocados em local indicado pelo fiscal da sala, inclusive aparelho celular desligado e devidamente identificado.
2. Não será permitida, durante a realização das provas, a comunicação entre os candidatos nem a utilização de máquinas calculadoras e/ou similares, livros, anotações, impressos ou qualquer outro material de consulta, protetor auricular, lápis, borracha ou corretivo. Especificamente, não será permitido o candidato ingressar na sala de provas sem o devido recolhimento, com respectiva identificação, dos seguintes equipamentos: *bip*, telefone celular, *walkman*, agenda eletrônica, *notebook*, *palmtop*, *ipod*, *ipad*, *tablet*, *smartphone*, mp3, mp4, receptor, gravador, máquina de calcular, máquina fotográfica, controle de alarme de carro, relógio de qualquer modelo e etc. Não será permitido ao candidato realizar anotação de informações relativas às suas respostas no comprovante de inscrição ou em qualquer outro meio.
3. Durante a prova, o candidato não deve levantar-se, comunicar-se com outros candidatos e fumar.
4. A duração da prova é de 03 (três) horas, já incluindo o tempo destinado à entrega do Caderno de Provas e à identificação – que será feita no decorrer da prova – e ao preenchimento do Cartão de Respostas (Gabarito).
5. Com vistas à garantia da segurança e lisura desse certame, os candidatos serão submetidos ao sistema de detecção de metais quando do ingresso e saída de sanitários. Excepcionalmente poderão ser realizados, a qualquer tempo durante a realização das provas, outros procedimentos de vistoria além do descrito. Ao término da prova o candidato deverá se retirar do recinto de aplicação, não lhe sendo mais permitido o ingresso nos sanitários.
6. O Caderno de Provas consta de 30 (trinta) questões para os cargos de nível fundamental completo e incompleto e 40 (quarenta) questões para os demais cargos. Leia-o atentamente.
7. **As questões das provas objetivas são do tipo múltipla escolha, com 04 (quatro) opções (A a D) e uma única resposta correta.**
8. Ao receber o material de realização das provas, o candidato deverá conferir atentamente se o Caderno de Provas corresponde ao cargo a que está concorrendo, bem como se os dados constantes no Cartão de Respostas (Gabarito) que lhe foi fornecido estão corretos. Caso os dados estejam incorretos, ou o material esteja incompleto, ou tenha qualquer imperfeição, o candidato deverá informar tal ocorrência ao fiscal.
9. Os fiscais não estão autorizados a emitir opinião e prestar esclarecimentos sobre o conteúdo das provas. Cabe única e exclusivamente ao candidato interpretar e decidir.
10. O candidato somente poderá retirar-se do local de realização das provas escritas levando o Caderno de Provas no decurso dos últimos 30 (trinta) minutos anteriores ao horário previsto para o seu término. O candidato, também, poderá retirar-se do local de provas somente a partir dos 90 (noventa) minutos após o início de sua realização, contudo não poderá levar consigo o Caderno de Provas.
11. Os 3 (três) últimos candidatos de cada sala somente poderão sair juntos. Caso algum destes candidatos insista em sair do local de aplicação antes de autorizado pelo fiscal de aplicação, será lavrado Termo de Ocorrência, assinado pelo candidato e testemunhado pelos 2 (dois) outros candidatos, pelo fiscal de aplicação da sala e pelo Coordenador da Unidade de provas, para posterior análise pela Comissão de Acompanhamento do Concurso.

RESULTADOS E RECURSOS

- Os gabaritos oficiais preliminares das provas objetivas serão divulgados na *internet*, no endereço eletrônico www.idecan.org.br, a partir das 16h00min do dia subsequente ao da realização das provas.
- O candidato que desejar interpor recursos contra os gabaritos oficiais preliminares das provas objetivas disporá de 3 (três) dias úteis, a partir do dia subsequente à divulgação, em requerimento próprio disponibilizado no *link* correlato ao Concurso Público no endereço eletrônico www.idecan.org.br.
- A interposição de recursos poderá ser feita via *internet*, através do Sistema Eletrônico de Interposição de Recursos, com acesso pelo candidato ao fornecer dados referentes à sua inscrição apenas no prazo recursal, ao IDECAN, conforme disposições contidas no endereço eletrônico www.idecan.org.br, no *link* correspondente ao Concurso Público. Será disponibilizado um ponto de acesso à *internet* para o candidato na sede da Prefeitura Municipal de Manhumirim, na Rua Roque Porcaro Júnior, 181, Centro – Manhumirim – MG, nos horários de 09h00min às 11h00min e de 13h00min às 16h00min.