



PREFEITURA MUNICIPAL DE DOIS CÓRREGOS

ESTADO DE SÃO PAULO

CONCURSO PÚBLICO

011. PROVA OBJETIVA

FONOAUDIÓLOGO

(CÓD. 015)

- ◆ Você recebeu sua folha de respostas e este caderno contendo 60 questões objetivas.
- ◆ Confira seus dados impressos na capa deste caderno e na folha de respostas.
- ◆ Quando for permitido abrir o caderno, verifique se está completo ou se apresenta imperfeições. Caso haja algum problema, informe ao fiscal da sala.
- ◆ Leia cuidadosamente todas as questões e escolha a resposta que você considera correta.
- ◆ Marque, na folha de respostas, com caneta de tinta preta, a letra correspondente à alternativa que você escolheu.
- ◆ A duração da prova é de 3 horas e 30 minutos, já incluído o tempo para o preenchimento da folha de respostas.
- ◆ Só será permitida a saída definitiva da sala e do prédio após transcorridos 75% do tempo de duração da prova.
- ◆ Deverão permanecer em cada uma das salas de prova os 3 últimos candidatos, até que o último deles entregue sua prova, assinando termo respectivo.
- ◆ Ao sair, você entregará ao fiscal a folha de respostas e este caderno, podendo levar apenas o rascunho de gabarito, localizado em sua carteira, para futura conferência.
- ◆ Até que você saia do prédio, todas as proibições e orientações continuam válidas.

AGUARDE A ORDEM DO FISCAL PARA ABRIR ESTE CADERNO DE QUESTÕES.

Nome do candidato _____

RG _____

Inscrição _____

Prédio _____

Sala _____

Carteira _____

CONHECIMENTOS GERAIS

LÍNGUA PORTUGUESA

01. Leia a tira.



(Chargista Duke. Em: www.otempo.com.br)

* coach: treinador.

Com sua fala, a personagem

- (A) diverte-se, usando um termo desconhecido de ambos.
- (B) ofende o interlocutor, que o ignora.
- (C) brinca com a sua própria condição de vida.
- (D) oferece uma ajuda ao transeunte.
- (E) repreende o interlocutor, julgando-o como mendigo também.

Leia o texto para responder às questões de números **02 a 10**.

Meu endereço: a calçada

Onde vou dormir hoje à noite? Essa tem sido a minha preocupação diária no último ano. Sou formada em letras – falo inglês e francês –, tenho duas filhas e fui casada com o pai delas por vinte anos. Uma série de acontecimentos, porém, me fez virar moradora de rua. E foi essa situação que me levou a trabalhar numa área da prefeitura paulistana que atende pessoas na Cracolândia.

Acabei na rua principalmente por causa dos problemas que eu tinha com meu ex-marido. Vivi um relacionamento abusivo. As agressões não eram físicas, mas verbais, psicológicas e, digamos assim, patrimoniais. Em qualquer discussão, ele me xingava e me ameaçava, dizendo que iria tirar minhas filhas. Eu me sentia presa ao casamento não só pelas meninas – que hoje têm 18 e 13 anos de idade –, mas também pelo fato de meu marido ser o provedor da casa.

Foi em dezembro que eu soube que havia uma vaga na Secretaria Municipal de Direitos Humanos para um cargo comissionado responsável pela intermediação entre os serviços públicos e os moradores de rua. Imaginava que não teria chance alguma, no entanto, me candidatei. Para minha surpresa, fui selecionada – e deparei com outra dificuldade. Não conseguiria abrir conta-salário em um banco, nem sequer começar no emprego se não comprovasse endereço. E eu não tinha. Inventei, então, um para mim: Avenida Duque de Caxias, 367. No complemento, inseri: “Calçada”. Depois de explicar a situação, acabei aceita.

Quando dei início ao meu trabalho, ganhei reconhecimento de estranhos. Minha família, porém, tem dificuldade de me aceitar e, em especial, ao meu novo companheiro. Mas estou em processo de transição e atualmente durmo em um centro de acolhida. Eu e o Fábio agora batalhamos para ter o nosso teto.

(Depoimento de Eliana Toscano dado a Jennifer Ann Thomas. Veja, 19.06.2019. Adaptado)

02. O relato traz informações que permitem concluir que

- (A) o fato de ter-se tornado moradora de rua inicialmente foi considerado um problema de difícil resolução para Eliana, mas, após conseguir uma vaga na Secretaria Municipal de Direitos Humanos, ela acabou encontrando um novo companheiro e foi aceita pela família.
- (B) a condição de moradora de rua facilitou a Eliana conseguir uma vaga na Secretaria Municipal de Direitos Humanos, considerando-se que a situação de vulnerabilidade que ela vivia permitiu-lhe conhecer mais a fundo os problemas das pessoas.
- (C) o relacionamento abusivo vivido por Eliana a fez abandonar marido e filhas e desacreditar nas relações afetivas, tendo-lhe causado dificuldades para organizar sua vida profissional, sobretudo quando pleiteou uma vaga na Secretaria Municipal de Direitos Humanos.
- (D) a situação de relacionamento abusivo levou Eliana a abandonar o casamento depois de vinte anos e tornar-se uma moradora de rua, o que ela pensava ser um impeditivo para conseguir uma vaga de trabalho na Secretaria Municipal de Direitos Humanos.
- (E) Eliana, que contornou os problemas decorrentes do relacionamento abusivo de vinte anos, enfrenta dificuldades para ser aceita pela família que, além de condenar seu novo relacionamento, acha ruim que tenha conseguido uma vaga na Secretaria Municipal de Direitos Humanos.

03. De acordo com o texto, no casamento de Eliana, os momentos de discussão davam espaço para

- (A) o marido tentar mostrar-lhe que ela era livre e poderia deixá-lo a qualquer momento.
- (B) ela ponderar e perceber que poderia contornar sem grandes embates os problemas.
- (C) o casal reiterar o desinteresse mútuo e promover um jogo de forças para ver quem venceria.
- (D) o marido subjugar-lhe, valendo-se de coação e de sua condição de provedor do lar.
- (E) ela reconhecer que não lhe era vantajoso ficar com o marido, nem por suas filhas.

04. Considere as passagens:

- Acabei na rua **principalmente** por causa dos problemas que eu tinha com meu ex-marido. (2º parágrafo)
- Quando dei início ao meu trabalho, ganhei **reconhecimento** de estranhos. (4º parágrafo)
- Mas estou em processo de **transição** e atualmente durmo em um centro de acolhida. (4º parágrafo)

Os termos destacados significam, correta e respectivamente:

- (A) especialmente; aceitação; mudança.
- (B) certamente; gratidão; interiorização.
- (C) eventualmente; elogio; diferenciação.
- (D) basicamente; legitimidade; transformação.
- (E) fundamentalmente; recompensa; conhecimento.

05. Há termo empregado em sentido figurado na passagem:

- (A) Essa tem sido a minha preocupação diária no último ano.
- (B) Uma série de acontecimentos, porém, me fez virar moradora de rua.
- (C) Foi em dezembro que eu soube que havia uma vaga na Secretaria Municipal...
- (D) Para minha surpresa, fui selecionada – e deparei com outra dificuldade.
- (E) Eu e o Fábio agora batalhamos para ter o nosso teto.

06. Assinale a alternativa em que o primeiro período contém conjunção que expressa sentido de oposição entre as orações e o segundo período contém conjunção que expressa sentido de adição entre as orações.

- (A) Não conseguiria abrir conta-salário em um banco, [...] se não comprovasse endereço. / E eu não tinha. Inventei, então, um para mim...
- (B) ... ganhei reconhecimento de estranhos. Minha família, porém, tem dificuldade de me aceitar... / Eu me sentia presa ao casamento não só pelas meninas [...], mas também pelo fato de meu marido ser o provedor da casa.
- (C) ... tenho duas filhas e fui casada com o pai delas por vinte anos. / Uma série de acontecimentos, porém, me fez virar moradora de rua.
- (D) Depois de explicar a situação, acabei aceita. / E foi essa situação que me levou a trabalhar numa área da prefeitura paulistana...
- (E) Imaginava que não teria chance alguma, no entanto, me candidatei. / Quando dei início ao meu trabalho, ganhei reconhecimento de estranhos.

07. Assinale a alternativa que atende à norma-padrão quanto à concordância verbal e ao emprego de pronomes.

- (A) Como havia problemas entre mim e meu marido, acabei na rua.
- (B) Haviam muitos problemas entre eu e meu marido, por isso acabei na rua.
- (C) Eu acabei na rua, pois existia entre mim e meu marido muitos problemas.
- (D) Foi as agressões verbais, psicológicas e patrimoniais entre eu e meu marido que me levou a morar na rua.
- (E) Os problemas surgidos entre eu e meu marido fez com que eu acabasse na rua.

08. Assinale a alternativa em que o enunciado está em conformidade com a norma-padrão de regência.

- (A) Quem ia na Avenida Duque de Caxias, 367 encontrava Eliana na calçada.
- (B) Devido os problemas com o ex-marido, Eliana acabou morando na rua.
- (C) Depois de tudo que viveram, Eliana e Fábio anseiam pelo próprio teto.
- (D) Eliana estava certa que não teria chance com a vaga, embora apta nela.
- (E) A família de Eliana ainda faz objeção em seu novo companheiro.

09. No período – Imaginava que não **teria** chance alguma, no entanto, me **candidatei**. –, as formas verbais destacadas expressam, correta e respectivamente, sentido de:

- (A) ação concluída e ação contínua.
- (B) hipótese e ação concluída.
- (C) ação contínua e ação concluída.
- (D) hipótese e ação contínua.
- (E) ação prospectiva e hipótese.

10. Assinale a alternativa que atende à norma-padrão quanto ao uso do acento indicativo da crase e à colocação pronominal.

- (A) Fui trabalhar numa área da prefeitura paulistana que atende pessoas na Cracolândia devido à essa situação que fez-me virar moradora de rua.
- (B) Acabei chegando à rua, onde livre-me do relacionamento abusivo com meu ex-marido e consegui, tempos depois, um emprego na Prefeitura.
- (C) Me candidatei à uma vaga na Secretaria Municipal de Direitos Humanos para um cargo comissionado, mas imaginava que não teria chance alguma.
- (D) As agressões dirigidas à mim não eram físicas, mas verbais, psicológicas e, digamos assim, patrimoniais, mas ainda assim sentia-me presa ao casamento.
- (E) Agora me vejo reconhecida por estranhos, mas minha família ainda se opõe à minha condição e, em especial, ao Fábio, o meu novo companheiro.

11. Para diluir um produto concentrado, são recomendados 1,5 L de água para cada 300 mL desse produto. Precisando-se preparar 4,2 L da mistura, ou seja, produto concentrado mais água, o volume de água necessário, obedecendo à recomendação, será de
- (A) 3,10 L.
 - (B) 3,36 L.
 - (C) 3,50 L.
 - (D) 3,64 L.
 - (E) 3,90 L.
12. Juntando-se todas as notas de R\$ 20,00 e de R\$ 50,00 que tenho, tem-se um total de R\$ 490,00. Se a quantidade de notas de R\$ 20,00 excede em 7 unidades a quantidade de notas de R\$ 50,00, então é verdade que o número total de notas que tenho é
- (A) 11.
 - (B) 13.
 - (C) 15.
 - (D) 17.
 - (E) 19.
13. Em determinada rua, a razão entre os números de moradores não vacinados contra o sarampo e de moradores vacinados contra o sarampo é $\frac{2}{3}$. Se 100 moradores ainda não foram vacinados, então é correto afirmar que o número total de moradores, nessa rua, é igual a
- (A) 250.
 - (B) 240.
 - (C) 230.
 - (D) 220.
 - (E) 210.
14. Um supermercado faz a seguinte promoção: na compra da segunda unidade de um mesmo produto, você paga nessa segunda unidade a metade do preço. Se uma pessoa compra 2 unidades de um mesmo produto da promoção, então o desconto total que ela terá nessa compra, comparado ao valor total que seria pago, caso não houvesse a promoção, seria de
- (A) 45%
 - (B) 40%
 - (C) 35%
 - (D) 30%
 - (E) 25%

15. Uma determinada quantia, em dinheiro, foi dividida pelo avô para os seus três netos. Artur recebeu $\frac{2}{5}$ do total di-

vidido, e Ricardo recebeu a terça parte do valor recebido por Artur. Sabendo-se que Mônica recebeu o restante da quantia, é correto afirmar que o valor por ela recebido corresponde, da quantia total dividida, a

(A) $\frac{4}{15}$

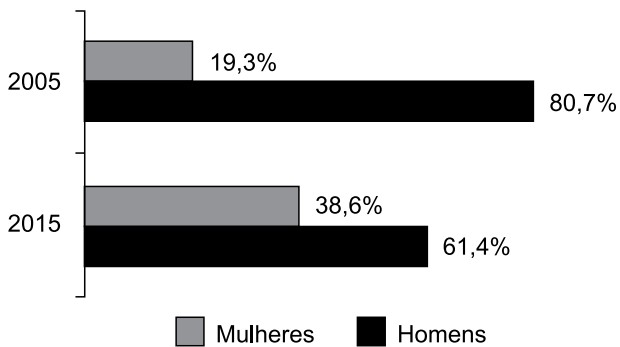
(B) $\frac{1}{3}$

(C) $\frac{2}{5}$

(D) $\frac{7}{15}$

(E) $\frac{8}{15}$

16. O gráfico apresenta a distribuição do número total de casos de determinada doença, em homens e mulheres, nos anos de 2005 e 2015.



Com base nas informações apresentadas, assinale a alternativa que contém uma afirmação necessariamente verdadeira.

- (A) De 2005 para 2015, o número de casos da doença, em homens, diminuiu.
- (B) No caso das mulheres, o número de casos da doença dobrou, de 2005 para 2015.
- (C) Em 2005, o número de mulheres com a doença correspondia, aproximadamente, à quarta parte do número de homens com a doença.
- (D) Em 2015, o número de homens com a doença era 22,8% maior que o número de mulheres com a doença.
- (E) O número de casos da doença, em 2015, foi igual ao número de casos da doença, em 2005.

17. Uma caixa d'água com formato interno de cubo e arestas medindo 1 m, está totalmente cheia, e toda a água contida nessa caixa vai ser distribuída, sem desperdício, em caixas d'água no formato interno de paralelepípedo reto retangular, todas iguais, de dimensões 30 cm, 40 cm e 50 cm. O menor número de caixas d'água no formato de paralelepípedo que será necessário para que essa divisão seja feita é igual a
- (A) 15.
(B) 16.
(C) 17.
(D) 18.
(E) 19.
18. A média aritmética simples das idades de três amigos é 27 anos. A idade do amigo mais velho é 1 ano a mais que o dobro da idade do amigo mais novo, e a idade do amigo que nasceu entre os nascimentos dos amigos mais novo e mais velho é 11 anos a menos que a idade do amigo mais velho. Sendo assim, a idade do amigo mais velho é
- (A) 39 anos.
(B) 37 anos.
(C) 35 anos.
(D) 33 anos.
(E) 31 anos.
19. Duzentas unidades de um produto foram totalmente vendidas no prazo de dois dias. No segundo dia, cada unidade dele foi vendida a R\$ 50,00, e o valor total arrecadado com as vendas foi maior em R\$ 1.200,00, em comparação ao valor total arrecadado com as vendas do dia anterior, em que o produto foi vendido a R\$ 60,00 a unidade. A quantidade de unidades vendidas no segundo dia foi igual a
- (A) 100.
(B) 105.
(C) 110.
(D) 115.
(E) 120.
20. Ao ser modelada e resolvida uma situação real, chegou-se à conclusão que $y = 64^{1,5}$. Sendo assim, o valor de y é
- (A) 1024.
(B) 512.
(C) 256.
(D) 96.
(E) 72.

21. Quatro anos e três meses depois de ter sido preso, o empresário Marcelo Odebrecht na tarde desta quinta-feira (12) retornou à empresa que presidiu por sete anos. Ele conseguiu progredir de regime e saiu nesta quinta da prisão domiciliar, que cumpria desde dezembro de 2017.

(<https://glo.bo/2lRIPXm>_Publicado em 12.09.2019)

Sobre o referido empresário, é correto afirmar que é

- (A) o principal herdeiro do grupo Odebrecht e envolveu-se no escândalo da venda da refinaria de Pasadena.
- (B) um importante doleiro e único herdeiro da construtora Odebrecht e foi preso em decorrência de crimes ligados à lavagem de dinheiro.
- (C) um importante empresário ligado à exportação de commodities e acusado de manter contas bancárias em paraísos fiscais.
- (D) um dos herdeiros da construtora que leva seu sobrenome e que foi preso em decorrência da operação Lava Jato.
- (E) um dos principais herdeiros do país no ramo de seguros e foi acusado de fraudar licitações públicas com o governo federal.

22. Em julho de 2019, o novo líder do Reino Unido falou sobre a saída da União Europeia (UE).

“Depois de 3 anos de indecisão em que o país foi prisioneiro dos antigos argumentos de 2016, estou aqui, na frente de vocês para dizer que os críticos estão errados. Faremos um novo acordo, e faremos uma parceria nova com o resto da Europa, baseada em comércio livre e confiança”, disse ele.

(<https://glo.bo/2y7ipCx>. Publicado em 24.07.2019. Adaptado)

Sobre o posicionamento desse novo Primeiro Ministro, é correto afirmar.

- (A) Jeremy Hunt defende a manutenção do Reino Unido na União Europeia.
- (B) Michael Gove defende que o Reino Unido mantenha-se ligado à União Europeia mediante um novo acordo.
- (C) Boris Johnson defende o cumprimento do plebiscito e a saída do Reino Unido da União Europeia.
- (D) Gordon Brow, do partido conservador, pretende rever o Brexit, mesmo sendo uma decisão do povo inglês.
- (E) David Cameron defende a imediata saída do Reino Unido da União Europeia, contrariando a decisão do povo inglês.

23. O texto aprovado pela Câmara (agosto,2019) garantia economia de 933,5 bilhões de reais em dez anos, mas o relator do texto, o senador Tasso Jereissati (PSDB-CE), fez mudanças que reduziram o impacto da reforma para os cofres públicos para 870 bilhões de reais.

(<https://bit.ly/2m3irbN>. Publicado em 04.09.2019. Adaptado)

Dentre as mudanças que diminuiriam o impacto financeiro sobre os cofres públicos citado no texto, destaca-se

- (A) a diminuição da idade mínima para mulheres que foi aprovada no Senado.
- (B) a exclusão de todos os funcionários públicos na reforma.
- (C) o aumento do número de casos a serem considerados pensionistas por invalidez ligados aos acidentes de trabalho.
- (D) a mudança nas regras de transição que diminuiu o tempo de pedágios a serem pagos.
- (E) a revinculação das pensões por morte ao valor do salário mínimo.

24. Depois de fazer sua estreia mundial no Festival de Cannes, de onde saiu premiado, e ser aplaudido em Gramado, o filme fez uma estreia significativa nos cinemas: arrecadou 1,5 milhão de reais em bilheteria no primeiro fim de semana em cartaz.

(<https://bit.ly/2kqDqop>. Publicado em 02.09.2019)

O texto refere-se ao filme brasileiro:

- (A) *Sai de Baixo – O filme*.
- (B) *Bacurau*.
- (C) *A vida invisível*.
- (D) *Minha mãe é uma peça 3*.
- (E) *Marighela*.

25. O ministro da Defesa, Fernando Azevedo, disse nesta quinta-feira (17) que a operação Acolhida, que cuida de postos de atendimento e de 13 abrigos para refugiados venezuelanos na principal fronteira com o Brasil será mantida até março de 2020.

(<https://glo.bo/2W45zQ2>. Publicado em 17.01.2019)

A operação de assistência aos refugiados venezuelanos

- (A) ocorre em Roraima, estado brasileiro mais atingido pela crise migratória venezuelana.
- (B) ocorre no Acre, principal fronteira ilegal de refugiados venezuelanos.
- (C) tem ocorrido em diversos estados brasileiros, mas em especial em Rondônia.
- (D) ocorre no Mato Grosso e é financiado pelo Mercosul para acolher refugiados.
- (E) ocorre sobretudo no Acre e foi criado por um convênio entre Brasil e Estados Unidos.

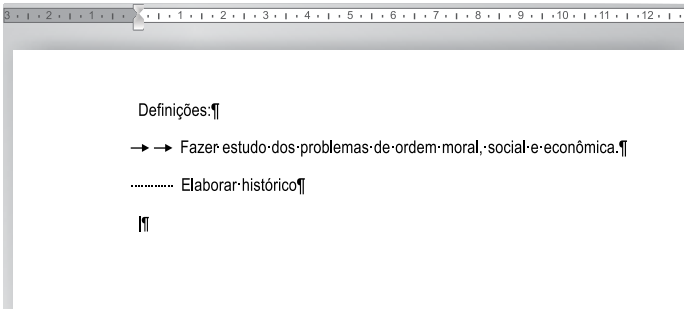
NOÇÕES DE INFORMÁTICA

26. Tem-se o seguinte conteúdo de uma pasta do disco rígido de um computador com o Microsoft Windows 7, em sua configuração padrão, sendo exibido a partir do Windows Explorer.

| Nome | Data de modific... | Tipo | Tamanho |
|---------------|--------------------|-------------------|----------|
| Pasta 1 | 07/09/2019 15:24 | Pasta de arquivos | |
| Pasta 2 | 07/09/2019 20:33 | Pasta de arquivos | |
| Arquivo A.txt | 07/09/2019 15:22 | Documento de Te | 5 KB |
| Arquivo B.txt | 07/09/2019 15:24 | Documento de Te | 3.389 KB |
| Arquivo C.bmp | 07/09/2019 15:23 | Arquivo BMP | 1.106 KB |

Ao selecionar todos os elementos pressionando as teclas CTRL+A, e depois pressionar CTRL+C, e finalmente CTRL+V, assinale a alternativa que indica quantos arquivos existirão ao final da operação, considerando que há espaço suficiente no disco rígido do computador.

- (A) 3
(B) 4
(C) 6
(D) 8
(E) 10
27. Tem-se o seguinte documento editado no Microsoft Word 2010, em sua configuração original, com as marcas de parágrafo ativadas.



Assinale a alternativa que indica quantos espaços em branco existem antes da palavra "Fazer" na segunda linha.

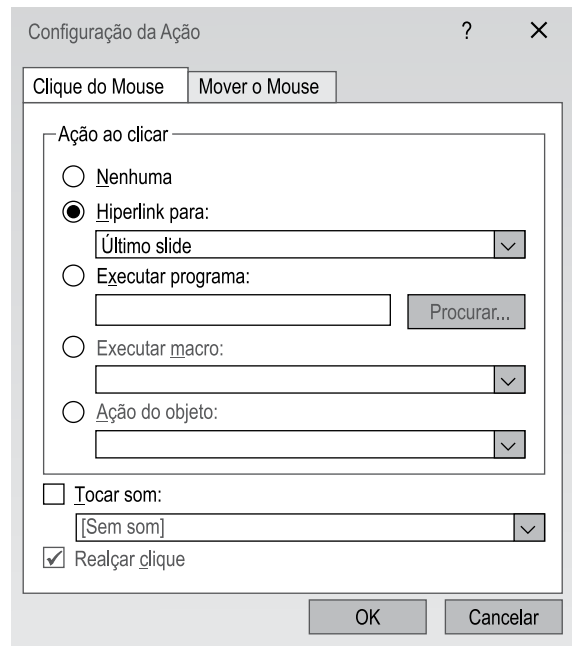
- (A) Nenhum.
(B) 1
(C) 2
(D) 4
(E) 10
28. Tem-se a seguinte planilha criada no Microsoft Excel 2010, em sua configuração padrão.

| | A | B | C | D |
|---|---|----|---|---|
| 1 | 4 | 2 | 6 | 7 |
| 2 | 5 | -2 | 5 | 7 |
| 3 | 5 | -1 | 1 | 0 |

Assinale a alternativa com o resultado correto da função =MENOR(A1:D3;2), a ser aplicada na célula A4.

- (A) -2
(B) -1
(C) 0
(D) 1
(E) 2

29. Em uma apresentação com 10 slides no Microsoft PowerPoint 2010, em sua configuração padrão, um usuário criou no slide 2 um botão de ação configurado como Hyperlink para o último slide, conforme imagem a seguir.



No entanto, logo após a configuração do botão de ação, esse usuário deixou os slides 8 a 10 como ocultos. Assinale a alternativa que indica qual slide será exibido quando o usuário iniciar o modo de apresentação e, no slide 2, pressionar com o botão principal do mouse sobre esse botão de ação.

- (A) Volta para o slide 1.
(B) Permanece no slide 2.
(C) Vai para o slide 7.
(D) Vai para o slide 10.
(E) Encerra a apresentação.
30. Um usuário fez uma pesquisa no site Google e um dos resultados é apresentado na imagem a seguir.

Concurso Dois Córregos - SP: Edital e inscrição
<https://www.concursosnobrasil.com.br>>...>Concursos em Dois Córregos
 9 de ago de 2019 - A Prefeitura Municipal de Dois Córregos, localizada no Estado de São Paulo, dá início à realização de um novo concurso público, regulado...

Assinale a alternativa com o termo de pesquisa que foi utilizado.

- (A) prefeitura dois corregos
(B) "prefeitura de dois corregos"
(C) prefeitura de dois corregos -concurso
(D) "município de dois corregos"
(E) -prefeitura -dois -corregos

CONHECIMENTOS ESPECÍFICOS

- 31.** Das alternativas a seguir, assinale aquela que aponta, dentre os músculos intrínsecos da laringe, o que corresponde às pregas vocais:
- (A) cricoaritenóideo posterior.
 - (B) tireoaritenóideo.
 - (C) ariaritenóideo oblíquo.
 - (D) cricoaritenóideo lateral.
 - (E) ariaritenóideo transverso.
- 32.** O aparelho estomatognático é composto por vários músculos. Cada qual tem função específica e, em grupo, desempenham funções importantes, dentre elas, a da mastigação. Assinale a alternativa que corretamente aponta para os músculos da mastigação.
- (A) masséter, temporal, zigomático e elevador das aletas.
 - (B) risório, bucinador, pterigóideo lateral e aritenóideo.
 - (C) masséter, temporal, pterigóideo lateral e medial.
 - (D) depressor do lábio inferior, pterigóideo lateral e platisma.
 - (E) masséter, temporal, risório e prócero.
- 33.** No tratamento da gagueira, há um princípio no qual o terapeuta se mantém no campo de referência do paciente. Se o paciente, ao contar o que lhe aflige, usar preferencialmente um dos verbos a seguir: sentir, ver ou pensar, o terapeuta falará de sensações, visões ou pensamentos ao construir suas ressignificações. Assinale a alternativa que corretamente denomina tal princípio.
- (A) Cooperação.
 - (B) Resiliência.
 - (C) Isomorfismo.
 - (D) Adequação.
 - (E) Manipulação.
- 34.** O termo paralisia refere-se ao acometimento que resulta em disfunção muscular. O acidente vascular encefálico de um hemisfério cerebral normalmente leva a uma paralisia do hemicorpo contralateral à lesão, que pode ser flácida ou espástica. Das alternativas a seguir, assinale aquela que se refere ao comprometimento de um hemicorpo (esquerdo ou direito).
- (A) Paraplegia.
 - (B) Tetraplegia.
 - (C) Monoplegia.
 - (D) Triplegia.
 - (E) Hemiplegia.
- 35.** Características, como redução nos movimentos de língua, distorção ou omissão do /r/ brando e dos grupos consonantais /r/ e // com provável dificuldade de suas aquisições, podem estar relacionadas a um quadro de
- (A) frênulo lingual encurtado.
 - (B) hipoglossia.
 - (C) amígdalas hipertróficas.
 - (D) distúrbios da articulação temporomandibular.
 - (E) toros palatinos.
- 36.** Um som de um diapasão aplicado ao crânio lateraliza-se para o lado da perda da audição condutiva ou para o lado da melhor cóclea. Após vibrar-se adequadamente o diapasão, coloca-se o seu cabo na linha central do crânio e pede-se ao paciente que indique em qual orelha o som é mais forte. A técnica descrita corresponde ao Teste de
- (A) Rinne.
 - (B) Schwabach.
 - (C) Weber.
 - (D) Bing.
 - (E) Romberg.
- 37.** Das alternativas a seguir, assinale aquela que demonstra uma característica de alteração presente na fase oral de deglutição em pacientes com Doença de Parkinson.
- (A) Peristaltismo reduzido com acúmulo de resíduo nos recessos faríngeos (valécula e seios piriformes).
 - (B) Deglutição incompleta, com manutenção de glote aberta com penetração laríngea ou aspiração.
 - (C) Redução do peristaltismo e presença de lentidão na descida do bolo alimentar no esôfago.
 - (D) Movimento lingual típico, porém o paciente não faz o rebaixamento do dorso da língua por rigidez da musculatura.
 - (E) Movimento lingual típico, com normalidade tanto na rotação lingual quanto no rebaixamento do dorso da língua.

38. Nos casos de hipertrofia das amígdalas, a língua toma uma postura anteroinferior na tentativa de aumentar o espaço posterior, facilitar a respiração e evitar o contato com a orofaringe durante a deglutição.

Esse posicionamento faz com que a língua

- (A) fique delgada e hipertônica com aumento da pressão interna no arco superior e diminuição da pressão nos músculos periorais.
- (B) fique alargada e hipotônica, com diminuição da pressão interna no arco superior e aumento da pressão dos músculos periorais.
- (C) não apresente alteração tônica, modificação na pressão interna, tampouco qualquer influência nos músculos periorais.
- (D) apresente aumento da rotação durante a mastigação, hipertonia e diminuição da pressão nos músculos periorais.
- (E) apresente uma discreta hipertonia, com pressão no arco superior ao ponto de não provocar migração odontológica.

39. No ciclo mastigatório, quando o alimento está em um dos lados da boca, a mandíbula desce e desloca-se para o lado do alimento, chamado de lado de trabalho, ou ativo, elevando-se novamente até alcançar sua posição de intercuspidação máxima. Algumas disfunções da articulação temporomandibular podem ser causadas por um comportamento adaptativo para assegurar o mínimo de trauma ao periodonto e aos dentes.

Assinale a alternativa que caracteriza o mecanismo descrito no excerto.

- (A) Bruxismo.
- (B) Briquismo.
- (C) Equilíbrio oclusal.
- (D) Mastigação Bilateral Alternada.
- (E) Mastigação Unilateral.

40. As malformações craniofaciais são alterações congênitas que envolvem a região do crânio e da face, como as fissuras labiopalatinas, por exemplo. Classicamente, a classificação desses quadros tem como referência a própria fissura e um acidente anatômico.

Assinale a alternativa que corretamente denomina esse acidente.

- (A) Septo nasal.
- (B) Forame platino menor.
- (C) Traumatismo craniano.
- (D) Forame incisivo.
- (E) Processos alveolares da maxila.

41. A reabilitação fonoaudiológica de instalação de voz esofágica é indicada nos casos de

- (A) laringectomias parciais.
- (B) laringectomias supraglóticas.
- (C) laringectomias totais.
- (D) cordectomias.
- (E) hemilaringectomias.

42. De acordo com o art. 9º do Código de Ética do Fonoaudiólogo, assinale a alternativa que apresenta um direito do fonoaudiólogo na relação com o cliente.

- (A) Interromper atendimento, sem motivo justificável.
- (B) Exagerar ou minimizar o quadro diagnóstico ou prognóstico.
- (C) Exceder em número de consultas fonoaudiológicas de forma injustificada.
- (D) Interromper o atendimento, desde que por motivo justificado.
- (E) Utilizar procedimentos que não tenham evidência científica comprovada.

43. A queimadura é uma lesão dos tecidos orgânicos em decorrência de trauma de origem térmica. São acidentes comuns com repercussões sérias e até a longo prazo. Queimaduras da face e pescoço podem gerar graves alterações morfológicas que necessitam da intervenção fonoaudiológica.

O principal objetivo dessa intervenção visa

- (A) realizar um trabalho mais tardio após o completo restabelecimento dos tecidos afetados.
- (B) realizar um trabalho precoce e reabilitar as sequelas funcionais do sistema estomatognático e aparelho fonador.
- (C) realizar imediatamente um trabalho de massagem com óleos a fim de diminuir a probabilidade de formação de cicatrizes.
- (D) fornecer prioritariamente o suporte psicológico quanto à forma de o paciente se encarar frente à sua nova aparência.
- (E) participar da equipe multidisciplinar e opinar quanto às possibilidades de restabelecimento da independência nas atividades de vida diária.

44. Presbiacusia significa, etimologicamente, a audição do idoso. A susceptibilidade apresenta amplas variações do quadro clínico e os sinais e sintomas podem surgir a partir dos 40 anos. Embora possa haver mais de um tipo de presbiacusia, como a sensorial, a neural, a coclear condutiva, dentre outras, a curva audiométrica apresenta um padrão, principalmente nas fases iniciais.

Assinale a alternativa que corretamente representa esse padrão em fases iniciais.

- (A) Tipo "V" acústico: platô em todas as frequências em torno de 20 dB com uma perda em torno de 45 dB na frequência de 2000 Hz.
- (B) Tipo linear em todas as frequências, geralmente em torno de 65 a 75 dB com considerável *gap* em relação à via óssea.
- (C) Tipo "rampa": platô nas frequências graves em torno de até 2000 Hz seguido de curva descendente com queda maior nas frequências mais agudas.
- (D) Curva tipo "U": as frequências de 250 e 8000 Hz estão preservadas e as maiores perdas ocorrem por volta de 70 dB em torno da frequência de 4000 Hz.
- (E) Curva tipo "U invertido": perdas médias de 70 dB nas frequências de 250 e 8000 Hz, e estão preservadas as frequências em torno de 4000 Hz.

45. A orelha média apresenta um reflexo que ocorre em ambientes com som em alta intensidade para evitar que a cadeia ossicular lese a cóclea. Clinicamente, ao se estimular em uma única orelha com um som muito intenso (70 dB acima do limiar tonal), o reflexo ocorre em ambas as orelhas.

O excerto refere-se ao reflexo

- (A) estapédico.
- (B) mascaramento.
- (C) recrutamento.
- (D) do efeito sombra.
- (E) vestibulo-coclear.

46. A pesquisa dos limiares tonais por via óssea tem como objetivo estabelecer os limiares tonais da via óssea, que, quando comparados com os limiares da via aérea, irão demonstrar a magnitude do comprometimento das orelhas média e/ou externa pela diferença entre ambos.

No exame de um paciente com perda auditiva severa, no qual serão testadas as vias aéreas em 250, 500, 1000, 2000, 4000, 6000 e 8000 Hz, assinale a alternativa que corretamente demonstra as frequências que deverão ser testadas em via óssea.

- (A) 250, 1000, 2000 e 6000 Hz.
- (B) 500, 1000, 1500, 3000 e 6000 Hz.
- (C) 250, 1500, 3000, 6000 e 8000 Hz.
- (D) 1000, 1500, 2000, 3000 e 4000 Hz.
- (E) 500, 1000, 2000 e 4000 Hz.

47. Assinale a alternativa que corretamente nomeia o pensador, cuja teoria linguística postula que a aquisição de conhecimentos depende tanto das estruturas cognitivas do indivíduo como da sua interação com seu meio, também conhecida como Epistemologia Genética.

- (A) Lev Vygotsky.
- (B) Noam Chomsky.
- (C) Burrhus Frederic Skinner.
- (D) Ferdinand de Saussure.
- (E) Jean Piaget.

48. Considere um tipo de afasia não fluente, cuja principal característica é a redução da fala. O paciente apresenta uma linguagem espontânea extremamente reduzida, com a expressão marcadamente lenta e breve. Nessa afasia, a repetição é boa e, especificamente, neste caso, é muito melhor que a emissão oral observada durante a fala espontânea. A compreensão geralmente está preservada. Na escrita, pode-se observar a mesma falta de iniciativa/inércia observada na fala, e a leitura está normal ou pouco comprometida.

O excerto refere-se à afasia

- (A) de Broca.
- (B) de condução.
- (C) de Wernicke.
- (D) transcortical motora.
- (E) amnésica ou anômica.

49. Um paciente idoso de 70 anos, sexo masculino, apresenta desorientação tempoespacial, sinais típicos de depressão, perda gradativa de memórias recentes e dificuldades para compreender discursos na televisão, explicar o que deseja, lembrar o que fez horas atrás e realizar tarefas complexas.

O quadro apresentado é típico de

- (A) esclerose múltipla.
- (B) mal de Alzheimer.
- (C) esclerose lateral amiotrófica.
- (D) afasia.
- (E) síndrome de Korsakoff.

50. Afecções do sistema nervoso central com degeneração neural progressiva idiopática, com afecção de múltiplas áreas do tronco cerebral e áreas subcorticais, especificamente nos neurônios produtores de dopamina localizados na substância negra, marcados por tremores que cessam durante o sono, normalmente estão relacionados ao quadro de

- (A) mal de Parkinson.
- (B) síndrome de Guillan Barré.
- (C) meningite mielomeningocócica.
- (D) remissão periódica de surtos na esclerose em placas.
- (E) aumento da pressão intracraniana por hidrocefalia não comunicante.

51. De acordo com os achados clínicos relacionados à fonoterapia para disfagia na população pediátrica, associe os sinais (I, II, III) às suas respectivas possibilidades (a, b, c).

- I. Resíduo em valécula. a. Fraqueza de faringe.
II. Resíduo em seios piriformes. b. Penetração laríngea.
III. Alteração na ausculta cervical. c. Diminuição do movimento de base da língua.

Assinale a alternativa que apresenta a associação correta.

- (A) I-a, II-b, III-c.
(B) I-a, II-c, III-b.
(C) I-b, II-a, III-c.
(D) I-c; II-b, III-a.
(E) I-c; II-a; III-b.

52. As pregas vocais podem apresentar diferentes acometimentos gerados por diferentes causas. Assinale a alternativa que, respectivamente, exemplifica: lesões benignas da mucosa; lesões neoplásicas e lesão neuromuscular.

- (A) Pólipo de pregas vocais, paralisia de pregas vocais e granulomas.
(B) Carcinoma, paralisia de pregas vocais e papiloma.
(C) Edema de Reinke, papiloma e paralisia de pregas vocais.
(D) Paralisia de pregas vocais, edema de Reinke e papiloma.
(E) Papiloma, granuloma e edema de Reinke.

53. Os excertos a seguir descrevem dois tipos de qualidade vocal (QV).

- I. Voz com característica rude, desagradável e até irritante da emissão. Há esforço ao falar, e os ataques vocais são predominantemente bruscos.
II. Voz com dois diferentes sons, com frequência, intensidade e QV diversas, como se fossem duas vozes.

Os excertos I e II referem-se, respectivamente, a vozes

- (A) polifônica e áspera.
(B) áspera e bitonal.
(C) bitonal e polifônica.
(D) pastosa e tensa-estrangulada.
(E) tensa-estrangulada e áspera.

54. As disfonias neurológicas são comuns nas disartrias e desempenham um importante papel no diagnóstico diferencial. Há um tipo de disartria que, por distúrbio no sistema extrapiramidal, caracteristicamente, apresenta *loudness* reduzida, voz monótona, qualidade vocal rouca ou aspirada, *pitch* grave, imprecisão articulatória, redução na tessitura da voz falada e alterações de fluência, comumente observadas no paciente parkinsoniano.

Tal descrição refere-se à disartria

- (A) hipocinética.
(B) hipercinética.
(C) espástica.
(D) flácida.
(E) coreica.

55. A timpanometria apresenta tipos de curvas específicas. As curvas do tipo A, Ar e C apontam, respectivamente, para:

- (A) fixação ossicular, normalidade e otite média secretora.
(B) normalidade, fixação ossicular e disfunção tubária.
(C) normalidade, otite média serosa e disjunção da cadeia ossicular.
(D) normalidade, flacidez timpânica e otite média secretora.
(E) fixação ossicular, tímpano cicatricial e fixação do estribo.

56. Quando um paciente apresenta duas ou mais crises de vertigem rotatória com duração mínima de 20 minutos, diminuição da audição registrada pela audiometria e zumbido ou pressão no ouvido, o fonoaudiólogo deve voltar sua avaliação diagnóstica para o caso de

- (A) doença de Menière.
(B) otosclerose.
(C) otite média crônica colesteatomatosa (omcc).
(D) disfunção tubária.
(E) fistula perilinfática.

- 57.** Na fonoaudiologia educacional, a proposta do bilinguismo é educacional, social e cultural, independente da maneira como concebe a segunda língua a ser adquirida pelo surdo. O papel do professor, dos pedagogos e dos linguistas é muito maior do que o do fonoaudiólogo. Nada impede que um fonoaudiólogo atue nos aspectos pedagógicos educacionais, linguísticos e sociais dentro de uma escola, mas o seu trabalho clínico se torna muito mais restrito, uma vez que o ambiente escolar é o que vai ser responsável pelo desenvolvimento global do surdo.
- A partir do excerto, é correto afirmar que
- (A) o fonoaudiólogo apenas deve se responsabilizar por oralizar o paciente e ensinar a ele a Língua Brasileira de Sinais.
 - (B) o fonoaudiólogo deve se limitar a estabelecer para pedagogos e linguistas os métodos a serem utilizados com seus pacientes.
 - (C) o fonoaudiólogo deve receber dos profissionais como pedagogos e linguistas instruções sobre a metodologia a ser usada com o surdo no consultório.
 - (D) essa atuação deve ser realizada numa equipe que partilhe os mesmos pressupostos teóricos.
 - (E) o surdo seja atendido pelo fonoaudiólogo sem interferência da escola e, na escola, sem interferência da opinião do fonoaudiólogo.
- 58.** O teste de processamento auditivo melhor indicado para avaliar a habilidade de fechamento auditivo e discriminação figura-fundo, quando uma parte do sinal está distorcido ou ausente e/ou com estímulos auditivos competitivos, é
- (A) a audiometria tonal limiar.
 - (B) o teste de escuta dicótica de dissílabos (SSW).
 - (C) a imitanciometria.
 - (D) a audiometria.
 - (E) a impedanciometria.
- 59.** Uma patologia com diagnóstico essencialmente clínico, que se manifesta comportamentalmente antes dos 3 anos de idade e que, normalmente, é percebida pelos pais por volta dos 18 meses, pelo atraso no desenvolvimento linguístico, com déficit no uso da comunicação não verbal e dificuldade social, denomina-se
- (A) transtorno do espectro do autismo.
 - (B) dislexia.
 - (C) síndrome de Down.
 - (D) esclerose lateral amiotrófica.
 - (E) discalculia.
- 60.** A Classificação Internacional de Funcionalidade (CIF) tem o objetivo de
- (A) estabelecer uma correlação entre os aspectos econômicos das populações e os índices de incidência de doenças relacionados a eles.
 - (B) orientar o diagnóstico com vistas a avaliar cada quadro individualmente, assim como estabelecer conduta de ação médica para o tratamento.
 - (C) promover uma conduta de classificação das pessoas em função de seus quadros patológicos no intuito de estabelecer estratégias meramente estatísticas.
 - (D) proporcionar uma linguagem unificada e padronizada como um sistema de descrição da saúde e dos estados relacionados à saúde.
 - (E) facilitar o planejamento estratégico de tratamento e inclusão social de forma que a inserção no mercado de trabalho esteja garantida.

