



CONCURSO PÚBLICO - PROVA OBJETIVA

ASSINATURA DO(A) CANDIDATO

Nº DE INSCRIÇÃO

CONTEMAX

CONSULTORIA TÉCNICA E PLANEJAMENTO LTDA

PREFEITURA MUNICIPAL DE OROBÓ CONCURSO PÚBLICO N.º 001/2019

CARGO: PROFESSOR DE EDUCAÇÃO FÍSICA- ZONA RURAL

INSTRUÇÕES:

VERIFIQUE SE ESTE CADERNO:

- Corresponde a sua opção de cargo.
- Contém 40 (quarenta) questões, numeradas de 01 a 40, caso contrário reclame ao fiscal da sala outro caderno. **NÃO** serão aceitas reclamações posteriores.
- Para cada questão existe apenas **UMA** resposta certa.
- Você deve ler cuidadosamente cada uma das questões e escolher a resposta certa.
- A alternativa escolhida deve ser marcada na **FOLHA DE RESPOSTAS** que você recebeu.

VOCÊ DEVE:

- Procurar na **FOLHA DE RESPOSTAS**, o número da questão que você está respondendo.
- Verificar no caderno de prova qual a letra (A, B, C, D, E) da resposta que você escolheu.
- Marcar essa letra na **FOLHA DE RESPOSTAS**, conforme o exemplo: [■].

ATENÇÃO:

- Marque as respostas com caneta esferográfica azul ou preta.
- Marque apenas uma letra para cada questão, mais de uma letra assinalada implicará nota zero à questão.
- Não será permitida qualquer espécie de consulta, nem o uso de máquina calculadora.
- Você terá 3 (três) horas para responder a todas as questões e preencher a folha de respostas.
- Devolva esse caderno de prova ao aplicador, juntamente com a sua folha de respostas.
- Proibida a divulgação ou impressão parcial ou total da presente prova. **Direitos Reservados.**

LINGUA PORTUGUESA – 1 A 12 (02 PONTOS)**TEXTO I**
Uma galinha

Era uma galinha de domingo. Ainda viva porque não passava de nove horas da manhã.

Parecia calma. Desde sábado encolhera-se num canto da cozinha. Não olhava para ninguém, ninguém olhava para ela. Mesmo quando a escolheram, apalpando sua intimidade com indiferença, não souberam dizer se era gorda ou magra. Nunca se adivinharia nela um anseio.

Foi pois uma surpresa quando a viram abrir as asas de curto voo, inchar o peito e, em dois ou três lances, alcançar a murada do terraço. Um instante ainda vacilou — o tempo da cozinheira dar um grito — e em breve estava no terraço do vizinho, de onde, em outro voo desajeitado, alcançou um telhado. Lá ficou em adorno deslocado, hesitando ora num, ora noutro pé. A família foi chamada com urgência e consternada viu o almoço junto de uma chaminé. O dono da casa lembrando-se da dupla necessidade de fazer esporadicamente algum esporte e de almoçar vestiu radiante um calção de banho e resolveu seguir o itinerário da galinha: em pulos cautelosos alcançou o telhado onde esta hesitante e trêmula escolhia com urgência outro rumo. A perseguição tornou-se mais intensa. De telhado a telhado foi percorrido mais de um quarteirão da rua. Pouco afeita a uma luta mais selvagem pela vida a galinha tinha que decidir por si mesma os caminhos a tomar sem nenhum auxílio de sua raça. O rapaz, porém, era um caçador adormecido. E por mais ínfima que fosse a presa o grito de conquista havia soado.

Sozinha no mundo, sem pai nem mãe, ela corria, arfava, muda, concentrada. Às vezes, na fuga, pairava ofegante num beiral de telhado e enquanto o rapaz galgava outros com dificuldade tinha tempo de se refazer por um momento. E então parecia tão livre.

Estúpida, tímida e livre. Não vitoriosa como seria um galo em fuga. Que é que havia nas suas vísceras que fazia dela um ser? A galinha é um ser. É verdade que não se poderia contar com ela para nada. Nem ela própria contava consigo, como o galo crê na sua crista. Sua única vantagem é que havia tantas galinhas que morrendo uma surgiria no mesmo instante outra tão igual como se fora a mesma.

Afinal, numa das vezes em que parou para gozar sua fuga, o rapaz alcançou-a. Entre gritos e penas, ela foi presa. Em seguida carregada em triunfo por um asa através das telhas e pousada no chão da cozinha com certa violência. Ainda tonta, sacudiu-se um pouco, em cacarejos roucos e indecisos.

Foi então que aconteceu. De pura afobação a galinha pôs um ovo. Surpreendida, exausta. Talvez fosse prematuro. Mas logo depois, nascida que fora para a maternidade, parecia uma velha mãe habituada. Sentou-se sobre o ovo e assim ficou respirando, abotoando e desabotoando os olhos. Seu coração tão pequeno num prato solejava e abaixava as penas enchendo de tepidez aquilo que nunca passaria de um ovo. Só a menina estava perto e assistiu a tudo estarecida. Mal porém conseguiu desvencilhar-se do acontecimento despregou-se do chão e saiu aos gritos:

— Mamãe, mamãe, não mate mais a galinha, ela pôs um ovo! Ela quer o nosso bem!

Todos correram de novo à cozinha e rodearam mudos a jovem parturiente. Esquentando seu filho, esta não era nem suave nem arisca, nem alegre nem triste, não era nada, era uma galinha. O que não sugeria nenhum sentimento especial. O pai, a mãe e a filha olhavam já há algum tempo, sem propriamente um pensamento qualquer. Nunca ninguém acariciou uma cabeça de galinha. O pai afinal decidiu-se com certa brusquidão:

— Se você mandar matar esta galinha nunca mais comerei galinha na minha vida!

— Eu também!, jurou a menina com ardor.

A mãe, cansada, deu de ombros.

Inconsciente da vida que lhe fora entregue, a galinha passou a morar com a família. A menina, de volta do colégio, jogava a pasta longe sem interromper a corrida para a cozinha. O pai de vez em quando ainda se lembrava: “E dizer que a obriguei a correr naquele estado!” A galinha tornara-se a rainha da casa. Todos, menos ela, o sabiam. Continuou entre a cozinha e o terraço dos fundos, usando suas duas capacidades: a de apatia e a do sobressalto.

Mas quando todos estavam quietos na casa e pareciam tê-la esquecido, enchia-se de uma pequena coragem, resquícios da grande fuga — e circulava pelo ladrilho, o corpo avançando atrás da cabeça, pausado como num campo, embora a pequena cabeça a traísse: mexendo-se rápida e vibrátil, com o velho susto de sua espécie já mecanizado.

Uma vez ou outra, sempre mais raramente, lembrava de novo a galinha que se recortara contra o ar à beira do telhado, prestes a anunciar. Nesses momentos enchia os pulmões com o ar impuro da cozinha e, se fosse dado a fêmeas cantar, ela não cantaria mas ficaria muito mais contente. Embora nem nesses instantes a expressão de sua vazia cabeça se alterasse. Na fuga, no descanso, quando deu à luz ou bicando milho — era uma cabeça de galinha, a mesma que fora desenhada no começo dos séculos.

Até que um dia mataram-na, comeram-na e passaram-se anos.

Fonte: Os Cem Melhores Contos do Século.

01. Em relação ao elemento textual “galinha”, no primeiro parágrafo, fica implícito que ela estava:

- a) na iminência de ser morta.
- b) prestes a ser trancafiada no galinheiro.
- c) na eminência de compor o cardápio de domingo.
- d) na iminência de fugir.
- e) prestes a ter seu destino inalterado.

02. De acordo com a organização interna do texto, pode-se afirmar que ele se constitui de uma sequência de:

- a) dados;
- b) argumentos;
- c) conceitos;
- d) fatos;
- e) aspectos.

03. A atitude da galinha, que aparentava calma, foi, para a família:

- a) inexorável;
- b) arrazoada;
- c) natural;
- d) esperada;
- e) imprevisível.

04. O texto apresenta em vários momentos uma humanização da galinha; assinale a alternativa que indica o parágrafo em que isso fica mais evidente:

- a) 1º parágrafo;
- b) 1º período do 2º parágrafo;
- c) 4º parágrafo;
- d) 10º parágrafo
- e) último parágrafo.

05. O pronome destacado na passagem “*Só a menina estava perto e assistiu a tudo estarrecida.*” (7º parágrafo) faz referência a um acontecimento no texto. Quanto a seu papel coesivo, ele apresenta uma função:

- a) dêitica;
- b) catafórica;
- c) anafórica;
- d) exofórica;
- e) hiperonímica.

06. Na passagem “*O dono da casa lembrando-se da dupla necessidade de fazer esporadicamente algum esporte (...)*” (3º parágrafo), o advérbio em destaque indica uma circunstância de:

- a) causa;
- b) meio;
- c) intensidade;
- d) tempo;
- e) modo.

07. Todas as palavras abaixo retiradas do texto apresentam ditongo; a **EXCEÇÃO** encontra-se na alternativa:

- a) “Ainda”;
- b) “ninguém”;
- c) “peito”;
- d) “dois”;
- e) “enquanto”.

08. Em todas as alternativas abaixo estão destacados pronomes, **EXCETO** na opção:

- a) “O dono da casa lembrando-**se** da dupla necessidade de fazer esporadicamente algum esporte (...)” (3º parágrafo)
- b) “E dizer **que** a obriguei a correr naquele estado!” (13º parágrafo)
- c) “Todos, menos ela, **o** sabiam. (13º parágrafo)
- d) “Mas quando todos estavam quietos na casa e pareciam tê-**la** esquecido, (...)” (14º parágrafo)
- e) “(...) lembrava de novo a galinha que **se** recortara contra o ar à beira do telhado, (...)” (15º parágrafo)

TEXTO II

Por não estarem distraídos

Havia a levíssima embriaguez de andarem juntos, a alegria como quando se sente a garganta um pouco seca e se vê que por admiração se estava de boca entreaberta: eles respiravam de antemão o ar que estava à frente, e ter esta sede era a própria água deles. Andavam por ruas e ruas falando e rindo, falavam e riam para dar matéria e peso à levíssima embriaguez que era a alegria da sede deles. Por causa de carros e pessoas, às vezes eles se tocavam, e ao toque – a sede é a graça, mas as águas são uma beleza de escuras – e ao toque brilhava o brilho da água deles, a boca ficando um pouco mais seca de admiração. Como eles admiravam estarem juntos!

Até que tudo se transformou em não. Tudo se transformou em não quando eles quiseram essa mesma alegria deles. Então a grande dança dos erros. O cerimonial das palavras desacertadas. Ele procurava e não via, ela não via que ele não vira, ela que estava ali, no entanto. No entanto ele que estava ali. Tudo errou, e havia a grande poeira das ruas, e quanto mais erravam, mais com aspereza queriam, sem um sorriso. Tudo só porque tinham prestado atenção, só porque não estavam bastante distraídos. Só porque, de súbito exigentes e duros, quiseram ter o que já tinham. Tudo porque quiseram dar um nome; porque quiseram ser, eles que eram. Foram então aprender que, não se estando distraído, o telefone não toca, e é preciso sair de casa para que a carta chegue, e quando o telefone finalmente toca, o deserto da espera já cortou os fios. Tudo, tudo por não estarem mais distraídos.

(LISPECTOR, Clarice. Para não esquecer. São Paulo: Siciliano, 1992.)

09. O título do texto – *Por não estarem distraídos* – expressa a causa do insucesso da relação amorosa apresentada pelo narrador. A passagem do texto que funciona como uma consequência dessa causa contida no título está presente na alternativa:

- a) “Havia a levíssima embriaguez de andarem juntos, (...)” (1º parágrafo)
- b) “Andavam por ruas e ruas falando e rindo, (...)” (1º parágrafo)
- c) “Por causa de carros e pessoas, às vezes eles se tocavam, (...)” (1º parágrafo)
- d) “Até que tudo se transformou em não.” (2º parágrafo)
- e) “Ele procurava e não via, ela não via que ele não vira, ela que estava ali, no entanto.” (2º parágrafo)

10. As relações semânticas podem ser estabelecidas entre orações, períodos e parágrafos em um texto. Nesse sentido, o texto clariceano é estrategicamente estruturado em apenas dois parágrafos, que estabelecem entre si uma determinada relação semântica fundamental, a qual está corretamente apontada no item:

- a) concessão
- b) contraposição
- c) finalidade
- d) modalização
- e) proporção

11. Sobre o emprego dos travessões na passagem “*Por causa de carros e pessoas, às vezes eles se tocavam, e ao toque – a sede é a graça, mas as águas são uma beleza de escuras – e ao toque brilhava o brilho da água deles, a boca ficando um pouco mais seca de admiração.*” (1º parágrafo), assinale a opção **INCORRETA**:

- a) isolam um termo intercalado no período;
- b) poderiam ser substituídos por parênteses;
- c) foram empregados meramente por questões estilísticas;
- d) foram empregados de forma escoreita;
- e) não poderiam ser substituídos por ponto e vírgula.

12. Das orações destacadas nas passagens abaixo retiradas do texto, a única com função adjetiva encontra-se na alternativa:

- a) “(...) eles respiravam de antemão o ar **que estava à frente**, (...)” (1º parágrafo)
- b) “Andavam por ruas e ruas **falando e rindo**, (...)” (1º parágrafo)
- c) “Como eles admiravam **estarem juntos!**” (1º parágrafo)
- d) “Tudo se transformou em não **quando eles quiseram essa mesma alegria deles.**” (2º parágrafo)
- e) “(...) e **quanto mais erravam**, mais com aspereza queriam, sem um sorriso.” (2º parágrafo)

RACIOCÍNIO LÓGICO – 13 A 16 02 PONTOS

13. Considere a seguinte tabela verdade.

P	Q	?
V	V	F
V	F	V
F	V	V
F	F	F

A proposição lógica que pode ser substituída pelo símbolo “?” é

- a) $P \Rightarrow \sim Q$
- b) $\sim P \Leftrightarrow Q$
- c) $\sim P \Leftrightarrow \sim Q$
- d) $P \Leftrightarrow Q$
- e) $P \Rightarrow Q$

14. Marta vai da sua casa na cidade A para o trabalho na cidade C passando pela cidade B. Ela fez o primeiro trecho de 50 Km com uma velocidade de 80 Km/h. Com medo de se atrasar ela aumentou a velocidade para 100 Km/h no segundo trecho.



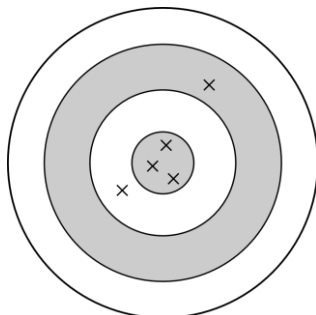
Sabendo que a distância total é de 150 Km, qual foi a velocidade média aproximada da viagem de Marta de casa para o trabalho?

- a) 85,7 Km/h
- b) 57,7 Km/h
- c) 115,4 Km/h
- d) 92,3 Km/h
- e) 87,3 Km/h

15. Cinco alunos leem 10 livros em 3 semanas. Quantos livros 10 alunos leem em 6 semanas?

- a) 5 livros
- b) 10 livros
- c) 40 livros
- d) 50 livros
- e) 80 livros

16. Um arqueiro tem 35% de probabilidade de acertar o alvo em cada uma das 5 tentativas independentes durante uma competição. A probabilidade dele acertar exatamente 3 vezes o alvo é, aproximadamente:



- a) 0,3623
- b) 0,0725
- c) 0,0906
- d) 0,1682
- e) 0,1811

**ATUALIDADES – 17 A 20
(02 PONTOS)**

17. Leia a notícia jornalística a seguir, publicada em outubro deste ano, e marque a opção que preenche corretamente a lacuna.

“A atual onda de protestos violentos que atinge o _____ ganhou contornos mais dramáticos neste domingo, quando dois incêndios na capital deixaram ao menos sete mortos. A onda de manifestações e confrontos já se espalhou por diversas partes do país, mesmo após o presidente Sebastián Piñera ter cancelado o aumento nas tarifas de metrô, estopim para a crise atual”. (Fonte: Folha de São Paulo, 20/10/2019, com adaptações).

- a) Brasil
- b) Chile
- c) México
- d) Uruguai
- e) Paraguai

18. Em setembro deste ano, o Presidente do Brasil, Jair Bolsonaro, sancionou a chamada Lei da Liberdade Econômica. Marque a alternativa que **NÃO** apresenta uma das medidas propostas nessa lei.

- a) Documentos públicos digitalizados terão o mesmo valor jurídico e probatório do documento original.
- b) Atividades de baixo risco, como a maioria dos pequenos comércios, não exigirão mais alvará de funcionamento.
- c) Os trabalhadores serão proibidos de desenvolver quaisquer atividades econômicas nos domingos e feriados.
- d) A emissão de novas Carteiras de Trabalho pela Secretaria de Trabalho ocorrerá preferencialmente em meio eletrônico.
- e) O registro dos horários de entrada e saída do trabalho passa a ser obrigatório somente para empresas com mais de vinte funcionários.

19. Considere a descrição a seguir, a respeito de uma importante personalidade da literatura brasileira, e assinale a alternativa que indica de quem se trata.

“Foi um dos mais importantes escritores brasileiros do século XX. Teve vários livros adaptados ao cinema e à televisão, alguns mais

de uma vez, como 'Gabriela', 'Dona Flor e Seus Dois Maridos' e 'Tieta do Agreste'. Natural da Bahia, testemunhou desde jovem a injustiça social, bem como o folclore da região". (Fonte: Correio da Manhã, 16/08/2019, com adaptações).

- a) Euclides da Cunha.
- b) Jorge Amado.
- c) Machado de Assis.
- d) José de Alencar.
- e) Vinicius de Moraes.

20. Em relação ao conceito de "desenvolvimento sustentável", assinale a alternativa **INCORRETA**.

- a) Traz implícito um compromisso de solidariedade com as gerações do futuro.
- b) Sustenta a impossibilidade de coexistirem crescimento econômico e preservação do meio ambiente.
- c) Propõe uma forma de integração equilibrada entre os sistemas econômico, sociocultural e ambiental.
- d) Envolve a distribuição e utilização equitativa dos recursos entre as nações e as regiões a nível global e à escala regional.
- e) Trata-se do desenvolvimento que satisfaz as necessidades do presente, sem comprometer a capacidade das gerações vindouras satisfazerem as suas próprias necessidades.

**CONHECIMENTOS ESPECÍFICOS – 21 A 40
(03 PONTOS)**

21.No que se refere a história da Educação Física no Brasil, considere as seguintes informações:

I – No período pré-descobrimento os indígenas praticavam apenas exercícios naturais para a sobrevivência, tais como: caça com arco e flecha, pesca, nado, além da dança e ritos tribais.

II – Nas escolas jesuítas a prática da educação física ocorria de forma lúdica e recreacional, não incorporada no currículo didático.

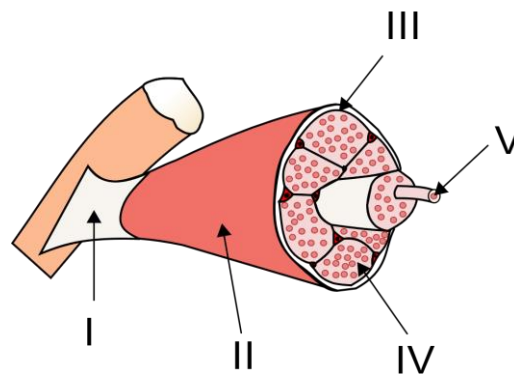
III – A educação física se consolida como prática obrigatória após parecer de Rui Barbosa relatando a importância do desenvolvimento físico aliado ao estudo intelectual nos países desenvolvidos.

Estão **CORRETAS**:

- a) As 3 afirmativas são verdadeiras.

- b) Apenas as afirmativas I e II são verdadeiras.
- c) Apenas as afirmativas I e III são verdadeiras.
- d) Apenas as afirmativas II e III são verdadeiras.
- e) As 3 afirmativas são falsas.

22.A figura a seguir mostra uma representação da estrutura de um músculo esquelético.



Os constituintes indicados por I, II, III, IV e V são, respectivamente:

- a) Tendão, epimísio, perimísio, endomísio e fibra muscular.
- b) Tendão, endomísio, epimísio, perimísio, e fibra muscular.
- c) Tendão, perimísio, epimísio, endomísio e fibra muscular.
- d) Fibra muscular, epimísio, perimísio, endomísio e tendão.
- e) Fibra muscular, perimísio, epimísio, endomísio e tendão.

23.Exercícios físicos e alimentação saudável tem efeito benéfico na bioquímica corporal, produzindo sentimentos físicos e mentais positivos. No que se refere aos diversos hábitos que produzem os hormônios neurotransmissores e os efeitos acarretados, é **INCORRETO** afirmar que:

- a) A serotonina é adquirida em alimentos ricos em triptofano e contribui para regulação do humor e desempenho cardíaco.
- b) Exercícios cardiorrespiratórios produzem a noradrenalina que é responsável pela redução do estresse, melhora no aprendizado, criatividade e memória.
- c) Expressar gratidão e realizar exercícios físicos gera dopamina que gera energia e motivação, além de melhorar o ânimo e reduzir a ansiedade.

d) A dança e contatos corporais libera oxitocina ligada à confiança, e melhora no bem-estar físico e emocional.

e) A endorfina é liberada através do sorriso e contato com a natureza. Ela é responsável pela regeneração celular e melhora na qualidade do sono.

24. O Peso ideal (PI) é uma medida antropométrica subjetiva de peso, estratificada por estrutura, gênero e idade. O cálculo segue a seguinte fórmula

$$PI = (\text{altura})^2 \times \text{constante}$$

sendo a constante para adultos determinada na seguinte tabela:

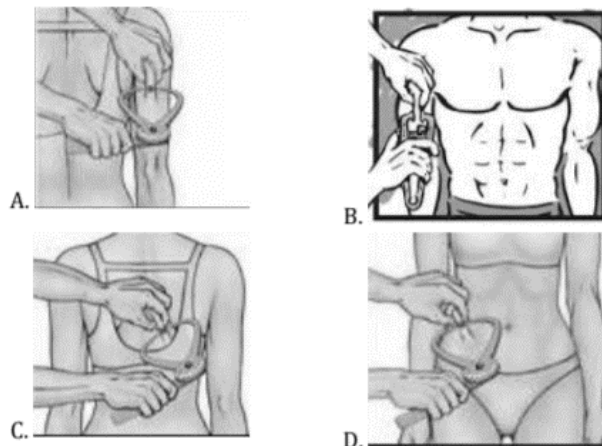
Peso Ideal	Sexo	
	Mulheres	Homens
Peso Ideal Mínimo (PI _{mín}):	19	20
Peso Ideal Médio (PI _{méd}):	21,5	22,5
Peso Ideal Máximo (PI _{máx}):	24	25

Fonte: ARAÚJO, Guilherme T. Curso Nacional de Nutrologia. Associação Brasileira de Nutrologia. 2015. Acesso em: 22/11/2019.

Assim sendo, pode-se afirmar que uma mulher com altura 1,60m e 57kg e um homem com 1,85m e 88kg estão, respectivamente:

- Mulher: abaixo do PI_{mín}; Homem: acima do PI_{máx}.
- Mulher: entre o PI_{mín} e o PI_{méd}; Homem: acima do PI_{máx}.
- Mulher: entre o PI_{méd} e o PI_{máx}; Homem: acima do PI_{máx}.
- Mulher: abaixo do PI_{mín}; Homem: entre o PI médio e o PI_{máx}.
- Mulher: entre o PI_{méd} e o PI_{máx}; Homem: entre o PI_{méd} e o PI_{máx}.

25. As dobras cutâneas são medidas que dão uma ideia de nível de adiposidade do indivíduo. O aparelho utilizado para medir as dobras cutâneas é denominado adipômetro, paquímetro ou plicômetro. Existem mais de vinte locais descritos para medir as dobras cutâneas. A figura a seguir mostra as quatro mais utilizadas.



Fonte: ARAÚJO, Guilherme T. Curso Nacional de Nutrologia. Associação Brasileira de Nutrologia. 2015. Acesso em: 22/11/2019.

As pregas cutâneas (PC) mostradas na figura são, respectivamente:

- A: PC tricipital; B: PC bicipital; C: PC supra-iliaca; D: PC subescapular
- A: PC tricipital; B: PC bicipital; C: PC subescapular; D: PC supra-iliaca
- A: PC tricipital; B: PC supra-iliaca; C: PC subescapular; D: PC bicipital
- A: PC subescapular; B: PC bicipital; C: PC tricipital; D: PC supra-iliaca
- A: PC subescapular; B: PC bicipital; C: PC supra-iliaca; D: PC tricipital

26. O índice de massa corporal (IMC) é uma medida largamente adotada para indicar classificação nutricional. Apesar da sua alta correlação com o nível de gordura corporal para adultos, existem diversas críticas ao seu uso extensivo. Considere as seguintes afirmações sobre o IMC:

- pessoas musculosas podem ter IMC alto e não serem gordas;
- pessoas mais altas com a mesma forma corporal apresentam um IMC menor.
- o expoente 2 do denominador é considerado arbitrário, uma vez que a massa aumenta na potência 3 em relação a dimensões lineares.
- pode ser aplicado sem correções para adolescentes.
- idosos com mais de 65 anos têm classificação diferenciada quanto ao IMC.
- doenças associadas a um IMC alto são: AVC, hipertensão, arteriosclerose e diabetes.

VI – Uma pessoa com 90Kg e 2,00m tem IMC = 22,5.

A **QUANTIDADE DE INFORMAÇÕES CORRETAS** é

- a) 3
- b) 4
- c) 5
- d) 6
- e) 7

27.A pedagogia do ensino de esportes visa sistematizar a prática do ensino da educação física. Comparando as finalidades educacional e competitiva dos esportes coletivos, é **INCORRETO** afirmar que:

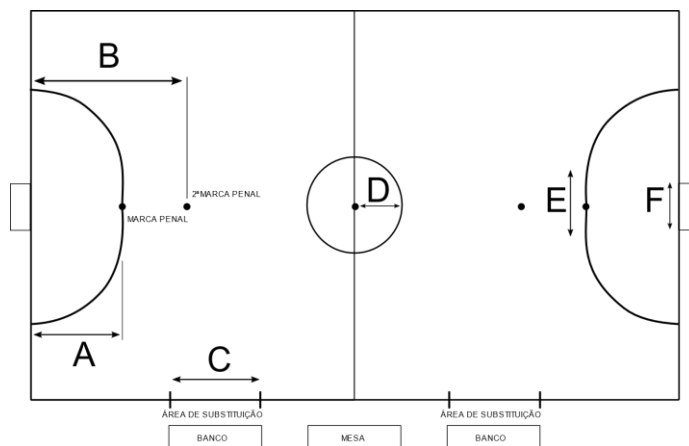
- a) Objetivo da finalidade educacional: Estimular o desenvolvimento motor por meio de movimentos atléticos com caráter formativo.
- b) Perfil do praticante da finalidade competitiva: Indivíduos selecionados por aptidões motoras excepcionais.
- c) Estrutura de treino para finalidade educacional: carga horária máxima de 4 horas/semana. Em geral, segue a rotina: aquecimento específico, preparação física geral e específica, treino de flexibilidade e treino específico com aparelhos oficiais.
- d) Conteúdo para a finalidade competitiva: conteúdo específico para a modalidade e cobrança de excelência técnica conforme regras do código de pontuação.
- e) Resultados esperados para finalidade educacional: autossuperação e autoavaliação, sem comparações com modelos.

28.Os métodos de ensino Analítico Sintético e Global Funcional podem ser alternados e combinados para melhorar o interesse e o desempenho físico. Neste contexto, é **CORRETO** afirmar que

- a) A modalidade global funcional tende a desfavorecer alunos com menor familiaridade com o esporte.
- b) No ensino analítico sintético a técnica e a prática fluem espontaneamente, no decorrer da aula/treino.
- c) No método global funcional os movimentos são estereotipados e repetidos para estimular a memória muscular.
- d) O método analítico sintético favorece a criatividade e a improvisação.

e) A metodologia global funcional facilita o aprendizado dos fundamentos do esporte ao mesmo tempo que possibilita a correção do movimento.

29.Considere as seguintes marcações na figura abaixo.



Segundo o livro nacional de regras de futsal da CBF (2019), as medidas A, B, C, D, E e F assinaladas são respectivamente:

- a) 5m – 10m – 5m – 3m – 3,60m – 3m
- b) 6m – 10m – 5m – 3m – 3,16m – 3m
- c) 6m – 10m – 5m – 3m – 3,60m – 2m
- d) 5m – 10m – 5m – 3m – 3,16m – 3m
- e) 6m – 10m – 5m – 5m – 3,60m – 2m

30.Para a prática correta do futebol de campo é fundamental que a bola tenha pressão e medidas corretas.



Neste sentido, o padrão FIFA exige para a bola oficial deve ter:

- a) pressão entre 50,8KPa e 141,5KPa; Peso inicial entre 400g e 460g; Circunferência entre 64cm e 90cm.
- b) pressão entre 60,8KPa e 111,5KPa; Peso inicial entre 410g e 450g; Circunferência entre 68cm e 70cm.

- c) pressão entre 34,8KPa e 60,8KPa; Peso inicial entre 430g e 463g; Circunferência entre 69cm e 90cm.
d) pressão entre 50,8KPa e 112,4KPa; Peso inicial entre 460g e 490g; Circunferência entre 38cm e 50cm.
e) pressão entre 60,8KPa e 111,5KPa; Peso inicial entre 610g e 650g; Circunferência entre 62cm e 90cm.

31. Esporte de combate de grande aceitação mundial, fundado por Jiroro Kano em 1882. Seu nome significa literalmente: "caminho suave". Entre os objetivos, destacam-se o fortalecimento físico, mental e espiritual, além do desenvolvimento de técnicas de defesa pessoal. A vestimenta é composta pelo casaco (Wagi), pela calça (Shitabaki) e faixa. O Wagi e o Shitabaki podem ser brancos ou azuis. As faixas sinalizam a graduação do praticante variando de branca a preta.

- a) Kung Fu
b) Jiu Jitsu
c) Taekwondo
d) Ninjitsu
e) Judô

32. Música e dança típica do Nordeste, caracterizada por ritmo quaternário, lento e marcado por zabumba. A apresentação é coletiva formando grandes rodas e ocupando praças ou praias. Por suas características vem sendo empregada na socialização de crianças e idosos. O nome mais conhecido ligado ao folguedo é Lia de Itamaracá.

- a) Forró
b) Samba de roda
c) Marzuca
d) Ciranda
e) Cavalo-marinho

33. O sistema CONFEF/CREFs criado pela Lei N° 9696 de 1998 é responsável por regulamentar e fiscalizar o exercício da profissão de Educador Físico. No que se refere aos conselhos regionais, todos os estados listados possuem um conselho regional próprio, não o dividindo com outro estado,
EXCETO:

- a) Rio de Janeiro
b) Rio Grande do Sul

- c) Mato Grosso do Sul
d) Maranhão
e) Sergipe

34. Pela característica essencial das cadeiras de rodas no basquete em cadeira de rodas, elas possuem medidas adaptadas especiais. Todas as regras devem ser atendidas para o jogo, **EXCETO:**

- a) Os pneus traseiros devem ter diâmetro máximo de 66cm.
b) Os jogadores classe 3.5, 4.0 e 4.5 podem usar almofada de no máximo 5cm.
c) A altura máxima do acento deve ser 53 centímetros a partir do chão.
d) O apoio para os pés deve ficar a no máximo 11cm do chão.
e) Freios são permitidos em casos específicos.

35. O hábito regular de se exercitar corretamente gera benefícios físicos e mentais aos praticantes. Todos os itens são benefícios do exercício físico,
EXCETO:

- a) Aumento da força muscular e densidade óssea.
b) Diminuição da adiposidade e controle da pressão arterial.
c) Diminuição da insônia e melhora no apetite.
d) Aumento na capacidade cognitiva e aumento da pressão arterial.
e) Diminuição do estresse e melhora no apetite.

36. São competências gerais da educação básica,
EXCETO:

- a) Valorizar e utilizar os conhecimentos historicamente construídos sobre o mundo físico, social, cultural e digital para entender e explicar a realidade, continuar aprendendo e colaborar para a construção de uma sociedade justa, democrática e inclusiva.
b) Exercitar a curiosidade intelectual e recorrer à abordagem própria das ciências, incluindo a investigação, a reflexão, a análise crítica, a imaginação e a criatividade, para investigar causas, elaborar e testar hipóteses, formular e resolver problemas e criar soluções (inclusive tecnológicas) com base nos conhecimentos das diferentes áreas.
c) Valorizar e fruir as diversas manifestações artísticas e culturais, das locais às mundiais, e também participar de práticas diversificadas da

produção artístico-cultural.

d) Utilizar diferentes linguagens – verbal (oral ou visual-motora, como Libras, e escrita), corporal, visual, sonora e digital –, bem como conhecimentos das linguagens artística, matemática e científica, para se expressar e partilhar informações, experiências, ideias e sentimentos em diferentes contextos e produzir sentidos que levem ao entendimento mútuo.

e) Compreender, utilizar e criar tecnologias digitais de informação e comunicação de forma crítica, significativa, reflexiva e ética nas diversas práticas sociais (excluindo as escolares) para se comunicar, acessar e disseminar informações, produzir conhecimentos, resolver problemas e exercer protagonismo e autoria e autoridade na vida pessoal e coletiva.

37. O Plano Nacional de Educação (PNE) LEI nº 13.005/2014 composto por 20 metas são acompanhadas de um delineamento de prazos específicos para cada uma delas. No que se refere a PNE marque a alterna **INCORRETA**

a) A dimensão cronológica envolve o estabelecimento de etapas bianuais para o acompanhamento do Plano como um todo, nas quais deverão ser publicados, a partir de junho de 2016;

b) os estudos mais aprofundados acerca da trajetória dos indicadores das metas, considerando os três níveis federativos e os grupos sociais prioritários para o Plano;

c) Tem em conta essa Linha de Base para o diagnóstico dos aspectos circunscritos no PNE acerca da educação brasileira;

d) o processo de monitoramento do Plano será contínuo e contará com um cronograma para o desenvolvimento e a publicação bial dos estudos que devem ser feitos pelo Inep;

e) Tem em conta essa Linha de Base para o diagnóstico dos aspectos territoriais e biológicos inscritos no PNE acerca da educação regional.

38. De acordo com o que estabelece as diretrizes e bases da educação nacional os conteúdos curriculares da educação básica observarão as seguintes diretrizes abaixo listadas, **EXCETO**:

a) a difusão de valores fundamentais ao interesse social, aos direitos e deveres dos cidadãos, de respeito ao bem comum e à ordem democrática;

b) consideração das condições de escolaridade dos

alunos em cada estabelecimento;

c) orientação para o trabalho;

d) promoção do desporto educacional e apoio às práticas desportivas não-formais;

e) a difusão de valores fundamentais ao interesse social, aos direitos e deveres dos cidadãos, desrespeito ao bem incomum e à ordem democrática;

39. A Lei nº 9.394/96, de 20 de dezembro, publicada pelo Ministério da Educação, conhecida como Lei de Diretrizes e Bases da Educação (LDB), expressa a política e o planejamento educacional do país. Essas diretrizes são fundamentadas em relação à Constituição Federal, cujo Art. 206 define que o ensino será ministrado com base nos princípios abaixo listado, **EXCETO**:

a) igualdade de condições para o acesso e permanência na escola e liberdade de aprender, ensinar, pesquisar e divulgar o pensamento, a arte e o saber;

b) singularismo das ideias e de concepções pedagógicas e coexistência de instituições públicas e privadas de ensino;

c) gratuidade do ensino público em estabelecimentos oficiais e valorização dos profissionais do ensino, garantidos, na forma da lei, planos de carreira para o magistério público, com piso salarial profissional e ingresso exclusivamente por concurso público de provas e títulos;

d) gestão democrática do ensino público, na forma da lei;

e) garantia de padrão de qualidade.

40. Marque a alternativa **CORRETA** diante da afirmação “A demanda cognitiva das atividades de leitura deve aumentar progressivamente desde os anos iniciais do Ensino Fundamental até o Ensino Médio”. Esta complexidade se expressa pela articulação:

a) da diversidade dos gêneros textuais escolhidos e das práticas consideradas em cada campo; • da complexidade textual que se concretiza pela temática, estruturação sintática, vocabulário, recursos estilísticos utilizados, orquestração de vozes e linguagens presentes no texto;

b) na falta do uso de habilidades de leitura que exigem processos mentais necessários e progressivamente mais demandantes, passando de processos de recuperação de informação (identificação, reconhecimento, organização) a

processos de compreensão (comparação, distinção, estabelecimento de relações e inferência) e de reflexão sobre o texto (justificação, análise, articulação, apreciação e valorações estéticas, éticas, políticas e ideológicas);

c) da consideração da cultura africana e das TDIC;

d) desconsiderando culturalmente, de maneira a abranger produções e formas de expressão diversas, a literatura infantil e juvenil, o cânone, o culto, o popular, a cultura de massa, a cultura das mídias, as culturas juvenis etc.;

e) de forma a garantir redução de repertório, além de interação e trato com o semelhante.

RASCUNHO