



# CONCURSO PÚBLICO - PROVA OBJETIVA

ASSINATURA DO(A) CANDIDATO

Nº DE INSCRIÇÃO

CONTEMAX

CONSULTORIA TÉCNICA E PLANEJAMENTO LTDA

## PREFEITURA MUNICIPAL DE OROBÓ CONCURSO PÚBLICO N.º 001/2019

**CARGO: AUXILIAR ADMINISTRATIVO**

### INSTRUÇÕES:

#### VERIFIQUE SE ESTE CADERNO:

- Corresponde a sua opção de cargo.
- Contém 40 (quarenta) questões, numeradas de 01 a 40, caso contrário reclame ao fiscal da sala outro caderno. **NÃO** serão aceitas reclamações posteriores.
- Para cada questão existe apenas **UMA** resposta certa.
- Você deve ler cuidadosamente cada uma das questões e escolher a resposta certa.
- A alternativa escolhida deve ser marcada na **FOLHA DE RESPOSTAS** que você recebeu.

#### VOCÊ DEVE:

- Procurar na **FOLHA DE RESPOSTAS**, o número da questão que você está respondendo.
- Verificar no caderno de prova qual a letra (A, B, C, D, E) da resposta que você escolheu.
- Marcar essa letra na **FOLHA DE RESPOSTAS**, conforme o exemplo: [■].

#### ATENÇÃO:

- Marque as respostas com caneta esferográfica azul ou preta.
- Marque apenas uma letra para cada questão, mais de uma letra assinalada implicará nota zero à questão.
- Não será permitida qualquer espécie de consulta, nem o uso de máquina calculadora.
- Você terá 3 (três) horas para responder a todas as questões e preencher a folha de respostas.
- Devolva esse caderno de prova ao aplicador, juntamente com a sua folha de respostas.
- Proibida a divulgação ou impressão parcial ou total da presente prova. **Direitos Reservados.**

---

---

**RASCUNHO**

---

---

**LINGUA PORTUGUESA – 1 A 12 (02 PONTOS)****O Líder**

O sono do líder é agitado. A mulher sacode-o até acordá-lo do pesadelo. Estremunhado, ele se levanta, bebe um gole de água. Diante do espelho refaz uma expressão de homem de meia-idade, alisa os cabelos das têmporas, volta a se deitar. Adormece e a agitação recomeça. “Não, não!” debate-se ele com a garganta seca.

O líder se assusta enquanto dorme. O povo ameaça o líder? Não, pois se líder é aquele que guia o povo exatamente porque aderiu ao povo. O povo ameaça o líder? Não, pois se o povo escolheu o líder. O povo ameaça o líder? Não, pois o líder cuida do povo. O povo ameaça o líder?

Sim, o povo ameaça o líder do povo. O líder revolve-se na cama. De noite ele tem medo. Mas o pesadelo é um pesadelo sem história. De noite, de olhos fechados, vê caras quietas, uma cara atrás da outra. E nenhuma expressão nas caras. É só este o pesadelo, apenas isso. Mas cada noite, mal adormece, mais caras quietas vão se reunindo às outras, como na fotografia de uma multidão em silêncio. Por quem é este silêncio? Pelo líder. É uma sucessão de caras iguais como na repetição monótona de um rosto só. Nas caras não há senão a inexpressão. A inexpressão ampliada como em fotografia ampliada. Um painel e cada vez com maior número de caras iguais. É só isso. Mas o líder se cobre de suor diante da visão inócua de milhares de olhos vazios que não pestanejam. Durante o dia o discurso do líder é cada vez mais longo, ele adia cada vez mais o instante da chave de ouro. Ultimamente ataca, denuncia, denuncia, denuncia, esbraveja e quando, em apoteose, termina, vai para o banheiro, fecha a porta e, uma vez sozinho, encosta-se à porta fechada, enxuga a testa molhada com o lenço. Mas tem sido inútil. De noite é sempre maior o número silencioso. Cada noite as caras aproximam-se um pouco mais. Cada noite ainda um pouco mais. Até que ele já lhes sente o calor do hálito. As caras inexpressivas respiram – o líder acorda num grito. Tenta explicar à mulher: sonhei que... sonhei que... Mas não tem o que contar. Sonhou que era um líder de pessoas vivas.

(LISPECTOR, Clarice. Para não esquecer. São Paulo: Siciliano, 1992.)

01. De acordo com as ideias contidas no texto, pode-se inferir sobre ele, **CORRETAMENTE**, que:

- a) os pesadelos que atormentam o líder podem representar, simbolicamente, sua própria consciência.
- b) as caras que aparecem nos sonhos do líder o ameaçam, pois assumem uma expressão amedrontadora.
- c) a mulher do líder preocupa-se com os pesadelos do líder e recebe uma explicação racional por parte dele.
- d) o líder sabe racionalmente das origens de seu medo, por conseguinte, de seus pesadelos.
- e) o povo faz ataques ao líder e o provoca com denúncias.

02. Percebe-se, pela leitura do texto, que a figura do líder sente-se ameaçada de alguma forma, pois mostra-se inquieto e agitado, tendo pesadelos com frequência. Essa ameaça pode ter a ver com o medo que o líder sente a respeito de seu cargo público. Assim, ele pode temer a perda de seu posto. Assinale a opção que apresenta uma passagem retirada do texto que confirme essa última afirmação:

- a) “O sono do líder é agitado.” (1º parágrafo)
- b) “O líder se assusta enquanto dorme.” (2º parágrafo)

- c) “Mas o pesadelo é um pesadelo sem história.” (3º parágrafo)
- d) “Mas o líder se cobre de suor diante da visão inócua de milhares de olhos vazios que não pestanejam.” (3º parágrafo)
- e) “Sonhou que era um líder de pessoas vivas.” (3º parágrafo)

03. Pode-se afirmar que o texto clariceano, no que se refere à sua organização interna, constitui-se de uma sequência de:

- a) aspectos;
- b) fatos;
- c) conceitos;
- d) dados;
- e) argumentos.

04. O vocábulo destacado na passagem “**Estremunhado**, ele se levanta, bebe um gole de água.” (1º parágrafo) só pode significar no contexto:

- a) chateado
- b) revoltado
- c) incomodado
- d) sonolento
- e) apavorado

05. O termo destacado em “*Mas cada noite, mal adormece, mais caras quietas vão se reunindo às outras, como na fotografia de uma multidão em silêncio.*” (3º parágrafo) apresenta um valor semântico de:

- a) modo
- b) causa
- c) tempo
- d) estado
- e) consequência

06. Na passagem “*Nas caras não há senão a inexpressão.*” (3º parágrafo), o vocábulo destacado foi formado pelo processo de:

- a) derivação prefixal;
- b) derivação prefixal e sufixal;
- c) derivação parassintética;
- d) derivação sufixal;
- e) derivação deverbal.

07. Mesmo não marcada linguisticamente por um conectivo lógico, há uma relação semântica clara entre os dois períodos separados por ponto final na seguinte passagem: “*É uma sucessão de caras iguais como na repetição monótona de um rosto só. Nas caras não há senão a inexpressão.*” (3º parágrafo). Assinale a alternativa que apresenta o correto valor semântico estabelecido entre tais períodos:

- a) condição
- b) consequência
- c) oposição
- d) concessão
- e) explicação

08. Os vocábulos abaixo apresentam o mesmo encontro vocálico em sua estrutura, à **EXCEÇÃO** da opção:

- a) “guia”
- b) “quietas”
- c) “reunindo”
- d) “iguais”
- e) “denuncia”

09. Estão destacados, nos excertos abaixo retirados do texto, termos preposicionados com valor adjetivo, **MENOS** o que se encontra na alternativa:

- a) “Estremunhado, ele se levanta, bebe um gole de água.” (1º parágrafo)
- b) “Diante do espelho refaz uma expressão de homem de meia-idade, alisa os cabelos das têmporas, volta a se deitar.” (1º parágrafo)
- c) “Não, não!” debate-se ele com a garganta seca.” (1º parágrafo)
- d) “Sim, o povo ameaça o líder do povo.” (3º parágrafo)
- e) “(...) mais caras quietas vão se reunindo às outras, como na fotografia de uma multidão em silêncio.” (3º parágrafo)

10. O vocábulo “*meia-idade*” (1º parágrafo) está corretamente grafado com hífen; o mesmo **NÃO** ocorre em:

- a) mal-sucedido
- b) inter-regional
- c) hiper-realismo
- d) micro-organismo
- e) arqui-inimigo

11. Observa-se que os vocábulos retirados do texto, nas opções abaixo, apresentam a mesma regra de acentuação gráfica; a alternativa que apresenta uma palavra acentuada por regra **DIFERENTE** da demais é:

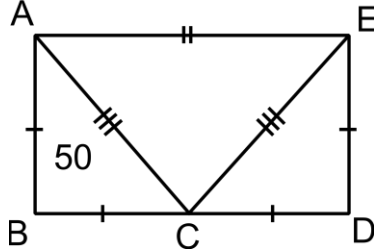
- a) água
- b) têmporas
- c) história
- d) silêncio
- e) inócuca

12. Os verbos destacados nas passagens abaixo retiradas do texto apresentam a mesma regência, com **EXCEÇÃO** da alternativa:

- a) “Diante do espelho refaz uma expressão de homem de meia-idade, (...)” (1º parágrafo)
- b) “(...) alisa os cabelos das têmporas, volta a se deitar.” (1º parágrafo)
- c) “Adormece e a agitação recomeça.” (1º parágrafo)
- d) “Não, pois se líder é aquele que guia o povo exatamente porque aderiu ao povo.” (2º parágrafo)
- e) “Sonhou que era um líder de pessoas vivas.” (3º parágrafo)

**RACIOCÍNIO LÓGICO – 13 A 16**  
**02 PONTOS**

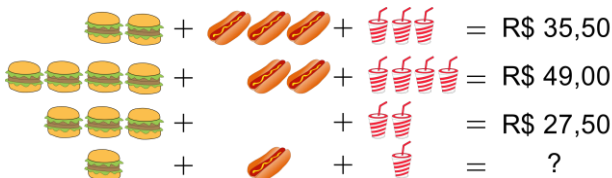
13. O envelope da figura tem dimensões desconhecidas, sabendo-se apenas que o triângulo ABC tem área igual 50 cm<sup>2</sup>. Além disso, as medidas AB, BC, CD e DE são congruentes entre si e as medidas AC e CE também são congruentes entre si.



Qual a área do triângulo ACE?

- a) 75 cm<sup>2</sup>
- b) 100 cm<sup>2</sup>
- c) 150 cm<sup>2</sup>
- d) 175 cm<sup>2</sup>
- e) 200 cm<sup>2</sup>

14. Uma lanchonete oferece os seguintes combos.



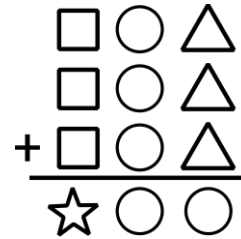
Considerando que os valores dos produtos são os mesmos em cada combo, o preço que o cliente paga levando um hamburger, um cachorro quente e um refrigerante é

- a) R\$12,50
- b) R\$13,00
- c) R\$13,50
- d) R\$14,00
- e) R\$14,50

15. Temos que 10 enfermeiras aplicam 10 injeções em 10 minutos. Logo, 100 enfermeiras aplicam 100 injeções em ...

- a) 1 minuto
- b) 5 minutos
- c) 10 minutos
- d) 60 minutos
- e) 100 minutos

16. Na soma de figuras abaixo, onde cada símbolo representa um algarismo diferente, o resultado encontrado no sistema decimal é



- a) 744
- b) 488
- c) 966
- d) 444
- e) 788

**ATUALIDADES – 17 A 20**  
**(02 PONTOS)**

17. As organizações internacionais podem ser definidas como associações voluntárias entre diferentes países. Analise as opções a seguir e identifique a que **NÃO** indica um exemplo de organização internacional.

- a) União Europeia.
- b) Forças Armadas do Brasil.
- c) Fundo Monetário Internacional.
- d) Organização das Nações Unidas.
- e) Organização Mundial do Comércio.

18. Machado de Assis é considerado um dos principais nomes da literatura brasileira. Analise as alternativas a seguir e marque a que **NÃO** indica uma de suas obras.

- a) Esaú e Jacó.
- b) Os Lusíadas.
- c) Quincas Borba.
- d) Dom Casmurro.
- e) Memórias Póstumas de Brás Cubas.

19. Segundo a Constituição, o Poder Executivo é exercido pelo Presidente da República, auxiliado pelos Ministros de Estado. Marque a alternativa que **NÃO** indica um ministro do atual governo brasileiro.

- a) Abraham Weintraub.
- b) Ciro Gomes.
- c) Damares Alves.
- d) Paulo Guedes.
- e) Sérgio Moro.

20. Em relação à atividade econômica brasileira, analise as alternativas a seguir e marque a que **NÃO** indica um dos principais produtos exportados atualmente pelo Brasil.

- a) Celulose.
- b) Componentes eletrônicos.
- c) Minério de Ferro.
- d) Óleos Brutos de Petróleo.
- e) Soja Triturada.

**CONHECIMENTOS ESPECÍFICOS – 21 A 40  
(03 PONTOS)**

21. Assinale **(V)** ou **(F)** nos parênteses, conforme a assertiva seja **verdadeira ou falsa**, respectivamente, de cima para baixo, a respeito dos atributos do ato administrativo segundo a doutrina:

(\_\_\_) A presunção de veracidade encontra-se presente em todos os atos administrativos, até prova em contrário uma vez que tem presunção relativa.

(\_\_\_) O atributo da imperatividade estará presente mesmo diante de atos administrativos considerados como inválidos pelo particular. Sendo assim, enquanto não declarada à ilegalidade do ato praticado, o particular deve cumprir as regras nele expostas.

(\_\_\_) Os atributos, conferidos por lei, são as prerrogativas de poder público presentes no ato administrativo, em decorrência do princípio da supremacia do interesse público sobre o interesse privado.

(\_\_\_) O atributo de presunção de legitimidade confere maior celeridade à atuação administrativa, uma vez que, após a prática do ato, esse estará apto a produzir efeitos automaticamente, como se válido fosse, até que se declare sua ilegalidade por decisão administrativa ou judicial.

(\_\_\_) Não sendo cumprida a obrigação imposta pelo ato administrativo, o poder público terá que, valendo-se de meios indiretos de coação, executar indiretamente o ato desrespeitado.

**Assinale a sequência CORRETA:**

- a) V – F – F – V – F
- b) F – V – V – F – V
- c) F – V – F – V – F
- d) V – V – V – V – V
- e) F – F – F – F – F

22. Segundo a Lei de Licitações e Contratos, é **CORRETO** afirmar que o conceito de compra entende-se por:

- a) Toda atividade destinada a obter determinada utilidade de interesse para a Administração, tais como: demolição, conserto, instalação, montagem, operação, conservação, reparação, adaptação, manutenção, transporte, locação de bens, publicidade, seguro ou trabalhos técnico-profissionais.
- b) Toda transferência de domínio de bens a terceiros.
- c) Todo produto adquirido sem caracterização do seu objeto e indicação dos recursos orçamentários para seu pagamento.
- d) Toda construção, reforma, fabricação, recuperação ou ampliação, realizada por execução direta ou indireta.
- e) Toda aquisição remunerada de bens para fornecimento de uma vez ou parceladamente.

23. O Decreto nº 7.892, de 23 de janeiro de 2013 foi instituído com a finalidade de regular o Sistema de Registro de Preços. Sendo assim, o Sistema de Registro de Preços poderá ser adotado nas seguintes hipóteses, **EXCETO**:

- a) Quando for conveniente a aquisição de bens com previsão de entregas parceladas ou contratação de serviços remunerados por unidade de medida ou em regime de tarefa.
- b) Quando for conveniente a contratação de serviços ou aquisições de bens pelos órgãos e entidades públicas e houver necessidade de contratação com objeto definido pela sua natureza e com quantitativo estabelecido.
- c) Quando for conveniente a aquisição de bens ou a contratação de serviços para atendimento a mais de um órgão ou entidade, ou a programas de governo.
- d) Quando, pelas características do bem ou serviço, houver necessidade de contratações frequentes.
- e) Quando, pela natureza do objeto, não for possível definir previamente o quantitativo a ser demandado pela Administração.

24. De acordo com a Lei nº 8.666, de 21 de junho de 1993, a celebração de convênio, acordo ou ajuste pelos órgãos ou entidades da Administração Pública depende de prévia aprovação de competente plano de trabalho proposto pela organização interessada. Nesse contexto, é **INCORRETO** afirmar que o

convênio, acorde ou ajuste ora celebrado deverá conter as seguintes informações:

- a) Identificação do objeto a ser executado.
- b) Metas a serem atingidas.
- c) Cronograma de pagamento e reembolso.
- d) Plano de aplicação dos recursos financeiros.
- e) Previsão de início e fim da execução do objeto, bem assim da conclusão das etapas ou fases programadas.

25. A política nacional de arquivos públicos e privados estabelece que: “os arquivos públicos são os conjuntos de documentos produzidos e recebidos, no exercício de suas atividades, por órgãos públicos de âmbito federal, estadual, do Distrito Federal e municipal em decorrência de suas funções administrativas, legislativas e judiciárias”. Dessa forma, analise as afirmativas a seguir a respeito dos arquivos privados identificados como de interesse público e social e marque a resposta **CORRETA**:

- a) Os arquivos privados identificados como de interesse público e social não poderão ser alienados com dispersão ou perda da unidade documental, nem transferidos para o exterior.
- b) Os arquivos privados identificados como de interesse público e social poderão ser alienados com dispersão ou perda da unidade documental e transferidos para o exterior
- c) Os arquivos privados identificados como de interesse público e social poderão ser alienados mediante autorização de seu proprietário ou possuidor.
- d) Os arquivos privados identificados como de interesse público e social não poderão ser alienados com dispersão ou perda da unidade documental, mas podem ser transferidos para o exterior.
- e) Os arquivos privados identificados como de interesse público e social poderão ser alienados com dispersão ou perda da unidade documental, mas não podem ser transferidos para o exterior.

26. A Redação Oficial é a maneira pela qual o Poder Público redige comunicações oficiais e atos normativos. Nesse contexto, são atributos da redação oficial, **EXCETO**:

- a) Objetividade.
- b) Clareza e precisão.
- c) Padronização.
- d) Uso da norma padrão da língua portuguesa.

e) Pessoalidade.

27. De acordo com o Decreto nº 7.892, de 23 de janeiro de 2013, é **CORRETO** afirmar que a divulgação da intenção de registro de preços poderá ser dispensada, de forma justificada pelo órgão:

- a) Participante.
- b) Não - participante.
- c) Gerenciador.
- d) Participante de compra nacional.
- e) Publicitário.

28. Analise o trecho a seguir: “o documento firmado por servidor em razão do cargo que ocupa ou função que exerce declarando a existência ou inexistência de um fato ou situação, mas que não consta em livros, papéis ou documentos em poder da Administração”, é **CORRETO** afirmar que o conceito trata-se de um (a):

- a) Atestado.
- b) Certidão.
- c) Circular.
- d) Declaração.
- e) Despacho.

29. São entes que compõe Administração Pública Indireta, **EXCETO**:

- a) Autarquias, inclusive as associações públicas.
- b) Fundações públicas.
- c) Municípios.
- d) Empresas públicas.
- e) Sociedade de economia mista

30. A tomada temporária de competência legalmente atribuída a um agente subordinado, por outro agente de hierarquia superior, é **CORRETO** afirmar que se denomina:

- a) deliberação.
- b) avocação.
- c) delegação.
- d) hierarquia.
- e) Atribuição.

31. Muitas pessoas acham que ter mais de um antivírus instalado no computador vai tornar o

ambiente virtual mais seguro. A questão é que acontece exatamente o contrário: esse tipo de programa deve atuar sozinho para não comprometer a varredura e atrapalhar a desinfecção dos arquivos infectados, além de aumentar o uso do processador. Sendo assim, ao instalar um outro antivírus no Windows 10, o programa nativo deve ser desabilitado. Assinale abaixo o nome desse programa que deve ser desabilitado se instalarmos outro antivírus no Windows 10.

- a) Diagnóstico de Memória do Windows.
- b) Windows Defender.
- c) Política de Segurança Local.
- d) Visualizador de Eventos.
- e) Monitor de Desempenho.

32. Uma mensagem dita terrorista supostamente se esconde no Microsoft Word. Se escrevermos o endereço das Torres Gêmeas, Q33 NY, e trocarmos a fonte para uma fonte específica, os caracteres □□□□□□ se formam, dando margem para esse “easter egg”. Assinale abaixo a fonte específica que gera essa lenda.

- a) Webdings.
- b) Lelawadee.
- c) Wingdings.
- d) Symbol.
- e) MT Extra.

33. Ao usar um e-mail, sequer pensamos em como essa mensagem é enviada. A questão é que esse processo se tornou tão simples que só precisamos um dispositivo conectado à Internet, seja um computador ou um telefone, para uma mensagem ser enviada. Mas existe uma estrutura por trás de tudo isso, um servidor para envio e outro para recebimento. Esses servidores devem resolver DNS para identificar para onde as mensagens devem ser enviadas de acordo com o domínio do endereço do destinatário. Com tudo isso em mente, assinale abaixo o único nome que não corresponde a um serviço de e-mail.

- a) Yahoo.com.br.
- b) Gmail.com.
- c) Bol.com.br.
- d) Thunderbird.
- e) Outlook.live.com.

34. O Microsoft Office é composto por um pacote, ou suite, de aplicativos de escritório que, em sua versão completa, atende vários tipos de empresas e conta com programas como o Publisher. Mas existem outros dois produtos que são vendidos separadamente e que se integram a essa suite. Assinale abaixo que dupla de programas é essa.

- a) Project / Visio.
- b) Outlook / Access.
- c) OneNote / Project.
- d) Visio / Access.
- e) OneNote / Outlook.

35. Links muito grandes podem ser um problema e tanto. Para resolver essa questão, o serviço de encurtador de links foi criado. Assinale abaixo o único item que não corresponde a um encurtador de links.

- a) Abre.ai.
- b) Bitly.
- c) Is.Gd.
- d) Encurtador.
- e) Kateos.

36. É possível que um vírus de Windows afete um Linux que esteja rodando Wine. Dessa forma, assinale **(V)** ou **(F)** nos parênteses, conforme a assertiva seja **verdadeira** ou **falsa**, respectivamente, de cima para baixo e marque a alternativa correspondente.

(\_\_\_) O Kali Linux é uma distribuição Linux só acessível por hackers.

(\_\_\_) O Windows é a distribuição mais famosa do Linux.

(\_\_\_) Não se deve usar dois softwares antivírus em uma mesma máquina.

(\_\_\_) O Windows Defender deve ser desativado caso outro antivírus seja instalado.

- a) F - V - V - F - F.
- b) V - F - F - V - V.
- c) V - V - F - V - F.
- d) F - V - F - V - V.
- e) V - V - V - F - F.

37. Segurança é um item crucial para o andamento do dia a dia de uma empresa de tecnologia, tanto que muitas delas contratam hackers para testar vulnerabilidades de sistemas. Para isso, existem



empresas que listam essas empresas que querem ser testadas e disponibilizam essa lista para hackers cadastrados que trabalham justamente tentando encontrar vulnerabilidades.

Assinale nas opções abaixo o nome desse tipo de teste.

- a) Segurança da informação.
- b) Testes de segurança.
- c) PenTest.
- d) Ataques DDoS.
- e) Spamdexing.

38. Uma das vulnerabilidades mais comuns em aplicações Web é conhecida como XSS. Destaque abaixo o nome real do XSS.

- a) Screenlogger.
- b) Rootkit.
- c) Spyware.
- d) Cross-site Scripting.
- e) Sniffer.

39. As inovações não param, e não é de hoje que a Microsoft tem um projeto inovador que instala servidores Web submersos no mar para ter maior velocidade de conexão e uma redução considerável dos custos de resfriamento desses servidores. Esse projeto está em andamento desde 2015, atualmente na fase dois.

Assinale abaixo o nome desse projeto.

- a) Projeto Zero.
- b) Projeto Natick.
- c) Projeto Scorpio.
- d) Projeto Sonnengewehr.
- e) Projeto 1065.

40. O Windows 7 foi vendido em várias versões, incluindo as versões Professional e Home Basic. Sabendo disso, marque abaixo a única opção que não se refere a uma versão do Windows 7.

- a) Windows 7 Home Premium.
- b) Windows 7 Enterprise.
- c) Windows 7 Ultimate.
- d) Windows 7 Starter.
- e) Windows 7 IoT Core.