

## LÍNGUA PORTUGUESA

Um futuro incerto espera os milhares de moradores vizinhos das centrais nucleares japonesas da localidade de Fukushima, afetadas pelo terremoto e posterior *tsunami*, enquanto se preparam para serem retirados e assim escapar da perigosa contaminação por radioatividade. O medo e a raiva causada pela crescente sensação de vulnerabilidade endureceram a oposição da população contra a energia nuclear. Cada vez mais pessoas reclamam uma revisão da tão comentada segurança das políticas e das tecnologias por trás da escolha de fontes alternativas.

São 54 reatores, que cobrem 30% do consumo de energia do país. O restante é gerado por carvão, petróleo e outras fontes. O Japão carece de recursos e optou por apostar seu futuro econômico na energia nuclear. Por emitir quase nada de dióxido de carbono, esta é uma opção atraente diante da mudança climática.

O prefeito de Futabacho, povoado próximo da central de Fukushima Daichi, disse que é hora de a população deixar de depender da usina nuclear. “O desastre mostrou que temos de rever nossa política a respeito da central atômica”, afirmou Katsutaka Idogawa. “Temos que desenvolver ideias para termos outra indústria que estabilize nossa economia”, afirmou o jornal Asahi.

Entretanto, os 7 mil moradores de Futabacho estão relacionados com a Fukushima Daichi, são empregados ou trabalham em outras atividades vinculadas a ela. O povoado fica a 10 quilômetros da zona de exclusão de 20 quilômetros, fixada pelas autoridades. O governo contou 25 mil pessoas abandonando Fukushima, às quais se somaram as 350 mil evacuadas das zonas mais afetadas.

O prefeito guiará o primeiro grupo de 1,5 mil pessoas que serão assentadas em Saitama, ao norte de Tóquio. Sua decisão, embora pareça arbitrária, preparará o caminho para que o restante da comunidade os siga e recomece sua vida como antes, até poderem voltar para suas casas. O processo de reassentamento sempre é doloroso, segundo vários especialistas, mas é pior quando são milhares de pessoas que devem fugir para escapar da contaminação radioativa e estão em perigo de não poderem voltar para suas casas por muito tempo.

“É uma tragédia”, disse o professor Toshikata Katada, da Universidade de Nagoya. O especialista em desastres dedicou décadas a percorrer a região propensa a terremotos, para criar mapas das áreas de perigo e medidas de emergência. Toshikata explicou que os especialistas não estavam preparados para o ocorrido. “Nossa preparação mostrou como o conhecimento se depara com os caprichos da natureza. Desta vez ela ganhou”, disse.

(Fonte: Revista Fórum – abril de 2011)

1. Em relação às informações presentes no texto, é correto afirmar que
- (A) o primeiro parágrafo expõe o problema a ser tratado (as pessoas atingidas pela radioatividade) e as consequências desse problema.
  - (B) o segundo parágrafo também se detém no problema causado às pessoas atingidas pela radioatividade.
  - (C) o terceiro parágrafo explica as vantagens apresentadas pela implantação das usinas nucleares.
  - (D) os três parágrafos fazem uma síntese das principais tentativas implantações de usinas nucleares no continente asiático.

2. Em relação à significação das palavras presentes no texto, leia as alternativas e assinale a que contém o sinônimo correto.

- (A) Na linha 7, a palavra “vulnerabilidade” pode ser substituída, sem que haja alteração de sentido, por “resistência”.
- (B) Na linha 31, a palavra “evacuadas” pode ser substituída, sem que haja alteração de sentido por “extenuadas”.
- (C) Na linha 35, a palavra “arbitrária” pode ser substituída, sem que haja alteração de sentido por “cautelosa”.
- (D) Na linha 45, a palavra “propensa” pode ser substituída, sem que haja alteração de sentido por “favorável”.

3. Em relação à classificação dos substantivos, leia as alternativas abaixo e assinale a correta.

- (A) Na linha 2, o substantivo “moradores” é classificado como sobrecomum.
- (B) Na linha 9, o substantivo “pessoas” é classificado como sobrecomum.
- (C) Na linha 20, o substantivo “população” é classificado como comum de dois gêneros.
- (D) Na linha 36, o substantivo “comunidade” é classificado como epiceno.

4. Assinale a alternativa cujo termo destacado seja um exemplo de conjunção.

- (A) O Japão carece de recursos e optou **por** apostar seu futuro econômico na energia nuclear.
- (B) Sua decisão, **embora** pareça arbitrária, preparará o caminho para que o restante da comunidade os siga e recomece sua vida como antes, até poderem voltar para suas casas.
- (C) O governo contou 25 mil pessoas abandonando Fukushima, às **quais** se somaram as 350 mil evacuadas das zonas mais afetadas.
- (D) O processo de reassentamento sempre é doloroso, segundo vários especialistas, mas é pior **quando** são milhares de pessoas que devem fugir para escapar da contaminação radioativa.

5. Na frase: “Sua decisão, embora pareça arbitrária, preparará o caminho para que o restante da comunidade os siga e recomece sua vida como antes, **até** poderem voltar para suas casas”, a palavra destacada possui a mesma regra de acentuação de

- (A) bambu.
- (B) pé.
- (C) será.
- (D) mês.

6. Leia as afirmativas a respeito do uso do “que” e assinale a alternativa correta.

- I. Na frase: “São 54 reatores, **que** cobrem 30% do consumo de energia do país”, possui valor de pronome relativo.
- II. Na frase: “O prefeito de Futabacho, povoado próximo da central de Fukushima Daichi, disse **que** é hora de a população deixar de depender da usina nuclear”, possui valor de conjunção integrante.
- III. Na frase: “O prefeito guiará o primeiro grupo de 1,5 mil pessoas **que** serão assentadas em Saitama, ao

<p>norte de Tóquio”, possui valor de conjunção integrante.</p> <p>IV. Na frase: “Toshikata explicou <b>que</b> os especialistas não estavam preparados para o ocorrido”, possui valor de pronome relativo.</p> <p>É correto o que se afirma somente em</p> <p>(A) I e III. (B) II e III. (C) I e IV. (D) I e II.</p>	<p>10. Somando cada valor correspondente a sequência dos múltiplos do 7, com os números ímpares, cada um com o valor de sua respectiva posição, obtemos a sequência a seguir: (1, 10, 19, 28, ...). O valor que ocupará a sétima posição desta sequência é o número</p> <p>(A) 55 (B) 54 (C) 53 (D) 52</p>
<p>7. As alternativas abaixo apresentam preposições destacadas, <b>EXCETO</b> uma. Assinale-a.</p> <p>(A) Um futuro incerto espera os milhares de moradores vizinhos <b>das</b> centrais nucleares japonesas da localidade de Fukushima.</p> <p>(B) Cada vez mais pessoas reclamam uma revisão da tão comentada segurança das políticas e das tecnologias <b>por</b> trás da escolha de fontes alternativas.</p> <p>(C) O prefeito de Futabacho, povoado próximo da central de Fukushima Daichi, disse que é hora de <b>a</b> população deixar de depender da usina nuclear.</p> <p>(D) O processo de reassentamento sempre é doloroso, segundo vários especialistas, mas é pior quando são milhares de pessoas que devem fugir <b>para</b> escapar da contaminação radioativa.</p>	<p>11. Lucas descobriu que a sequência dos números 1, 3, 6, 10, 15,..., recebe o nome de números triangulares. Continuando a montagem da sequência, o 8º número triangular que ele encontrará é o</p> <p>(A) 21 (B) 35 (C) 36 (D) 29</p>
<p>8. Leia as afirmativas abaixo a respeito do valor dos advérbios e assinale a alternativa correta.</p> <p>I. Na frase: “<b>Concomitantemente</b> ao evento, será feita a distribuição das moradias”, o advérbio destacado tem valor de tempo.</p> <p>II. Na frase: “Não foi <b>nada</b> fácil organizar o evento de comemoração”, o advérbio destacado tem valor de negação.</p> <p>III. Na frase: “Todos saíram <b>depressa</b> após o evento de comemoração”, o advérbio destacado tem valor de modo.</p> <p>IV. Na frase: “Não se sabe <b>por que</b> o evento durou tão pouco”, o advérbio destacado é classificado como interrogativo.</p> <p>É correto o que se afirma somente em</p> <p>(A) I, II e III. (B) I, III e IV. (C) II e III. (D) III e IV.</p>	<p>12. Josué tem 17 anos, seu pai tem 37 anos e seu avô 57. Somando a idade de seu pai com a sua, o tempo em anos, em que esta soma será igual a idade de seu avô é equivalente a</p> <p>(A) 8 anos (B) 3 anos (C) 12 anos (D) 4 anos</p>
<p style="text-align: center;"><b>RACIOCÍNIO LÓGICO</b></p> <p>9. Pedro perguntou a sua mãe qual era o maior número inteiro negativo de dois algarismos, formado por algarismos iguais. A resposta dela foi o número</p> <p>(A) 99 (B) -99 (C) 11 (D) -11</p>	<p>13. Em um torneio de atletismo realizado na cidade de Santana de Parnaíba, Luciano foi o 5º melhor e o 8º pior. O número de atletas que disputaram esta prova foi igual a</p> <p>(A) 9 (B) 10 (C) 11 (D) 12</p> <p>14. A cidade de Santana de Parnaíba completa, em 14 de novembro, 431 anos. A soma dos algarismos correspondentes a esta idade é exatamente igual a quantidade de vogais existentes no nome da cidade. Essa quantidade é igual a</p> <p>(A) 5 (B) 7 (C) 8 (D) 10</p> <p>15. A cidade de Santana de Parnaíba possui 108875 habitantes, segundo informações do censo do IBGE de 2010. Dessa quantidade 55223 são mulheres. No valor que representa a diferença entre a quantidade de mulheres e homens existentes na cidade, há um algarismo que se repete duas vezes. O dobro deste algarismo é igual a</p> <p>(A) 4 (B) 6 (C) 2 (D) 0</p>

16. Estudando para a realização do concurso, Maria leu dois capítulos de um livro, um deles começa na página 10 e termina na página 16 e o outro começa na página 31 e termina na página 33. Neste livro um capítulo nunca começa na mesma página em que o outro termina. A quantidade de páginas que ela leu foi igual a

- (A) 13
- (B) 12
- (C) 11
- (D) 10

### ATUALIDADES

Leia o trecho abaixo para responder à questão 17.

A Otan (Organização do Tratado do Atlântico Norte) anunciou nesta sexta-feira (21) que seus comandantes não tinham conhecimento da presença do ex-ditador Muammar Kadhafi no comboio de cerca de 75 veículos que foi bombardeado por caças franceses enquanto fugia de Sirte, último reduto tomado pelas tropas do Conselho Nacional de Transição do país. O ataque aéreo dispersou os veículos e permitiu que as tropas rebeldes capturassem e matassem o ex-ditador na quinta-feira (20). (Fonte: G1 – 21/10/2011)

17. Muammar Kadhafi era ex-ditador da(o)

- (A) Líbia.
- (B) Síria.
- (C) Kuwait.
- (D) Egito.

Leia o trecho abaixo para responder à questão 18.

O grupo militante basco ETA divulgou um comunicado nesta quinta-feira, 20/10/2011, afirmando que encerrou sua campanha armada pela independência, que já durava 43 anos. O grupo fez o anúncio no jornal basco Gara, que é usado geralmente como seu porta-voz. ETA declarou um cessar-fogo permanente em janeiro, mas até o momento não havia renunciado à luta armada como ferramenta para alcançar a independência do Estado Basco. (Último Segundo – 20/10/2011)

18. O Estado Basco quer se tornar independente dos países

- (A) Itália e Suíça.
- (B) França e Espanha.
- (C) Alemanha e Polônia.
- (D) Áustria e Hungria.

Leia o trecho abaixo para responder à questão 19.

Do nadador mais rápido do planeta, não dava para esperar outra coisa nos Jogos Pan-Americanos. O atleta caiu na água na noite desta quinta-feira (20/10/2011) para disputar sua prova favorita, o tiro curto dos 50m livre. Mesmo na altitude mexicana, só precisou de 21s58 para cruzar a piscina de Guadalajara, confirmar o favoritismo com a medalha de ouro e, de quebra, bater seu próprio recorde pan-americano. Atrás dele, completando a dobradinha verde-amarela, veio Bruno Fratus, com 22s05 e, como já está virando hábito, uma bermuda emprestada do campeão olímpico. Foi o mesmo roteiro do Campeonato Mundial, quando Bruno rasgou sua bermuda e pegou uma do colega para cair na água. Deu certo outra vez. (Fonte: G1 – 20/10/2011)

19. A notícia refere-se ao nadador

- (A) Leonardo de Deus.
- (B) Thiago Pereira.
- (C) Cesar Cielo.
- (D) Felipe Lima.

Leia o trecho abaixo para responder à questão 20.

Empresa que importou lixo hospitalar dos EUA vende forros de bolso de "qualidade" para todo o país e em sites internacionais. (UOL – 17/10/2011)

20. Responsável pela importação de lixo e restos hospitalares dos EUA para o Brasil, a empresa N A Intimidade Ltda-ME está localizada no estado brasileiro

- (A) Alagoas.
- (B) Recife.
- (C) Ceará.
- (D) Pará.

Leia a tirinha abaixo para responder à questão 21.



21. A tirinha refere-se ao empresário Steve Jobs que foi co-fundador da(o)





- (A) Google.
- (B) Facebook.
- (C) Microsoft.
- (D) Apple.

### CONHECIMENTOS BÁSICOS DE INFORMÁTICA

22. No Word 2007, o atalho Ctrl+P permite

- (A) formatar arquivo.
- (B) negritar o texto.
- (C) imprimir documento.
- (D) abrir tabela.

23. No Word 2007, para que seja diminuído o nível do recuo do parágrafo, deve-se usar a opção

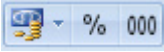
- (A) 
- (B) 
- (C) 
- (D) 

24. Tendo como referência o Word 2007, leia as proposições abaixo:

- I. É um processador de textos criado pela Microsoft.
- II. Não possui opção para inserção de tabelas.
- III. Possui a opção "Envelopes" na aba "Correspondências".
- IV. Possui a opção "Palavras", que mostra o número de palavras do documento. É possível formatar esta opção na caixa de diálogo "Contar Palavras".

É correto o que se afirma somente em

- (A) I e II.
- (B) III e IV.
- (C) II, III e IV.
- (D) I, III e IV.

<p>25. No Excel 2007, o atalho Ctrl+1 leva à caixa de diálogo</p> <p>(A) Formatar Células.  (B) Inserir Função.  (C) Criar Etiqueta.  (D) Inserir Gráfico.</p>	<p>32. De acordo com o artigo 84, o adicional de sexta parte será devido aos servidores após</p> <p>(A) 6 anos ininterruptos de trabalho.  (B) 15 anos ininterruptos de trabalho.  (C) 25 anos ininterruptos de trabalho.  (D) 35 anos ininterruptos de trabalho.</p>
<p>26. Tendo como referência o Excel 2007, a faixa de opções  representa, respectivamente,</p> <p>(A) Dinheiro, Porcentagem e Casas Decimais.  (B) Formato de Número de Contabilização, Estilo de Porcentagem e Separador de Milhares.  (C) Formato financeiro, Estilo de Porcentagem e Casas Decimais.  (D) Formato de Número de Contabilização, Separador de Milhares e Contador de Casas Decimais.</p>	<p>33. Conforme o artigo 97, pelo nascimento do filho o servidor terá direito à licença paternidade de</p> <p>(A) 120 dias consecutivos.  (B) 5 dias consecutivos.  (C) 30 dias consecutivos.  (D) 15 dias consecutivos.</p>
<p><b>CONHECIMENTOS BÁSICOS DE LEGISLAÇÃO</b></p>	
<p>As questões de 27 a 40 referem-se à Lei Complementar nº34, de 25 de maio de 2011, que dispõe sobre o Estatuto dos Servidores Públicos do Município de Santana de Parnaíba.</p>	
<p>27. Conforme o artigo 5, para atender a necessidade temporária de excepcional interesse público, os órgãos da Administração direta, as autarquias e as fundações poderão</p> <p>(A) nomear pessoal via concurso público.  (B) contratar pessoal por tempo determinado, nas condições e prazos previstos em lei específica.  (C) contratar pessoal por tempo indeterminado.  (D) nomear pessoal sem contrato.</p>	<p>35. No que se refere ao artigo 117, caso o servidor apresente de 15 a 24 faltas, automaticamente o período de férias será reduzido para</p> <p>(A) 29 dias.  (B) 25 dias.  (C) 20 dias.  (D) 18 dias.</p>
<p>28. De acordo com o artigo 11, parágrafo segundo, às pessoas com deficiência é assegurado o direito de se inscrever em concurso público para provimento de cargos cujas atribuições sejam compatíveis com as limitações que possuírem, sendo lhes reservadas</p> <p>(A) 2% (dois por cento) das vagas oferecidas.  (B) 3% (três por cento) das vagas oferecidas.  (C) 5% (cinco por cento) das vagas oferecidas.  (D) 6% (seis por cento) das vagas oferecidas.</p>	<p>36. Segundo o artigo 135, <b>NÃO</b> faz parte das proibições ao servidor</p> <p>(A) retirar, sem prévia anuência da autoridade competente, qualquer documento ou objeto da repartição.  (B) praticar usura sob qualquer de suas formas.  (C) praticar atos de sabotagem contra o serviço público.  (D) levar ao conhecimento da autoridade superior as irregularidades de que tiver ciência em razão do cargo.</p>
<p>29. Segundo o artigo 25, a vacância do cargo decorrerá de</p> <p>(A) designação.  (B) transferência.  (C) posse em outro cargo inacumulável.  (D) remoção.</p>	<p>37. De acordo com o artigo 150, a demissão será aplicada no caso de</p> <p>(A) praticar usura sob qualquer de suas formas.  (B) inassiduidade habitual.  (C) incitar greves.  (D) recusar fé a documentos públicos.</p>
<p>30. De acordo com o artigo 37, o período em estágio probatório é compreendido em</p> <p>(A) 26 meses.  (B) 36 meses.  (C) 46 meses.  (D) 56 meses.</p>	<p>38. De acordo com o artigo 161, a ação disciplinar de advertência, prescreverá em</p> <p>(A) 120 (cento e vinte) dias.  (B) 365 (trezentos e sessenta e cinco) dias.  (C) 180 (cento e oitenta) dias.  (D) 200 (duzentos) dias.</p>
<p>31. No que se refere ao artigo 62, além do vencimento, poderão ser pagas ao servidor as seguintes vantagens:</p> <p>(A) Diárias; Gratificações e adicionais; Salário família.  (B) Gratificações e adicionais; Salário família, 13º salário.  (C) Férias; Gratificações e adicionais; Salário família.  (D) Gratificações e adicionais; Férias, 13º salário.</p>	<p>39. Conforme o artigo 168, a sindicância será conduzida por comissão composta por no mínimo:</p> <p>(A) 5 servidores.  (B) 7 servidores.  (C) 4 servidores.  (D) 3 servidores.</p> <p>40. Segundo o artigo 175, o prazo para a conclusão do processo administrativo <b>NÃO</b> excederá</p> <p>(A) 60 dias.  (B) 45 dias.  (C) 30 dias.  (D) 15 dias.</p>

## **REDAÇÃO**

Elabore um texto dissertativo-argumentativo com, no mínimo, 20 (vinte) linhas e, no máximo, 30 (trinta) linhas, efetivamente, escritas acerca do tema:

### **A importância do planejamento estratégico na gestão municipal**

## **RASCUNHO**