


PREFEITURA DE SANTA LUZIA D'OESTE

MONITOR TRANSPORTE ESCOLAR

Código da Prova

F08 X
TARDE

 Verifique se o Código da Prova é o mesmo do seu cartão de respostas.

 Duração da prova: 3 horas e 30 minutos

TRANSCREVA, EM ESPAÇO DETERMINADO NO SEU CARTÃO DE RESPOSTAS,
A FRASE ABAIXO PARA O EXAME GRAFOTÉCNICO:

“Os problemas são oportunidades para se mostrar o que sabe.”
(Duke Ellington)



ATENÇÃO

Este caderno contém 50 (cinquenta) questões de múltipla escolha, cada uma com 05 (cinco) alternativas de resposta – A, B, C, D e E.

Verifique se este material está em ordem. Caso contrário, notifique imediatamente o fiscal.
O tempo de duração da prova inclui o preenchimento do Cartão de Respostas.

LEIA AS INSTRUÇÕES ABAIXO:

Siga, atentamente, a forma correta de preenchimento do Cartão de Respostas, conforme estabelecido no próprio. O Cartão de Respostas é personalizado, impossibilitando sua substituição.

Por motivo de segurança:

- O candidato só poderá se retirar definitivamente da sala após 1 (uma) hora do início efetivo da prova.
- Somente faltando 1 (uma) hora para o término da prova, o candidato poderá retirar-se levando o seu Caderno de Questões.
- O candidato que optar por se retirar sem levar o seu Caderno de Questões não poderá copiar suas respostas por qualquer meio.
- Ao terminar a prova, o candidato deverá se retirar imediatamente do local, não sendo possível nem mesmo a utilização dos banheiros e/ou bebedouros.

Candidato, ao terminar a prova, é de sua responsabilidade entregar ao fiscal o Cartão de Respostas assinado. Não se esqueça dos seus pertences.

Os três últimos candidatos deverão permanecer na sala até que o último candidato entregue o Cartão de Respostas.

O fiscal de sala não está autorizado a alterar quaisquer dessas instruções. Em caso de dúvida, solicite a presença do coordenador local.

BOA PROVA!

LÍNGUA PORTUGUESA

TEXTO I

Vocações

Todos diziam que a Leninha, quando crescesse, ia ser médica. Passava horas brincando de médico com as bonecas. Só que, ao contrário de outras crianças, quando largou as bonecas não perdeu a mania. A primeira vez que tocou no rosto do namorado foi para ver se estava com febre. Só na segunda é que foi carinho. Ia porque ia ser médica. Só tinha uma coisa: não podia ver sangue.

– Mas Leninha, como é que...

– Deixa que eu me arranjo.

Não que ela tivesse nojo de sangue. Desmaiava. Não podia ver carne mal passada. Ou Ketchup. Um arranhãozinho era o bastante para derrubá-la. Se o arranhão fosse em outra pessoa ela corria para socorrê-la - era o instinto médico -, mas botava o curativo com o rosto virado.

– Acertei? Acertei?

– Acertou o Joelho. Só que é na outra perna!

Mas fez vestibular para medicina, passou e preparou-se para começar o curso.

– E as aulas de anatomia, Leninha? Os cadáveres?

– Deixa que eu me arranjo.

Fez um trato com a Olga, colega desde o secundário. Quando abrissem um cadáver, fecharia os olhos. A Olga descreveria tudo para ela.

– Agora estão tirando o fígado. Tem uma cor meio...

– Por favor, sem detalhes.

Consegui fazer todo o curso de medicina sem ver uma gota de sangue. Houve momentos em que precisou explicar os olhos fechados.

– É concentração, professor.

Mas se formou. Hoje é médica, de sucesso. Não na cirurgia, claro. Se bem que chegou a pensar a convidar a Olga para fazerem uma dupla cirúrgica, ela operando com o rosto virado e a Olga dando as coordenadas.

– Mais pra esquerda... Aí. Agora corta!

Está feliz. Inclusive se casou, pois encontrou uma alma gêmea. Foi num aeroporto. No bar onde foi tomar um cafezinho enquanto esperava a chamada para o embarque puxou conversa com um homem que parecia muito nervoso.

– Algum problema? – perguntou, pronta para medicá-lo.

– Não – tentou sorrir o homem – É o avião...

– Você tem medo de voar?

– Pavor. Sempre tive.

– Então porque voa?

– Na minha profissão, é preciso.

– Qual é a sua profissão?

– Piloto.

Casaram-se uma semana depois.

(VERÍSSIMO, Luís Fernando. A mãe de Freud. Círculo de Livro, 1985.)

Questão 1

Compreende-se do Texto I que:

- (A) Leninha tinha vocação para cirurgia.
- (B) Leninha encontrou sua alma gêmea.
- (C) Olga não podia ver sangue.
- (D) Olga casou-se com um piloto.
- (E) Olga desmaiava ao ver sangue.

Questão 2

De acordo com o texto I, a solução de Leninha para as aulas de anatomia era:

- (A) os olhos fechados.
- (B) sua colega, Olga.
- (C) sua concentração.
- (D) sua vocação.
- (E) não ver sangue.

Questão 3

“– Você tem medo de voar?

– Pavor. Sempre tive.”

Os travessões indicam:

- (A) a mudança de interlocutor nos diálogos.
- (B) realce de termos intercalados.
- (C) comentários do narrador.
- (D) frases interrogativas diretas.
- (E) Falam irônicas.

Questão 4

“A **primeira** vez que tocou no rosto do namorado foi para ver se estava com febre.” O termo destacado é um numeral:

- (A) cardinal.
- (B) fracionário.
- (C) ordinal.
- (D) multiplicativo.
- (E) coletivo.

Questão 5

Assinale a alternativa que está na Voz Passiva.

- (A) A médica fez a cirurgia.
- (B) Ele guardou os documentos.
- (C) A cirurgia foi realizada por mim.
- (D) Ele anotou todas as perguntas.
- (E) Ela se cortou com o bisturi.

Questão 6

Assinale a alternativa em que todas as palavras estão corretas quanto à acentuação.

- (A) vezes, heróico.
- (B) círculo, portatil.
- (C) baú, alguém.
- (D) inglês, pólicia.
- (E) estátua, heroico.

Questão 7

A regência verbal segue as prescrições da norma culta em:

- (A) esta é a música que mais admiro.
- (B) boa era a história que se lembrou quando estava aqui.
- (C) esqueceu do retrato.
- (D) não abdicarei meus direitos.
- (E) o grupo chega a Londres à noite.

Questão 8

Assinale a alternativa que segue as prescrições da norma culta.

- (A) Para eu realizar o estudo é fundamental.
- (B) Preciso falar contigo.
- (C) Há alguma coisa para mim fazer?
- (D) Não há nada entre você e eu.
- (E) Não há nada entre você e mim.

Questão 9

Alternativa em que se justifica o uso do hífen como em "Micro-ondas" é:

- (A) auto-escola.
- (B) aicro-esfera.
- (C) auto-ajuda.
- (D) anti-inflamatório.
- (E) contra-indicação.

Questão 10**TEXTO II**

"**Imensas** noites de inverno,
Com **frias** montanhas **mudas**,
E o mar **negro**, mais **eterno**,
Mais **terrível**, mais **profundo**."
(Cecília Meireles)

As palavras destacadas são classificadas morfologicamente como:

- (A) advérbios.
- (B) pronomes indefinidos.
- (C) pronomes relativos.
- (D) substantivos.
- (E) adjetivos.

MATEMÁTICA

Questão 11

Pedro foi desafiado por seu professor a calcular a expressão numérica: $\frac{2}{5} + \frac{6}{10} + 1,5 + 2,5$. O resultado correto encontrado por ele foi:

(A) 5

(B) $\frac{12}{10}$

(C) $\frac{12}{50}$

(D) $\frac{24}{10}$

(E) 4,4

Questão 12

Uma padaria consegue produzir até 200 pães em 45 minutos. Sabendo-se que ela fica aberta durante 6 horas, qual a alternativa que apresenta a maior quantidade de pães que pode ser produzida por esta padaria?

(A) 1200

(B) 1000

(C) 1400

(D) 1600

(E) 1500

Questão 13

De um total de 36 alunos de uma turma, 16 são meninos. Qual é a razão entre a quantidade de meninos e meninas desta turma?

(A) $\frac{4}{5}$

(B) $\frac{4}{9}$

(C) $\frac{4}{10}$

(D) $\frac{5}{4}$

(E) $\frac{4}{3}$

Questão 14

Dividindo a quantia de R\$ 3760,00 em 4 partes diretamente proporcionais aos números 2, 5, 6 e 7, temos como menor valor após a divisão:

(A) R\$ 300,00

(B) R\$ 370,00

(C) R\$ 376,00

(D) R\$ 940,00

(E) R\$ 1128,00

Questão 15

André ganhou um aumento salarial de 40% e passou a receber R\$ 4200,00. Qual era o valor do salário de André antes do aumento?

(A) R\$ 4000,00

(B) R\$ 2520,00

(C) R\$ 2800,00

(D) R\$ 3000,00

(E) R\$ 2900,00

Questão 16

Uma empresa realizou uma pesquisa para saber os meios de transporte utilizados por seus funcionários. Responderam a essa pesquisa, 500 funcionários, dos quais 22% disseram não usar nenhum meio de transporte, 30% utilizam carros particulares e os demais usam os ônibus. Quantos funcionários desta empresa utilizam o ônibus como meio de transporte?

(A) 240

(B) 160

(C) 150

(D) 200

(E) 300

Questão 17

A soma de 4 números consecutivos é 206. Qual o maior destes números?

(A) 50

(B) 51

(C) 52

(D) 54

(E) 53

Questão 18

A subtração de 1349 a um número multiplicado por 9 tem resultado 154. Que número é esse?

- (A) 1386
- (B) 163
- (C) 1195
- (D) 167
- (E) 164

Questão 19

Sabendo que x é igual ao m.d.c. (máximo divisor comum) de 12 e 18 e y é igual ao m.d.c. de 17 e 34, o valor da expressão $\frac{x \cdot y}{3}$ é:

- (A) 17
- (B) 34
- (C) 102
- (D) 51
- (E) 30

Questão 20

Guilherme está acompanhando 2 séries. Uma das séries lança um novo episódio a cada 7 dias e a outra a cada 5 dias. Em um determinado dia, as duas lançaram novos episódios. Após quantos dias isto acontecerá novamente?

- (A) 12
- (B) 10
- (C) 35
- (D) 15
- (E) 30

ATUALIDADES**Questão 21**

“Os ônibus do transporte coletivo de Porto Velho continuaram parados na manhã desta terça-feira (14) por conta da greve de motoristas e cobradores. O movimento grevista começou no último sábado (11/01/2020)”

G1, 14/01/2020.

Disponível em: < <https://glo.bo/2XjeVZX>>Adaptado

O que motivou a greve mencionada no trecho acima?

- (A) Atrasos nos salários e benefícios dos trabalhadores
- (B) Insegurança causada pelo aumento de assaltos aos ônibus
- (C) Reivindicações por reajuste salarial
- (D) Superlotação dos ônibus em horários de pico
- (E) Reivindicação de participação nos lucros

Questão 22

“A Organização Mundial da Saúde (OMS) definiu nesta terça-feira (11/02/2020) o nome da doença respiratória provocada pela infecção do novo coronavírus”

G1, 11/02/2020.

Disponível em: < <https://glo.bo/3gnXYpY>> Adaptado

Qual é o nome oficial da doença causada pelo novo Coronavírus (Sars-Cov-2)?

- (A) Sars-19
- (B) Covid-19
- (C) Corona-19
- (D) Gripe-19
- (E) Influenza-19

Questão 23

“A santa, conhecida popularmente como Anjo Bom da Bahia, foi uma das religiosas mais populares do Brasil graças ao trabalho social prestado aos mais pobres e necessitados, principalmente na Bahia (...)”.

Gazetaweb.globo, 13/10/2019.

Disponível em: < <https://glo.bo/34RASCP>>Adaptado

Qual religiosa brasileira tornou-se Santa após sua canonização no dia 13 de outubro de 2019?

- (A) Madre Teresa de Calcutá
- (B) Nhá Chica
- (C) Irmã Paulina do Coração Agonizante de Jesus
- (D) Irmã Dulce
- (E) Beata Bárbara Maix

Questão 24

Segundo o Ministro da Economia do Brasil “agora o país deixou o eixo de negócios com países de ideologia obsoleta, como Venezuela e Cuba, e partiu para os grandes mercados, como Estados Unidos e União Europeia”.

economia.uol, 04/07/2019.

Disponível em: < <https://bit.ly/2XkemPw>>Adaptado

Qual ministro disse a frase destacada acima da publicação do Portal Uol, em julho de 2019?

- (A) Delfim Netto
- (B) Onyx Lorenzoni
- (C) Paulo Guedes
- (D) Marcos Pontes
- (E) Sérgio Moro

Questão 25

“A Câmara dos Deputados aprovou nesta quinta-feira (26/03/2020) um projeto que prevê o pagamento a trabalhadores informais por três meses em razão da pandemia do coronavírus. A mulher que for mãe e chefe de família poderá receber o valor dobrado”.

(G1, 26/03/2020. Disponível em: < <https://glo.bo/34Jr9Oz>>Adaptado)

O valor de cada parcela do auxílio emergência, aprovado pela Câmara dos Deputados, foi de:

- (A) R\$ 1.045,00
- (B) R\$ 200,00
- (C) R\$ 400,00
- (D) R\$ 1.000,00
- (E) R\$ 600,00

Questão 26

“Na segunda-feira (19/09/2019), os portovelhenses agradeceram pela chuva que caiu durante a tarde e à noite.(...) O estado está desde o início de agosto encoberto por fumaça. Essa poluição ameaça à saúde da população”.

G1, 20/08/2019.

Disponível em: < <https://glo.bo/3bfHPjq>>Adaptado

O que causou as cinzas e fumaças no estado de Rondônia?

- (A) Tempestades
- (B) Secas
- (C) Ventanias
- (D) Queimadas
- (E) Enchentes

Questão 27

“Na última semana de janeiro de 2020, chegou ao fim uma discussão política que durou quase quatro anos. A saída do Reino Unido da União Europeia, foi uma das pautas mais importantes para o cenário sociopolítico mundial”

R7, 08/02/2020.

Disponível em: < <https://bit.ly/36ppBdn>>Adaptado

Como ficou conhecida a saída do Reino Unido da União Europeia?

- (A) *Perestroika*
- (B) *Glasnost*
- (C) *Britland*
- (D) *The Troubles*
- (E) *Brexit*

Questão 28

“Em sua conta oficial no Twitter, Luiz Henrique Mandetta anunciou na tarde desta quinta-feira (16/04/2020) sua demissão pelo presidente Jair Bolsonaro”.

Rondoniagora, 16/04/2020.

Disponível em: < <https://bit.ly/2RMZG9I>>Adaptado

De qual cargo Luiz Henrique Mandetta foi demitido?

- (A) Ministro dos Esportes
- (B) Ministro da Economia
- (C) Ministro da Saúde
- (D) Ministro do Desenvolvimento Social
- (E) Ministro da Atenção Básica em Saúde

Questão 29

“Subiu para 20 o número de fugitivos que foram recapturados após a fuga em massa da unidade prisional Agenor Martins de Carvalho (...) na região central do estado. A captura mais recente aconteceu na tarde desta segunda-feira (10/02/2020), na Zona Rural do município”

G1, 10/02/2020.

Disponível em: < <https://glo.bo/3d7Y4A5>>Adaptado

Em qual município do estado de Rondônia está localizado o presídio Agenor Martins de Carvalho onde ocorreram as folgas?

- (A) Urupá
- (B) Ji-Paraná
- (C) Rolim de Moura
- (D) Ouro Preto do Oeste
- (E) Santa Luzia D'Oeste

Questão 30

“A música brasileira está de luto. Morreu, neste sábado (06/07/2019), no Rio de Janeiro, aos 88 anos, o cantor e compositor (...) criador da bossa nova e um dos maiores nomes da MPB”

G1, 06/07/2019.

Disponível em: < <https://glo.bo/2AQXSqp>>Adaptado

O trecho acima está se referendo a morte de qual famosos violonista, cantor e compositor?

- (A) Zé Geraldo
- (B) Geraldo Azevedo
- (C) Moraes Moreira
- (D) Gilberto Gil
- (E) João Gilberto

CONHECIMENTOS ESPECÍFICOS**Questão 31**

Sobre as vantagens decorrentes da presença do monitor, no que diz respeito à preservação da segurança de todos no transporte escolar, é correto afirmar que:

- (A) dispensa a prestação de primeiros socorros em uma eventual emergência.
- (B) aumento do mal uso do cinto de segurança pelas crianças e adolescentes.
- (C) diminui a probabilidade de atropelamento de crianças e adolescentes.
- (D) dispensa a preservação da segurança das crianças e dos adolescentes.
- (E) é seguro o desembarque de crianças e adolescentes com o veículo em movimento.

Questão 32

Leila é uma aluna que precisa do transporte escolar para ir estudar. Assinale a alternativa que corresponde a uma atitude a ser tomada pela aluna para que não venha a acontecer nenhum acidente ou incidente.

- (A) Não utilizar o cinto de segurança de forma adequada
- (B) Colocar a cabeça para fora da janela sempre que possível
- (C) Não manter o ambiente dentro do transporte tranquilo
- (D) Não colocar mãos e braços para fora do transporte
- (E) Tomar posse de objetos esquecidos por outros estudantes

Questão 33

Ao trabalhar com transporte de escolares, o monitor precisa analisar diversas situações durante todo o trajeto entre o local de moradia e o de estudos e vice-versa, evitando assim, qualquer tipo de incidente. Assinale, a partir das situações abaixo, a atitude que deve ser respeitada.

- (A) Excesso de lotação
- (B) Excesso de velocidade
- (C) Embarque em locais adequados
- (D) Desembarque em locais inadequados
- (E) Uso de álcool e outras drogas

Questão 34

O monitor de transporte escolar é uma pessoa admirada e respeitada pelos alunos. Alguns podem, inclusive, vê-lo como um exemplo a ser seguido. A partir disso, destaque qual a atitude tomada pelo monitor durante a viagem que provoca mal-estar e que pode inclusive, dependendo da situação, ser caracterizado como crime.

- (A) Confundir afetividade com sexualidade durante as orientações
- (B) Ouvir reclamações e analisar os problemas que ocorrem durante a viagem
- (C) Organizar a chegada e a saída de crianças e adolescentes
- (D) Orientar alunos sobre regras e procedimentos a serem obedecidos
- (E) Garantir respeito entre as crianças e adolescentes e ao condutor

Questão 35

É papel do monitor do transporte escolar orientar os alunos a respeito da manutenção e conservação do veículo. Como forma de garantir uma maior segurança, os alunos devem usar corretamente os equipamentos. Destaque o equipamento que NÃO se enquadra como meio de segurança do interior do veículo.

- (A) Extintores de incêndio
- (B) Saídas de emergências
- (C) Mochila de um aluno
- (D) Seguradores e apoios de mãos
- (E) Caixa de primeiros socorros

Questão 36

Assinale a alternativa que NÃO condiz com a organização e segurança dos usuários do transporte escolar.

- (A) Autorizar o desembarque dos estudantes em locais alheios à escola
- (B) Manter em dia a limpeza e conservação dos veículos
- (C) Embarque e desembarque exclusivamente no lado da calçada
- (D) Uso dos cintos de segurança por todos os usuários do veículo
- (E) Transportar somente passageiros devidamente autorizados

Questão 37

O monitor de transporte escolar possui algumas responsabilidades. Destaque, dentre as opções, a que NÃO se enquadra como tal.

- (A) Zelar pela segurança dos alunos durante o embarque e desembarque no veículo
- (B) Estar atento e acompanhar a travessia das vias pelos alunos
- (C) Auxiliar os alunos a entrarem e saírem do veículo, principalmente os deficientes
- (D) Facilitar e auxiliar o trabalho do motorista conversando com ele a todo o momento
- (E) Auxiliar os alunos a colocarem os cintos de segurança

Questão 38

Segundo o Estatuto da Pessoa com Deficiência (Lei nº 13.146/2015), analise as afirmativas abaixo:

- I. compete ao Poder Público garantir a dignidade da pessoa com deficiência ao longo de toda a vida;
- II. em situações de risco, emergência ou estado de calamidade pública, a pessoa com deficiência não será considerada vulnerável;
- III. a pessoa com deficiência não poderá ser obrigada a se submeter à intervenção clínica ou à institucionalização forçada;
- IV. a pessoa com deficiência somente será atendida, com seu consentimento prévio, em casos de risco de morte e de emergência em saúde.

Após a análise das afirmativas, assinale a correta.

- (A) I e II somente
- (B) I e III somente
- (C) II e III somente
- (D) III e IV somente
- (E) I e IV somente

Questão 39

O Estatuto da Criança e do Adolescente (Lei nº 8.069/1990) considera criança e adolescente aqueles que têm, respectivamente, as seguintes faixas etárias:

- (A) zero a onze anos de idade incompletos; doze a dezoito anos de idade.
- (B) zero a doze anos de idade incompletos; doze a dezoito anos de idade.
- (C) zero a doze anos de idade incompletos; treze a dezoito anos de idade.
- (D) zero a onze anos de idade incompletos; onze a dezoito anos de idade.
- (E) zero a doze anos de idade incompletos; doze a vinte e um anos de idade.

Questão 40

O Estatuto da Criança e do Adolescente (Lei nº 8.069/1990) defende que crianças e adolescentes devem ser tratados de forma:

- (A) negligente.
- (B) discriminatória.
- (C) respeitosa.
- (D) explorada.
- (E) violenta.

Questão 41

O Estatuto da Criança e do Adolescente (Lei nº 8.069/1990) cita em seu artigo 18-A que “a criança e o adolescente têm o direito de ser educados e cuidados sem o uso de castigo físico ou de tratamento cruel ou degradante...”. Márcia, monitora do transporte escolar, percebeu o princípio de uma briga entre duas crianças e ela deverá agir de forma:

- (A) ríspida.
- (B) humilhante.
- (C) violenta.
- (D) degradante.
- (E) educadora.

Questão 42

Jonas recebeu uma suspensão da escola por ser um menino bastante bagunceiro. Sabendo que a criança e o adolescente têm direito à educação, a alternativa que fere este direito é a que trata do(a):

- (A) direito à educação preparando para o exercício da cidadania.
- (B) igualdade de condições para o acesso e permanência na escola.
- (C) direito de não ser respeitado por seus educadores.
- (D) direito de contestar critérios avaliativos.
- (E) acesso à escola pública e gratuita, próxima de sua residência.

Questão 43

Maurício é uma criança em idade escolar e tem deficiência física. Assinale a alternativa que não corresponde aos direitos assegurados ao Maurício.

- (A) Direito ao transporte
- (B) Direito à mobilidade
- (C) Direito à educação
- (D) Direito aos obstáculos
- (E) Direito às vagas reservadas

Questão 44

Marque a alternativa que se enquadra como obrigação dos pais e/ou responsáveis se tratando de crianças e adolescentes.

- (A) Matricular filhos ou pupilos em agremiações estudantis
- (B) Matricular filhos ou pupilos em clubes de leituras
- (C) Matricular filhos ou pupilos na rede regular de ensino
- (D) Matricular filhos ou pupilos na escola de ensino
- (E) Matricular filhos ou pupilos na escola bíblica

Questão 45

Sobre as medidas de conscientização, prevenção e enfrentamento do uso ou dependência de drogas, analise as imagens abaixo e defina qual delas não se enquadra no tema citado.


(A)



(B)




(C)



(D)



(E)



Questão 46

Maria quer se candidatar à Conselheira Tutelar, mas para que isso ocorra é preciso que ela cumpra alguns requisitos. Quais seriam esses requisitos?

- I. reconhecer a idoneidade moral;
- II. ter idade superior a dezoito anos;
- III. residir no município de candidatura;
- IV. prestar serviço público irrelevante.

Estão corretas as alternativas:

- (A) I e II somente.
- (B) I e III somente.
- (C) I e IV somente.
- (D) II e III somente.
- (E) III e IV somente.

Questão 47

Quando se fala em acessibilidade, o uso dos veículos deve ser garantido para todas as pessoas, independente do tipo de deficiência. Com base nisso, qual dos objetos abaixo não se enquadra na acessibilidade?

- (A) Piso baixo
- (B) Rampa
- (C) Elevador
- (D) Braille
- (E) Escada

Questão 48

O Estatuto da Pessoa com Deficiência (Lei nº 13.146/2015) traz em seu artigo 3º, inciso IV o significado de barreiras: “qualquer entrave, obstáculo, atitude ou comportamento que limite ou impeça a participação social da pessoa, bem como o gozo, a fruição e o exercício de seus direitos à acessibilidade, à liberdade de movimento e de expressão, à comunicação, ao acesso à informação, à compreensão, à circulação com segurança, entre outros”.

A partir disso, assinale a barreira que mais atrapalha as crianças e os adolescentes no transporte escolar.

- (A) Piso tátil para deficientes visuais
- (B) Espaço reservado para acompanhantes
- (C) Assentos não reservados aos deficientes
- (D) Área reservada para o cão-guia
- (E) Elevadores de acesso para mobilidades reduzidas

Questão 49

Como forma de organizar o fluxo de alunos durante os horários de entrada e saída na escola, observe o que NÃO se enquadra nesta organização a partir da análise das alternativas abaixo.

- (A) Escalonamento da entrada e da saída de alunos por turmas ou faixas etárias
- (B) Uso de mais de um portão, caso a escola tenha, para desobstruir os corredores
- (C) Alunos que chegam cedo e saem tarde fazerem atividades dentro das salas de aula
- (D) Chegada e partida do transporte escolar fora do horário prejudicando os estudantes
- (E) Disponibilização de funcionário para supervisionar o fluxo de alunos nos corredores

Questão 50

Observe a situação hipotética:

Uma professora percebe a ausência de um de seus alunos em várias aulas. Muito preocupada, ela avisa a direção da escola que faz contato com a família da criança. Esta família, por sua vez, diz que a criança voltará a frequentar as aulas no dia seguinte. Mas não foi isso o que aconteceu, pois ela continuou perdendo muitas aulas.

Qual será a atitude a ser tomada pela escola visando a garantia do direito à educação das crianças e dos adolescentes?

- (A) Entrar em contato com a Secretaria de Educação
- (B) Entrar em contato com a Secretaria de Cultura
- (C) Entrar em contato com a Secretaria de Assistência Social
- (D) Entrar em contato com o motorista do transporte
- (E) Entrar em contato com o Conselho Tutelar