



PREFEITURA MUNICIPAL DE CAMPOS DO JORDÃO

Estado de São Paulo

ASSISTENTE ADMINISTRATIVO

CONCURSO PÚBLICO
02/2019

NÃO ABRA ESTE CADERNO DE QUESTÕES ANTES QUE LHE PEÇAM.

AGUARDE AUTORIZAÇÃO PARA INICIAR A PROVA.

- ♣ Desligue o celular e outros aparelhos.
- ♣ Este **Caderno de Questões** contém **30 (trinta) questões** da Prova do seu Cargo. Verifique se este caderno corresponde com a sua opção de inscrição.
- ♣ Procure responder as questões na ordem em que elas aparecem no **Caderno de Questões**. Responda a todas as questões.
- ♣ Os candidatos poderão levar consigo o caderno de questões após o tempo mínimo de permanência na sala de Provas.
- ♣ Você deve assinar a Folha de Respostas. Confira todos os seus dados (Nome, RG, Data de Nascimento) e assine no campo indicado para assinatura.
A não assinatura por parte do candidato na Folha de Respostas resultará na eliminação automática do mesmo.
- ♣ Para preenchimento da Folha de Respostas, utilize caneta esferográfica azul ou preta.
- ♣ Você deve assinalar na **Folha de Respostas** somente uma letra (alternativa) para cada questão.
- ♣ Preencha na Folha de Respostas, com caneta de tinta azul ou preta, a letra escolhida conforme o exemplo:

--	--	--	--
- ♣ Assinale apenas uma alternativa para cada questão. Mais de uma marcação anulará a resposta.
- ♣ Não será permitido substituir a Folha de Respostas. Não rasure, amasse ou dobre a Folha.
- ♣ É vedado qualquer tipo de consulta e/ou comunicação durante a Prova.
- ♣ A prova terá duração de **2 horas**.
O tempo mínimo de permanência na sala é de **1 hora**.
- ♣ Sairão simultaneamente os 3 (três) últimos candidatos de cada sala. Havendo insistência por parte do candidato em sair da sala, este será considerado desistente do Concurso Público.
- ♣ Deixe sobre a carteira **apenas** RG, Caneta, Lápis e Borracha.
- ♣ Qualquer dúvida, fale exclusivamente com o fiscal de sala.

BOA PROVA !

CONHECIMENTOS GERAIS

CONHECIMENTO UNIVERSAL

?

01

" O ano de 2019 foi conturbado para os membros do Supremo Tribunal Federal (STF). Em meio a diversas votações controversas, como a derrubada da prisão em segunda instância e a criminalização da homofobia, e protestos de rua que os colocaram como alvo, o número de pedidos de impeachment dos magistrados atingiu neste ano um patamar recorde. Desde janeiro, foram 14 representações contra integrantes da Corte, cinco a mais do que no ano passado. O presidente do STF é o mais visado. Metade das tentativas protocoladas neste ano foram para que ele perdesse o cargo. No entanto, o Senado, responsável por dar continuidade aos pedidos, engavetou todos os pedidos de destituição dos magistrados. Veja a seguir os sete julgamentos com maior repercussão neste ano: 1. Criminalização da homofobia; 2. Competência da Justiça eleitoral; 3. Crédito tributário da Zona Franca de Manaus; 4. Privatização de subsidiárias; 5. Ordem das alegações em casos de delação premiada; 6. Fim da prisão em 2ª instância; 7. Compartilhamento de dados pelo Coaf."

Fonte: CERIONI, Clara. "Relembra as 7 votações no STF que definiram 2019", Exame, 28/12/2019. Disponível em < <https://tinyurl.com/qrc714>>

Quem era o presidente do Supremo Tribunal Federal em 2019?

- (A) Dias Toffoli
- (B) Gilmar Mendes
- (C) Jair Bolsonaro
- (D) Rodrigo Maia

02

"As eleições diretas representam um avanço histórico na forma em que os brasileiros elegem seus governantes desde que foi promulgada a Constituição de 1988. Em 2020, será realizado mais um ano para eleições, que levarão milhões de brasileiros as urnas em todo o Brasil para escolherem os prefeitos e vereadores de suas respectivas cidades. Com data de realização agendada para 04 de Outubro de 2020, a próxima corrida eleitoral será marcada de algumas novidades, a principal dela, sendo a de proibição de alianças quanto a disputa para as cadeiras da câmara de vereadores, sendo somente permitida a realização de alianças para os cargos do executivo, ou seja, prefeito e vice-prefeito."

Fonte: CUNHA, Márcio. Jornal Opção, 24/11/2019. Disponível em < <https://tinyurl.com/yx3j2omn>>

Quando é a periodicidade das eleições gerais no Brasil?

- (A) a cada ano
- (B) a cada dois anos
- (C) a cada três anos
- (D) a cada quatro anos

03

"Após entrevista coletiva concedida a jornalistas nesta manhã na residência oficial, o presidente da Câmara dos Deputados fez um balanço positivo da agenda da Casa neste ano. Ele destacou a aprovação da reforma da Previdência e do novo marco legal do saneamento

básico. A reforma da Previdência aprovada pelo Congresso aumenta o tempo para se aposentar, limita o benefício à média de todos os salários, eleva as alíquotas de contribuição para quem ganha acima do teto do INSS e estabelece regras de transição para os atuais assalariados. Já o marco do saneamento aprovado pelos deputados facilita a privatização de estatais do setor, exige licitação para a contratação desses serviços e prorroga o prazo para o fim dos lixões."

Fonte: Agência Câmara Notícias, 19/12/2019. Disponível em

<<https://tinyurl.com/yx4s2tjb>>

Quem foi o presidente da Câmara Federal em 2019?

- (A) David Samuel Alcolumbre Tobelem
- (B) Eduardo Cosentino da Cunha
- (C) Delegado Waldir
- (D) Rodrigo Felinto Ibarra Eptácio Maia

LÍNGUA PORTUGUESA

?

Texto para as questões de 04 a 09

A flor no asfalto

Otto Lara Rezende

Conheço essa estrada genocida, o começo da Rio-Petrópolis. Duvido que se encontre um trecho rodoviário ou urbano mais assassino do que esse. São tantos os acidentes que já nem se abre inquérito. Quem atravessa a avenida Brasil fora da passarela quer morrer. Se morre, ninguém liga. Aparece aquela velinha acesa, o corpo é coberto por uma folha de jornal e pronto. Não se fala mais nisso.

Teria sido o destino de dona Creusa, se não levasse nas entranhas a própria vida. Na pista que vem para o Rio, a 20 metros da passarela de pedestres, dona Creusa foi apanhada por uma Kombi. O motorista tentou parar e não conseguiu. Em seguida, veio um outro carro, um Apollo, e sobreveio o segundo atropelamento. A mesma vítima. Ferida, o ventre aberto pelas ferragens, deu-se aí o milagre.

Dona Creusa estava grávida e morreu na hora. Mas no asfalto, expelida com a placenta, apareceu uma criança. Coberta a mãe com um plástico azul, um estudante pegou o bebê e o levou para o acostamento. Nunca tinha visto um parto na sua vida. Entre os curiosos, uma mulher amarrou o umbigo da recém-nascida. Uma menina. Por sorte, vinha vindo uma ambulância. Depois de chorar no asfalto, o bebê foi levado para o hospital de Xerém.

Dona Creusa, aos 44 anos, já era avó, mãe de vários filhos e viúva. Pobre, concentração humana de experiências e de dores, tinha pressa de viver. E era uma pilha carregada de vida. Quem devia estar ali era sua nora Marizete. Mas dona Creusa se ofereceu para ir no seu lugar porque, grávida, não pagava a passagem. Com o dinheiro do ônibus podia comprar sabão. Levava uma bolsa preta, com um coração de cartolina vermelha.

No cartão estava escrito: quinta-feira. Foi o dia do atropelamento. Apolo é o símbolo da vitória sobre a violência. Diz o poeta Píndaro que é o deus que põe no coração o amor da concórdia. No hospital, sete mães

disputaram o privilégio de dar de mamar ao bebê. A vida é forte. E bela, apolínea, apesar de tudo. Por que não?

(Folha de S. Paulo, 30/05/1992)

FONTE: <http://varaldeleitura.blogspot.com.br/2014/06/cronica-flor-no-asfalto-de-ottolara.html>

04

A passagem “*Aparece aquela velinha acesa, o corpo é coberto por uma folha de jornal e pronto. Não se fala mais nisso*” é:

- (A) Narrativa
- (B) Descritiva
- (C) Dissertativa
- (D) Injuntiva

05

Considerando a passagem “*Teria sido o destino de dona Creusa, se não levasse nas entranhas a própria vida*” e o texto como um todo, é correto afirmar que a forma verbal em destaque:

- (A) Estabelece ideia de dúvida, uma vez que não fica claro, ao longo da passagem, se a personagem morreu por ter sido atropelada na rodovia.
- (B) Nega a certeza narrativa construída no parágrafo anterior.
- (C) Reforça a ideia de que as mortes ocorridas na rodovia caem no anonimato.
- (D) Desfaz a ideia do parágrafo anterior, pois a morte da personagem se diferencia das demais, visto que ela fora atropelada duas vezes.

06

Em “*Dona Creusa estava grávida e morreu na hora. Mas no asfalto, expelida com a placenta, apareceu uma criança*”, o termo em destaque estabelece, com o período anterior, ideia de:

- (A) causa
- (B) adversatividade
- (C) consequência
- (D) intensificação

07

O texto é uma crônica, o que justifica o uso de uma variante linguística mais informal. Se reescrevêssemos a passagem “*Coberta a mãe com um plástico azul, um estudante pegou o bebê e o levou para o acostamento*” pluralizando o termo *bebê*, considerando apenas a variante formal delimitada pela gramática normativa, teríamos:

- (A) Coberta a mãe com um plástico azul, um estudante pegou os bebês e os levou ao acostamento.
- (B) Coberta a mãe com um plástico azul, um estudante pegou os bebês e os levaram ao acostamento.
- (C) Coberta a mãe com um plástico azul, um estudante pegou os bebês e os levou para o acostamento.
- (D) Coberta a mãe com um plástico azul, um estudante pegou os bebês e os levaram para o acostamento.

08

Pelo contexto narrativo, o segundo atropelamento foi causado por um Apolo, carro produzido nos anos 90 pela montadora Volkswagen. Apolo é também um dos principais deuses da mitologia greco-romana. Essa interessante relação intertextual é explorada pelo autor

ao final da crônica. Levando em consideração essas informações e o contexto, assinale a alternativa que contenha a melhor aceção do termo grifado contido na passagem “*A vida é forte. E bela, apolínea, apesar de tudo*”:

- (A) relativo ou pertencente a Apolo.
- (B) luminosa.
- (C) sem ordem; irracional, anárquica.
- (D) de natureza desinibida e agitada.

09

Na passagem “*No hospital, sete mães disputaram o privilégio de dar de mamar ao bebê*”, se o termo em destaque fosse substituído por ‘*criança*’, teríamos:

- (A) No hospital, sete mães disputaram o privilégio de dar de mamar a criança.
- (B) No hospital, sete mães disputaram o privilégio de dar de mamar à criança.
- (C) No hospital, sete mães disputaram o privilégio de dar de mamar pra criança.
- (D) No hospital, sete mães disputaram o privilégio de dar de mamar ante a criança.

10

Na frase

“*Eles eram proibidos de comer, dormir ou casar com pessoas saudáveis, não podiam tocar em comidas nos mercados e nem entrar em algumas cidades, como São Paulo*”

a expressão em destaque traduz ideia de:

- (A) Soma
- (B) Oposição
- (C) Causa
- (D) Consequência

MATEMÁTICA

?

11

O salário de uma diarista varia de acordo com os dias e a quantidade de horas que a mesma trabalha. De segunda à quarta-feira ela cobra R\$ 10,00 por hora, de quinta e sexta-feira a hora de seu trabalho custa R\$ 15,00 e aos sábados o valor chega à R\$ 20,00 por hora. A tabela abaixo mostra a quantidade de horas trabalhadas por ela em determinada semana.

DIA DA SEMANA	HORAS TRABALHADAS
Segunda-feira	7
Terça-feira	6
Quarta-feira	6
Quinta-feira	8
Sexta-feira	6
Sábado	4

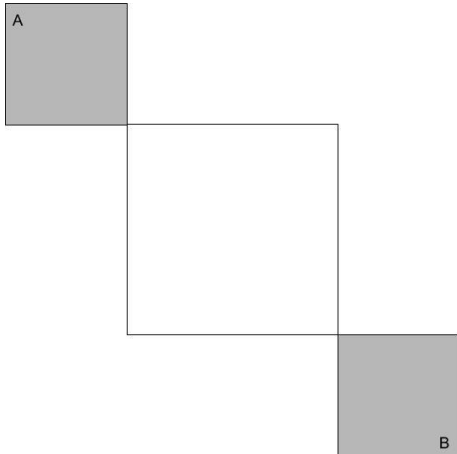
Qual foi a média de salário diário da mesma na semana apresentada?

- (A) R\$ 60,00
- (B) R\$ 70,00
- (C) R\$ 80,00
- (D) R\$ 90,00

12

Uma prova de velocidade é feita em uma pista onde temos dois quadrados cinzas e um quadrado branco central, como vemos na figura. Nos quadrados cinza é permitido aos participantes utilizar toda a sua área, enquanto no branco eles somente podem andar sobre os seus lados.

Sabendo que o lado do quadrado cinza mede 2 metros e o do quadrado branco mede 4 metros. A menor distância que pode ser percorrida para uma atleta sair do ponto A e chegar no ponto B é:



- (A) $8\sqrt{2}$.
 (B) $8 + 4\sqrt{2}$.
 (C) $10 + 2\sqrt{2}$.
 (D) $4 + 8\sqrt{2}$.

ÁREA PARA RASCUNHO

13

Em 2020 ocorre as olimpíadas de Tóquio. No quadro abaixo podemos ver um levantamento do total de medalhas ganhas por alguns países da América do Sul, ao longo de todas as competições.

	Ouro	Prata	Bronze	Total
Brasil	30	36	63	129
Argentina	21	25	28	74
Colômbia	5	9	14	28
Venezuela	2	3	10	15

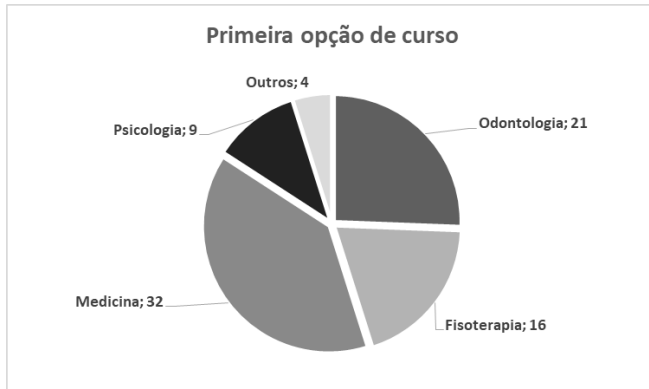
Com base nos dados apresentados na tabela, a única afirmação verdadeira é:

- (A) O total de medalhas ganhas pela Argentina, é igual a 55% do total de medalhas ganhas pelo Brasil.
 (B) O total de medalhas de ouro ganhas por esses países juntos totalizam 60 medalhas.
 (C) O quádruplo das medalhas de Ouro ganhas pela Colômbia somado com as medalhas de bronze ganhas pela Venezuela é igual ao número de medalhas de ouro ganhas pelo Brasil.
 (D) O total de medalhas ganhas pela Colômbia é menor que o número de medalhas de bronze ganhas pela Argentina.

ÁREA PARA RASCUNHO

14

A coordenadora de um cursinho pré-vestibular procurou mapear o interesse dos estudantes em cursos da área da saúde questionando-os sobre qual seria a primeira opção de cada um no vestibular caso existissem apenas cursos desta área. A partir dessa questão gerou o gráfico a seguir onde a quantidade de estudantes que optaram por determinado curso segue à frente do nome correspondente no gráfico.



A quantidade de estudantes que não optariam por Odontologia é:

- (A) Superior à três quartos da turma
- (B) Inferior à um quarto da turma
- (C) Inferior à 70% dos estudantes
- (D) Superior à 70% dos estudantes

15

Três atletas treinavam para suas respectivas competições em uma pista circular. O treinador percebeu que havia diferenças entre o desempenho de cada um deles:

Antônio completava meia volta na pista em 3 minutos, Bernardo realizava a volta inteira em 8 minutos e Cláudio percorria um quarto da pista em um minuto. O ritmo do trio se manteve constante durante os 48 minutos de atividade na pista de 800 metros de comprimento. Pode-se, portanto, constatar que:

- (A) Arnaldo percorreu 400 metros a mais que Bernardo
- (B) Bernardo percorreu 4000 metros a menos que Cláudio
- (C) Cláudio percorreu mais do que 3200 metros que Arnaldo
- (D) Arnaldo e Bernardo percorreram, juntos, a mesma distância de Cláudio

16

O número natural que é igual ao quociente de 16 dividido por esse número é:

- (A) 2.
- (B) -2.
- (C) 4.
- (D) -4.

ÁREA PARA RASCUNHO

ÁREA PARA RASCUNHO

CONHECIMENTOS ESPECÍFICOS

17

De acordo com os contratos administrativos, assinale a alternativa incorreta:

- (A) O contrato administrativo é sempre consensual e, em regra, formal, oneroso, comutativo.
- (B) São consensuais, por surgirem da vontade e consentimento mútuo entre as partes envolvidas.
- (C) São unilaterais, porque, realizado o acordo, surgem direitos e obrigações recíprocas para ambos os contratantes.
- (D) É comutativo, porque estabelece compensações recíprocas e equivalentes para as partes.

18

Na administração pública, há 05 princípios, de acordo com o princípio de “Legalidade”, responda a alternativa correta:

- (A) O princípio da legalidade obriga os agentes públicos a atuarem em conformidade com os princípios éticos.
- (B) O princípio da legalidade refere-se, exatamente, à moral comum, aos valores morais que estão postos, nas normas jurídicas.
- (C) O princípio da legalidade resume-se, no conceito da boa administração.
- (D) O princípio da legalidade trata-se da valorização da lei, acima dos interesses privados, ou seja, pessoais.

19

Conforme o trecho “garante a transparência, na administração pública, vivendo em um Estado Democrático de Direito, ou seja, o poder pertence ao povo, assim não deve ocorrer qualquer tipo de ocultamento de informações por parte do poder público”, assinale a alternativa que configure, corretamente, o princípio da administração pública explicado.

- (A) Princípio de Legalidade.
- (B) Princípio de Publicidade.
- (C) Princípio de Eficiência.
- (D) Princípio de Impessoalidade.

20

O nível de estoque que, ao ser atingido, determina imediata emissão de um pedido de compra, visando completar o estoque máximo, recebe o nome de:

- (A) Ponto de pedido
- (B) Ponto crítico
- (C) Ponto mínimo
- (D) Ponto de estoque

21

Referente a “estoques”, assinale a alternativa que não seja correta.

- (A) É sempre importante para uma empresa manter seus estoques abastecidos, muitas vezes, são constituídos por seus próprios produtos.

- (B) Os estoques são materiais e suprimentos que uma empresa utiliza para a produção de seu produto ou suprimir a necessidade da própria empresa.
- (C) O administrador de estoques deixa de lidar com inúmeros problemas, na qual o mesmo, não utiliza várias ferramentas que o auxilia a chegar numa solução.
- (D) Nos estoques muitas vezes é possível encontrar matérias-primas, suprimentos, componentes, materiais em processo ou produtos acabados.

22

Método de Arquivamento é uma sequência de operações que determina a disposição dos documentos de um arquivo ou coleção, uns em relação aos outros, e a identificação de cada unidade. Em relação aos métodos de arquivamento, assinale a alternativa incorreta:

- (A) O método geográfico é o método de ordenação que tem por eixo aspectos geográficos. Esse método é muito aconselhável quando o objetivo é ordenar a documentação de acordo com a divisão geográfica, que pode envolver a busca por região, estado, município, bairro, rua e local específico.
- (B) O método específico, representado por palavras dispostas alfabeticamente, é um dos mais fáceis e simples processos de arquivamento, consiste em agrupar as pastas por assunto, deve-se escolher o melhor termo ou expressão que defina o assunto.
- (C) O método alfabético numérico é um método que procurou reunir as vantagens dos métodos alfabéticos simples e numérico simples, tendo alcançado seu objetivo, pois desta combinação resultou um método que apresenta ao mesmo tempo a simplicidade de um e a exatidão e rapidez, no arquivamento, do outro.
- (D) O método variadex tem por eixo as letras do alfabeto representadas por cores diferentes, ou seja, consiste em dar cores a um grupo de letras para buscar informação.

23

Julgue os itens que seguem e assinale a alternativa correta:

- I - Área de transferência é um recurso utilizado por um sistema operacional para o armazenamento de grandes quantidades de dados para transferência entre documentos ou aplicativos, através das operações de cortar, copiar e colar.
- II - Um atalho não tem conteúdo algum e sua única função é “chamar o arquivo” que realmente queremos e que está armazenado em outro lugar.
- III - As pastas não contêm informação propriamente dita e sim arquivos ou mais pastas. A função de uma pasta é desarranjar o que tem dentro de cada unidade.

- (A) Apenas I e II estão corretas.
- (B) Apenas II está correta.

- (C) Apenas I e III estão corretas.
 (D) Apenas II e III estão corretas.

24

Uma das melhorias dos Windows 10 é um recurso que possibilita o usuário visualizar rapidamente o desktop sem a necessidade de fechar ou minimizar qualquer janela. Este recurso é conhecido como:

- (A) Aero Snap
 (B) Aero Shake
 (C) Aero Flip
 (D) Aero Peek

25

Um funcionário deseja encaminhar um e-mail para vários destinatários, e quer enviar uma cópia da mensagem para seu chefe, sem que os outros destinatários saibam. O e-mail do chefe deverá ser inserido no campo indicado por:

- (A) Para ou To
 (B) Cc ou To
 (C) Cco ou Bcc
 (D) Cco ou Bco

26

Julgue os itens em verdadeiro (V) ou falso (F) e em seguida assinale a alternativa que apresenta a sequência, de cima para baixo, correta:

- () Tudo que é disponível na web tem seu próprio endereço, chamado URL, é o endereço de algo que você procura na internet, é formada por um protocolo de administração.
- () HTTP é um protocolo ou língua específica da internet, responsável pela comunicação entre computadores. A sigla HTTP é encontrada nos endereços de páginas web seguida de // . Ela informa ao servidor de que forma deve ser atendido o pedido do cliente.
- () Os endereços que começam com www são servidores de Web e contém principalmente páginas de hipertexto. Já os que começam com ftp, referem-se a lugares onde pode-se copiar arquivos.
- () Link é uma ligação que é feita apenas em palavras indicando um caminho para você acessar outro endereço com a informação que esta procurando.

- (A) F - V - V - F
 (B) V - F - F - V
 (C) V - V - V - F
 (D) F - V - F - V

27

Em uma frase, pode-se dizer que redação oficial é a maneira pela qual o Poder Público redige comunicações oficiais e atos normativos. Não é característica da redação oficial:

- (A) Clareza e Precisão

- (B) Objetividade e Formalidade
 (C) Coesão e Coerência
 (D) Regência e Organização

28





A Mensagem é o instrumento de comunicação oficial entre os Chefes dos Poderes Públicos, notadamente as mensagens são enviadas pelo Chefe do Poder Executivo ao Poder Legislativo para informar sobre fato da administração pública; para expor o plano de governo por ocasião da abertura de sessão legislativa; para submeter ao Congresso Nacional matérias que dependem de deliberação de suas Casas; para apresentar veto; enfim, fazer comunicações do que seja de interesse dos Poderes Públicos e da Nação. Em relação à forma e estrutura das mensagens, analise os itens abaixo e em seguida e assinale a alternativa correta:

- I - O texto deve ser iniciado a 2 cm do vocativo.
 II - O vocativo deve estar alinhado à margem esquerda, de acordo com o pronome de tratamento e o cargo do destinatário, com o recuo de parágrafo dado ao texto.
 III - Local e data devem ser posicionados a 5 cm do final do texto, alinhados à margem esquerda.

- (A) Apenas II está correto.
 (B) Apenas I e II estão corretos.
 (C) Apenas I e III estão corretos.
 (D) Apenas II e III estão corretos

29

É bastante costumeiro que, em e-mails profissionais, haja a necessidade de anexar documentos para envio, por isso, a maioria dos clientes de e-mail atuais exibem um ícone por meio do qual é possível realizar o procedimento. Qual símbolo padrão da funcionalidade de anexar documentos na maioria dos clientes de e-mail?

- (A) 
- (B) 
- (C) 
- (D) 

30

Após iniciar uma sessão no Windows 10, um funcionário resolveu organizar sua Área de Trabalho, arrastando alguns arquivos para a pasta Documentos e alguns atalhos de programas pouco utilizados para a Lixeira. Levando em consideração essa ação, analise as alternativas e assinale a correta.

- (A) Os programas que tiveram seus atalhos enviados à *Lixeira* podem ser reinstalados através da opção de recuperação disponibilizada no menu auxiliar do diretório.
 - (B) Não será mais possível executar os programas que tiveram seus atalhos enviados à *Lixeira*.
 - (C) Os ícones que representam os arquivos arrastados para a pasta Documentos não mais aparecem na Área de Trabalho.
 - (D) Os arquivos arrastados para a pasta *Documentos* automaticamente geram atalhos na *Área de Trabalho*.
-

ÁREA PARA RASCUNHO

ÁREA PARA RASCUNHO