



**PREFEITURA MUNICIPAL DA ESTÂNCIA  
TURÍSTICA DE GUARATINGUETÁ**

ESTADO DE SÃO PAULO

CONCURSO PÚBLICO

**030. PROVA OBJETIVA**

**GESTOR DE CONTRATOS**

- ◆ Você recebeu sua folha de respostas e este caderno contendo 60 questões objetivas.
- ◆ Confira seus dados impressos na capa deste caderno e na folha de respostas.
- ◆ Quando for permitido abrir o caderno, verifique se está completo ou se apresenta imperfeições. Caso haja algum problema, informe ao fiscal da sala.
- ◆ Leia cuidadosamente todas as questões e escolha a resposta que você considera correta.
- ◆ Marque, na folha de respostas, com caneta de tinta preta, a letra correspondente à alternativa que você escolheu.
- ◆ A duração da prova é de 3 horas e 30 minutos, já incluído o tempo para o preenchimento da folha de respostas.
- ◆ Só será permitida a saída definitiva da sala e do prédio após transcorridos 75% do tempo de duração da prova.
- ◆ Deverão permanecer em cada uma das salas de prova os 3 últimos candidatos, até que o último deles entregue sua prova, assinando termo respectivo.
- ◆ Ao sair, você entregará ao fiscal a folha de respostas e este caderno, podendo levar apenas o rascunho de gabarito, localizado em sua carteira, para futura conferência.
- ◆ Até que você saia do prédio, todas as proibições e orientações continuam válidas.

**AGUARDE A ORDEM DO FISCAL PARA ABRIR ESTE CADERNO DE QUESTÕES.**

Nome do candidato \_\_\_\_\_

RG \_\_\_\_\_

Inscrição \_\_\_\_\_

Prédio \_\_\_\_\_


Sala \_\_\_\_\_

Carteira \_\_\_\_\_

## CONHECIMENTOS GERAIS

### LÍNGUA PORTUGUESA

Leia a tira para responder às questões de números **01** e **02**.



(“CALVIN E HAROLDO”, Bill Watterson. Acervo *O Estado de S. Paulo* 05.07.2017.

<https://cultura.estadao.com.br/galerias/geral,20-tiras-de-calvin-e-haroldo-para-refletir-sobre-a-vida-e-sobre-o-mundo,28507>. Acesso: 31.08.2019)

**01.** É correto afirmar que o pai de Calvin

- (A) discrepa da teoria do filho e revela mau humor e rabugem, em sua fala, no último quadrinho.
- (B) é desatencioso no primeiro quadrinho e demonstra desprezo em relação às teorias do filho, no último quadrinho.
- (C) é condescendente com as falas do filho, mas pede que se afaste, no último quadrinho.
- (D) manifesta complacência no primeiro quadrinho, apesar de, no último, refutar a teoria do filho, ao estabelecer comunicação com gírias.
- (E) é benevolente com o filho e, em sua fala, no último quadrinho, confirma sua teoria, já que não consegue responder ao filho.

**02.** Assinale a alternativa que, mantendo o sentido original do texto, reescreve passagem de acordo com a norma-padrão da língua portuguesa.

- (A) Papai, descobri que qualquer palavra pode variar e ter qualquer significado, desde que possamos nos comunicar!
- (B) O nosso velho idioma passaria a ser um código mais amplo, caso déssemos novos significados às palavras.
- (C) Tentarei inventar palavras com novos sentidos, papai, para que a gente não possa mais se comunicar.
- (D) Papai eu descobri: duas gerações podem ser divididas pelo mesmo idioma ainda que o significado das palavras possa variar.
- (E) Quanto ao significado das palavras, descobri que não se trata de algo imutável, sendo possível recriá-lo.

Leia o texto para responder às questões de números **03 a 10**.

### Sarampo Mata

As primeiras mortes por sarampo no estado de São Paulo em 22 anos, confirmadas nesta semana, servem como um alerta lúgubre dos perigos dessa doença que voltou a se alastrar no Brasil, a partir de 2018.

Na quarta-feira (28), soube-se do caso de um homem de 42 anos, que não possuía registro de vacinação e apresentava vulnerabilidade para infecções. Nesta sexta, anunciaram-se os óbitos de dois bebês, na capital e em Barueri, em decorrência da enfermidade.

Considerado altamente infeccioso, dado que um indivíduo com a doença pode contaminar até 18 pessoas, o sarampo provoca manchas vermelhas na cabeça e no corpo, tosse, dor de cabeça, coriza e conjuntivite.

De 5% a 10% dos casos evoluem para quadros mais graves, como pneumonia e complicações neurológicas.

Neste ano, a unidade mais rica da Federação contou 2457 casos da moléstia, dos quais 1637 na capital, e responde pela quase totalidade das infecções confirmadas no país. Outros 12 estados, no entanto, registram surto ativo da doença.

Esse número tende a crescer, já que é alto o volume de ocorrências ainda sob investigação. O último boletim do Ministério da Saúde apontava 10855 casos suspeitos — e estes são corroborados em cerca de 25% das vezes.

O ressurgimento do sarampo ocorre após o Brasil ter dado a doença como eliminada em 2016. A causa mais provável é que portadores vindos de fora tenham trazido o vírus ao país. Em 2018, refugiados venezuelanos que buscavam abrigo em estados do Norte e, neste ano, pessoas provenientes de Israel e da Europa, suspeita-se.

A moléstia, porém, só se disseminou por aqui porque encontrou terreno propício. Como regra, epidemiologistas preconizam que 95% do público-alvo deva ser imunizado para bloquear a transmissão de sarampo. Desde 2016, **no entanto**, o Brasil não alcança essa marca. Em 2018, a taxa foi de 90,5%.

**Embora** não exista um diagnóstico preciso para essa queda, as razões aventadas para tanto incluem desde a dificuldade dos pais em levar os filhos aos postos em horário comercial até a influência de *fake news* sobre os riscos da vacinação, passando pela falsa sensação de segurança advinda do sucesso na eliminação da doença.

A preocupação, no entanto, vai além do sarampo. Atualmente, 7 das 8 vacinas recomendadas para bebês apresentam cobertura abaixo da meta. Urge, **pois**, que os governos de todos os níveis ajam para reverter esse quadro, por exemplo, intensificando campanhas educativas e realizando mutirões.

(Folha de S.Paulo: 31.08.2019. Adaptado)

**03.** De acordo com as informações presentes no texto, é correto afirmar que

- (A) o número de casos de sarampo é menor que o de suspeitas apontadas no boletim do Ministério da Saúde e, por isso, a contaminação segue em declínio, no Brasil.
- (B) os refugiados venezuelanos são os principais responsáveis pela disseminação do sarampo no Brasil que, sem o fenômeno da imigração, chegou a vacinar mais de 90% do público-alvo.
- (C) a diminuição da imunização, no Brasil, se deve, tanto pela divulgação de *fake news* sobre riscos da vacina quanto pela dificuldade de acesso das famílias aos postos de saúde.
- (D) a falsa sensação de segurança decorrente da eliminação da doença tem funcionado como alerta eficaz que, contudo, não consegue tranquilizar as famílias quanto aos riscos da vacina.
- (E) os governantes devem esclarecer a população em geral a fim de que os pais possam determinar quais são as vacinas imprescindíveis para seus filhos e quais são dispensáveis.

**04.** As expressões destacadas no texto — **no entanto** (8º parágrafo); **Embora** (9º parágrafo); **pois** (último parágrafo) — apresentam as seguintes relações de sentido, respectivamente:

- (A) adversidade; adição; explicação.
- (B) restrição; concessão; conclusão.
- (C) explicação; condição; comparação.
- (D) concessão; restrição; conclusão.
- (E) proporção; adversidade; condição.

**05.** Leia os seguintes trechos:

- As primeiras mortes por sarampo no estado de São Paulo [...] servem como **um alerta lúgubre** dos perigos dessa doença ... (1º parágrafo)
- O último boletim do Ministério da Saúde apontava 10855 casos suspeitos — e estes são **corroborados** em cerca de 25% das vezes. (6º parágrafo)
- ... **as razões aventadas** para tanto incluem desde a dificuldade dos pais em levar os filhos aos postos em horário comercial... (9º parágrafo)

Levando o contexto em consideração, assinale a alternativa que apresenta sinônimos adequados para os termos em destaque, respectivamente.

- (A) um sinal funesto; ratificados; as causas relatadas.
- (B) um aviso importante; alcançados; os motivos levantados.
- (C) uma triste advertência; debilitados; as desculpas apresentadas.
- (D) um alarme macabro; contraditados; os pretextos ventilados.
- (E) um ultimato; confirmados; as motivações negadas.

06. Assinale a alternativa em que há palavra ou expressão em sentido figurado.

- (A) ... perigos dessa doença que voltou a se alastrar no Brasil, a partir de 2018.
- (B) ... soube-se do caso de um homem de 42 anos, que não possuía registro de vacinação e apresentava vulnerabilidade para infecções.
- (C) A moléstia, porém, só se disseminou por aqui porque encontrou terreno propício.
- (D) ... epidemiologistas preconizam que 95% do público-alvo deva ser imunizado para bloquear a transmissão de sarampo.
- (E) Esse número tende a crescer, já que é alto o volume de ocorrências ainda sob investigação.

07. Assinale a alternativa que, mantendo o sentido original, reescreve passagem do texto com a concordância correta de acordo com a norma-padrão da língua portuguesa.

- (A) Uma média de 18 pessoas podem ser contaminadas por um único indivíduo.
- (B) Já faziam 22 anos que o estado de São Paulo não registrava mortes por sarampo.
- (C) Passa de 65% do total no país os casos de sarampo registrados na capital.
- (D) A quantidade das ocorrências da moléstia superam os números dos últimos dois anos.
- (E) Metade dos estados brasileiros confirmou a presença do surto de sarampo.

08. Leia os seguintes trechos:

- As primeiras mortes **por** sarampo no estado de São Paulo em 22 anos... (1º parágrafo)
- Nesta sexta, anunciaram-se os óbitos de dois bebês, na capital e em Barueri, **em** decorrência da enfermidade. (2º parágrafo)
- Urge, pois, que os governos de todos os níveis ajam **para** reverter esse quadro... (último parágrafo)

Assinale a alternativa que apresenta as relações de sentido estabelecidas, no contexto, pelas palavras em destaque, respectivamente.

- (A) causa; consequência; fim.
- (B) modo; meio; destino.
- (C) conteúdo; tempo; conformidade.
- (D) origem; modo; oposição.
- (E) meio; causa; consequência.

09. Assinale a alternativa que apresenta, nos parênteses, expressão equivalente ao trecho antecedente de acordo com a norma-padrão da língua portuguesa quanto ao emprego e à colocação dos pronomes.

- (A) ... um indivíduo com a doença pode contaminar até 18 pessoas... (... um indivíduo com a doença pode contaminar-lhes...)
- (B) A causa mais provável é que portadores vindos de fora tenham trazido o vírus ao país. (A causa mais provável é que portadores vindos de fora tenham-no trazido ao país.)
- (C) ... caso de um homem de 42 anos, que não possuía registro de vacinação... (... caso de um homem de 42 anos, que não possuía-o...)
- (D) ... refugiados venezuelanos que buscavam abrigo em estados do Norte... (... refugiados venezuelanos que buscavam-o em estados do Norte...)
- (E) ... 95% do público-alvo deva ser imunizado para bloquear a transmissão de sarampo. (... 95% do público-alvo deva ser imunizado para lhe bloquear.)

10. Assinale a alternativa que, mantendo o sentido original do texto, reescreve passagem com a regência correta de acordo com a norma-padrão da língua portuguesa.

- (A) Manchas vermelhas na cabeça e no corpo, além de tosse, dor de cabeça, coriza e conjuntivite resultam com o contágio do sarampo.
- (B) Tanto a pneumonia como algumas complicações neurológicas são as mais perigosas evoluções no sarampo.
- (C) A reversão dos atuais números de contágio com os índices registrados antes de 2018 só se dará pela intensificação de campanhas educativas.
- (D) A maior parte do público-alvo deve ser imunizada contra o sarampo, conforme a recomendação dos epidemiologistas.
- (E) O sarampo ressurgiu em 2018 depois de ter sido erradicado ao Brasil em 2016.

11. Quando perguntaram a Júlia que parte de seu salário deixava mensalmente na poupança, ela respondeu: "Gasto  $\frac{2}{5}$  do meu salário em alimentação e  $\frac{1}{4}$  com o aluguel.

A terça parte do restante deixo para outros gastos pessoais e o que sobra eu poupo". A fração que indica o quanto do salário Júlia deposita na poupança é:

- (A)  $\frac{13}{20}$
- (B)  $\frac{13}{60}$
- (C)  $\frac{17}{30}$
- (D)  $\frac{7}{60}$
- (E)  $\frac{7}{30}$
12. As informações sobre a produção de um tipo de objeto de uma fábrica constam no quadro a seguir.

	Mês 1	Mês 2
Número de objetos produzidos	600	r
Número de máquinas em funcionamento	20	s
Número de horas diárias de funcionamento de cada máquina	t	12 horas

Sabe-se que o número de máquinas em funcionamento no mês 2 foi apenas 90% do número utilizado no mês 1.

No mês 2, produziram-se  $\frac{3}{4}$  do número de objetos produ-

zidos no mês 1. Considerando a proporcionalidade das informações apresentadas, o número  $t$  de horas diárias de funcionamento de cada máquina no mês 1 foi igual a

- (A) 15h e 30min.
- (B) 15h e 18min.
- (C) 14h e 40min.
- (D) 14h e 24min.
- (E) 12h e 30min.

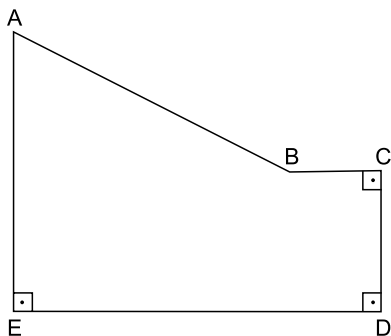
13. A tabela apresenta a distribuição dos salários fixos de 15 funcionários de uma Corretora de Imóveis, segundo a função que exercem.

CARGO	SALÁRIO MENSAL (R\$)	Nº de Funcionários
Advogados	12.500,00	2
Corretores	3.000,00	10
Gerente	15.000,00	1
Secretários	2.500,00	2

Essa Corretora irá contratar 5 assistentes com o mesmo salário. Para que o salário médio dos 20 funcionários diminua em 5% à média atual dos 15 funcionários da Corretora, o salário de cada assistente deverá ser igual a

- (A) R\$ 4.000,00.  
 (B) R\$ 3.750,00.  
 (C) R\$ 3.500,00.  
 (D) R\$ 3.000,00.  
 (E) R\$ 2.500,00.
14. Uma empresa tem um salão retangular cujo comprimento mede 20 metros e a diagonal mede 25 m. Esse salão será dividido em três salas de modo que suas áreas sejam diretamente proporcionais ao número de funcionários que será destinado a cada uma: 8, 5 e 2. A soma das áreas das duas menores salas é
- (A) 100 m<sup>2</sup>.  
 (B) 120 m<sup>2</sup>.  
 (C) 140 m<sup>2</sup>.  
 (D) 160 m<sup>2</sup>.  
 (E) 180 m<sup>2</sup>.

15. O polígono ABCDE da figura representa um terreno.



Se  $AB = 65$  m,  $BC = 20$  m,  $CD = 30$  e  $DE = 80$  m, é correto afirmar que a área desse terreno é igual a

- (A) 2500 m<sup>2</sup>.  
 (B) 3150 m<sup>2</sup>.  
 (C) 3225 m<sup>2</sup>.  
 (D) 4250 m<sup>2</sup>.  
 (E) 4500 m<sup>2</sup>.

16. As afirmações a seguir dizem respeito às relações entre unidades de medida de comprimento, de área e de capacidade.

- I.  $32\,000\,000\text{ cm} = 32\text{ km}$
- II.  $1\,375\text{ cm}^2 = 0,1375\text{ m}^2$
- III.  $32\text{ litros e }56\text{ mililitros} = 32,56\text{ litros}$
- IV.  $0,75\text{ m}^3 = 750\text{ litros}$


As duas únicas relações verdadeiras são

- (A) I e II.
  - (B) I e III.
  - (C) I e IV.
  - (D) II e III.
  - (E) II e IV.
17. Observe a sequência numérica, cuja lei de formação é dada pela expressão:

$$n^2 + n - 1: 1, 5, 11, 19, 29, 41, \dots$$

Assim, o 1º elemento dessa sequência foi calculado substituindo o  $n$  por 1, o segundo elemento foi calculado substituindo o  $n$  por 2, e assim por diante. Sabe-se que 701 pertence a essa sequência. Desse modo, a soma de 701 com o número que o sucede na sequência é igual a

- (A) 1422.
  - (B) 1456.
  - (C) 1470.
  - (D) 1519.
  - (E) 1580.
18. A figura representa um terreno retangular com uma faixa também retangular que será desapropriada pela prefeitura. Após a desapropriação, o terreno restante terá o formato de um quadrado de área igual a  $676\text{ m}^2$ .

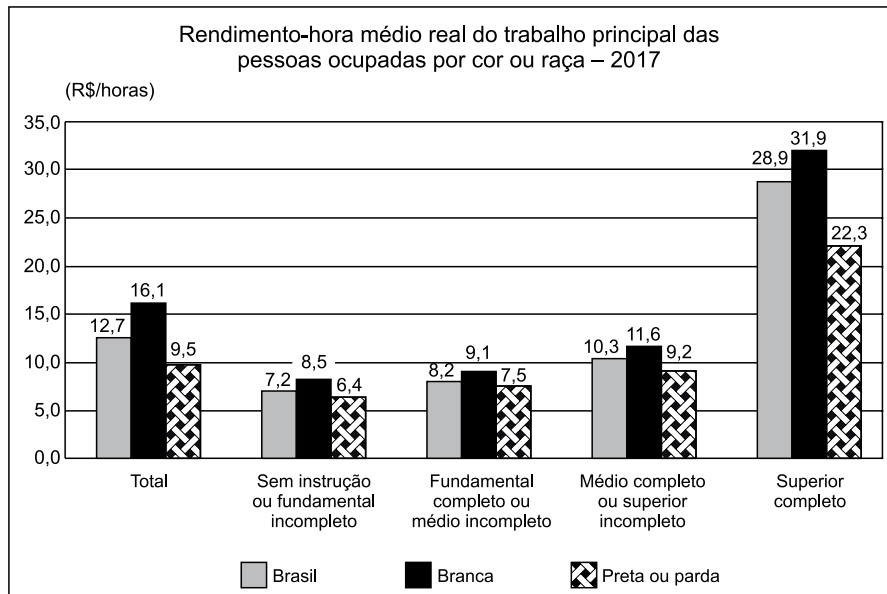


Se a largura e o comprimento do retângulo sombreado, o que corresponde a faixa a ser desapropriada, estão na razão de três para oito, conclui-se que o perímetro dessa faixa é igual a

- (A) 71,5 m.
- (B) 75,0 m.
- (C) 82,4 m.
- (D) 87,0 m.
- (E) 91,6 m.

19. Ana vendeu uma televisão por R\$ 720,00, tendo um prejuízo de 10% sobre o preço de custo. Para ter um lucro de 10% sobre o preço de custo, ela deveria ter vendido a televisão por
- (A) R\$ 792,00.  
 (B) R\$ 864,00.  
 (C) R\$ 880,00.  
 (D) R\$ 927,00.  
 (E) R\$ 935,00.

20. O IBGE – Instituto Brasileiro de Geografia e Estatística discute que o rendimento auferido no trabalho principal é um importante resultante da inserção dos trabalhadores no mercado de trabalho e um dos principais indicadores de qualidade da ocupação. O gráfico a seguir trata do rendimento-hora médio real do trabalho principal das pessoas ocupadas por cor ou raça – 2017.



Analise as afirmações a respeito do gráfico.

- I. A menor diferença entre os rendimentos das pessoas de cor ou raça branca e as de cor ou raça preta ou parda ocorreu no nível de instrução menos elevado, ou seja, 60% a mais para brancos.
- II. A maior diferença entre os rendimentos das pessoas de cor ou raça branca e as de cor ou raça preta ou parda ocorreu no nível de instrução mais elevado, ou seja, aproximadamente, 43,0% a mais para brancos.
- III. A população ocupada de cor ou raça branca recebia um rendimento-hora superior à população preta ou parda em todos os níveis de escolaridade.
- IV. As pessoas de cor ou raça preta ou parda com nível de instrução médio completo ou superior incompleto tinham um rendimento 10% inferior ao das pessoas de cor ou raça branca.

As duas únicas afirmações corretas são

- (A) I e II.  
 (B) I e III.  
 (C) I e IV.  
 (D) II e III.  
 (E) III e IV.

**R A S C U N H O**



## ATUALIDADES

21. Brasil e Argentina assinaram, no dia 06 de setembro de 2019, um novo acordo automotivo que substituirá o atual, que vence em junho de 2020.

(Exame. Disponível em <https://bit.ly/2lCoRyo>. Acesso em 06.09.2019. Adaptado)

Segundo o acordo,

- (A) as taxas de importação dos veículos, a partir de julho de 2020, serão extintas.
  - (B) a partir de julho de 2029, haverá livre comércio, sem condicionantes.
  - (C) os veículos híbridos e elétricos ficarão isentos de taxas aduaneiras a partir de 2021.
  - (D) a partir de julho de 2020, o livre comércio será implantado para veículos com fábricas nos dois países.
  - (E) será criada uma relação flexível, a partir de 2021, que estudará a tributação dos veículos mês a mês.
22. O presidente Donald Trump designou, no dia 31 de julho deste ano (2019), o Brasil como aliado preferencial dos Estados Unidos fora da OTAN (Organização do Tratado do Atlântico Norte), condição já aplicada a outros 17 países.

(Terra. Disponível em <https://bit.ly/2lWBjzs>. Acesso em 05.09.2019. Adaptado)

Essa qualificação, entre outras vantagens,

- (A) garante a existência de um pacto de defesa mútua.
  - (B) oferece condições para que à indústria bélica brasileira venda mais para os Estados Unidos.
  - (C) possibilita que astronautas brasileiros participem de missões espaciais americanas.
  - (D) credencia o Brasil a participar como membro efetivo da OTAN.
  - (E) facilita o acesso do Brasil a armamentos americanos.
23. O presidente Jair Bolsonaro assinou, no dia 23 de agosto de 2019, um decreto autorizando o emprego das Forças Armadas para realizar a Garantia da Lei e da Ordem (GLO) na Amazônia.

(O Globo. Disponível em <https://glo.bo/2TX2llc>. Acesso em 06.09.2019. Adaptado)

Essa autorização

- (A) impede que os militares participem de ações preventivas contra delitos ambientais.
- (B) desvincula a atuação dos militares com os órgãos de segurança pública dos locais.
- (C) está vinculada à solicitação dos estados que integram a Amazônia Legal.
- (D) limita a atuação dos militares ao apoio logístico das forças do estado nos locais com focos de incêndio.
- (E) impede que os militares participem de ações repressivas contra delitos ambientais.

24. O Presidente da República sancionou, em 05.08.2019, a Lei do Abuso de Autoridade vetando itens em 19 artigos. Foram vetados 36, dos 108 dispositivos aprovados pelo Congresso.

(G1. Disponível em <https://glo.bo/2m14X0i>. Acesso em 06.09.2019. Adaptado)

É correto afirmar que

- (A) foi vetado o artigo que estabelecia pena de um a quatro anos de detenção e multa para a autoridade que iniciasse ou avançasse na persecução penal, civil ou administrativa sem justa causa fundamentada ou contra pessoa que se sabe inocente.
  - (B) foi mantido o artigo que estabelece detenção de seis meses a dois anos, e multa, para quem fotografar ou filmar, permitir que fotografem ou filme, divulgar ou publicar fotografia ou filmagem de preso, internado, investigado, indiciado ou vítima.
  - (C) foi vetado o artigo que permitia a realização de interceptação telefônica, informática ou telemática (à distância), escuta ambiental ou quebrar segredo de Justiça sem autorização da Justiça.
  - (D) foi mantido o artigo que prevê que, entre as penas alternativas à prisão, está a proibição de a autoridade exercer, de um a três anos, funções de natureza policial ou militar no município em que tiver sido praticado o crime e na cidade onde residir a vítima.
  - (E) foi vetado o artigo que trata da autoridade que submete o preso a interrogatório policial durante as horas de repouso noturno (exceto em caso de flagrante, ou com o consentimento do próprio preso).
25. O presidente da Venezuela, Nicolás Maduro, anunciou no dia 05 de agosto de 2019, que iria instalar um sistema de defesa antiaérea na fronteira com a Colômbia.

(Exame. Disponível em <https://bit.ly/21zthpL>. Acesso em 05.09.2019. Adaptado)

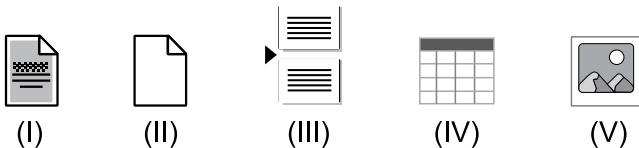
O presidente venezuelano considera que

- (A) deve proteger os membros das Farcs que estão se reorganizando em território da Venezuela.
- (B) a Colômbia está arquitetando invadir a Venezuela com a ajuda do Brasil.
- (C) deve impedir o rearmamento dos dissidentes das Farcs em território venezuelano.
- (D) o governo colombiano planeja uma guerra na região.
- (E) deve suspender a fuga de venezuelanos para a Colômbia em busca de saúde e alimentação.

26. Para criar uma nova pasta no disco rígido de seu computador, um usuário do programa MS-Windows 7, em sua configuração padrão, utilizou o programa Windows Explorer para selecionar o local dessa nova pasta e acionou, simultaneamente, as teclas

- (A) Ctrl + Alt + P.
- (B) Ctrl + Tab + M.
- (C) Shift + Tab + D.
- (D) Shift + Ctrl + N.
- (E) Shift + Ctrl + R.

27. Um usuário está utilizando o programa MS-Word 2010, em sua configuração padrão, para editar um documento. Depois de concluir a adição de um parágrafo, esse usuário acionou as teclas Ctrl e Enter, simultaneamente.



Assinale a alternativa que contém o ícone cujo acionamento irá produzir um efeito equivalente ao produzido pelo acionamento das teclas.

- (A) I.
- (B) II.
- (C) III.
- (D) IV.
- (E) V.

28. Um usuário do programa MS-PowerPoint 2010, em sua configuração padrão, precisa construir um organograma sobre a nova estrutura hierárquica de sua empresa. Para tanto, ele poderá utilizar o recurso gráfico pertencente à guia Inserir, que poderá ser ativado por meio do ícone

- (A) Gráfico.
- (B) SmartArt.
- (C) Tabela.
- (D) Clip-Art.
- (E) Imagem.

29. Uma planilha que está sendo elaborada por um usuário do programa MS-Excel 2010, em sua configuração padrão, teve suas células preenchidas com as informações mostradas na figura a seguir.

	A	B
1	concurso	
2	público	
3	informática	
4		

Depois disso, o usuário digitou a fórmula =LOCALIZAR ("o";A1;1) na célula B1. Em seguida, selecionou a célula B1 e a copiou para as células B2 e B3.

Assinale a alternativa que contém o resultado obtido na célula B4, quando a fórmula =B1\*B2+B3 for digitada nessa célula.

- (A) 18.
- (B) 20.
- (C) 22.
- (D) 30.
- (E) 40.

30. Existe uma modalidade de serviço na Internet que disponibiliza ao usuário uma ferramenta para acesso à sua caixa de e-mails com o auxílio de um navegador. Por meio dessa modalidade, o usuário pode usufruir das funções de e-mail, como recebimento, envio, classificação e filtragem de mensagens, sem que exista um cliente de e-mail instalado na máquina. O nome dessa modalidade de serviço é

- (A) Desktop.
- (B) Delivery.
- (C) Develop.
- (D) Webcast.
- (E) Webmail.

## CONHECIMENTOS ESPECÍFICOS

31. O procedimento administrativo formal em que a Administração Pública convoca, mediante condições estabelecidas em ato próprio, pessoas interessadas na apresentação de propostas para o oferecimento de bens e prestação de serviços denomina-se
- (A) contrato.
  - (B) edital.
  - (C) delegação.
  - (D) concessão.
  - (E) licitação.
32. O objeto das compras a serem feitas pela Administração Pública por meio do “pregão” diz respeito a bens e serviços
- (A) de pequeno valor, efetivadas por meio eletrônico.
  - (B) comuns, qualquer que seja o valor da contratação.
  - (C) de qualquer tipo e valor de interessados previamente cadastrados.
  - (D) de valor acima de quinze mil reais, fornecidos por empresas brasileiras.
  - (E) fornecidos por empresas e profissionais especializados, produzidos no país.
33. Nos termos do disposto, expressamente, na Lei nº 8.666/93, a doação com encargo de imóvel público pelo Município
- (A) é vedada, podendo a Administração, no entanto, doar bens imóveis a empresas e pessoas físicas que apresentem projetos de interesse público, que devem ser aprovados por decisão da Câmara Municipal e, posteriormente, ratificada pelo Chefe do Poder Executivo.
  - (B) é permitida somente em favor de outro órgão público Federal, Estadual, Distrital ou Municipal, sendo, nesse caso, dispensável a licitação, mas exigida a autorização legislativa por meio da Câmara Municipal.
  - (C) será licitada e de seu instrumento constarão, obrigatoriamente, os encargos, o prazo de seu cumprimento e a cláusula de reversão, sob pena de nulidade do ato, sendo dispensada a licitação no caso de interesse público devidamente justificado.
  - (D) deve ser efetivada por meio da concorrência, desde que haja interesse público comprovado, e o valor do imóvel seja superior a um milhão de reais, devendo constar do respectivo contrato a cláusula de reversão, sendo exigida a autorização legislativa.
  - (E) é permitida, desde que haja interesse público comprovado, devendo ser efetivada por meio de licitação na modalidade concorrência, com a obrigatoriedade de oferecimento do bem, prioritariamente, aos entes públicos, respectivamente, federais, estaduais, distritais e municipais.
34. Assinale a alternativa correta a respeito das limitações administrativas.
- (A) A desapropriação é uma das suas formas de expressão.
  - (B) Retira do particular o direito de propriedade do bem em favor do poder público.
  - (C) O uso de uma escola para uma campanha de vacinação é um de seus exemplos.
  - (D) Não pode gerar ao proprietário total restrição do direito de usar, gozar e dispor da coisa.
  - (E) O direito do proprietário de buscar a indenização dela decorrente é imprescritível.
35. Arquétipo é servidor público municipal e, no exercício de sua função, veio a causar danos a Esmeralda, que é uma cidadã comum. Nessa situação hipotética, considerando a teoria da responsabilidade do Estado, Esmeralda deverá mover uma ação judicial contra
- (A) o Município, com base na responsabilidade objetiva, o qual, se condenado, deve mover uma ação regressiva contra Arquétipo, se este agiu com dolo ou culpa, para se ressarcir dos prejuízos.
  - (B) Arquétipo, e este, se agiu com dolo ou culpa, deverá ser condenado a indenizar, individualmente, Esmeralda, não devendo o Município ser responsabilizado, neste caso.
  - (C) o Município e Arquétipo, independentemente se este agiu com dolo ou culpa, uma vez que ambos são solidariamente responsáveis pelos danos em virtude da teoria da responsabilidade objetiva.
  - (D) Arquétipo ou o Município, à sua livre escolha, uma vez que ambos devem responder pelos danos de forma subsidiária, desde que tenha havido dolo ou culpa na causação dos danos.
  - (E) o Município, com fundamento na teoria do risco administrativo, e este, uma vez condenado, terá o direito de regresso contra Arquétipo, independentemente de culpa ou dolo deste último, com base na responsabilidade objetiva.
36. Considerando a responsabilidade dos agentes públicos, na hipótese de o servidor público responder processo administrativo por ter cometido um ilícito, e também estar sendo processado criminalmente pelo mesmo fato, ele
- (A) deverá ser absolvido na esfera administrativa, se ele foi absolvido no processo-crime, independentemente do fundamento da decisão, uma vez que esta prevalece sobre aquela.
  - (B) deverá ser absolvido no âmbito administrativo, na hipótese de ter sido absolvido, por exemplo, por negativa de autoria no juízo criminal.
  - (C) não será afetado pela decisão criminal em seu processo administrativo, independentemente do fundamento da decisão criminal.
  - (D) não será afetado pela decisão do processo criminal se for absolvido, por exemplo, pela negativa de autoria do delito.
  - (E) ficará vinculado na esfera administrativa pelo que ficar decidido no juízo criminal, seja qual for essa decisão, pela comunicabilidade de instâncias.

- 37.** No caso de a Prefeitura Municipal pretender contratar assessorias ou consultorias técnicas e auditorias financeiras ou tributárias, a Lei nº 8.666/93 estabelece que essa é uma contratação que
- (A) deve ser feita por meio de processo licitatório na modalidade concorrência, independentemente do seu valor.
  - (B) pode ser feita diretamente, uma vez que esse tipo de serviço é previsto como hipótese de dispensa de licitação.
  - (C) deve ser realizada por meio de licitação, na modalidade tomada de preços, entre interessados previamente cadastrados.
  - (D) não pode ser feita, uma vez que esse serviço deve ser prestado por funcionário público e sob a fiscalização do Tribunal de Contas.
  - (E) pode ser feita diretamente, por inexigibilidade de licitação, como um serviço técnico profissional especializado.
- 38.** De acordo com o disposto na Lei de Licitações e Contratos Administrativos (Lei nº 8.666/93), nos casos em que couber
- (A) concorrência, a Administração poderá utilizar a tomada de preços e, em qualquer caso, o convite.
  - (B) convite, a Administração poderá utilizar a concorrência e, em qualquer caso, a tomada de preços.
  - (C) convite, a Administração poderá utilizar a tomada de preços e, em qualquer caso, a concorrência.
  - (D) tomada de preços, a Administração poderá utilizar o convite e, em qualquer caso, o leilão.
  - (E) tomada de preços, a Administração poderá utilizar a concorrência e, em qualquer caso, o convite.
- 39.** Nos termos da Lei nº 8.666/93, as minutas de editais de licitação, bem como as dos contratos, acordos, convênios ou ajustes devem ser previamente examinadas e aprovadas
- (A) por assessoria jurídica da Administração.
  - (B) pelo gestor do respectivo contrato.
  - (C) pela diretoria do órgão contratante.
  - (D) por setor contábil-financeiro do órgão contratante.
  - (E) pelo Tribunal de Contas responsável pela fiscalização do contrato.
- 40.** Numa comissão de licitação, com cinco membros, restou decidida e aprovada determinada licitação a qual, posteriormente, veio a ser anulada, tendo ocorrido sérios prejuízos ao poder público. Todavia, na ata da reunião em que a referida decisão foi tomada, Herculano, um dos seus membros, teve registrada a sua discordância com esse ato praticado pela Comissão, ficando clara a sua posição individual divergente, devidamente fundamentada. Nessa situação hipotética, segundo o disposto na Lei nº 8.666/93, é correto afirmar que
- (A) todos os membros responderão solidariamente pelo ato praticado pela Comissão, inclusive Herculano, mesmo com voto contrário, uma vez que se trata de órgão colegiado.
  - (B) nenhum membro da Comissão poderá ser responsabilizado, uma vez que a Lei não prevê punição dos seus membros por simples tomada de decisão em processo licitatório.
  - (C) somente o gestor do contrato deverá ser responsabilizado, tendo em vista que os atos praticados pela Comissão não geram responsabilidade dos seus membros.
  - (D) todos os membros responderão solidariamente pelo ato praticado pela Comissão, salvo Herculano, que não será responsabilizado por ter manifestado seu voto contrário.
  - (E) todos os membros responderão de forma subsidiária pelo ato praticado pela Comissão, exceto Herculano, que deixou formalmente registrada a sua posição divergente.
- 41.** A respeito das garantias contratuais previstas na Lei nº 8.666/93, é correto afirmar que
- (A) caberá ao contratado optar por uma das modalidades previstas na Lei.
  - (B) não serão admitidos nem seguro-garantia e nem fiança bancária.
  - (C) será admitido o seguro-garantia, mas não a fiança bancária.
  - (D) a Administração poderá exigir do contratado mais de uma modalidade.
  - (E) será admitida apenas garantia por meio de depósito em dinheiro.
- 42.** Segundo as normas referentes ao contrato administrativo previstas na Lei nº 8.666/93, nos casos de compra com entrega imediata e integral dos bens adquiridos, dos quais não resultem obrigações futuras,
- (A) os bens serão entregues mediante a assinatura do termo de contrato.
  - (B) deverão constar do termo de contrato a forma, o tempo e lugar da entrega.
  - (C) é dispensável o respectivo termo de contrato.
  - (D) não será admitida a substituição do termo de contrato.
  - (E) a substituição ou dispensa do termo de contrato dependerá do valor da compra.

- 43.** Conforme a Lei nº 8.666/93, quanto à execução do contrato, é correto afirmar que
- (A) deverá ser fiscalizada por um representante da Administração, que poderá delegar essa função a terceiros.
  - (B) é vedado, expressamente, que o contratado subcontrate partes da obra, serviço ou fornecimento de bens.
  - (C) os encargos trabalhistas não honrados pelo contratado transfere à Administração a responsabilidade por seu pagamento.
  - (D) o contratado deve manter preposto, aceito pela Administração, no local da obra ou serviço, para representá-lo na execução do contrato.
  - (E) a Administração não pode rejeitar, no todo ou em parte, obra, serviço ou fornecimento executado, ainda que em desacordo com o contrato.
- 44.** No tocante à invalidação e à revogação do ato administrativo, é correto afirmar que a primeira
- (A) incide sobre os atos ilegais, e a segunda é de competência do Poder Judiciário.
  - (B) pode ser efetivada pela Administração ou pelo Judiciário, e a segunda incide sobre os atos vinculados, mas não sobre os discricionários.
  - (C) incide sobre os atos vinculados e discricionários, enquanto a segunda pode ser efetivada pela Administração ou pelo Judiciário.
  - (D) somente pode ser efetivada pelo Judiciário, enquanto a segunda incide sobre os atos vinculados e os discricionários.
  - (E) incide sobre os atos discricionários e os vinculados, enquanto a segunda é de competência exclusiva da Administração.
- 45.** Assinale a alternativa que descreve corretamente um típico ato administrativo.
- (A) A locação de um imóvel para a instalação de um órgão público.
  - (B) A concessão de férias a um servidor público da Câmara Municipal.
  - (C) O voto de um Vereador durante a sessão legislativa.
  - (D) A expedição de um parecer da Assessoria Jurídica parlamentar.
  - (E) A execução de uma apreensão de mercadoria irregular pela Prefeitura.
- 46.** Nos termos da Lei de Improbidade Administrativa, na hipótese de a autoridade administrativa responsável por um inquérito se deparar com um ato de improbidade de um servidor que tenha causado lesão ao patrimônio público, ela deverá
- (A) mandar cópias das peças do inquérito para o juiz criminal da Comarca para a devida punição do indiciado.
  - (B) representar ao Ministério Público, para a indisponibilidade dos bens do indiciado.
  - (C) suspender o indiciado de suas funções e mandar bloquear o pagamento de seus vencimentos.
  - (D) pedir ao Poder Judiciário que bloqueie os bens do indiciado e inicie o respectivo processo criminal.
  - (E) solicitar ao Delegado de Polícia competente a instauração do respectivo inquérito policial e suspender os seus vencimentos.
- 47.** Segundo a Lei de Improbidade Administrativa, para que o agente ou o terceiro que praticou um ato danoso seja obrigado ao ressarcimento integral do dano, é mister que concorram os seguintes requisitos legais:
- (A) lesão ao patrimônio público por ação ou omissão, dolosa ou culposa.
  - (B) dano ao erário por ação ou omissão, independentemente de culpa ou dolo.
  - (C) culpa ou dolo em ato omissivo ou comissivo, independentemente de danos.
  - (D) ato omissivo ou comissivo, necessariamente doloso, e o nexa causal.
  - (E) ação danosa, independentemente de culpa, por responsabilidade objetiva.
- 48.** A respeito das denominadas cláusulas exorbitantes do contrato administrativo, é correto afirmar que
- (A) são cláusulas leoninas.
  - (B) são nulas de pleno direito.
  - (C) não podem favorecer a Administração.
  - (D) são comuns no contrato administrativo, mas ilícitas no civil.
  - (E) permitem a alteração unilateral pela Administração, mas não a rescisão.
- 49.** Nos termos da Lei nº 8.666/93, as cláusulas econômico-financeiras e monetárias dos contratos administrativos
- (A) não podem ser alteradas.
  - (B) podem ser alteradas sem a prévia concordância do contratado.
  - (C) podem ser alteradas unilateralmente e não precisam se submeter ao equilíbrio contratual.
  - (D) podem ser alteradas a qualquer tempo pelo contratado.
  - (E) não poderão ser alteradas sem prévia concordância do contratado.

50. “Agravamento econômico resultante de medida tomada sob titulação diversa da contratual, isto é, no exercício de outra competência, cujo desempenho vem a ter repercussão direta na econômica contratual estabelecida na avença.” (Celso Antonio Bandeira de Mello). Essa conceituação doutrinária refere-se ao que se denomina de
- (A) Fato da Administração.
  - (B) Cláusula *rebus sic stantibus*.
  - (C) Fato do Príncipe.
  - (D) Cláusula exorbitante.
  - (E) Ilícito administrativo.
51. Na hipótese de uma disputa relacionada a um contrato de concessão de serviço público, o direito brasileiro estabelece que a respectiva resolução
- (A) não poderá ser feita por mecanismos privados, se o valor do contrato for superior a um milhão de reais.
  - (B) poderá ser feita pelo emprego de mecanismos privados, exceto pela arbitragem.
  - (C) poderá ser feita pelo emprego da arbitragem, a ser realizada no Brasil e em língua portuguesa.
  - (D) não poderá ser feita por mecanismos privados, independentemente do valor do contrato.
  - (E) exige seja efetivada pelo Poder Judiciário, independentemente do valor do contrato.
52. Assinale a alternativa correta a respeito do contrato de concessão de serviços públicos, segundo a legislação brasileira.
- (A) A concessionária é responsável solidária com o poder público pelos prejuízos causados aos usuários do serviço concedido.
  - (B) É vedado à concessionária contratar com terceiros o desenvolvimento de atividades acessórias ou complementares ao serviço concedido.
  - (C) A simples transferência de concessão ou do controle societário da concessionária não necessita da anuência do poder concedente.
  - (D) A fiscalização do poder público exclui ou atenua a responsabilidade da concessionária no caso de danos ao usuário do serviço.
  - (E) É admitida a subconcessão, nos termos previstos no contrato de concessão, desde que expressamente autorizada pelo poder concedente.
53. Medusa assumiu um cargo público e deu início às atividades pertinentes às funções do seu cargo, praticando diversos atos administrativos que afetaram direitos de terceiros. Todavia, depois descobriu-se que Medusa havia falsificado o diploma de curso superior exigido para a posse do cargo público que assumiu. Nessa situação hipotética, é correto afirmar que Medusa é considerada como
- (A) agente falso, e os atos por ela praticados são considerados nulos.
  - (B) agente de direito, e os atos por ela praticados são válidos.
  - (C) agente putativo, e os atos praticados por ela são inválidos.
  - (D) agente de fato, e os atos praticados por ela são válidos.
  - (E) agente de direito, e os atos praticados por ela são anuláveis.
54. Considerando os poderes da Administração, a multa de trânsito é uma expressão do poder
- (A) de polícia administrativa.
  - (B) hierárquico.
  - (C) de polícia judiciária.
  - (D) disciplinar.
  - (E) normativo.
55. Assinale a alternativa correta a respeito dos poderes vinculados e discricionários.
- (A) O discricionário está ligado aos conceitos jurídicos indeterminados, e o vinculado exsurge em parâmetros de objetividade que ensejam uma única solução ao agente.
  - (B) O discricionário concede ao administrador total liberdade na sua prática, enquanto no vinculado o agente deve fazer a escolha dentro das alternativas permitidas pela lei.
  - (C) No discricionário, a sua análise é intangível ao Poder Judiciário, e no vinculado o seu controle judicial limita-se ao exame dos critérios objetivos de sua expedição.
  - (D) Nos dois tipos os seus limites podem ser averiguados pelo Poder Judiciário, sendo-lhe vedado, somente, examinar o mérito administrativo de ambos.
  - (E) O desvio de finalidade ou de poder são vícios que afetam ambos, mas somente o vinculado se sujeita ao controle judicial nesse aspecto.

56. A respeito do poder disciplinar da Administração Pública, é correto afirmar que
- (A) uma das formas de sua expressão se dá por meio de punições estatais sobre os servidores públicos e sobre os particulares, no exercício da função jurisdicional, na atividade de repressão de crimes e contravenções.
  - (B) pode ser utilizado para punir, internamente, infrações funcionais de seus servidores, bem como para punir infrações praticadas por particulares, a ela ligados por algum vínculo jurídico específico.
  - (C) é aplicado em situações específicas nas quais a lei descreve expressa e objetivamente infrações administrativas, o que comina em atos vinculados, obrigatórios, não havendo margem para discricionariedade na aplicação das penas.
  - (D) quanto ao ato da aplicação da penalidade, este deve ser motivado, assegurado o direito do contraditório e da ampla defesa, mas essa regra admite exceção quando se tratar de sanção administrativa distinta da suspensão e da demissão.
  - (E) na hipótese de a própria autoridade administrativa competente para aplicar a pena ter conhecimento direto da infração cometida pelo servidor, ela poderá aplicar a sanção cabível diretamente, sem necessidade de processo administrativo, com base no princípio da verdade sabida.
57. Assinale a alternativa que contempla um exemplo de controle interno da Administração Pública.
- (A) A sustação, pelo Congresso Nacional, de atos normativos do Poder Executivo que exorbitem do poder regulamentar.
  - (B) A anulação de um ato do Poder Executivo por decisão judicial.
  - (C) O julgamento anual, pelo Congresso Nacional, das contas prestadas pelo Presidente da República.
  - (D) A auditoria realizada pelo Tribunal de Contas da União sobre despesas realizadas pelo Poder Executivo federal.
  - (E) A atividade correcional do Tribunal de Justiça sobre os seus servidores e sobre os cartórios judiciais e extrajudiciais.
58. A pessoa jurídica detentora de personalidade jurídica de direito privado, sem fins lucrativos, criada em virtude de autorização legislativa, para o desenvolvimento de atividades que não exijam execução por órgãos ou entidades de direito público, com autonomia administrativa, patrimônio próprio gerido pelos respectivos órgãos de direção, e funcionamento custeado por recursos da União e de outras fontes, é denominada
- (A) sociedade de economia mista.
  - (B) empresa estatal.
  - (C) fundação pública.
  - (D) autarquia.
  - (E) agência reguladora.
59. Um Prefeito Municipal, por meio de um decreto, decidiu criar um Conselho de Contas, com a participação de servidores públicos em cargos em comissão e representantes da sociedade civil, com a finalidade de fiscalizar as finanças e gastos dos Municípios, sendo que o referido decreto prevê que os Conselheiros serão remunerados pela Prefeitura. Nessa situação hipotética, considerando o disposto na Constituição Federal a respeito do controle da Administração Pública, é correto afirmar que esse Conselho
- (A) é inconstitucional por ter sido instituído por meio de decreto do Prefeito, quando o correto seria ter sido criado por meio de lei municipal.
  - (B) é constitucional, uma vez que tem por objetivo aperfeiçoar a fiscalização das contas do Município e prevê a participação da sociedade civil na sua composição.
  - (C) é constitucional na sua criação, mas não poderia prever que a remuneração dos conselheiros seja feita por meio de recursos públicos.
  - (D) é inconstitucional, pois a Carta Magna veda a criação desse tipo de órgão em âmbito municipal.
  - (E) é inconstitucional por prever a participação de servidores públicos em cargos de comissão como conselheiros.
60. Assinale a alternativa que contempla corretamente dois exemplos de prerrogativas das autarquias.
- (A) Sujeição ao prazo prescricional de dez anos quanto a sua responsabilidade; e inalienabilidade de seus bens.
  - (B) Presunção de legitimidade de seus atos; e impenhorabilidade de seus bens.
  - (C) Prazos processuais em dobro; e isenção processual quanto às taxas, despesas e diligências de oficiais de justiça.
  - (D) Isenção de honorários sucumbenciais; e imunidade tributária de impostos e taxas processuais.
  - (E) Reexame de ofício das decisões judiciais desfavoráveis; e não sujeição ao regime de precatórios.

