



**PREFEITURA MUNICIPAL DE FORMOSA DO SUL
ESTADO DE SANTA CATARINA
CONCURSO PÚBLICO Nº 01/2019**


**AGENTE COMUNITÁRIO DE SAÚDE, AGENTE DE COMBATE
A ENDEMIAS E AUXILIAR EM SAÚDE BUCAL**

Instruções

Leia atentamente e cumpra rigorosamente as instruções que seguem, pois elas são parte integrante das provas e das normas que regem esse Concurso Público.

1. Atente-se aos avisos contidos no quadro da sala.
2. Seus pertences deverão ser armazenados dentro do saco plástico fornecido pelo fiscal. Somente devem permanecer em posse do candidato caneta esferográfica de ponta grossa, de material transparente, com tinta azul ou preta, documento de identidade, lanche e água, se houver. A utilização de qualquer material não permitido em edital é expressamente proibida, acarretando a imediata exclusão do candidato.
3. Certifique-se de que este caderno:
 - contém 40 (quarenta) questões;
 - refere-se ao cargo para o qual realizou a inscrição.
4. Cada questão oferece 5 (cinco) alternativas de respostas, representadas pelas letras A, B, C, D e E, sendo apenas 1 (uma) a resposta correta.
5. No caderno de prova, pode-se rabiscar, riscar e calcular.
6. Será respeitado o tempo para realização da prova conforme previsto em edital, incluindo o preenchimento da grade de respostas.
7. A responsabilidade referente à interpretação dos conteúdos das questões é exclusiva do candidato.
8. Os três últimos candidatos deverão retirar-se da sala de prova ao mesmo tempo, devendo assinar a Ata de Prova.
9. Os gabaritos preliminares da prova objetiva serão divulgados na data descrita no Cronograma de Execução.

Boa prova!



Instrução: As questões de números 01 a 15 referem-se ao texto abaixo. Os destaques ao longo do texto estão citados nas questões.

O mundo 'pós-likes' pode colocar o fact-checking em xeque

01 Se você acompanha de perto os movimentos de Facebook, Instagram, Twitter e Youtube,
02 já sabe que as curtidas parecem ter os dias contados. As quatro gigantes implantaram ou estão
03 testando formas de omitir quantos likes uma postagem teve. Agora, se você é do tipo que não
04 segue esse noticiário, comece a prestar atenção ___ essas mudanças. As alterações podem
05 afetar em cheio o trabalho dos checadores de fatos no mundo todo e, em consequência, ampliar
06 o grau de desinformação nas redes sociais.

07 Numa primeira leitura, o movimento em favor da desmetrificação dos posts — sejam eles
08 em formato de textos, fotos ou vídeos — parece ser uma resposta ___ indústria dos likes e ao
09 dano psicológico que ela pode causar.

10 Lá atrás, quando as redes sociais saíram do papel, as curtidas serviam não só para
11 mostrar o sucesso de uma publicação, mas também para influenciar o algoritmo de algumas das
12 plataformas e fazer com que aquele conteúdo fosse distribuído para mais pessoas.

13 Em alguns anos, surgiram as fazendas de curtidas e os robôs, sistemas que poderiam ser
14 comprados de forma a "virali...ar" um conteúdo e a transformar um determinado indivíduo num
15 influenciador digital. Com isso, veio o caos mental. A busca por curtidas e a angústia atrelada a
16 sua ausência.

17 A desmetrificação seria, portanto, uma forma de quebrar esse ciclo vicioso: sem saber
18 quantos likes um conteúdo ou uma pessoa têm, as redes sociais sobreviveriam apenas pela
19 qualidade real daquilo que comportam.

20 Em julho deste ano, o Instagram deu o primeiro passo. Passou a "esconder" o número de
21 curtidas das postagens feitas em sete países do mundo: Brasil, Canadá, Austrália, Itália, Irlanda,
22 Japão e Nova Zelândia. E o marketing digital reclamou. Muito. Influenciadores já não tinham
23 como provar o sucesso de suas postagens — nem cobrar por elas. Nas empresas, os marketeiros
24 já não sabiam ao certo em que contas investir — muito menos medir seu ROI (return of
25 investment).

26 Hoje em dia, sabe-se que o Facebook (dono do Instagram) faz testes internos no mesmo
27 sentido, assim como o Twitter. O YouTube, por sua vez, deixou de mostrar o número exato de
28 pessoas inscritas em canais. A contagem mostra apenas números aproximados.

29 É possível que você tenha chegado até aqui comemorando essas decisões. Então precisa
30 saber que o trabalho dos fact-checkers de todo o mundo depende — e muito — das métricas
31 produzidas pelas redes sociais. Qualquer alteração na e...ibição delas deveria passar por uma
32 discussão com os checadores.

33 Explico: todos os dias, as redações das plataformas de checagem recebem centenas de
34 posts apontados como supostamente falsos para checar. É com base nas métricas — número de
35 likes, de compartilhamentos e comentários — que as equipes determinam o que merece atenção
36 imediata, com base no potencial de viralização indicado pelos dados. A ausência deles pode
37 colocar os checadores num estado semelhante ao que se vê hoje em dia no WhatsApp.

38 E já há casos concretos disso. Ao agir contra fotos antigas atribuídas ___ queimadas da
39 Amazônia, os fact-checkers da Agência Lupa perceberam que já não podiam contar com o
40 aplicativo de celular do Instagram. Ele já não informava o número de likes das fotos que
41 circulavam fora de contexto. Tiveram de correr para o computador para verificar se, por lá, ainda
42 era possível saber qual imagem merecia ser trabalhada antes. Foi com alívio que constataram
43 que, pelo desktop, ainda era possível ver o número de curtidas.

44 Imagine agora como seria se todas as redes sociais retirassem dos checadores a
45 informação sobre qual texto, imagem e vídeo falso está sendo mais espalhado pela rede. Você
46 certamente o receberia — sem a devida checagem em anexo. Talvez esse lado da
47 desmetrificação mere...a ser mais debatido.

(Cristina Tardáguila – Revista Época – 16/09/2019 – Disponível em: <https://epoca.globo.com> – adaptação)

QUESTÃO 01 – Assinale a alternativa que NÃO apresenta uma rede social que passou a omitir recentemente o número de respostas de seguidores.

- A) Youtube.
- B) Facebook.
- C) Instagram.
- D) Whatsapp.
- E) Twitter.

QUESTÃO 02 – Considerando o exposto no texto, analise as assertivas a seguir:

- I. Uma das consequências da omissão dos números referentes ao engajamento em uma postagem em rede social é o aumento da propagação de informações falsas.
- II. Está implícito no texto que a qualidade das postagens não será, de maneira alguma, afetada pela omissão dos *likes*.
- III. As curtidas em uma postagem não geram retornos financeiros, portanto, sua omissão afeta somente questões psicológicas dos que se integram às redes sociais.

Quais estão corretas?

- A) Apenas I.
- B) Apenas II.
- C) Apenas III.
- D) Apenas I e II.
- E) Apenas II e III.

QUESTÃO 03 – Considerando a construção da argumentação no texto, analise as assertivas a seguir:

- I. O texto apresenta somente aspectos positivos da omissão dos números referentes ao engajamento em postagens em redes sociais.
- II. O autor do texto não deixa transparecer, em nenhum momento, seu posicionamento em relação ao assunto debatido.
- III. O autor emprega um fato da atualidade brasileira para construir um exemplo de como a omissão dos likes afeta o trabalho de checagem em postagens.

Quais estão corretas?

- A) Apenas I.
- B) Apenas II.
- C) Apenas III.
- D) Apenas I e II.
- E) Apenas II e III.

QUESTÃO 04 – Considerando o emprego do acento indicativo de crase, assinale a alternativa que preenche correta e respectivamente as lacunas das linhas 04, 08 e 38.

- A) à - à - às
- B) à - à - as
- C) à - a - as
- D) a - a - às
- E) a - à - às

QUESTÃO 05 – Considerando a correta ortografia das palavras em Língua Portuguesa, assinale a alternativa que completa correta e respectivamente os espaços pontilhados das linhas 14, 31 e 47.

- A) s - z - ss
- B) s - z - s
- C) z - x - ç
- D) z - z - ç
- E) z - x - s

QUESTÃO 06 – Considerando o período a seguir: “Influenciadores já não tinham como provar o sucesso de suas postagens — nem cobrar por elas”, retirado do texto, quantas outras alterações deveriam ser realizadas caso substituíssemos a palavra “postagens” por sua forma singular a fim de que se mantivessem as corretas relações de concordância e referência no período?

- A) 0.
- B) 1.
- C) 2.
- D) 3.
- E) 4.

QUESTÃO 07 – Assinale a alternativa que apresenta palavra formada pelo mesmo processo de formação da palavra “desmetrificação”, retirada do texto.

- A) Emagrecer.
- B) Antebraço.
- C) Jantar.
- D) Beleza.
- E) Planalto.

QUESTÃO 08 – Assinale a alternativa na qual NÃO haja a ocorrência de um hiato.

- A) Noticiário.
- B) Conteúdo.
- C) Distribuído.
- D) Vicioso.
- E) Decisões.

QUESTÃO 09 – Na linha 29, a oração subordinada sublinhada a seguir “É possível que você tenha chegado até aqui” exerce a função sintática de:

- A) Objeto Direto.
- B) Objeto Indireto.
- C) Agente da Passiva.
- D) Sujeito.
- E) Predicativo do Sujeito.

QUESTÃO 10 – Considerando o emprego dos sinais de pontuação, analise as assertivas a seguir:

- I. Na linha 04, o emprego da vírgula deve-se à separação entre uma oração subordinada adverbial e a oração principal.
- II. Nas linhas 07 e 08, o emprego do duplo travessão deve-se à inserção de uma expressão explicativa e eles poderiam ser substituídos por duas vírgulas sem prejuízo à correção gramatical do período.
- III. Na linha 33, o emprego dos dois pontos deve-se à inserção de uma fala em discurso direto, num diálogo entre os personagens do texto.

Quais estão corretas?

- A) Apenas I.
- B) Apenas II.
- C) Apenas I e II.
- D) Apenas I e III.
- E) Apenas II e III.

QUESTÃO 11 – Assinale a alternativa que indica o valor semântico do nexos “mas também” (l. 11).

- A) Adversativo.
- B) Aditivo.
- C) Explicativo.
- D) Alternativo.
- E) Causal.

QUESTÃO 12 – Assinale a alternativa que apresenta palavra que NÃO poderia substituir a palavra “caos” (l. 15) sob pena de alteração drástica do sentido original do texto. Ignore eventuais alterações de gênero da palavra.

- A) Confusão.
- B) Alinhamento.
- C) Desordem.
- D) Perturbação.
- E) Desarranjo.

QUESTÃO 13 – Considerando o emprego de recursos coesivos, analise as assertivas a seguir e assinale V, se verdadeiras, ou F, se falsas.

- () Na linha 04, o pronome demonstrativo “essas” refere-se ao vocábulo “alterações”, colocado posteriormente a ele.
- () Na linha 07, o pronome pessoal “eles” tem como referente a palavra “movimento” (l. 07).
- () Na linha 31, a contração “delas” tem como referente do pronome pessoal a palavra “métricas” (l. 30).

A ordem correta de preenchimento dos parênteses, de cima para baixo, é:

- A) F – F – V.
- B) F – V – V.
- C) V – V – V.
- D) F – V – F.
- E) V – F – F.

QUESTÃO 14 – Assinale a alternativa que apresenta a correta transposição do trecho a seguir, retirado do texto, para a voz passiva sintética: “as redações das plataformas de checagem recebem centenas de posts”.

- A) Centenas de posts são recebidos pelas redações das plataformas de checagem.
- B) Recebem-se centenas de posts nas redações das plataformas de checagem.
- C) Recebe-se centenas de posts nas redações das plataformas de checagem.
- D) As plataformas de checagem são recebidas por centenas de posts.
- E) Recebe-se plataformas de checagem por centenas de posts.

QUESTÃO 15 – Assinale a alternativa que apresenta a correta classificação do sujeito da oração “surgiram as fazendas de curtidas e os robôs”, retirada do texto.

- A) Sujeito Oculto.
- B) Sujeito Indeterminado.
- C) Sujeito Simples.
- D) Sujeito Composto.
- E) Oração sem sujeito.

LEGISLAÇÃO

QUESTÃO 16 – A empresa Beta, por infringir as previsões da Lei nº 68/1994 do Município de Formosa do Sul, foi condenada a pagar uma multa. Considerando a hipótese da empresa não satisfazer o pagamento no prazo regulamentar previsto, de acordo com a mencionada Lei, a multa será inscrita:

- A) Em dívida ativa.
- B) No SPC – Serviço de Proteção ao Crédito.
- C) No SERASA – Centralização de Serviços dos Bancos.
- D) Como credora do Município.
- E) Como ré em processo de execução administrativo.

QUESTÃO 17 – A empresa Beta, ao fixar sede no Município de Formosa do Sul, de acordo com a Lei nº 68/1994, estará sujeita às inspeções sanitárias municipal. Na inspeção em que for verificada irregularidade, de acordo com a mencionada Lei, apresentará o funcionário competente um(a):

- A) Representante do MP.
- B) Solicitação de fechamento preliminar.
- C) Pedido para a vigilância estadual realizar uma inspeção.
- D) Ofício com pedido de fechamento no prazo de 30 dias caso não seja regularizado.
- E) Relatório circunstanciado, sugerindo ou solicitando providências a bem da higiene pública.

QUESTÃO 18 – A Lei nº 68/1994 do Município de Formosa do Sul proíbe expressamente perturbações do sossego público com ruídos ou sons excessivos, tais como os:

- I. De veículos com escapamento aberto ou carroceria semissolta.
- II. De buzinas, clarins, campainhas ou quaisquer outros aparelhos.
- III. Batuques, congados e outros divertimentos congêneres, sem licença das autoridades.

Quais estão corretas?

- A) Apenas I.
- B) Apenas II.
- C) Apenas III.
- D) Apenas I e II.
- E) I, II e III.

QUESTÃO 19 – De acordo com a Lei nº 356/2005 do Município de Formosa do Sul, as ações do governo municipal para promover o desenvolvimento social, econômico e cultural devem ser objeto de planejamento, assegurada à participação _____ durante os processos de elaboração e de discussão dos instrumentos básicos tratados pela mencionada Lei.

Assinale a alternativa que preenche corretamente a lacuna do trecho acima.

- A) cultural
- B) ambiental
- C) popular
- D) binária
- E) triangulada

QUESTÃO 20 – A Lei nº 356/2005 do Município de Formosa do Sul determina que os atos de execução, singulares ou coletivos, obedecerão aos preceitos legais e às normas regulamentares, observando os critérios de racionalização, qualidade e:

- A) Austeridade.
- B) Eficácia.
- C) Eficiência.
- D) Produtividade.
- E) Utilidade.

QUESTÃO 21 – A Lei nº 19/2007, ao tratar do ingresso de cargo em comissão, ressalta que a nomeação para exercício nesse cargo determina o afastamento do servidor do cargo efetivo de que for titular, hipótese em que o servidor do Município de Formosa do Sul poderá optar pela:

- A) Remuneração.
- B) Promoção.
- C) Realocação.
- D) Admissibilidade.
- E) Averbação.

Para responder às questões 22 e 23, considere o texto a seguir:

Miguel, após aprovado em concurso público e empossado como servidor no Município de Formosa do Sul, tomou conhecimento que, além do vencimento e da remuneração, terá direito ao recebimento de vantagens, previstas na Lei nº 17/2006, a qual dispõe sobre o Estatuto dos Servidores municipais.

QUESTÃO 22 – As vantagens que Miguel acabou de conhecer, de acordo com a mencionada Lei, referem-se a diárias, décimo terceiro vencimento e:

- A) Comissões.
- B) Bônus.
- C) Cesta básica.
- D) Vale cultura.
- E) Adicionais.

QUESTÃO 23 – Os acréscimos pecuniários que Miguel perceberá na contrapartida da prestação como servidor ao Município de Formosa do Sul, para os efeitos da mencionada Lei, não serão computados nem acumulados para fins de concessão de acréscimos:

- A) Retroativos.
- B) Ulteriores.
- C) Interinos.
- D) Provisórios.
- E) Indenizatários.

QUESTÃO 24 – A política habitacional no Município de Formosa do Sul integrada à da União e do Estado objetivará a solução da carência habitacional, conforme os princípios da Lei Orgânica Municipal. E, de acordo com a mencionada Lei, o Poder Público, visando angariar recursos e implementar sua política habitacional, entre outros, manterá:

- A) Um contingenciamento de três por cento da arrecadação municipal.
- B) Fundos de reservas.
- C) Liquidez nos títulos do tesouro direto.
- D) O Fundo Municipal de Habitação.
- E) Galpões estrategicamente alocados para casos de calamidade pública.

QUESTÃO 25 – Em relação à Assistência Social, a Lei Orgânica de Formosa do Sul prevê que o Município prestará auxílios eventuais atendendo situação de emergência e vulnerabilidade temporária, na forma da lei, e auxílio funeral às pessoas carentes, fornecendo urnas populares e funeral:

- A) Temporariamente.
- B) Solenemente.
- C) Consignado.
- D) Gratuitamente.
- E) Cordialmente.

CONHECIMENTOS GERAIS

QUESTÃO 26 – Formosa do Sul, antes de sua emancipação, era distrito de qual município?

- A) Irati.
- B) Jardinópolis.
- C) Quilombo.
- D) Novo Horizonte.
- E) São Lourenço do Oeste.

QUESTÃO 27 – No município de Formosa do Sul, a agricultura tem como principal atividade o cultivo de:

- A) Mandioca.
- B) Soja.
- C) Arroz.
- D) Milho.
- E) Cana de açúcar.

QUESTÃO 28 – Quem é o atual Secretário de Estado da Saúde de Santa Catarina?

- A) Paulo Eli.
- B) Natalino Uggioni.
- C) Douglas Borba.
- D) Carlos Hassler.
- E) Helton de Souza Zeferino.

QUESTÃO 29 – Neste ano, em maio, _____ ganhou a 31ª edição do Prêmio Camões de Literatura, que tem como objetivo reconhecer um autor de língua portuguesa, entre vários países, que tenha “contribuído para o enriquecimento do patrimônio literário e cultural” do idioma através de seu conjunto da obra.

Assinale a alternativa que preenche corretamente a lacuna do trecho acima.

- A) Chico Buarque
- B) Jorge Amado
- C) Raduan Nassar
- D) Caetano Veloso
- E) Ferreira Gullar

QUESTÃO 30 – Greta Thunberg, jovem ativista sueca no combate às mudanças climáticas, tem apenas 16 anos e ficou mundialmente conhecida ao fazer um discurso carregado de emoção, um dia antes da cúpula climática da ONU, que viralizou pela internet. A jovem contou que sofre de um transtorno, que leva a pessoa a apresentar uma série de sintomas, como dificuldade de interação e comunicação, além de outros problemas comportamentais. Qual o transtorno que Greta tem?

- A) Síndrome de Down.
- B) Síndrome de Asperger.
- C) Síndrome de Angelman.
- D) Síndrome de Rett.
- E) Síndrome de Prader-Willi.

QUESTÃO 31 – Se uma bola de futebol pesa 3,5 gramas por cm^2 , então a bola ilustrada abaixo pesará (utilizar 3,14 para π):



- A) 1.099 gramas.
- B) 4.396 gramas.
- C) 8.792 gramas.
- D) 13.188 gramas.
- E) 17.584 gramas.

QUESTÃO 32 – Se $f(x) = 3x + 18$ e $g(x) = 4x - 9$, calcule $\frac{f(3)}{g(3)}$.

- A) 1.
- B) 3.
- C) 5.
- D) 7.
- E) 9.

QUESTÃO 33 – A produção de suco de uma fábrica é envasada por uma máquina que enche 150 garrafas de 2 litros por minuto e que trabalha, ininterruptamente, por 8 horas diárias. Uma encomenda de 198.000 garrafas de 2 litros chegou, e a máquina foi colocada para funcionar, a partir do dia 10, sempre das 8h às 16h. A encomenda estará pronta em que dia e horário, respectivamente?

- A) 11, às 14h.
- B) 12, às 14h.
- C) 13, às 14h.
- D) 12, às 12h.
- E) 13, às 12h.

QUESTÃO 34 – 230 jovens foram entrevistados sobre três opções de cursos superiores e carreiras, respondendo qual ou quais gostariam de seguir, originando a tabela abaixo:

| OPÇÃO | QUANTIDADE |
|----------------------------|------------|
| Medicina | 155 |
| Odontologia | 86 |
| Fisioterapia | 50 |
| Medicina e Odontologia | 18 |
| Odontologia e Fisioterapia | 6 |
| Medicina e Fisioterapia | 12 |
| Nenhum | 15 |

Com base nesses dados, podemos afirmar que a quantidade de jovens que gostariam de seguir as três opções de carreiras superiores foi de:

- A) 10.
- B) 15.
- C) 20.
- D) 25.
- E) 30.

QUESTÃO 35 – Assinale a alternativa que contém uma fração equivalente a $\frac{5}{\sqrt{3}}$.

A) $\frac{6}{\sqrt{2}}$

B) $\frac{10}{\sqrt{5}}$

C) $\frac{5}{3}$

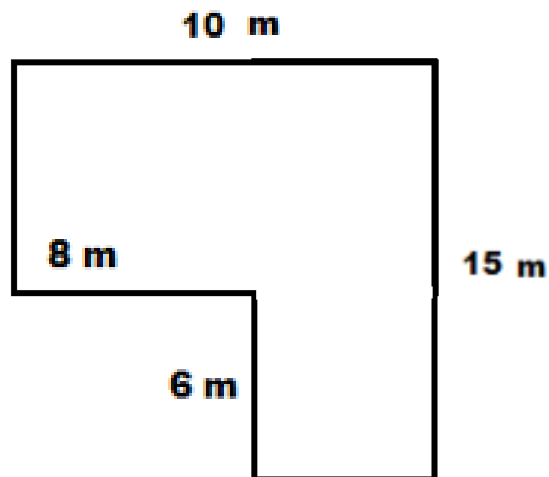
D) $\frac{3}{5}$

E) $\frac{5\sqrt{3}}{3}$

QUESTÃO 36 – A pavimentação da rodovia “A” foi iniciada e, no primeiro dia, foram asfaltados 20% do trecho em obras, ou seja, 25 quilômetros. No segundo dia, foram asfaltados outros 30% da quilometragem. Assinale quantos quilômetros foram asfaltados no segundo dia.

- A) 37,5.
- B) 35.
- C) 30.
- D) 27,5.
- E) 25.

QUESTÃO 37 – A figura abaixo representa as metragens de uma casa com dois pisos exatamente iguais. Assinale a alternativa que indica quantos metros quadrados tem a casa.



- A) 204 m².
- B) 198 m².
- C) 170 m².
- D) 150 m².
- E) 102 m².

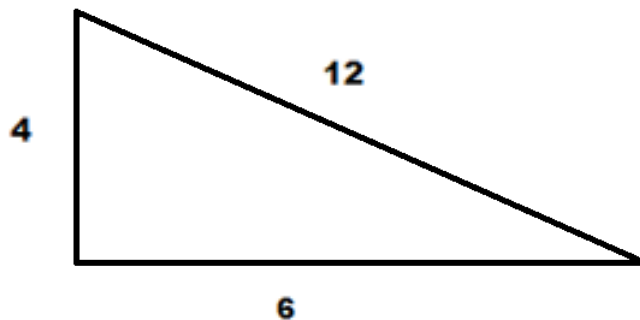
QUESTÃO 38 – A negação da proposição composta “José é alto e Maria é baixa” é:

- A) José é baixo e Maria é alta.
- B) José não é alto e Maria é alta.
- C) Maria é alta ou José é baixo.
- D) José não é alto ou Maria não é baixa.
- E) Maria não é alta e José não é baixo.

QUESTÃO 39 – O conjunto verdade da seguinte equação $3x^2 - 2 + 8x = -5$ é:

- A) $\frac{-4 \pm \sqrt{7}}{3}$
- B) ± 4
- C) $\pm \sqrt{7}$
- D) $\frac{-4 \pm \sqrt{3}}{7}$
- E) ± 3

QUESTÃO 40 – Assinale a alternativa que indica o seno e cosseno, respectivamente, referentes ao triângulo retângulo abaixo.



- A) 3 e 2
- B) $\frac{1}{3}$ e $\frac{1}{2}$
- C) $\sqrt{3}$ e $\sqrt{2}$
- D) -3 e -2
- E) 48 e 72