



# PREFEITURA DO MUNICÍPIO DE ARAUCÁRIA

Comissão Especial Concurso Público

Concurso Público Edital 030/2017 - SMGP

Prova Objetiva – 10/12/2017



INSCRIÇÃO	TURMA	NOME DO CANDIDATO
ASSINO DECLARANDO QUE LI E COMPREENDI AS INSTRUÇÕES ABAIXO:		ORDEM

## 109 – Médico Psiquiatra

### INSTRUÇÕES

- Confira, acima, o seu número de inscrição, turma e nome. Assine no local indicado.
- Aguarde autorização para abrir o caderno de prova. Antes de iniciar a resolução das questões, confira a numeração de todas as páginas.
- A prova é composta de 50 questões objetivas.
- Nesta prova, as questões objetivas são de múltipla escolha, com 5 (cinco) alternativas cada uma, sempre na sequência **a, b, c, d, e**, das quais somente uma deve ser assinalada.
- A interpretação das questões é parte do processo de avaliação, não sendo permitidas perguntas aos aplicadores de prova.
- Ao receber o cartão-resposta, examine-os e verifique se o nome impresso neles corresponde ao seu. Caso haja qualquer irregularidade, comunique-a imediatamente ao aplicador de prova.
- O cartão-resposta deverá ser preenchido com caneta esferográfica preta, tendo-se o cuidado de não ultrapassar o limite do espaço para cada marcação.
- O tempo de resolução das questões, incluindo o tempo para preenchimento do cartão-resposta, é de 4 (quatro) horas.
- Não será permitido ao candidato:
  - Manter em seu poder relógios e aparelhos eletrônicos ou qualquer objeto identificável pelo detector de metais. Tais aparelhos deverão ser desligados e colocados **OBRIGATORIAMENTE** dentro do saco plástico, que deverá ser acomodado embaixo da carteira ou no chão. É vedado também o porte de armas.
  - Usar bonés, gorros, chapéus ou quaisquer outros acessórios que cubram as orelhas.
  - Usar fone ou qualquer outro dispositivo no ouvido. O uso de tais dispositivos somente será permitido quando indicado para o atendimento especial.
  - Levar líquidos, exceto se a garrafa for transparente e sem rótulo.
  - Comunicar-se com outro candidato, usar calculadora e dispositivos similares, livros, anotações, régua de cálculo, impressos ou qualquer outro material de consulta.
  - Portar carteira de documentos/dinheiro ou similares.
  - Usar óculos escuros, ressalvados os de grau, quando expressamente por recomendação médica, devendo o candidato, então, respeitar o subitem 6.6.5 do Edital.
  - Emprestar materiais para realização das provas.**Caso alguma dessas exigências seja descumprida, o candidato será excluído do processo.**
- Ao concluir a prova, permaneça em seu lugar e comunique ao aplicador de prova. Aguarde autorização para entregar o caderno de prova, o cartão-resposta e a ficha de identificação.
- Se desejar, anote as respostas no quadro abaixo, recorte na linha indicada e leve-o consigo.

DURAÇÃO DESTA PROVA: 4 horas.

✂ .....

RESPOSTAS									
01 -	06 -	11 -	16 -	21 -	26 -	31 -	36 -	41 -	46 -
02 -	07 -	12 -	17 -	22 -	27 -	32 -	37 -	42 -	47 -
03 -	08 -	13 -	18 -	23 -	28 -	33 -	38 -	43 -	48 -
04 -	09 -	14 -	19 -	24 -	29 -	34 -	39 -	44 -	49 -
05 -	10 -	15 -	20 -	25 -	30 -	35 -	40 -	45 -	50 -

Língua Portuguesa, Raciocínio Lógico, Legislação e  
Conhecimentos Específicos



## LÍNGUA PORTUGUESA

Leia o texto a seguir para responder às questões 01 a 03.

Estaremos criando uma sociedade de jovens de pais ausentes, distraídos demais com a Internet, à qual Leonardo Calembro, de 41 anos, pai de um dos adolescentes mortos a tiros no colégio de Goiânia por um colega de classe, chamou, enquanto enterrava o filho, de “órfãos de pais vivos”, de pais já mortos para eles, porque ignoram seus problemas?

O eco da tragédia de Goiânia, que se revela a cada dia com informações mais alarmantes sobre a personalidade complexa do jovem de 14 anos que disparou na sala de aula contra os colegas, levará tempo para se dissipar, já que despertou o alarme em não poucas famílias. É como se, de repente, nos \_\_\_\_\_ se realmente \_\_\_\_\_ nossos filhos e o que estão vivendo sem que \_\_\_\_\_.[...]

Enquanto escrevo esta coluna, o jornal *Folha de S. Paulo* publica o que chama de “o mapa da morte”, com os dados de homicídios no Brasil em 2016, com um aumento de quase 4% em relação ao ano anterior. No total foram 61.689 homicídios, o que equivale a sete a cada hora, algo que supera muitas guerras juntas. É como se o Brasil sofresse a cada ano a explosão de uma bomba atômica. A de Hiroshima matou pouco mais do que se mata no Brasil todos os anos.

Algo que agrava esse mapa da morte é que metade desses homicídios é de jovens, o que significa que mais de 30.000 pais e mães tenham que enterrar filhos, algo que fere as leis da natureza. O normal é que os filhos enterrem os pais. A matança desses milhares de jovens conduz à aberração de que os pais se sintam órfãos dos filhos, sem poder desfrutar deles em vida.

Permitir ou não que as crianças e jovens vejam todo o tipo de violência virtual nos jogos, nos filmes, na televisão e nos celulares? Quando eu era estudante de psicologia em Roma, tive uma discussão com um de meus professores que defendia que as crianças deviam familiarizar-se com a violência para poder administrá-la quando adultas. É o que pensam ainda hoje até mesmo ilustres sociólogos. Para mim, porém, a vida real de hoje já oferece doses de sobra de violência, desde que se nasce, dentro e fora das casas, para que seja preciso acrescentar-lhe a violência virtual.[...]

Jovens órfãos de pais vivos, pais que se veem sujeitos a enterrar filhos em flor e, se fosse pouco, desde 1980 até hoje segue aumentando no Brasil o número de suicídios juvenis, segundo o IPEA. É o ápice da tragédia da sociedade. [...]

Mais do que saber se têm mais votos Lula, Doria ou Bolsonaro, os institutos de pesquisa deveriam se interessar em descobrir por que a juventude de uma sociedade como a do Brasil, que sempre teve como vocação a felicidade e os encontros festivos, se vê de repente representada por um triplo drama de orfandade. Quem salvará o Brasil não será, de fato, nenhum caudilho, herói ou messias, mas a tomada de consciência da sociedade de que as famílias precisam apostar para que seus filhos voltem “a ser sonhadores”, como pedia o jovem de outra escola em Olinda.

Quando um jovem pede aos pais que lhe dediquem mais tempo que a seu celular, ele lhes está suplicando mais afeto, ou está tentando contar-lhes que algo se está rompendo dentro dele. Quando lhe dizem: “depois, agora estou ocupado”, esse “depois” poderia ser tragicamente tarde.

(Disponível em: <[https://brasil.elpais.com/brasil/2017/10/31/opinion/1509452129\\_128889.html](https://brasil.elpais.com/brasil/2017/10/31/opinion/1509452129_128889.html)>. Acesso em 06 nov. 2017)

**01 - Assinale a alternativa que preenche corretamente as lacunas do texto acima.**

- a) perguntassem – conhecemos – saberemos.
- ▶ b) perguntássemos – conhecemos – saibamos.
- c) perguntássemos – conhecêssemos – saibamos.
- d) perguntassem – conhecêssemos – soubérmos.
- e) perguntamos – conhecíamos – sabemos.

**02 - Sobre o texto, considere as seguintes afirmativas:**

1. O texto tematiza o excesso de violência no país.
2. O autor utiliza a tragédia ocorrida na escola de Goiânia como um exemplo de como a falta de participação dos pais na vida dos filhos pode levar a situações de tragédia.
3. O autor critica a escassez de pesquisas sobre o comportamento e a saúde mental de nossos jovens.
4. A expressão “órfãos de pais vivos”, apresentada no texto, faz referência a crianças com pais mortos no sentido metafórico.

**Assinale a alternativa correta.**

- a) Somente as afirmativas 1 e 3 são verdadeiras.
- b) Somente as afirmativas 2 e 4 são verdadeiras.
- c) Somente as afirmativas 1, 3 e 4 são verdadeiras.
- ▶ d) Somente as afirmativas 2, 3 e 4 são verdadeiras.
- e) As afirmativas 1, 2, 3 e 4 são verdadeiras.

**03 - Na frase “O eco da tragédia de Goiânia, que se revela a cada dia com informações mais alarmantes sobre a personalidade complexa do jovem de 14 anos que disparou na sala de aula contra os colegas, levará tempo para se dissipar, já que despertou o alarme em não poucas famílias”, o termo destacado estabelece, entre as ideias, uma relação:**

- a) de alternância.
- b) condicional.
- c) aditiva.
- d) temporal.
- ▶ e) causal.

04 - O trecho a seguir é o início de um texto publicado no site da revista *Ciência Hoje* (<[http://www.cienciahoje.org.br/noticia/v/ler/id/4893/n/pisando\\_em...\\_copos](http://www.cienciahoje.org.br/noticia/v/ler/id/4893/n/pisando_em..._copos)>).

Mais uma vez, vem do lixo a produção de objetos que ajudam a melhorar a vida de moradores de comunidades carentes. Ao juntar copos de café descartados e cascas de coco de babaçu, pesquisadores da Universidade Federal do Pará (UFPA) transformaram esses rejeitos em lajotas tão resistentes e belas quanto as disponíveis no mercado, de modo a forrar o chão de residências populares.

Numere os parênteses a seguir, estabelecendo a ordem textual lógica das ideias que dão continuidade ao texto acima.

- ( ) O produto, batizado de ecopiso e com patente já registrada, será fabricado e aplicado agora por pescadores de Colares, município do nordeste paraense.
- ( ) Depois de analisar os rejeitos, ela concluiu que as cascas do coco, associadas a copos de café descartáveis, formavam uma mistura muito consistente e ideal para a fabricação de pisos: o plástico (poliestireno) e a fibra do babaçu juntos conferem dureza e resistência às lajotas comparáveis às encontradas no mercado, mas a um custo de produção muito inferior.
- ( ) Além disso, o material é menos pesado e confere maior conforto térmico.
- ( ) Buscando uma alternativa barata para cobrir o chão batido de casas de mulheres que trabalham como abridoras de coco de babaçu, no Maranhão, a engenheira mecânica Poliana Borges Bringel examinou o lixo dessa comunidade durante sua pesquisa de mestrado na UFPA, em 2007.

Assinale a alternativa que apresenta a numeração correta dos parênteses, de cima para baixo.

- ▶ a) 4 – 2 – 3 – 1.
- b) 1 – 4 – 3 – 2.
- c) 3 – 4 – 2 – 1.
- d) 4 – 3 – 1 – 2.
- e) 1 – 3 – 2 – 4.

05 - No trecho “Além disso, o material é menos pesado e confere maior conforto térmico”, retirado do texto da questão 04, a palavra destacada faz referência:

- a) ao plástico.
- b) ao copo de café.
- c) à casca de coco.
- d) à fibra do babaçu.
- ▶ e) ao ecopiso.

06 - Considere o seguinte trecho adaptado da revista *Superinteressante*:

\_\_\_\_\_ com uma pesquisa publicada pela revista americana Reader's Digest, tomar café em jejum pode prejudicar o sistema digestivo, \_\_\_\_\_ o café, quando entra em contato com o estômago, \_\_\_\_\_ produz ácidos estomacais \_\_\_\_\_ podem danificar as paredes do próprio órgão, causa indigestão e azia.

(Adaptado de: <<https://super.abril.com.br/comportamento/por-que-voce-nunca-deve-beber-cafe-de-barriga-vazia/>>. Acesso em 13, nov. 2017)

Assinale a alternativa que preenche corretamente as lacunas:

- a) De acordo – onde – porque – que.
- ▶ b) De acordo – visto que – onde – que.
- c) Consoante – já que – onde – e.
- d) De acordo – onde – que – que.
- e) Consoante – devido a – em que – e.

Considere o seguinte trecho para responder às questões 07 e 08.

Meditação, na tradição budista, é um conjunto de técnicas capazes de ajudar \_\_\_ estabilizar \_\_\_ mente, levando \_\_\_ calma mental e, conseqüentemente, \_\_\_ promoção da sabedoria e da bondade.

(Adaptado de: <<http://forbes.uol.com.br/negocios/2017/10/raia-drogasil-tem-lucro-de-r-1365-mi-no-3o-tri/>>, acesso em 05, nov. 2017)

07 - Assinale a alternativa que preenche corretamente as lacunas.

- a) a – à – a – à.
- b) à – a – a – a.
- ▶ c) a – a – à – à.
- d) a – à – a – a.
- e) à – a – à – a.

08 - Na frase “É uma prática que exige muito foco e concentração, assim como a habilidade de se ‘desligar’ do mundo exterior”, a expressão destacada demonstra uma relação entre as informações de:

- a) conclusão.
- b) oposição.
- ▶ c) adição.
- d) proporção.
- e) explicação.

**09 - Assinale a alternativa que apresenta a sequência ao trecho anterior pontuada corretamente.**

- a) O mesmo acontece com o *mindfulness* que, embora menos conhecido, tem ganho cada vez mais espaço nas agendas de grandes líderes, principalmente, por garantir, maior foco, eficiência e produtividade.
- b) O mesmo acontece com o *mindfulness* que embora menos conhecido tem ganho cada vez mais espaço nas agendas de grandes líderes principalmente, por garantir maior foco, eficiência e produtividade.
- c) O mesmo acontece, com o *mindfulness* que, embora menos conhecido tem ganho, cada vez mais, espaço nas agendas de grandes líderes, principalmente por garantir maior foco, eficiência, e produtividade.
- ▶ d) O mesmo acontece com o *mindfulness*, que, embora menos conhecido, tem ganho cada vez mais espaço nas agendas de grandes líderes, principalmente por garantir maior foco, eficiência e produtividade.
- e) O mesmo, acontece com o *mindfulness* que, embora, menos conhecido, tem ganho, cada vez mais espaço nas agendas de grandes líderes, principalmente por: garantir maior foco, eficiência, e produtividade.

**10 - Sobre a charge ao lado, considere as seguintes afirmativas:**

1. A charge satiriza a atual situação econômica do país por meio dos exercícios escolares de conjugação de verbos.
2. Se o verbo assistir estivesse conjugado com o pronome “tu”, teria a forma “assiste”.
3. O pronome “ele”, utilizado com o verbo aumentar, faz referência ao governo.
4. Se a conjugação se desse no futuro simples, teríamos a conjugação “eles reprimiram”.

**Assinale a alternativa correta.**

- ▶ a) Somente as afirmativas 1 e 3 são verdadeiras.
- b) Somente as afirmativas 2 e 3 são verdadeiras.
- c) Somente as afirmativas 2 e 4 são verdadeiras.
- d) Somente as afirmativas 1, 3 e 4 são verdadeiras.
- e) As afirmativas 1, 2, 3 e 4 são verdadeiras.



## RACIOCÍNIO LÓGICO

**\*11 - Considere a seguinte sequência de números:**

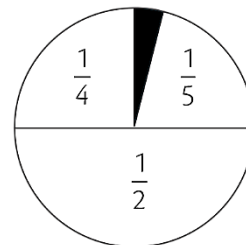
3, 4, 6, 10, 18, ...

**Iniciando com 3, qual das regras a seguir produz cada um dos termos seguintes dessa sequência?**

- a) Some 1 ao termo anterior.
- b) Subtraia 2 do termo anterior e então multiplique por 4.
- c) Subtraia 1 do termo anterior e então multiplique por 2.
- d) Multiplique o termo anterior por 2 e então subtraia 2.
- e) Multiplique o termo anterior por 3 e então subtraia 5.

**12 - Na figura, a região pintada de preto representa que fração do círculo?**

- a)  $\frac{1}{9}$ .
- b)  $\frac{2}{9}$ .
- c)  $\frac{1}{16}$ .
- d)  $\frac{2}{10}$ .
- ▶ e)  $\frac{1}{20}$ .



**13 - Por noite, um hotel cobra R\$ 100,00 por um quarto para uma pessoa, e 20% desse valor para cada pessoa a mais utilizando o mesmo quarto. Uma família utilizou dois quartos desse hotel, por uma noite, pagando um total de R\$ 300,00. Quantas pessoas havia nessa família?**

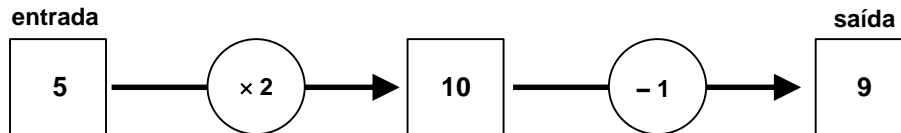
- a) 4 pessoas.
- b) 5 pessoas.
- c) 6 pessoas.
- ▶ d) 7 pessoas.
- e) 8 pessoas.

\* Questão anulada, seu valor será distribuído entre as questões válidas por área de conhecimento.

14 - Numa pesquisa sobre o consumo de dois sabores de suco, 200 pessoas foram entrevistadas. Dessas, 144 disseram consumir suco de laranja, 136 disseram consumir suco de uva e 18 disseram não consumir nenhum desses sabores de suco. De acordo com essa pesquisa, quantos dos entrevistados consomem os dois sabores de suco (laranja e uva)?

- ▶ a) 98.
- b) 90.
- c) 80.
- d) 78.
- e) 70.

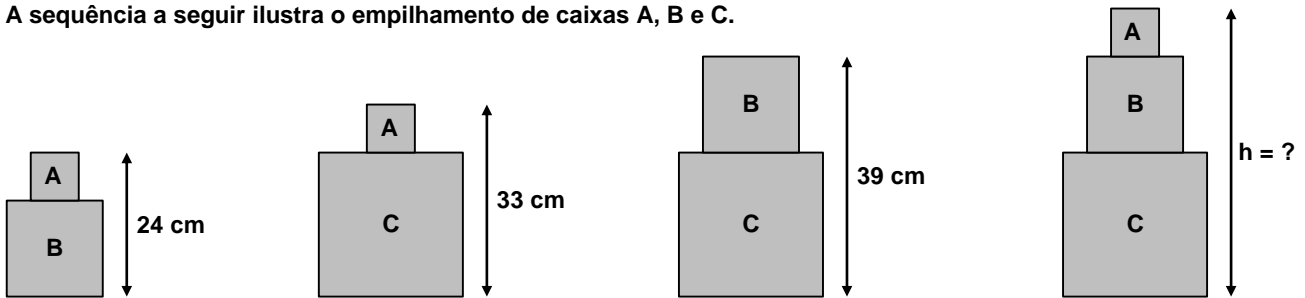
15 - Colocando-se um número na entrada da máquina numérica a seguir, é realizada uma sequência de operações. Por exemplo, ao colocar 5 na entrada, obteremos 9 na saída, como indicado:



Se, na saída, obteve-se um número  $x$ , qual das expressões a seguir representa o número que foi colocado na entrada da máquina?

- a)  $2 \cdot x - 1$
- ▶ b)  $\frac{x+1}{2}$
- c)  $2 \cdot x + 1$
- d)  $\frac{x}{2} + 1$
- e)  $2 \cdot (x - 1)$

16 - A sequência a seguir ilustra o empilhamento de caixas A, B e C.



Nessas condições, a altura  $h$ , da última pilha, é:

- a) 52 cm.
- b) 50 cm.
- ▶ c) 48 cm.
- d) 46 cm.
- e) 44 cm.

17 - A seguir, temos parte de uma tabela numérica:

Linha 1	4	5	6	7
2	8	9	10	11
3	12	13	14	15
4	16	17	18	19
5	20	21	22	23

Sabendo que a tabela continua, em qual linha deverá aparecer o número 66?

- ▶ a) Linha 16.
- b) Linha 15.
- c) Linha 14.
- d) Linha 13.
- e) Linha 12.

**18 - Na seqüência 3, 7, 11, 15, 19, ... os números aumentam de quatro em quatro. Na seqüência 1, 8, 15, 22, 29, ... por sua vez, os números aumentam de sete em sete. Observe que o número 15 aparece em ambas as seqüências. Escrevendo os demais valores dessas seqüências, qual será o próximo número a aparecer em ambas?**

- a) 31.
- b) 36.
- c) 39.
- d) 41.
- ▶e) 43.

**19 - Numa escola, todos os estudantes que participam do time de basquete fazem Educação Física com o professor Silas. Com base nisso, qual das seguintes afirmações é verdadeira?**

- a) Se um estudante faz Educação Física com o professor Silas, então ele não participa do time de basquete.
- b) Se um estudante não participa do time de basquete, então ele não faz Educação Física com o professor Silas.
- ▶c) Se um estudante não faz Educação Física com o professor Silas, então ele não participa do time de basquete.
- d) Se um estudante faz Educação Física com o professor Silas, então ele participa do time de basquete.
- e) Se um estudante não faz Educação Física com o professor Silas, então ele participa do time de basquete.

**20 - Com base nas premissas do argumento**

- Se chover então entrará água na sala.
- Se a janela estiver fechada então não entrará água na sala.
- Se não chover então a cortina estará aberta.
- A cortina está fechada.

**pode-se concluir que:**

- a) não choveu.
- ▶b) a janela está aberta.
- c) não entrou água na sala.
- d) a janela está fechada.
- e) a cortina é azul.

## LEGISLAÇÃO

**21 - Sobre o processo administrativo disciplinar e aspectos relacionados, no âmbito no Município de Araucária, é correto afirmar:**

- a) O Processo Administrativo Disciplinar não deverá exceder a 90 (noventa) dias, contados da data de publicação do ato que constituir a Comissão, podendo esse prazo ser prorrogado por no máximo duas vezes, por igual prazo, a critério da comissão mediante relatório motivado.
- b) Na hipótese de o relatório de Sindicância concluir que a infração está capitulada como ilícito penal, o Prefeito Municipal determinará o encaminhamento da cópia dos autos ao Ministério Público Estadual para análise e demais providências pertinentes, independentemente da imediata instauração do Processo Administrativo Disciplinar.
- c) O depoimento das testemunhas será prestado oralmente e reduzido a termo, podendo também a testemunha trazê-lo por escrito.
- ▶d) A decisão do Processo Administrativo Disciplinar será proferida pelo Prefeito Municipal no prazo de 20 (vinte) dias contados do recebimento do processo.
- e) Se extinta a punibilidade pela prescrição, não poderá haver registro do fato nos assentamentos individuais do servidor.

**22 - Sobre a posse e o exercício em cargo público no Município de Araucária, assinale a alternativa correta.**

- a) A posse dar-se-á automaticamente após transcorrido o prazo máximo de trinta dias contados da data de publicação do ato de nomeação.
- ▶b) É de um dia útil o prazo para o servidor empossado em cargo público entrar em exercício contado da data da posse.
- c) No ato da posse, não é necessário apresentar declaração de bens ou valores, por se entender que haveria violação de sigilo.
- d) No caso de função de confiança, o início do exercício será aquele da data de assinatura do respectivo termo.
- e) Deverá ocorrer inspeção médica oficial logo após a posse e antes do exercício.

**23 - Sobre as indenizações e outras vantagens do servidor público municipal de Araucária, assinale a alternativa correta.**

- ▶a) O servidor que receber diária e não se afastar da sede, por qualquer motivo, fica obrigado a restituí-la integralmente.
- b) Os valores das indenizações, assim como as condições para sua concessão, serão estabelecidos por lei municipal.
- c) Constituem indenizações ao servidor diárias, transporte e adicional noturno.
- d) As indenizações se incorporam ao vencimento, inclusive para fins de aposentadoria.
- e) As vantagens pecuniárias podem ser acumuladas para efeito de concessão de outros acréscimos pecuniários ulteriores.

**24 - Sobre a progressão e a carreira do servidor público municipal de Araucária, assinale a alternativa correta.**

- a) A progressão funcional consiste na movimentação do servidor para cargo superior.
- b) Para a participação no processo de promoção, não é necessário ter cumprido o estágio probatório.
- ▶ c) Servidores que sofreram pena de suspensão disciplinar ou foram presos por decisão judicial, no triênio, não poderão participar do processo de promoção.
- d) Considera-se progressão por tempo de serviço aquela que se dá a cada dois anos de efetivo exercício.
- e) Ocorrerá a progressão por desempenho automaticamente a cada três anos de efetivo exercício, independentemente de avaliação do servidor.

**25 - Sobre a progressão por habilitação ou titulação, assinale a alternativa INCORRETA.**

- a) A progressão por habilitação/titulação é a passagem dos profissionais de um nível para outro, por titulação de curso relacionado ao seu cargo efetivo.
- b) Para o cômputo de créditos somente serão considerados certificados de cursos concluídos após a nomeação do servidor, e que tenham sido ministrados por instituições reconhecidas, regra que não é aplicada para os cursos regulares do ensino fundamental e do ensino médio.
- c) A Progressão por Habilitação/Titulação ocorrerá mediante requerimento do servidor com a apresentação de certificado ou diploma devidamente instruído.
- d) O servidor em situação de acumulação legal de cargos poderá usar a habilitação/titulação em ambos os cargos.
- ▶ e) Os cursos de habilitação/titulação realizados pelo ocupante de cargo do Quadro Geral Próprio Efetivo somente serão considerados para fins de progressão se ministrados por instituição reconhecida, não se admitindo cursos realizados no exterior.

**CONHECIMENTOS ESPECÍFICOS****26 - Assinale a alternativa que apresenta uma diferença dos antipsicóticos de segunda geração ou atípicos em relação ao mecanismo de ação dos típicos.**

- a) Bloqueio H1 de baixa afinidade.
- b) Seletividade para receptores D4 da dopamina.
- ▶ c) Antagonismo serotoninérgico 5HT2A.
- d) Agonismo parcial de glutamato.
- e) Bloqueio alfa-2 pré-sináptico.

**27 - Sobre as vias dopaminérgicas cerebrais, considere as seguintes afirmativas:**

1. O bloqueio da dopamina na via nigro-estriatal é responsável pelos efeitos antipsicóticos.
2. A via túbero-infundibular tem projeção do hipotálamo para hipófise.
3. O bloqueio da dopamina na via mesolímbica é responsável pelos efeitos de distonia.

**Assinale a alternativa correta.**

- a) Somente a afirmativa 1 é verdadeira.
- ▶ b) Somente a afirmativa 2 é verdadeira.
- c) Somente a afirmativa 3 é verdadeira.
- d) Somente as afirmativas 1 e 2 são verdadeiras.
- e) As afirmativas 1, 2 e 3 são verdadeiras.

**28 - Crises não epiléticas psicogênicas (crises pseudoepiléticas) são um tipo de conversão que podem aparecer em uma emergência. Qual desses sintomas é indicativo para esse tipo de crise, ao invés de uma crise epilética?**

- ▶ a) Opistótono.
- b) Mordedura lateral de língua.
- c) Atonia.
- d) Movimentos verticais da cabeça.
- e) Não responsividade ao estímulo doloroso.

**29 - Sobre os sintomas do *delirium tremens*, é correto afirmar:**

- a) Iniciam-se cerca de 8 horas após a última ingestão de álcool.
- ▶ b) O quadro alucinatório clássico é de zoopsias e alucinação tátil.
- c) Apesar do rebaixamento do nível de consciência, o paciente permanece orientado temporalmente.
- d) A bradicardia é o sintoma autonômico mais prevalente.
- e) A hipersonia é o principal sinal de gravidade do quadro.

**30 - Qual alteração do eletroencefalograma é encontrada nos casos de *delirium* e serve como um auxílio importante no diagnóstico?**

- a) Redução da amplitude em lobo frontal.
- b) Aumento de ondas kappa.
- c) Ondas agudas ou sharp em lobo temporal.
- ▶ d) Lentificação difusa.
- e) Reentrância de ondas theta.



**31 - Sobre o transtorno depressivo maior, considere as seguintes afirmativas:**

1. **Mulheres têm um risco 2 a 3 vezes maior de desenvolver depressão em relação aos homens.**
2. **O aumento do TNF-alfa é um dos achados inflamatórios da depressão maior.**
3. **O estresse oxidativo presente na depressão está relacionado com dano ao DNA.**
4. **É encontrada uma dessensibilização dos receptores 5HT1 nos neurônios serotoninérgicos.**

**Assinale a alternativa correta.**

- a) Somente a afirmativa 1 é verdadeira.
- b) Somente as afirmativas 2 e 3 são verdadeiras.
- c) Somente as afirmativas 1, 2 e 4 são verdadeiras.
- d) Somente as afirmativas 1, 3 e 4 são verdadeiras.
- ▶ e) As afirmativas 1, 2, 3 e 4 são verdadeiras.

**32 - Sobre o quadro clínico dos distúrbios alimentares, é INCORRETO afirmar:**

- ▶ a) O sinal de Russel é característico da bulimia nervosa e anorexia nervosa.
- b) A amenorreia é incomum na bulimia nervosa.
- c) Na anorexia purgativa é comum a presença de vômitos induzidos.
- d) Na bulimia nervosa, a incidência de comorbidade com transtorno de personalidade do cluster B é maior que na anorexia nervosa.
- e) Em pacientes com anorexia nervosa, com sintomas de edema, hipofosfatemia ou insuficiência cardíaca, a indicação é de internamento clínico e nutrição enteral, caso haja recusa em se alimentar.

**33 - Sobre as intervenções psicoterapêuticas nos transtornos do humor e ansiedade, é INCORRETO afirmar:**

- a) Nos quadros de depressão, sem risco de suicídio, a meta inicial das psicoterapias é a criação de rapport.
- ▶ b) Em pacientes bipolares, as intervenções psicodinâmicas se mostram efetivas tanto em fases depressivas como maníacas.
- c) Em pacientes suicidas, o ódio contratransferencial é uma reação comum e pode, inclusive, induzir o terapeuta a desejar a morte do paciente.
- d) Na Terapia Cognitivo Comportamental (TCC) das fobias, enfrentamento e dessensibilização estão entre as principais técnicas.
- e) A TCC para o transtorno obsessivo compulsivo está bem indicada tanto em adultos como em crianças.

**34 - O gene CACNA1C está relacionado com qual transtorno mental?**

- a) TOC.
- b) Esquizofrenia.
- ▶ c) Transtorno bipolar.
- d) Dependência de álcool.
- e) Síndrome de Tourette.

**35 - Sobre o transtorno bipolar na infância e adolescência, considere as seguintes afirmativas:**

1. **A ciclagem na infância e adolescência tende a ser mais rápida que em adultos.**
2. **A irritabilidade na infância possui alta sensibilidade e especificidade para bipolaridade.**
3. **O pensamento de suicídio em adolescentes bipolares, apesar de muito comum, é pouco preocupante, pois raramente culmina em tentativas.**

**Assinale a alternativa correta.**

- ▶ a) Somente a afirmativa 1 é verdadeira.
- b) Somente a afirmativa 2 é verdadeira.
- c) Somente a afirmativa 3 é verdadeira.
- d) Somente as afirmativas 1 e 2 são verdadeiras.
- e) As afirmativas 1, 2 e 3 são verdadeiras.

**36 - Um paciente de 30 anos, em quadro de mania grave, é admitido no pronto-socorro do hospital. Apresenta heteroagressividade intensa, já entrou em conflito físico com familiares e vizinhos, inclusive saiu com uma faca na rua para ameaçá-los mesmo sem ter motivo aparente. Dorme muito pouco há 10 dias, mas não se sente cansado. Faz uso de fluoxetina 20 mg para tratar um episódio depressivo prévio. Essa é segunda vez que tem um quadro de mania na vida. Nunca fez um tratamento prévio além da fluoxetina.**

**Sobre o caso, considere as seguintes afirmativas:**

1. **O carbonato de lítio é um medicamento de primeira escolha para o tratamento desse caso.**
2. **A fluoxetina deve ser descontinuada imediatamente para o tratamento correto.**
3. **Devido ao risco de agressividade, o internamento em unidade psiquiátrica deve ser considerado, mesmo sem a anuência do paciente.**
4. **Fuga de ideias e grandiosidade são outros sintomas esperados nessa situação.**

**Assinale a alternativa correta.**

- a) Somente as afirmativas 1 e 3 são verdadeiras.
- b) Somente as afirmativas 1 e 4 são verdadeiras.
- c) Somente as afirmativas 1, 2 e 4 são verdadeiras.
- d) Somente as afirmativas 2, 3 e 4 são verdadeiras.
- ▶ e) As afirmativas 1, 2, 3 e 4 são verdadeiras.

**37 - Qual alternativa apresenta apenas sintomas de primeira ordem (de Kurt Schneider) para esquizofrenia?**

- a) Vozes que falam entre si e embotamento afetivo.
- b) Alucinações líliputianas e difusão do pensamento.
- c) Isolamento social e alucinações com vozes narrativas.
- ▶ d) Difusão e sonorização do pensamento.
- e) Salada de palavras e delírio de influência corporal.

**38 - Sobre o TDAH, considere as seguintes afirmativas:**

1. Em casos de abuso de álcool comórbido está contraindicado o uso de metilfenidato.
2. Em meninas são mais prevalentes os sintomas de hiperatividade.
3. No adulto, os sintomas de desatenção se manifestam com procrastinação e má administração do tempo.

**Assinale a alternativa correta.**

- a) Somente a afirmativa 1 é verdadeira.
- b) Somente a afirmativa 2 é verdadeira.
- ▶ c) Somente a afirmativa 3 é verdadeira.
- d) Somente as afirmativas 1 e 3 são verdadeiras.
- e) As afirmativas 1, 2 e 3 são verdadeiras.

**39 - A esquizofrenia resistente à clozapina é denominada de super-refratária. Qual estratégia de associação está relacionada a um risco cardíaco notadamente aumentado?**

- a) Amisulprida.
- b) Aripiprazol.
- c) Lítio.
- d) D-cicloserina.
- ▶ e) Ziprasidona.

**40 - Um paciente com síndrome do pânico, em uso de fluoxetina e em terapia cognitivo comportamental, ambos com boa adesão, persiste com crises frequentes. Não teve melhora com outros antidepressivos ISRS ou duais. Qual medicamento abaixo tem o uso indicado em associação ao ISRS para controle das crises?**

- a) Levetiracetam.
- b) Naltrexona.
- ▶ c) Pindolol.
- d) Dissulfiram.
- e) Captopril.

**41 - Nas avaliações dos quadros demenciais, qual sintoma abaixo torna o diagnóstico de demência de Alzheimer improvável?**

- a) Perda de memória segundo a lei de Ribot.
- b) Perda de peso.
- c) Alteração do ciclo sono vigília.
- ▶ d) Início apoplético.
- e) Tomografia de crânio normal para a idade.

**42 - A tranilcipromina é um IMAO que deve ser usado com cautela por causa da interação com alimentos ricos em tiramina. Qual desses alimentos está relacionado com um alto risco de interação com a tranilcipromina?**

- a) Carne seca.
- ▶ b) Iogurte.
- c) Salame tipo calabresa.
- d) Vagens largas.
- e) Produtos de soja.

**43 - Qual alternativa explica o quadro clínico da insônia psicofisiológica?**

- ▶ a) Ansiedade em relação ao ato de dormir e excitação autonômica.
- b) Sono com atraso do ciclo sono-vigília.
- c) Insônia terminal com alucinações hipnopômpicas.
- d) Insônia relacionada aos quadros depressivos.
- e) Insônia induzida por psicoestimulantes.

**44 - Em um paciente com esquizofrenia refratária, com o controle hematológico adequado, qual é o risco de surgimento de agranulocitose grave?**

- ▶ a) 0,0001%.
- b) 0,03%.
- c) 1%.
- d) 2%.
- e) 5%.

**45 - Sobre os transtornos mentais no puerpério, considere as seguintes afirmativas:**

1. A disforia pós-parto ou *blues* puerperal é o quadro mais comum no pós-parto.
2. A depressão pós-parto tem início mais comum de forma insidiosa nas primeiras semanas após o parto.
3. A psicose pós-parto tem pico de incidência 2 meses após o parto.

**Assinale a alternativa correta.**

- a) Somente a afirmativa 1 é verdadeira.
- b) Somente a afirmativa 2 é verdadeira.
- c) Somente a afirmativa 3 é verdadeira.
- ▶d) Somente as afirmativas 1 e 2 são verdadeiras.
- e) As afirmativas 1, 2 e 3 são verdadeiras.

**46 - Um paciente dependente químico em estágio pré-contemplativo, segundo a entrevista motivacional, significa que:**

- a) está pronto para as mudanças de comportamento, mas ainda não as iniciou.
- b) percebe os problemas do seu comportamento, mas ainda não está pronto para mudanças.
- c) está em um longo período de abstinência, mas prestes a ter uma recaída.
- d) após uma recaída, está retirando lições para não repetir o comportamento.
- ▶e) ainda não percebe claramente os problemas do seu comportamento.

**47 - Um paciente chega ao atendimento com o seguinte quadro: acatisia, tremores, hipertermia, hiper-reflexia, diaforese, diarreia e agitação psicomotora. Qual substância causaria esses sintomas em sua intoxicação?**

- ▶a) Sibutramina.
- b) Antipsicóticos.
- c) Efedrina.
- d) Heroína.
- e) Fenotiazinas.

**48 - Qual princípio do SUS representa um conjunto articulado e contínuo das ações e serviços preventivos e curativos, individuais e coletivos, em todos os níveis de complexidade do sistema?**

- ▶a) Integralidade.
- b) Equidade.
- c) Descentralização.
- d) Participação da Comunidade.
- e) Universalidade.

**49 - A respeito do Sistema Único de Saúde, considere os seguintes objetivos:**

1. Garantir o acesso, resolutividade e qualidade às ações e serviços de saúde.
2. Garantir o direito à saúde, reduzir as desigualdades sociais e territoriais.
3. Garantir espaços participativos estratégicos na reivindicação, formulação, controle e avaliação da execução das políticas públicas de saúde.
4. Racionalizar os gastos e otimizar os recursos, possibilitando ganhos em escala e serviços de saúde.

**São objetivos da Regionalização da Saúde:**

- a) 1 e 2 apenas.
- b) 3 e 4 apenas.
- ▶c) 1, 2 e 4 apenas.
- d) 2, 3 e 4 apenas.
- e) 1, 2, 3 e 4.

**50 - É considerada uma ação que representa a prioridade do Pacto em defesa do SUS:**

- a) Definir a responsabilidade sanitária de cada esfera do governo.
- ▶b) Garantir o financiamento para materialização dos princípios e diretrizes.
- c) Estabelecer as diretrizes para a gestão do trabalho e educação na saúde.
- d) Implantar a Política Nacional da Saúde do Idoso.
- e) Fortalecer a Política Nacional da Atenção Básica.