



PREFEITURA MUNICIPAL DE SÃO GONÇALO DO AMARANTE – RN
SECRETARIA MUNICIPAL DE ADMINISTRAÇÃO E
RECURSOS HUMANOS – SEMARH

CONCURSO PÚBLICO – EDITAL Nº 01/2019

ANALISTA DE CONTROLE INTERNO – CONTADOR

NOME DO CANDIDATO	ASSINATURA DO CANDIDATO	RG DO CANDIDATO
-------------------	-------------------------	-----------------

LEIA COM ATENÇÃO AS INSTRUÇÕES ABAIXO

INSTRUÇÕES GERAIS

- I. Nesta prova, você encontrará **08 (oito) páginas** numeradas sequencialmente, contendo **40 (quarenta) questões objetivas** correspondentes às seguintes disciplinas: **Língua Portuguesa 10 (dez) questões, Raciocínio Lógico 10 (dez) questões e Conhecimentos Específicos 20 (vinte) questões.**
- II. Verifique se seu nome e número de inscrição estão corretos na Folha de Respostas. Se houver erro, notifique o fiscal.
- III. Verifique se o Caderno de Questões se refere ao cargo para o qual você se inscreveu. Caso o cargo esteja divergente, solicite ao fiscal de sala para que tome as providências cabíveis, pois não serão aceitas reclamações posteriores nesse sentido.
- IV. Verifique se a impressão, a paginação e a numeração das questões estão corretas. Caso observe qualquer erro, notifique o fiscal.
- V. Assine e preencha a Folha de Respostas nos locais indicados, com caneta azul ou preta.
- VI. Marque a Folha de Respostas cobrindo fortemente o espaço correspondente à letra a ser assinalada, conforme o exemplo na própria Folha de Respostas.
- VII. O sistema de leitura e processamento das Folhas de Respostas não registrará a resposta em que houver falta de nitidez na marcação e/ou marcação de mais de uma alternativa.
- VIII. A Folha de Respostas não pode ser dobrada, amassada, rasurada ou manchada. Exceto sua assinatura, nada deve ser escrito ou registrado fora dos locais destinados às respostas.
- IX. Ao terminar a prova, entregue ao fiscal a Folha de Respostas e este Caderno. As observações ou marcações registradas neste Caderno não serão levadas em consideração.
- X. **Você dispõe de 03 (três) horas para fazer esta prova. Reserve os 20 (vinte) minutos finais para marcar a Folha de Respostas.**
- XI. O candidato só poderá retirar-se do setor de prova **02 (duas) horas após seu início.**
- XII. É terminantemente proibido o uso de telefone celular e demais aparelhos eletrônicos.

Boa Prova!



GABARITO DO CANDIDATO – RASCUNHO



NOME:							ASSINATURA DO CANDIDATO:							INSCRIÇÃO:					
1	2	3	4	5	6	7	8	9	10	11	12	13	14	15	16	17	18	19	20
21	22	23	24	25	26	27	28	29	30	31	32	33	34	35	36	37	38	39	40

RASCUNHO

LÍNGUA PORTUGUESA

Leia o texto abaixo para responder às questões de 1 a 7.

Guerra de narrativas (adaptado)

Quando o sol parte e ficamos entretidos ao redor da fogueira ou de frente à telinha, passamos a uma dimensão em que é tênue a fronteira entre o real e o imaginário, o território dos mitos, as sutis engrenagens do nosso modelo social. Esse ritual repete-se há pelo menos 50 mil anos. E, como é da natureza do que é fundamental, histórias são simples. Todas têm começo, meio e fim; personagens e protagonistas; um cenário e um tempo. E mais: toda trama possui um narrador, alguém que escolhe que causo contar, onde o enredo começa e onde termina, o que entra e o que sai. Esse narrador nem sempre é visível, não há como apontar o autor de um mito ou do que entendemos como senso comum.

Repetimos a balela do descobrimento da América sem pensar que aqui já viviam pessoas antes da invasão europeia. Se o uso da linguagem amplifica a capacidade de colaboração, histórias determinam e influenciam o comportamento social. Se repetimos a narrativa de opressão, perpetuamos sua essência.

A habilidade narrativa determina quem tem voz. A tensão entre grupos em disputa pela narrativa é tão velha quanto a linguagem. Religiões e impérios sempre espalharam suas falas e disputaram a atenção. Identificar essas narrativas e a quem servem é o caminho para delimitar quem nos fala e inferir o que nos isola ou ajuda a colaborar.

Não existe narrador isento. Por mais cuidadoso que seja, cada um carrega seu conjunto de valores e é perpassado pelos julgamentos e assunções que vêm com a cultura do grupo. Mesmo que não tenha mensagem específica, o contador de histórias sempre parte de sua visão de mundo.

<https://vidasimples.co/conviver/querra-de-narrativas/>

1) Assinale a alternativa correta, de acordo com o texto.

- No primeiro período do texto, o autor cria, por meio do paralelismo, uma associação entre a época em que sentávamos ao redor das fogueiras para tratar daquilo que é real e a época em que sentamos em frente à televisão para viver o imaginário.
- A simplicidade das narrativas contrapõe-se àquilo que há de fundamental nas histórias, uma vez que nem sempre o narrador é fácil de ser identificado no texto.
- A influência da linguagem e das narrativas é preponderante para a libertação ou perpetuação da opressão.
- A neutralidade da narrativa só é possível quando o cuidado com os valores adotados pelo grupo do qual faz parte revelam sua própria visão de mundo.

2) De acordo com o sentido do texto, leia as afirmativas abaixo.

- O narrador do senso comum é a voz que personifica o narrador invisível, cujo interesse narrativo é desmotivado de intenções políticas e econômicas, já que assim como o narrador mítico ele não se mostra visível.
- A ideia de que a América foi descoberta pelos europeus faz parte de uma narrativa eurocêntrica que desconsidera os nativos do continente americano como sujeitos que já haviam descoberto esse espaço geográfico.
- A disputa pela narrativa pode ser considerada uma guerra ideológica, que movimenta interesses políticos há milhares de anos.

Assinale a alternativa correta.

- Apenas a afirmativa I está correta.
- Apenas a afirmativa II está correta.
- Apenas as afirmativas II e III estão corretas.
- Apenas a afirmativa III está correta.

3) Assinale a alternativa que apresenta, correta e respectivamente, os sinônimos das expressões destacadas nos trechos “Se repetimos a narrativa de opressão, perpetuamos sua essência.” e “para delimitar quem nos fala e inferir o que nos isola ou ajuda a colaborar”.

- imortalizamos / machucar.
- criamos / aprendemos.
- eternizamos / deduzir.
- calculamos / depreender.

4) De acordo com a morfologia, assinale a alternativa que indica, correta e respectivamente, a classe de palavras dos termos destacados no trecho a seguir “A habilidade narrativa determina quem tem voz”.

- substantivo / pronome pessoal / substantivo.
- adjetivo / pronome relativo / substantivo.
- substantivo / pronome interrogativo / adjetivo.
- adjetivo / pronome pessoal / adjetivo.

5) Em relação à sintaxe da Língua Portuguesa avalie as afirmativas abaixo atribuindo-lhes valores de Verdadeiro (V) ou Falso (F).

- No trecho “Quando o sol parte e ficamos entretidos ao redor da fogueira”, a oração destacada é classificada como Subordinada Adverbial Temporal.
- No trecho “Se o uso da linguagem amplifica a capacidade de colaboração, histórias determinam e influenciam o comportamento social.”, a oração destacada é classificada como Subordinada Adverbial Concessiva.
- No trecho “A habilidade narrativa determina quem tem voz.”, a oração destacada é classificada como Subordinada Adjetiva Restritiva.
- No trecho “Não existe narrador isento”, o verbo é impessoal, por isso nessa oração não há sujeito.
- No trecho “Mesmo que não tenha mensagem específica, o contador de histórias sempre parte de sua visão de mundo.”, a oração destacada é classificada como Subordinada Adverbial Condicional.

Assinale a alternativa correta.

- V, F, F, F, F.
- F, V, V, V, F.
- V, V, F, F, V.
- V, F, V, V, F.

6) Em relação às regras de acentuação gráfica da Língua Portuguesa, assinale a alternativa **incorreta**.

- O verbo “ter” é acentuado, no trecho “Todas têm começo”, para concordar com o sujeito que está na terceira pessoa do plural.
- No trecho “**alguém** que escolhe que causo contar”, a palavra acentuada em destaque recebe acento, pois é uma palavra oxítona terminada em “em”.
- A palavra “já” é acentuada no trecho “aqui já viviam”, pois é um monossílabo tônico terminado em “a”.
- No trecho “Religiões e impérios sempre espalham”, a palavra “impérios” é acentuada pois é uma paroxítona terminada em “os”.

7) De acordo com as regras de Concordância Verbal e Nominal, assinale a alternativa que reescreve corretamente o trecho extraído do texto.

“Não existe narrador isento. Por mais cuidadoso que seja, cada um carrega seu conjunto de valores e é perpassado pelos julgamentos e assunções que vêm com a cultura do grupo.”

- Não há narradores isentos. Por mais cuidadosos que seja, cada um carrega seu conjunto de valores e são perpassados pelos julgamentos e assunções que vêm com as culturas do grupo.
- Não existe narradores isentos. Por mais cuidadosos que seja, cada um carrega seu conjunto de valores e são perpassados pelos julgamentos e assunções que vêm com as culturas do grupo.
- Não existem narradores isentos. Por mais cuidadosos que sejam, cada um carrega seu conjunto de valores e são perpassados pelo julgamento que vem com as culturas do grupo.
- Não existe narrador isento. Por mais cuidadoso que seja, cada um carrega seu conjunto de valores e é perpassado pelo julgamento que vêm com a cultura do grupo.

8) Assinale a alternativa que apresenta o uso correto do acento grave, indicador de crase.

- Todos somos sujeitos à chuvas e trovoadas.
- Eu posso te visitar após às 15h.
- Devemos à essa professora o nosso sucesso.
- Falei à senhora a mais pura verdade.

9) Em relação às regras de regência verbal e nominal, assinale a alternativa **incorreta**.


- A família toda assistiu às partidas na TV.
- Os síndicos julgaram o caso do condômino irresponsável ontem.
- Aspiravam à poluição todos os dias na cidade.
- Os professores deram razão aos alunos.

10) Em relação às regras de colocação pronominal, segundo a Gramática Normativa da Língua Portuguesa, assinale a alternativa **correta**.





- Elas tinham avisado-me sobre as faltas excessivas.
- Se apresentaram muito bem no recital as suas filhas.
- Hoje nos preocupamos muito mais com as expressões que usamos.
- Os alunos que mantiveram-se em silêncio durante a aula aprenderam.

RACIOCÍNIO LÓGICO

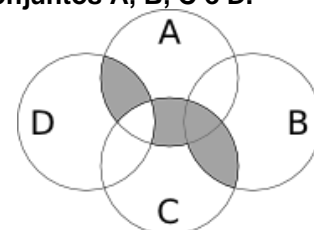
- 11) Uma pessoa pretende assentar uma fileira ladrilhos idênticos, mas deseja colocá-los de acordo com um padrão fixo de rotações sequenciais para variar o padrão básico/imagem formada com a simples colocação deles na mesma direção. Abaixo, a esquerda, está a peça do ladrilho e, a direita, as três primeiras peças assentadas.



Assinale a alternativa que indica a imagem do quarto ladrilhos colocado à direita que corresponde ao padrão que estava sendo adotado nas três peças colocadas anteriormente.

- 
- 
- 
- 

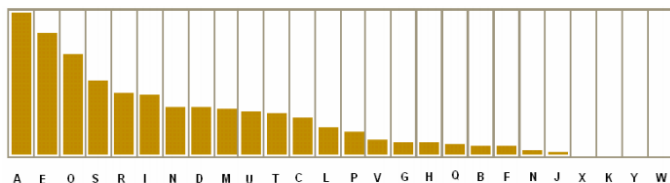
- 12) A figura abaixo representa o diagrama de Venn para os conjuntos A, B, C e D.



Assinale a alternativa que representa a região acinzentada.

- $(A \cap C) \cup (A \cap D) \cup (B \cap C) - (C \cap D)$
- $(A \cup C) \cap (A \cup D) \cap (B \cap C) - (C \cap D)$
- $(A \cap B \cap C \cap D) - (C \cup D)$
- $(B \cap C) \cup (A \cap C \cap D) - (C \cup D)$

13) Um dos mecanismos para quebrar criptografias simples de substituição de caracteres é verificar a frequência das letras e a coerência de palavras em determinado idioma. O diagrama abaixo apresenta a frequência aproximada das letras nas palavras da língua portuguesa.



Com base neste diagrama e nas palavras do vocabulário da língua portuguesa é possível decifrar a frase criptografada.

Z NVMGV JFV HV ZYIV Z FNZ MLEZ RWVRZ
QZNZRH ELOGZIZ ZL HVF GZNZMSL
LIRTRMZO

A frequência de cada caracter dessa frase está indicada na seguinte tabela.

letra	frequência	letra	frequência	letra	frequência
Z	14	F	3	J	1
V	7	G	3	Q	1
L	5	H	3	S	1
R	5	I	3	T	1
M	4	E	2	W	1
N	4	O	2	Y	1

Com base nestas informações e sabendo que todas as palavras são da Língua Portuguesa, os espaços não foram substituídos e que acentos e maiúsculas foram ignorados, analise as afirmativas abaixo:

- I. A letra “Z” no texto criptografado é a mais frequente e corresponde a letra “A” na frase original, compatível com a frequência na Língua Portuguesa.
- II. A letra “V” no texto criptografado corresponde a letra “E” texto original.
- III. A palavra criptografada “ZYIV” correspondem a palavras “AZUL”.

Estão corretas as afirmativas:

- a) I apenas
- b) I e II apenas
- c) I e III apenas
- d) I, II e III

14) O trecho abaixo é do soneto XLIV, de Pablo Neruda, retirado de uma tradução para o Português popular na rede de computadores.

(...)
Amo-te para começar a amar-te,
para recomençar o infinito
e para não deixar de amar-te nunca:
por isso não te amo ainda.
(...)

Neste trecho vemos um conflito que inspira o poeta, que pode ser trocado pela proposição composta: “Se começa, então termina”. A partir dela considere as afirmações derivadas abaixo.

- I. Se não termina, então não começa.
- II. Não começa ou termina.
- III. Começa e não termina.

Com respeito à lógica proposicional assinale a alternativa que caracteriza cada afirmativa com respeito à proposição original

- a) I - negação; II - negação; III - equivalência
- b) I - equivalência; II - equivalência; III - negação
- c) I - negação; II - equivalência; III - negação
- d) I - negação; II - negação; III - negação

15) O estudo formal de proposições em termos da lógica proposicional é realizado em termos de tabelas-verdade.

“As tabelas-verdade derivam do trabalho de Gottlob Frege, Charles Peirce e outros nomes da década de 1880, e tomaram a forma atual em 1922 através dos trabalhos de Emil Post e Ludwig Wittgenstein. A publicação do Tractatus Logico-Philosophicus, de Wittgenstein, utilizava as mesmas para classificar funções veritativas em uma série. A vasta influência de seu trabalho levou, então, à difusão do uso de tabelas-verdade.” Fonte: wikipedia, “Tabela-verdade”.

Em uma tabela-verdade cada proposição simples individual é organizada em uma coluna e recebe valor verdadeiro (V) ou falso (F) a cada linha. Em uma última coluna se elenca o resultado lógico vindo da regra lógica definida pelos conectivos, para cada uma das linhas. Considere uma proposição composta por proposições simples:

“Se João mora aqui, então ele é rico, e, se ele é rico, então tem mais de um carro, e, se ele tem mais de um carro, então ele tem carros com placas diferentes, e não depende da regra de rodízios de carro do município.”

Assinale a alternativa que indica o número de linhas de uma tabela-verdade que contenha a avaliação desta proposição composta.

- a) 8
- b) 16
- c) 32
- d) 64

16) No mundo contemporâneo com as mídias sociais notícias falsas e falácias surgidas em debates se tornaram muito presentes. Particularmente, a falácia nomeada por “Argumentum ad hominem” que é estruturada “quando alguém procura negar uma proposição com uma crítica ao seu autor e não ao seu conteúdo”.

Considere as proposições abaixo adaptadas de discursos encontrados na rede de computadores.

- I. “Nosso País tem um déficit educacional reconhecido. Pessoas com aprendizado formal deficitário acreditam muito naquilo que recebem pelo aplicativo. Então há preocupante deficiência na checagem de notícias.”
- II. “O filósofo liberal X disse discordar desta opinião. Este filósofo já deu entrevista à revista comunista, então sua opinião não é confiável.”
- III. “Quem nunca fumou não pode tentar interferir nas discussões e políticas públicas sobre tabagismo”.

Assinale a alternativa em que são identificadas falácias de *Argumentum ad hominem*.

- a) I, II e III
- b) I e II apenas
- c) I e III apenas
- d) II e III apenas

17) O número $1/3$ (um terço) em representação decimal assume a forma: $0,33333\dots$ com uma infinidade de casas decimais seguintes (repetitivas) com o algarismo 3. Considere o seguinte procedimento para descobrir o par de números que forma uma dízima periódica baseado em uma sequência de operações aritméticas rudimentares e no encadeamento lógico sequencial:

$$\begin{aligned} N &= 0,33333\dots \Rightarrow \\ 10N &= 3,33333 \Rightarrow \\ 10N - N &= 3 \Rightarrow \\ 9N &= 3 \Rightarrow \\ N &= 3/9 \Rightarrow \\ N &= 1/3 \end{aligned}$$

Baseado neste procedimento, analise as afirmativas abaixo e dê valores Verdadeiro (V) ou Falso (F).

- () $0,99999\dots = 1$
- () $0,1 + 0,01 + 0,001 + \dots = 1/9$
- () Um número que não exhibe repetição como: $0,123456789101112131415\dots$ (onde se encadeiam os inteiros crescentes ao longo de suas casas decimais) pode ter a fração determinada da mesma maneira.

Assinale a alternativa que avalia corretamente as afirmações acima em termos da mesma lógica apresentada no procedimento.

- a) F, F, F
- b) F, V, V
- c) V, V, F
- d) F, V, F

18) Uma pessoa procura por um argumento dedutivo a partir de duas premissas listadas abaixo.

Premissa 1: Toda quantidade física pode ser medida por algum dispositivo.

Premissa 2: Não se consegue medir o amor com um dispositivo.

A pessoa estabelece, então, duas proposições na forma de conclusões possíveis.

Conclusão 1: O amor não é uma quantidade física.
Conclusão 2: Nem toda quantidade física pode ser medida por algum dispositivo.

Partindo do princípio da lógica dedutiva, assinale a alternativa correta.

- a) ambas conclusões são deduções válidas
- b) apenas a conclusão 1 é uma dedução válida
- c) apenas a conclusão 2 é uma dedução válida
- d) nenhuma das conclusões é uma dedução válida

19) Em uma rede social dois amigos, Fernando e Roberto, analisam sua rede de amigos. Fernando tem 2120 amigos, enquanto Roberto tem 580 amigos. A rede completa de amigos de um, de outro ou ambos tem 2550 pessoas. Considere dois cenários:

C1: dado que a pessoa é amiga de Roberto, qual a chance dela ser amiga também de Fernando?

C2: dado que a pessoa é amiga de Fernando, qual a chance dela ser amiga também de Roberto?

Assinale a alternativa que melhor aproxima o valor da resposta de cada pergunta elencada nos cenários acima.

- a) $C1 = 26\%$ e $C2 = 7\%$
- b) $C1 = 6\%$ e $C2 = 6\%$
- c) $C1 = 23\%$ e $C2 = 83\%$
- d) $C1 = 9\%$ e $C2 = 9\%$

20) Sejam duas proposições lógicas simples: A e B, e a representação simbólica para a negação e os conectivos lógicos abaixo listadas:

$\sim A$	negação de A
$A \wedge B$	A e B
$A \vee B$	A ou B
$A \rightarrow B$	se A, então B
$A \leftrightarrow B$	A se, e somente se, B

Considere as proposições enumeradas:

- I. $A \wedge \sim A$
- II. $(A \wedge B) \vee \sim (A \wedge B)$
- III. $(A \rightarrow B) \leftrightarrow (\sim B \rightarrow \sim A)$

Uma tautologia é uma proposição lógica que pode apenas assumir valores-verdade verdadeiros (V), uma antinomia é a negação de uma tautologia, e, portanto, é uma proposição composta em que resulta apenas em valores lógicos falsos (F). Assinale a alternativa que corretamente classifica as proposições completas enumeradas nesses termos.

- a) I - Antinomia; II - Tautologia; III - Tautologia
- b) I - Tautologia; II - Antinomia; III - Tautologia
- c) I - Tautologia; II - Tautologia; III - Antinomia
- d) I - Tautologia; II - Tautologia; III - Tautologia

CONHECIMENTOS ESPECÍFICOS

A empresa XYZ iniciou suas atividades em 01.02.20X e em 31.12 do mesmo ano apresentou os saldos em reais nas seguintes contas, conforme quadro a seguir. Utilize as informações abaixo para responder às questões 21 e 22

Contas	Saldos Devedores	Saldos Credores
Custo das Mercadorias Vendidas	300.000	
Receitas Financeiras		15.000
Receitas de Vendas		500.000
Despesas Administrativas	35.000	
Estoques	30.000	
Deduções das receitas	15.000	
Despesas Financeiras	12.000	
Clientes	30.303	
Tributos sobre o lucro	33.250	
Despesas de Vendas	20.000	

21) O Lucro Bruto e o Lucro Líquido apurado na Demonstração de Resultado de 20X foram respectivamente de:

- a) R\$ 215.000 e R\$ 129.750
- b) R\$ 185.000 e R\$ 93.750
- c) R\$ 215.000 e R\$ 99.750
- d) R\$ 185.000 e R\$ 99.750

22) O Prazo Médio de Estoques e o Prazo Médio de Recebimentos da empresa XYZ, durante o exercício de 20X, foram respectivamente:

- a) 36 dias e 22 dias
- b) 33 dias e 20 dias
- c) 18 dias e 11 dias
- d) 36 dias e 22 dias

Utilize os dados abaixo para responder às questões 23 e 24.

A Cia FGH apresentou no encerramento do seu exercício social, valores em reais, relativos ao seu ativo circulante e passivo circulante, conforme quadro a seguir:

Disponibilidades		Fornecedores	200.000
Clientes	450.000	Salários a Pagar	100.000
Estoques		Tributos a Recolher	80.000
		Empréstimos bancários	120.000
Ativo Circulante		Passivo Circulante	500.000

Outras Informações:

Liquidez Corrente : 1,50
Liquidez Seca: 1,30
Liquidez Imediata: 0,40

23) Os valores das Disponibilidade e dos Estoques são respectivamente:

- a) R\$ 200.000 e R\$ 100.000
- b) R\$ 750.000 e R\$ 500.000
- c) R\$ 100.000 e R\$ 200.000
- d) R\$ 300.000 e R\$ 0

24) Se a empresa fizer uma aquisição extra de mercadorias no valor de R\$ 130.000, a prazo, o índice de liquidez corrente e o índice de liquidez seca:

- a) Permanecerão iguais
- b) O índice de liquidez corrente será 1,76 e o de liquidez seca permanecerá 1,30
- c) O índice de liquidez corrente permanecerá 1,50 e o de liquidez seca será 1,40
- d) O índice de liquidez corrente será 1,40 e o índice de liquidez seca será 1,03

Utilize os dados abaixo para responder às questões 25 e 26

Uma indústria adquiriu um equipamento a prazo no valor de R\$ 300.000.

Outros gastos incorridos no processo de aquisição do equipamento, em R\$:

Impostos não recuperáveis	25.000
Frete por conta do fabricante (do fornecedor até a matriz da empresa)	20.000
Frete por conta do comprador (da matriz até a fábrica)	12.000
Instalação do equipamento	8.000

Outros dados:

Vida útil do equipamento	10 anos
Valor residual do equipamento	R\$ 35.000
Data de início do funcionamento do equipamento	01.03.2019
Método de depreciação	linear

25) O valor da depreciação acumulada no encerramento do exercício, em 31.12.2019 será:

- a) R\$ 22.917
- b) R\$ 31.000
- c) R\$ 25.833
- d) R\$ 22.083

26) Com relação à contabilização da depreciação, assinale a alternativa correta.

- a) A depreciação deve ser contabilizada mensalmente, através do seguinte lançamento contábil: Débito: Despesa de Depreciação, Crédito: Depreciação Acumulada
- b) A depreciação deve ser contabilizada anualmente, através do seguinte lançamento contábil: Débito: Despesa de Depreciação, Crédito: Depreciação Acumulada
- c) A depreciação deve ser contabilizada mensalmente, através do seguinte lançamento contábil: Débito: Depreciação Acumulada, Crédito: Despesa de Depreciação
- d) A depreciação deve ser contabilizada anualmente, através do seguinte lançamento contábil: Débito: Depreciação Acumulada, Crédito: Despesa de Depreciação

- 27) De acordo com a Norma Brasileira de Contabilidade, NBC TG Estrutura Conceitual de 21.11.2019, “Passivo é uma obrigação presente da entidade de transferir um recurso econômico como resultado de eventos passados”. Nesse sentido, assinale a alternativa que apresenta apenas contas do Passivo.
- Fornecedores, tributos a recolher, clientes e financiamentos
 - Duplicatas a pagar, salários, tributos a recuperar e adiantamento a fornecedores
 - Debêntures não conversíveis emitidas, adiantamento de clientes, parcelamento tributário e empréstimos bancários
 - Despesas antecipadas, obrigações de leasing, provisão para férias e reserva de lucros
- 28) Uma empresa comercial adquiriu mercadorias para revenda no valor de R\$ 35.400 já incluído nesse total o valor de R\$ 5.400 referente a impostos não recuperáveis. A negociação foi feita da seguinte forma: 30 % à vista e o restante a ser pago através de três parcelas mensais, consecutivas e de igual valor. Assinale a alternativa que apresenta a correta contabilização a ser efetuada pela empresa comercial.
- D – Estoques R\$ 30.000, D – Impostos não recuperáveis R\$ 5.400, C – Caixa R\$ 9.000, C – Impostos a recolher R\$ 5.400 e C – Fornecedores R\$ 21.000
 - D – Estoques R\$ 30.000, D – Impostos não recuperáveis R\$ 5.400, C – Caixa R\$ 10.620, C – Fornecedores R\$ 24.780
 - D – Estoques R\$ 35.400, C – Caixa R\$ 10.620, C – Fornecedores R\$ 24.780
 - D – Estoques R\$ 35.400, C – Impostos não recuperáveis R\$ 5.400, C – Caixa R\$ 9.000, C – Fornecedores R\$ 21.000
- 29) A Norma Brasileira de Contabilidade aplicada ao setor público - NBC TSP 13, dispõe sobre a apresentação de informação orçamentária nas demonstrações contábeis para as entidades do setor público. A esse respeito, assinale a alternativa incorreta.
- Todas as comparações dos montantes realizados e dos orçados devem ser apresentados em base comparável ao orçamento
 - As entidades podem adotar regimes distintos para a elaboração das suas demonstrações contábeis e para os seus orçamentos aprovados. Isto é, o governo pode adotar o regime de competência para suas demonstrações contábeis e o regime de caixa para seu orçamento
 - A entidade deve divulgar nas notas explicativas às demonstrações contábeis o regime orçamentário e o critério de classificação adotados no orçamento aprovado
 - A entidade pública está dispensada de identificar nas notas explicativas às demonstrações contábeis quais são as entidades abrangidas pelo orçamento aprovado
- 30) Com relação às Despesas Públicas, assinale a alternativa correta.
- A classificação da despesa pública por esfera orçamentária identifica se a despesa refere-se Orçamento Fiscal, da Seguridade Social ou de Investimento das Empresas Estatais
 - De acordo com a categoria econômica as despesas classificam-se em despesas de custeio e despesas de capital
 - As despesas de capital dividem-se em Investimentos, Inversões Financeiras e Transferências Correntes
 - Classificam-se como Inversões Financeiras as dotações destinadas apenas à aquisição de imóveis ou de bens de capital já em utilização
- 31) A Norma Brasileira de Contabilidade, NBC TSP 04, dispõe sobre os estoques das empresas do setor público. A esse respeito, analise as afirmativas a seguir:
- Os estoques no setor público podem incluir: munição, material de consumo, peças de reposição para instalações industriais e equipamentos, estoques de moeda não emitida, materiais de serviço postal mantidos para venda, terrenos e propriedades para venda.
 - O valor de custo dos estoques deve incluir todos os custos de aquisição e de transformação, bem como outros custos incorridos para trazer os estoques à sua condição e localização atuais.
 - O custo dos estoques, que não sejam intercambiáveis e de bens ou serviços produzidos e segregados para projetos específicos, deve ser atribuído pelo uso do critério UEPS (último a entrar, primeiro a sair), ou pelo critério do custo médio ponderado.
 - Os estoques mantidos pelo setor público para distribuição gratuita, devem ser mensurados pelo maior valor entre o custo e o custo corrente de reposição dos mesmos.
- Estão corretas as afirmativas:**
- I e II apenas
 - II e III apenas
 - I, II e III apenas
 - I, II e IV apenas

32) A Norma Brasileira de Contabilidade, NBC TSP 07, de 22.09.2017 dispõe sobre a contabilização do Ativo Imobilizado de entidades do setor público. A esse respeito, analise as afirmativas abaixo:

- I. O custo de item do ativo imobilizado da empresa pública deve ser reconhecido como ativo se, e somente se, for provável que benefícios econômicos futuros ou potencial de serviços associados ao item fluirão para a entidade; e se o custo ou o valor justo do item puder ser mensurado confiavelmente.
- II. Quando o ativo for adquirido pela entidade pública por meio de transação sem contraprestação, seu custo deve ser mensurado pelo valor futuro dos benefícios que serão proporcionados por esse ativo.
- III. Após o reconhecimento como ativo, o item do ativo imobilizado pertencente à empresa pública, deve ser apresentado pelo custo menos qualquer depreciação e perda por redução ao valor recuperável acumuladas.
- IV. Os bens do imobilizado pertencentes à empresa pública não são sujeitos à reavaliação.

Estão corretas as afirmativas:

- a) I e II apenas
- b) I e III apenas
- c) I, II e III apenas
- d) I, II e IV apenas

33) A Lei nº 8.666/93 estabelece normas gerais sobre licitações e contratos administrativos pertinentes a obras, serviços, inclusive de publicidade, compras, alienações e locações no âmbito dos Poderes da União, dos Estados, do Distrito Federal e dos Municípios. A esse respeito, assinale a alternativa correta.

- a) São modalidades da licitação: concorrência, tomada de preços, livre mercado, convite, concurso e leilão
- b) Sempre que necessário é permitida criação de outras modalidades de licitação ou a combinação das já existentes
- c) É dispensável a licitação apenas em caso de guerra, grave perturbação da ordem, emergências ou calamidades públicas
- d) Tomada de preços é a modalidade de licitação entre interessados devidamente cadastrados ou que atenderem a todas as condições exigidas para cadastramento até o terceiro dia anterior à data do recebimento das propostas, observada a necessária qualificação

34) A Lei nº 10.520/2002 institui, no âmbito da União, Estados, Distrito Federal e Municípios, a modalidade de licitação denominada Pregão. A esse respeito, analise as afirmativas a seguir:

- I. Poderá ser adotada a licitação na modalidade de pregão apenas para a aquisição de bens ou serviços tecnicamente relevantes ou que exijam uma grande capacidade científica ou artística.
- II. Poderá ser realizado o pregão por meio da utilização de recursos de tecnologia da informação, bem como é facultada a participação de bolsas de mercadorias no apoio técnico e operacional aos órgãos e entidades promotores da modalidade de pregão.
- III. Para julgamento e classificação das propostas, será adotado o critério de menor preço, observados os prazos máximos para fornecimento, as especificações técnicas e parâmetros mínimos de desempenho e qualidade definidos no edital.

Estão corretas as afirmativas:

- a) I apenas
- b) I e II apenas
- c) I e III apenas
- d) II e III apenas

35) A Lei de Improbidade Administrativa (Lei nº 8.429/1992) define os atos de improbidade e dispõe sobre as sanções aplicáveis aos agentes públicos nos casos de enriquecimento ilícito no exercício de mandato, cargo, emprego ou função na administração pública direta, indireta ou fundacional. Nesse sentido, analise as afirmativas a seguir:

- I. A posse e o exercício de agente público ficam condicionados à apresentação de declaração dos bens e valores que compõem o seu patrimônio privado, a fim de ser arquivada no serviço de pessoal competente.
- II. A declaração de bens será semestralmente atualizada e na data em que o agente público deixar o exercício do mandato, cargo, emprego ou função.
- III. Será punido com a pena de afastamento de suas funções, a bem do serviço público, sem prejuízo de outras sanções cabíveis, o agente público que se recusar a prestar declaração dos bens, dentro do prazo determinado, ou que a prestar falsa.

Estão corretas as afirmativas:

- a) I apenas
- b) II apenas
- c) I e II apenas
- d) II e III apenas

36) Com relação aos bens públicos, analise as afirmativas a seguir:

- I. São bens públicos: os de uso comum do povo, os bens de uso especial e os dominicais.
- II. Os bens públicos de uso comum do povo e os de uso especial são alienáveis, enquanto que os bens públicos dominicais não podem ser alienados.
- III. Os bens públicos estão sujeitos a usucapião.

Estão corretas as afirmativas:

- a) I apenas
- b) II apenas
- c) I e II apenas
- d) II e III apenas

37) O processo de elaboração do orçamento público federal é bastante complexo e envolve várias etapas. Esse instrumento estima as receitas que serão arrecadadas e fixa as despesas que serão efetuadas com o dinheiro arrecadado pelo governo. A esse respeito, assinale a alternativa correta.

- a) O orçamento público é elaborado seguindo a ordem das seguintes etapas: Plano Plurianual (PPA), Lei Orçamentária Anual (LOA) e por último a Lei das Diretrizes Orçamentárias (LDO)
- b) As leis que compõem o orçamento público federal são propostas pelo poder legislativo e aprovadas pelo poder executivo
- c) O Plano Plurianual (PPA) apresenta as políticas e metas previstas para um período de quatro anos
- d) A Lei das Diretrizes Orçamentária (LDO) é elaborada, detalhando todos os gastos que serão realizados pelo governo, nos próximos 2 anos

38) Com relação ao Orçamento Público Federal, assinale a alternativa incorreta.

- a) A lei orçamentária anual compreende orçamento fiscal, o orçamento de investimento das empresas em que a União, direta ou indiretamente, detenha a maioria do capital social com direito a voto e o orçamento da seguridade social
- b) O orçamento da seguridade social, abrange todas as entidades e órgãos a ela vinculados, apenas da administração direta
- c) O orçamento fiscal refere-se aos poderes da União, seus fundos, órgãos e entidades da administração direta e indireta, inclusive fundações instituídas e mantidas pelo poder público
- d) A lei orçamentária anual poderá conter previsões de despesas para exercícios seguintes, com a especificação dos investimentos plurianuais e daqueles em andamento

39) Receitas públicas são ingressos de recursos financeiros nos cofres do governo. Com relação às Receitas Orçamentárias, assinale a alternativa correta.

- a) As receitas orçamentárias podem ser classificadas apenas de acordo com sua natureza e de acordo com sua esfera orçamentária
- b) Classificação da receita por natureza visa identificar a origem do recurso segundo o fato gerador, isto é, acontecimento real que ocasionou o ingresso da receita nos cofres públicos
- c) Todas as receitas orçamentárias devem estar registradas na Lei de Orçamento pelos seus totais líquidos, isto é, devem ser consideradas suas respectivas deduções
- d) De acordo com a categoria econômica, as receitas podem ser classificadas em receitas correntes e receitas extraorçamentárias

40) Com relação às etapas das Receitas Públicas, assinale a alternativa correta.

- a) As etapas das Receitas Públicas são: previsão, planejamento, lançamento e arrecadação
- b) O Planejamento de receitas é a etapa que sucede à fixação do montante de despesas que irá constar nas leis de orçamento, além de ser consequência do montante das necessidades de financiamento do governo
- c) Arrecadação corresponde à entrega dos recursos devidos ao governo pelos contribuintes ou devedores por meio dos agentes arrecadadores ou instituições financeiras autorizadas
- d) Lançamento consiste na transferência dos valores arrecadados à conta específica do governo, responsável pela administração e controle da arrecadação e pela programação financeira