



PREFEITURA MUNICIPAL DE SÃO GONÇALO DO AMARANTE – RN
SECRETARIA MUNICIPAL DE ADMINISTRAÇÃO E
RECURSOS HUMANOS – SEMARH

CONCURSO PÚBLICO – EDITAL Nº 01/2019

MÉDICO GERIATRA

NOME DO CANDIDATO

ASSINATURA DO CANDIDATO

RG DO CANDIDATO

LEIA COM ATENÇÃO AS INSTRUÇÕES ABAIXO

INSTRUÇÕES GERAIS

- I. Nesta prova, você encontrará **08 (oito) páginas** numeradas sequencialmente, contendo **40 (quarenta) questões objetivas** correspondentes às seguintes disciplinas: **Língua Portuguesa 10 (dez) questões, Raciocínio Lógico 10 (dez) questões e Conhecimentos Específicos 20 (vinte) questões.**
- II. Verifique se seu nome e número de inscrição estão corretos na Folha de Respostas. Se houver erro, notifique o fiscal.
- III. Verifique se o Caderno de Questões se refere ao cargo para o qual você se inscreveu. Caso o cargo esteja divergente, solicite ao fiscal de sala para que tome as providências cabíveis, pois não serão aceitas reclamações posteriores nesse sentido.
- IV. Verifique se a impressão, a paginação e a numeração das questões estão corretas. Caso observe qualquer erro, notifique o fiscal.
- V. Assine e preencha a Folha de Respostas nos locais indicados, com caneta azul ou preta.
- VI. Marque a Folha de Respostas cobrindo fortemente o espaço correspondente à letra a ser assinalada, conforme o exemplo na própria Folha de Respostas.
- VII. O sistema de leitura e processamento das Folhas de Respostas não registrará a resposta em que houver falta de nitidez na marcação e/ou marcação de mais de uma alternativa.
- VIII. A Folha de Respostas não pode ser dobrada, amassada, rasurada ou manchada. Exceto sua assinatura, nada deve ser escrito ou registrado fora dos locais destinados às respostas.
- IX. Ao terminar a prova, entregue ao fiscal a Folha de Respostas e este Caderno. As observações ou marcações registradas neste Caderno não serão levadas em consideração.
- X. **Você dispõe de 03 (três) horas para fazer esta prova. Reserve os 20 (vinte) minutos finais para marcar a Folha de Respostas.**
- XI. O candidato só poderá retirar-se do setor de prova **02 (duas) horas após seu início.**
- XII. É terminantemente proibido o uso de telefone celular e demais aparelhos eletrônicos.

Boa Prova!



GABARITO DO CANDIDATO – RASCUNHO



NOME:

ASSINATURA DO CANDIDATO:

INSCRIÇÃO:

1	2	3	4	5	6	7	8	9	10	11	12	13	14	15	16	17	18	19	20
21	22	23	24	25	26	27	28	29	30	31	32	33	34	35	36	37	38	39	40

RASCUNHO

LÍNGUA PORTUGUESA

Leia o texto abaixo para responder às questões de 1 a 7.

Guerra de narrativas (adaptado)

Quando o sol parte e ficamos entretidos ao redor da fogueira ou de frente à telinha, passamos a uma dimensão em que é tênue a fronteira entre o real e o imaginário, o território dos mitos, as sutis engrenagens do nosso modelo social. Esse ritual repete-se há pelo menos 50 mil anos. E, como é da natureza do que é fundamental, histórias são simples. Todas têm começo, meio e fim; personagens e protagonistas; um cenário e um tempo. E mais: toda trama possui um narrador, alguém que escolhe que causo contar, onde o enredo começa e onde termina, o que entra e o que sai. Esse narrador nem sempre é visível, não há como apontar o autor de um mito ou do que entendemos como senso comum.

Repetimos a balela do descobrimento da América sem pensar que aqui já viviam pessoas antes da invasão europeia. Se o uso da linguagem amplifica a capacidade de colaboração, histórias determinam e influenciam o comportamento social. Se repetimos a narrativa de opressão, perpetuamos sua essência.

A habilidade narrativa determina quem tem voz. A tensão entre grupos em disputa pela narrativa é tão velha quanto a linguagem. Religiões e impérios sempre espalharam suas falas e disputaram a atenção. Identificar essas narrativas e a quem servem é o caminho para delimitar quem nos fala e inferir o que nos isola ou ajuda a colaborar.

Não existe narrador isento. Por mais cuidadoso que seja, cada um carrega seu conjunto de valores e é perpassado pelos julgamentos e assunções que vêm com a cultura do grupo. Mesmo que não tenha mensagem específica, o contador de histórias sempre parte de sua visão de mundo.

<https://vidasimples.co/conviver/querra-de-narrativas/>

1) Assinale a alternativa correta, de acordo com o texto.

- No primeiro período do texto, o autor cria, por meio do paralelismo, uma associação entre a época em que sentávamos ao redor das fogueiras para tratar daquilo que é real e a época em que sentamos em frente à televisão para viver o imaginário.
- A simplicidade das narrativas contrapõe-se àquilo que há de fundamental nas histórias, uma vez que nem sempre o narrador é fácil de ser identificado no texto.
- A influência da linguagem e das narrativas é preponderante para a libertação ou perpetuação da opressão.
- A neutralidade da narrativa só é possível quando o cuidado com os valores adotados pelo grupo do qual faz parte revelam sua própria visão de mundo.

2) De acordo com o sentido do texto, leia as afirmativas abaixo.

- O narrador do senso comum é a voz que personifica o narrador invisível, cujo interesse narrativo é desmotivado de intenções políticas e econômicas, já que assim como o narrador mítico ele não se mostra visível.
- A ideia de que a América foi descoberta pelos europeus faz parte de uma narrativa eurocêntrica que desconsidera os nativos do continente americano como sujeitos que já haviam descoberto esse espaço geográfico.
- A disputa pela narrativa pode ser considerada uma guerra ideológica, que movimenta interesses políticos há milhares de anos.

Assinale a alternativa correta.

- Apenas a afirmativa I está correta.
- Apenas a afirmativa II está correta.
- Apenas as afirmativas II e III estão corretas.
- Apenas a afirmativa III está correta.

3) Assinale a alternativa que apresenta, correta e respectivamente, os sinônimos das expressões destacadas nos trechos “Se repetimos a narrativa de opressão, perpetuamos sua essência.” e “para delimitar quem nos fala e inferir o que nos isola ou ajuda a colaborar”.

- imortalizamos / machucar.
- criamos / aprendemos.
- eternizamos / deduzir.
- calculamos / depreender.

4) De acordo com a morfologia, assinale a alternativa que indica, correta e respectivamente, a classe de palavras dos termos destacados no trecho a seguir “A habilidade narrativa determina quem tem voz”.

- substantivo / pronome pessoal / substantivo.
- adjetivo / pronome relativo / substantivo.
- substantivo / pronome interrogativo / adjetivo.
- adjetivo / pronome pessoal / adjetivo.

5) Em relação à sintaxe da Língua Portuguesa avalie as afirmativas abaixo atribuindo-lhes valores de Verdadeiro (V) ou Falso (F).

- No trecho “Quando o sol parte e ficamos entretidos ao redor da fogueira”, a oração destacada é classificada como Subordinada Adverbial Temporal.
- No trecho “Se o uso da linguagem amplifica a capacidade de colaboração, histórias determinam e influenciam o comportamento social.”, a oração destacada é classificada como Subordinada Adverbial Concessiva.
- No trecho “A habilidade narrativa determina quem tem voz.”, a oração destacada é classificada como Subordinada Adjetiva Restritiva.
- No trecho “Não existe narrador isento”, o verbo é impessoal, por isso nessa oração não há sujeito.
- No trecho “Mesmo que não tenha mensagem específica, o contador de histórias sempre parte de sua visão de mundo.”, a oração destacada é classificada como Subordinada Adverbial Condicional.

Assinale a alternativa correta.

- V, F, F, F, F.
- F, V, V, V, F.
- V, V, F, F, V.
- V, F, V, V, F.

- 6) Em relação às regras de acentuação gráfica da Língua Portuguesa, assinale a alternativa **incorreta**.
- O verbo “ter” é acentuado, no trecho “Todas têm começo”, para concordar com o sujeito que está na terceira pessoa do plural.
 - No trecho “**alguém** que escolhe que causo contar”, a palavra acentuada em destaque recebe acento, pois é uma palavra oxítona terminada em “em”.
 - A palavra “já” é acentuada no trecho “aqui já viviam”, pois é um monossílabo tônico terminado em “a”.
 - No trecho “Religiões e impérios sempre espalham”, a palavra “impérios” é acentuada pois é uma paroxítona terminada em “os”.

- 7) De acordo com as regras de Concordância Verbal e Nominal, assinale a alternativa que reescreve corretamente o trecho extraído do texto.

“Não existe narrador isento. Por mais cuidadoso que seja, cada um carrega seu conjunto de valores e é perpassado pelos julgamentos e assunções que vêm com a cultura do grupo.”

- Não há narradores isentos. Por mais cuidadosos que seja, cada um carrega seu conjunto de valores e são perpassados pelos julgamentos e assunções que vêm com as culturas do grupo.
- Não existe narradores isentos. Por mais cuidadosos que seja, cada um carrega seu conjunto de valores e são perpassados pelos julgamentos e assunções que vêm com as culturas do grupo.
- Não existem narradores isentos. Por mais cuidadosos que sejam, cada um carrega seu conjunto de valores e são perpassados pelo julgamento que vem com as culturas do grupo.
- Não existe narrador isento. Por mais cuidadoso que seja, cada um carrega seu conjunto de valores e é perpassado pelo julgamento que vêm com a cultura do grupo.

- 8) Assinale a alternativa que apresenta o uso correto do acento grave, indicador de crase.

- Todos somos sujeitos à chuvas e trovoadas.
- Eu posso te visitar após às 15h.
- Devemos à essa professora o nosso sucesso.
- Falei à senhora a mais pura verdade.

- 9) Em relação às regras de regência verbal e nominal, assinale a alternativa **incorreta**.


- A família toda assistiu às partidas na TV.
- Os síndicos julgaram o caso do condômino irresponsável ontem.
- Aspiravam à poluição todos os dias na cidade.
- Os professores deram razão aos alunos.

- 10) Em relação às regras de colocação pronominal, segundo a Gramática Normativa da Língua Portuguesa, assinale a alternativa **correta**.





- Elas tinham avisado-me sobre as faltas excessivas.
- Se apresentaram muito bem no recital as suas filhas.
- Hoje nos preocupamos muito mais com as expressões que usamos.
- Os alunos que mantiveram-se em silêncio durante a aula aprenderam.

RACIOCÍNIO LÓGICO

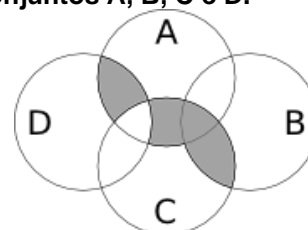
- 11) Uma pessoa pretende assentar uma fileira ladrilhos idênticos, mas deseja colocá-los de acordo com um padrão fixo de rotações sequenciais para variar o padrão básico/imagem formada com a simples colocação deles na mesma direção. Abaixo, a esquerda, está a peça do ladrilho e, a direita, as três primeiras peças assentadas.



Assinale a alternativa que indica a imagem do quarto ladrilhos colocado à direita que corresponde ao padrão que estava sendo adotado nas três peças colocadas anteriormente.



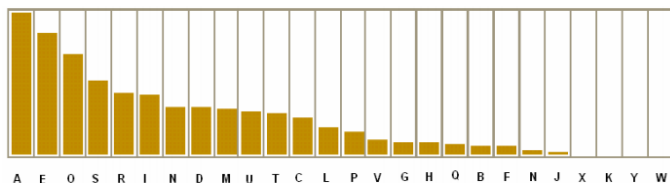
- 12) A figura abaixo representa o diagrama de Venn para os conjuntos A, B, C e D.



Assinale a alternativa que representa a região acinzentada.

- $(A \cap C) \cup (A \cap D) \cup (B \cap C) - (C \cap D)$
- $(A \cup C) \cap (A \cup D) \cap (B \cap C) - (C \cap D)$
- $(A \cap B \cap C \cap D) - (C \cup D)$
- $(B \cap C) \cup (A \cap C \cap D) - (C \cup D)$

13) Um dos mecanismos para quebrar criptografias simples de substituição de caracteres é verificar a frequência das letras e a coerência de palavras em determinado idioma. O diagrama abaixo apresenta a frequência aproximada das letras nas palavras da língua portuguesa.



Com base neste diagrama e nas palavras do vocabulário da língua portuguesa é possível decifrar a frase criptografada.

Z NVMGV JFV HV ZYIV Z FNZ MLEZ RWVRZ
QZNZRH ELOGZIZ ZL HVF GZNZMSL
LIRTRMZO

A frequência de cada caracter dessa frase está indicada na seguinte tabela.

letra	frequência	letra	frequência	letra	frequência
Z	14	F	3	J	1
V	7	G	3	Q	1
L	5	H	3	S	1
R	5	I	3	T	1
M	4	E	2	W	1
N	4	O	2	Y	1

Com base nestas informações e sabendo que todas as palavras são da Língua Portuguesa, os espaços não foram substituídos e que acentos e maiúsculas foram ignorados, analise as afirmativas abaixo:

- I. A letra “Z” no texto criptografado é a mais frequente e corresponde a letra “A” na frase original, compatível com a frequência na Língua Portuguesa.
- II. A letra “V” no texto criptografado corresponde a letra “E” texto original.
- III. A palavra criptografada “ZYIV” correspondem a palavras “AZUL”.

Estão corretas as afirmativas:

- a) I apenas
- b) I e II apenas
- c) I e III apenas
- d) I, II e III

14) O trecho abaixo é do soneto XLIV, de Pablo Neruda, retirado de uma tradução para o Português popular na rede de computadores.

(...)
Amo-te para começar a amar-te,
para recomençar o infinito
e para não deixar de amar-te nunca:
por isso não te amo ainda.
(...)

Neste trecho vemos um conflito que inspira o poeta, que pode ser trocado pela proposição composta: “Se começa, então termina”. A partir dela considere as afirmações derivadas abaixo.

- I. Se não termina, então não começa.
- II. Não começa ou termina.
- III. Começa e não termina.

Com respeito à lógica proposicional assinale a alternativa que caracteriza cada afirmativa com respeito à proposição original

- a) I - negação; II - negação; III - equivalência
- b) I - equivalência; II - equivalência; III - negação
- c) I - negação; II - equivalência; III - negação
- d) I - negação; II - negação; III - negação

15) O estudo formal de proposições em termos da lógica proposicional é realizado em termos de tabelas-verdade.

“As tabelas-verdade derivam do trabalho de Gottlob Frege, Charles Peirce e outros nomes da década de 1880, e tomaram a forma atual em 1922 através dos trabalhos de Emil Post e Ludwig Wittgenstein. A publicação do Tractatus Logico-Philosophicus, de Wittgenstein, utilizava as mesmas para classificar funções veritativas em uma série. A vasta influência de seu trabalho levou, então, à difusão do uso de tabelas-verdade.” Fonte: wikipedia, “Tabela-verdade”.

Em uma tabela-verdade cada proposição simples individual é organizada em uma coluna e recebe valor verdadeiro (V) ou falso (F) a cada linha. Em uma última coluna se elenca o resultado lógico vindo da regra lógica definida pelos conectivos, para cada uma das linhas. Considere uma proposição composta por proposições simples:

“Se João mora aqui, então ele é rico, e, se ele é rico, então tem mais de um carro, e, se ele tem mais de um carro, então ele tem carros com placas diferentes, e não depende da regra de rodízios de carro do município.”

Assinale a alternativa que indica o número de linhas de uma tabela-verdade que contenha a avaliação desta proposição composta.

- a) 8
- b) 16
- c) 32
- d) 64

16) No mundo contemporâneo com as mídias sociais notícias falsas e falácias surgidas em debates se tornaram muito presentes. Particularmente, a falácia nomeada por “Argumentum ad hominem” que é estruturada “quando alguém procura negar uma proposição com uma crítica ao seu autor e não ao seu conteúdo”.

Considere as proposições abaixo adaptadas de discursos encontrados na rede de computadores.

- I. “Nosso País tem um déficit educacional reconhecido. Pessoas com aprendizado formal deficitário acreditam muito naquilo que recebem pelo aplicativo. Então há preocupante deficiência na checagem de notícias.”
- II. “O filósofo liberal X disse discordar desta opinião. Este filósofo já deu entrevista à revista comunista, então sua opinião não é confiável.”
- III. “Quem nunca fumou não pode tentar interferir nas discussões e políticas públicas sobre tabagismo”.

Assinale a alternativa em que são identificadas falácias de *Argumentum ad hominem*.

- a) I, II e III
- b) I e II apenas
- c) I e III apenas
- d) II e III apenas

17) O número $1/3$ (um terço) em representação decimal assume a forma: $0,33333\dots$ com uma infinidade de casas decimais seguintes (repetitivas) com o algarismo 3. Considere o seguinte procedimento para descobrir o par de números que forma uma dízima periódica baseado em uma sequência de operações aritméticas rudimentares e no encadeamento lógico sequencial:

$$\begin{aligned} N &= 0,33333\dots \Rightarrow \\ 10N &= 3,33333 \Rightarrow \\ 10N - N &= 3 \Rightarrow \\ 9N &= 3 \Rightarrow \\ N &= 3/9 \Rightarrow \\ N &= 1/3 \end{aligned}$$

Baseado neste procedimento, analise as afirmativas abaixo e dê valores Verdadeiro (V) ou Falso (F).

- () $0,99999\dots = 1$
- () $0,1 + 0,01 + 0,001 + \dots = 1/9$
- () Um número que não exhibe repetição como: $0,123456789101112131415\dots$ (onde se encadeiam os inteiros crescentes ao longo de suas casas decimais) pode ter a fração determinada da mesma maneira.

Assinale a alternativa que avalia corretamente as afirmações acima em termos da mesma lógica apresentada no procedimento.

- a) F, F, F
- b) F, V, V
- c) V, V, F
- d) F, V, F

18) Uma pessoa procura por um argumento dedutivo a partir de duas premissas listadas abaixo.

Premissa 1: Toda quantidade física pode ser medida por algum dispositivo.

Premissa 2: Não se consegue medir o amor com um dispositivo.

A pessoa estabelece, então, duas proposições na forma de conclusões possíveis.

Conclusão 1: O amor não é uma quantidade física.
Conclusão 2: Nem toda quantidade física pode ser medida por algum dispositivo.

Partindo do princípio da lógica dedutiva, assinale a alternativa correta.

- a) ambas conclusões são deduções válidas
- b) apenas a conclusão 1 é uma dedução válida
- c) apenas a conclusão 2 é uma dedução válida
- d) nenhuma das conclusões é uma dedução válida

19) Em uma rede social dois amigos, Fernando e Roberto, analisam sua rede de amigos. Fernando tem 2120 amigos, enquanto Roberto tem 580 amigos. A rede completa de amigos de um, de outro ou ambos tem 2550 pessoas. Considere dois cenários:

C1: dado que a pessoa é amiga de Roberto, qual a chance dela ser amiga também de Fernando?

C2: dado que a pessoa é amiga de Fernando, qual a chance dela ser amiga também de Roberto?

Assinale a alternativa que melhor aproxima o valor da resposta de cada pergunta elencada nos cenários acima.

- a) $C1 = 26\%$ e $C2 = 7\%$
- b) $C1 = 6\%$ e $C2 = 6\%$
- c) $C1 = 23\%$ e $C2 = 83\%$
- d) $C1 = 9\%$ e $C2 = 9\%$

20) Sejam duas proposições lógicas simples: A e B, e a representação simbólica para a negação e os conectivos lógicos abaixo listadas:

$\sim A$	negação de A
$A \wedge B$	A e B
$A \vee B$	A ou B
$A \rightarrow B$	se A, então B
$A \leftrightarrow B$	A se, e somente se, B

Considere as proposições enumeradas:

- I. $A \wedge \sim A$
- II. $(A \wedge B) \vee \sim (A \wedge B)$
- III. $(A \rightarrow B) \leftrightarrow (\sim B \rightarrow \sim A)$

Uma tautologia é uma proposição lógica que pode apenas assumir valores-verdade verdadeiros (V), uma antinomia é a negação de uma tautologia, e, portanto, é uma proposição composta em que resulta apenas em valores lógicos falsos (F). Assinale a alternativa que corretamente classifica as proposições completas enumeradas nesses termos.

- a) I - Antinomia; II - Tautologia; III - Tautologia
- b) I - Tautologia; II - Antinomia; III - Tautologia
- c) I - Tautologia; II - Tautologia; III - Antinomia
- d) I - Tautologia; II - Tautologia; III - Tautologia

CONHECIMENTOS ESPECÍFICOS

21) Considerando o envelhecimento populacional progressivo, algumas regulamentações visam a inclusão dessa faixa etária populacional em políticas públicas. Nesse sentido, o Estatuto do Idoso foi sancionado com objetivo de garantir direitos da população idosa no Brasil.

Sobre o Estatuto do Idoso, assinale a alternativa correta.

- a) O Estatuto do Idoso é destinado a regular os direitos da população com idade igual ou superior a 65 anos
- b) É obrigação da família, da comunidade, da sociedade e do poder público garantir os direitos da pessoa idosa
- c) A garantia de prioridade não compreende atendimento imediato e individualizado junto aos órgãos públicos e privados prestadores de serviço à população
- d) Dentro os idosos, não há prioridade especial aos maiores de 80 anos

22) A senescência é um termo muito utilizado atualmente em Geriatria e demonstra o resultado do somatório de alterações funcionais, orgânicas e psicológicas próprias do envelhecimento normal. Considerando características comuns da senescência, assinale a alternativa incorreta.

- a) Aumento da taxa de mortalidade
- b) Alterações bioquímicas pouco compreendidas
- c) Declínio progressivo das respostas fisiológicas e habilidades adaptativas ao meio ambiente
- d) Redução da suscetibilidade a doenças

23) Com o envelhecimento populacional pode-se notar uma alteração na incidência de doenças de acordo com as faixas etárias. Quando comparamos idosos (acima de 60 anos) com muito idosos (acima de 80 anos) essa característica também se mantém. Sobre isso, analise as afirmativas abaixo:

- I. Assim como nas populações mais jovens, nos jovens idosos as taxas de mortalidade dos homens superam amplamente as taxas das mulheres.
- II. Nos idosos acima de 80 anos as doenças isquêmicas do coração mantêm maior taxa de mortalidade em relação as doenças cerebrovasculares.
- III. A doença de Alzheimer é importante causa de mortalidade, principalmente em idosos acima de 80 anos, com maior prevalência no sexo feminino.
- IV. O diabetes melito está entre as 5 maiores causas de óbito em idosos entre 60 e 80 anos, com taxas semelhantes entre os sexos.

Assinale a alternativa correta.

- a) Apenas as afirmativas I e II estão corretas
- b) Apenas as afirmativas I e III estão corretas
- c) Apenas as afirmativas I, III e IV estão corretas
- d) Apenas as afirmativas II e IV estão corretas

24) A prevenção de comorbidades e o rastreamento precoce cumprem papel importante na manutenção de saúde e funcionalidades da população idosa. Dessa forma, nas consultas de rotina geriátrica se faz necessário a orientação da população sobre benefícios e possíveis prejuízos na realização de exames de triagem. Segundo diretrizes da força tarefa americana, assinale a alternativa correta.

- a) Todos os homens de 60 a 80 anos devem realizar toque retal e PSA para prevenção de câncer de próstata
- b) Deve se iniciar rastreamento de câncer de colorretal apenas acima dos 60 anos
- c) Deve realizar triagem de neoplasia pulmonar para pacientes entre 55 e 80 anos, com história de pelo menos 30 anos/maço de tabagismo, com uso atual ou que cessaram a menos de 15 anos
- d) Deve realizar triagem de neoplasia de tireóide todas as mulheres acima de 60 anos

25) A avaliação clínica do idoso é extremamente importante para detecção de morbidades considerando possíveis apresentações atípicas ou sutis de algumas doenças. Um instrumento usado durante as consultas de rotina do Geriatria é a Avaliação Geriátrica Ampla (AGA). Sobre a AGA assinale a alternativa incorreta.

- a) Pode ser substituída pela avaliação clínica tradicional, pois não melhora a precisão diagnóstica
- b) Define se há diminuição de capacidade e limitações das atividades, sejam elas de causa motora mental ou psíquica
- c) Prediz desfechos desfavoráveis, como mortalidade, perda funcional e fragilização
- d) Define critérios para hospitalização e institucionalização

26) Na rotina do Geriatria se faz necessária a avaliação periódica da prescrição medicamentosa, com objetivo de desprescrição sempre que possível, evitando ou reduzindo a polifarmácia. Para isso muitos instrumentos tem sido usados para auxiliar o profissional na tomada de decisão. Sobre eles, assinale a alternativa correta.

- a) Critérios de Beers
- b) Escala de Katz
- c) Apgar da família
- d) Teste da sacola de remédios

27) Durante a AGA também é realizada a avaliação de funcionalidade do idoso que é determinada pelo grau de autonomia e independência para realização de Atividades diárias. As atividades diárias podem ser divididas em Atividades Básicas de Vida diária (ABVDs) e Atividades Instrumentais de vida diária (AIVDs). Considerando os diversos instrumentos de avaliação, assinale a alternativa que apresenta a única avaliação de ABVDs.

- a) Escala Lawton
- b) Escala Katz
- c) Índice de Barthel
- d) Questionário de Pfeffer

Considere o fragmento abaixo para responder as questões 28 e 29.

Paciente 87 anos, professor universitário, chega ao consultório geriátrico com queixas de esquecimentos de nomes de familiares há 3 meses, sem outros sintomas associados e sem comprometimento funcional. Apresentes Hipertensão Arterial e Dislipidemia com bom controle segundo exames atuais, em uso regular das medicações. Foi avaliado durante a consulta com Mini-exame do estado Mental (MEEM): 24/30, Escala Geriátrica de Depressão: 3/15 e índice de Barthel: 100.

28) Considerando o quadro clínico acima descrito, qual o provável diagnóstico clínico do paciente, assinale a alternativa correta.

- a) Depressão Maior
- b) Queixa subjetiva de memória
- c) Comprometimento cognitivo leve
- d) Síndrome Demencial

29) Considerando o diagnóstico clínico atual, assinale a alternativa que apresenta qual seria o melhor tratamento proposto no momento desta consulta.

- a) Não é necessário tratamento medicamentoso
- b) Iniciar antidepressivo
- c) Iniciar anticolinesterásico
- d) Iniciar agonista receptor NMDA

30) A constipação intestinal é uma doença muito prevalente na população idosa, acometendo um em cada dois idosos acima de 80 anos. Esta doença está associada a uma piora da qualidade de vida dos pacientes, além de grande impacto econômico, relacionado a necessidade de consultas médicas com mais frequência e por vezes internação.

Atualmente, o diagnóstico é realizado pelos critérios de Roma citados abaixo. Sobre eles, assinale a alternativa incorreta.

- a) Grande esforço durante pelo menos 25% das defecações
- b) Fezes duras ou grumosas em pelo menos 25% das defecações
- c) Sensação de evacuação incompleta em pelo menos 25% das defecações
- d) Necessidade de uso de laxante diariamente para defecação

31) A doença de Alzheimer (DA), inicialmente descrita em 1906, hoje está entre as maiores causas de mortalidade na população idosa. Dessa forma apresenta grande impacto social e financeiro na sociedade atual. Sobre a fisiopatologia desta doença analise as afirmativas abaixo e de valores Verdadeiro (V) ou Falso (F):

- () Em situações fisiológicas a proteína precursora amiloide é clivada pela enzima alfa-secretase, enquanto na DA as enzimas atuantes são beta-secretase e gama-secretase.
- () Os principais achados neuropatológicos da DA são perda neuronal e degeneração sináptica intensa.
- () Os emaranhados neurofibrilares (ENF) são inclusões intraneurais compostas por bandas de elementos citoesqueléticos anormais.
- () O componente principal dos emaranhados neurofibrilares (ENF) é o peptídeo beta-amiloide.
- () A depleção neuronal na doença de Alzheimer (DA) leva a depleção de serotonina, sem déficit de acetilcolina.

Assinale a alternativa que apresenta a sequência correta de cima para baixo:

- a) V, V, V, V, F
- b) V, V, V, F, F
- c) V, V, F, F, F
- d) F, V, V, V, F

32) Paciente 67 anos, casado, 3 filhos e médico. Iniciou com queixas de memória há 4 meses, após ter se perdido na vizinhança de sua casa após sair para caminhar. Há 3 meses apresentou episódios de alucinações visuais, chegando a ver seu cachorro que havia falecido.

Há 20 dias sua esposa notou tremor de extremidades que motivou procura ao médico Geriatra.

Atualmente já não consegue manter o exercício da profissão devido ao quadro apresentado.

Ao exame físico apresentava tremor de repouso moderado, assimétrico, com rigidez moderada e também assimétrica, sem outras alterações.

Durante avaliação cognitiva com Mini-exame do estado Mental (MEEM): 20/30

Assinale a alternativa correta sobre o diagnóstico mais provável.

- a) Doença de Parkinson
- b) Delirium
- c) Doença de Alzheimer
- d) Demência com Corpos de Lewy

- 33) As quedas são eventos frequentes em idosos e as consequências podem envolver graves incapacidades ou até mesmo o óbito. Muitas são as possíveis causas de quedas em idosos e uma avaliação criteriosa durante a consulta geriátrica, com auxílio da Avaliação Geriátrica ampla pode guiar intervenções específicas para prevenção dos eventos. A respeito das medidas efetivas para prevenção de quedas, assinale a alternativa **incorreta**.
- Adaptação ou modificação dos fatores ambientais no domicílio
 - Aumento de doses de psicotrópicos
 - Controle de hipotensão postural
 - Tratamentos de problemas nos pés e intervenções sobre calçados
- 34) Durante o processo de envelhecimento aumenta o risco de fragilização do indivíduo associado ao aumento de incapacidades e dependência de terceiros para auxílio em atividades diárias. A Síndrome da Imobilidade é muito conhecida pelos geriatras e sua detecção impacta diretamente sobre o prognóstico e orientações familiares para cuidados com o paciente. Sobre a Síndrome da Imobilidade, assinale a alternativa que contenha um critério maior e um menor, respectivamente.
- Déficit Cognitivo grave e múltiplas contraturas
 - Disfagia Grave e dupla incontinência
 - Múltiplas contraturas e afasia
 - Lesão por pressão e disfagia grave
- 35) Paciente feminina, 76 anos, casada, 3 filhos parto vaginal, com hipotireoidismo controlado, sem outras comorbidades. Iniciou queixa de perda involuntária de urina há 3 dias. Nega febre ou queda do estado geral. Nega constipação intestinal. Assinale a alternativa que apresenta qual o provável diagnóstico e exame complementar a ser solicitado.
- Incontinência urinária funcional; Mini-exame do estado mental
 - Incontinência urinária de urgência; Urodinâmica
 - Incontinência urinária de estresse; Ultrasonografia de rins e via urinárias
 - Infecção do trato urinário; Urina 1
- 36) Paciente do sexo masculino, 80 anos, casado, 3 filhos e nível superior completo. Apresenta Hipertensão Arterial controlada, Hipotireoidismo e Diabetes Melito. Atualmente, mantém uso regular de Enalapril, Hidroclorotiazida, Anlodipino, Levotiroxina, Metformina, Insulina e Acido acetilsalisílico. Relata que os filhos estão mais distantes que o normal, mas continuam o visitando semanalmente e o atendem em intercorrências sempre que necessário. Por esse motivo, se apresenta mais triste no último mês, sem prejuízo do sono, da alimentação ou do asseio pessoal. Relata ainda estar mais esquecido no dia-a-dia, não se lembrando nome de amigos distantes e onde colocou os pertences, mas sem impacto nas atividades diárias. Apresenta Mini-exame do Estado Mental: 29/30 e Escala Geriátrica de Depressão: 3/15. Considerando os possíveis diagnósticos de Síndromes Geriátricas neste paciente, assinale a alternativa **correta**.
- Síndrome demencial
 - Transtorno de humor
 - Polifarmácia
 - Insuficiência familiar
- 37) Paciente do sexo masculino, viúvo, sem filhos, comerciante e espírita. Iniciou queixa de tremor em membros superiores há 1 mês, com prejuízo de atividades diárias, já apresentando dificuldade em tomar água no copo sem derramar. Relata melhora discreta com uso social de bebida alcoólica e piora quando fica mais nervoso. Ao exame físico apresentava ausência de tremor de repouso, com discreto tremor postural, simétrico, com tremor de intenção moderado, também simétrico. Ausência de rigidez, bradicinesia ou instabilidade postural. Assinale a alternativa que apresenta qual o provável diagnóstico e melhor tratamento no momento.
- Tremor essencial / sem necessidade de tratamento
 - Tremor essencial / Primidona 25mg
 - Doença de Parkinson / Levodopa 100mg três vezes ao dia
 - Transtorno de ansiedade / Escitalopram 10mg

38) Paciente masculino, 74 anos, casado, 1 filho, trabalhador rural e evangélico. Apresenta história de tabagismo 50 anos/maço, com diagnóstico de Doença pulmonar obstrutiva crônica (DPOC), sem uso regular de medicações orientado pelo pneumologista. Iniciou há 3 dias quadro de dispneia, tosse e aumento de secreção pulmonar, sem febre ou outros sintomas associados.

Ao exame físico apresentava murmúrio vesicular reduzido globalmente, frequência respiratória de 20 ipm, saturação de oxigênio 89% em ar ambiente. Frequência cardíaca 69bpm, pressão arterial 114x98mmhg.

Radiografia de tórax e exames laboratoriais sem alterações.

Assinale a alternativa que apresenta o provável diagnóstico clínico.

- a) DPOC exacerbado
- b) Pneumonia da comunidade
- c) Pneumocistose
- d) Tuberculose

Considere o texto a seguir para responder as questões de números 39 e 40.

Paciente masculino, 67 anos, casado, 2 filhos, farmacêutico e católico. Sem comorbidades prévias. Foi diagnosticado com neoplasia de colon com metástase pulmonar, sem possibilidade de tratamento cirúrgico, quimio ou radioterápico foi encaminhado ao ambulatório de Cuidados Paliativos.

Durante a primeira consulta trazia queixa de dispneia importante, aos mínimos esforços, com prejuízo para Atividades Básicas de Vida diária. Além disso referia dificuldade em dormir e tristeza importante relacionada ao tratamento atual.

Na escala de Edmonton apresentava dispneia 10, insônia 5, tristeza 8, ansiedade 6, hiporexia 3, demais sintomas 0

39) Assinale a alternativa que apresenta qual a dose inicial de Morfina para controle da falta de ar neste momento.

- a) 2,5mg de 12 em 12 horas
- b) 5mg de 4 em 4 horas
- c) 10mg de 2 em 2 horas
- d) 5mg se necessário

40) Após duas consultas o paciente apresentou bom controle da dispneia com uso de Morfina 10 mg de 4 em 4 horas. Devido ao aparecimento de metástase em Sistema Nervoso Central com rebaixamento do nível de consciência, foi internado por dificuldade familiar de manter paciente em domicílio para o óbito. Pela impossibilidade de uso da via oral foi optado por transicionar uso de Morfina para hipodermóclise. Assinale a alternativa que contém a dose equivalente de Morfina em bomba de infusão contínua por esta via.

- a) 10 miligramas em 24 horas
- b) 20 miligramas em 24 horas
- c) 30 miligramas em 24 horas
- d) 40 miligramas em 24 horas