



PREFEITURA MUNICIPAL DE SÃO GONÇALO DO AMARANTE – RN
SECRETARIA MUNICIPAL DE ADMINISTRAÇÃO E
RECURSOS HUMANOS – SEMARH

CONCURSO PÚBLICO – EDITAL Nº 01/2019

MÉDICO ORTOPEDISTA

NOME DO CANDIDATO

ASSINATURA DO CANDIDATO

RG DO CANDIDATO

LEIA COM ATENÇÃO AS INSTRUÇÕES ABAIXO

INSTRUÇÕES GERAIS

- I. Nesta prova, você encontrará **07 (sete) páginas** numeradas sequencialmente, contendo **40 (quarenta) questões objetivas** correspondentes às seguintes disciplinas: **Língua Portuguesa 10 (dez) questões, Raciocínio Lógico 10 (dez) questões e Conhecimentos Específicos 20 (vinte) questões.**
- II. Verifique se seu nome e número de inscrição estão corretos na Folha de Respostas. Se houver erro, notifique o fiscal.
- III. Verifique se o Caderno de Questões se refere ao cargo para o qual você se inscreveu. Caso o cargo esteja divergente, solicite ao fiscal de sala para que tome as providências cabíveis, pois não serão aceitas reclamações posteriores nesse sentido.
- IV. Verifique se a impressão, a paginação e a numeração das questões estão corretas. Caso observe qualquer erro, notifique o fiscal.
- V. Assine e preencha a Folha de Respostas nos locais indicados, com caneta azul ou preta.
- VI. Marque a Folha de Respostas cobrindo fortemente o espaço correspondente à letra a ser assinalada, conforme o exemplo na própria Folha de Respostas.
- VII. O sistema de leitura e processamento das Folhas de Respostas não registrará a resposta em que houver falta de nitidez na marcação e/ou marcação de mais de uma alternativa.
- VIII. A Folha de Respostas não pode ser dobrada, amassada, rasurada ou manchada. Exceto sua assinatura, nada deve ser escrito ou registrado fora dos locais destinados às respostas.
- IX. Ao terminar a prova, entregue ao fiscal a Folha de Respostas e este Caderno. As observações ou marcações registradas neste Caderno não serão levadas em consideração.
- X. **Você dispõe de 03 (três) horas para fazer esta prova. Reserve os 20 (vinte) minutos finais para marcar a Folha de Respostas.**
- XI. O candidato só poderá retirar-se do setor de prova **02 (duas) horas após seu início.**
- XII. É terminantemente proibido o uso de telefone celular e demais aparelhos eletrônicos.

Boa Prova!



GABARITO DO CANDIDATO – RASCUNHO



NOME:

ASSINATURA DO CANDIDATO:

INSCRIÇÃO:

1	2	3	4	5	6	7	8	9	10	11	12	13	14	15	16	17	18	19	20
21	22	23	24	25	26	27	28	29	30	31	32	33	34	35	36	37	38	39	40

RASCUNHO

LÍNGUA PORTUGUESA

Leia o texto abaixo para responder às questões de 1 a 7.

Guerra de narrativas (adaptado)

Quando o sol parte e ficamos entretidos ao redor da fogueira ou de frente à telinha, passamos a uma dimensão em que é tênue a fronteira entre o real e o imaginário, o território dos mitos, as sutis engrenagens do nosso modelo social. Esse ritual repete-se há pelo menos 50 mil anos. E, como é da natureza do que é fundamental, histórias são simples. Todas têm começo, meio e fim; personagens e protagonistas; um cenário e um tempo. E mais: toda trama possui um narrador, alguém que escolhe que causo contar, onde o enredo começa e onde termina, o que entra e o que sai. Esse narrador nem sempre é visível, não há como apontar o autor de um mito ou do que entendemos como senso comum.

Repetimos a balela do descobrimento da América sem pensar que aqui já viviam pessoas antes da invasão europeia. Se o uso da linguagem amplifica a capacidade de colaboração, histórias determinam e influenciam o comportamento social. Se repetimos a narrativa de opressão, perpetuamos sua essência.

A habilidade narrativa determina quem tem voz. A tensão entre grupos em disputa pela narrativa é tão velha quanto a linguagem. Religiões e impérios sempre espalharam suas falas e disputaram a atenção. Identificar essas narrativas e a quem servem é o caminho para delimitar quem nos fala e inferir o que nos isola ou ajuda a colaborar.

Não existe narrador isento. Por mais cuidadoso que seja, cada um carrega seu conjunto de valores e é perpassado pelos julgamentos e assunções que vêm com a cultura do grupo. Mesmo que não tenha mensagem específica, o contador de histórias sempre parte de sua visão de mundo.

<https://vidasimples.co/conviver/querra-de-narrativas/>

1) Assinale a alternativa correta, de acordo com o texto.

- No primeiro período do texto, o autor cria, por meio do paralelismo, uma associação entre a época em que sentávamos ao redor das fogueiras para tratar daquilo que é real e a época em que sentamos em frente à televisão para viver o imaginário.
- A simplicidade das narrativas contrapõe-se àquilo que há de fundamental nas histórias, uma vez que nem sempre o narrador é fácil de ser identificado no texto.
- A influência da linguagem e das narrativas é preponderante para a libertação ou perpetuação da opressão.
- A neutralidade da narrativa só é possível quando o cuidado com os valores adotados pelo grupo do qual faz parte revelam sua própria visão de mundo.

2) De acordo com o sentido do texto, leia as afirmativas abaixo.

- O narrador do senso comum é a voz que personifica o narrador invisível, cujo interesse narrativo é desmotivado de intenções políticas e econômicas, já que assim como o narrador mítico ele não se mostra visível.
- A ideia de que a América foi descoberta pelos europeus faz parte de uma narrativa eurocêntrica que desconsidera os nativos do continente americano como sujeitos que já haviam descoberto esse espaço geográfico.
- A disputa pela narrativa pode ser considerada uma guerra ideológica, que movimenta interesses políticos há milhares de anos.

Assinale a alternativa correta.

- Apenas a afirmativa I está correta.
- Apenas a afirmativa II está correta.
- Apenas as afirmativas II e III estão corretas.
- Apenas a afirmativa III está correta.

3) Assinale a alternativa que apresenta, correta e respectivamente, os sinônimos das expressões destacadas nos trechos “Se repetimos a narrativa de opressão, perpetuamos sua essência.” e “para delimitar quem nos fala e inferir o que nos isola ou ajuda a colaborar”.

- imortalizamos / machucar.
- criamos / aprendemos.
- eternizamos / deduzir.
- calculamos / depreender.

4) De acordo com a morfologia, assinale a alternativa que indica, correta e respectivamente, a classe de palavras dos termos destacados no trecho a seguir “A habilidade narrativa determina quem tem voz”.

- substantivo / pronome pessoal / substantivo.
- adjetivo / pronome relativo / substantivo.
- substantivo / pronome interrogativo / adjetivo.
- adjetivo / pronome pessoal / adjetivo.

5) Em relação à sintaxe da Língua Portuguesa avalie as afirmativas abaixo atribuindo-lhes valores de Verdadeiro (V) ou Falso (F).

- No trecho “Quando o sol parte e ficamos entretidos ao redor da fogueira”, a oração destacada é classificada como Subordinada Adverbial Temporal.
- No trecho “Se o uso da linguagem amplifica a capacidade de colaboração, histórias determinam e influenciam o comportamento social.”, a oração destacada é classificada como Subordinada Adverbial Concessiva.
- No trecho “A habilidade narrativa determina quem tem voz.”, a oração destacada é classificada como Subordinada Adjetiva Restritiva.
- No trecho “Não existe narrador isento”, o verbo é impessoal, por isso nessa oração não há sujeito.
- No trecho “Mesmo que não tenha mensagem específica, o contador de histórias sempre parte de sua visão de mundo.”, a oração destacada é classificada como Subordinada Adverbial Condicional.

Assinale a alternativa correta.

- V, F, F, F, F.
- F, V, V, V, F.
- V, V, F, F, V.
- V, F, V, V, F.

6) Em relação às regras de acentuação gráfica da Língua Portuguesa, assinale a alternativa **incorreta**.

- O verbo “ter” é acentuado, no trecho “Todas têm começo”, para concordar com o sujeito que está na terceira pessoa do plural.
- No trecho “**alguém** que escolhe que causo contar”, a palavra acentuada em destaque recebe acento, pois é uma palavra oxítona terminada em “em”.
- A palavra “já” é acentuada no trecho “aqui já viviam”, pois é um monossílabo tônico terminado em “a”.
- No trecho “Religiões e impérios sempre espalharam”, a palavra “impérios” é acentuada pois é uma paroxítona terminada em “os”.

7) De acordo com as regras de Concordância Verbal e Nominal, assinale a alternativa que reescreve corretamente o trecho extraído do texto.

“Não existe narrador isento. Por mais cuidadoso que seja, cada um carrega seu conjunto de valores e é perpassado pelos julgamentos e assunções que vêm com a cultura do grupo.”

- Não há narradores isentos. Por mais cuidadosos que seja, cada um carrega seu conjunto de valores e são perpassados pelos julgamentos e assunções que vêm com as culturas do grupo.
- Não existe narradores isentos. Por mais cuidadosos que seja, cada um carrega seu conjunto de valores e são perpassados pelos julgamentos e assunções que vêm com as culturas do grupo.
- Não existem narradores isentos. Por mais cuidadosos que sejam, cada um carrega seu conjunto de valores e são perpassados pelo julgamento que vem com as culturas do grupo.
- Não existe narrador isento. Por mais cuidadoso que seja, cada um carrega seu conjunto de valores e é perpassado pelo julgamento que vêm com a cultura do grupo.

8) Assinale a alternativa que apresenta o uso correto do acento grave, indicador de crase.

- Todos somos sujeitos à chuvas e trovoadas.
- Eu posso te visitar após às 15h.
- Devemos à essa professora o nosso sucesso.
- Falei à senhora a mais pura verdade.

9) Em relação às regras de regência verbal e nominal, assinale a alternativa **incorreta**.


- A família toda assistiu às partidas na TV.
- Os síndicos julgaram o caso do condômino irresponsável ontem.
- Aspiravam à poluição todos os dias na cidade.
- Os professores deram razão aos alunos.

10) Em relação às regras de colocação pronominal, segundo a Gramática Normativa da Língua Portuguesa, assinale a alternativa **correta**.





- Elas tinham avisado-me sobre as faltas excessivas.
- Se apresentaram muito bem no recital as suas filhas.
- Hoje nos preocupamos muito mais com as expressões que usamos.
- Os alunos que mantiveram-se em silêncio durante a aula aprenderam.

RACIOCÍNIO LÓGICO

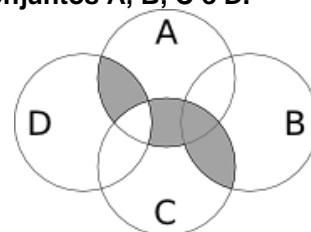
- 11) Uma pessoa pretende assentar uma fileira ladrilhos idênticos, mas deseja colocá-los de acordo com um padrão fixo de rotações sequenciais para variar o padrão básico/imagem formada com a simples colocação deles na mesma direção. Abaixo, a esquerda, está a peça do ladrilho e, a direita, as três primeiras peças assentadas.



Assinale a alternativa que indica a imagem do quarto ladrilhos colocado à direita que corresponde ao padrão que estava sendo adotado nas três peças colocadas anteriormente.

- 
- 
- 
- 

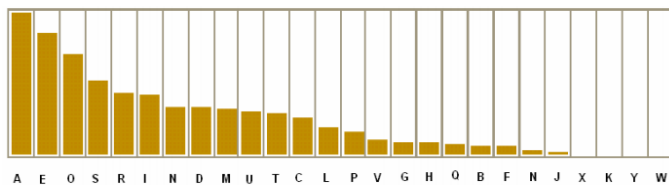
- 12) A figura abaixo representa o diagrama de Venn para os conjuntos A, B, C e D.



Assinale a alternativa que representa a região acinzentada.

- $(A \cap C) \cup (A \cap D) \cup (B \cap C) - (C \cap D)$
- $(A \cup C) \cap (A \cup D) \cap (B \cap C) - (C \cap D)$
- $(A \cap B \cap C \cap D) - (C \cup D)$
- $(B \cap C) \cup (A \cap C \cap D) - (C \cup D)$

13) Um dos mecanismos para quebrar criptografias simples de substituição de caracteres é verificar a frequência das letras e a coerência de palavras em determinado idioma. O diagrama abaixo apresenta a frequência aproximada das letras nas palavras da língua portuguesa.



Com base neste diagrama e nas palavras do vocabulário da língua portuguesa é possível decifrar a frase criptografada.

Z NVMGV JFV HV ZYIV Z FNZ MLEZ RWVRZ
QZNZRH ELOGZIZ ZL HVF GZNZMSL
LIRTRMZO

A frequência de cada caracter dessa frase está indicada na seguinte tabela.

letra	frequência	letra	frequência	letra	frequência
Z	14	F	3	J	1
V	7	G	3	Q	1
L	5	H	3	S	1
R	5	I	3	T	1
M	4	E	2	W	1
N	4	O	2	Y	1

Com base nestas informações e sabendo que todas as palavras são da Língua Portuguesa, os espaços não foram substituídos e que acentos e maiúsculas foram ignorados, analise as afirmativas abaixo:

- I. A letra “Z” no texto criptografado é a mais frequente e corresponde a letra “A” na frase original, compatível com a frequência na Língua Portuguesa.
- II. A letra “V” no texto criptografado corresponde a letra “E” texto original.
- III. A palavra criptografada “ZYIV” correspondem a palavras “AZUL”.

Estão corretas as afirmativas:

- a) I apenas
- b) I e II apenas
- c) I e III apenas
- d) I, II e III

14) O trecho abaixo é do soneto XLIV, de Pablo Neruda, retirado de uma tradução para o Português popular na rede de computadores.

(...)
Amo-te para começar a amar-te,
para recomeçar o infinito
e para não deixar de amar-te nunca:
por isso não te amo ainda.
(...)

Neste trecho vemos um conflito que inspira o poeta, que pode ser trocado pela proposição composta: “Se começa, então termina”. A partir dela considere as afirmações derivadas abaixo.

- I. Se não termina, então não começa.
- II. Não começa ou termina.
- III. Começa e não termina.

Com respeito à lógica proposicional assinale a alternativa que caracteriza cada afirmativa com respeito à proposição original

- a) I - negação; II - negação; III - equivalência
- b) I - equivalência; II - equivalência; III - negação
- c) I - negação; II - equivalência; III - negação
- d) I - negação; II - negação; III - negação

15) O estudo formal de proposições em termos da lógica proposicional é realizado em termos de tabelas-verdade.

“As tabelas-verdade derivam do trabalho de Gottlob Frege, Charles Peirce e outros nomes da década de 1880, e tomaram a forma atual em 1922 através dos trabalhos de Emil Post e Ludwig Wittgenstein. A publicação do Tractatus Logico-Philosophicus, de Wittgenstein, utilizava as mesmas para classificar funções veritativas em uma série. A vasta influência de seu trabalho levou, então, à difusão do uso de tabelas-verdade.” Fonte: wikipedia, “Tabela-verdade”.

Em uma tabela-verdade cada proposição simples individual é organizada em uma coluna e recebe valor verdadeiro (V) ou falso (F) a cada linha. Em uma última coluna se elenca o resultado lógico vindo da regra lógica definida pelos conectivos, para cada uma das linhas. Considere uma proposição composta por proposições simples:

“Se João mora aqui, então ele é rico, e, se ele é rico, então tem mais de um carro, e, se ele tem mais de um carro, então ele tem carros com placas diferentes, e não depende da regra de rodízios de carro do município.”

Assinale a alternativa que indica o número de linhas de uma tabela-verdade que contenha a avaliação desta proposição composta.

- a) 8
- b) 16
- c) 32
- d) 64

16) No mundo contemporâneo com as mídias sociais notícias falsas e falácias surgidas em debates se tornaram muito presentes. Particularmente, a falácia nomeada por “Argumentum ad hominem” que é estruturada “quando alguém procura negar uma proposição com uma crítica ao seu autor e não ao seu conteúdo”.

Considere as proposições abaixo adaptadas de discursos encontrados na rede de computadores.

- I. “Nosso País tem um déficit educacional reconhecido. Pessoas com aprendizado formal deficitário acreditam muito naquilo que recebem pelo aplicativo. Então há preocupante deficiência na checagem de notícias.”
- II. “O filósofo liberal X disse discordar desta opinião. Este filósofo já deu entrevista à revista comunista, então sua opinião não é confiável.”
- III. “Quem nunca fumou não pode tentar interferir nas discussões e políticas públicas sobre tabagismo”.

Assinale a alternativa em que são identificadas falácias de *Argumentum ad hominem*.

- a) I, II e III
- b) I e II apenas
- c) I e III apenas
- d) II e III apenas

17) O número $1/3$ (um terço) em representação decimal assume a forma: $0,33333\dots$ com uma infinidade de casas decimais seguintes (repetitivas) com o algarismo 3. Considere o seguinte procedimento para descobrir o par de números que forma uma dízima periódica baseado em uma sequência de operações aritméticas rudimentares e no encadeamento lógico sequencial:

$$\begin{aligned} N &= 0,33333\dots \Rightarrow \\ 10N &= 3,33333 \Rightarrow \\ 10N - N &= 3 \Rightarrow \\ 9N &= 3 \Rightarrow \\ N &= 3/9 \Rightarrow \\ N &= 1/3 \end{aligned}$$

Baseado neste procedimento, analise as afirmativas abaixo e dê valores Verdadeiro (V) ou Falso (F).

- () $0,99999\dots = 1$
- () $0,1 + 0,01 + 0,001 + \dots = 1/9$
- () Um número que não exhibe repetição como: $0,123456789101112131415\dots$ (onde se encadeiam os inteiros crescentes ao longo de suas casas decimais) pode ter a fração determinada da mesma maneira.

Assinale a alternativa que avalia corretamente as afirmações acima em termos da mesma lógica apresentada no procedimento.

- a) F, F, F
- b) F, V, V
- c) V, V, F
- d) F, V, F

18) Uma pessoa procura por um argumento dedutivo a partir de duas premissas listadas abaixo.

Premissa 1: Toda quantidade física pode ser medida por algum dispositivo.

Premissa 2: Não se consegue medir o amor com um dispositivo.

A pessoa estabelece, então, duas proposições na forma de conclusões possíveis.

Conclusão 1: O amor não é uma quantidade física.
Conclusão 2: Nem toda quantidade física pode ser medida por algum dispositivo.

Partindo do princípio da lógica dedutiva, assinale a alternativa correta.

- a) ambas conclusões são deduções válidas
- b) apenas a conclusão 1 é uma dedução válida
- c) apenas a conclusão 2 é uma dedução válida
- d) nenhuma das conclusões é uma dedução válida

19) Em uma rede social dois amigos, Fernando e Roberto, analisam sua rede de amigos. Fernando tem 2120 amigos, enquanto Roberto tem 580 amigos. A rede completa de amigos de um, de outro ou ambos tem 2550 pessoas. Considere dois cenários:

C1: dado que a pessoa é amiga de Roberto, qual a chance dela ser amiga também de Fernando?

C2: dado que a pessoa é amiga de Fernando, qual a chance dela ser amiga também de Roberto?

Assinale a alternativa que melhor aproxima o valor da resposta de cada pergunta elencada nos cenários acima.

- a) $C1 = 26\%$ e $C2 = 7\%$
- b) $C1 = 6\%$ e $C2 = 6\%$
- c) $C1 = 23\%$ e $C2 = 83\%$
- d) $C1 = 9\%$ e $C2 = 9\%$

20) Sejam duas proposições lógicas simples: A e B, e a representação simbólica para a negação e os conectivos lógicos abaixo listadas:

$\sim A$	negação de A
$A \wedge B$	A e B
$A \vee B$	A ou B
$A \rightarrow B$	se A, então B
$A \leftrightarrow B$	A se, e somente se, B

Considere as proposições enumeradas:

- I. $A \wedge \sim A$
- II. $(A \wedge B) \vee \sim (A \wedge B)$
- III. $(A \rightarrow B) \leftrightarrow (\sim B \rightarrow \sim A)$

Uma tautologia é uma proposição lógica que pode apenas assumir valores-verdade verdadeiros (V), uma antinomia é a negação de uma tautologia, e, portanto, é uma proposição composta em que resulta apenas em valores lógicos falsos (F). Assinale a alternativa que corretamente classifica as proposições completas enumeradas nesses termos.

- a) I - Antinomia; II - Tautologia; III - Tautologia
- b) I - Tautologia; II - Antinomia; III - Tautologia
- c) I - Tautologia; II - Tautologia; III - Antinomia
- d) I - Tautologia; II - Tautologia; III - Tautologia

CONHECIMENTOS ESPECÍFICOS

21) A respeito da anatomia dos membros superiores e inferiores, analise as afirmativas abaixo.

- I. A arcada de Struthers é uma fáschia espessa proximal ao cotovelo e geralmente é responsável pela compressão do nervo radial.
- II. O ligamento cruzado anterior do joelho é um restritor primário para a translação anterior da tibia e seu feixe anteromedial fica tenso em flexão.
- III. O nervo axilar e a artéria circunflexa posterior do úmero são estruturas que passam pelo espaço quadrangular.
- IV. O músculo tibial anterior é innervado pelo fibular superficial.

Assinale a alternativa correta.

- a) As afirmativas I, II e III estão corretas
- b) Apenas as afirmativas I e IV estão corretas
- c) Apenas a afirmativa II está correta
- d) Apenas as afirmativas II e III estão corretas

22) Segundo LaFontaine e colaboradores, é fator indicativo de instabilidade das fraturas do radio distal _____.

Assinale a alternativa que preencha corretamente a lacuna.

- a) Angulação dorsal inicial maior que 20 graus
- b) Idade do paciente superior a 50 anos
- c) Cominuição metafisária volar
- d) Ulna íntegra

23) A sinovite transitória do quadril é a causa mais comum de dor no quadril nas crianças. Acerca desse tema, analise as afirmativas abaixo e dê valores Verdadeiro (V) ou Falso (F).

- () Ocorre com maior frequência nas crianças do sexo masculino.
- () A sinovite do quadril pode ser o primeiro sintoma da doença de Legg-Calvé-Perthes e da espondilite anquilosante.
- () O tratamento cirúrgico, com o desbridamento da sinóvia, é o tratamento de escolha.
- () Após um episódio de sinovite transitória, o risco anual de recorrência é de 4%.

Assinale a alternativa que apresenta a sequência correta de cima para baixo.

- a) V, V, F, V
- b) F, V, V, F
- c) F, F, F, V
- d) V, V, F, F

24) A fratura do tornozelo do adulto pode ser identificada de acordo com o mecanismo causador da lesão. Assinale a alternativa que apresenta qual o mecanismo de trauma na fratura de Maisonneuve.

- a) Supinação-adução
- b) Pronação-abdução
- c) Pronação-rotação externa
- d) Supinação-rotação externa

25) Na fratura supracondiliana do úmero na criança, o mecanismo de trauma em extensão com desvio pósteromedial do fragmento distal coloca em risco _____.

Assinale a alternativa que preencha corretamente a lacuna.

- a) o nervo mediano
- b) o nervo radial
- c) o nervo ulnar
- d) a artéria braquial

26) A respeito do tratamento das fraturas da diáfise do úmero, assinale a alternativa incorreta.

- a) A impossibilidade da manutenção de uma redução satisfatória por procedimento fechado é uma das principais indicações para tratamento cirúrgico
- b) Qualquer que seja o tratamento conservador, não se deve aceitar uma deformidade angular superior a 15 ou 20 graus em qualquer direção
- c) Fraturas da diáfise do úmero associadas a uma lesão do plexo braquial devem ser preferencialmente tratadas conservadoramente
- d) Fraturas bilaterais do úmero constituem indicação para o tratamento cirúrgico de todas as lesões

27) A artroscopia do quadril tem sido cada vez mais utilizada, principalmente no tratamento da lesão labral. Durante a realização dos portais da artroscopia está em risco na confecção do portal anterior o nervo:

- a) cutâneo femoral medial
- b) cutâneo femoral lateral
- c) obturatório
- d) ciático

28) O posicionamento ideal da artrodese de quadril é de 20 a 30 graus de _____, 0 a 15 graus de rotação _____ e 0 a 5 graus de _____.

Assinale a alternativa que preencha correta e respectivamente as lacunas.

- a) extensão / externa / adução
- b) flexão / externa / abdução
- c) flexão / externa / adução
- d) extensão / interna / abdução

29) Doença de Dupuytren é uma fibroplasia proliferativa do tecido palmar subcutâneo que ocorre na forma de nódulos e cordões. Sobre a doença de Dupuytren, assinale a alternativa incorreta.

- a) Caracteriza-se por ter acometimento bilateral e simétrico
- b) É 10 vezes mais frequente em homens do que em mulheres
- c) A apresentação ectópica da doença na fáschia plantar medial do pé é conhecida como doença de Ledderhose
- d) Os nódulos de Garrod são comuns na região dorsal das interfalangeanas proximais e estão associados à progressão da doença

30) A Síndrome do Túnel do Carpo (STC) é a neuropatia compressiva mais comum da extremidade superior e resulta da compressão do nervo mediano ao nível do túnel do carpo. Acerca do tema, analise as afirmativas abaixo e dê valores Verdadeiro (V) ou Falso (F).

- () A STC é primariamente de diagnóstico clínico, com sintomas de formigamento e dormência no território do nervo mediano.
- () Quando a STC ocorre em mulheres grávidas, os sintomas geralmente desaparecem após o parto.
- () O teste de Durkan é mais sensível e mais específico do que os testes de Tinel e de Phalen.
- () Na liberação endoscópica do nervo mediano não há risco de lesão neurovascular.

Assinale a alternativa que apresenta a sequência correta de cima para baixo.

- a) V, V, F, V
- b) F, V, V, F
- c) V, V, V, F
- d) V, V, F, F

31) No hálux valgo interfalângico, a técnica mais utilizada para correção é a de:

- a) Chevron
- b) Scarf
- c) Mitchell
- d) Akin

32) A osteocondrose de Freiberg acomete mais frequentemente o _____.

Assinale a alternativa que preencha corretamente a lacuna.

- a) Primeiro metatarsiano
- b) Segundo metatarsiano
- c) Terceiro metatarsiano
- d) Quarto metatarsiano

33) Sobre o pé plano valgo, analise as afirmativas abaixo.

- I. A radiografia em anteroposterior (AP) mostra a diminuição do ângulo de Kite.
- II. A artrorrise é um procedimento caracterizado pelo bloqueio temporário da articulação subtalar.
- III. O pé plano valgo por insuficiência do tendão tibial posterior grau III de Johnson & Strom deve ser tratado com artrodese tríplice se o tratamento conservador falhar.
- IV. O pé plano valgo por insuficiência do tendão tibial posterior grau IV de Johnson & Strom é caracterizado por valgismo e incongruência do tornozelo.

Assinale a alternativa correta.

- a) Apenas as afirmativas I e II estão corretas
- b) Apenas as afirmativas I e IV estão corretas
- c) As afirmativas I, II e III estão corretas
- d) As afirmativas II, III e IV estão corretas

34) Sobre a classificação de Roberts e colaboradores para osteomielite hematogênica subaguda, assinale a alternativa correta.

- a) O tipo II envolve a epífise e tem o condroblastoma como diagnóstico diferencial
- b) O tipo III apresenta uma reação periosteal bem definida e é conhecido como abscesso de Brodie
- c) O tipo IV apresenta reação periosteal em “casca de cebola” e tem o sarcoma de Ewing como diagnóstico diferencial
- d) O tipo V envolve o corpo vertebral

35) O diagnóstico por imagem das patologias femoropatelares inicia com a radiografia anteroposterior, perfil 30 graus e axial da patela. No perfil é possível avaliar a altura da patela pela relação de Insall-Salvati. Assinale a alternativa que apresenta a definição da relação de Insall-Salvati.

- a) Linha que passa pelo teto bicondilar deve tocar o polo inferior da patela
- b) Relação entre comprimento do tendão patelar e o comprimento do eixo longitudinal maior da patela
- c) Relação da distância entre a superfície articular da tíbia e da patela e o comprimento da superfície articular
- d) Relação entre a distância da borda anterior da superfície articular da tíbia até o polo inferior da patela e da superfície articular da patela

36) Um dos tratamentos para a osteoartrose do joelho é a artroplastia total do joelho. Assinale a alternativa que apresenta uma contraindicação absoluta para a artroplastia total do joelho.

- a) Doenças inflamatórias
- b) Osteonecrose com colapso subcondral
- c) Infecção ativa ou recente no joelho
- d) Deformidade em varo do joelho

37) O tratamento da Displasia do Desenvolvimento do Quadril (DDQ) em neonatos é realizado com os suspensórios de Pavlik. Com base nisso, analise as afirmativas abaixo e dê valores Verdadeiro (V) ou Falso (F).

- () O tratamento com os suspensórios de Pavlik deve iniciar o mais precocemente possível e envolve a redução concêntrica do quadril.
- () A utilização de fraldas duplas é uma opção de tratamento com excelentes resultados.
- () Os suspensórios de Pavlik limitam a extensão e a adução.
- () Não há risco de paralisia do nervo femoral posicionando o quadril em hiperflexão.

Assinale a alternativa que apresenta a sequência correta de cima para baixo.

- a) V, F, V, F
- b) V, F, F, F
- c) V, F, F, V
- d) F, V, F, V

38) Os testes semiológicos ajudam a reproduzir os sintomas e podem ajudar na localização da lesão. Sobre os testes semiológicos relacionados com síndrome do impacto e avaliação do manguito rotador, assinale a alternativa correta:

- a) Teste do impacto de Neer: com o membro superior em extensão e rotação neutra, é elevado passiva e rapidamente no plano da escápula pelo examinador
- b) Teste do impacto de Hawkins-Kennedy: o paciente coloca a mão sobre o ombro oposto e procura fletir o braço elevando ativamente o cotovelo, sem elevar o cingulo escapular
- c) Teste de Yokum: avalia o tendão supraespinal, realizando a elevação ativa do membro superior em extensão e rotação interna no plano da escápula
- d) Teste de Jobe: o membro superior é colocado em 90 graus de elevação, rotação neutra e com o cotovelo fletido em 90 graus, e passivamente é rodado rapidamente para dentro pelo examinador

39) Sobre a estenose da coluna vertebral e seus sintomas, assinale a alternativa correta.

- a) A estenose do canal vertebral atinge com mais frequência os níveis L3-L4, com predominância nos homens
- b) Diferentemente da claudicação vascular, sentar / inclinar o tronco é um fator de melhora na claudicação neurogênica
- c) A tomografia computadorizada é o exame de escolha em pacientes com queixa de claudicação neurogênica
- d) O tratamento cirúrgico deve ser a primeira escolha na maioria dos pacientes

40) Na avaliação da fratura da coluna cervical e do trauma raquimedular, o exame motor e da sensibilidade deve ser sistemático. Em relação ao nível medular e o músculo acometido, assinale a alternativa incorreta.

- a) C5 – Flexores do cotovelo (bíceps, braquial)
- b) C6 – Extensores do punho (extensores radiais curto e longo do carpo)
- c) C7 – Extensores do cotovelo (tríceps)
- d) C8 – Abductor do dedo mínimo

