



PREFEITURA MUNICIPAL DE SÃO GONÇALO DO AMARANTE – RN  
SECRETARIA MUNICIPAL DE ADMINISTRAÇÃO E  
RECURSOS HUMANOS – SEMARH

CONCURSO PÚBLICO – EDITAL Nº 01/2019

**MÉDICO OTORRINOLARINGOLOGISTA**

NOME DO CANDIDATO

ASSINATURA DO CANDIDATO

RG DO CANDIDATO

**LEIA COM ATENÇÃO AS INSTRUÇÕES ABAIXO**

**INSTRUÇÕES GERAIS**

- I. Nesta prova, você encontrará **07 (sete) páginas** numeradas sequencialmente, contendo **40 (quarenta) questões objetivas** correspondentes às seguintes disciplinas: **Língua Portuguesa 10 (dez) questões, Raciocínio Lógico 10 (dez) questões e Conhecimentos Específicos 20 (vinte) questões.**
- II. Verifique se seu nome e número de inscrição estão corretos na Folha de Respostas. Se houver erro, notifique o fiscal.
- III. Verifique se o Caderno de Questões se refere ao cargo para o qual você se inscreveu. Caso o cargo esteja divergente, solicite ao fiscal de sala para que tome as providências cabíveis, pois não serão aceitas reclamações posteriores nesse sentido.
- IV. Verifique se a impressão, a paginação e a numeração das questões estão corretas. Caso observe qualquer erro, notifique o fiscal.
- V. Assine e preencha a Folha de Respostas nos locais indicados, com caneta azul ou preta.
- VI. Marque a Folha de Respostas cobrindo fortemente o espaço correspondente à letra a ser assinalada, conforme o exemplo na própria Folha de Respostas.
- VII. O sistema de leitura e processamento das Folhas de Respostas não registrará a resposta em que houver falta de nitidez na marcação e/ou marcação de mais de uma alternativa.
- VIII. A Folha de Respostas não pode ser dobrada, amassada, rasurada ou manchada. Exceto sua assinatura, nada deve ser escrito ou registrado fora dos locais destinados às respostas.
- IX. Ao terminar a prova, entregue ao fiscal a Folha de Respostas e este Caderno. As observações ou marcações registradas neste Caderno não serão levadas em consideração.
- X. **Você dispõe de 03 (três) horas para fazer esta prova. Reserve os 20 (vinte) minutos finais para marcar a Folha de Respostas.**
- XI. O candidato só poderá retirar-se do setor de prova **02 (duas) horas após seu início.**
- XII. É terminantemente proibido o uso de telefone celular e demais aparelhos eletrônicos.

**Boa Prova!**



**GABARITO DO CANDIDATO – RASCUNHO**



NOME:

ASSINATURA DO CANDIDATO:

INSCRIÇÃO:

1	2	3	4	5	6	7	8	9	10	11	12	13	14	15	16	17	18	19	20
21	22	23	24	25	26	27	28	29	30	31	32	33	34	35	36	37	38	39	40

# RASCUNHO

## LÍNGUA PORTUGUESA

Leia o texto abaixo para responder às questões de 1 a 7.

### Guerra de narrativas (adaptado)

Quando o sol parte e ficamos entretidos ao redor da fogueira ou de frente à telinha, passamos a uma dimensão em que é tênue a fronteira entre o real e o imaginário, o território dos mitos, as sutis engrenagens do nosso modelo social. Esse ritual repete-se há pelo menos 50 mil anos. E, como é da natureza do que é fundamental, histórias são simples. Todas têm começo, meio e fim; personagens e protagonistas; um cenário e um tempo. E mais: toda trama possui um narrador, alguém que escolhe que causo contar, onde o enredo começa e onde termina, o que entra e o que sai. Esse narrador nem sempre é visível, não há como apontar o autor de um mito ou do que entendemos como senso comum.

Repetimos a balela do descobrimento da América sem pensar que aqui já viviam pessoas antes da invasão europeia. Se o uso da linguagem amplifica a capacidade de colaboração, histórias determinam e influenciam o comportamento social. Se repetimos a narrativa de opressão, perpetuamos sua essência.

A habilidade narrativa determina quem tem voz. A tensão entre grupos em disputa pela narrativa é tão velha quanto a linguagem. Religiões e impérios sempre espalharam suas falas e disputaram a atenção. Identificar essas narrativas e a quem servem é o caminho para delimitar quem nos fala e inferir o que nos isola ou ajuda a colaborar.

Não existe narrador isento. Por mais cuidadoso que seja, cada um carrega seu conjunto de valores e é perpassado pelos julgamentos e assunções que vêm com a cultura do grupo. Mesmo que não tenha mensagem específica, o contador de histórias sempre parte de sua visão de mundo.

<https://vidasimples.co/conviver/guerra-de-narrativas/>

#### 1) Assinale a alternativa correta, de acordo com o texto.

- No primeiro período do texto, o autor cria, por meio do paralelismo, uma associação entre a época em que sentávamos ao redor das fogueiras para tratar daquilo que é real e a época em que sentamos em frente à televisão para viver o imaginário.
- A simplicidade das narrativas contrapõe-se àquilo que há de fundamental nas histórias, uma vez que nem sempre o narrador é fácil de ser identificado no texto.
- A influência da linguagem e das narrativas é preponderante para a libertação ou perpetuação da opressão.
- A neutralidade da narrativa só é possível quando o cuidado com os valores adotados pelo grupo do qual faz parte revelam sua própria visão de mundo.

#### 2) De acordo com o sentido do texto, leia as afirmativas abaixo.

- O narrador do senso comum é a voz que personifica o narrador invisível, cujo interesse narrativo é desmotivado de intenções políticas e econômicas, já que assim como o narrador mítico ele não se mostra visível.
- A ideia de que a América foi descoberta pelos europeus faz parte de uma narrativa eurocêntrica que desconsidera os nativos do continente americano como sujeitos que já haviam descoberto esse espaço geográfico.
- A disputa pela narrativa pode ser considerada uma guerra ideológica, que movimenta interesses políticos há milhares de anos.

#### Assinale a alternativa correta.

- Apenas a afirmativa I está correta.
- Apenas a afirmativa II está correta.
- Apenas as afirmativas II e III estão corretas.
- Apenas a afirmativa III está correta.

#### 3) Assinale a alternativa que apresenta, correta e respectivamente, os sinônimos das expressões destacadas nos trechos “Se repetimos a narrativa de opressão, perpetuamos sua essência.” e “para delimitar quem nos fala e inferir o que nos isola ou ajuda a colaborar”.

- imortalizamos / machucar.
- criamos / aprendemos.
- eternizamos / deduzir.
- calculamos / depreender.

#### 4) De acordo com a morfologia, assinale a alternativa que indica, correta e respectivamente, a classe de palavras dos termos destacados no trecho a seguir “A habilidade narrativa determina quem tem voz”.

- substantivo / pronome pessoal / substantivo.
- adjetivo / pronome relativo / substantivo.
- substantivo / pronome interrogativo / adjetivo.
- adjetivo / pronome pessoal / adjetivo.

#### 5) Em relação à sintaxe da Língua Portuguesa avalie as afirmativas abaixo atribuindo-lhes valores de Verdadeiro (V) ou Falso (F).

- No trecho “Quando o sol parte e ficamos entretidos ao redor da fogueira”, a oração destacada é classificada como Subordinada Adverbial Temporal.
- No trecho “Se o uso da linguagem amplifica a capacidade de colaboração, histórias determinam e influenciam o comportamento social.”, a oração destacada é classificada como Subordinada Adverbial Concessiva.
- No trecho “A habilidade narrativa determina quem tem voz.”, a oração destacada é classificada como Subordinada Adjetiva Restritiva.
- No trecho “Não existe narrador isento”, o verbo é impessoal, por isso nessa oração não há sujeito.
- No trecho “Mesmo que não tenha mensagem específica, o contador de histórias sempre parte de sua visão de mundo.”, a oração destacada é classificada como Subordinada Adverbial Condicional.

#### Assinale a alternativa correta.

- V, F, F, F, F.
- V, V, F, F, V.
- F, V, V, V, F.
- V, F, V, V, F.

- 6) Em relação às regras de acentuação gráfica da Língua Portuguesa, assinale a alternativa **incorreta**.
- O verbo “ter” é acentuado, no trecho “Todas têm começo”, para concordar com o sujeito que está na terceira pessoa do plural.
  - No trecho “**alguém** que escolhe que causo contar”, a palavra acentuada em destaque recebe acento, pois é uma palavra oxítona terminada em “em”.
  - A palavra “já” é acentuada no trecho “aqui já viviam”, pois é um monossílabo tônico terminado em “a”.
  - No trecho “Religiões e impérios sempre espalharam”, a palavra “impérios” é acentuada pois é uma paroxítona terminada em “os”.

- 7) De acordo com as regras de Concordância Verbal e Nominal, assinale a alternativa que reescreve corretamente o trecho extraído do texto.

“Não existe narrador isento. Por mais cuidadoso que seja, cada um carrega seu conjunto de valores e é perpassado pelos julgamentos e assunções que vêm com a cultura do grupo.”

- Não há narradores isentos. Por mais cuidadosos que seja, cada um carrega seu conjunto de valores e são perpassados pelos julgamentos e assunções que vêm com as culturas do grupo.
- Não existe narradores isentos. Por mais cuidadosos que seja, cada um carrega seu conjunto de valores e são perpassados pelos julgamentos e assunções que vêm com as culturas do grupo.
- Não existem narradores isentos. Por mais cuidadosos que sejam, cada um carrega seu conjunto de valores e são perpassados pelo julgamento que vem com as culturas do grupo.
- Não existe narrador isento. Por mais cuidadoso que seja, cada um carrega seu conjunto de valores e é perpassado pelo julgamento que vêm com a cultura do grupo.

- 8) Assinale a alternativa que apresenta o uso correto do acento grave, indicador de crase.

- Todos somos sujeitos à chuvas e trovoadas.
- Eu posso te visitar após às 15h.
- Devemos à essa professora o nosso sucesso.
- Falei à senhora a mais pura verdade.

- 9) Em relação às regras de regência verbal e nominal, assinale a alternativa **incorreta**.


- A família toda assistiu às partidas na TV.
- Os síndicos julgaram o caso do condômino irresponsável ontem.
- Aspiravam à poluição todos os dias na cidade.
- Os professores deram razão aos alunos.

- 10) Em relação às regras de colocação pronominal, segundo a Gramática Normativa da Língua Portuguesa, assinale a alternativa **correta**.





- Elas tinham avisado-me sobre as faltas excessivas.
- Se apresentaram muito bem no recital as suas filhas.
- Hoje nos preocupamos muito mais com as expressões que usamos.
- Os alunos que mantiveram-se em silêncio durante a aula aprenderam.

## RACIOCÍNIO LÓGICO

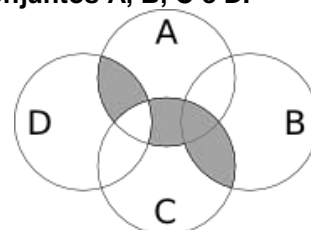
- 11) Uma pessoa pretende assentar uma fileira ladrilhos idênticos, mas deseja colocá-los de acordo com um padrão fixo de rotações sequenciais para variar o padrão básico/imagem formada com a simples colocação deles na mesma direção. Abaixo, a esquerda, está a peça do ladrilho e, a direita, as três primeiras peças assentadas.



Assinale a alternativa que indica a imagem do quarto ladrilhos colocado à direita que corresponde ao padrão que estava sendo adotado nas três peças colocadas anteriormente.



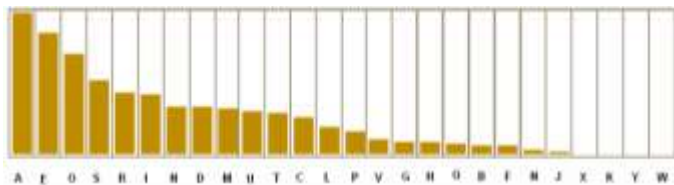
- 12) A figura abaixo representa o diagrama de Venn para os conjuntos A, B, C e D.



Assinale a alternativa que representa a região acinzentada.

- $(A \cap C) \cup (A \cap D) \cup (B \cap C) - (C \cap D)$
- $(A \cup C) \cap (A \cup D) \cap (B \cap C) - (C \cap D)$
- $(A \cap B \cap C \cap D) - (C \cup D)$
- $(B \cap C) \cup (A \cap C \cap D) - (C \cup D)$

13) Um dos mecanismos para quebrar criptografias simples de substituição de caracteres é verificar a frequência das letras e a coerência de palavras em determinado idioma. O diagrama abaixo apresenta a frequência aproximada das letras nas palavras da língua portuguesa.



Com base neste diagrama e nas palavras do vocabulário da língua portuguesa é possível decifrar a frase criptografada.

Z NVMGV JFV HV ZYIV Z FNZ MLEZ RWVRZ  
QZNZRH ELOGZIZ ZL HVF GZNZMSL  
LIRTRMZO

A frequência de cada caracter dessa frase está indicada na seguinte tabela.

letra	frequência	letra	frequência	letra	frequência
Z	14	F	3	J	1
V	7	G	3	Q	1
L	5	H	3	S	1
R	5	I	3	T	1
M	4	E	2	W	1
N	4	O	2	Y	1

Com base nestas informações e sabendo que todas as palavras são da Língua Portuguesa, os espaços não foram substituídos e que acentos e maiúsculas foram ignorados, analise as afirmativas abaixo:

- I. A letra “Z” no texto criptografado é a mais frequente e corresponde a letra “A” na frase original, compatível com a frequência na Língua Portuguesa.
- II. A letra “V” no texto criptografado corresponde a letra “E” texto original.
- III. A palavra criptografada “ZYIV” correspondem a palavras “AZUL”.

Estão corretas as afirmativas:

- a) I apenas
- b) I e II apenas
- c) I e III apenas
- d) I, II e III

14) O trecho abaixo é do soneto XLIV, de Pablo Neruda, retirado de uma tradução para o Português popular na rede de computadores.

(...)  
Amo-te para começar a amar-te,  
para recomeçar o infinito  
e para não deixar de amar-te nunca:  
por isso não te amo ainda.  
(...)

Neste trecho vemos um conflito que inspira o poeta, que pode ser trocado pela proposição composta: “Se começa, então termina”. A partir dela considere as afirmações derivadas abaixo.

- I. Se não termina, então não começa.
- II. Não começa ou termina.
- III. Começa e não termina.

Com respeito à lógica proposicional assinale a alternativa que caracteriza cada afirmativa com respeito à proposição original

- a) I - negação; II - negação; III - equivalência
- b) I - equivalência; II - equivalência; III - negação
- c) I - negação; II - equivalência; III - negação
- d) I - negação; II - negação; III - negação

15) O estudo formal de proposições em termos da lógica proposicional é realizado em termos de tabelas-verdade.

“As tabelas-verdade derivam do trabalho de Gottlob Frege, Charles Peirce e outros nomes da década de 1880, e tomaram a forma atual em 1922 através dos trabalhos de Emil Post e Ludwig Wittgenstein. A publicação do Tractatus Logico-Philosophicus, de Wittgenstein, utilizava as mesmas para classificar funções veritativas em uma série. A vasta influência de seu trabalho levou, então, à difusão do uso de tabelas-verdade.” Fonte: wikipedia, “Tabela-verdade”.

Em uma tabela-verdade cada proposição simples individual é organizada em uma coluna e recebe valor verdadeiro (V) ou falso (F) a cada linha. Em uma última coluna se elenca o resultado lógico vindo da regra lógica definida pelos conectivos, para cada uma das linhas. Considere uma proposição composta por proposições simples:

“Se João mora aqui, então ele é rico, e, se ele é rico, então tem mais de um carro, e, se ele tem mais de um carro, então ele tem carros com placas diferentes, e não depende da regra de rodízios de carro do município.”

Assinale a alternativa que indica o número de linhas de uma tabela-verdade que contenha a avaliação desta proposição composta.

- a) 8
- b) 16
- c) 32
- d) 64

16) No mundo contemporâneo com as mídias sociais notícias falsas e falácias surgidas em debates se tornaram muito presentes. Particularmente, a falácia nomeada por “Argumentum ad hominem” que é estruturada “quando alguém procura negar uma proposição com uma crítica ao seu autor e não ao seu conteúdo”.

Considere as proposições abaixo adaptadas de discursos encontrados na rede de computadores.

- I. “Nosso País tem um déficit educacional reconhecido. Pessoas com aprendizado formal deficitário acreditam muito naquilo que recebem pelo aplicativo. Então há preocupante deficiência na checagem de notícias.”
- II. “O filósofo liberal X disse discordar desta opinião. Este filósofo já deu entrevista à revista comunista, então sua opinião não é confiável.”
- III. “Quem nunca fumou não pode tentar interferir nas discussões e políticas públicas sobre tabagismo”.

Assinale a alternativa em que são identificadas falácias de *Argumentum ad hominem*.

- a) I, II e III
- b) I e II apenas
- c) I e III apenas
- d) II e III apenas

17) O número  $1/3$  (um terço) em representação decimal assume a forma:  $0,33333\dots$  com uma infinidade de casas decimais seguintes (repetitivas) com o algarismo 3. Considere o seguinte procedimento para descobrir o par de números que forma uma dízima periódica baseado em uma sequência de operações aritméticas rudimentares e no encadeamento lógico sequencial:

$$\begin{aligned} N &= 0,33333\dots \Rightarrow \\ 10N &= 3,33333 \Rightarrow \\ 10N - N &= 3 \Rightarrow \\ 9N &= 3 \Rightarrow \\ N &= 3/9 \Rightarrow \\ N &= 1/3 \end{aligned}$$

Baseado neste procedimento, analise as afirmativas abaixo e dê valores Verdadeiro (V) ou Falso (F).

- ( )  $0,99999\dots = 1$
- ( )  $0,1 + 0,01 + 0,001 + \dots = 1/9$
- ( ) Um número que não exhibe repetição como:  $0,123456789101112131415\dots$  (onde se encadeiam os inteiros crescentes ao longo de suas casas decimais) pode ter a fração determinada da mesma maneira.

Assinale a alternativa que avalia corretamente as afirmações acima em termos da mesma lógica apresentada no procedimento.

- a) F, F, F
- b) F, V, V
- c) V, V, F
- d) F, V, F

18) Uma pessoa procura por um argumento dedutivo a partir de duas premissas listadas abaixo.

Premissa 1: Toda quantidade física pode ser medida por algum dispositivo.

Premissa 2: Não se consegue medir o amor com um dispositivo.

A pessoa estabelece, então, duas proposições na forma de conclusões possíveis.

Conclusão 1: O amor não é uma quantidade física.  
Conclusão 2: Nem toda quantidade física pode ser medida por algum dispositivo.

Partindo do princípio da lógica dedutiva, assinale a alternativa correta.

- a) ambas conclusões são deduções válidas
- b) apenas a conclusão 1 é uma dedução válida
- c) apenas a conclusão 2 é uma dedução válida
- d) nenhuma das conclusões é uma dedução válida

19) Em uma rede social dois amigos, Fernando e Roberto, analisam sua rede de amigos. Fernando tem 2120 amigos, enquanto Roberto tem 580 amigos. A rede completa de amigos de um, de outro ou ambos tem 2550 pessoas. Considere dois cenários:

C1: dado que a pessoa é amiga de Roberto, qual a chance dela ser amiga também de Fernando?

C2: dado que a pessoa é amiga de Fernando, qual a chance dela ser amiga também de Roberto?

Assinale a alternativa que melhor aproxima o valor da resposta de cada pergunta elencada nos cenários acima.

- a)  $C1 = 26\%$  e  $C2 = 7\%$
- b)  $C1 = 6\%$  e  $C2 = 6\%$
- c)  $C1 = 23\%$  e  $C2 = 83\%$
- d)  $C1 = 9\%$  e  $C2 = 9\%$

20) Sejam duas proposições lógicas simples: A e B, e a representação simbólica para a negação e os conectivos lógicos abaixo listadas:

$\sim A$	negação de A
$A \wedge B$	A e B
$A \vee B$	A ou B
$A \rightarrow B$	se A, então B
$A \leftrightarrow B$	A se, e somente se, B

Considere as proposições enumeradas:

- I.  $A \wedge \sim A$
- II.  $(A \wedge B) \vee \sim (A \wedge B)$
- III.  $(A \rightarrow B) \leftrightarrow (\sim B \rightarrow \sim A)$

Uma tautologia é uma proposição lógica que pode apenas assumir valores-verdade verdadeiros (V), uma antinomia é a negação de uma tautologia, e, portanto, é uma proposição composta em que resulta apenas em valores lógicos falsos (F). Assinale a alternativa que corretamente classifica as proposições completas enumeradas nesses termos.

- a) I - Antinomia; II - Tautologia; III - Tautologia
- b) I - Tautologia; II - Antinomia; III - Tautologia
- c) I - Tautologia; II - Tautologia; III - Antinomia
- d) I - Tautologia; II - Tautologia; III - Tautologia

## CONHECIMENTOS ESPECÍFICOS

**21) Em relação a epistaxe, assinale a alternativa incorreta.**

- a) Dentre as causas de epistaxe, a espontânea é a principal causa de sangramento na infância, geralmente de origem venosa e normalmente é autolimitada
- b) A anastomose entre o sistema carotídeo externo e interno, denominado de plexo de Kiesselbach, ocorre pela união entre os ramos terminais das artérias etmoidais, labial superior, palatina maior e ramos posteriores nasais
- c) A anastomose entre as artérias nasais posteriores e ramos da artéria faríngea constituem o plexo de Woodruff, responsável pelo sangramento da região posterior do nariz
- d) A área de Little localiza-se anteriormente ao septo nasal, aproximadamente 0,5 cm superior e posterior a columela. Essa área é responsável por poucos casos de epistaxe

**22) De acordo com as definições da “Allergic Rhinitis and its impact on Asthma” (ARIA) a rinite alérgica pode ser classificada em intermitente, persistente, leve, moderada e severa. Assinale a alternativa que apresenta a definição incorreta dessa classificação.**

- a) Intermitente (quando os sintomas estão presentes em menos de 4 dias na semana ou menos de 4 semanas)
- b) Persistente (quando os sintomas estão presentes em mais de 4 dias na semana ou mais de 4 semanas)
- c) Leve (quando os sintomas não interferem no sono, trabalho e atividades diárias), apesar de incomodar o paciente
- d) Moderada/Severa (quando os sintomas são perturbadores e atrapalham o sono e as atividades diárias do paciente)

**23) Em relação a mucocela é correto afirmar que:**

- a) A tomografia computadorizada mostra expansão da parede do seio afetado muitas vezes acompanhado de reabsorção óssea
- b) A sua localização mais frequente é no seio maxilar
- c) O tratamento inicial é antibiótico tópico
- d) É uma lesão expansiva benigna frequentemente encontrada em crianças

**24) Em relação as condições que estão associadas a polipose nasal, assinale a alternativa correta.**

- a) Fibrose cística, Sarcoma de kaposy e Síndrome de Young
- b) Asma, Síndrome de Kartagener, Sinusite fúngica e alérgica
- c) Asma, Fibrose cística, Síndrome de Job
- d) Intolerância ao AAS, Rinite alérgica e Leucemia

**25) Assinale a alternativa que corresponde a faringotonsilite provocada pela associação entre bacilo fusiforme e espirilo (saprófitos normais da cavidade oral que adquirem poder patogênico quando se associam) caracterizada por odinofagia unilateral e ulceração em tonsila palatina, geralmente sem febre.**

- a) Faringotonsilite diftérica
- b) Faringotonsilite de Plaut Vicent
- c) Herpangina
- d) Mononucleose infecciosa

**26) Paciente com lesão ulcero infiltrativa na borda esquerda da língua medindo 3x3cm, comprometendo o assoalho da boca, detendo-se na transição com a gengiva inferior, sem comprometê-la. Em função do volume da lesão ocorre diminuição da mobilidade da língua e a lesão ultrapassa em 0,5 cm a linha média. No pescoço há um linfonodo em nível II a esquerda medindo 4 cm, duro, móvel, indolor. Assinale a alternativa com o estadiamento correto da lesão:**

- a) T1N1M0
- b) T2N1M0
- c) T2N2M0
- d) T3N1M0

**27) Paciente sexo masculino, 50 anos, com lesão ulcerada em mucosa jugal de longa data, dolorosa. Realizada biopsia do tecido perilesional e a imunofluorescência demonstrou presença de IgG e C3 nos espaços intercelulares do epitélio. Assinale a alternativa que corresponde a principal hipótese diagnóstica.**

- a) Líquen plano
- b) Estomatite aftóide
- c) Pênfigo vulgar
- d) Eritema multiforme

**28) Paciente de 47 anos, sexo feminino, apresenta rouquidão, sopro e fadiga vocal após cirurgia de tireoidectomia. Foi percebida uma diminuição do pitch vocal e dificuldade em atingir agudos. Assinale a alternativa que corresponde a principal hipótese diagnóstica.**

- a) Granuloma por intubação orotraqueal
- b) Lesão do nervo laríngeo superior
- c) Lesão do nervo laríngeo inferior
- d) Pólipo em prega vocal

**29) No teste com diapasão paciente apresentou Rinnie negativo a esquerda e Rinnie positivo a direita. O Weber estava lateralizado para a esquerda. Assinale a resposta correta em relação ao provável diagnóstico auditivo do paciente:**

- a) O paciente apresenta anacusia a esquerda
- b) O paciente apresenta perda auditiva sensorioneural a esquerda
- c) O paciente apresenta perda auditiva condutiva a esquerda
- d) O paciente apresenta perda auditiva condutiva a direita

- 30) A respeito das laringites agudas, assinale a alternativa incorreta.**
- A laringotraqueíte bacteriana, também conhecida como crupe membranosa, afeta comumente os adultos e o organismo mais relacionados a essa enfermidade é o *Streptococcus pneumoniae*
  - A epiglote aguda representa uma emergência com potencial obstrução respiratória rapidamente progressiva e fatal. O agente causal mais comum é o *Haemophilus influenzae* tipo B
  - A evolução das laringites nas crianças costuma ser mais rápida e mais grave em virtude do tamanho reduzido da via aérea
  - A laringotraqueíte aguda (crupe viral) é considerada a causa mais comum de estridor agudo nas crianças. Apresenta uma duração média de 3 a 7 dias e seu agente etiológico mais comum é o vírus *Parainfluenza* 1 e 2 e *Influenza* tipo A
- 31) A ausência de melhora após tratamento de um quadro inicialmente caracterizado como otite externa bacteriana em paciente idoso, diabético ou imunocomprometido, que evolui com dor intensa, plenitude auricular e otorrêa persistente é clinicamente muito sugestivo de otite externa maligna. Assinale a alternativa que corresponde ao exame mais sensível e precoce para confirmação diagnóstica:**
- Cintilografia por tecnécio
  - Tomografia computadorizada de ossos temporais
  - Ressonância magnética de crânio
  - Cultura do conduto auditivo externo
- 32) Paciente portador de otite média crônica colesteatomatosa, apresenta vertigem e nistagmo quando realizado pneumatoscopia em consultório. Esse quadro é sugestivo de \_\_\_\_\_.**  
**Assinale a alternativa que preencha corretamente a lacuna.**
- Meningite otogênica
  - Erosão do tegmen-timpani
  - Abscesso cerebelar
  - Fístula de canal semicircular
- 33) Em relação ao paragangliomas, assinale a alternativa incorreta.**
- Os paragangliomas ou glômus são tumores de origem neuroendócrina
  - Podem ocorrer em diversos locais do corpo humano, sendo que no osso temporal, sua localização mais comum é na orelha média
  - A histologia sempre os classifica como benignos, contudo, podem ser clinicamente caracterizados como malignos pela ocorrência eventual de metástase não neuroendócrina
  - O quadro clínico do paraganglioma do osso temporal está ligado ao seu tamanho e localização, em geral apresenta-se com zumbido pulsátil e disacusia
- 34) Paciente do sexo feminino, 28 anos, apresenta episódios recorrentes de vertigem há 6 anos acompanhada de constante desequilíbrio, náusea, vômitos ocasionais e cefaléia hemcraniana a esquerda, pulsátil, de forte intensidade com foto e fonofobia. Tem exames audiológicos e vectoeletronistagmografia normais. Em seu histórico familiar a avó materna e irmã apresentam migrânea. Assinale a alternativa que corresponde a principal hipótese diagnóstica e ao tratamento medicamentoso que pode ser realizado:**
- Neurite vestibular – bloqueadores de canais de cálcio, sumatriptano, antagonistas serotoninérgicos
  - Neurite vestibular – triptanos, ondasetrona, betabloqueadores, antidepressivos tricíclicos
  - Migrânea vestibular – betabloqueadores, antidepressivos tricíclicos, bloqueadores de canais de cálcio, antagonistas serotoninérgicos, anti-convulsivantes
  - Migrânea vestibular – corticoides, beta-bloqueadores, antidepressivos tricíclicos, bloqueadores de canais de cálcio, antagonistas serotoninérgicos
- 35) Recém-nascido de parto normal, a termo, com angústia respiratória importante ao nascimento, dispnéia inspiratória e expiratória, retração intercostal e cianose que melhora com o choro. Assinale a alternativa que apresenta a principal hipótese diagnóstica.**
- Laringomalácia
  - Papilomatose laríngea
  - Atresia coanal congênita unilateral
  - Atresia coanal congênita bilateral
- 36) Paciente sexo masculino, 4 anos, com episódios de epistaxe e rinorréia purulenta unilateral fétida há 30 dias sem melhora com uso de antibioticoterapia oral. Assinale a alternativa que corresponde a principal hipótese diagnóstica.**
- Nasoangiofibroma
  - Corpo estranho em fossa nasal
  - Rinossinusite aguda
  - Rinossinusite crônica
- 37) Paciente na UTI com intubação orotraqueal, sonda nasoenteral em fossa nasal direita com secreção purulenta em meato superior a esquerda e meato médio a direita. Diabetes mellitus descompensado com febre sem melhora com oxacilina e imipenem. Tem tomografia computadorizada de seios da face com velamento em seio maxilar direito e erosão óssea do assoalho e sinais de necrose em palato. Assinale a alternativa com a melhor conduta diante do quadro.**
- Sacar sonda nasogástrica e passar sonda orogástrica, iniciar anfotericina B empírico e cirurgia de urgência para debridamento dos tecidos desvitalizados
  - Sacar sonda nasogástrica, realizar gastrostomia, iniciar anfotericina B e acompanhamento clínico
  - Sacar sonda nasogástrica e passar sonda orogástrica, iniciar anfotericina B e acompanhamento clínico
  - Sacar sonda nasogástrica, realizar gastrostomia, iniciar anfotericina B e cirurgia de urgência para debridamento dos tecidos desvitalizados



**38) Paciente com epistaxe severa ativa, originando-se acima da concha média, não controlada por tamponamento nasal. Assinale a alternativa correta em relação a melhor conduta neste caso:**

- a) Ligadura de artéria etmoidal anterior
- b) Ligadura de artéria etmoidal posterior
- c) Ligadura de artéria esfenopalatina
- d) Ligadura da artéria esfenopalatina associada a etmoidal anterior

**39) Em relação ao trauma acústico e a perda auditiva induzida por ruído, assinale a alternativa incorreta.**

- a) O trauma acústico ocorre quando um clique ou múltiplos cliques sonoros com menos de 1 segundo de duração e mais de 140dB levam a uma perda auditiva imediata, de grau variável
- b) A perda auditiva induzida por ruído é uma diminuição gradual da acuidade auditiva decorrente da exposição continuada a elevados níveis de pressão sonora. Geralmente é bilateral, irreversível e sua progressão cessa com o fim da exposição ao ruído intenso
- c) A perda auditiva induzida por ruído é irreversível, do tipo misto ou condutivo, raramente ultrapassa perda auditiva maior que 40dB em frequências baixas e 75dB em frequências altas
- d) O corticosteróide é o tratamento de escolha no trauma acústico agudo sempre que não houver contraindicação clínica. Outras opções são expansor plasmático, oxigenoterapia, pentoxifilina e piracetam

**40) Em relação a anestesia nas cirurgias otorrinolaringológicas, assinale a alternativa incorreta.**

- a) São desafios da anestesia em otorrinolaringologia: via aérea difícil, competição com o cirurgião pelo mesmo local de trabalho e fixação adequada dos tubos
- b) O jejum deve ser prescrito levando em consideração a idade do paciente, sendo que o leite materno, por exemplo, precisa ser suspenso pelo menos 4 horas antes da cirurgia
- c) O exames pré-operatórios recomendados pela American Society of Anesthesiologists para o paciente ASA II com doença cardiovascular são: hematócrito, hemoglobina, coagulograma e eletrocardiograma apenas
- d) A microcirurgia de laringe normalmente é realizada sob anestesia geral utilizando tubo endotraqueal de 4,5 a 6mm com balonete de alto volume e baixa compressão, que permite boa oxigenação, segurança da via aérea e maior tempo cirúrgico

