



PREFEITURA MUNICIPAL DE SÃO GONÇALO DO AMARANTE – RN
SECRETARIA MUNICIPAL DE ADMINISTRAÇÃO E
RECURSOS HUMANOS – SEMARH

CONCURSO PÚBLICO – EDITAL Nº 01/2019

MÉDICO PERITO

NOME DO CANDIDATO

ASSINATURA DO CANDIDATO

RG DO CANDIDATO

LEIA COM ATENÇÃO AS INSTRUÇÕES ABAIXO

INSTRUÇÕES GERAIS

- I. Nesta prova, você encontrará **09 (nove) páginas** numeradas sequencialmente, contendo **40 (quarenta) questões objetivas** correspondentes às seguintes disciplinas: **Língua Portuguesa 15 (quinze) questões, Raciocínio Lógico 10 (dez) questões e Conhecimentos Específicos 15 (quinze) questões.**
- II. Verifique se seu nome e número de inscrição estão corretos na Folha de Respostas. Se houver erro, notifique o fiscal.
- III. Verifique se o Caderno de Questões se refere ao cargo para o qual você se inscreveu. Caso o cargo esteja divergente, solicite ao fiscal de sala para que tome as providências cabíveis, pois não serão aceitas reclamações posteriores nesse sentido.
- IV. Verifique se a impressão, a paginação e a numeração das questões estão corretas. Caso observe qualquer erro, notifique o fiscal.
- V. Assine e preencha a Folha de Respostas nos locais indicados, com caneta azul ou preta.
- VI. Marque a Folha de Respostas cobrindo fortemente o espaço correspondente à letra a ser assinalada, conforme o exemplo na própria Folha de Respostas.
- VII. O sistema de leitura e processamento das Folhas de Respostas não registrará a resposta em que houver falta de nitidez na marcação e/ou marcação de mais de uma alternativa.
- VIII. A Folha de Respostas não pode ser dobrada, amassada, rasurada ou manchada. Exceto sua assinatura, nada deve ser escrito ou registrado fora dos locais destinados às respostas.
- IX. Ao terminar a prova, entregue ao fiscal a Folha de Respostas e este Caderno. As observações ou marcações registradas neste Caderno não serão levadas em consideração.
- X. **Você dispõe de 03 (três) horas para fazer esta prova. Reserve os 20 (vinte) minutos finais para marcar a Folha de Respostas.**
- XI. O candidato só poderá retirar-se do setor de prova **02 (duas) horas após seu início.**
- XII. É terminantemente proibido o uso de telefone celular e demais aparelhos eletrônicos.

Boa Prova!



GABARITO DO CANDIDATO – RASCUNHO



NOME:

ASSINATURA DO CANDIDATO:

INSCRIÇÃO:

1	2	3	4	5	6	7	8	9	10	11	12	13	14	15	16	17	18	19	20
21	22	23	24	25	26	27	28	29	30	31	32	33	34	35	36	37	38	39	40

RASCUNHO

LÍNGUA PORTUGUESA

Leia o texto abaixo para responder às questões de 1 a 7.

Guerra de narrativas (adaptado)

Quando o sol parte e ficamos entretidos ao redor da fogueira ou de frente à telinha, passamos a uma dimensão em que é tênue a fronteira entre o real e o imaginário, o território dos mitos, as sutis engrenagens do nosso modelo social. Esse ritual repete-se há pelo menos 50 mil anos. E, como é da natureza do que é fundamental, histórias são simples. Todas têm começo, meio e fim; personagens e protagonistas; um cenário e um tempo. E mais: toda trama possui um narrador, alguém que escolhe que causo contar, onde o enredo começa e onde termina, o que entra e o que sai. Esse narrador nem sempre é visível, não há como apontar o autor de um mito ou do que entendemos como senso comum.

Repetimos a balela do descobrimento da América sem pensar que aqui já viviam pessoas antes da invasão europeia. Se o uso da linguagem amplifica a capacidade de colaboração, histórias determinam e influenciam o comportamento social. Se repetimos a narrativa de opressão, perpetuamos sua essência.

A habilidade narrativa determina quem tem voz. A tensão entre grupos em disputa pela narrativa é tão velha quanto a linguagem. Religiões e impérios sempre espalharam suas falas e disputaram a atenção. Identificar essas narrativas e a quem servem é o caminho para delimitar quem nos fala e inferir o que nos isola ou ajuda a colaborar.

Não existe narrador isento. Por mais cuidadoso que seja, cada um carrega seu conjunto de valores e é perpassado pelos julgamentos e assunções que vêm com a cultura do grupo. Mesmo que não tenha mensagem específica, o contador de histórias sempre parte de sua visão de mundo.

<https://vidasimples.co/conviver/querra-de-narrativas/>

1) Assinale a alternativa correta, de acordo com o texto.

- No primeiro período do texto, o autor cria, por meio do paralelismo, uma associação entre a época em que sentávamos ao redor das fogueiras para tratar daquilo que é real e a época em que sentamos em frente à televisão para viver o imaginário.
- A simplicidade das narrativas contrapõe-se àquilo que há de fundamental nas histórias, uma vez que nem sempre o narrador é fácil de ser identificado no texto.
- A influência da linguagem e das narrativas é preponderante para a libertação ou perpetuação da opressão.
- A neutralidade da narrativa só é possível quando o cuidado com os valores adotados pelo grupo do qual faz parte revelam sua própria visão de mundo.

2) De acordo com o sentido do texto, leia as afirmativas abaixo.

- O narrador do senso comum é a voz que personifica o narrador invisível, cujo interesse narrativo é desmotivado de intenções políticas e econômicas, já que assim como o narrador mítico ele não se mostra visível.
- A ideia de que a América foi descoberta pelos europeus faz parte de uma narrativa eurocêntrica que desconsidera os nativos do continente americano como sujeitos que já haviam descoberto esse espaço geográfico.
- A disputa pela narrativa pode ser considerada uma guerra ideológica, que movimenta interesses políticos há milhares de anos.

Assinale a alternativa correta.

- Apenas a afirmativa I está correta.
- Apenas a afirmativa II está correta.
- Apenas as afirmativas II e III estão corretas.
- Apenas a afirmativa III está correta.

3) Assinale a alternativa que apresenta, correta e respectivamente, os sinônimos das expressões destacadas nos trechos “Se repetimos a narrativa de opressão, perpetuamos sua essência.” e “para delimitar quem nos fala e inferir o que nos isola ou ajuda a colaborar”.

- imortalizamos / machucar.
- criamos / aprendemos.
- eternizamos / deduzir.
- calculamos / depreender.

4) De acordo com a morfologia, assinale a alternativa que indica, correta e respectivamente, a classe de palavras dos termos destacados no trecho a seguir “A habilidade narrativa determina quem tem voz”.

- substantivo / pronome pessoal / substantivo.
- adjetivo / pronome relativo / substantivo.
- substantivo / pronome interrogativo / adjetivo.
- adjetivo / pronome pessoal / adjetivo.

5) Em relação à sintaxe da Língua Portuguesa avalie as afirmativas abaixo atribuindo-lhes valores de Verdadeiro (V) ou Falso (F).

- No trecho “Quando o sol parte e ficamos entretidos ao redor da fogueira”, a oração destacada é classificada como Subordinada Adverbial Temporal.
- No trecho “Se o uso da linguagem amplifica a capacidade de colaboração, histórias determinam e influenciam o comportamento social.”, a oração destacada é classificada como Subordinada Adverbial Concessiva.
- No trecho “A habilidade narrativa determina quem tem voz.”, a oração destacada é classificada como Subordinada Adjetiva Restritiva.
- No trecho “Não existe narrador isento”, o verbo é impessoal, por isso nessa oração não há sujeito.
- No trecho “Mesmo que não tenha mensagem específica, o contador de histórias sempre parte de sua visão de mundo.”, a oração destacada é classificada como Subordinada Adverbial Condicional.

Assinale a alternativa correta.

- V, F, F, F, F.
- V, V, F, F, V.
- F, V, V, V, F.
- V, F, V, V, F.

6) Em relação às regras de acentuação gráfica da Língua Portuguesa, assinale a alternativa **incorreta**.

- O verbo “ter” é acentuado, no trecho “Todas têm começo”, para concordar com o sujeito que está na terceira pessoa do plural.
- No trecho “**alguém** que escolhe que causo contar”, a palavra acentuada em destaque recebe acento, pois é uma palavra oxítona terminada em “em”.
- A palavra “já” é acentuada no trecho “aqui já viviam”, pois é um monossílabo tônico terminado em “a”.
- No trecho “Religiões e impérios sempre espalham”, a palavra “impérios” é acentuada pois é uma paroxítona terminada em “os”.

7) De acordo com as regras de Concordância Verbal e Nominal, assinale a alternativa que reescreve corretamente o trecho extraído do texto.

“Não existe narrador isento. Por mais cuidadoso que seja, cada um carrega seu conjunto de valores e é perpassado pelos julgamentos e assunções que vêm com a cultura do grupo.”

- Não há narradores isentos. Por mais cuidadosos que seja, cada um carrega seu conjunto de valores e são perpassados pelos julgamentos e assunções que vêm com as culturas do grupo.
- Não existe narradores isentos. Por mais cuidadosos que seja, cada um carrega seu conjunto de valores e são perpassados pelos julgamentos e assunções que vêm com as culturas do grupo.
- Não existem narradores isentos. Por mais cuidadosos que sejam, cada um carrega seu conjunto de valores e são perpassados pelo julgamento que vem com as culturas do grupo.
- Não existe narrador isento. Por mais cuidadoso que seja, cada um carrega seu conjunto de valores e é perpassado pelo julgamento que vêm com a cultura do grupo.

8) Assinale a alternativa que apresenta o uso correto do acento grave, indicador de crase.

- Todos somos sujeitos à chuvas e trovoadas.
- Eu posso te visitar após às 15h.
- Devemos à essa professora o nosso sucesso.
- Falei à senhora a mais pura verdade.

9) Em relação às regras de regência verbal e nominal, assinale a alternativa **incorreta**.


- A família toda assistiu às partidas na TV.
- Os síndicos julgaram o caso do condômino irresponsável ontem.
- Aspiravam à poluição todos os dias na cidade.
- Os professores deram razão aos alunos.

10) Em relação às regras de colocação pronominal, segundo a Gramática Normativa da Língua Portuguesa, assinale a alternativa **correta**.





- Elas tinham avisado-me sobre as faltas excessivas.
- Se apresentaram muito bem no recital as suas filhas.
- Hoje nos preocupamos muito mais com as expressões que usamos.
- Os alunos que mantiveram-se em silêncio durante a aula aprenderam.

RACIOCÍNIO LÓGICO

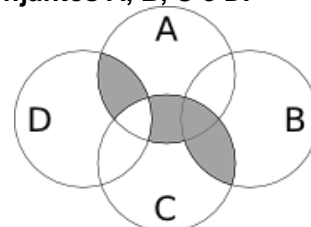
- 11) Uma pessoa pretende assentar uma fileira ladrilhos idênticos, mas deseja colocá-los de acordo com um padrão fixo de rotações sequenciais para variar o padrão básico/imagem formada com a simples colocação deles na mesma direção. Abaixo, a esquerda, está a peça do ladrilho e, a direita, as três primeiras peças assentadas.



Assinale a alternativa que indica a imagem do quarto ladrilho colocado à direita que corresponde ao padrão que estava sendo adotado nas três peças colocadas anteriormente.



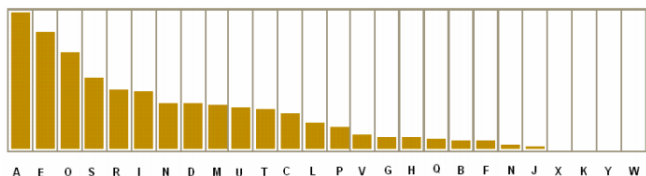
- 12) A figura abaixo representa o diagrama de Venn para os conjuntos A, B, C e D.



Assinale a alternativa que representa a região acinzentada.

- $(A \cap C) \cup (A \cap D) \cup (B \cap C) - (C \cap D)$
- $(A \cup C) \cap (A \cup D) \cap (B \cap C) - (C \cap D)$
- $(A \cap B \cap C \cap D) - (C \cup D)$
- $(B \cap C) \cup (A \cap C \cap D) - (C \cup D)$

13) Um dos mecanismos para quebrar criptografias simples de substituição de caracteres é verificar a frequência das letras e a coerência de palavras em determinado idioma. O diagrama abaixo apresenta a frequência aproximada das letras nas palavras da língua portuguesa.



Com base neste diagrama e nas palavras do vocabulário da língua portuguesa é possível decifrar a frase criptografada.

Z NVMGV JFV HV ZYIV Z FNZ MLEZ RWVRZ
QZNZRH ELOGZIZ ZL HVF GZNMZSL
LIRTRMZO

A frequência de cada caracter dessa frase está indicada na seguinte tabela.

letra	frequência	letra	frequência	letra	frequência
Z	14	F	3	J	1
V	7	G	3	Q	1
L	5	H	3	S	1
R	5	I	3	T	1
M	4	E	2	W	1
N	4	O	2	Y	1

Com base nestas informações e sabendo que todas as palavras são da Língua Portuguesa, os espaços não foram substituídos e que acentos e maiúsculas foram ignorados, analise as afirmativas abaixo:

- I. A letra “Z” no texto criptografado é a mais frequente e corresponde a letra “A” na frase original, compatível com a frequência na Língua Portuguesa.
- II. A letra “V” no texto criptografado corresponde a letra “E” texto original.
- III. A palavra criptografada “ZYIV” correspondem a palavras “AZUL”.

Estão corretas as afirmativas:

- a) I apenas
- b) I e II apenas
- c) I e III apenas
- d) I, II e III

14) O trecho abaixo é do soneto XLIV, de Pablo Neruda, retirado de uma tradução para o Português popular na rede de computadores.

(...)
Amo-te para começar a amar-te,
para recomençar o infinito
e para não deixar de amar-te nunca:
por isso não te amo ainda.
(...)

Neste trecho vemos um conflito que inspira o poeta, que pode ser trocado pela proposição composta: “Se começa, então termina”. A partir dela considere as afirmações derivadas abaixo.

- I. Se não termina, então não começa.
- II. Não começa ou termina.
- III. Começa e não termina.

Com respeito à lógica proposicional assinale a alternativa que caracteriza cada afirmativa com respeito à proposição original

- a) I - negação; II - negação; III - equivalência
- b) I - equivalência; II - equivalência; III - negação
- c) I - negação; II - equivalência; III - negação
- d) I - negação; II - negação; III - negação

15) O estudo formal de proposições em termos da lógica proposicional é realizado em termos de tabelas-verdade.

“As tabelas-verdade derivam do trabalho de Gottlob Frege, Charles Peirce e outros nomes da década de 1880, e tomaram a forma atual em 1922 através dos trabalhos de Emil Post e Ludwig Wittgenstein. A publicação do Tractatus Logico-Philosophicus, de Wittgenstein, utilizava as mesmas para classificar funções veritativas em uma série. A vasta influência de seu trabalho levou, então, à difusão do uso de tabelas-verdade.” Fonte: wikipedia, “Tabela-verdade”.

Em uma tabela-verdade cada proposição simples individual é organizada em uma coluna e recebe valor verdadeiro (V) ou falso (F) a cada linha. Em uma última coluna se elenca o resultado lógico vindo da regra lógica definida pelos conectivos, para cada uma das linhas. Considere uma proposição composta por proposições simples:

“Se João mora aqui, então ele é rico, e, se ele é rico, então tem mais de um carro, e, se ele tem mais de um carro, então ele tem carros com placas diferentes, e não depende da regra de rodízios de carro do município.”

Assinale a alternativa que indica o número de linhas de uma tabela-verdade que contenha a avaliação desta proposição composta.

- a) 8
- b) 16
- c) 32
- d) 64

16) No mundo contemporâneo com as mídias sociais notícias falsas e falácias surgidas em debates se tornaram muito presentes. Particularmente, a falácia nomeada por “Argumentum ad hominem” que é estruturada “quando alguém procura negar uma proposição com uma crítica ao seu autor e não ao seu conteúdo”.

Considere as proposições abaixo adaptadas de discursos encontrados na rede de computadores.

- I. “Nosso País tem um déficit educacional reconhecido. Pessoas com aprendizado formal deficitário acreditam muito naquilo que recebem pelo aplicativo. Então há preocupante deficiência na checagem de notícias.”
- II. “O filósofo liberal X disse discordar desta opinião. Este filósofo já deu entrevista à revista comunista, então sua opinião não é confiável.”
- III. “Quem nunca fumou não pode tentar interferir nas discussões e políticas públicas sobre tabagismo”.

Assinale a alternativa em que são identificadas falácias de *Argumentum ad hominem*.

- a) I, II e III
- b) I e II apenas
- c) I e III apenas
- d) II e III apenas

17) O número $1/3$ (um terço) em representação decimal assume a forma: $0,33333\dots$ com uma infinidade de casas decimais seguintes (repetitivas) com o algarismo 3. Considere o seguinte procedimento para descobrir o par de números que forma uma dízima periódica baseado em uma sequência de operações aritméticas rudimentares e no encadeamento lógico sequencial:

$$\begin{aligned} N &= 0,33333\dots \Rightarrow \\ 10N &= 3,33333 \Rightarrow \\ 10N - N &= 3 \Rightarrow \\ 9N &= 3 \Rightarrow \\ N &= 3/9 \Rightarrow \\ N &= 1/3 \end{aligned}$$

Baseado neste procedimento, analise as afirmativas abaixo e dê valores Verdadeiro (V) ou Falso (F).

- () $0,99999\dots = 1$
- () $0,1 + 0,01 + 0,001 + \dots = 1/9$
- () Um número que não exhibe repetição como: $0,123456789101112131415\dots$ (onde se encadeiam os inteiros crescentes ao longo de suas casas decimais) pode ter a fração determinada da mesma maneira.

Assinale a alternativa que avalia corretamente as afirmações acima em termos da mesma lógica apresentada no procedimento.

- a) F, F, F
- b) F, V, V
- c) V, V, F
- d) F, V, F

18) Uma pessoa procura por um argumento dedutivo a partir de duas premissas listadas abaixo.

Premissa 1: Toda quantidade física pode ser medida por algum dispositivo.

Premissa 2: Não se consegue medir o amor com um dispositivo.

A pessoa estabelece, então, duas proposições na forma de conclusões possíveis.

Conclusão 1: O amor não é uma quantidade física.
Conclusão 2: Nem toda quantidade física pode ser medida por algum dispositivo.

Partindo do princípio da lógica dedutiva, assinale a alternativa correta.

- a) ambas conclusões são deduções válidas
- b) apenas a conclusão 1 é uma dedução válida
- c) apenas a conclusão 2 é uma dedução válida
- d) nenhuma das conclusões é uma dedução válida

19) Em uma rede social dois amigos, Fernando e Roberto, analisam sua rede de amigos. Fernando tem 2120 amigos, enquanto Roberto tem 580 amigos. A rede completa de amigos de um, de outro ou ambos tem 2550 pessoas. Considere dois cenários:

C1: dado que a pessoa é amiga de Roberto, qual a chance dela ser amiga também de Fernando?

C2: dado que a pessoa é amiga de Fernando, qual a chance dela ser amiga também de Roberto?

Assinale a alternativa que melhor aproxima o valor da resposta de cada pergunta elencada nos cenários acima.

- a) $C1 = 26\%$ e $C2 = 7\%$
- b) $C1 = 6\%$ e $C2 = 6\%$
- c) $C1 = 23\%$ e $C2 = 83\%$
- d) $C1 = 9\%$ e $C2 = 9\%$

20) Sejam duas proposições lógicas simples: A e B, e a representação simbólica para a negação e os conectivos lógicos abaixo listadas:

$\sim A$	negação de A
$A \wedge B$	A e B
$A \vee B$	A ou B
$A \rightarrow B$	se A, então B
$A \leftrightarrow B$	A se, e somente se, B

Considere as proposições enumeradas:

- I. $A \wedge \sim A$
- II. $(A \wedge B) \vee \sim (A \wedge B)$
- III. $(A \rightarrow B) \leftrightarrow (\sim B \rightarrow \sim A)$

Uma tautologia é uma proposição lógica que pode apenas assumir valores-verdade verdadeiros (V), uma antinomia é a negação de uma tautologia, e, portanto, é uma proposição composta em que resulta apenas em valores lógicos falsos (F). Assinale a alternativa que corretamente classifica as proposições completas enumeradas nesses termos.

- a) I - Antinomia; II - Tautologia; III - Tautologia
- b) I - Tautologia; II - Antinomia; III - Tautologia
- c) I - Tautologia; II - Tautologia; III - Antinomia
- d) I - Tautologia; II - Tautologia; III - Tautologia

CONHECIMENTOS ESPECÍFICOS

21) As fases do processo do luto são descritas por diversos autores com pequenas variações na denominação e algumas características específicas. O conhecimento destas fases e de suas características são fundamentais para o manejo destes indivíduos, e para a diferenciação do luto fisiológico do luto patológico. Uma das clássicas divisões das fases do luto foi postulada por Elisabeth Kubler-Ross (1996), que dividiu o processo em 5 fases. A partir do mencionado, assinale a alternativa correta.

- a) O primeiro estágio é o da negação; o segundo é o do isolamento; o terceiro da depressão; o quarto da raiva e o último é o da aceitação
- b) No primeiro estágio, a negação funciona como uma defesa temporária ao estado de choque, do qual o enlutado vai gradativamente se recuperando. O processo de aceitação é dificultado quando a pessoa passa muito tempo em negação em relação à morte
- c) Durante o estágio de depressão, há uma tentativa do enlutado de negociar os seus medos diante da perda
- d) Durante o estágio de depressão, o uso de antidepressivos por curtos períodos é recomendado

22) O acesso aos serviços de urgência não deve ser organizado de maneira exclusivamente burocrática (a partir das filas por ordem de chegada, sem avaliação do potencial de risco, agravo ou grau de sofrimento). Desta maneira, o Ministério da Saúde prevê o acolhimento com avaliação de risco. Sobre este tema, analise as afirmativas abaixo e dê valores Verdadeiro (V) ou Falso (F).

- () Pacientes com classificação de risco vermelho ou amarelo devem ser encaminhados imediatamente para atendimento médico na sala de emergência.
- () Pacientes com classificação azul apresentam situações clínicas não urgentes e podem ser encaminhados diretamente da triagem do pronto-socorro para atendimento eletivo em Unidade Básica de Saúde (UBS) ou ambulatório de especialidades, sem necessidade de avaliação médica.
- () Vítimas de acidentes com veículos motorizados acima de 35 Km/h (quilômetros por hora); pacientes que apresentaram perda de consciência, mesmo que momentânea, após acidente; pacientes com fraturas de múltiplos (três ou mais) arcos costais podem apresentar piora rápida do quadro clínico, e estas condições e sinais são chamados de Bandeiras Vermelhas.
- () Pacientes com classificação verde encontram-se com condições agudas (urgência relativa) ou não agudas atendidos com prioridade sobre consultas simples – espera até 30 minutos.

Assinale a alternativa que apresenta a sequência correta de cima para baixo.

- | | |
|---------------|---------------|
| a) F, F, V, V | c) V, V, F, F |
| b) F, V, F, V | d) V, F, V, V |

23) A Lei nº 8.080/1990, dispõe sobre as condições para a promoção, proteção e recuperação da saúde, a organização e o funcionamento dos serviços correspondentes. Sobre esta Lei regula em todo o território nacional as ações e serviços de saúde, assinale a alternativa correta.

- a) A lei proíbe a participação complementar dos serviços privados de assistência à saúde pública
- b) A lei trata, dentre outros temas, dos recursos financeiros, da gestão financeira, do planejamento e do orçamento do Sistema Único de Saúde (SUS)
- c) A lei trata das competências e atribuições das esferas estadual e municipal de governo
- d) A lei prevê, no campo de atuação do Sistema Único de Saúde (SUS), a vigilância sanitária, porém não inclui a vigilância epidemiológica como campo de atuação do SUS

24) Foi aprovada em 2017 a Política Nacional de Atenção Básica (PNAB - 2017), com vistas à revisão da regulamentação de implantação e operacionalização vigentes, no âmbito do Sistema Único de Saúde (SUS), estabelecendo-se as diretrizes para a organização do componente Atenção Básica, na Rede de Atenção à Saúde (RAS). Leia a seguir alguns trechos da lei:

Artigo 3º: São Princípios e Diretrizes do SUS e da RAS a serem operacionalizados na Atenção Básica.

I - Princípios:

- a) Universalidade;
- b) Equidade; e
- c) _____.

Artigo 4º: A PNAB tem na Saúde do(a) _____ sua estratégia prioritária para expansão e consolidação da Atenção Básica.

Assinale a alternativa que preencha correta e respectivamente as lacunas.

- a) Descentralização / Família
- b) Integralidade / Trabalhador
- c) Descentralização / Trabalhador
- d) Integralidade / Família

25) Em seu artigo 342, o Código Penal (CP) brasileiro prevê o crime de falso testemunho ou falsa perícia. São passíveis da prática do delito: testemunha, perito, contador, tradutor ou intérprete. Sobre isto, analise as afirmativas abaixo:

- I. O crime prevê pena de reclusão, de 2 a 4 anos, e multa.
- II. A punição aumenta, de um sexto a um terço, no caso de o crime ter sido praticado mediante suborno ou com o fim de obter prova destinada a produzir efeito em processo penal, ou em processo civil em que for parte entidade da administração pública direta ou indireta.
- III. No caso de a pessoa se retratar ou declarar a verdade, o crime deixa de existir.
- IV. A retratação, no entanto, deve ocorrer antes de a sentença ser prolatada.

Assinale a alternativa correta:

- a) As afirmativas I, II, III e IV estão corretas
- b) Apenas as afirmativas II e III estão corretas
- c) Apenas as afirmativas I, II e III estão corretas
- d) Apenas as afirmativas II, III e IV estão corretas

26) Segundo o Código de Processo Civil (CPC), para o exercício de suas funções o juiz necessita do auxílio constante ou eventual de outras pessoas que, tal como ele, devem atuar com diligência e imparcialidade. Nas causas em que a matéria envolvida exigir conhecimentos técnicos ou científicos próprios de determinadas áreas do saber, o magistrado será assistido por perito ou órgão. Sobre a atividade pericial, assinale a alternativa incorreta.

- a) A prova pericial consistirá em exame, vistoria ou avaliação, e poderá ser determinada de ofício ou a requerimento das partes. Será indeferida quando: a) não houver a necessidade de conhecimento especial de técnico para prova do fato; b) o fato já estiver comprovado por outros meios de prova; e, c) a verificação for impraticável (art. 464, § 1º, CPC)
- b) Caso o objeto da perícia envolva aspectos de maior complexidade, abarcando várias áreas do saber, o juiz nomeará mais de um perito, haja vista a necessidade de que cada um seja especializado em sua respectiva área de conhecimento (art. 475, CPC)
- c) A produção da prova pericial poderá ser dispensada quando as partes, na inicial e na contestação, apresentarem, sobre as questões de fato, pareceres técnicos ou documentos elucidativos que forem considerados suficientes pelo magistrado (art. 472, CPC)
- d) Caso, por dolo, o perito acabe prestando informações inverídicas, será responsabilizado pelos prejuízos que causar à parte, ficando ainda inabilitado para atuar em outras perícias por um prazo de dois a cinco anos. Caberá ao juiz comunicar tal fato ao respectivo órgão de classe, para que sejam adotadas as medidas cabíveis. Tais sanções não se aplicam em casos onde não ficou evidente dolo por parte do perito. (art. 158. CPC)

27) Estima-se que o abuso físico seja responsável por aproximadamente 25% de todas as formas de abuso à criança. Proporcionalmente, é o maior responsável por mortalidade entre as formas de abuso à criança. Na avaliação pericial médico-legal de uma criança com suspeita síndrome do bebê sacudido (*shaken baby syndrome*), assinale a alternativa incorreta.

- a) A síndrome do bebê sacudido caracteriza-se por lesões do sistema nervoso central e hemorragias oculares provocadas por chacoalhamento de crianças pequenas
- b) Idade: a vítima típica costuma ter menos de um ano e, usualmente, menos de seis meses de idade
- c) A combinação de hemorragias retiniana e subdural em um lactente ou criança pequena é patognomônica da síndrome do bebê sacudido
- d) Lesões esqueléticas aparecem em até 50% dos casos, mas sua presença não é requerida para o diagnóstico. Fratura em arco posterior da costela reforça o diagnóstico da síndrome

28) A Síndrome do Túnel do Carpo (STC) é uma das neuropatias mais frequentes da extremidade superior, afetando principalmente mulheres de meia idade. Ela é secundária a compressão do nervo mediano no interior do túnel do carpo. Sobre a semiologia médico-pericial para o diagnóstico da síndrome do túnel do carpo, assinale a alternativa correta.

- a) Para confirmar a suspeita clínica, determinada pela história e exame físico, é necessário realizar exame complementar (eletro-neuromiografia ou ultra-som do punho) para confirmar o diagnóstico
- b) O sinal de Tinel é pesquisado com a percussão do punho, sendo considerado positivo com a presença de dor ou formigamento predominantemente no quarto e quinto dedos da mão (anelar e mínimo)
- c) O sinal de Phalen é pesquisado com a flexão de 90º (graus) do punho; se os sintomas forem reproduzidos em 60 segundos, o teste é considerado positivo
- d) Desde a fase inicial os pacientes normalmente se queixam de sintomas ocasionados pelo envolvimento dos componentes sensoriais e motores do nervo mediano

29) Embora a ultrassonografia seja um método muito sensível e específico na detecção de alterações tendíneas, a presença de tais alterações pode não ter correlação clínica, principalmente em casos crônicos. As alterações tendíneas são encontradas também no exame ultra-sonográfico em indivíduos assintomáticos, principalmente com faixa etária maior. *Tempelhoff et al*, em 1999, estudaram 412 ombros em indivíduos assintomáticos com idade entre 50 a 80 anos. Os autores encontraram rotura do manguito rotador em 23,4%.

Sobre os conceitos bioestatísticos fundamentais para a análise de um exame complementar, assinale a alternativa correta:

- a) Especificidade é a probabilidade de um teste apresentar resultado positivo em um indivíduo acometido por uma doença
- b) Sensibilidade é a probabilidade de um teste apresentar resultado positivo em um indivíduo acometido por uma doença
- c) Acurácia é a probabilidade de um teste apresentar resultado positivo em um indivíduo acometido por uma doença
- d) Valor preditivo positivo é definido como a probabilidade de um teste apresentar resultado negativo em paciente sem doença

30) A tentativa de mostrar quadro clínico irreal (a maior, a menor ou apenas diferente) por parte do indivíduo durante um exame pericial se constitui um entrave frequente, mas perícias médicas, em diferentes âmbitos (cível, previdenciário, securitário, administrativo). Sobre este tema, analise as afirmativas abaixo:

- I. _____ é o ato de se mostrar aquilo que não é
 - II. _____ é o ato de se ocultar aquilo que é.
 - III. _____ é o ato de se exagerar situações reais.
- Na prática pericial esta é a atitude mais frequente e de mais difícil detecção (aumento de intensidade/gravidade), pois há a coexistência de sintomas verdadeiros e falsos entremeados.

Assinale a alternativa que preencha correta e respectivamente as lacunas.

- a) Simulação / Dissimulação / Metassimulação
- b) Dissimulação / Metassimulação / Retrossimulação
- c) Simulação / Dissimulação / Retrossimulação
- d) Metassimulação / Dissimulação / Simulação

31) Sobre a semiologia pericial perante suspeita de simulação em um quadro de lombalgia, assinale a alternativa incorreta.

- a) São alguns dos sinais de Waddel ao exame físico: a sensibilidade aumentada ao leve tato na região lombar, o aparecimento da dor lombar à compressão axial do crânio e anormalidades motoras ou sensitivas em múltiplas regiões, que não podem ser explicadas com base anatômica
- b) Quando há suspeita de simulação de um quadro de ciatralgia, pode-se realizar a teste de extensão do joelho (Laségue) com o indivíduo na posição sentada, simulando-se o exame físico do joelho (“Laségue sentado”)
- c) No teste de Hoover, o paciente fica ajoelhado sobre uma cadeira e é solicitado que ele apanhe objetos no solo, o que é possível por meio da flexão dos quadris, mesmo em pacientes com patologias da coluna lombar
- d) A hiper-reação durante o exame é o sinal mais importante entre os sinais não orgânicos de Waddel, representado pela verbalização desproporcional dos sintomas, expressão facial inadequada, tremores, desmaios e sudorese

32) Portadores de doenças oftalmológicas dirigem com menos segurança e tem alto risco de provocar acidentes. O condutor profissional deve ter uma acuidade visual mínima que propicie condições de detectar e reagir a obstáculos, pedestres, outros veículos e sinalizações. Analise as afirmativas abaixo sobre algumas condições oftalmológicas causadoras de diminuição da acuidade visual e dê valores Verdadeiro (V) ou Falso (F):

- () Para Cegueira Profissional Absoluta ou Cegueira Legal, no enquadramento da perda visual, são considerados os valores de acuidade visual abaixo de 40/400 (Snellen).
- () O pterígio caracteriza-se pelo crescimento de um tecido fibrovascular neoformado encobrindo a esclera, podendo, em raras ocasiões, comprometer o campo visual pela delaminação da córnea. Sua prevalência é mais elevada nas regiões equatoriais.
- () A degeneração macular relacionada à idade constitui a principal causa de cegueira legal no mundo ocidental acima dos 50 anos de idade. Ocorre em aproximadamente 18% dos indivíduos acima dos 65 anos e se caracteriza pela presença de drusas no exame de fundo de olho. Caracteriza-se por diminuição da acuidade visual, com piora no período noturno.
- () O descolamento da retina, definido como separação da retina sensorial do epitélio pigmentar da retina, pode acarretar cegueira se ocorrer na mácula. O principal descolamento é o regmatogênico, causado por ruptura retiniana geralmente espontânea. Cerca de 40% dos descolamentos de retina ocorre em olhos míopes.

Assinale a alternativa que apresenta a sequência correta de cima para baixo.

- a) F, F, V, V
- b) F, V, V, V
- c) V, V, F, F
- d) V, V, V, F

33) A esquizofrenia é conceituada como uma doença que cursa com piora das funções mentais, que interfere na capacidade de discernimento em relação aos fatos habituais da vida ou contato adequado com a realidade. Estima-se que a prevalência da doença na população geral varia entre 0,5% e 1%. Sobre o assunto, analise as afirmativas abaixo:

- I. Casos novos são raros antes da puberdade e depois dos 35 anos. As mulheres apresentam um curso mais brando da esquizofrenia e, portanto, um melhor prognóstico e uma melhor possibilidade de adaptação social.
- II. Observa-se que aproximadamente 80% dos pacientes apresentam melhora significativa ao longo de um período médio de acompanhamento de 5 a 6 anos. Porém, com o avançar da idade, há uma piora gradual na sintomatologia.
- III. Definição de delírio: o indivíduo crê em idéias falsas, irracionais ou sem lógica. Em geral, são temas de perseguição, grandeza ou místicos.
- IV. Definição de ilusão: o paciente percebe estímulos que em realidade não existem, como ouvir vozes ou pensamentos, enxergar pessoas ou vultos.
- V. Os esquizofrênicos que atingem capacidade de trabalho demonstram melhor prognóstico, pois conseguem estabelecer contato mais adequado com a realidade, estudam, frequentam universidades, formam-se, exercem profissões e se casam. Os casos mais reservados são encontrados nos indivíduos que têm severa perturbação da comunicação, das relações sociais e com perturbação do juízo de realidade, que permanecem dependentes dos familiares.

Estão corretas as afirmativas:

- a) III e IV apenas
- b) I, II, III e IV apenas
- c) I, II, III e V apenas
- d) I, III e V apenas

34) O risco de Perda Auditiva Induzida Pelo Ruído (PAIR) aumenta muito quando a média da exposição está acima de 85 decibéis por oito horas diárias. As exposições contínuas são piores do que as intermitentes, porém, curtas exposições a ruído intenso também podem desencadear perdas auditivas. Sobre esta condição (PAIR), assinale a alternativa correta.

- a) Frente a uma suspeita de PAIR, a presença dos seguintes sintomas tornam o diagnóstico altamente improvável, pois não são parte do quadro clínico da PAIR: intolerância a sons intensos; queixar-se de zumbido e de diminuição de inteligibilidade da fala, com prejuízo da comunicação oral
- b) É bilateral, neurossensorial e o substrato anatomo-patológico é a lesão timpânica
- c) A sua progressão não cessa com o fim da exposição ao ruído intenso
- d) Manifesta-se primeira e predominantemente nas frequências de 6, 4 e 3 kilohertz (kHz) e, com agravamento da lesão, estende-se às frequências de 8, 2, 1, 0,5 e 0,25 kHz, as quais levam mais tempo para serem comprometidas

35) O exame físico minucioso é fundamental no ato pericial, especialmente quando o perito se depara com doenças ortopédicas, onde muitas vezes o sintoma predominante é subjetivo: a dor. Sendo assim, assinale a alternativa correta.

- a) Um paciente que apresenta uma hérnia discal no nível L5 – S1, com acometimento motor, apresentará diminuição da força muscular do músculo íleo-psoas e reto-femoral
- b) A síndrome do canal de Guyon é a compressão do nervo ulnar ao nível do cotovelo, sendo um diagnóstico diferencial da síndrome do túnel do carpo
- c) As funções dos tendões do manguito rotador podem ser testadas através dos testes de Jobe, Patte e Gerber, que avaliam, respectivamente, o supra-espinal, o infra-espinal e o subescapular
- d) A epicondilite do cotovelo pode acometer o epicôndilo medial e o/ou epicôndilo lateral. O acometimento medial é mais frequente, no local de origem da musculatura extensora do cotovelo. São testes diagnósticos: Cozen e Mills

36) A artrite reumatoide é uma doença autoimune de etiologia desconhecida, que afeta a membrana sinovial de articulações e bainhas tendinosas, de evolução crônica e progressiva, e que alterna períodos de remissão e exacerbação. Caracteriza-se por poliartrite periférica, simétrica, que acomete grandes e pequenas articulações, levando à deformidade e à destruição das articulações. Sobre isso, analise as afirmativas abaixo:

- I. A artrite reumatoide ocorre 3 vezes mais no sexo _____, acometendo principalmente indivíduos na _____ décadas de vida.
- II. As primeiras articulações geralmente envolvidas são os (as) _____. Com a evolução, se estabelecem as deformidades articulares características, como o _____.

Assinale a alternativa que preencha correta e respectivamente as lacunas.

- a) feminino / quarta e quinta / joelho e quadril / cisto de Baker
- b) feminino / quarta e quinta / articulações dos dedos das mãos e pés / nódulo de Heberden
- c) feminino / sétima e oitava / articulações dos dedos das mãos e pés / nódulo de Heberden
- d) masculino / sétima e oitava / joelho e quadril / cisto de Baker

37) A prevenção ao desenvolvimento de Lesões por Esforços Repetitivos / Distúrbios Osteomusculares Relacionados ao Trabalho (LER/DORT) entre os trabalhadores depende da implementação de medidas de controle e eliminação de fatores de risco relacionados ao trabalho. Sobre os fatores de risco relacionados ao desenvolvimento destas lesões, analise as afirmativas abaixo e dê valores Verdadeiro (V) ou Falso (F).

- () De acordo com os critérios de repetitividade de Hagberg e Silverstein, um trabalho é considerado repetitivo quando seu ciclo é igual ou inferior a 60 segundos.
- () O trabalho em postura estática contínua é considerado fator de risco para o desenvolvimento de LER/DORT.
- () Os fatores socioculturais e psicológicos não devem ser considerados no diagnóstico e compreensão dos casos suspeitos de LER/DORT.
- () A exposição frequente do trabalhador ao frio e vibração são fatores de risco para o desenvolvimento de LER/DORT.

Assinale a alternativa que apresenta a sequência correta de cima para baixo.

- a) F, F, V, V
- b) F, V, F, V
- c) V, F, F, F
- d) V, V, V, F

38) Analise o texto abaixo:

Reabilitação profissional é definida como a assistência educativa ou reeducativa e de adaptação ou readaptação profissional, instituída sob a denominação genérica de habilitação e reabilitação profissional, visando proporcionar aos beneficiários incapacitados _____ para o trabalho, em caráter obrigatório, _____, e às pessoas com deficiência, os meios indicados para o reingresso no mercado de trabalho e no contexto em que vivem.

Assinale a alternativa que preencha correta e respectivamente as lacunas.

- a) totalmente / independente de carência
- b) parcialmente / com carência de 06 (seis) meses
- c) parcial ou totalmente / com carência de 06 (seis) meses
- d) parcial ou totalmente / independente de carência

39) A fibromialgia é uma condição clínica comumente observada, sendo uma das principais causas de consultas referentes ao sistema musculoesquelético, sendo ainda considerada o segundo distúrbio reumatológico mais encontrado, superada apenas pela osteoartrite. Apesar do bom prognóstico desta condição dolorosa, os pacientes com fibromialgia consomem quantias exorbitantes de recursos financeiros na área da saúde pública ou particular, tanto em tratamento como em investigação diagnóstica. Sobre isso, analise as afirmativas abaixo:

- I. Os critérios diagnósticos do Colégio Americano de Reumatologia (1990) incluem a presença na história clínica de dor generalizada, afetando o esqueleto axial e periférico, acima e abaixo da cintura, com duração superior a três meses; e do exame físico com dor à palpação de 11 dos 18 *tender points*.
- II. A fibromialgia comumente não leva à incapacidade laborativa. Nos casos em que a dor ou a fadiga não respondem ao tratamento adequado, atingindo níveis significativos, o afastamento do trabalho por curto período de tempo pode ser considerado.
- III. Presente prevalentemente em ambientes laborais, há forte evidência científica na literatura de que a fibromialgia possa ser causada pelo trabalho.
- IV. Há associação com transtornos do humor, como depressão e/ou ansiedade na maioria dos indivíduos com diagnóstico de fibromialgia.

Estão corretas as afirmativas:

- a) I, II e III apenas
- b) I, II e IV apenas
- c) II, III e IV apenas
- d) I, III e IV apenas

40) As fraturas e traumatismos em geral acometem com frequência pacientes jovens em idade produtiva, afetando a capacidade laboral em graus variados. Sobre alguns fatores que podem influenciar no grau e no tempo de recuperação, assinale a alternativa incorreta.

- a) A pseudoartrose é uma parada do processo natural de consolidação, situação em que a fratura não mostra evidências radiográficas de progressão do processo de consolidação, indicadas por esclerose nas extremidades da fratura, calo ausente ou hipertrófico e persistência ou alargamento do traço de fratura. É uma complicação que pode ocorrer em fraturas tratadas tanto de maneira cruenta como de maneira incruenta
- b) A osteomielite é uma possível complicação do tratamento cirúrgico de fraturas. A osteomielite crônica é persistente, severa e em algumas vezes incapacitante. É uma condição recorrente pela dificuldade de tratamento definitivo
- c) Algoneurodistrofia, Distrofia Simpático-Reflexa e Síndrome de Dor Complexa Regional são denominações de uma série de sintomas, achados de exame físico e alterações de exames de imagem, que podem ocorrer após traumatismo em extremidades, tanto no membro superior quanto no membro inferior. Apresenta bom prognóstico, apresentando remissão completa dos sintomas em até 06 meses
- d) As fraturas articulares podem levar a quadros degenerativos precoces (artrose pós-traumática), levando a uma piora do quadro de dor e rigidez articular nos anos subsequentes ao trauma

