



PREFEITURA MUNICIPAL DE SÃO GONÇALO DO AMARANTE – RN
SECRETARIA MUNICIPAL DE ADMINISTRAÇÃO E
RECURSOS HUMANOS – SEMARH

CONCURSO PÚBLICO – EDITAL Nº 01/2019

MÉDICO PSQUIATRA

NOME DO CANDIDATO

ASSINATURA DO CANDIDATO

RG DO CANDIDATO

LEIA COM ATENÇÃO AS INSTRUÇÕES ABAIXO

INSTRUÇÕES GERAIS

- I. Nesta prova, você encontrará **07 (sete) páginas** numeradas sequencialmente, contendo **40 (quarenta) questões objetivas** correspondentes às seguintes disciplinas: **Língua Portuguesa 10 (dez) questões, Raciocínio Lógico 10 (dez) questões e Conhecimentos Específicos 20 (vinte) questões.**
- II. Verifique se seu nome e número de inscrição estão corretos na Folha de Respostas. Se houver erro, notifique o fiscal.
- III. Verifique se o Caderno de Questões se refere ao cargo para o qual você se inscreveu. Caso o cargo esteja divergente, solicite ao fiscal de sala para que tome as providências cabíveis, pois não serão aceitas reclamações posteriores nesse sentido.
- IV. Verifique se a impressão, a paginação e a numeração das questões estão corretas. Caso observe qualquer erro, notifique o fiscal.
- V. Assine e preencha a Folha de Respostas nos locais indicados, com caneta azul ou preta.
- VI. Marque a Folha de Respostas cobrindo fortemente o espaço correspondente à letra a ser assinalada, conforme o exemplo na própria Folha de Respostas.
- VII. O sistema de leitura e processamento das Folhas de Respostas não registrará a resposta em que houver falta de nitidez na marcação e/ou marcação de mais de uma alternativa.
- VIII. A Folha de Respostas não pode ser dobrada, amassada, rasurada ou manchada. Exceto sua assinatura, nada deve ser escrito ou registrado fora dos locais destinados às respostas.
- IX. Ao terminar a prova, entregue ao fiscal a Folha de Respostas e este Caderno. As observações ou marcações registradas neste Caderno não serão levadas em consideração.
- X. **Você dispõe de 03 (três) horas para fazer esta prova. Reserve os 20 (vinte) minutos finais para marcar a Folha de Respostas.**
- XI. O candidato só poderá retirar-se do setor de prova **02 (duas) horas após seu início.**
- XII. É terminantemente proibido o uso de telefone celular e demais aparelhos eletrônicos.

Boa Prova!



GABARITO DO CANDIDATO – RASCUNHO



NOME:

ASSINATURA DO CANDIDATO:

INSCRIÇÃO:

1	2	3	4	5	6	7	8	9	10	11	12	13	14	15	16	17	18	19	20
21	22	23	24	25	26	27	28	29	30	31	32	33	34	35	36	37	38	39	40

RASCUNHO

LÍNGUA PORTUGUESA

Leia o texto abaixo para responder às questões de 1 a 7.

Guerra de narrativas (adaptado)

Quando o sol parte e ficamos entretidos ao redor da fogueira ou de frente à telinha, passamos a uma dimensão em que é tênue a fronteira entre o real e o imaginário, o território dos mitos, as sutis engrenagens do nosso modelo social. Esse ritual repete-se há pelo menos 50 mil anos. E, como é da natureza do que é fundamental, histórias são simples. Todas têm começo, meio e fim; personagens e protagonistas; um cenário e um tempo. E mais: toda trama possui um narrador, alguém que escolhe que causo contar, onde o enredo começa e onde termina, o que entra e o que sai. Esse narrador nem sempre é visível, não há como apontar o autor de um mito ou do que entendemos como senso comum.

Repetimos a balela do descobrimento da América sem pensar que aqui já viviam pessoas antes da invasão europeia. Se o uso da linguagem amplifica a capacidade de colaboração, histórias determinam e influenciam o comportamento social. Se repetimos a narrativa de opressão, perpetuamos sua essência.

A habilidade narrativa determina quem tem voz. A tensão entre grupos em disputa pela narrativa é tão velha quanto a linguagem. Religiões e impérios sempre espalharam suas falas e disputaram a atenção. Identificar essas narrativas e a quem servem é o caminho para delimitar quem nos fala e inferir o que nos isola ou ajuda a colaborar.

Não existe narrador isento. Por mais cuidadoso que seja, cada um carrega seu conjunto de valores e é perpassado pelos julgamentos e assunções que vêm com a cultura do grupo. Mesmo que não tenha mensagem específica, o contador de histórias sempre parte de sua visão de mundo.

<https://vidasimples.co/conviver/querra-de-narrativas/>

1) Assinale a alternativa correta, de acordo com o texto.

- No primeiro período do texto, o autor cria, por meio do paralelismo, uma associação entre a época em que sentávamos ao redor das fogueiras para tratar daquilo que é real e a época em que sentamos em frente à televisão para viver o imaginário.
- A simplicidade das narrativas contrapõe-se àquilo que há de fundamental nas histórias, uma vez que nem sempre o narrador é fácil de ser identificado no texto.
- A influência da linguagem e das narrativas é preponderante para a libertação ou perpetuação da opressão.
- A neutralidade da narrativa só é possível quando o cuidado com os valores adotados pelo grupo do qual faz parte revelam sua própria visão de mundo.

2) De acordo com o sentido do texto, leia as afirmativas abaixo.

- O narrador do senso comum é a voz que personifica o narrador invisível, cujo interesse narrativo é desmotivado de intenções políticas e econômicas, já que assim como o narrador mítico ele não se mostra visível.
- A ideia de que a América foi descoberta pelos europeus faz parte de uma narrativa eurocêntrica que desconsidera os nativos do continente americano como sujeitos que já haviam descoberto esse espaço geográfico.
- A disputa pela narrativa pode ser considerada uma guerra ideológica, que movimenta interesses políticos há milhares de anos.

Assinale a alternativa correta.

- Apenas a afirmativa I está correta.
- Apenas a afirmativa II está correta.
- Apenas as afirmativas II e III estão corretas.
- Apenas a afirmativa III está correta.

3) Assinale a alternativa que apresenta, correta e respectivamente, os sinônimos das expressões destacadas nos trechos “Se repetimos a narrativa de opressão, perpetuamos sua essência.” e “para delimitar quem nos fala e inferir o que nos isola ou ajuda a colaborar”.

- imortalizamos / machucar.
- criamos / aprendemos.
- eternizamos / deduzir.
- calculamos / depreender.

4) De acordo com a morfologia, assinale a alternativa que indica, correta e respectivamente, a classe de palavras dos termos destacados no trecho a seguir “A habilidade narrativa determina quem tem voz”.

- substantivo / pronome pessoal / substantivo.
- adjetivo / pronome relativo / substantivo.
- substantivo / pronome interrogativo / adjetivo.
- adjetivo / pronome pessoal / adjetivo.

5) Em relação à sintaxe da Língua Portuguesa avalie as afirmativas abaixo atribuindo-lhes valores de Verdadeiro (V) ou Falso (F).

- No trecho “Quando o sol parte e ficamos entretidos ao redor da fogueira”, a oração destacada é classificada como Subordinada Adverbial Temporal.
- No trecho “Se o uso da linguagem amplifica a capacidade de colaboração, histórias determinam e influenciam o comportamento social.”, a oração destacada é classificada como Subordinada Adverbial Concessiva.
- No trecho “A habilidade narrativa determina quem tem voz.”, a oração destacada é classificada como Subordinada Adjetiva Restritiva.
- No trecho “Não existe narrador isento”, o verbo é impessoal, por isso nessa oração não há sujeito.
- No trecho “Mesmo que não tenha mensagem específica, o contador de histórias sempre parte de sua visão de mundo.”, a oração destacada é classificada como Subordinada Adverbial Condicional.

Assinale a alternativa correta.

- V, F, F, F, F.
- V, V, F, F, V.
- F, V, V, V, F.
- V, F, V, V, F.

6) Em relação às regras de acentuação gráfica da Língua Portuguesa, assinale a alternativa **incorreta**.

- a) O verbo “ter” é acentuado, no trecho “Todas têm começo”, para concordar com o sujeito que está na terceira pessoa do plural.
- b) No trecho “**alguém** que escolhe que causo contar”, a palavra acentuada em destaque recebe acento, pois é uma palavra oxítona terminada em “em”.
- c) A palavra “já” é acentuada no trecho “aqui já viviam”, pois é um monossílabo tônico terminado em “a”.
- d) No trecho “Religiões e impérios sempre espalharam”, a palavra “impérios” é acentuada pois é uma paroxítona terminada em “os”.

7) De acordo com as regras de Concordância Verbal e Nominal, assinale a alternativa que reescreve corretamente o trecho extraído do texto.

“Não existe narrador isento. Por mais cuidadoso que seja, cada um carrega seu conjunto de valores e é perpassado pelos julgamentos e assunções que vêm com a cultura do grupo.”

- a) Não há narradores isentos. Por mais cuidadosos que seja, cada um carrega seu conjunto de valores e são perpassados pelos julgamentos e assunções que vêm com as culturas do grupo.
- b) Não existe narradores isentos. Por mais cuidadosos que seja, cada um carrega seu conjunto de valores e são perpassados pelos julgamentos e assunções que vêm com as culturas do grupo.
- c) Não existem narradores isentos. Por mais cuidadosos que sejam, cada um carrega seu conjunto de valores e são perpassados pelo julgamento que vem com as culturas do grupo.
- d) Não existe narrador isento. Por mais cuidadoso que seja, cada um carrega seu conjunto de valores e é perpassado pelo julgamento que vêm com a cultura do grupo.

8) Assinale a alternativa que apresenta o uso correto do acento grave, indicador de crase.

- a) Todos somos sujeitos à chuvas e trovoadas.
- b) Eu posso te visitar após às 15h.
- c) Devemos à essa professora o nosso sucesso.
- d) Falei à senhora a mais pura verdade.

9) Em relação às regras de regência verbal e nominal, assinale a alternativa **incorreta**.


- a) A família toda assistiu às partidas na TV.
- b) Os síndicos julgaram o caso do condômino irresponsável ontem.
- c) Aspiravam à poluição todos os dias na cidade.
- d) Os professores deram razão aos alunos.

10) Em relação às regras de colocação pronominal, segundo a Gramática Normativa da Língua Portuguesa, assinale a alternativa **correta**.





- a) Elas tinham avisado-me sobre as faltas excessivas.
- b) Se apresentaram muito bem no recital as suas filhas.
- c) Hoje nos preocupamos muito mais com as expressões que usamos.
- d) Os alunos que mantiveram-se em silêncio durante a aula aprenderam.

RACIOCÍNIO LÓGICO

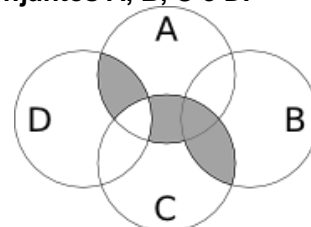
11) Uma pessoa pretende assentar uma fileira ladrilhos idênticos, mas deseja colocá-los de acordo com um padrão fixo de rotações sequenciais para variar o padrão básico/imagem formada com a simples colocação deles na mesma direção. Abaixo, a esquerda, está a peça do ladrilho e, a direita, as três primeiras peças assentadas.



Assinale a alternativa que indica a imagem do quarto ladrilhos colocado à direita que corresponde ao padrão que estava sendo adotado nas três peças colocadas anteriormente.

- a) 
- b) 
- c) 
- d) 

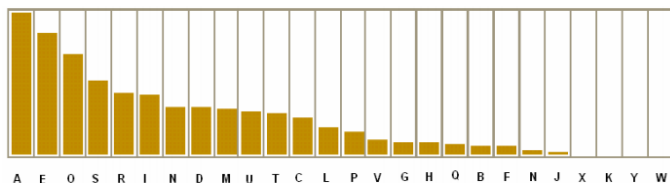
12) A figura abaixo representa o diagrama de Venn para os conjuntos A, B, C e D.



Assinale a alternativa que representa a região acinzentada.

- a) $(A \cap C) \cup (A \cap D) \cup (B \cap C) - (C \cap D)$
- b) $(A \cup C) \cap (A \cup D) \cap (B \cap C) - (C \cap D)$
- c) $(A \cap B \cap C \cap D) - (C \cup D)$
- d) $(B \cap C) \cup (A \cap C \cap D) - (C \cup D)$

13) Um dos mecanismos para quebrar criptografias simples de substituição de caracteres é verificar a frequência das letras e a coerência de palavras em determinado idioma. O diagrama abaixo apresenta a frequência aproximada das letras nas palavras da língua portuguesa.



Com base neste diagrama e nas palavras do vocabulário da língua portuguesa é possível decifrar a frase criptografada.

Z NVMGV JFV HV ZYIV Z FNZ MLEZ RWVRZ
QZNZRH ELOGZIZ ZL HVF GZNZMSL
LIRTRMZO

A frequência de cada caracter dessa frase está indicada na seguinte tabela.

letra	frequência	letra	frequência	letra	frequência
Z	14	F	3	J	1
V	7	G	3	Q	1
L	5	H	3	S	1
R	5	I	3	T	1
M	4	E	2	W	1
N	4	O	2	Y	1

Com base nestas informações e sabendo que todas as palavras são da Língua Portuguesa, os espaços não foram substituídos e que acentos e maiúsculas foram ignorados, analise as afirmativas abaixo:

- I. A letra “Z” no texto criptografado é a mais frequente e corresponde a letra “A” na frase original, compatível com a frequência na Língua Portuguesa.
- II. A letra “V” no texto criptografado corresponde a letra “E” texto original.
- III. A palavra criptografada “ZYIV” correspondem a palavras “AZUL”.

Estão corretas as afirmativas:

- a) I apenas
- b) I e II apenas
- c) I e III apenas
- d) I, II e III

14) O trecho abaixo é do soneto XLIV, de Pablo Neruda, retirado de uma tradução para o Português popular na rede de computadores.

(...)
Amo-te para começar a amar-te,
para recomençar o infinito
e para não deixar de amar-te nunca:
por isso não te amo ainda.
(...)

Neste trecho vemos um conflito que inspira o poeta, que pode ser trocado pela proposição composta: “Se começa, então termina”. A partir dela considere as afirmações derivadas abaixo.

- I. Se não termina, então não começa.
- II. Não começa ou termina.
- III. Começa e não termina.

Com respeito à lógica proposicional assinale a alternativa que caracteriza cada afirmativa com respeito à proposição original

- a) I - negação; II - negação; III - equivalência
- b) I - equivalência; II - equivalência; III - negação
- c) I - negação; II - equivalência; III - negação
- d) I - negação; II - negação; III - negação

15) O estudo formal de proposições em termos da lógica proposicional é realizado em termos de tabelas-verdade.

“As tabelas-verdade derivam do trabalho de Gottlob Frege, Charles Peirce e outros nomes da década de 1880, e tomaram a forma atual em 1922 através dos trabalhos de Emil Post e Ludwig Wittgenstein. A publicação do Tractatus Logico-Philosophicus, de Wittgenstein, utilizava as mesmas para classificar funções veritativas em uma série. A vasta influência de seu trabalho levou, então, à difusão do uso de tabelas-verdade.” Fonte: wikipedia, “Tabela-verdade”.

Em uma tabela-verdade cada proposição simples individual é organizada em uma coluna e recebe valor verdadeiro (V) ou falso (F) a cada linha. Em uma última coluna se elenca o resultado lógico vindo da regra lógica definida pelos conectivos, para cada uma das linhas. Considere uma proposição composta por proposições simples:

“Se João mora aqui, então ele é rico, e, se ele é rico, então tem mais de um carro, e, se ele tem mais de um carro, então ele tem carros com placas diferentes, e não depende da regra de rodízios de carro do município.”

Assinale a alternativa que indica o número de linhas de uma tabela-verdade que contenha a avaliação desta proposição composta.

- a) 8
- b) 16
- c) 32
- d) 64

16) No mundo contemporâneo com as mídias sociais notícias falsas e falácias surgidas em debates se tornaram muito presentes. Particularmente, a falácia nomeada por “Argumentum ad hominem” que é estruturada “quando alguém procura negar uma proposição com uma crítica ao seu autor e não ao seu conteúdo”.

Considere as proposições abaixo adaptadas de discursos encontrados na rede de computadores.

- I. “Nosso País tem um déficit educacional reconhecido. Pessoas com aprendizado formal deficitário acreditam muito naquilo que recebem pelo aplicativo. Então há preocupante deficiência na checagem de notícias.”
- II. “O filósofo liberal X disse discordar desta opinião. Este filósofo já deu entrevista à revista comunista, então sua opinião não é confiável.”
- III. “Quem nunca fumou não pode tentar interferir nas discussões e políticas públicas sobre tabagismo”.

Assinale a alternativa em que são identificadas falácias de *Argumentum ad hominem*.

- a) I, II e III
- b) I e II apenas
- c) I e III apenas
- d) II e III apenas

17) O número $1/3$ (um terço) em representação decimal assume a forma: $0,33333\dots$ com uma infinidade de casas decimais seguintes (repetitivas) com o algarismo 3. Considere o seguinte procedimento para descobrir o par de números que forma uma dízima periódica baseado em uma sequência de operações aritméticas rudimentares e no encadeamento lógico sequencial:

$$\begin{aligned} N &= 0,33333\dots \Rightarrow \\ 10N &= 3,33333 \Rightarrow \\ 10N - N &= 3 \Rightarrow \\ 9N &= 3 \Rightarrow \\ N &= 3/9 \Rightarrow \\ N &= 1/3 \end{aligned}$$

Baseado neste procedimento, analise as afirmativas abaixo e dê valores Verdadeiro (V) ou Falso (F).

- () $0,999999\dots = 1$
- () $0,1 + 0,01 + 0,001 + \dots = 1/9$
- () Um número que não exhibe repetição como: $0,123456789101112131415\dots$ (onde se encadeiam os inteiros crescentes ao longo de suas casas decimais) pode ter a fração determinada da mesma maneira.

Assinale a alternativa que avalia corretamente as afirmações acima em termos da mesma lógica apresentada no procedimento.

- a) F, F, F
- b) F, V, V
- c) V, V, F
- d) F, V, F

18) Uma pessoa procura por um argumento dedutivo a partir de duas premissas listadas abaixo.

Premissa 1: Toda quantidade física pode ser medida por algum dispositivo.

Premissa 2: Não se consegue medir o amor com um dispositivo.

A pessoa estabelece, então, duas proposições na forma de conclusões possíveis.

Conclusão 1: O amor não é uma quantidade física.
Conclusão 2: Nem toda quantidade física pode ser medida por algum dispositivo.

Partindo do princípio da lógica dedutiva, assinale a alternativa correta.

- a) ambas conclusões são deduções válidas
- b) apenas a conclusão 1 é uma dedução válida
- c) apenas a conclusão 2 é uma dedução válida
- d) nenhuma das conclusões é uma dedução válida

19) Em uma rede social dois amigos, Fernando e Roberto, analisam sua rede de amigos. Fernando tem 2120 amigos, enquanto Roberto tem 580 amigos. A rede completa de amigos de um, de outro ou ambos têm 2550 pessoas. Considere dois cenários:

C1: dado que a pessoa é amiga de Roberto, qual a chance dela ser amiga também de Fernando?

C2: dado que a pessoa é amiga de Fernando, qual a chance dela ser amiga também de Roberto?

Assinale a alternativa que melhor aproxima o valor da resposta de cada pergunta elencada nos cenários acima.

- a) $C1 = 26\%$ e $C2 = 7\%$
- b) $C1 = 6\%$ e $C2 = 6\%$
- c) $C1 = 23\%$ e $C2 = 83\%$
- d) $C1 = 9\%$ e $C2 = 9\%$

20) Sejam duas proposições lógicas simples: A e B, e a representação simbólica para a negação e os conectivos lógicos abaixo listadas:

$\sim A$	negação de A
$A \wedge B$	A e B
$A \vee B$	A ou B
$A \rightarrow B$	se A, então B
$A \leftrightarrow B$	A se, e somente se, B

Considere as proposições enumeradas:

- I. $A \wedge \sim A$
- II. $(A \wedge B) \vee \sim (A \wedge B)$
- III. $(A \rightarrow B) \leftrightarrow (\sim B \rightarrow \sim A)$

Uma tautologia é uma proposição lógica que pode apenas assumir valores-verdade verdadeiros (V), uma antinomia é a negação de uma tautologia, e, portanto, é uma proposição composta em que resulta apenas em valores lógicos falsos (F). Assinale a alternativa que corretamente classifica as proposições completas enumeradas nesses termos.

- a) I - Antinomia; II - Tautologia; III - Tautologia
- b) I - Tautologia; II - Antinomia; III - Tautologia
- c) I - Tautologia; II - Tautologia; III - Antinomia
- d) I - Tautologia; II - Tautologia; III - Tautologia

CONHECIMENTOS ESPECÍFICOS

- 21) Paciente do sexo masculino com 8 anos comparece em atendimento ambulatorial para investigação diagnóstica. Durante a avaliação você observa o comportamento de andar na ponta dos pés e se balançar, o paciente refere que assume tais atitudes quando passa por períodos de agitação ou estímulos desconfortáveis intensos. Em relação à semiologia do sinal observado, assinale a alternativa correta.
- Alucinação
 - Ecolalia
 - Estereotipia
 - Delírio
- 22) Paciente do sexo masculino na segunda década de vida é trazido ao consultório pelos pais com queixa de que não consegue confiar nas pessoas. Durante a entrevista você o percebe olhando a sua volta todo o tempo, com a preocupação de algo possa estar perseguindo, embora lhe verbalize que entende não ver sentido nas preocupações, por não haver nenhuma evidência de que isso vá acontecer. Refere que se sente desconfortável diante de muitas pessoas, pois sente como se todos estivessem falando de si, embora também ache que isso não faça muito sentido. Também diz que sente como se todos o quisessem passar para trás, e estivessem tentando o prejudicar. Seu pensamento é linear e organizado, nega alterações de sono, humor, energia ou apetite. Apesar disso, os pais percebem que seu estilo incomum o prejudica em atividades como conseguir uma vaga para seu estágio final da faculdade. Em relação ao caso clínico, assinale a alternativa correta quanto ao diagnóstico.
- Transtorno de personalidade paranoide
 - Esquizofrenia
 - Transtorno da personalidade esquizotípica
 - Transtorno da personalidade histriônica
- 23) Uso nocivo de substâncias é uma condição clínica com grande impacto no funcionamento do indivíduo gerando prejuízos de diversas ordens. Em relação a isso, assinale alternativa incorreta quanto aos sintomas de abstinência associados a drogas psicoestimulantes.
- Depressão
 - Fadiga
 - Insônia
 - Agitação motora
- 24) Os sintomas psicóticos podem ter origens diversas, de modo que as causas sejam puramente orgânicas ou não. Assinale a alternativa correta quanto à causa orgânica de psicose.
- Transtorno depressivo maior
 - Transtorno dissociativo
 - Epilepsia de lobo temporal
 - Síndrome do pânico
- 25) O sistema de Classificação Internacional de Doenças, 10ª edição (CID-10), apresenta uma organização diagnóstica muito parecida com uma árvore de decisões, de modo que assim algumas opções diagnósticas podem ocorrer na presença de outras. Em relação à diagnósticos que podem ocorrer simultaneamente, assinale a alternativa correta.
- Esquizofrenia e transtorno esquizoafetivo
 - Transtorno do espectro autista e transtorno de déficit de atenção/hiperatividade
 - Transtorno afetivo bipolar e episódio depressivo maior
 - Episódio depressivo menor e transtorno de estresse pós-traumático
- 26) Um jovem de 26 anos comparece ao consultório referindo que têm apresentado há um período maior do que um mês períodos recorrentes de uma necessidade irresistível de dormir, acompanhados por momentos de calepsia. Apresenta-se com alguns prejuízos sociais, pois perde compromissos ou não consegue acompanhar as aulas da faculdade por não conseguir manter-se alerta. Em relação aos diagnósticos possíveis para esse caso, assinale a alternativa incorreta quanto aos diagnósticos diferenciais do quadro.
- Transtorno de ansiedade generalizada
 - Narcolepsia
 - Transtorno depressivo maior
 - Transtorno associado ao uso de substâncias
- 27) Em relação ao quadro de demência, assinale a alternativa correta quanto ao diagnóstico que se caracteriza por desinibição, inadequação de comportamentos sociais, sem infantilização ou regressão de comportamentos, sem comprometimento de memória significativos e podendo apresentar-se com momentos de afasia.
- Doença de Lewy
 - Angiopatia amiloide
 - Doença de Alzheimer
 - Demência frontotemporal
- 28) Em relação à escolha terapêutica para primeiro surto psicótico em um quadro de Esquizofrenia no paciente jovem, assinale a alternativa correta quanto a conduta.
- Iniciar clozapina em esquema de monoterapia
 - Iniciar risperidona em monoterapia
 - Iniciar quetiapina associada à benzodiazepínico de meia vida curta
 - Iniciar olanzapina em associação com clorpromazina
- 29) Para o diagnóstico de Transtorno de Déficit de Atenção/Hiperatividade em relação ao tempo mínimo de sintomas necessário para atender ao critério diagnóstico dessa condição, assinale a alternativa correta.
- Um mês
 - Dois semanas
 - Um ano
 - Seis meses

30) Em relação ao transtorno de personalidade antissocial, assinale a alternativa correta quanto à sua caracterização.

- a) Incapacidade de se enquadrar a normas sociais e ausência de remorso
- b) Esforços desesperados para evitar abandono real ou imaginado
- c) Sentimento grandioso de autoimportância
- d) Crença de perguição e desconfiança de todos a sua volta

31) A definição correta de conceitos utilizados nas descrições de transtornos psiquiátricos é necessária para adequado raciocínio e compreensão da desordem avaliada, especialmente pelo grau de comprometimento e sofrimento a que o indivíduo fica submetido. Em relação a isso leia as afirmativas a seguir contendo definições e termos que nomeiam essas definições.

- I. Comportamento repetido que a pessoa se sente impelida a realizar - Obsessão
- II. Expressão repetida de questões psicológicas por meio de sintomas, preocupações ou queixas de ordem física - Somatização
- III. Temor repetido, irracional e duradouro de um objeto ou situação - Alucinação
- IV. Pensamento ou imagem repetida que provoca ansiedade - Compulsão

Assinale a alternativa que contenha a sequência correta de associação entre a definição e o conceito.

- a) Apenas a afirmativa I está correta
- b) Apenas as afirmativas II e III estão corretas
- c) Apenas as afirmativas I e IV estão corretas
- d) Apenas a afirmativa II está correta

32) Paciente de 57 anos, do sexo feminino, obesa, comparece referindo que há cerca de quatro semanas tem percebido perda de energia com humor deprimido e irritado, lentificação do pensamento, aumento de apetite e ganho de peso. Nega sintomas psicóticos ou mudanças de comportamento a não ser hipersonia e isolamento social. Assinale a alternativa que contenha um exame complementar imprescindível para diagnóstico diferencial da condição relatada.

- a) Ressonância nuclear magnética
- b) Eletrocardiograma
- c) Contagem de plaquetas
- d) Dosagem de TSH

33) A Terapia Cognitivo Comportamental (TCC) é uma ferramenta clínica de grande auxílio no tratamento de condições diversas em saúde mental. Suas técnicas beneficiam não só o profissional atuante em psicoterapia, mas todo profissional que atue no cuidado de saúde mental, possibilitando recursos de intervenção simples e aplicáveis. Uma das técnicas utilizadas pela TCC é a utilização tarefas que possibilitem a execução de comportamentos novos ou mudanças de padrão de crenças. Assinale alternativa que apresenta o nome dessa técnica.

- a) Ativação comportamental
- b) Flecha descendente
- c) *Role play*
- d) Aceitação e compromisso

34) Em relação à psicofarmacologia utilizada em pacientes com dificuldades de controle de medo e hipervigilância o entendimento das estruturas associadas à essas funções norteia o raciocínio de escolha de fármacos que sejam capazes de atuar na redução de sintomas. Assinale alternativa que apresenta a associação correta de estruturas responsáveis pelo controle desses sintomas.

- a) Cerebelo
- b) Córtex pré-motor
- c) Área tegumentar ventral
- d) Amígdala

35) As concepções modernas dos transtornos de personalidade tendem a agrupar as alterações da personalidade em conjuntos de sintomas denominados clusters. Cada cluster possui um traço central que determina a característica dos sintomas por ele abrigado e conseqüentemente os transtornos. Assinale a alternativa correta que contenha um transtorno do cluster A.

- a) Transtorno de personalidade borderline
- b) Transtorno de personalidade antissocial
- c) Transtorno de personalidade paranoide
- d) Transtorno de personalidade dependente

36) Paciente de 24 anos está em tratamento para transtorno afetivo bipolar, tipo I, já em estabilização de seu quadro, que abriu com um único episódio maníaco, aos 20 anos com hospitalização. Depois disso, mantém-se sem nenhuma outra mudança de humor ou funcionamento. Em relação ao caso, assinale a alternativa correta quanto ao momento terapêutico desse paciente.

- a) Paciente encontra-se na fase maníaca, necessitando de uso de ácido valproico associado à quetiapina
- b) Uso do lítio é responsável pela redução da mortalidade geral, podendo ser utilizado como opção segura de monoterapia em fases de manutenção
- c) Deve-se sempre evitar associar antipsicóticos que potencializem os estabilizadores de humor
- d) A utilização de valproato não apresenta benefício para prevenção de recorrência de episódios maníacos

- 37) Paciente de 19 anos, sexo feminino, comparece referindo que tem apresentado preocupações excessivas em relação ao futuro, de modo que não consiga mudar seu foco de atenção, com vários pesnamentos agitados ao mesmo tempo. Sente que algo ruim vai acontecer e por isso não consegue se desligar ou relaxar. Refere ainda que não consegue iniciar o sono e nega alterações de humor ou delírios. Assinale a alternativa correta quanto à opção terapêutica adequada para monoterapia de primeira linha nessa condição.
- Imipramina
 - Sertralina
 - Pregabalina
 - Amitriptilina
- 38) Em relação aos fatores de risco associados ao transtorno depressivo maior, assinale alternativa incorreta quanto a fator de risco para recorrência do episódio depressivo.
- Início precoce
 - Presença de comorbidades psiquiátricas
 - Várias tentativas farmacológicas para remissão
 - Presença de episódio prévio
- 39) Em relação ao controle de complicadores decorrentes do uso de psicofármacos, assinale a alternativa correta que contenha a associação entre um psicofármaco e sua complicação.
- Sertralina – Plaquetopenia
 - Nortriptilina – Acatisia
 - Ácido valproico - Plaquetopenia
 - Quetiapina – Anemia
- 40) Paciente de 21 anos do sexo masculino deu entrada no pronto atendimento acompanhado pelo pai, referindo que vinha realizando seguimento de quadro depressivo há seis meses, em uso de fluoxetina 40mg/dia, com boa resposta e controle de sintomas. Acompanhante refere que há cerca de dois dias iniciou com agitação psicomotora intensa, com aumento do fluxo de palavras e ideias, porém de modo linear. Percebe que o filho não dormiu nos últimos dois dias, não tendo reduzido nenhuma de suas atividades e assumindo muitos trabalhos que não dá conta de realizar em sua empresa. Percebe que além disso, o filho começou a manifestar uma euforia muito intensa e achar que tinha habilidades superiores a de outras pessoas, tão superiores que poderia mesmo voar. Nega quadros semelhantes na família, nega episódios anteriores semelhantes. Em relação ao quadro descrito assinale a alternativa correta quanto ao tratamento agudo da condição.
- Trocar fluoxetina para sertralina
 - Iniciar valproato e suspender fluxetina
 - Iniciar carbonato de lítio e manter fluoxetina
 - Iniciar mirtazapina

