



PREFEITURA MUNICIPAL DE SÃO GONÇALO DO AMARANTE – RN  
SECRETARIA MUNICIPAL DE ADMINISTRAÇÃO E  
RECURSOS HUMANOS – SEMARH

CONCURSO PÚBLICO – EDITAL Nº 01/2019

**MÉDICO UROLOGISTA**

NOME DO CANDIDATO

ASSINATURA DO CANDIDATO

RG DO CANDIDATO

**LEIA COM ATENÇÃO AS INSTRUÇÕES ABAIXO**

**INSTRUÇÕES GERAIS**

- I. Nesta prova, você encontrará **07 (sete) páginas** numeradas sequencialmente, contendo **40 (quarenta) questões objetivas** correspondentes às seguintes disciplinas: **Língua Portuguesa 10 (dez) questões, Raciocínio Lógico 10 (dez) questões e Conhecimentos Específicos 20 (vinte) questões.**
- II. Verifique se seu nome e número de inscrição estão corretos na Folha de Respostas. Se houver erro, notifique o fiscal.
- III. Verifique se o Caderno de Questões se refere ao cargo para o qual você se inscreveu. Caso o cargo esteja divergente, solicite ao fiscal de sala para que tome as providências cabíveis, pois não serão aceitas reclamações posteriores nesse sentido.
- IV. Verifique se a impressão, a paginação e a numeração das questões estão corretas. Caso observe qualquer erro, notifique o fiscal.
- V. Assine e preencha a Folha de Respostas nos locais indicados, com caneta azul ou preta.
- VI. Marque a Folha de Respostas cobrindo fortemente o espaço correspondente à letra a ser assinalada, conforme o exemplo na própria Folha de Respostas.
- VII. O sistema de leitura e processamento das Folhas de Respostas não registrará a resposta em que houver falta de nitidez na marcação e/ou marcação de mais de uma alternativa.
- VIII. A Folha de Respostas não pode ser dobrada, amassada, rasurada ou manchada. Exceto sua assinatura, nada deve ser escrito ou registrado fora dos locais destinados às respostas.
- IX. Ao terminar a prova, entregue ao fiscal a Folha de Respostas e este Caderno. As observações ou marcações registradas neste Caderno não serão levadas em consideração.
- X. **Você dispõe de 03 (três) horas para fazer esta prova. Reserve os 20 (vinte) minutos finais para marcar a Folha de Respostas.**
- XI. O candidato só poderá retirar-se do setor de prova **02 (duas) horas após seu início.**
- XII. É terminantemente proibido o uso de telefone celular e demais aparelhos eletrônicos.

**Boa Prova!**



**GABARITO DO CANDIDATO – RASCUNHO**



NOME:

ASSINATURA DO CANDIDATO:

INSCRIÇÃO:

1	2	3	4	5	6	7	8	9	10	11	12	13	14	15	16	17	18	19	20
21	22	23	24	25	26	27	28	29	30	31	32	33	34	35	36	37	38	39	40

# RASCUNHO

## LÍNGUA PORTUGUESA

Leia o texto abaixo para responder às questões de 1 a 7.

### Guerra de narrativas (adaptado)

Quando o sol parte e ficamos entretidos ao redor da fogueira ou de frente à telinha, passamos a uma dimensão em que é tênue a fronteira entre o real e o imaginário, o território dos mitos, as sutis engrenagens do nosso modelo social. Esse ritual repete-se há pelo menos 50 mil anos. E, como é da natureza do que é fundamental, histórias são simples. Todas têm começo, meio e fim; personagens e protagonistas; um cenário e um tempo. E mais: toda trama possui um narrador, alguém que escolhe que causo contar, onde o enredo começa e onde termina, o que entra e o que sai. Esse narrador nem sempre é visível, não há como apontar o autor de um mito ou do que entendemos como senso comum.

Repetimos a balela do descobrimento da América sem pensar que aqui já viviam pessoas antes da invasão europeia. Se o uso da linguagem amplifica a capacidade de colaboração, histórias determinam e influenciam o comportamento social. Se repetimos a narrativa de opressão, perpetuamos sua essência.

A habilidade narrativa determina quem tem voz. A tensão entre grupos em disputa pela narrativa é tão velha quanto a linguagem. Religiões e impérios sempre espalharam suas falas e disputaram a atenção. Identificar essas narrativas e a quem servem é o caminho para delimitar quem nos fala e inferir o que nos isola ou ajuda a colaborar.

Não existe narrador isento. Por mais cuidadoso que seja, cada um carrega seu conjunto de valores e é perpassado pelos julgamentos e assunções que vêm com a cultura do grupo. Mesmo que não tenha mensagem específica, o contador de histórias sempre parte de sua visão de mundo.

<https://vidasimples.co/conviver/querra-de-narrativas/>

#### 1) Assinale a alternativa correta, de acordo com o texto.

- No primeiro período do texto, o autor cria, por meio do paralelismo, uma associação entre a época em que sentávamos ao redor das fogueiras para tratar daquilo que é real e a época em que sentamos em frente à televisão para viver o imaginário.
- A simplicidade das narrativas contrapõe-se àquilo que há de fundamental nas histórias, uma vez que nem sempre o narrador é fácil de ser identificado no texto.
- A influência da linguagem e das narrativas é preponderante para a libertação ou perpetuação da opressão.
- A neutralidade da narrativa só é possível quando o cuidado com os valores adotados pelo grupo do qual faz parte revelam sua própria visão de mundo.

#### 2) De acordo com o sentido do texto, leia as afirmativas abaixo.

- O narrador do senso comum é a voz que personifica o narrador invisível, cujo interesse narrativo é desmotivado de intenções políticas e econômicas, já que assim como o narrador mítico ele não se mostra visível.
- A ideia de que a América foi descoberta pelos europeus faz parte de uma narrativa eurocêntrica que desconsidera os nativos do continente americano como sujeitos que já haviam descoberto esse espaço geográfico.
- A disputa pela narrativa pode ser considerada uma guerra ideológica, que movimenta interesses políticos há milhares de anos.

#### Assinale a alternativa correta.

- Apenas a afirmativa I está correta.
- Apenas a afirmativa II está correta.
- Apenas as afirmativas II e III estão corretas.
- Apenas a afirmativa III está correta.

#### 3) Assinale a alternativa que apresenta, correta e respectivamente, os sinônimos das expressões destacadas nos trechos “Se repetimos a narrativa de opressão, perpetuamos sua essência.” e “para delimitar quem nos fala e inferir o que nos isola ou ajuda a colaborar”.

- imortalizamos / machucar.
- criamos / aprendemos.
- eternizamos / deduzir.
- calculamos / depreender.

#### 4) De acordo com a morfologia, assinale a alternativa que indica, correta e respectivamente, a classe de palavras dos termos destacados no trecho a seguir “A habilidade narrativa determina quem tem voz”.

- substantivo / pronome pessoal / substantivo.
- adjetivo / pronome relativo / substantivo.
- substantivo / pronome interrogativo / adjetivo.
- adjetivo / pronome pessoal / adjetivo.

#### 5) Em relação à sintaxe da Língua Portuguesa avalie as afirmativas abaixo atribuindo-lhes valores de Verdadeiro (V) ou Falso (F).

- No trecho “Quando o sol parte e ficamos entretidos ao redor da fogueira”, a oração destacada é classificada como Subordinada Adverbial Temporal.
- No trecho “Se o uso da linguagem amplifica a capacidade de colaboração, histórias determinam e influenciam o comportamento social.”, a oração destacada é classificada como Subordinada Adverbial Concessiva.
- No trecho “A habilidade narrativa determina quem tem voz.”, a oração destacada é classificada como Subordinada Adjetiva Restritiva.
- No trecho “Não existe narrador isento”, o verbo é impessoal, por isso nessa oração não há sujeito.
- No trecho “Mesmo que não tenha mensagem específica, o contador de histórias sempre parte de sua visão de mundo.”, a oração destacada é classificada como Subordinada Adverbial Condicional.

#### Assinale a alternativa correta.

- V, F, F, F, F.
- V, V, F, F, V.
- F, V, V, V, F.
- V, F, V, V, F.

6) Em relação às regras de acentuação gráfica da Língua Portuguesa, assinale a alternativa incorreta.

- O verbo “ter” é acentuado, no trecho “Todas têm começo”, para concordar com o sujeito que está na terceira pessoa do plural.
- No trecho “alguém que escolhe que causo contar”, a palavra acentuada em destaque recebe acento, pois é uma palavra oxítona terminada em “em”.
- A palavra “já” é acentuada no trecho “aqui já viviam”, pois é um monossílabo tônico terminado em “a”.
- No trecho “Religiões e impérios sempre espalharam”, a palavra “impérios” é acentuada pois é uma paroxítona terminada em “os”.

7) De acordo com as regras de Concordância Verbal e Nominal, assinale a alternativa que reescreve corretamente o trecho extraído do texto.

“Não existe narrador isento. Por mais cuidadoso que seja, cada um carrega seu conjunto de valores e é perpassado pelos julgamentos e assunções que vêm com a cultura do grupo.”

- Não há narradores isentos. Por mais cuidadosos que seja, cada um carrega seu conjunto de valores e são perpassados pelos julgamentos e assunções que vêm com as culturas do grupo.
- Não existe narradores isentos. Por mais cuidadosos que seja, cada um carrega seu conjunto de valores e são perpassados pelos julgamentos e assunções que vêm com as culturas do grupo.
- Não existem narradores isentos. Por mais cuidadosos que sejam, cada um carrega seu conjunto de valores e são perpassados pelo julgamento que vem com as culturas do grupo.
- Não existe narrador isento. Por mais cuidadoso que seja, cada um carrega seu conjunto de valores e é perpassado pelo julgamento que vêm com a cultura do grupo.

8) Assinale a alternativa que apresenta o uso correto do acento grave, indicador de crase.

- Todos somos sujeitos à chuvas e trovoadas.
- Eu posso te visitar após às 15h.
- Devemos à essa professora o nosso sucesso.
- Falei à senhora a mais pura verdade.

9) Em relação às regras de regência verbal e nominal, assinale a alternativa incorreta.


- A família toda assistiu às partidas na TV.
- Os síndicos julgaram o caso do condômino irresponsável ontem.
- Aspiravam à poluição todos os dias na cidade.
- Os professores deram razão aos alunos.

10) Em relação às regras de colocação pronominal, segundo a Gramática Normativa da Língua Portuguesa, assinale a alternativa correta.





- Elas tinham avisado-me sobre as faltas excessivas.
- Se apresentaram muito bem no recital as suas filhas.
- Hoje nos preocupamos muito mais com as expressões que usamos.
- Os alunos que mantiveram-se em silêncio durante a aula aprenderam.

RACIOCÍNIO LÓGICO

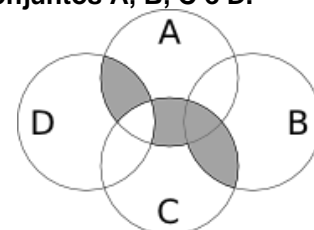
- 11) Uma pessoa pretende assentar uma fileira ladrilhos idênticos, mas deseja colocá-los de acordo com um padrão fixo de rotações sequenciais para variar o padrão básico/imagem formada com a simples colocação deles na mesma direção. Abaixo, a esquerda, está a peça do ladrilho e, a direita, as três primeiras peças assentadas.



Assinale a alternativa que indica a imagem do quarto ladrilhos colocado à direita que corresponde ao padrão que estava sendo adotado nas três peças colocadas anteriormente.

- 
- 
- 
- 

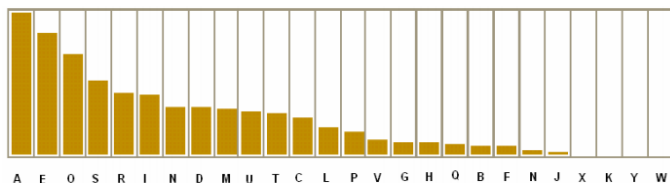
- 12) A figura abaixo representa o diagrama de Venn para os conjuntos A, B, C e D.



Assinale a alternativa que representa a região acinzentada.

- $(A \cap C) \cup (A \cap D) \cup (B \cap C) - (C \cap D)$
- $(A \cup C) \cap (A \cup D) \cap (B \cap C) - (C \cap D)$
- $(A \cap B \cap C \cap D) - (C \cup D)$
- $(B \cap C) \cup (A \cap C \cap D) - (C \cup D)$

13) Um dos mecanismos para quebrar criptografias simples de substituição de caracteres é verificar a frequência das letras e a coerência de palavras em determinado idioma. O diagrama abaixo apresenta a frequência aproximada das letras nas palavras da língua portuguesa.



Com base neste diagrama e nas palavras do vocabulário da língua portuguesa é possível decifrar a frase criptografada.

Z NVMGV JFV HV ZYIV Z FNZ MLEZ RWVRZ  
QZNZRH ELOGZIZ ZL HVF GZNZMSL  
LIRTRMZO

A frequência de cada caracter dessa frase está indicada na seguinte tabela.

letra	frequência	letra	frequência	letra	frequência
Z	14	F	3	J	1
V	7	G	3	Q	1
L	5	H	3	S	1
R	5	I	3	T	1
M	4	E	2	W	1
N	4	O	2	Y	1

Com base nestas informações e sabendo que todas as palavras são da Língua Portuguesa, os espaços não foram substituídos e que acentos e maiúsculas foram ignorados, analise as afirmativas abaixo:

- I. A letra “Z” no texto criptografado é a mais frequente e corresponde a letra “A” na frase original, compatível com a frequência na Língua Portuguesa.
- II. A letra “V” no texto criptografado corresponde a letra “E” texto original.
- III. A palavra criptografada “ZYIV” correspondem a palavras “AZUL”.

Estão corretas as afirmativas:

- a) I apenas
- b) I e II apenas
- c) I e III apenas
- d) I, II e III

14) O trecho abaixo é do soneto XLIV, de Pablo Neruda, retirado de uma tradução para o Português popular na rede de computadores.

(...)  
Amo-te para começar a amar-te,  
para recomeçar o infinito  
e para não deixar de amar-te nunca:  
por isso não te amo ainda.  
(...)

Neste trecho vemos um conflito que inspira o poeta, que pode ser trocado pela proposição composta: “Se começa, então termina”. A partir dela considere as afirmações derivadas abaixo.

- I. Se não termina, então não começa.
- II. Não começa ou termina.
- III. Começa e não termina.

Com respeito à lógica proposicional assinale a alternativa que caracteriza cada afirmativa com respeito à proposição original

- a) I - negação; II - negação; III - equivalência
- b) I - equivalência; II - equivalência; III - negação
- c) I - negação; II - equivalência; III - negação
- d) I - negação; II - negação; III - negação

15) O estudo formal de proposições em termos da lógica proposicional é realizado em termos de tabelas-verdade.

“As tabelas-verdade derivam do trabalho de Gottlob Frege, Charles Peirce e outros nomes da década de 1880, e tomaram a forma atual em 1922 através dos trabalhos de Emil Post e Ludwig Wittgenstein. A publicação do Tractatus Logico-Philosophicus, de Wittgenstein, utilizava as mesmas para classificar funções veritativas em uma série. A vasta influência de seu trabalho levou, então, à difusão do uso de tabelas-verdade.” Fonte: wikipedia, “Tabela-verdade”.

Em uma tabela-verdade cada proposição simples individual é organizada em uma coluna e recebe valor verdadeiro (V) ou falso (F) a cada linha. Em uma última coluna se elenca o resultado lógico vindo da regra lógica definida pelos conectivos, para cada uma das linhas. Considere uma proposição composta por proposições simples:

“Se João mora aqui, então ele é rico, e, se ele é rico, então tem mais de um carro, e, se ele tem mais de um carro, então ele tem carros com placas diferentes, e não depende da regra de rodízios de carro do município.”

Assinale a alternativa que indica o número de linhas de uma tabela-verdade que contenha a avaliação desta proposição composta.

- a) 8
- b) 16
- c) 32
- d) 64



16) No mundo contemporâneo com as mídias sociais notícias falsas e falácias surgidas em debates se tornaram muito presentes. Particularmente, a falácia nomeada por “Argumentum ad hominem” que é estruturada “quando alguém procura negar uma proposição com uma crítica ao seu autor e não ao seu conteúdo”.

Considere as proposições abaixo adaptadas de discursos encontrados na rede de computadores.

- I. “Nosso País tem um déficit educacional reconhecido. Pessoas com aprendizado formal deficitário acreditam muito naquilo que recebem pelo aplicativo. Então há preocupante deficiência na checagem de notícias.”
- II. “O filósofo liberal X disse discordar desta opinião. Este filósofo já deu entrevista à revista comunista, então sua opinião não é confiável.”
- III. “Quem nunca fumou não pode tentar interferir nas discussões e políticas públicas sobre tabagismo”.

Assinale a alternativa em que são identificadas falácias de *Argumentum ad hominem*.

- a) I, II e III
- b) I e II apenas
- c) I e III apenas
- d) II e III apenas

17) O número  $1/3$  (um terço) em representação decimal assume a forma:  $0,33333\dots$  com uma infinidade de casas decimais seguintes (repetitivas) com o algarismo 3. Considere o seguinte procedimento para descobrir o par de números que forma uma dízima periódica baseado em uma sequência de operações aritméticas rudimentares e no encadeamento lógico sequencial:

$$\begin{aligned} N &= 0,33333\dots \Rightarrow \\ 10N &= 3,33333 \Rightarrow \\ 10N - N &= 3 \Rightarrow \\ 9N &= 3 \Rightarrow \\ N &= 3/9 \Rightarrow \\ N &= 1/3 \end{aligned}$$

Baseado neste procedimento, analise as afirmativas abaixo e dê valores Verdadeiro (V) ou Falso (F).

- ( )  $0,99999\dots = 1$
- ( )  $0,1 + 0,01 + 0,001 + \dots = 1/9$
- ( ) Um número que não exhibe repetição como:  $0,123456789101112131415\dots$  (onde se encadeiam os inteiros crescentes ao longo de suas casas decimais) pode ter a fração determinada da mesma maneira.

Assinale a alternativa que avalia corretamente as afirmações acima em termos da mesma lógica apresentada no procedimento.

- a) F, F, F
- b) F, V, V
- c) V, V, F
- d) F, V, F

18) Uma pessoa procura por um argumento dedutivo a partir de duas premissas listadas abaixo.

Premissa 1: Toda quantidade física pode ser medida por algum dispositivo.

Premissa 2: Não se consegue medir o amor com um dispositivo.

A pessoa estabelece, então, duas proposições na forma de conclusões possíveis.

Conclusão 1: O amor não é uma quantidade física.  
Conclusão 2: Nem toda quantidade física pode ser medida por algum dispositivo.

Partindo do princípio da lógica dedutiva, assinale a alternativa correta.

- a) ambas conclusões são deduções válidas
- b) apenas a conclusão 1 é uma dedução válida
- c) apenas a conclusão 2 é uma dedução válida
- d) nenhuma das conclusões é uma dedução válida

19) Em uma rede social dois amigos, Fernando e Roberto, analisam sua rede de amigos. Fernando tem 2120 amigos, enquanto Roberto tem 580 amigos. A rede completa de amigos de um, de outro ou ambos tem 2550 pessoas. Considere dois cenários:

C1: dado que a pessoa é amiga de Roberto, qual a chance dela ser amiga também de Fernando?

C2: dado que a pessoa é amiga de Fernando, qual a chance dela ser amiga também de Roberto?

Assinale a alternativa que melhor aproxima o valor da resposta de cada pergunta elencada nos cenários acima.

- a)  $C1 = 26\%$  e  $C2 = 7\%$
- b)  $C1 = 6\%$  e  $C2 = 6\%$
- c)  $C1 = 23\%$  e  $C2 = 83\%$
- d)  $C1 = 9\%$  e  $C2 = 9\%$

20) Sejam duas proposições lógicas simples: A e B, e a representação simbólica para a negação e os conectivos lógicos abaixo listadas:

$\sim A$	negação de A
$A \wedge B$	A e B
$A \vee B$	A ou B
$A \rightarrow B$	se A, então B
$A \leftrightarrow B$	A se, e somente se, B

Considere as proposições enumeradas:

- I.  $A \wedge \sim A$
- II.  $(A \wedge B) \vee \sim (A \wedge B)$
- III.  $(A \rightarrow B) \leftrightarrow (\sim B \rightarrow \sim A)$

Uma tautologia é uma proposição lógica que pode apenas assumir valores-verdade verdadeiros (V), uma antinomia é a negação de uma tautologia, e, portanto, é uma proposição composta em que resulta apenas em valores lógicos falsos (F). Assinale a alternativa que corretamente classifica as proposições completas enumeradas nesses termos.

- a) I - Antinomia; II - Tautologia; III - Tautologia
- b) I - Tautologia; II - Antinomia; III - Tautologia
- c) I - Tautologia; II - Tautologia; III - Antinomia
- d) I - Tautologia; II - Tautologia; III - Tautologia

## CONHECIMENTOS ESPECÍFICOS

21) Assinale a alternativa que **não** apresenta uma possível causa de disfunção erétil no paciente com diagnóstico de doença renal crônica terminal.

- a) Aterosclerose
- b) Neuropatia
- c) Depressão
- d) Hipoprolactinemia

22) O trauma uretral pode ser atribuído a causas iatrogênicas e não iatrogênicas. Sobre traumas uretrais, assinale a alternativa correta.

- a) O trauma uretral é raro no sexo feminino. Em mulheres, fraturas pélvicas graves podem gerar fragmentos ósseos, que podem causar lacerações ou contusões na uretra
- b) Nos homens, a principal causa de lesões da uretra anterior são os traumas penetrantes, especialmente ferimentos por arma branca
- c) Em se tratando do sexo masculino, a lesão uretral decorrente de fraturas pélvicas em crianças é igual à que ocorre em adultos
- d) Em mulheres, o diafragma urogenital divide a uretra em uretra anterior e posterior, guiando a classificação das lesões uretrais femininas

23) A realização do ultrassom doppler peniano é válida para pacientes com Doença de Peyronie, no entanto, este exame falha em não avaliar de maneira satisfatória.

- a) A integridade sensorial do pênis
- b) A deformidade do pênis quando ereto
- c) O fluxo vascular peniano
- d) A resposta à injeção de substâncias vasoativas no pênis

24) O carcinoma de células escamosas representa mais de 95% das neoplasias penianas. Não se tem conhecimento da frequência em que esta neoplasia é precedida por lesões pré-malignas, no entanto, sabe-se que mais de um terço destas lesões evoluem para carcinoma de células escamosas invasivo. Assinale a alternativa que **não** apresenta uma lesão pré-maligna peniana.

- a) Doença de Buschke-Lowenstein
- b) Doença de Bowen
- c) Doença de Paget
- d) Cancro duro

25) Paciente de 52 anos comparece ao ambulatório com relato de aumento de volume escrotal após cirurgia de correção de varicocele. Assinale a patogênese da hidrocele pós-varicolectomia.

- a) Lesão arterial
- b) Aumento da pressão venosa testicular
- c) Obstrução linfática
- d) Lesão nervosa

26) Estima-se que cerca de um terço da população mundial entrará em contato e se infectará com o bacilo da tuberculose ao longo da vida, no entanto, apenas uma parcela dessa população desenvolverá a doença. Sobre a tuberculose genitourinária, analise as afirmativas abaixo:

- I. A disseminação hematogênica da tuberculose ocorre para os rins, epidídimo e tubas uterinas.
- II. Sintomas do trato urinário inferior são a apresentação mais comum da tuberculose genitourinária.
- III. A tuberculose tratada pode gerar fibrose extensa, podendo causar estenose da junção uretero-piélica.
- IV. A localização mais comum da tuberculose genitourinária é a bexiga, apresentando diagnóstico mais tardio.

**Assinale a alternativa correta.**

- a) Apenas as afirmativas I, III e IV estão corretas
- b) Apenas as afirmativas I e II estão corretas
- c) Apenas as afirmativas I, II e III estão corretas
- d) As afirmativas I, II, III e IV estão corretas

27) Uma mulher, previamente saudável, de 30 anos procura um urologista pois deseja doar um rim ao seu melhor amigo, que possui diagnóstico de doença renal terminal por conta de uma “doença congênita”. Realizou Tomografia Computadorizada (TC) que evidenciou um cálculo de 1,1 milímetros (mm) na pelve renal direita. A investigação metabólica é normal. Assinale a alternativa que apresenta a informação o médico deverá fornecer aos jovens.

- a) Ela não poderá ser doadora renal por conta da litíase encontrada na TC
- b) Apenas seu rim esquerdo poderá ser doado
- c) Seu rim direito pode ser considerado para doação
- d) Ela deverá receber tratamento para a litíase e poderá doar seu rim direito após um intervalo de 5 anos sem cálculos

28) O tumor de testículo corresponde a cerca de 5% do total de casos de câncer entre os homens. Na realização de uma orquiectomia radical, a estrutura nervosa que corremos o risco de lesionar é:

- a) Nervo pudendo
- b) Nervo ilioinguinal
- c) Nervo genitofemoral
- d) Nervo lateral femoral cutâneo

29) O sistema urinário é frequentemente alvo de iatrogenias por profissionais de saúde. Sobre lesões urológicas iatrogênicas, analise as afirmativas abaixo:

- I. A principal causa de lesão ureteral é o trauma iatrogênico, por isso, é importante identificar visualmente os ureteres sempre que possível durante cirurgias abdominais e pélvicas.
- II. A bexiga é o órgão urológico mais comumente afetado por lesões iatrogênicas, e os principais fatores de risco incluem: cirurgias prévias, inflamação e malignidade.
- III. As lesões iatrogênicas renais mais comuns são as vasculares.

**Assinale a alternativa correta.**

- a) Apenas as afirmativas I e II estão corretas
- b) Apenas as afirmativas I e III estão corretas
- c) Apenas as afirmativas II e III estão corretas
- d) As afirmativas I, II e III estão corretas

- 30) Paciente feminina de 45 anos de idade foi submetida a um ultrassom abdominal para investigação de colelitíase, sendo detectado um nódulo em suprarenal esquerda. Em sua maioria, os incidentomas adrenais são:
- Adenomas
  - Ganglioneuromas
  - Mielolipomas
  - Cistos
- 31) A oclusão de uma artéria segmentar renal causará \_\_\_\_\_, ao passo que a oclusão de uma veia segmentar renal causará \_\_\_\_\_. Assinale a alternativa que preencha correta e respectivamente as lacunas.
- atrofia renal completa / atrofia segmentar renal
  - nenhuma alteração patológica / hematúria súbita
  - atrofia segmentar renal / hematúria súbita
  - infarto segmentar renal / nenhuma alteração patológica
- 32) O conhecimento da anatomia é indispensável para o cirurgião. Sobre a anatomia do sistema urinário, analise as afirmativas abaixo e dê valores Verdadeiro (V) ou Falso (F):
- A veia ovariana esquerda tipicamente drena para a veia cava inferior.
  - Varicoceles unilaterais são mais comuns à esquerda.
  - A veia testicular direita drena para a veia cava inferior.
  - A veia testicular esquerda drena tipicamente para a veia renal esquerda.
  - Um aparecimento repentino de varicocele unilateral à direita deve ser investigado com exames de imagem.
- Assinale a alternativa que apresenta a sequência correta de cima para baixo.
- F, V, V, V, V
  - V, V, V, V, V
  - F, V, F, V, V
  - V, F, V, F, V
- 33) Criança de 03 meses de idade comparece à consulta pediátrica de rotina. Durante exame físico, o médico identifica apenas testículo esquerdo palpável no escroto, e, ao investigar a região inguinal direita, encontra massa palpável, com descida para o escroto após manobras manuais. Assinale o diagnóstico e conduta que o pediatra deverá considerar, respectivamente.
- Linfadenopatia inguinal, Tomografia Computadorizada de pelve
  - Distopia testicular, orquiectomia direita
  - Testículo intra-abdominal, ultrassonografia abdominal
  - Testículo retrátil, monitoramento cuidadoso da descida espontânea
- 34) A respeito da fertilidade masculina, julgue os itens a seguir, analise as afirmativas abaixo e dê valores Verdadeiro (V) ou Falso (F).
- A criptorquidia pode causar relativa diminuição da qualidade global do sêmen, mesmo quando unilateral.
  - O espermiograma é o exame mais utilizado na prática clínica, no entanto, o mesmo possui limitações com relação à determinação da etiologia da disfunção espermática e da capacidade de fertilização.
  - A determinação de etiologia primária ou secundária da infertilidade masculina é um importante fator prognóstico da mesma, tal qual a duração da infertilidade.
  - Técnicas de múltiplas biópsias de testículo devem ser realizadas rotineiramente em todos os homens com queixa de infertilidade.
- Assinale a alternativa que apresenta a sequência correta de cima para baixo.
- V, V, V, F
  - F, V, V, F
  - F, F, F, F
  - F, F, V, F
- 35) Um rapaz de 28 anos de idade comparece ao seu consultório e relata que, além de musculação, faz rotineiramente uso de sucessivas injeções de esteroides anabolizantes para otimizar seu ganho de volume muscular. Ele questiona se isso irá interferir em seu potencial de fertilidade, você explica que o mesmo provavelmente será:
- Normal, pois a testosterona exógena não afeta a espermatogênese
  - Alto, pois a testosterona exógena diminui a libido
  - Baixo, pois a testosterona exógena inibe a produção de FSH e LH
  - Baixo, pois a testosterona exógena causa diminuição da libido
- 36) Rapaz de 26 anos chega ao pronto atendimento com queixa de dor peniana e perda de ereção repentina durante a relação sexual. Durante o exame físico, você nota edema peniano e sangue no meato uretral. O próximo passo deve ser:
- Exploração imediata em centro cirúrgico
  - Colher exames laboratoriais para avaliação de coagulação
  - Uretrografia retrógrada
  - Manter em observação, com exame físico seriado
- 37) Nos casos de ectopia renal, a adrenal ipsilateral está tipicamente \_\_\_\_\_. Nos casos de agenesia renal unilateral, a adrenal ipsilateral está comumente \_\_\_\_\_. Assinale a alternativa que preencha correta e respectivamente as lacunas.
- em sua posição normal anatômica / em sua posição normal anatômica
  - em sua posição normal anatômica / ausente
  - no polo superior do rim ectópico / ausente
  - junto à adrenal contralateral / intratorácica



**38) Assinale os subtipos do Papilomavírus Humano (HPV) que são apontados como responsáveis pelo desenvolvimento de neoplasias malignas, incluindo cervical, peniana e anal:**

- a) 6 e 11
- b) 16 e 18
- c) 12 e 28
- d) 17 e 34

**39) A Hiperplasia Prostática Benigna (HPB) é um diagnóstico comum em homens após os 50 anos. Sobre a HPB, analise as afirmativas abaixo.**

- I. É caracterizada por um aumento no número de células epiteliais e estromais, não no aumento do seu tamanho.
- II. Quanto maior o volume prostático, piores os sintomas obstrutivos.
- III. Constitui um dos principais fatores de risco para câncer de próstata.
- IV. O valor sérico do PSA se encontra sempre alterado.
- V. O tamanho da próstata usualmente guia a escolha do procedimento cirúrgico a ser realizado.

**Assinale a alternativa correta:**

- a) Apenas as afirmativas I e V estão corretas
- b) Apenas as afirmativas II, III e V estão corretas
- c) Apenas as afirmativas I, II e V estão corretas
- d) As afirmativas I, II, III, IV e V estão corretas

**40) A incidência do câncer de testículo tem aumentado ao longo dos anos. Sobre os tumores de testículo, analise as afirmativas abaixo e dê os valores Verdadeiro (V) ou Falso (F):**

- ( ) A principal manifestação é dor intensa associada a crescimento de massa testicular.
- ( ) Linfoma testicular ocorre usualmente em pacientes com menos de 20 anos.
- ( ) A maioria das neoplasias malignas testiculares se desenvolvem a partir de células germinativas.
- ( ) Os principais marcadores séricos tumorais são a Alfa-feto-proteína, o hCG e o LDH, essenciais para o diagnóstico, porém sem importância no prognóstico e estadiamento.

**Assinale a alternativa que apresenta a sequência correta de cima para baixo.**

- a) V, F, V, F
- b) F, F, V, F
- c) V, V, F, V
- d) F, F, V, V

