

PREFEITURA MUNICIPAL DE GUARAPARI/ES

Concurso Público - Edital 001/2020

CARGO: Agente de Atendimento em Saúde III (AAS-3) **AGENTE COMUNITÁRIO DE SAÚDE**

Caro(a) Candidato(a): **Antes de iniciar a prova leia atentamente as instruções a seguir:**

1. Este caderno contém 40 (quarenta) questões objetivas com 04 (quatro) opções (A, B, C, D). A prova terá duração máxima de 03 (três) horas. A prova terá seu horário de início em sala, a contar após a distribuição dos cadernos de prova e autorização do aplicador(a).
2. Confira em seu caderno de provas a sequência de questões. Você tem até 10 (dez) minutos do início das provas para solicitar a troca do caderno de provas que apresentar algum problema de impressão ou qualquer outro que inviabilize a realização da mesma, pois não serão aceitas reclamações posteriores nesse sentido.
3. A interpretação das questões, bem como das instruções, faz parte da prova. Portanto, ao aplicador(a) de sala e fiscais não há autorização para fornecer esclarecimentos sobre o conteúdo das provas, sendo esta atribuição de única e exclusiva responsabilidade do(a) candidato(a).
4. Você receberá do aplicador o cartão de respostas 30 (trinta) minutos após o início da prova, o cartão de respostas deverá obrigatoriamente ser assinado pelo(a) candidato(a) no local em que há a indicação: “**ASSINATURA**”, utilizando sempre caneta esferográfica de tinta preta ou azul.
5. Caso realmente precise, utilize como rascunho os espaços em branco nas folhas do caderno de prova. Sugerimos que você assinale, inicialmente, no próprio caderno de provas, todas as respostas que julgar correta. Depois, passe-as para o cartão de respostas.
6. Questões com mais de uma alternativa assinalada, rasurada ou em branco serão **ANULADAS**. Portanto, ao preencher o cartão de respostas faça-o cuidadosamente. Evite erros, pois em hipótese alguma haverá substituição do cartão de respostas por erro do(a) candidato(a).
7. Ao terminar a prova ou findo o horário limite para sua realização, o candidato deverá **OBRIGATORIAMENTE** entregar seu cartão de respostas “**ASSINADO**”, ao aplicador(a) de sala. O(a) candidato(a) que não devolver seu cartão de respostas será automaticamente **eliminado(a)** e não terá classificação alguma no concurso público.
8. **Atenção!** Preencha o cartão-resposta na mesma sequência numérica das questões do caderno de provas.
9. Somente será permitido levar o caderno de questões (prova), depois de decorrido o período de **120 (cento e vinte) minutos do início das provas.**
10. Não serão permitidas consultas a quaisquer materiais, uso de telefone celular ou outros aparelhos eletrônicos, assim como os demais procedimentos constantes no subitem 9.9 e no subitem 9.11 do Edital 001/2020.
11. Após o término da prova, o(a) candidato(a) deverá deixar imediatamente o recinto da mesma, sendo **terminantemente proibido** fazer contato com os(as) candidatos(as) que ainda não terminaram a prova sob pena de ser excluído do Concurso Público.
12. O desrespeito às normas que regem o presente concurso, bem como, a desobediência às exigências registradas no edital, além de sanções legais cabíveis implica na desclassificação do candidato.
13. Os dois últimos candidatos ao terminarem as provas deverão retirar-se da sala simultaneamente, após testemunharem o fechamento (lacre) do envelope de provas, assinando a Ata Relatário.
14. O candidato, após a divulgação dos gabaritos oficiais preliminares da Prova Objetiva, que será feita a partir das 20 horas do dia **06 de dezembro de 2020**, no site www.qualimp.com.br, poderá peticionar **RECURSO** à banca examinadora, quando julgar que ocorreu erro na formulação das questões e divulgação do gabarito preliminar, nos dias **07 e 08 de dezembro de 2020.**


BOA PROVA!!!

ATENÇÃO!!!

- O CARTÃO DE RESPOSTAS ABAIXO É PARA SER UTILIZADO SOMENTE COMO RASCUNHO.
- AO RECEBER O CARTÃO DE RESPOSTAS DEFINITIVO CONFIRA OS DADOS DE IDENTIFICAÇÃO (NOME, CARGO, NÚMERO DE INSCRIÇÃO) E EM SEGUIDA ASSINE NO LOCAL INDICADO.

CARTÃO RESPOSTA



Nome:		"ÓRGÃO / ENTIDADE - UF"							
Cargo:		"PROCESSO DE SELEÇÃO ___/2020"							
Sala:	Nº de inscrição:	Local:	Data: /2020	Turno:					
<p>* Marcar apenas uma opção para cada questão, evitando-se ultrapassar o círculo; * O círculo correspondente à questão escolhida deve ser totalmente preenchido, evitando-se ultrapassar o círculo; * Marcar apenas a quantidade de questões existentes na sua prova; * Utilize somente caneta esferográfica azul ou preta, não rasurar ou sujar o cartão; É NECESSIDADE DO CANDIDATO A CONFERÊNCIA DOS DADOS DE SEU CARTÃO DE RESPOSTA</p>					TIPO DE PROVA PROVA PADRÃO				
01	(A)	(B)	(C)	(D)	21	(A)	(B)	(C)	(D)
02	(A)	(B)	(C)	(D)	22	(A)	(B)	(C)	(D)
03	(A)	(B)	(C)	(D)	23	(A)	(B)	(C)	(D)
04	(A)	(B)	(C)	(D)	24	(A)	(B)	(C)	(D)
05	(A)	(B)	(C)	(D)	25	(A)	(B)	(C)	(D)
06	(A)	(B)	(C)	(D)	26	(A)	(B)	(C)	(D)
07	(A)	(B)	(C)	(D)	27	(A)	(B)	(C)	(D)
08	(A)	(B)	(C)	(D)	28	(A)	(B)	(C)	(D)
09	(A)	(B)	(C)	(D)	29	(A)	(B)	(C)	(D)
10	(A)	(B)	(C)	(D)	30	(A)	(B)	(C)	(D)
11	(A)	(B)	(C)	(D)	31	(A)	(B)	(C)	(D)
12	(A)	(B)	(C)	(D)	32	(A)	(B)	(C)	(D)
13	(A)	(B)	(C)	(D)	33	(A)	(B)	(C)	(D)
14	(A)	(B)	(C)	(D)	34	(A)	(B)	(C)	(D)
15	(A)	(B)	(C)	(D)	35	(A)	(B)	(C)	(D)
16	(A)	(B)	(C)	(D)	36	(A)	(B)	(C)	(D)
17	(A)	(B)	(C)	(D)	37	(A)	(B)	(C)	(D)
18	(A)	(B)	(C)	(D)	38	(A)	(B)	(C)	(D)
19	(A)	(B)	(C)	(D)	39	(A)	(B)	(C)	(D)
20	(A)	(B)	(C)	(D)	40	(A)	(B)	(C)	(D)
Assinatura do Candidato				Nº DE INSCRIÇÃO					

OBS.: O candidato deverá **OBRIGATORIAMENTE**, entregar seu cartão de repostas definitivo preenchido e **ASSINADO**, sob pena de ter seu cartão de respostas **ANULADO**.
(item 9.17 do edital 001/2020)

QUESTÕES DE LÍNGUA PORTUGUESA

01. Leia o texto com atenção o texto a seguir e responda.

Vertente

Tanta gente esperando o resultado. Sentia-se bem ali, entre tantos. Foi até o rio. Enquanto não ouvisse o megafone com a novidade, poderia ficar junto com os mais calmos, pés na orla. "Tanta gente", ouvia todos repetindo, menos ele, que preferia pensar baixinho, seguindo como se sentisse umas cócegas no pensamento, embora só aceitasse essa surdina cálida no meio de outras vozes, como ali. Quando anunciaram o nome, engoliu o merecimento. Aproximou-se então – devagar. Sempre cultivara a convicção de que seria o escolhido por uma razão que justamente agora começava a lhe fugir. Via que não era mais o mesmo que aprendera a reconhecer. Sentiu a virilha molhada. Notou que toda a sua massa se diluía pelos poros. O corpo, ah, se desdobrava em córrego...

(NOLL, J. G. *Mínimos, Múltiplos, Comuns*. São Paulo: Francis, 2003.)

Conforme se apresentam suas características, pode-se dizer que esse texto é predominantemente:

- (A) Narrativo. (B) Descritivo. (C) Injuntivo. (D) Dissertativo.

02. Leia a tirinha a seguir, em que há uma conversa entre as personagens Mônica e Milena, com o personagem Cebolinha ao fundo:



Disponível em: <http://turmadamonica.uol.com.br/donasdarua/hqs.php>. Acesso em: 30 out. 2020

Sobre o texto apresentado, considere as seguintes afirmativas:

- I. No primeiro quadrinho, fica evidente uma preocupação por parte da Mônica em relação às atitudes de seu cão.
- II. No segundo quadrinho, percebe-se que Milena vê o abraço como uma forma de demonstrar amor.
- III. O abraço de Cebolinha em Mônica, no último quadrinho, é um indicativo de que Mônica é brava.

Estão corretas as afirmativas:

- (A) I e II, apenas.
 (B) I e III, apenas.
 (C) II e III, apenas.
 (D) I, II e III.

03. Ditongos, tritongos e hiatos são os nomes dados aos encontros vocálicos da língua portuguesa.

Em qual das alternativas a seguir o exemplo de cada um desses encontros está correto?

- (A) SAÚDE contém um hiato, RAINHA possui um ditongo, e LEIGO apresenta um tritongo.
- (B) MEIGO contém um hiato, ÁGUA possui um ditongo, e PAÍS apresenta um tritongo.
- (C) SAÚDE contém um hiato, ÁGUA possui um ditongo, e QUAIS apresenta um tritongo.
- (D) MAGIA contém um hiato, ALAÚDE possui um ditongo, e QUAIS apresenta um tritongo.

04. Identifique a sentença em que a colocação do pronome oblíquo átono segue a norma padrão da língua portuguesa.

- (A) Desculpe-me pelos maus modos à mesa.
- (B) Não questione-se sobre certas decisões.
- (C) O professor havia dado-me nota baixa no trabalho.
- (D) Se comunique mais com as pessoas ao seu redor!

05. Leia o texto a seguir, observando o contexto do item lexical grifado.

“O Prof. Dumbledore mandou todos os alunos da Grifinória voltarem ao Salão Principal, onde foram se reunir a eles, dez minutos depois, os alunos da Lufa-Lufa, Corvinal e Sonserina, todos parecendo extremamente atordoados.

– Os professores e eu precisamos fazer uma busca **meticulosa** no castelo – disse o diretor aos alunos quando os professores McConagall e Flitwick fecharam as portas do salão que davam para o saguão. – Receio que, para sua própria segurança, vocês terão que passar a noite aqui. Quero que os monitores montem guarda nas saídas para o saguão e vou encarregar o monitor e a monitora-chefes de cuidarem disso. Eles devem me informar imediatamente qualquer perturbação que haja – acrescentou Dumbledore dirigindo-se a Percy, que assumiu um olhar de enorme orgulho e importância. – Mande um dos fantasmas me avisar.”

(ROWLING, J. K. *Harry Potter e o prisioneiro de Azkaban*. Rio de Janeiro: Rocco, 2000. p. 135.)

Dentre as opções a seguir, assinale aquela que apresenta uma palavra que pode substituir o vocábulo em destaque no texto sem prejuízo de sentido ao contexto da narrativa.

- (A) “rápida”.
- (B) “descuidada”.
- (C) “cautelosa”.
- (D) “momentânea”.

06. Identifique a frase em que o termo destacado é um vocativo.

- (A) Amanhã, faremos um jantar para comemorarmos nossas bodas de ouro.
- (B) Schumacher, ex-piloto da Fórmula 1, está afastado da mídia após o acidente nos Alpes Franceses.
- (C) Indignados, os funcionários da fábrica fizeram greve por melhores condições de trabalho.
- (D) Maestros, compareçam aos ensaios da orquestra com urgência!

07. Leia a notícia a seguir.

TERRA PODE ESTAR NO "CAMPO DE VISÃO" DE DIVERSOS EXOPLANETAS, SUGERE ESTUDO *Investigando estrelas parecidas com o Sol, uma dupla de cientistas norte-americanos encontrou diversos planetas com linha de visão direta para o nosso planeta*

Redação Galileu 23 Out 2020 - 07h00 Atualizado em 23 Out 2020 - 07h00

Alguns planetas que estão fora do Sistema Solar, os chamados exoplanetas, têm uma linha de visão direta para observar a Terra, propõe uma dupla de pesquisadores dos Estados Unidos: Lisa Kaltenegger, da Universidade Cornell, e Joshua Pepper, da Universidade Lehigh. A descoberta é a conclusão de uma pesquisa que identificou 1.004 estrelas semelhantes ao Sol que podem conter exoplanetas como o nosso em suas zonas habitáveis.

O estudo, publicado na revista *Monthly Notices of the Royal Astronomical Society: Letters*, explica que todos os astros estão a cerca de 300 anos-luz da Terra e que devem ser capazes de detectar vestígios químicos de vida por aqui.

"Vamos reverter o ponto de vista para o de outras estrelas e perguntar de que ponto de vista outros observadores poderiam visualizar a Terra como um planeta transitando", disse Kaltenegger, em comunicado. "Se os observadores estivessem procurando, eles seriam capazes de ver sinais de uma biosfera na atmosfera do nosso Pálido Ponto Azul."

Mas quais sistemas estelares podem, de fato, nos encontrar? A chave para essa questão é a eclíptica da Terra, isto é, o plano em que nosso planeta orbita o Sol. A eclíptica é onde os exoplanetas com vista para cá estariam localizados, pois viabilizariam a observação da Terra.

"Se encontrarmos um planeta com uma biosfera vibrante, ficaríamos curiosos para saber se alguém está ou não olhando para nós também", afirmou Kaltenegger. "Se estamos procurando por vida inteligente no Universo, podem nos encontrar e podem querer entrar em contato. Acabamos de criar o mapa estelar de onde devemos observar primeiro."

Disponível em: <https://revistaagalileu.globo.com/Ciencia/Espaco/noticia/2020/10/terra-pode-estar-no-campo-de-visao-de-diversos-exoplanetas-sugere-estudo.html>. Acesso em: 30 out. 2020.

Segundo a notícia apresentada, é possível de se afirmar, EXCETO:

- (A) O exoplanetas são planetas que existem fora do Sistema Solar, sistema planetário do qual a Terra faz parte.
- (B) Os cientistas envolvidos na pesquisa criaram um mapa astronômico capaz de guiar os estudiosos na procura por vida inteligente dentro e fora do Sistema Solar.
- (C) A eclíptica da Terra, ou seja, o plano em que ela se movimenta ao redor do Sol, pode ser a chave para se entender de quais pontos os terráqueos podem ser observados.
- (D) A expressão "Pálido Ponto Azul" foi utilizada pela cientista Lisa Kaltenegger para se referir à visão do planeta Terra a distância.

08. Assinale a alternativa em que a divisão silábica está correta em todas as palavras:

- (A) Ma-ior / lu-cid-ez / ne-ces-si-da-de.
- (B) Ar-re-do-res / pis-ci-na / pa-chor-ra.
- (C) Nas-cen-te / me-nos / fi-gu-ra-nte.
- (D) Con-se-lho / ca-ri-nho / a-rre-pen-di-me-nto.

09. Segundo a norma padrão da língua portuguesa, a expressão destacada na sentença abaixo é classificada como:

"A velha insônia tossiu três da manhã."

(TREVISAN, D.. *Ah, É?*. 2ª ed. Rio de Janeiro: Record, 1994.)

- (A) Objeto direto do verbo *tossir*.
- (B) Adjunto adverbial do verbo *tossir*.
- (C) Objeto indireto do verbo *tossir*.
- (D) Sujeito do verbo *tossir*.

10. Complete as frases a seguir com os *porquês*:

- I. Não entendi _____ ele não quis comprar marmita no horário do almoço.
- II. Está fazendo essa cara de alegria para mim _____?
- III. _____ você está usando roupas de frio nesse calor? _____ estou com febre.

A sequência que preenche corretamente os espaços é:

- (A) I. "porque"; II. "porquê"; III. "Porque" e "Porque".
- (B) I. "por que"; II. "porquê"; III. "Por quê" e "Por que".
- (C) I. "por que"; II. "por quê"; III. "Por que" e "Porque".
- (D) I. "porque"; II. "por quê"; III. "Porque" e "Por que".

QUESTÕES DE MATEMÁTICA

11. Numa piscina de bolinhas foram colocadas 120 bolas amarelas, 150 bolas azuis, 130 bolas vermelhas e 100 bolas verdes. Com os olhos vendados, uma menina retira bolas da piscina. A probabilidade da:

- (A) Primeira bola a ser retirada da piscina ser verde é de 2%.
- (B) Primeira bola a ser retirada da piscina ser amarela é de 24%.
- (C) Primeira bola a ser retirada da piscina ser vermelha é de 2,6%.
- (D) Primeira bola a ser retirada da piscina ser azul é de 25%.

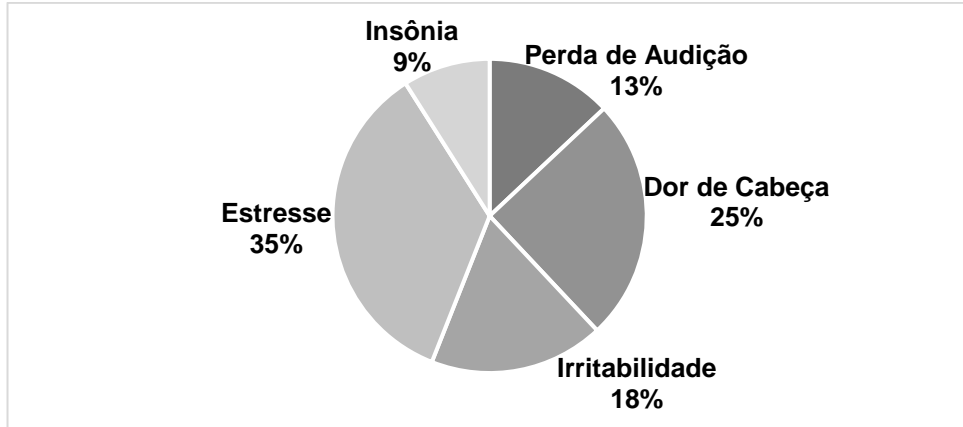
12. Em um dia, o número de pacientes atendidos nos Postos de Saúde da cidade de São Cândido:

Posto A = 24 pacientes	Posto D = 27 pacientes
Posto B = 34 pacientes	Posto E = 14 pacientes
Posto C = 22 pacientes	Posto F = 23 pacientes

A média de pacientes atendidos nos Postos de Saúde de São Candidato nesse dia foi de:

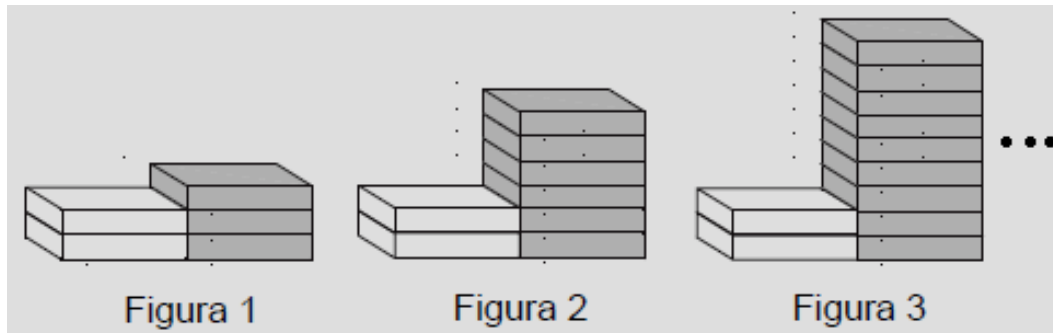
- (A) 24,5 pacientes.
- (B) 23,5 pacientes.
- (C) 24,0 pacientes.
- (D) 23,0 pacientes.

13. O gráfico abaixo indica o principal dano causado à saúde de 200 funcionários de uma fábrica de beneficiamento de rochas ornamentais, devido ao barulho excessivo. Diante dessas informações, é correto afirmar:



- (A) 120 funcionários tiveram dor de cabeça ou estresse.
- (B) Trabalhar no beneficiamento de rochas ornamentais sem os devidos equipamentos e proteção não traz riscos à saúde.
- (C) A perda de audição é a principal reclamação de funcionários que trabalham em ambientes com muito barulho.
- (D) O barulho excessivo provoca dor de cabeça, zumbido no ouvido e pressão alta.

14. Clara possui algumas caixas vazias, nas cores branca e cinza. Ela foi empilhando essas caixas, seguindo um padrão, conforme mostrado na figura abaixo:



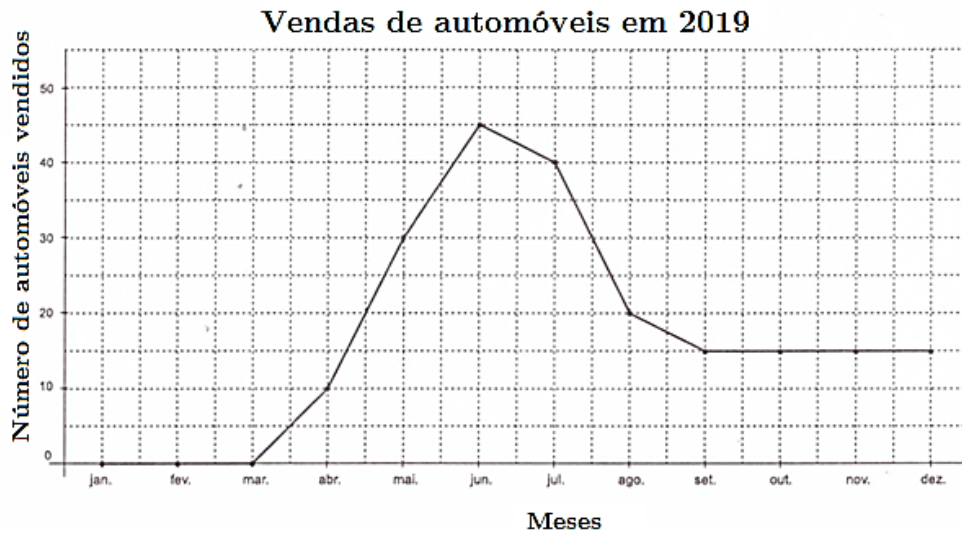
Uma das figuras montadas por ela, possui 107 caixas. Qual foi o número dessa figura montada por ela?

- (A) 27.
- (B) 35.
- (C) 41.
- (D) 53.

15. Em uma empresa, os cargos de Secretário e Tesoureiro estão vagos. O diretor dessa empresa precisa preencher esses cargos vagos. Para isso, analisou os perfis dos candidatos e viu que 15 deles possuem os pré-requisitos necessários para ocuparem os cargos. De quantas maneiras diferentes o diretor poderá preencher os cargos vagos?

- (A) 210.
- (B) 320.
- (C) 160.
- (D) 180.

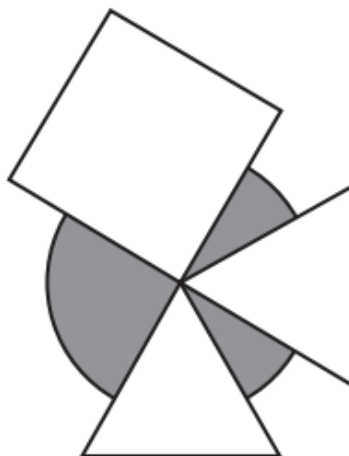
16. Uma concessionária montou o gráfico abaixo, apresentando as vendas de veículos novos vendidos durante os meses de 2019.



Observando o gráfico acima, é correto afirmar que:

- (A) A diferença entre o número de veículos vendidos no primeiro e no segundo semestre é maior que 40.
- (B) As vendas do terceiro trimestre foram superiores do que o segundo trimestre.
- (C) A média de vendas mensal dessa concessionária durante o ano de 2019 foi superior a 20.
- (D) As vendas referentes ao segundo quadrimestre excederam o dobro das vendas do terceiro quadrimestre.

17. Sobre cartão cinza de forma circular com diâmetro medindo 18 cm foram sobrepostos 3 cartões brancos: um quadrado e dois no formato de triângulos equiláteros, todos com lados medindo 12 cm, conforme a figura abaixo.



Dado: $\pi \cong 3,14$.

Qual é, aproximadamente, a área da região cinza que ficou exposta após a sobreposição dos cartões brancos?

- (A) 105,9 cm².
- (B) 112,6 cm².
- (C) 95,4 cm².
- (D) 122,2 cm².

18. Roberto comprou um carro usado em uma loja. Por pagar à vista, economizou a quantia de R\$ 720,00, pois recebeu um desconto de 15% no preço inicial do carro. Qual era o preço inicial do carro, sem o desconto?

- (A) R\$ 4.933,00. (B) R\$ 5.000,00. (C) R\$ 2.083,33. (D) R\$ 4.800,00.

19. Marcela aplicou um capital, a uma taxa mensal de 2%. Ela pretende retirar o dinheiro dessa aplicação quando, os juros rendidos por essa aplicação, for igual ao dobro do capital depositado por ela. Quantos meses, após o início da aplicação, que Marcela poderá sacar o dinheiro?

- (A) 66,6 meses. (B) 100 meses. (C) 33 meses. (D) 60 meses.

20. Uma lanchonete fez uma pesquisa com 255 clientes a respeito dos sabores dos refrigerantes preferidos de cada um. O resultado dessa pesquisa foi:

- 141 pessoas gostam o refrigerante de limão;
- 110 pessoas gostam o refrigerante de laranja;
- 119 pessoas gostam o refrigerante de uva;
- 71 pessoas gostam os refrigerantes de uva e limão;
- 60 pessoas gostam os refrigerantes de limão e laranja;
- 48 pessoas gostam os refrigerantes de laranja e uva;
- 28 pessoas não gostam de nenhum dos três sabores.

Analisando os dados obtidos com essa pesquisa, podemos afirmar que:

- (A) O número de pessoas que gostam apenas o refrigerante sabor uva é maior do que o número de pessoas que gostam apenas o refrigerante sabor laranja.
- (B) O número de pessoas que gostam os três sabores de refrigerantes é maior do que o número de pessoas que gostam apenas o refrigerante sabor uva.
- (C) O número de pessoas que gostam apenas o refrigerante de uva é menor do que o número de pessoas que gostam apenas do refrigerante de limão e laranja.
- (D) O número de pessoas que gostam os três sabores de refrigerante corresponde ao triplo do número de pessoas que gostam apenas dos refrigerantes de laranja e uva ao mesmo tempo.

QUESTÕES DE CONHECIMENTOS GERAIS

21. O Gentílico de quem nasce em Guarapari/ES é:

- (A) Guarapariense.
(B) Guaparuense.
(C) Guarapiense.
(D) Guarapiensense.

22. No dia 10 de setembro de 2020, tomou posse como presidente do Supremo Tribunal Federal (STF) e do Conselho Nacional de Justiça (CNJ) o ministro:

- (A) Luís Roberto Barroso.
- (B) Luiz Fux.
- (C) José Antônio Dias Toffoli.
- (D) Rosa Maria Pires Weber.

23. "Coronavírus é uma família de vírus que causam infecções respiratórias. O novo agente do Coronavírus (nCoV-2019) foi descoberto em 31/12/19 após casos registrados na China"

(Fonte: <https://coronavirus.saude.gov.br/linha-do-tempo/>, acesso em:11/11/2020)

Sobre o novo Coronavírus, qual das afirmativas abaixo é falsa:

- (A) Ainda não há consenso sobre como ocorreu a mutação que gerou do novo vírus.
- (B) Dentre os principais sintomas estão a tosse, febre, dificuldade para respirar, perda de olfato e paladar.
- (C) Uma das principais formas de evitar o contágio é aglomeração de pessoas e o uso de máscaras.
- (D) No Brasil, mais de 5 milhões de pessoas foram infectadas e mais de 150 mil pessoas já morreram de Covid-19.

24. Apagão é um evento que ocorre no gerenciamento da carga do sistema elétrico quando a demanda excede a capacidade geradora/limites operativos do sistema de transmissão. Recentemente, às vésperas das eleições municipais corridas em 15/11/2020, um estado brasileiro da Região Norte passou por um apagão que durou vários dias, a falta de energia afetou o acesso à água encanada, internet, serviços de telefonia, caixas eletrônicos. Qual estado que foi afetado diretamente por esse apagão?

- (A) Acre.
- (B) Amazonas.
- (C) Roraima.
- (D) Amapá.

25. O município de Guarapari/ES fica a cerca de 51 km de Vitória, capital do Espírito Santo, faz parte da região metropolitana e é inserido no território sul litorâneo. O município de Guarapari/ES faz divisa com os municípios de:

- (A) Marechal Floriano, Viana, Vila Velha, Anchieta e Alfredo Chaves.
- (B) Piúma, Viana, Vila Velha, Anchieta e Alfredo Chaves.
- (C) Cariacica, Piúma, Vila Velha, Anchieta e Iconha.
- (D) Marechal Floriano, Iconha, Vila Velha, Anchieta e Alfredo Chaves.

26. O ano de 2020 tem sido marcado por grandes problemas de saúde e ambientais. Na parte ambiental tivemos grande região de qual ecossistema afetado pelas queimadas:

- (A) Manguezal.
- (B) Caatinga.
- (C) Pantanal.
- (D) Pampas.

27. "Fontes de energia renováveis representam 83% da matriz elétrica brasileira".

(Fonte: <https://www.gov.br/pt-br/noticias/energia-minerais-e-combustiveis/2020/01/fontes-de-energia-renovaveis-representam-83-da-matriz-eletrica-brasileira>)

Sobre a geração de energia, é correto afirmar:

- (A) São fontes de energia renovável: hidrelétricas, eólica, gás natural, petróleo e solar.
- (B) A principal fonte de energia brasileira é a hidrelétrica.
- (C) As energias renováveis e não renováveis contribuem da mesma forma para a emissão de gases do efeito estufa.
- (D) Por ter muitos rios, o brasileiro não precisa se preocupar com gastos de energia elétrica.

28. Há pouco tempo foi noticiado em diversos órgãos de imprensa, que filhotes de gambá foram resgatados às margens da BR-101 em Guarapari/ES e que os animais foram levados para o CEREIAS em Aracruz/ES. O que são o CEREIAS?

- (A) Centrais de recuperação e introdução de animais soltos.
- (B) Seres metade mulher e metade peixe.
- (C) Centros de reintrodução de animais selvagens.
- (D) Centros de reintegração de indivíduos animais suspeitos.

29. O atual Governo brasileiro teve importante baixa na sua base ministerial no ano de 2020. Sérgio Fernando Moro, um dos principais responsáveis pela Operação Lava Jato deixou qual Ministério?

- (A) Casa Civil.
- (B) Economia.
- (C) Trabalho e Emprego.
- (D) Justiça e Segurança Pública.

30. Acerca dos aspectos geográficos do Estado do Espírito Santo, leia e analise os itens abaixo:

Item I - O Pico da Bandeira é o ponto mais alto do Estado do Espírito Santo, localizado na Serra do Caparaó, na divisa com Minas Gerais.

Item II - Na história capixaba, portugueses, holandeses, alemães e italianos foram os principais grupos étnicos colonizadores do Estado do Espírito Santo.

Item III - Atualmente, o Estado do Espírito Santo possui mais de doze milhões de habitantes. A maior parte da população se concentra na região sul do Estado.

Dos itens supra apresentados, pode-se CORRETAMENTE julgar que:

- (A) Os itens I e III são falsos.
- (B) Apenas o item I é falso.
- (C) Os itens I e II são verdadeiros.
- (D) Somente o item III é verdadeiro.

QUESTÕES DE CONHECIMENTOS ESPECÍFICOS

31. Situações de risco são aquelas em que uma pessoa ou grupo de pessoas "corre perigo", isto é, tem maior possibilidade ou chance de adoecer ou até mesmo de morrer. Qual dos exemplos abaixo não é uma situação de risco:

- (A) Bebês que nascem com menos de três quilos e meio.
- (B) Crianças que estão desnutridas.
- (C) Filhos de mães que fumam, bebem bebidas alcoólicas e usam drogas na gravidez.
- (D) Gestantes que não fazem o pré-natal.

32. O mosquito *Aedes aegypti* é transmissor de algumas doenças, conhecidas como arboviroses. É importante ressaltar que somente o mosquito infectado transmite a doença. Analise as doenças a seguir:

- I - Febre amarela.
- II - Dengue.
- III - Zika.
- IV - Chikungunya.

Das doenças acima quais que o mosquito *Aedes Aegypti* pode transmitir?

- (A) As doenças presentes nas alternativas II e III.
- (B) As doenças presentes nas alternativas I e IV.
- (C) As doenças presentes em todas as alternativas.
- (D) Nenhuma dessas doenças são transmitidas pelo *Aedes Aegypti*.

33. Qual das leis abaixo regula, em todo o território nacional, as ações e serviços de saúde, executados isolada ou conjuntamente, em caráter permanente ou eventual, por pessoas naturais ou jurídicas de direito público ou privado e dispõe sobre as condições para a promoção, proteção e recuperação da saúde, a organização e o funcionamento dos serviços correspondentes e dá outras providências?

- (A) Lei nº 6.080/1999.
- (B) Lei nº 8.080/1990.
- (C) Lei nº 8.088/1980.
- (D) Lei nº 8.060/1996.

34. Assinale a alternativa que não corresponde a atitudes de prevenção a Esquistossomose.

- (A) Saneamento básico.
- (B) Acesso a água potável.
- (C) Circuito do "fumacê" pelas vias públicas.
- (D) Acesso a medicamentos antiparasitários periodicamente.

35. Em relação aos cuidados com os reservatórios de água, a fim de prevenir a proliferação do mosquito *Aedes aegypti*, assinale a alternativa correta.

- (A) É necessário apenas não deixar a água se acumular nos pratos dos vasos de plantas.
- (B) Acrescentar borra de café nos pratos dos vasos de plantas.
- (C) É necessário não deixar a água se acumular e lavar quinzenalmente os pratos dos vasos de plantas.
- (D) É necessário não deixar a água se acumular e sempre que retirar o excesso de água, lavar com bucha os pratos dos vasos de plantas.

36. Um Agente Comunitário de Saúde, recentemente iniciou suas atividades na Estratégia Saúde da Família da sua cidade. Ao visitar uma residência da sua microárea, identificou uma criança com algumas vacinas atrasadas. A mãe informou que ficou com pena de levar a criança para vacinar, pois a criança sempre chora muito quando é vacinada.

No que diz respeito às atribuições que cabem a um Agente Comunitário de Saúde, a atitude mais adequada diante dessa situação é:

- (A) Denunciar a mãe às autoridades competentes, pela irresponsabilidade nos cuidados com o seu filho.
- (B) Apenas entender a atitude da mãe; afinal, ela agiu dessa forma porque ama muito o seu filho.
- (C) Realizar os devidos registros e imediatamente promover uma reunião com a comunidade para discussão do caso.
- (D) Orientar a mãe sobre a importância de vacinar o seu filho e encaminhá-la à Unidade de Saúde para administração das vacinas que estão atrasadas, que serão aplicadas por profissionais competentes.

37. É uma medida preventiva a leishmaniose, EXCETO:

- (A) Lavar as mãos.
- (B) Uso de mosquiteiros de malha.
- (C) Uso de repelentes.
- (D) Limpeza de quintais e terrenos.

38. Para cuidar da saúde da população de um determinado território, a unidade de saúde deve estar organizada de um modo que seus trabalhadores estejam divididos em funções e assumam responsabilidades diferentes e complementares. Veja abaixo as opções com algumas ações que são específicas ou que são comuns aos profissionais da equipe da unidade de saúde. Dentre elas, qual não é uma ação realizada pelo Agente Comunitário de Saúde:

- (A) Orientação sobre saúde bucal.
- (B) Realizar ações de educação em saúde.
- (C) Realizar planejamento.
- (D) Prescrever medicamentos simples, como dipirona ou paracetamol.

39. "OMS declara pandemia do Coronavírus. Mas o que isso significa?"

Entenda a diferença entre surto, epidemia e pandemia – e por que o Coronavírus se enquadra no último caso"

(Fonte: <https://super.abril.com.br/saude/oms-declara-pandemia-do-coronavirus-mas-o-que-isso-significa/>)

Assinale a alternativa que consta a correta definição de "Epidemia" e "Pandemia":

- (A) **Epidemia:** é o aumento do número de casos de determinada doença, muito acima do esperado e não delimitado a uma região. **Pandemia:** compreende um número de casos de doença acima do esperado, sem respeitar limites entre países ou continentes.
- (B) **Epidemia:** é a ocorrência de certo número de casos controlados em determinada região. **Pandemia:** compreende um número de casos de doença acima do esperado, sem respeitar limites entre países ou continentes.
- (C) **Epidemia:** é o aumento do número de casos de determinada doença, muito acima do esperado e não delimitado a uma região. **Pandemia:** é um aumento repentino do número de casos, dentro de limites muito restritos, como uma série de casos de rubéola em uma creche, vários indivíduos com conjuntivite em um quartel ou vários bebês com infecção respiratória em um berçário de hospital.
- (D) **Epidemia:** compreende um número de casos de doença acima do esperado, sem respeitar limites entre países ou continentes **Pandemia:** é o aumento do número de casos de determinada doença, muito acima do esperado e não delimitado a uma região.

40. "É por meio da visita domiciliar e da sua inserção na comunidade que o agente vai compreendendo a forma de viver, os códigos, as crenças, enfim, a dinâmica de vida das famílias por ele acompanhadas. A visita domiciliar requer, contudo, um saber-fazer que se aprende no cotidiano, mas pode e deve se basear em algumas condutas que demonstrem respeito, atenção, valorização, compromisso e ética." A visita domiciliar é a atividade mais importante do processo de trabalho do agente comunitário de saúde. As afirmações a seguir, relacione com "V" para as Verdadeiras ou "F" para as Falsas:

- Por meio da visita domiciliar, é possível identificar os moradores, por faixa etária, sexo e raça, ressaltando situações como gravidez, desnutrição, pessoas com deficiência etc.
- Toda visita deve ser realizada tendo como base o planejamento da equipe, pautado na identificação das necessidades de cada família.
- Na primeira visita, é indispensável que você diga seu nome, fale do seu trabalho, o motivo da visita e sempre pergunte se pode ser recebido naquele momento.
- A pessoa a ser visitada deve ser informada do motivo e da importância da visita. Chamá-las sempre pelo nome demonstra respeito e interesse por elas.

A sequência correta podemos identificar na alternativa:

- (A) F - V - F - F.
- (B) F - F - V - V.
- (C) V - V - V - V.
- (D) V - F - F - F.

RASCUNHO