

PREFEITURA MUNICIPAL DE GUARAPARI/ES

Concurso Público - Edital 001/2020

CARGO: Agente de Atendimento em Saúde II (AAS-2) **SALVA-VIDAS**

Caro(a) Candidato(a): **Antes de iniciar a prova leia atentamente as instruções a seguir:**

1. Este caderno contém 40 (quarenta) questões objetivas com 04 (quatro) opções (A, B, C, D). A prova terá duração máxima de 03 (três) horas. A prova terá seu horário de início em sala, a contar após a distribuição dos cadernos de prova e autorização do aplicador(a).
2. Confira em seu caderno de provas a sequência de questões. Você tem até 10 (dez) minutos do início das provas para solicitar a troca do caderno de provas que apresentar algum problema de impressão ou qualquer outro que inviabilize a realização da mesma, pois não serão aceitas reclamações posteriores nesse sentido.
3. A interpretação das questões, bem como das instruções, faz parte da prova. Portanto, ao aplicador(a) de sala e fiscais não há autorização para fornecer esclarecimentos sobre o conteúdo das provas, sendo esta atribuição de única e exclusiva responsabilidade do(a) candidato(a).
4. Você receberá do aplicador o cartão de respostas 30 (trinta) minutos após o início da prova, o cartão de respostas deverá obrigatoriamente ser assinado pelo(a) candidato(a) no local em que há a indicação: "**ASSINATURA**", utilizando sempre caneta esferográfica de tinta preta ou azul.
5. Caso realmente precise, utilize como rascunho os espaços em branco nas folhas do caderno de prova. Sugerimos que você assinale, inicialmente, no próprio caderno de provas, todas as respostas que julgar correta. Depois, passe-as para o cartão de respostas.
6. Questões com mais de uma alternativa assinalada, rasurada ou em branco serão **ANULADAS**. Portanto, ao preencher o cartão de respostas faça-o cuidadosamente. Evite erros, pois em hipótese alguma haverá substituição do cartão de respostas por erro do(a) candidato(a).
7. Ao terminar a prova ou findo o horário limite para sua realização, o candidato deverá **OBRIGATORIAMENTE** entregar seu cartão de respostas "**ASSINADO**", ao aplicador(a) de sala. O(a) candidato(a) que não devolver seu cartão de respostas será automaticamente **eliminado(a)** e não terá classificação alguma no concurso público.
8. **Atenção!** Preencha o cartão-resposta na mesma sequência numérica das questões do caderno de provas.
9. Somente será permitido levar o caderno de questões (prova), depois de decorrido o período de **120 (cento e vinte) minutos do início das provas.**
10. Não serão permitidas consultas a quaisquer materiais, uso de telefone celular ou outros aparelhos eletrônicos, assim como os demais procedimentos constantes no subitem 9.9 e no subitem 9.11 do Edital 001/2020.
11. Após o término da prova, o(a) candidato(a) deverá deixar imediatamente o recinto da mesma, sendo **terminantemente proibido** fazer contato com os(as) candidatos(as) que ainda não terminaram a prova sob pena de ser excluído do Concurso Público.
12. O desrespeito às normas que regem o presente concurso, bem como, a desobediência às exigências registradas no edital, além de sanções legais cabíveis implica na desclassificação do candidato.
13. Os dois últimos candidatos ao terminarem as provas deverão retirar-se da sala simultaneamente, após testemunharem o fechamento (lacre) do envelope de provas, assinando a Ata Relatário.
14. O candidato, após a divulgação dos gabaritos oficiais preliminares da Prova Objetiva, que será feita a partir das 20 horas do dia **06 de dezembro de 2020**, no site www.qualimp.com.br, poderá peticionar **RECURSO** à banca examinadora, quando julgar que ocorreu erro na formulação das questões e divulgação do gabarito preliminar, nos dias **07 e 08 de dezembro de 2020.**

BOA PROVA!!!

ATENÇÃO!!!

- O CARTÃO DE RESPOSTAS ABAIXO É PARA SER UTILIZADO SOMENTE COMO RASCUNHO.
- AO RECEBER O CARTÃO DE RESPOSTAS DEFINITIVO CONFIRA OS DADOS DE IDENTIFICAÇÃO (NOME, CARGO, NÚMERO DE INSCRIÇÃO) E EM SEGUIDA ASSINE NO LOCAL INDICADO.

CARTÃO RESPOSTA



"ÓRGÃO / ENTIDADE - UF"					"PROCESSO DE SELEÇÃO ___/2020"					
Nome:					Local:					
Cargo:					Data:		/2020			
Sala:		Nº de inscrição:			Turno:					
<p>* Marcar apenas uma opção para cada questão, evitando-se ultrapassar o círculo; * O círculo correspondente à questão escolhida deve ser totalmente preenchido, evitando-se ultrapassar o círculo; * Marcar apenas a quantidade de questões existentes na sua prova; * Utilize somente caneta esferográfica azul ou preta, não rasurar ou sujar o cartão; É NECESSIDADE DO CANDIDATO A CONFERÊNCIA DOS DADOS DE SEU CARTÃO DE RESPOSTA</p>										TIPO DE PROVA PROVA PADRÃO
01	(A)	(B)	(C)	(D)	21	(A)	(B)	(C)	(D)	
02	(A)	(B)	(C)	(D)	22	(A)	(B)	(C)	(D)	
03	(A)	(B)	(C)	(D)	23	(A)	(B)	(C)	(D)	
04	(A)	(B)	(C)	(D)	24	(A)	(B)	(C)	(D)	
05	(A)	(B)	(C)	(D)	25	(A)	(B)	(C)	(D)	
06	(A)	(B)	(C)	(D)	26	(A)	(B)	(C)	(D)	
07	(A)	(B)	(C)	(D)	27	(A)	(B)	(C)	(D)	
08	(A)	(B)	(C)	(D)	28	(A)	(B)	(C)	(D)	
09	(A)	(B)	(C)	(D)	29	(A)	(B)	(C)	(D)	
10	(A)	(B)	(C)	(D)	30	(A)	(B)	(C)	(D)	
11	(A)	(B)	(C)	(D)	31	(A)	(B)	(C)	(D)	
12	(A)	(B)	(C)	(D)	32	(A)	(B)	(C)	(D)	
13	(A)	(B)	(C)	(D)	33	(A)	(B)	(C)	(D)	
14	(A)	(B)	(C)	(D)	34	(A)	(B)	(C)	(D)	
15	(A)	(B)	(C)	(D)	35	(A)	(B)	(C)	(D)	
16	(A)	(B)	(C)	(D)	36	(A)	(B)	(C)	(D)	
17	(A)	(B)	(C)	(D)	37	(A)	(B)	(C)	(D)	
18	(A)	(B)	(C)	(D)	38	(A)	(B)	(C)	(D)	
19	(A)	(B)	(C)	(D)	39	(A)	(B)	(C)	(D)	
20	(A)	(B)	(C)	(D)	40	(A)	(B)	(C)	(D)	
_____ Assinatura do Candidato									Nº DE INSCRIÇÃO _____	

OBS.: O candidato deverá OBRIGATORIAMENTE, entregar seu cartão de repostas definitivo preenchido e ASSINADO, sob pena de ter seu cartão de respostas ANULADO. (item 9.17 do edital 001/2020)

QUESTÕES DE LÍNGUA PORTUGUESA

01. Leia o texto com atenção o texto a seguir e responda.

Vertente

Tanta gente esperando o resultado. Sentia-se bem ali, entre tantos. Foi até o rio. Enquanto não ouvisse o megafone com a novidade, poderia ficar junto com os mais calmos, pés na orla. "Tanta gente", ouvia todos repetindo, menos ele, que preferia pensar baixinho, seguindo como se sentisse umas cócegas no pensamento, embora só aceitasse essa surdina cálida no meio de outras vozes, como ali. Quando anunciaram o nome, engoliu o merecimento. Aproximou-se então – devagar. Sempre cultivara a convicção de que seria o escolhido por uma razão que justamente agora começava a lhe fugir. Via que não era mais o mesmo que aprendera a reconhecer. Sentiu a virilha molhada. Notou que toda a sua massa se diluía pelos poros. O corpo, ah, se desdobrava em córrego...

(NOLL, J. G. *Mínimos, Múltiplos, Comuns*. São Paulo: Francis, 2003.)

Conforme se apresentam suas características, pode-se dizer que esse texto é predominantemente:

- (A) Narrativo. (B) Descritivo. (C) Injuntivo. (D) Dissertativo.

02. Leia a tirinha a seguir, em que há uma conversa entre as personagens Mônica e Milena, com o personagem Cebolinha ao fundo:



Disponível em: <http://turmadamonica.uol.com.br/donasdarua/hqs.php>. Acesso em: 30 out. 2020

Sobre o texto apresentado, considere as seguintes afirmativas:

- I. No primeiro quadrinho, fica evidente uma preocupação por parte da Mônica em relação às atitudes de seu cão.
- II. No segundo quadrinho, percebe-se que Milena vê o abraço como uma forma de demonstrar amor.
- III. O abraço de Cebolinha em Mônica, no último quadrinho, é um indicativo de que Mônica é brava.

Estão corretas as afirmativas:

- (A) I e II, apenas.
(B) I e III, apenas.
(C) II e III, apenas.
(D) I, II e III.

03. Ditongos, tritongos e hiatos são os nomes dados aos encontros vocálicos da língua portuguesa.

Em qual das alternativas a seguir o exemplo de cada um desses encontros está correto?

- (A) SAÚDE contém um hiato, RAINHA possui um ditongo, e LEIGO apresenta um tritongo.
- (B) MEIGO contém um hiato, ÁGUA possui um ditongo, e PAÍS apresenta um tritongo.
- (C) SAÚDE contém um hiato, ÁGUA possui um ditongo, e QUAIS apresenta um tritongo.
- (D) MAGIA contém um hiato, ALAÚDE possui um ditongo, e QUAIS apresenta um tritongo.

04. Identifique a sentença em que a colocação do pronome oblíquo átono segue a norma padrão da língua portuguesa.

- (A) Desculpe-me pelos maus modos à mesa.
- (B) Não questione-se sobre certas decisões.
- (C) O professor havia dado-me nota baixa no trabalho.
- (D) Se comunique mais com as pessoas ao seu redor!

05. Leia o texto a seguir, observando o contexto do item lexical grifado.

“O Prof. Dumbledore mandou todos os alunos da Grifinória voltarem ao Salão Principal, onde foram se reunir a eles, dez minutos depois, os alunos da Lufa-Lufa, Corvinal e Sonserina, todos parecendo extremamente atordoados.

– Os professores e eu precisamos fazer uma busca **meticulosa** no castelo – disse o diretor aos alunos quando os professores McConagall e Flitwick fecharam as portas do salão que davam para o saguão. – Receio que, para sua própria segurança, vocês terão que passar a noite aqui. Quero que os monitores montem guarda nas saídas para o saguão e vou encarregar o monitor e a monitora-chefes de cuidarem disso. Eles devem me informar imediatamente qualquer perturbação que haja – acrescentou Dumbledore dirigindo-se a Percy, que assumiu um olhar de enorme orgulho e importância. – Mande um dos fantasmas me avisar.”

(ROWLING, J. K. *Harry Potter e o prisioneiro de Azkaban*. Rio de Janeiro: Rocco, 2000. p. 135.)

Dentre as opções a seguir, assinale aquela que apresenta uma palavra que pode substituir o vocábulo em destaque no texto sem prejuízo de sentido ao contexto da narrativa.

- (A) “rápida”.
- (B) “descuidada”.
- (C) “cautelosa”.
- (D) “momentânea”.

06. Identifique a frase em que o termo destacado é um vocativo.

- (A) Amanhã, faremos um jantar para comemorarmos nossas bodas de ouro.
- (B) Schumacher, ex-piloto da Fórmula 1, está afastado da mídia após o acidente nos Alpes Franceses.
- (C) Indignados, os funcionários da fábrica fizeram greve por melhores condições de trabalho.
- (D) Maestros, compareçam aos ensaios da orquestra com urgência!

07. Leia a notícia a seguir.

TERRA PODE ESTAR NO "CAMPO DE VISÃO" DE DIVERSOS EXOPLANETAS, SUGERE ESTUDO ***Investigando estrelas parecidas com o Sol, uma dupla de cientistas norte-americanos encontrou diversos planetas com linha de visão direta para o nosso planeta***

Redação Galileu 23 Out 2020 - 07h00 Atualizado em 23 Out 2020 - 07h00

Alguns planetas que estão fora do Sistema Solar, os chamados exoplanetas, têm uma linha de visão direta para observar a Terra, propõe uma dupla de pesquisadores dos Estados Unidos: Lisa Kaltenegger, da Universidade Cornell, e Joshua Pepper, da Universidade Lehigh. A descoberta é a conclusão de uma pesquisa que identificou 1.004 estrelas semelhantes ao Sol que podem conter exoplanetas como o nosso em suas zonas habitáveis.

O estudo, publicado na revista *Monthly Notices of the Royal Astronomical Society: Letters*, explica que todos os astros estão a cerca de 300 anos-luz da Terra e que devem ser capazes de detectar vestígios químicos de vida por aqui.

"Vamos reverter o ponto de vista para o de outras estrelas e perguntar de que ponto de vista outros observadores poderiam visualizar a Terra como um planeta transitando", disse Kaltenegger, em comunicado. "Se os observadores estivessem procurando, eles seriam capazes de ver sinais de uma biosfera na atmosfera do nosso Pálido Ponto Azul."

Mas quais sistemas estelares podem, de fato, nos encontrar? A chave para essa questão é a eclíptica da Terra, isto é, o plano em que nosso planeta orbita o Sol. A eclíptica é onde os exoplanetas com vista para cá estariam localizados, pois viabilizariam a observação da Terra.

"Se encontrarmos um planeta com uma biosfera vibrante, ficaríamos curiosos para saber se alguém está ou não olhando para nós também", afirmou Kaltenegger. "Se estamos procurando por vida inteligente no Universo, podem nos encontrar e podem querer entrar em contato. Acabamos de criar o mapa estelar de onde devemos observar primeiro."

Disponível em: <https://revistaagalileu.globo.com/Ciencia/Espaco/noticia/2020/10/terra-pode-estar-no-campo-de-visao-de-diversos-exoplanetas-sugere-estudo.html>. Acesso em: 30 out. 2020.

Segundo a notícia apresentada, é possível de se afirmar, EXCETO:

- (A) O exoplanetas são planetas que existem fora do Sistema Solar, sistema planetário do qual a Terra faz parte.
- (B) Os cientistas envolvidos na pesquisa criaram um mapa astronômico capaz de guiar os estudiosos na procura por vida inteligente dentro e fora do Sistema Solar.
- (C) A eclíptica da Terra, ou seja, o plano em que ela se movimenta ao redor do Sol, pode ser a chave para se entender de quais pontos os terráqueos podem ser observados.
- (D) A expressão "Pálido Ponto Azul" foi utilizada pela cientista Lisa Kaltenegger para se referir à visão do planeta Terra a distância.

08. Assinale a alternativa em que a divisão silábica está correta em todas as palavras:

- (A) Ma-ior / lu-cid-ez / ne-ces-si-da-de.
- (B) Ar-re-do-res / pis-ci-na / pa-chor-ra.
- (C) Nas-cen-te / me-nos / fi-gu-ra-nte.
- (D) Con-se-lho / ca-ri-nho / a-rre-pen-di-me-nto.

09. Segundo a norma padrão da língua portuguesa, a expressão destacada na sentença abaixo é classificada como:

"A velha insônia tossiu três da manhã."

(TREVISAN, D.. *Ah, É?*. 2ª ed. Rio de Janeiro: Record, 1994.)

- (A) Objeto direto do verbo *tossir*.
- (B) Adjunto adverbial do verbo *tossir*.
- (C) Objeto indireto do verbo *tossir*.
- (D) Sujeito do verbo *tossir*.

10. Complete as frases a seguir com os *porquês*:

- I. Não entendi _____ ele não quis comprar marmita no horário do almoço.
- II. Está fazendo essa cara de alegria para mim _____?
- III. _____ você está usando roupas de frio nesse calor? _____ estou com febre.

A sequência que preenche corretamente os espaços é:

- (A) I. "porque"; II. "porquê"; III. "Porque" e "Porque".
- (B) I. "por que"; II. "porquê"; III. "Por quê" e "Por que".
- (C) I. "por que"; II. "por quê"; III. "Por que" e "Porque".
- (D) I. "porque"; II. "por quê"; III. "Porque" e "Por que".

QUESTÕES DE MATEMÁTICA

11. Numa piscina de bolinhas foram colocadas 120 bolas amarelas, 150 bolas azuis, 130 bolas vermelhas e 100 bolas verdes. Com os olhos vendados, uma menina retira bolas da piscina. A probabilidade da:

- (A) Primeira bola a ser retirada da piscina ser verde é de 2%.
- (B) Primeira bola a ser retirada da piscina ser amarela é de 24%.
- (C) Primeira bola a ser retirada da piscina ser vermelha é de 2,6%.
- (D) Primeira bola a ser retirada da piscina ser azul é de 25%.

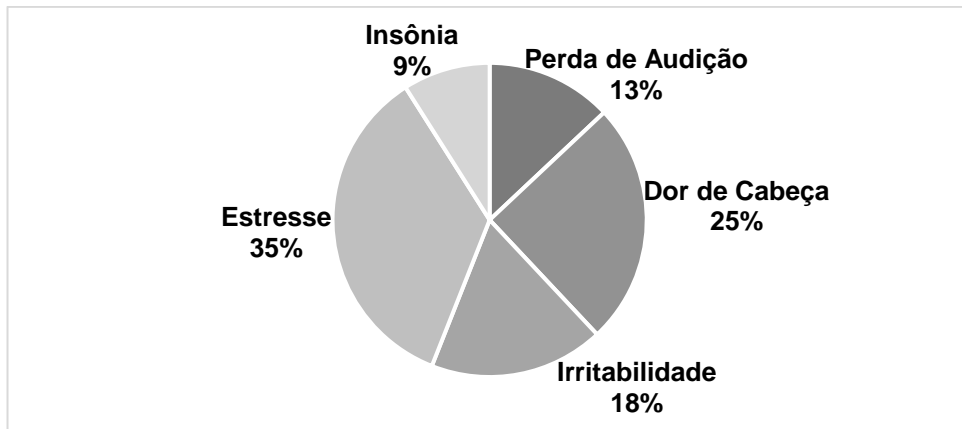
12. Em um dia, o número de pacientes atendidos nos Postos de Saúde da cidade de São Cândido:

Posto A = 24 pacientes	Posto D = 27 pacientes
Posto B = 34 pacientes	Posto E = 14 pacientes
Posto C = 22 pacientes	Posto F = 23 pacientes

A média de pacientes atendidos nos Postos de Saúde de São Candidato nesse dia foi de:

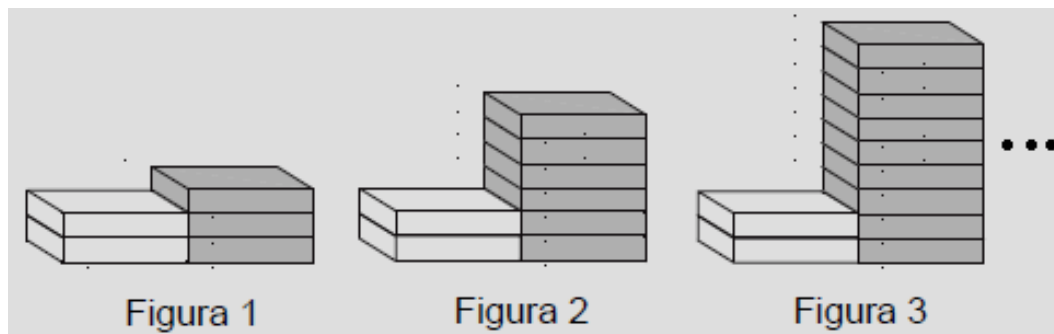
- (A) 24,5 pacientes.
- (B) 23,5 pacientes.
- (C) 24,0 pacientes.
- (D) 23,0 pacientes.

13. O gráfico abaixo indica o principal dano causado à saúde de 200 funcionários de uma fábrica de beneficiamento de rochas ornamentais, devido ao barulho excessivo. Diante dessas informações, é correto afirmar:



- (A) 120 funcionários tiveram dor de cabeça ou estresse.
- (B) Trabalhar no beneficiamento de rochas ornamentais sem os devidos equipamentos e proteção não traz riscos à saúde.
- (C) A perda de audição é a principal reclamação de funcionários que trabalham em ambientes com muito barulho.
- (D) O barulho excessivo provoca dor de cabeça, zumbido no ouvido e pressão alta.

14. Clara possui algumas caixas vazias, nas cores branca e cinza. Ela foi empilhando essas caixas, seguindo um padrão, conforme mostrado na figura abaixo:



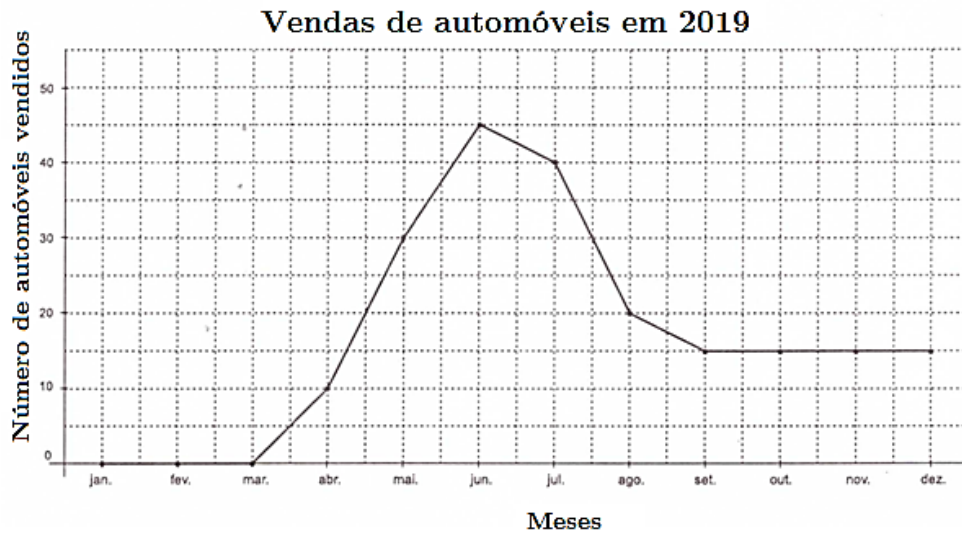
Uma das figuras montadas por ela, possui 107 caixas. Qual foi o número dessa figura montada por ela?

- (A) 27.
- (B) 35.
- (C) 41.
- (D) 53.

15. Em uma empresa, os cargos de Secretário e Tesoureiro estão vagos. O diretor dessa empresa precisa preencher esses cargos vagos. Para isso, analisou os perfis dos candidatos e viu que 15 deles possuem os pré-requisitos necessários para ocuparem os cargos. De quantas maneiras diferentes o diretor poderá preencher os cargos vagos?

- (A) 210.
- (B) 320.
- (C) 160.
- (D) 180.

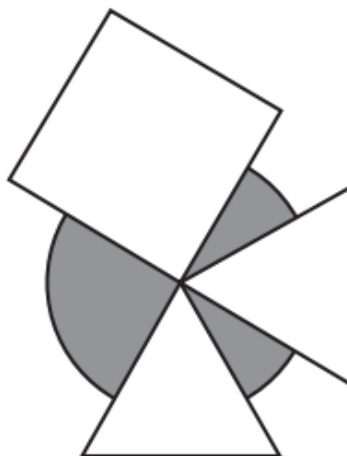
16. Uma concessionária montou o gráfico abaixo, apresentando as vendas de veículos novos vendidos durante os meses de 2019.



Observando o gráfico acima, é correto afirmar que:

- (A) A diferença entre o número de veículos vendidos no primeiro e no segundo semestre é maior que 40.
- (B) As vendas do terceiro trimestre foram superiores do que o segundo trimestre.
- (C) A média de vendas mensal dessa concessionária durante o ano de 2019 foi superior a 20.
- (D) As vendas referentes ao segundo quadrimestre excederam o dobro das vendas do terceiro quadrimestre.

17. Sobre cartão cinza de forma circular com diâmetro medindo 18 cm foram sobrepostos 3 cartões brancos: um quadrado e dois no formato de triângulos equiláteros, todos com lados medindo 12 cm, conforme a figura abaixo.



Dado: $\pi \cong 3,14$.

Qual é, aproximadamente, a área da região cinza que ficou exposta após a sobreposição dos cartões brancos?

- (A) 105,9 cm².
- (B) 112,6 cm².
- (C) 95,4 cm².
- (D) 122,2 cm².

18. Roberto comprou um carro usado em uma loja. Por pagar à vista, economizou a quantia de R\$ 720,00, pois recebeu um desconto de 15% no preço inicial do carro. Qual era o preço inicial do carro, sem o desconto?

- (A) R\$ 4.933,00. (B) R\$ 5.000,00. (C) R\$ 2.083,33. (D) R\$ 4.800,00.

19. Marcela aplicou um capital, a uma taxa mensal de 2%. Ela pretende retirar o dinheiro dessa aplicação quando, os juros rendidos por essa aplicação, for igual ao dobro do capital depositado por ela. Quantos meses, após o início da aplicação, que Marcela poderá sacar o dinheiro?

- (A) 66,6 meses. (B) 100 meses. (C) 33 meses. (D) 60 meses.

20. Uma lanchonete fez uma pesquisa com 255 clientes a respeito dos sabores dos refrigerantes preferidos de cada um. O resultado dessa pesquisa foi:

- 141 pessoas gostam o refrigerante de limão;
- 110 pessoas gostam o refrigerante de laranja;
- 119 pessoas gostam o refrigerante de uva;
- 71 pessoas gostam os refrigerantes de uva e limão;
- 60 pessoas gostam os refrigerantes de limão e laranja;
- 48 pessoas gostam os refrigerantes de laranja e uva;
- 28 pessoas não gostam de nenhum dos três sabores.

Analisando os dados obtidos com essa pesquisa, podemos afirmar que:

- (A) O número de pessoas que gostam apenas o refrigerante sabor uva é maior do que o número de pessoas que gostam apenas o refrigerante sabor laranja.
- (B) O número de pessoas que gostam os três sabores de refrigerantes é maior do que o número de pessoas que gostam apenas o refrigerante sabor uva.
- (C) O número de pessoas que gostam apenas o refrigerante de uva é menor do que o número de pessoas que gostam apenas do refrigerante de limão e laranja.
- (D) O número de pessoas que gostam os três sabores de refrigerante corresponde ao triplo do número de pessoas que gostam apenas dos refrigerantes de laranja e uva ao mesmo tempo.

QUESTÕES DE CONHECIMENTOS GERAIS

21. O Gentílico de quem nasce em Guarapari/ES é:

- (A) Guarapariense.
(B) Guaparuense.
(C) Guarapiense.
(D) Guarapiensense.

22. No dia 10 de setembro de 2020, tomou posse como presidente do Supremo Tribunal Federal (STF) e do Conselho Nacional de Justiça (CNJ) o ministro:

- (A) Luís Roberto Barroso.
- (B) Luiz Fux.
- (C) José Antônio Dias Toffoli.
- (D) Rosa Maria Pires Weber.

23. "Coronavírus é uma família de vírus que causam infecções respiratórias. O novo agente do Coronavírus (nCoV-2019) foi descoberto em 31/12/19 após casos registrados na China"

(Fonte: <https://coronavirus.saude.gov.br/linha-do-tempo/>, acesso em:11/11/2020)

Sobre o novo Coronavírus, qual das afirmativas abaixo é falsa:

- (A) Ainda não há consenso sobre como ocorreu a mutação que gerou do novo vírus.
- (B) Dentre os principais sintomas estão a tosse, febre, dificuldade para respirar, perda de olfato e paladar.
- (C) Uma das principais formas de evitar o contágio é aglomeração de pessoas e o uso de máscaras.
- (D) No Brasil, mais de 5 milhões de pessoas foram infectadas e mais de 150 mil pessoas já morreram de Covid-19.

24. Apagão é um evento que ocorre no gerenciamento da carga do sistema elétrico quando a demanda excede a capacidade geradora/limites operativos do sistema de transmissão. Recentemente, às vésperas das eleições municipais corridas em 15/11/2020, um estado brasileiro da Região Norte passou por um apagão que durou vários dias, a falta de energia afetou o acesso à água encanada, internet, serviços de telefonia, caixas eletrônicos. Qual estado que foi afetado diretamente por esse apagão?

- (A) Acre.
- (B) Amazonas.
- (C) Roraima.
- (D) Amapá.

25. O município de Guarapari/ES fica a cerca de 51 km de Vitória, capital do Espírito Santo, faz parte da região metropolitana e é inserido no território sul litorâneo. O município de Guarapari/ES faz divisa com os municípios de:

- (A) Marechal Floriano, Viana, Vila Velha, Anchieta e Alfredo Chaves.
- (B) Piúma, Viana, Vila Velha, Anchieta e Alfredo Chaves.
- (C) Cariacica, Piúma, Vila Velha, Anchieta e Iconha.
- (D) Marechal Floriano, Iconha, Vila Velha, Anchieta e Alfredo Chaves.

26. O ano de 2020 tem sido marcado por grandes problemas de saúde e ambientais. Na parte ambiental tivemos grande região de qual ecossistema afetado pelas queimadas:

- (A) Manguezal.
- (B) Caatinga.
- (C) Pantanal.
- (D) Pampas.

27. "Fontes de energia renováveis representam 83% da matriz elétrica brasileira".

(Fonte: <https://www.gov.br/pt-br/noticias/energia-minerais-e-combustiveis/2020/01/fontes-de-energia-renovaveis-representam-83-da-matriz-eletrica-brasileira>)

Sobre a geração de energia, é correto afirmar:

- (A) São fontes de energia renovável: hidrelétricas, eólica, gás natural, petróleo e solar.
- (B) A principal fonte de energia brasileira é a hidrelétrica.
- (C) As energias renováveis e não renováveis contribuem da mesma forma para a emissão de gases do efeito estufa.
- (D) Por ter muitos rios, o brasileiro não precisa se preocupar com gastos de energia elétrica.

28. Há pouco tempo foi noticiado em diversos órgãos de imprensa, que filhotes de gambá foram resgatados às margens da BR-101 em Guarapari/ES e que os animais foram levados para o CERFIAS em Aracruz/ES. O que são o CERFIAS?

- (A) Centrais de recuperação e introdução de animais soltos.
- (B) Seres metade mulher e metade peixe.
- (C) Centros de reintrodução de animais selvagens.
- (D) Centros de reintegração de indivíduos animais suspeitos.

29. O atual Governo brasileiro teve importante baixa na sua base ministerial no ano de 2020. Sérgio Fernando Moro, um dos principais responsáveis pela Operação Lava Jato deixou qual Ministério?

- (A) Casa Civil.
- (B) Economia.
- (C) Trabalho e Emprego.
- (D) Justiça e Segurança Pública.

30. Acerca dos aspectos geográficos do Estado do Espírito Santo, leia e analise os itens abaixo:

Item I - O Pico da Bandeira é o ponto mais alto do Estado do Espírito Santo, localizado na Serra do Caparaó, na divisa com Minas Gerais.

Item II - Na história capixaba, portugueses, holandeses, alemães e italianos foram os principais grupos étnicos colonizadores do Estado do Espírito Santo.

Item III - Atualmente, o Estado do Espírito Santo possui mais de doze milhões de habitantes. A maior parte da população se concentra na região sul do Estado.

Dos itens supra apresentados, pode-se CORRETAMENTE julgar que:

- (A) Os itens I e III são falsos.
- (B) Apenas o item I é falso.
- (C) Os itens I e II são verdadeiros.
- (D) Somente o item III é verdadeiro.

QUESTÕES DE CONHECIMENTOS ESPECÍFICOS

31. Atualmente, o número de óbitos por afogamento em nosso país supera os 6.000 casos por ano, isto sem falar nos incidentes não fatais que chegam a mais de 100.000. (SZPILMAN, 2017)

(Fonte: CBMES – Manual Técnico de Salvamento Aquático.)

Observe os dados sobre afogamento, abaixo, e considere a alternativa correta:

- (A) Mulheres morrem 6 vezes mais de afogamento, comparada aos homens.
- (B) O Sudeste do Brasil tem o maior índice de mortalidade.
- (C) 44% ocorrem entre novembro e fevereiro.
- (D) 51% das mortes na faixa de 1 a 9 anos de idade ocorrem em águas naturais (rios, represas e praias).

32. Sobre os graus de afogamento, considere a alternativa que descreve, corretamente, "Afogamentos de Grau 3":

- (A) As vítimas que apresentam esse grau de afogamento, aspiraram uma quantidade mínima de água, suficiente para produzir tosse, mas sem espuma na boca e/ou nariz. Geralmente, têm um aspecto geral bom, e a ausculta pulmonar normal ou com sibilos ou roncos, sem o aparecimento de estertores sendo que seu nível de consciência é bom com a vítima apresentando lucidez, porém podem estar agitadas ou sonolentas.
- (B) É apresentado pelas vítimas que aspiram quantidade de água suficiente para alterar a troca gasosa ($O_2 - CO_2$), ocasionando pequena quantidade de espuma na boca e/ou nariz. São vítimas conscientes, porém agitadas ou desorientadas, e se for constatada cianose, nos lábios e dedos, temos o comprometimento do sistema respiratório.
- (C) Assemelha-se muito com o de grau 2, no que tange à quantidade de água aspirada, porém o nível de consciência pode variar de agitação ao coma, sendo que a vítima quando em coma não desperta mesmo com estímulo doloroso intenso.
- (D) Neste grau de afogamento a vítima aspira uma quantidade importante de água, apresentando sinais de insuficiência respiratória aguda, com dispneia intensa (dificuldade respiratória), cianose de mucosas e extremidades, ação estertora intensa, indicando um edema pulmonar agudo, e também a presença de secreção nasal e bucal com pulso radial palpável.

33. O uso de apito ou advertência de um Salva Vidas a um banhista em área de risco é exemplo de prevenção:

- (A) Ativa.
- (B) Reativa.
- (C) Redutiva.
- (D) Indutiva.

34. É o equipamento utilizado pelos Salva-Vidas para ingressar ao mar com rapidez, importantíssimo no resgate de vítimas de afogamento. Trata-se de:

- (A) Nadadeiras.
- (B) Bote Inflável.
- (C) Pocket Mask.
- (D) Cinto de Salvamento Aquático.

35. Com relação as etapas do salvamento aquático, ao encostar os pés na água, o salva-vidas deve realizar a elevação de joelhos para vencer o atrito da água, após isso, deverá:

- (A) Realizar a corrida lateral.
- (B) Iniciar as golfinhadas.
- (C) Colocar as nadadeiras.
- (D) Desclipar o flutuador.

36. A Cadeia de Sobrevivência do Afogamento se divide em 3 fases do afogamento, Pré-evento; Evento; e Pós evento, que se subdividem em:

- (A) Reconhecer o afogado – Fornecer flutuação – Remover da água.
- (B) Prevenção – Reconhecer o afogado – Remover da água – Suporte a vida.
- (C) Prevenção – Reconhecer o afogado – Fornecer flutuação – Remover da água – Suporte a vida.
- (D) Reconhecer o afogado – Fornecer flutuação – Remover da água – Suporte a vida.

37. A utilização de equipamentos adequados no resgate de vítimas de afogamento é imprescindível. Marque V (verdadeiro) ou F (falso) e assinale a alternativa correspondente.

- O apito deve ser usado de forma contínua com sibilos curtos.
- A máscara portátil para ventilação boca a máscara, especial para Reanimação Cardiopulmonar, não evita o contato boca a boca com a vítima.
- O Flutuador proporciona ao bombeiro, uma alça segura para envolver em seu ombro, em forma de tiracolo, ao rebocar a vítima.
- A nadadeira oferece ao usuário o máximo de propulsão com o mínimo de esforço.

- (A) F – V – F – F. (B) F – F – V – V. (C) V – F – F – V. (D) V – V – V – F.

38. Ao prestar socorro tem-se que ter cuidado para não se tornar a vítima. Sobre a abordagem/resgate da vítima, marque a alternativa incorreta.

- (A) O nado de aproximação é o nado crawl, que deve ser feito com a cabeça fora da água visualizando a vítima em todo momento. Essa natação deve ser até aproximadamente 0,5m da vítima (Distância de segurança).
- (B) Sem a utilização do flutuador, deve-se efetuar o Canivete, passando por baixo da vítima e abordando pelas costas com segurança, impedindo que ela vire e te agarre.
- (C) Quando estiver sozinho no resgate, após a realização do peito cruzado, deve dar início ao reboque da vítima através da pernada "tesourada", mantendo sempre as vias aéreas da vítima fora da água.
- (D) Quando estiver sozinho no resgate e a vítima estiver inconsciente ou consciente, mas sem condições de caminhar, ela deve ser arrastada pela técnica da "Chave de Rautek" até uma área segura.

39. Vítimas que aspiraram uma quantidade mínima de água, suficiente para produzir tosse, mas sem espuma na boca e/ou nariz. Geralmente têm um aspecto geral bom, e a ausculta pulmonar normal ou com sibilos ou roncos, sem o aparecimento de estertores sendo que seu nível de consciência é bom e apresenta lucidez, porém podem estar agitadas ou sonolentas. Tais vítimas sentem frio e têm suas frequências cardíacas e respiratórias aumentadas. O tratamento nesse caso deve compreender, no mínimo:

- I - Verificação dos sinais vitais.
- II - Limpeza de vias aéreas.
- III - Fazer a vítima repousar e tranquilizar.
- IV - Aquecer a vítima.
- V - Conduzir ao hospital, caso necessário.

Das alternativas acima está correto o que se afirma em:

- (A) I, III, IV e V apenas.
- (B) II, III e V apenas.
- (C) I, II e IV apenas.
- (D) I, II, III, IV e V.

40. Sinais vitais são aqueles que indicam a existência de vida. São reflexos ou indícios que permitem concluir sobre o estado geral de uma pessoa. Os sinais sobre o funcionamento do corpo humano que devem ser compreendidos e conhecidos são apenas:

- (A) Consciência, Pulso, Respiração e Pressão arterial.
- (B) Pulso, Respiração e Pressão arterial.
- (C) Temperatura, Pulso, Respiração e Pressão arterial.
- (D) Temperatura, Pulso, Respiração e Palidez.

EM BRANCO

RASCUNHO