

PREFEITURA MUNICIPAL DE GUARAPARI/ES

Concurso Público - Edital 001/2020

CARGO: Agente de Serviço Operacional I (ASO 1) AUXILIAR DE SERVIÇO ESCOLAR

Caro(a) Candidato(a): **Antes de iniciar a prova leia atentamente as instruções a seguir:**

1. Este caderno contém 40 (quarenta) questões objetivas com 04 (quatro) opções (A, B, C, D). A prova terá duração máxima de 03 (três) horas. A prova terá seu horário de início em sala, a contar após a distribuição dos cadernos de prova e autorização do aplicador(a).
2. Confira em seu caderno de provas a sequência de questões. Você tem até 10 (dez) minutos do início das provas para solicitar a troca do caderno de provas que apresentar algum problema de impressão ou qualquer outro que inviabilize a realização da mesma, pois não serão aceitas reclamações posteriores nesse sentido.
3. A interpretação das questões, bem como das instruções, faz parte da prova. Portanto, ao aplicador(a) de sala e fiscais não há autorização para fornecer esclarecimentos sobre o conteúdo das provas, sendo esta atribuição de única e exclusiva responsabilidade do(a) candidato(a).
4. Você receberá do aplicador o cartão de respostas 30 (trinta) minutos após o início da prova, o cartão de respostas deverá obrigatoriamente ser assinado pelo(a) candidato(a) no local em que há a indicação: “**ASSINATURA**”, utilizando sempre caneta esferográfica de tinta preta ou azul.
5. Caso realmente precise, utilize como rascunho os espaços em branco nas folhas do caderno de prova. Sugerimos que você assinale, inicialmente, no próprio caderno de provas, todas as respostas que julgar correta. Depois, passe-as para o cartão de respostas.
6. Questões com mais de uma alternativa assinalada, rasurada ou em branco serão **ANULADAS**. Portanto, ao preencher o cartão de respostas faça-o cuidadosamente. Evite erros, pois em hipótese alguma haverá substituição do cartão de respostas por erro do(a) candidato(a).
7. Ao terminar a prova ou findo o horário limite para sua realização, o candidato deverá **OBRIGATORIAMENTE** entregar seu cartão de respostas “**ASSINADO**”, ao aplicador(a) de sala. O(a) candidato(a) que não devolver seu cartão de respostas será automaticamente **eliminado(a)** e não terá classificação alguma no concurso público.
8. **Atenção!** Preencha o cartão-resposta na mesma sequência numérica das questões do caderno de provas.
9. Somente será permitido levar o caderno de questões (prova), depois de decorrido o período de **120 (cento e vinte) minutos do início das provas.**
10. Não serão permitidas consultas a quaisquer materiais, uso de telefone celular ou outros aparelhos eletrônicos, assim como os demais procedimentos constantes no subitem 9.9 e no subitem 9.11 do Edital 001/2020.
11. Após o término da prova, o(a) candidato(a) deverá deixar imediatamente o recinto da mesma, sendo **terminantemente proibido** fazer contato com os(as) candidatos(as) que ainda não terminaram a prova sob pena de ser excluído do Concurso Público.
12. O desrespeito às normas que regem o presente concurso, bem como, a desobediência às exigências registradas no edital, além de sanções legais cabíveis implica na desclassificação do candidato.
13. Os dois últimos candidatos ao terminarem as provas deverão retirar-se da sala simultaneamente, após testemunharem o fechamento (lacre) do envelope de provas, assinando a Ata Relatário.
14. O candidato, após a divulgação dos gabaritos oficiais preliminares da Prova Objetiva, que será feita a partir das 20 horas do dia **06 de dezembro de 2020**, no site www.qualimp.com.br, poderá peticionar **RECURSO** à banca examinadora, quando julgar que ocorreu erro na formulação das questões e divulgação do gabarito preliminar, nos dias **07 e 08 de dezembro de 2020.**

BOA PROVA!!!


ATENÇÃO!!!

- O CARTÃO DE RESPOSTAS ABAIXO É PARA SER UTILIZADO SOMENTE COMO RASCUNHO.
- AO RECEBER O CARTÃO DE RESPOSTAS DEFINITIVO CONFIRA OS DADOS DE IDENTIFICAÇÃO (NOME, CARGO, NÚMERO DE INSCRIÇÃO) E EM SEGUIDA ASSINE NO LOCAL INDICADO.

CARTÃO RESPOSTA



"ÓRGÃO / ENTIDADE - UF"				
"PROCESSO DE SELEÇÃO ___/2020"				
Nome:		Local:		
Cargo:		Data:	/2020	Turno:
Sala:	Nº de inscrição:			

<ul style="list-style-type: none">* Marcar apenas uma opção para cada questão, evitando-se ultrapassar o círculo;* O círculo correspondente à questão escolhida deve ser totalmente preenchido, evitando-se ultrapassar o círculo;* Marcar apenas a quantidade de questões existentes na sua prova;* Utilize somente caneta esferográfica azul ou preta, não rasurar ou sujar o cartão; É NECESSIDADE DO CANDIDATO A CONFERÊNCIA DOS DADOS DE SEU CARTÃO DE RESPOSTA					 A ● B C D					TIPO DE PROVA PROVA PADRÃO	
--	--	--	--	--	---	--	--	--	--	--------------------------------------	--

01	(A)	(B)	(C)	(D)	21	(A)	(B)	(C)	(D)
02	(A)	(B)	(C)	(D)	22	(A)	(B)	(C)	(D)
03	(A)	(B)	(C)	(D)	23	(A)	(B)	(C)	(D)
04	(A)	(B)	(C)	(D)	24	(A)	(B)	(C)	(D)
05	(A)	(B)	(C)	(D)	25	(A)	(B)	(C)	(D)
06	(A)	(B)	(C)	(D)	26	(A)	(B)	(C)	(D)
07	(A)	(B)	(C)	(D)	27	(A)	(B)	(C)	(D)
08	(A)	(B)	(C)	(D)	28	(A)	(B)	(C)	(D)
09	(A)	(B)	(C)	(D)	29	(A)	(B)	(C)	(D)
10	(A)	(B)	(C)	(D)	30	(A)	(B)	(C)	(D)
11	(A)	(B)	(C)	(D)	31	(A)	(B)	(C)	(D)
12	(A)	(B)	(C)	(D)	32	(A)	(B)	(C)	(D)
13	(A)	(B)	(C)	(D)	33	(A)	(B)	(C)	(D)
14	(A)	(B)	(C)	(D)	34	(A)	(B)	(C)	(D)
15	(A)	(B)	(C)	(D)	35	(A)	(B)	(C)	(D)
16	(A)	(B)	(C)	(D)	36	(A)	(B)	(C)	(D)
17	(A)	(B)	(C)	(D)	37	(A)	(B)	(C)	(D)
18	(A)	(B)	(C)	(D)	38	(A)	(B)	(C)	(D)
19	(A)	(B)	(C)	(D)	39	(A)	(B)	(C)	(D)
20	(A)	(B)	(C)	(D)	40	(A)	(B)	(C)	(D)

Assinatura do Candidato		Nº DE INSCRIÇÃO
-------------------------	--	-----------------

OBS.: O candidato deverá OBRIGATORIAMENTE, entregar seu cartão de repostas definitivo preenchido e ASSINADO, sob pena de ter seu cartão de respostas ANULADO. (item 9.17 do edital 001/2020)

QUESTÕES DE LÍNGUA PORTUGUESA

01. Leia o texto com atenção o texto a seguir e responda.

Vertente

Tanta gente esperando o resultado. Sentia-se bem ali, entre tantos. Foi até o rio. Enquanto não ouvisse o megafone com a novidade, poderia ficar junto com os mais calmos, pés na orla. "Tanta gente", ouvia todos repetindo, menos ele, que preferia pensar baixinho, seguindo como se sentisse umas cócegas no pensamento, embora só aceitasse essa surdina cálida no meio de outras vozes, como ali. Quando anunciaram o nome, engoliu o merecimento. Aproximou-se então – devagar. Sempre cultivara a convicção de que seria o escolhido por uma razão que justamente agora começava a lhe fugir. Via que não era mais o mesmo que aprendera a reconhecer. Sentiu a virilha molhada. Notou que toda a sua massa se diluía pelos poros. O corpo, ah, se desdobrava em córrego...

(NOLL, J. G. *Mínimos, Múltiplos, Comuns*. São Paulo: Francis, 2003.)

Conforme se apresentam suas características, pode-se dizer que esse texto é predominantemente:

- (A) Narrativo. (B) Descritivo. (C) Injuntivo. (D) Dissertativo.

02. Leia a tirinha a seguir, em que há uma conversa entre as personagens Mônica e Milena, com o personagem Cebolinha ao fundo:



Disponível em: <http://turmadamonica.uol.com.br/donasdarua/hqs.php>. Acesso em: 30 out. 2020

Sobre o texto apresentado, considere as seguintes afirmativas:

- I. No primeiro quadrinho, fica evidente uma preocupação por parte da Mônica em relação às atitudes de seu cão.
- II. No segundo quadrinho, percebe-se que Milena vê o abraço como uma forma de demonstrar amor.
- III. O abraço de Cebolinha em Mônica, no último quadrinho, é um indicativo de que Mônica é brava.

Estão corretas as afirmativas:

- (A) I e II, apenas.
(B) I e III, apenas.
(C) II e III, apenas.
(D) I, II e III.

03. Ditongos, tritongos e hiatos são os nomes dados aos encontros vocálicos da língua portuguesa.

Em qual das alternativas a seguir o exemplo de cada um desses encontros está correto?

- (A) SAÚDE contém um hiato, RAINHA possui um ditongo, e LEIGO apresenta um tritongo.
- (B) MEIGO contém um hiato, ÁGUA possui um ditongo, e PAÍS apresenta um tritongo.
- (C) SAÚDE contém um hiato, ÁGUA possui um ditongo, e QUAIS apresenta um tritongo.
- (D) MAGIA contém um hiato, ALAÚDE possui um ditongo, e QUAIS apresenta um tritongo.

04. Identifique a sentença em que a colocação do pronome oblíquo átono segue a norma padrão da língua portuguesa.

- (A) Desculpe-me pelos maus modos à mesa.
- (B) Não questione-se sobre certas decisões.
- (C) O professor havia dado-me nota baixa no trabalho.
- (D) Se comunique mais com as pessoas ao seu redor!

05. Leia o texto a seguir, observando o contexto do item lexical grifado.

“O Prof. Dumbledore mandou todos os alunos da Grifinória voltarem ao Salão Principal, onde foram se reunir a eles, dez minutos depois, os alunos da Lufa-Lufa, Corvinal e Sonserina, todos parecendo extremamente atordoados.

– Os professores e eu precisamos fazer uma busca **meticulosa** no castelo – disse o diretor aos alunos quando os professores McConagall e Flitwick fecharam as portas do salão que davam para o saguão. – Receio que, para sua própria segurança, vocês terão que passar a noite aqui. Quero que os monitores montem guarda nas saídas para o saguão e vou encarregar o monitor e a monitora-chefes de cuidarem disso. Eles devem me informar imediatamente qualquer perturbação que haja – acrescentou Dumbledore dirigindo-se a Percy, que assumiu um olhar de enorme orgulho e importância. – Mande um dos fantasmas me avisar.”

(ROWLING, J. K. *Harry Potter e o prisioneiro de Azkaban*. Rio de Janeiro: Rocco, 2000. p. 135.)

Dentre as opções a seguir, assinale aquela que apresenta uma palavra que pode substituir o vocábulo em destaque no texto sem prejuízo de sentido ao contexto da narrativa.

- (A) “rápida”.
- (B) “descuidada”.
- (C) “cautelosa”.
- (D) “momentânea”.

06. Identifique a frase em que o termo destacado é um vocativo.

- (A) Amanhã, faremos um jantar para comemorarmos nossas bodas de ouro.
- (B) Schumacher, ex-piloto da Fórmula 1, está afastado da mídia após o acidente nos Alpes Franceses.
- (C) Indignados, os funcionários da fábrica fizeram greve por melhores condições de trabalho.
- (D) Maestros, compareçam aos ensaios da orquestra com urgência!

07. Leia a notícia a seguir.

TERRA PODE ESTAR NO "CAMPO DE VISÃO" DE DIVERSOS EXOPLANETAS, SUGERE ESTUDO ***Investigando estrelas parecidas com o Sol, uma dupla de cientistas norte-americanos encontrou diversos planetas com linha de visão direta para o nosso planeta***

Redação Galileu 23 Out 2020 - 07h00 Atualizado em 23 Out 2020 - 07h00

Alguns planetas que estão fora do Sistema Solar, os chamados exoplanetas, têm uma linha de visão direta para observar a Terra, propõe uma dupla de pesquisadores dos Estados Unidos: Lisa Kaltenegger, da Universidade Cornell, e Joshua Pepper, da Universidade Lehigh. A descoberta é a conclusão de uma pesquisa que identificou 1.004 estrelas semelhantes ao Sol que podem conter exoplanetas como o nosso em suas zonas habitáveis.

O estudo, publicado na revista *Monthly Notices of the Royal Astronomical Society: Letters*, explica que todos os astros estão a cerca de 300 anos-luz da Terra e que devem ser capazes de detectar vestígios químicos de vida por aqui.

"Vamos reverter o ponto de vista para o de outras estrelas e perguntar de que ponto de vista outros observadores poderiam visualizar a Terra como um planeta transitando", disse Kaltenegger, em comunicado. "Se os observadores estivessem procurando, eles seriam capazes de ver sinais de uma biosfera na atmosfera do nosso Pálido Ponto Azul."

Mas quais sistemas estelares podem, de fato, nos encontrar? A chave para essa questão é a eclíptica da Terra, isto é, o plano em que nosso planeta orbita o Sol. A eclíptica é onde os exoplanetas com vista para cá estariam localizados, pois viabilizariam a observação da Terra.

"Se encontrarmos um planeta com uma biosfera vibrante, ficaríamos curiosos para saber se alguém está ou não olhando para nós também", afirmou Kaltenegger. "Se estamos procurando por vida inteligente no Universo, podem nos encontrar e podem querer entrar em contato. Acabamos de criar o mapa estelar de onde devemos observar primeiro."

Disponível em: <https://revistaagalileu.globo.com/Ciencia/Espaco/noticia/2020/10/terra-pode-estar-no-campo-de-visao-de-diversos-exoplanetas-sugere-estudo.html>. Acesso em: 30 out. 2020.

Segundo a notícia apresentada, é possível de se afirmar, EXCETO:

- (A) O exoplanetas são planetas que existem fora do Sistema Solar, sistema planetário do qual a Terra faz parte.
- (B) Os cientistas envolvidos na pesquisa criaram um mapa astronômico capaz de guiar os estudiosos na procura por vida inteligente dentro e fora do Sistema Solar.
- (C) A eclíptica da Terra, ou seja, o plano em que ela se movimenta ao redor do Sol, pode ser a chave para se entender de quais pontos os terráqueos podem ser observados.
- (D) A expressão "Pálido Ponto Azul" foi utilizada pela cientista Lisa Kaltenegger para se referir à visão do planeta Terra a distância.

08. Assinale a alternativa em que a divisão silábica está correta em todas as palavras:

- (A) Ma-ior / lu-cid-ez / ne-ces-si-da-de.
- (B) Ar-re-do-res / pis-ci-na / pa-chor-ra.
- (C) Nas-cen-te / me-nos / fi-gu-ra-nte.
- (D) Con-se-lho / ca-ri-nho / a-rre-pen-di-me-nto.

09. Segundo a norma padrão da língua portuguesa, a expressão destacada na sentença abaixo é classificada como:

"A velha insônia tossiu três da manhã."

(TREVISAN, D.. *Ah, É?*. 2ª ed. Rio de Janeiro: Record, 1994.)

- (A) Objeto direto do verbo *tossir*.
- (B) Adjunto adverbial do verbo *tossir*.
- (C) Objeto indireto do verbo *tossir*.
- (D) Sujeito do verbo *tossir*.

10. Complete as frases a seguir com os *porquês*:

- I. Não entendi _____ ele não quis comprar marmita no horário do almoço.
- II. Está fazendo essa cara de alegria para mim _____?
- III. _____ você está usando roupas de frio nesse calor? _____ estou com febre.

A sequência que preenche corretamente os espaços é:

- (A) I. "porque"; II. "porquê"; III. "Porque" e "Porque".
- (B) I. "por que"; II. "porquê"; III. "Por quê" e "Por que".
- (C) I. "por que"; II. "por quê"; III. "Por que" e "Porque".
- (D) I. "porque"; II. "por quê"; III. "Porque" e "Por que".

QUESTÕES DE MATEMÁTICA

11. Numa piscina de bolinhas foram colocadas 120 bolas amarelas, 150 bolas azuis, 130 bolas vermelhas e 100 bolas verdes. Com os olhos vendados, uma menina retira bolas da piscina. A probabilidade da:

- (A) Primeira bola a ser retirada da piscina ser verde é de 2%.
- (B) Primeira bola a ser retirada da piscina ser amarela é de 24%.
- (C) Primeira bola a ser retirada da piscina ser vermelha é de 2,6%.
- (D) Primeira bola a ser retirada da piscina ser azul é de 25%.

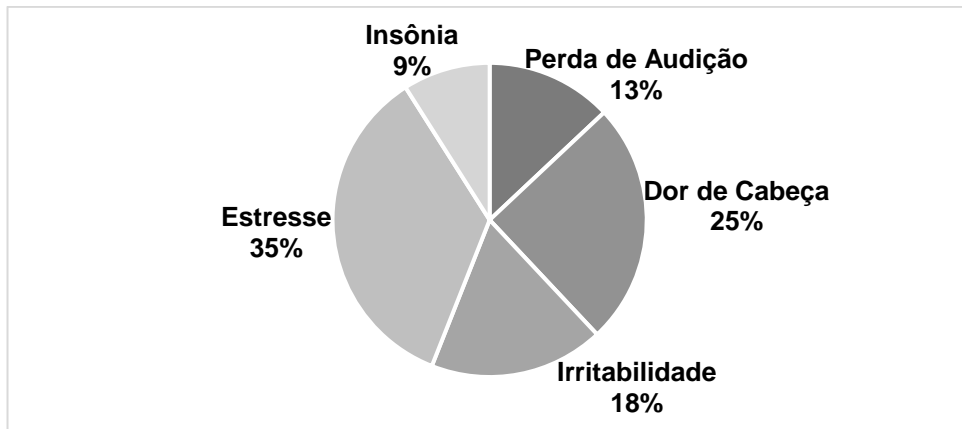
12. Em um dia, o número de pacientes atendidos nos Postos de Saúde da cidade de São Cândido:

Posto A = 24 pacientes	Posto D = 27 pacientes
Posto B = 34 pacientes	Posto E = 14 pacientes
Posto C = 22 pacientes	Posto F = 23 pacientes

A média de pacientes atendidos nos Postos de Saúde de São Candidato nesse dia foi de:

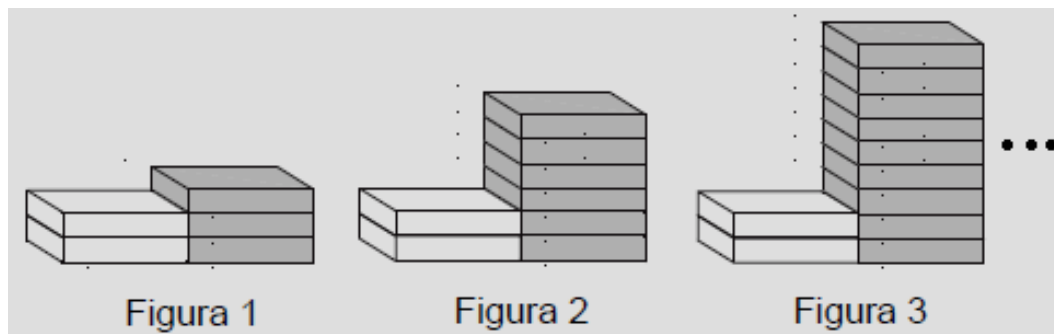
- (A) 24,5 pacientes.
- (B) 23,5 pacientes.
- (C) 24,0 pacientes.
- (D) 23,0 pacientes.

13. O gráfico abaixo indica o principal dano causado à saúde de 200 funcionários de uma fábrica de beneficiamento de rochas ornamentais, devido ao barulho excessivo. Diante dessas informações, é correto afirmar:



- (A) 120 funcionários tiveram dor de cabeça ou estresse.
- (B) Trabalhar no beneficiamento de rochas ornamentais sem os devidos equipamentos e proteção não traz riscos à saúde.
- (C) A perda de audição é a principal reclamação de funcionários que trabalham em ambientes com muito barulho.
- (D) O barulho excessivo provoca dor de cabeça, zumbido no ouvido e pressão alta.

14. Clara possui algumas caixas vazias, nas cores branca e cinza. Ela foi empilhando essas caixas, seguindo um padrão, conforme mostrado na figura abaixo:



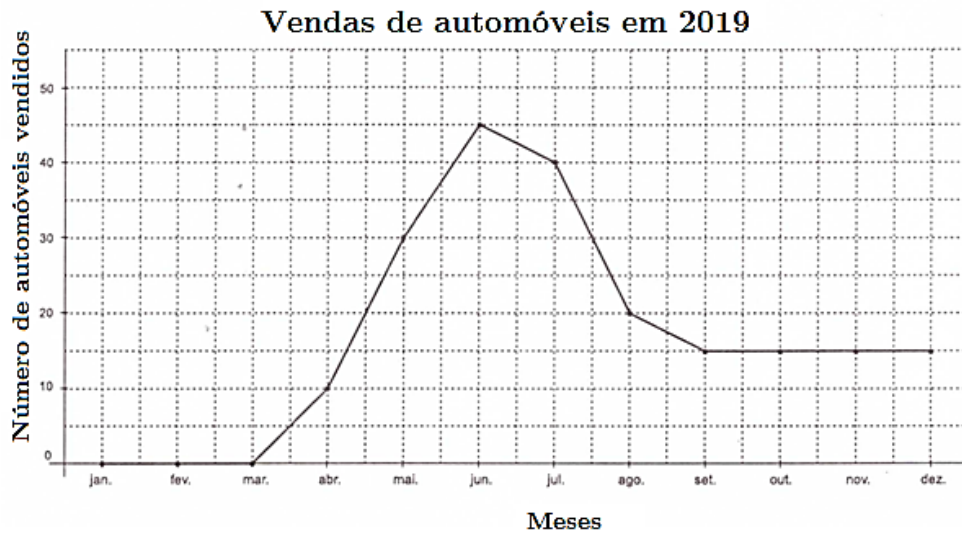
Uma das figuras montadas por ela, possui 107 caixas. Qual foi o número dessa figura montada por ela?

- (A) 27.
- (B) 35.
- (C) 41.
- (D) 53.

15. Em uma empresa, os cargos de Secretário e Tesoureiro estão vagos. O diretor dessa empresa precisa preencher esses cargos vagos. Para isso, analisou os perfis dos candidatos e viu que 15 deles possuem os pré-requisitos necessários para ocuparem os cargos. De quantas maneiras diferentes o diretor poderá preencher os cargos vagos?

- (A) 210.
- (B) 320.
- (C) 160.
- (D) 180.

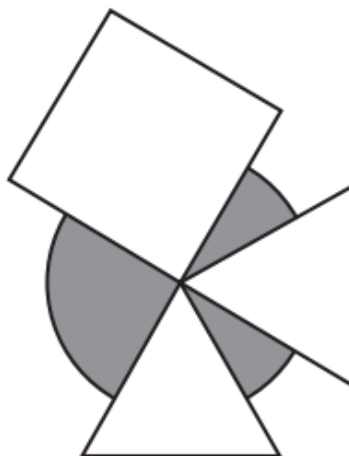
16. Uma concessionária montou o gráfico abaixo, apresentando as vendas de veículos novos vendidos durante os meses de 2019.



Observando o gráfico acima, é correto afirmar que:

- (A) A diferença entre o número de veículos vendidos no primeiro e no segundo semestre é maior que 40.
- (B) As vendas do terceiro trimestre foram superiores do que o segundo trimestre.
- (C) A média de vendas mensal dessa concessionária durante o ano de 2019 foi superior a 20.
- (D) As vendas referentes ao segundo quadrimestre excederam o dobro das vendas do terceiro quadrimestre.

17. Sobre cartão cinza de forma circular com diâmetro medindo 18 cm foram sobrepostos 3 cartões brancos: um quadrado e dois no formato de triângulos equiláteros, todos com lados medindo 12 cm, conforme a figura abaixo.



Dado: $\pi \cong 3,14$.

Qual é, aproximadamente, a área da região cinza que ficou exposta após a sobreposição dos cartões brancos?

- (A) 105,9 cm².
- (B) 112,6 cm².
- (C) 95,4 cm².
- (D) 122,2 cm².

18. Roberto comprou um carro usado em uma loja. Por pagar à vista, economizou a quantia de R\$ 720,00, pois recebeu um desconto de 15% no preço inicial do carro. Qual era o preço inicial do carro, sem o desconto?

- (A) R\$ 4.933,00. (B) R\$ 5.000,00. (C) R\$ 2.083,33. (D) R\$ 4.800,00.

19. Marcela aplicou um capital, a uma taxa mensal de 2%. Ela pretende retirar o dinheiro dessa aplicação quando, os juros rendidos por essa aplicação, for igual ao dobro do capital depositado por ela. Quantos meses, após o início da aplicação, que Marcela poderá sacar o dinheiro?

- (A) 66,6 meses. (B) 100 meses. (C) 33 meses. (D) 60 meses.

20. Uma lanchonete fez uma pesquisa com 255 clientes a respeito dos sabores dos refrigerantes preferidos de cada um. O resultado dessa pesquisa foi:

- 141 pessoas gostam o refrigerante de limão;
- 110 pessoas gostam o refrigerante de laranja;
- 119 pessoas gostam o refrigerante de uva;
- 71 pessoas gostam os refrigerantes de uva e limão;
- 60 pessoas gostam os refrigerantes de limão e laranja;
- 48 pessoas gostam os refrigerantes de laranja e uva;
- 28 pessoas não gostam de nenhum dos três sabores.

Analisando os dados obtidos com essa pesquisa, podemos afirmar que:

- (A) O número de pessoas que gostam apenas o refrigerante sabor uva é maior do que o número de pessoas que gostam apenas o refrigerante sabor laranja.
- (B) O número de pessoas que gostam os três sabores de refrigerantes é maior do que o número de pessoas que gostam apenas o refrigerante sabor uva.
- (C) O número de pessoas que gostam apenas o refrigerante de uva é menor do que o número de pessoas que gostam apenas do refrigerante de limão e laranja.
- (D) O número de pessoas que gostam os três sabores de refrigerante corresponde ao triplo do número de pessoas que gostam apenas dos refrigerantes de laranja e uva ao mesmo tempo.

QUESTÕES DE CONHECIMENTOS GERAIS

21. O Gentílico de quem nasce em Guarapari/ES é:

- (A) Guarapariense.
(B) Guaparuense.
(C) Guarapiense.
(D) Guarapiensense.

22. No dia 10 de setembro de 2020, tomou posse como presidente do Supremo Tribunal Federal (STF) e do Conselho Nacional de Justiça (CNJ) o ministro:

- (A) Luís Roberto Barroso.
- (B) Luiz Fux.
- (C) José Antônio Dias Toffoli.
- (D) Rosa Maria Pires Weber.

23. "Coronavírus é uma família de vírus que causam infecções respiratórias. O novo agente do Coronavírus (nCoV-2019) foi descoberto em 31/12/19 após casos registrados na China"

(Fonte: <https://coronavirus.saude.gov.br/linha-do-tempo/>, acesso em:11/11/2020)

Sobre o novo Coronavírus, qual das afirmativas abaixo é falsa:

- (A) Ainda não há consenso sobre como ocorreu a mutação que gerou do novo vírus.
- (B) Dentre os principais sintomas estão a tosse, febre, dificuldade para respirar, perda de olfato e paladar.
- (C) Uma das principais formas de evitar o contágio é aglomeração de pessoas e o uso de máscaras.
- (D) No Brasil, mais de 5 milhões de pessoas foram infectadas e mais de 150 mil pessoas já morreram de Covid-19.

24. Apagão é um evento que ocorre no gerenciamento da carga do sistema elétrico quando a demanda excede a capacidade geradora/limites operativos do sistema de transmissão. Recentemente, às vésperas das eleições municipais corridas em 15/11/2020, um estado brasileiro da Região Norte passou por um apagão que durou vários dias, a falta de energia afetou o acesso à água encanada, internet, serviços de telefonia, caixas eletrônicos. Qual estado que foi afetado diretamente por esse apagão?

- (A) Acre.
- (B) Amazonas.
- (C) Roraima.
- (D) Amapá.

25. O município de Guarapari/ES fica a cerca de 51 km de Vitória, capital do Espírito Santo, faz parte da região metropolitana e é inserido no território sul litorâneo. O município de Guarapari/ES faz divisa com os municípios de:

- (A) Marechal Floriano, Viana, Vila Velha, Anchieta e Alfredo Chaves.
- (B) Piúma, Viana, Vila Velha, Anchieta e Alfredo Chaves.
- (C) Cariacica, Piúma, Vila Velha, Anchieta e Iconha.
- (D) Marechal Floriano, Iconha, Vila Velha, Anchieta e Alfredo Chaves.

26. O ano de 2020 tem sido marcado por grandes problemas de saúde e ambientais. Na parte ambiental tivemos grande região de qual ecossistema afetado pelas queimadas:

- (A) Manguezal.
- (B) Caatinga.
- (C) Pantanal.
- (D) Pampas.

27. "Fontes de energia renováveis representam 83% da matriz elétrica brasileira".

(Fonte: <https://www.gov.br/pt-br/noticias/energia-minerais-e-combustiveis/2020/01/fontes-de-energia-renovaveis-representam-83-da-matriz-eletrica-brasileira>)

Sobre a geração de energia, é correto afirmar:

- (A) São fontes de energia renovável: hidrelétricas, eólica, gás natural, petróleo e solar.
- (B) A principal fonte de energia brasileira é a hidrelétrica.
- (C) As energias renováveis e não renováveis contribuem da mesma forma para a emissão de gases do efeito estufa.
- (D) Por ter muitos rios, o brasileiro não precisa se preocupar com gastos de energia elétrica.

28. Há pouco tempo foi noticiado em diversos órgãos de imprensa, que filhotes de gambá foram resgatados às margens da BR-101 em Guarapari/ES e que os animais foram levados para o CERFIAS em Aracruz/ES. O que são o CERFIAS?

- (A) Centrais de recuperação e introdução de animais soltos.
- (B) Seres metade mulher e metade peixe.
- (C) Centros de reintrodução de animais selvagens.
- (D) Centros de reintegração de indivíduos animais suspeitos.

29. O atual Governo brasileiro teve importante baixa na sua base ministerial no ano de 2020. Sérgio Fernando Moro, um dos principais responsáveis pela Operação Lava Jato deixou qual Ministério?

- (A) Casa Civil.
- (B) Economia.
- (C) Trabalho e Emprego.
- (D) Justiça e Segurança Pública.

30. Acerca dos aspectos geográficos do Estado do Espírito Santo, leia e analise os itens abaixo:

Item I - O Pico da Bandeira é o ponto mais alto do Estado do Espírito Santo, localizado na Serra do Caparaó, na divisa com Minas Gerais.

Item II - Na história capixaba, portugueses, holandeses, alemães e italianos foram os principais grupos étnicos colonizadores do Estado do Espírito Santo.

Item III - Atualmente, o Estado do Espírito Santo possui mais de doze milhões de habitantes. A maior parte da população se concentra na região sul do Estado.

Dos itens supra apresentados, pode-se CORRETAMENTE julgar que:

- (A) Os itens I e III são falsos.
- (B) Apenas o item I é falso.
- (C) Os itens I e II são verdadeiros.
- (D) Somente o item III é verdadeiro.

QUESTÕES DE CONHECIMENTOS ESPECÍFICOS

31. Em tempos de COVID-19 temos nos preocupado cada vez mais com a nossa higiene pessoal para evitarmos a contaminação. São formas de higiene pessoal que ajudam a evitar a contaminação do COVID-19, EXCETO:

- (A) Usar máscaras.
- (B) Higienizar com álcool 70% as mãos e locais.
- (C) Não tomar banho.
- (D) Cobrir a boca ao tossir e espirrar.

32. A limpeza e higienização das unidades escolares é fundamental para o bom andamento das atividades, e em especial para garantir a saúde de todos que ali circulam cotidianamente. Portanto, o correto processo de higienização é essencial para eliminar ou minimizar os riscos de transmissão de agentes causadores de doenças.

Dos processos de higienização, descritos abaixo, assinale a descrição do procedimento que é inadequado ao ambiente ou equipamento:

- (A) **Cozinha:** O piso da cozinha deve ser lavado após o término dos intervalos. Porém, mesmo durante o preparo das refeições o ambiente deve ser mantido em ordem, recolhendo os resíduos.
- (B) **Fogão:** Não jogar água no fogão enquanto o equipamento estiver quente, pois a mudança brusca de temperatura pode até rachar o esmalte da pintura. Retirar os resíduos utilizando um pano úmido enquanto o fogão estiver morno (facilita a não formação de crostas de gordura).
- (C) **Tábuas de corte:** Coloque as tábuas imersas em água e sabão. Com a ajuda de uma escova ou esponja esfregue as tábuas. Enxágue muito bem com água limpa e deixe secar naturalmente.
- (D) **Estoque (local de armazenamento):** Retire todos os alimentos de dentro, provisoriamente. Remova os restos de alimentos dos pratos e coloque-os imersos em recipiente com água e sabão. Lave-os utilizando esponja e sabão. Enxágue-os com água corrente.

33. Muito importante se prevenir de acidentes de trabalho ao se manusear produtos de limpeza, mesmo que sejam "atóxicos" ou "ecológicos". A melhor forma de prevenir-se desses acidentes é:

- (A) Usar os produtos indiscriminadamente.
- (B) Lavar os locais de higienização descalço.
- (C) Usar EPI's.
- (D) Não usar luvas.

34. São ações que auxiliam na preservação do meio ambiente, EXCETO:

- (A) Reciclar e reutilizar.
- (B) Apagar as luzes ao sair dos ambientes.
- (C) Descartar o lixo de forma inadequada.
- (D) Deixar o chuveiro desligado enquanto se ensaboa e a torneira fechada enquanto se escova os dentes.

35. Para atingirmos o objetivo da higienização dos alimentos são necessários alguns cuidados, EXCETO:

- (A) Comer os alimentos sem lavar às mãos.
- (B) Lavar adequadamente todos os alimentos.
- (C) Ter atenção à temperatura de conservação dos alimentos.
- (D) Não comer alimentos que apresentem odor ou aparência de estragados.

36. Com o avanço da Pandemia em larga escala, aumentou-se os cuidados com a limpeza dos ambientes de forma a evitar esse avanço. Dentre as alternativas abaixo, qual não é compatível com os cuidados com as instalações prediais para não avançar a disseminação do vírus COVID-19?

- (A) Usar produtos desinfetantes na limpeza de ambientes é uma boa opção de combate ao COVID-19.
- (B) Usar sempre as máscaras.
- (C) Limpar os locais com álcool 70, como por exemplo mesas e maçanetas.
- (D) Deixar de limpar as superfícies de grande contato com as pessoas.

37. Ao proceder à higienização dos alimentos, o manipulador deverá utilizar vasilhames e utensílios próprios, bem lavados e esterilizados. São cuidados necessários para não contaminar os alimentos:

- I - Não tocar nos alimentos com as mãos sujas ou com ferimentos expostos.
- II - Lavar as mãos ao manipular alimentos e ao trocar de atividade.
- III - Conservar os alimentos sempre descobertos, para que fiquem arejados.
- IV - Não falar, cantar, tossir ou espirrar em cima dos alimentos.
- V - Provar alimentos utilizando os dedos ou o mesmo utensílio que está sendo usado na preparação do alimento.

Está coreto o que se afirma em:

- (A) I, II, III, IV e V.
- (B) I, II e IV apenas.
- (C) I, III e V apenas.
- (D) II, III, IV e V apenas.

38. A coleta seletiva é importante para o processo de formação de todos os cidadãos, uma vez que o meio ambiente é parte integrante e fundamental do planeta. O que é Coleta Seletiva do lixo?

- (A) É a coleta realizada de qualquer lixo sem a devida atenção ou separação.
- (B) É a coleta em que podemos misturar os materiais do lixo.
- (C) É a coleta diferenciada de resíduos que foram previamente separados segundo a sua constituição ou composição.
- (D) É a coleta em que escolhemos qual lixo queremos jogar na lixeira e qual não precisa de ir para ela.

39. A ética no serviço público é uma norma muito importante a ser seguida. Dessa forma, são características de um bom servidor, EXCETO:

- (A) Atender sem atenção e passar o problema a quem não tem competência para solucionar.
- (B) Ser respeitoso.
- (C) Ser pontual.
- (D) Responder sempre com educação e cumprir suas tarefas.

40. Os EPI's e os EPC's são equipamentos muito importantes para prevenção de acidentes nos locais de trabalho. Dentre as opções abaixo podemos inferir que são EPC's, EXCETO:

- (A) Extintor de incêndio.
- (B) Corrimão.
- (C) Luvas.
- (D) Kit de primeiros socorros.

EM BRANCO

RASCUNHO