



**SEMAE PIRACICABA – SERVIÇO MUNICIPAL DE ÁGUA E ESGOTO**  
ESTADO DE SÃO PAULO

CONCURSO PÚBLICO

**005. PROVA OBJETIVA**

**ALMOXARIFE**

- ◆ Você recebeu sua folha de respostas e este caderno contendo 50 questões objetivas.
- ◆ Confira seus dados impressos na capa deste caderno e na folha de respostas.
- ◆ Quando for permitido abrir o caderno, verifique se está completo ou se apresenta imperfeições. Caso haja algum problema, informe ao fiscal da sala para a devida substituição desse caderno.
- ◆ Leia cuidadosamente todas as questões e escolha a resposta que você considera correta.
- ◆ Marque, na folha de respostas, com caneta de tinta preta, a letra correspondente à alternativa que você escolheu.
- ◆ A duração da prova é de 3 horas, já incluído o tempo para o preenchimento da folha de respostas.
- ◆ Só será permitida a saída definitiva da sala e do prédio após transcorrida 1 hora do início da prova.
- ◆ Ao sair, você entregará ao fiscal a folha de respostas e este caderno.
- ◆ Até que você saia do prédio, todas as proibições e orientações continuam válidas.

**AGUARDE A ORDEM DO FISCAL PARA ABRIR ESTE CADERNO DE QUESTÕES.**

Nome do candidato \_\_\_\_\_

RG \_\_\_\_\_ Inscrição \_\_\_\_\_ Prédio \_\_\_\_\_ Sala \_\_\_\_\_ Carteira \_\_\_\_\_

## CONHECIMENTOS GERAIS

### LÍNGUA PORTUGUESA

Leia a tira para responder às questões de números **01** e **02**.



(Bob Thaves, "Frank & Ernest".  
<https://cultura.estadao.com.br/quadrinhos>, 13.03.2020)

**01.** Considerando-se as classes gramaticais, o efeito de humor da tira decorre do emprego do termo

- (A) "palmas", substantivo na primeira ocorrência; e adjetivo, na segunda.
- (B) "lendo", verbo na primeira ocorrência; e adjetivo, na segunda.
- (C) "palmas", adjetivo nas duas ocorrências, com o mesmo sentido.
- (D) "lendo", verbo nas duas ocorrências, com o mesmo sentido.
- (E) "palmas", substantivo nas duas ocorrências, com sentidos diferentes.

**02.** Quanto ao sentido que a palavra "quiromancia" assume, é correto afirmar que ele

- (A) fica limitado ao contido na placa da tira.
- (B) está restrito à relação de leitura da árvore.
- (C) se evidencia no descaso do homem pela mulher.
- (D) se manifesta na relação entre a mulher e o homem.
- (E) ganha reforço com a placa e com a leitura da árvore.

Leia o texto para responder às questões de números **03** a **10**.

#### *Pacote americano*

Avança, no Congresso dos Estados Unidos, um monumental pacote de gastos públicos no esforço da guerra, à falta de melhor expressão, contra a epidemia de Covid-19.

O texto final do plano ainda não é conhecido, mas trata-se de gastos ou oferta de gastos na casa dos US\$ 2 trilhões – o equivalente a mais de 40% do gasto anual do governo federal dos EUA, ou cerca de 9% do Produto Interno Bruto da maior economia global.

O programa complementa a renda de americanos mais pobres, desempregados e sem renda. Serão transferidos US\$ 1.200 para cada cidadão que recebe menos de US\$ 75 mil por ano, o dobro para casais, mais US\$ 500 por criança.

O plano eleva ainda o valor do seguro-desemprego em US\$ 600 por semana, quase o dobro do salário-mínimo nacional, o que provocou ameaça de obstrução por parte de senadores republicanos. O auxílio será concedido inclusive para trabalhadores em empregos precários. Para esses dois programas, haverá mais de US\$ 500 bilhões.

Serão ofertados empréstimos para pequenas empresas, por meio de um fundo bancado pelo governo com mais de US\$ 350 bilhões. Caso as beneficiadas não demitam pessoal, a dívida será perdoada.

Grandes empresas em dificuldades financeiras contarão com outro fundo, de cerca de US\$ 500 bilhões, voltado especialmente para setores de início mais afetados pela crise do novo coronavírus, como o das companhias aéreas.

Haverá dinheiro para serviços de saúde (mais de US\$ 100 bilhões), ventiladores respiratórios e outros equipamentos hospitalares, remédios e vigilância sanitária. Estados e cidades terão US\$ 150 bilhões.

O programa, portanto, tenta proteger os empregos em pequenas empresas, oferece renda mínima para os mais pobres e a classe média, providencia crédito corporativo, verbas para a saúde e governos regionais. Parcela significativa dos recursos será concedida a fundo perdido – em princípio, pouco mais da metade.

Trata-se de alento que, dada a dimensão do PIB americano, tem repercussão mundial. Como outros líderes populistas, Donald Trump relutou em aceitar a necessidade de providências drásticas contra a pandemia, mas, ainda que tardiamente, rendeu-se à realidade.

(Editorial. *Folha de S.Paulo*, 27.03.2020. Adaptado)

**03.** As informações do editorial evidenciam que os Estados Unidos

- (A) têm como objetivo atender especificamente, durante a pandemia de Covid-19, as pessoas em vulnerabilidade social e econômica.
- (B) desacreditam nos possíveis impactos negativos da pandemia de Covid-19, por isso limitarão os auxílios às empresas do setor de aviação.
- (C) pretendem cobrar, com rapidez e juros provavelmente altos, o financiamento às pessoas e às empresas decorrente da pandemia de Covid-19.
- (D) buscam financiar a população e as empresas como forma de minimizar os impactos negativos decorrentes da pandemia de Covid-19.
- (E) promovem um auxílio expressivo à população e às empresas no período da pandemia de Covid-19, conforme desejam os senadores republicanos.

**04.** Na passagem do 1º parágrafo – Avança, no Congresso dos Estados Unidos, um monumental pacote de gastos públicos... –, fica clara a ideia de que o governo norte-americano

- (A) gastará pouco do seu PIB com a população.
- (B) dispensará valores de admirável singularidade.
- (C) cuidará da pandemia com limitação financeira.
- (D) injetará dinheiro sem critérios na sociedade.
- (E) colocará a riqueza do país em risco com os gastos.

05. Está empregada em sentido figurado a expressão:

- (A) “esforço da guerra” (1º parágrafo).
- (B) “texto final” (2º parágrafo).
- (C) “mais pobres” (3º parágrafo).
- (D) “pequenas empresas” (5º parágrafo).
- (E) “serviços de saúde” (7º parágrafo).

06. Na frase do último parágrafo – “... mas ainda que tardiamente **rendeu-se** à realidade.” –, o termo destacado é sinônimo de

- (A) cedeu.
- (B) opôs-se.
- (C) ignorou.
- (D) dispensou.
- (E) comoveu-se.

07. Assinale a alternativa que atende à norma-padrão quanto à colocação pronominal.

- (A) Se disponibilizará dinheiro para serviços de saúde, ventiladores respiratórios e outros equipamentos hospitalares, remédios e vigilância sanitária.
- (B) Com o programa que avança no Congresso dos Estados Unidos, pretende-se complementar a renda de americanos mais pobres, desempregados e sem renda.
- (C) Ainda não conhece-se o texto final do plano, mas trata-se de gastos ou oferta de gastos equivalentes a mais de 40% do gasto anual do governo federal dos EUA.
- (D) É sabido que concederá-se parcela significativa dos recursos a fundo perdido – em princípio, pouco mais da metade.
- (E) Grandes empresas, como o das companhias aéreas, tendo prejudicado-se com a pandemia, contarão um fundo de cerca de US\$ 500 bilhões.

08. Na passagem que inicia o último parágrafo – Trata-se de alento que, **dada a dimensão do PIB americano**, tem repercussão mundial. –, a expressão destacada, em conformidade com a norma-padrão, pode ser substituída por

- (A) “haja vista a dimensão do PIB americano”, já que confere ao enunciado o sentido de consequência.
- (B) “conforme a dimensão do PIB americano”, já que confere ao enunciado o sentido de condição.
- (C) “como à dimensão do PIB americano”, já que confere ao enunciado o sentido de comparação.
- (D) “devido à dimensão do PIB americano”, já que confere ao enunciado o sentido de causa.
- (E) “graças à dimensão do PIB americano”, já que confere ao enunciado o sentido de oposição.

09. No trecho final do texto – **Como** outros líderes populistas, Donald Trump relutou em aceitar a necessidade de providências drásticas contra a pandemia, mas, ainda que tardiamente, rendeu-se à realidade. –, a conjunção “Como” tem o mesmo sentido que a destacada em:

- (A) Os estudiosos avaliaram o projeto **como** uma forma viável de enfrentar a temida pandemia.
- (B) **Como** as autoridades estabeleceram, haverá auxílio à população e também às empresas.
- (C) **Como** a pandemia avançou de forma assustadora, as sociedades se mobilizaram para contê-la.
- (D) Durante a entrevista, o repórter perguntou ao biólogo **como** outros países enfrentavam a pandemia.
- (E) Durante os dias de isolamento social, ele comportou-se **como** a grande maioria das pessoas.

10. A pontuação atende à norma-padrão no seguinte enunciado:

- (A) Avança, um pacote de gastos públicos contra a epidemia de Covid-19 nos EUA.
- (B) Cada cidadão que recebe menos de US\$ 75 mil por ano, terá direito a US\$ 1.200.
- (C) O texto final, que ainda não é conhecido, trata de gastos na casa dos US\$ 2 trilhões.
- (D) O programa, oferece renda mínima para os mais pobres e para a classe média.
- (E) Mais de US\$ 500 bilhões estarão disponíveis, para os dois programas, do governo.

11. Ninguém se propõe \_\_\_\_\_ estimar se tal ajuda será suficiente. Não se pode prever com exatidão \_\_\_\_\_ duração da crise e o efeito real da epidemia sobre os negócios e o mercado de trabalho. No entanto, mais empresas sobreviverão \_\_\_\_\_ calamidade.

(Editorial. *Folha de S.Paulo*, 27.03.2020. Adaptado)

Em conformidade com a norma-padrão, as lacunas do enunciado são preenchidas, correta e respectivamente, com:

- (A) a ... à ... à
- (B) à ... a ... à
- (C) a ... à ... a
- (D) à ... à ... a
- (E) a ... a ... à

12. Leia a charge para responder à questão.

E PRA QUEM A CASA É A RUA,  
COMO QUE FAZ QUARENTENA?



(Chargista Duke. <https://www.otempo.com.br/charges>, 20.03.2020)

Em conformidade com a norma-padrão, um enunciado que traduz o comentário da personagem da charge é:

- (A) Como fazer quarentena as pessoas que já mora na rua?
- (B) E as pessoas que moram na rua, como que fazem quarentena?
- (C) Existe pessoas que moram na rua e então, como fazer quarentena?
- (D) Sabem-se que a rua é casa de muitas pessoas. Como farão quarentena?
- (E) As ruas é a casa de muitas pessoas e como estas pode fazer quarentena?

Leia o texto para responder às questões de números 13 a 15.

*Para uma companheira inseparável*

Em Gramado, o Festival de Cinema; em Passo Fundo, a Jornada de Literatura: uma semana de festas no Rio Grande do Sul. Não para mim, que não fui convidado para nenhuma das duas (talvez pensem que já morri?), e mesmo que fosse, quase certamente não poderia ir. É que, embora continue vivo, arrumei uma inimiga poderosa. A Tosse, eu a chamo, assim mesmo, com maiúsculas merecidas, pois já dura uns quatro meses e não tem nada, absolutamente nada, que a cure.

Começou, que eu me lembre, lá por maio. Foi logo depois de uma gripe e tão generalizada que tinha também um pouco de sinusite, rinite, otite e se outros ites existem no aparelho respiratório, essa gripe certamente também tinha. Tudo foi passando aos poucos. Ela, a Tosse, não.

Traíçoeira, inadequada, vem principalmente à noite. Tarde da noite, como entidade do mal que é, lá pelas quatro, cinco da manhã, quando faz tanto frio que seria suicídio sair da cama. E não passa.

Meu médico diz que a causa é uma só – chama-se Porto Alegre, talvez uma das cidades com um dos piores climas do país. Principalmente em agosto, quando as paredes vertem água de tanta umidade, não há sol, o mofo se infiltra e as casas geladas transformam-se numa espécie de Disneyworld de ácaros. Trata-se, portanto, de atravessar agosto. Falta pouco. Prometo ser forte.

(Caio Fernando de Abreu. *Pequenas epifanias*, 2014. Adaptado)

13. A narrativa apresentada tem como assunto principal

- (A) a fragilidade da saúde do narrador, que venceu a tosse recorrente depois de muito sofrer com ela.
- (B) o cenário cultural do Rio Grande do Sul, com um Festival de Cinema e uma Jornada de Literatura.
- (C) a tosse que vitima o narrador, decorrente do clima de Porto Alegre, segundo seu médico.
- (D) o clima da cidade de Porto Alegre, que é uma das mais geladas e úmidas no cenário nacional.
- (E) a iminência do suicídio do narrador, já que sofria com a tosse e não suportava mais aquilo.

14. Assinale a alternativa em que o enunciado está em conformidade com o sentido do texto e com a norma-padrão, dando correta sequência ao trecho:

Não fui convidado para nenhuma das duas festas, e mesmo que fosse, quase certamente...

- (A) ... não poderia comparecer de nenhuma delas.
- (B) ... não poderia ir a nenhuma delas.
- (C) ... não poderia chegar em nenhuma delas.
- (D) ... não poderia estar presente com nenhuma delas.
- (E) ... não poderia desfrutar ante nenhuma delas.

15. Não para mim, que não serei convidado para nenhuma das duas (talvez pensem que já morri?), e mesmo que \_\_\_\_\_, quase certamente não \_\_\_\_\_ ir.

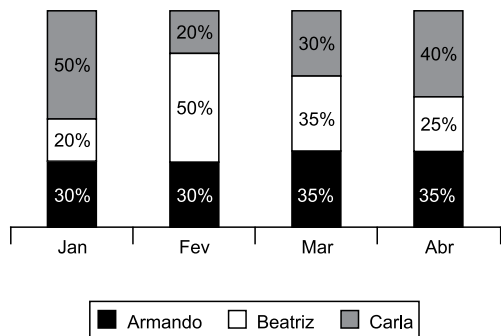
Analisando-se a correlação dos tempos verbais, assinale a alternativa em que os termos completam as lacunas do enunciado, em conformidade com a norma-padrão.

- (A) serei ... poderei
- (B) sou ... poderia
- (C) seja ... poderei
- (D) era ... pudesse
- (E) for ... pude ir

16. Uma caixa d'água estava com  $\frac{3}{4}$  de sua capacidade, quando passou a fornecer água para outra caixa, a uma vazão constante de 30 litros por minuto, esvaziando-se em 40 minutos. Sendo assim, é correto afirmar que a capacidade da primeira caixa d'água, em litros, é de
- (A) 1300.  
(B) 1400.  
(C) 1500.  
(D) 1600.  
(E) 1700.
17. Ana comprou algumas unidades de determinado produto para revender. Se ela revender as 12 primeiras unidades com lucro unitário de R\$ 20,00 e o restante com lucro unitário de R\$ 30,00, ela terá um lucro total de R\$ 780,00. Logo, o número total de unidades desse produto, comprado por Ana, é
- (A) 26.  
(B) 28.  
(C) 30.  
(D) 32.  
(E) 34.
18. Uma caixa d'água com formato interno de prisma reto tem altura de 5 metros e base retangular com perímetro igual a 8 metros. Sabendo-se que a medida dos maiores lados da base dessa caixa d'água é 2 metros maior que a medida dos menores lados, a capacidade de água, em metros cúbicos, que essa caixa comporta é de
- (A) 75.  
(B) 60.  
(C) 45.  
(D) 30.  
(E) 15.
19. Em uma pequena travessa, duas câmeras de segurança estão instaladas em pontos estratégicos, filmando ângulos de visão distintos, de modo que somente a porta de entrada de uma das residências dessa travessa é o local comum filmado por essas câmeras. Tendo como ponto de partida a referida porta, sabe-se que o tempo necessário para que uma das câmeras cubra os ângulos de visão, ida e volta, é de 4 minutos, enquanto que, para a outra câmera, o tempo é de 6 minutos. Sendo assim, se, em um determinado horário, essas duas câmeras filmarem o ponto de partida, então, nas 24 horas seguintes, a partir desse horário, o número total de vezes em que as duas câmeras filmarão a porta em questão será
- (A) 121.  
(B) 123.  
(C) 125.  
(D) 127.  
(E) 129.

20. Considere um total de 300 pessoas, sendo 180 com formação superior em uma área A e 120, em uma área B. Pretende-se, com essas pessoas, montar grupos, de modo que o número de grupos seja o maior possível, que em cada grupo tenha  $x$  pessoas formadas na área A e  $y$  pessoas formadas na área B, e que cada uma das 300 pessoas participe de um único grupo. Sendo assim, a diferença  $x - y$  deve ser igual a
- (A) 5.
  - (B) 4.
  - (C) 3.
  - (D) 2.
  - (E) 1.
21. De 2019 para 2020, a população residente em um pequeno município cresceu 7%. Se em 2020 o número de residentes nesse município era de 3 745, então o número de residentes em 2020 superou o de 2019 em
- (A) 231.
  - (B) 245.
  - (C) 253.
  - (D) 262.
  - (E) 278.
22. Para produzir certa quantidade de um produto em 4 horas, são necessárias 5 impressoras 3D, idênticas, todas elas trabalhando ao mesmo tempo e com a máxima capacidade de impressão. Nas primeiras 3 horas dessa produção, foram utilizadas as 5 impressoras e, após esse tempo, somente foi possível utilizar 4 delas, nas mesmas condições de produção. Sendo assim, para a produção total, o tempo efetivo em que as impressoras trabalharam foi de 4 horas e
- (A) 15 minutos.
  - (B) 25 minutos.
  - (C) 30 minutos.
  - (D) 45 minutos.
  - (E) 50 minutos.
23. A média aritmética simples das idades de 11 pessoas é 28 anos. Excluindo-se a idade do mais novo, a média aritmética simples das idades das demais pessoas é 29 anos. Isso significa que a idade, em anos, da pessoa mais nova desse grupo é igual a
- (A) 14.
  - (B) 15.
  - (C) 16.
  - (D) 17.
  - (E) 18.

24. O gráfico apresenta informações sobre a participação de três vendedores no valor total das vendas, em uma empresa, nos quatro primeiros meses do ano de 2020.



Com base nas informações apresentadas, assinale a alternativa que contém uma afirmação necessariamente verdadeira.

- (A) O valor das vendas de Beatriz, em janeiro, foi menor que o valor das vendas de Armando, em abril.
- (B) Os valores das vendas de Carla, em fevereiro e em março, foram diferentes.
- (C) No mês de março, os valores das vendas de Armando e de Beatriz foram iguais.
- (D) O valor das vendas de Carla, no mês de abril, foi metade do valor das vendas que ela fez em fevereiro.
- (E) O valor total das vendas feitas em janeiro foi igual ao valor total das vendas feitas em março.
25. Uma pirâmide reta, cunhada em madeira maciça, tem volume de 750 centímetros cúbicos, base quadrada, e altura de 10 centímetros. A medida das arestas de base dessa pirâmide, comparada com a medida da altura, corresponde a fração:

- (A)  $\frac{5}{4}$
- (B)  $\frac{4}{3}$
- (C)  $\frac{3}{2}$
- (D)  $\frac{1}{2}$
- (E)  $\frac{2}{5}$

## R A S C U N H O

## NOÇÕES DE INFORMÁTICA

26. Assinale a alternativa que apresenta apenas extensões de arquivos manipulados adequadamente por meio do aplicativo acessório Paint, do MS-Windows 7, ambos em configuração padrão.

- (A) rtf, doc e txt.
- (B) gif, tiff e docx.
- (C) docx, xlsx e pptx.
- (D) bmp, jpg e png.
- (E) bmp, exe e gif.

27. Por meio do MS-Word 2010, em sua configuração padrão, um usuário experimenta algumas formatações de Fonte para o cabeçalho de um contrato, conforme a imagem a seguir. O tamanho e o tipo de Fonte são os mesmos em todo o parágrafo.

Modelo de ~~cabeçalho~~<sup>para</sup> o Contrato

Assinale a alternativa que relaciona, corretamente, uma palavra da imagem com a respectiva formatação aplicada.

- (A) Modelo – itálico.
- (B) cabeçalho – tachado.
- (C) para – subscrito.
- (D) cabeçalho – sublinhado.
- (E) Contrato – negrito.

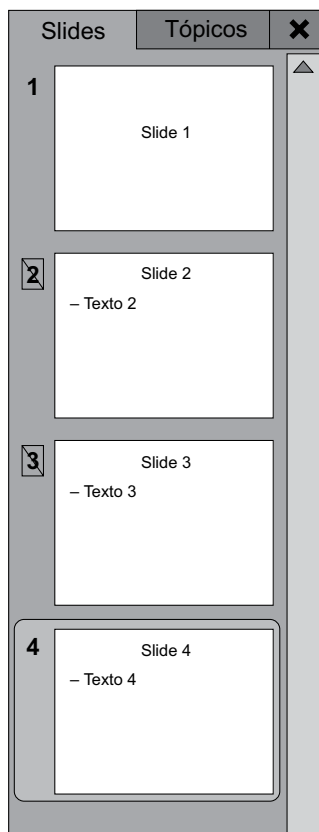
28. Observe a planilha a seguir, elaborada por meio do MS-Excel 2010, em sua configuração padrão, para facilitar o controle de preços visando a redução de despesas. Os dados foram digitados nas linhas de 1 a 5. Na linha 7, foram colocadas fórmulas para informar o menor preço de cada item, considerando as cotações realizadas em 3 empresas distintas.

	A	B	C	D
1	Item cotado	Item 1	Item 2	Item 3
2				
3	Empresa 1	R\$ 14,00	R\$ 12,00	R\$ 15,00
4	Empresa 2	R\$ 12,00	R\$ 12,00	R\$ 11,00
5	Empresa 3	R\$ 15,00	R\$ 14,00	R\$ 12,00
6				
7	Menor valor	R\$ 12,00	R\$ 12,00	R\$ 11,00
8				

Assinale a alternativa que contém a fórmula usada na célula B7 para estar de acordo com a imagem e com as informações do enunciado.

- (A) =MENOR(B3:B5;1)
- (B) =MENOR(B3:B5;B7)
- (C) =MENOR(B3:B5)
- (D) =MENOR(B3:B5;B4)
- (E) =MENOR(B3:B5;12)

29. Um usuário, por meio do MS-PowerPoint 2010, em sua configuração original, preparou uma apresentação para divulgar ações e projetos e suas respectivas agendas. O painel de slides é visto na imagem a seguir.



O usuário iniciou a apresentação apertando a tecla F5 e, em seguida, apertou a tecla “seta para a direita”, que resulta em:

- (A) o slide 1 será exibido.
- (B) o slide 2 será exibido.
- (C) o slide 3 será exibido.
- (D) o slide 4 será exibido.
- (E) nenhum slide será exibido, pois a apresentação será finalizada.

30. Por meio do MS-Outlook 2010, em sua configuração padrão, um e-mail foi enviado com sucesso e seus campos estavam preenchidos conforme segue.

De: [eee@instituicao.com.br](mailto:eee@instituicao.com.br)

Para: [aaa@instituicao.com.br](mailto:aaa@instituicao.com.br)

Cc: [bbb@instituicao.com.br](mailto:bbb@instituicao.com.br)

Cco: [ccc@instituicao.com.br](mailto:ccc@instituicao.com.br)

Assunto: [ddd@instituicao.com.br](mailto:ddd@instituicao.com.br)

O usuário da conta [ccc@instituicao.com.br](mailto:ccc@instituicao.com.br), ao receber o e-mail também por meio do MS-Outlook 2010, clicou em Responder a Todos.

O número de endereços de e-mail de destinatários preenchidos automaticamente na mensagem de resposta é

- (A) 1.
- (B) 2.
- (C) 3.
- (D) 4.
- (E) 5.

## CONHECIMENTOS ESPECÍFICOS

31. Um determinado comprador adquiriu um bem específico por meio de leilão e precisa emitir o documento para comprovação fiscal da movimentação de mercadoria recebida. O referido documento é denominado

- (A) Nota Fiscal de Saída.
- (B) NF-e Complementar.
- (C) Nota Fiscal de Compra.
- (D) Nota Fiscal de Venda de Produto.
- (E) Romaneio de Cargas.

32. A Nota Fiscal que tem o objetivo de anular as operações de compra ou venda, inclusive no que diz respeito aos impostos, é a de

- (A) compra.
- (B) saída.
- (C) venda à ordem.
- (D) retorno.
- (E) devolução.

33. No inventário físico, quando for determinado um resultado realmente correto diferente daquele inicialmente apresentado, o encarregado do inventário deverá modificar o resultado mencionado em sua cópia da listagem, passando um traço sobre a quantidade original e inserindo o novo resultado correto; depois disso a ficha de registro será aprovada e visada pelo encarregado e pelo responsável pelo inventário. Esse procedimento é denominado:

- (A) recontagem.
- (B) transcrição nas listagens de grupo.
- (C) verificação dos últimos movimentos de estoque.
- (D) apuração de saldos nas fichas de estoque.
- (E) designação do pessoal.

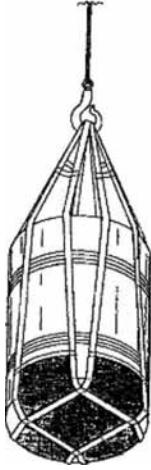
34. Um indicador da qualidade e confiabilidade da informação existente nos sistemas de controle, contábeis ou não, em relação à existência física dos itens controlados, que pode determinar uma maior ou menor periodicidade de inventários periódicos ou rotativos, é o de

- (A) divergências de contagem.
- (B) acuracidade de estoques.
- (C) tolerâncias de contagem.
- (D) reanálise da arrumação física.
- (E) número de ciclos em função da classificação ABC.



35. Um material é considerado de consumo se, em uso normal, perde ou tem reduzidas as suas condições de funcionamento, no prazo máximo de dois anos, pelo critério da
- (A) transformabilidade.
  - (B) incorporabilidade.
  - (C) fragilidade.
  - (D) durabilidade.
  - (E) perecibilidade.
36. Um material que, em razão de seu uso corrente, não perde a sua identidade física, e/ou tem uma vida útil superior a dois anos, é classificado como
- (A) permanente.
  - (B) duradouro.
  - (C) imperecível.
  - (D) acabado.
  - (E) indestrutível.
37. No recebimento de materiais, a ocorrência de divergências e irregularidades insanáveis, constatadas em relação às condições de contrato (compras não autorizadas, entrega fora do prazo, autenticidade não autorizada da nota fiscal) devem motivar
- (A) a necessidade de buscar uma forma de sanar divergências de inventário e perdas de qualquer natureza.
  - (B) o exercício de organizar e manter atualizado o registro de estoque do material existente.
  - (C) o compromisso de preservar a qualidade e as quantidades exatas entregues.
  - (D) a recusa do recebimento.
  - (E) a elaboração de balancetes dos materiais divergentes e outros relatórios relacionados.
38. Quando o almoxarife verifica se a quantidade de volumes declarada pelo fornecedor na nota fiscal ou documento equivalente corresponde efetivamente à recebida, ele está procedendo
- (A) ao recebimento provisório.
  - (B) ao recebimento definitivo.
  - (C) à conferência quantitativa.
  - (D) à conferência qualitativa.
  - (E) à aceitação.
39. No controle de saídas, o almoxarife regularmente monitora o documento pelo qual os usuários requisitam os materiais ao Almoxarifado. Esse é um pedido oficial, pormenorizado, do setor que vai consumir o material, conhecido como
- (A) ficha de estoque.
  - (B) ficha de prateleira.
  - (C) controle de notas fiscais.
  - (D) catálogo de materiais.
  - (E) requisição de materiais.
40. Uma unidade de armazenamento regularmente conta com uma área de recebimento, uma área de estocagem e uma área de distribuição. Na área de estocagem, os corredores de acesso são
- (A) áreas de circulação localizadas entre as paredes ou cercas da instalação de unidade armazenadora e as áreas de estocagem ou áreas livres, destinadas, basicamente, a atender às necessidades de segurança.
  - (B) áreas de circulação localizadas entre as áreas de estocagem e/ou áreas livres, destinadas à movimentação do material e ao trânsito de pessoas.
  - (C) parte da área destinada exclusivamente à expedição dos materiais.
  - (D) parte da área destinada exclusivamente ao estoque.
  - (E) parte da área destinada exclusivamente à arrumação e localização dos materiais.
41. O estoque que é mantido por uma das filiais com o objetivo de suprir uma eventual necessidade dos demais pontos de vendas da mesma empresa é aquele do tipo
- (A) de ciclo.
  - (B) de segurança.
  - (C) em trânsito.
  - (D) de proteção.
  - (E) regulador.
42. Entre os tipos de estoque, aquele denominado de materiais em vias é
- (A) constituído pelos materiais sem perspectiva de utilização, sem destinação, total ou parcialmente.
  - (B) constituído de material disponível, inservível, obsoleto, e sucatas destinadas à venda.
  - (C) formado pelos insumos e materiais básicos que ingressam no processo produtivo da empresa.
  - (D) constituído de materiais que estão sendo processados ao longo das diversas seções que compõem o processo produtivo da empresa.
  - (E) formado pelos materiais parcialmente acabados, cujo processamento está em algum estágio intermediário de acabamento e que se encontram também ao longo das diversas seções que compõem o processo produtivo.

43. A imagem a seguir representa um tipo de



- (A) carga pré-lingada.
- (B) carga paletizada.
- (C) contêiner.
- (D) especial de unitização.
- (E) *pallet*.

44. O *Pallet* HT (ar quente forçado) feito em estufas onde é exposto a altas temperaturas por um determinado tempo, considerado suficiente para eliminação de todas as pragas e doenças, e é regularmente utilizado para

- (A) o mercado interno.
- (B) exportação.
- (C) ser transportado pela esteira transportadora de paletes, que consegue realizar curvas durante o trajeto.
- (D) ser enviado ao destinatário e não retornar, por isso o custo-benefício deve ser pensado com a melhor solução prática e operacional.
- (E) aguentar os variados pesos que recebe e suportar empilhamentos, sendo de plástico, não irá sofrer com os impactos que a viagem ocasiona, podendo durar por muito mais tempo.

45. Almoxarifado é o local destinado à guarda e conservação de materiais, adequado à sua natureza, tendo como função

- (A) garantir o abastecimento de materiais à empresa, neutralizando os efeitos de demora ou atraso no fornecimento de materiais.
- (B) garantir o abastecimento de materiais à empresa, neutralizando os efeitos de sazonalidade no suprimento.
- (C) destinar espaços onde permanecerá cada item aguardando a necessidade do seu uso, ficando sua localização, equipamentos e disposição interna condicionada à política geral de estoque da empresa.
- (D) proporcionar economias de escala pela flexibilidade do processo produtivo.
- (E) proporcionar economias de escala pela rapidez e eficiência no atendimento às necessidades.

46. A codificação de materiais representa o ato de atribuir um código único para cada tipo de produto de forma a identificá-lo com maior facilidade. Representa um objetivo da codificação

- (A) aumentar o poder de negociação e, principalmente, propiciar a obtenção de bons descontos.
- (B) fazer com que os produtos fiquem menos tempo no estoque, reduzindo os gastos com armazenagem e gastos com seguros.
- (C) planejar melhor os investimentos.
- (D) diminuir o risco de ruptura, podendo até parar a operação.
- (E) evitar a duplicidade de itens.

47. O tipo de armazenamento que é realizado em uma estrutura, normalmente feita de metal, em que as prateleiras são dispostas de forma inclinada para que as caixas possam ser deslizadas, regularmente utilizada para o armazenamento de itens leves e pequenos, é:

- (A) Porta-paletes.
- (B) *Flow rack*.
- (C) Carrossel.
- (D) Mezanino.
- (E) Sistema WMS.

48. Um determinado almoxarife precisa evitar que muito estoque faça com que o capital da empresa fique parado, quando poderia estar destinando recursos para qualquer outro investimento, ao mesmo tempo em que também precisa evitar que uma pequena quantidade de estoque possa acarretar perdas de vendas, gerando menor receita por falta de produtos, além de abrir uma oportunidade de entrada para os demais concorrentes. Para combater essas duas condições, pode ser utilizado

- (A) o método de classificação ABC.
- (B) a centralização de estoques.
- (C) a descentralização de estoques.
- (D) a codificação alfanumérica.
- (E) a contagem cíclica.

Para às questões de números **49** e **50**, utilize a seguinte Ficha de Controle de Estoque, registrando que os estoque iniciais tinham validade de 5 meses, as compras feitas em 15.02 tinham validade de 6 meses e as compras feitas em 15.03 tinham validade de 1 mês.

Ficha de Estoque												
Data	Saldo Inicial			Compras			Vendas			Saldo Final		
	Quantidade	Valor Unitário	Valor	Quantidade	Valor Unitário	Valor	Quantidade	Valor Unitário	Valor	Quantidade	Valor Unitário	Valor
15/01/2020	10	R\$ 100	R\$1.000			R\$ 0			R\$ 0	10		
15/02/2020				10	R\$ 150	R\$ 1.500						
15/03/2020				10	R\$ 50	R\$ 500						
15/04/2020							10					

**49.** Considerando a metodologia de controle de estoque FIFO – *First in, first out* ou o primeiro que entra é o primeiro que sai –, o valor unitário de venda no dia 15.04.2020 e o saldo final do estoque são, respectivamente:

- (A) R\$ 50 e R\$ 1.000.
- (B) R\$ 100 e R\$ 2.000.
- (C) R\$ 125 e R\$ 2.500.
- (D) R\$ 135 e R\$ 2.700.
- (E) R\$ 150 e R\$ 3.000.

**50.** Considerando a metodologia de controle de estoque FEFO – *First expire, first out* ou o primeiro que vence é o primeiro que sai –, o valor unitário de venda no dia 15.04.2020 e o saldo final do estoque são, respectivamente:

- (A) R\$ 50 e R\$ 1.000.
- (B) R\$ 100 e R\$ 2.000.
- (C) R\$ 125 e R\$ 2.500.
- (D) R\$ 135 e R\$ 2.700.
- (E) R\$ 150 e R\$ 3.000.

