
LÍNGUA PORTUGUESA
TEXTO

THEODORE DREISER (1871 – 1945)

Primeiro nome de destaque na literatura dos Estados Unidos no século XX, Theodore Dreiser também foi o primeiro escritor profissional daquele país sem ascendência britânica – o pai era um imigrante alemão. Suas origens foram humildes. Ele ensinou a própria mãe a escrever quando ainda tinha 12 anos. Se Henry James não estava escrevendo, podia bancar “o homem desocupado”. Se Dreiser não estava escrevendo, estava simplesmente desempregado. Como personagem do mundo literário, Dreiser não se confrontou apenas com o recato sexual vitoriano, mas também desafiou os pressupostos sobre quem poderia ou não ser um escritor.

A aprovação crítica não era constante. Polarizador, Dreiser costumava atrair a reprovação dos críticos. F. R. Leavis, disse que ele escrevia como se não tivesse uma língua natal. Lionel Trilling o usou como exemplo do anti-intelectualismo americano. John Berryman afirmou que ele “escrevia como um hipopótamo”. Dreiser, com regularidade, perpetrava frases constrangedoras. Apesar disso, seus melhores romances tiveram sucesso em redefinir paradigmas culturais previamente estabelecidos, ao mesmo tempo que capturavam imagens definitivas dos Estados Unidos urbanos.

Sister Carrie é a história de uma “mulher perdida”, mas isenta de conclusões moralistas, escrita sob um pano de fundo social espaçoso o suficiente para incluir hotéis luxuosos e lojas de departamentos, bem como fábricas sórdidas e pardieiros de Nova Iorque e Chicago. *Uma tragédia americana* começa seguindo uma trilha bem conhecida: um rapaz pobre se apaixona pela filha de um rico. Mas termina com uma execução e não com um casamento, abrindo caminho para a narração de crimes reais que conduziu até *A Sangue Frio* (1968), de Truman Capote, e *A Canção do Carrasco* (1979), de Norman Mailer.

(PATRICK, Julien. 501 Grandes Escritores. São Paulo: Sextante, 2009, p. 251).

QUESTÃO 01

De acordo com o autor do texto, analise os itens a seguir e, ao final, assinale a alternativa correta:

I – Dreiser é o grande destaque da história da literatura norte-americana.

II – Dreiser tinha ascendência britânica e alemã.

III – Dreiser aprendeu a escrever aos 12 (doze) anos de idade.

(A) Apenas o item I é verdadeiro.

(B) Apenas o item II é verdadeiro.

(C) Apenas o item III é verdadeiro.

(D) Apenas os itens II e III são verdadeiros.

(E) Nenhum dos itens é verdadeiro.

QUESTÃO 02

De acordo com o autor do texto, analise os itens a seguir e, ao final, assinale a alternativa correta:

I – Truman Capote foi companheiro de escrita de Dreiser.

II – As obras de Dreiser tratavam apenas de temas violentos.

III – O estilo de Dreiser foi sempre muito bem recebido pela crítica.

(A) Apenas o item I é verdadeiro.

(B) Apenas o item II é verdadeiro.

(C) Apenas o item III é verdadeiro.

(D) Apenas os itens I e II são verdadeiros.

(E) Nenhum dos itens é verdadeiro.

QUESTÃO 03

Ainda de acordo com o autor do texto, analise os itens a seguir e, ao final, assinale a alternativa correta:

I – A obra de Dreiser sempre foi elogiada pela crítica, uma vez que seguia o estilo vitoriano da época.

II – Dreiser viveu mais da metade sua vida no século XX.

III – De certa forma, a obra de Dreiser pode ser considerada “revolucionária para a época”.

- (A) Apenas o item I é verdadeiro.
- (B) Apenas o item II é verdadeiro.
- (C) Apenas o item III é verdadeiro.
- (D) Apenas os itens II e III são verdadeiros.
- (E) Todos os itens são verdadeiros.

QUESTÃO 04

Assinale a alternativa que NÃO apresenta um sinônimo para a palavra “retrato”, utilizada pelo autor no final do primeiro parágrafo do texto:

- (A) integridade.
- (B) ignomínia.
- (C) moralidade.
- (D) pudicícia.
- (E) pudor.

QUESTÃO 05

No início do último parágrafo, o autor utiliza a palavra “isenta”, que possui os seguintes significados, EXCETO:

- (A) livre.
- (B) desobrigada.
- (C) carregada.
- (D) desonerada.
- (E) desobrigada.

QUESTÃO 06

No início do segundo parágrafo, o autor escreve “A aprovação crítica não era constante”. Assinale a alternativa que apresenta corretamente o tempo/modo em que o verbo “ser” está conjugado:

- (A) pretérito perfeito.
- (B) pretérito mais-que-perfeito.
- (C) pretérito imperfeito.
- (D) futuro do presente.
- (E) futuro do pretérito.

QUESTÃO 07

No que se refere ao correto uso da crase, analise os itens a seguir e, ao final, assinale a alternativa correta:

I – Fomos à Escócia, mas não à Edimburgo.

II – Ela foi à Espanha, mas não a Madri.

III – Ela foi à Argentina e à Bolívia.

- (A) Apenas o item I é verdadeiro.
- (B) Apenas o item II é verdadeiro.
- (C) Apenas o item III é verdadeiro.
- (D) Apenas os itens II e III são verdadeiros.
- (E) Todos os itens são verdadeiros.

QUESTÃO 08

Com relação às conjunções, julgue os itens a seguir e, ao final, assinale a alternativa correta:

I – Atuam como elementos de ligação entre duas orações ou entre termos semelhantes de uma oração.

II – São invariáveis, ou seja, não sofrem flexão em gênero e número.

III – Podem ser coordenativas e subordinativas.

- (A) Apenas o item I é verdadeiro.
- (B) Apenas o item II é verdadeiro.
- (C) Apenas o item III é verdadeiro.
- (D) Apenas os itens I e III são verdadeiros.
- (E) Todos os itens são verdadeiros.

QUESTÃO 09

No que se refere à colocação pronominal, analise os itens a seguir e, ao final, assinale a alternativa correta:

- I – Não pertube-nos.
- II – Nunca se afaste daqui.
- III – Nunca aborreça-se.
- (A) Apenas o item I é verdadeiro.
- (B) Apenas o item II é verdadeiro.
- (C) Apenas o item III é verdadeiro.
- (D) Apenas os itens I e II são verdadeiros.
- (E) Nenhum dos itens é verdadeiro.

QUESTÃO 10

Com relação aos substantivos coletivos, julgue os itens a seguir e, ao final, assinale a alternativa correta:

- I – cabido: conjunto de cônegos.
- II – cambada: conjunto de caranguejos.
- III – caterva: conjunto de desordeiros.
- (A) Apenas o item I é verdadeiro.
- (B) Apenas o item II é verdadeiro.
- (C) Apenas o item III é verdadeiro.
- (D) Apenas os itens I e III são verdadeiros.
- (E) Todos os itens são verdadeiros.

MATEMÁTICA E RACIOCÍNIO LÓGICO


QUESTÃO 11

Sobre os números Naturais (N) é incorreto afirmar

- (A) Não é formado por todos os números inteiros.
- (B) Não é formado por todos os números inteiros maiores que zero incluindo ele mesmo.
- (C) Não é formado por todos os números inteiros menores que zero.
- (D) Não é formado somente por números primos.
- (E) Não é formado por todos os números.

QUESTÃO 12

A caixa d’água apresenta na figura a seguir tem um diâmetro interno de 6 m. Sabendo que 1 m³ de água é equivalente a 1.000 litros, calcule a capacidade dessa caixa caso ela seja preenchida completamente. Considere π (pi) com duas casas decimais.



- (A) 391.500 litros
- (B) 405.000 litros
- (C) 411.750 litros
- (D) 418.500 litros
- (E) 423.900 litros


QUESTÃO 13

Em um grupo temos 4 pessoas com as respectivas idades: 10, 13, 15 e 17 anos. Caso nesse grupo entre mais uma pessoa com 12 anos, o que acontecerá com a média de idade desse grupo?

- (A) A média vai aumentar.
- (B) A média vai diminuir.
- (C) A média se manterá estável.
- (D) A média vai aumentar proporcionalmente.
- (E) A média não sofrerá alterações.

QUESTÃO 14

A sequência a seguir é infinita e obedece a um determinado padrão. Sabendo disso, quantos pontos formarão o passo 12 dessa sequência?



- (A) 114
- (B) 124
- (C) 144
- (D) 154
- (E) 164

QUESTÃO 15

A soma de um número com seu antecessor é de 89. Qual é o dobro do sucessor desse número?

- (A) 86
- (B) 88
- (C) 90
- (D) 92
- (E) 94

QUESTÃO 16

A nota final para uma disciplina de uma escola é a média ponderada das notas A , B e C , cujos pesos são 1, 2 e 3, respectivamente. Um aluno obteve nota $A = 3$ e nota $B = 6$. Quanto ele deve obter em C para que sua nota final seja 6?

- (A) 5
- (B) 6
- (C) 7
- (D) 8
- (E) 9

QUESTÃO 17

Para impressão de um lote de revistas, uma gráfica dispunha de 15 impressoras, que demorariam 18 horas para realizar o serviço. No preparo para o início do trabalho, foi diagnosticado que só havia 10 impressoras funcionando. Qual é o tempo, em horas, que será gasto para a confecção de todas as revistas?

- (A) 23 h
- (B) 24 h
- (C) 25 h
- (D) 26 h
- (E) 27 h

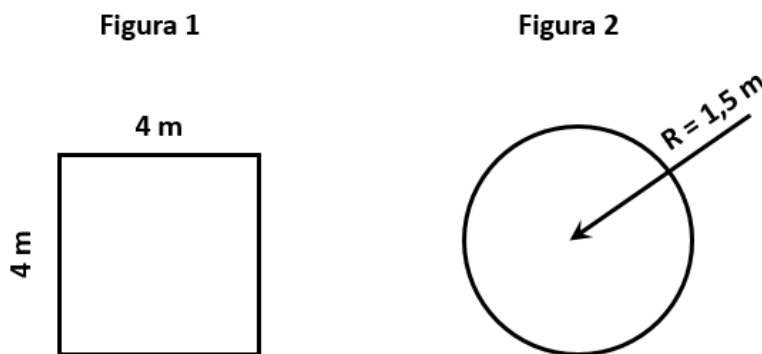
QUESTÃO 18

Cinco máquinas de envase de refrigerante tem o mesmo ritmo de trabalho e, funcionando 8 horas por dia, enchem 600 garrafas por dia. O número de garrafas que serão envasadas por 12 dessas máquinas, funcionando 10 horas por dia, durante 5 dias, será igual a:

- (A) 1800
- (B) 3600
- (C) 5400
- (D) 7200
- (E) 9000

QUESTÃO 19

Qual o valor da diferença entre o perímetro da figura 1 e a figura 2? Considere duas casas decimais para o valor de pi.



- (A) 6,58 m
- (B) 7,58 m
- (C) 8,58 m
- (D) 9,58 m
- (E) 10,58 m

QUESTÃO 20

A tabela a seguir mostra a cotação do dólar em reais durante um determinado período. Qual foi a variação em porcentagem da cotação do dia 21/08/2021 em relação ao dia 18/08/2021?

Histórico Dólar

DATA DE COTAÇÃO	COTAÇÃO DO DÓLAR
21/08/2021	R\$ 5,6445
20/08/2021	R\$ 5,6347
19/08/2021	R\$ 5,5146
18/08/2021	R\$ 5,4688

- (A) - 3,21 %
- (B) + 3,21 %
- (C) - 4,21 %
- (D) + 4,21 %
- (E) + 5,21 %

ATUALIDADES**QUESTÃO 21**

De acordo com o portal G1, as atletas brasileiras brilharam, em Tóquio (2021), fechando os Jogos com o melhor desempenho até agora em todas as Olimpíadas de que participaram. Elas subiram ao Pódio:

- (A) 10 vezes, foram 3 ouros, 4 pratas e 3 bronzes.
- (B) 9 vezes, foram 3 ouros, 4 pratas e 2 bronzes.
- (C) 8 vezes, foram 2 ouros, 4 pratas e 2 bronzes.
- (D) 7 vezes, foram 2 ouros, 3 pratas e 2 bronzes.
- (E) 6 vezes, foram 2 ouros, 2 pratas e 2 bronzes.

QUESTÃO 22

Foi a primeira atleta do país a ganhar duas medalhas numa única Olimpíada.

- (A) Rayssa Leal.
- (B) Mayra Aguiar.
- (C) Rebeca Andrade.
- (D) Martine Grael.
- (E) Kahena Kunze.

QUESTÃO 23

O Ministério Público de São Paulo e a CPI da COVID-19 (CPI da Pandemia), investigam a prescrição de medicamentos ineficazes, contra o tratamento da COVID-19, que resultou em morte de diversos pacientes, pela operadora de Saúde:

- (A) Amil.
- (B) Bradesco Saúde.
- (C) Intermédicas.
- (D) Unimed.
- (E) Prevent Senior.

QUESTÃO 24

Uma crise diplomática que surgiu, em 2020, entre Brasil e China, foi assunto que se destacou nas notícias. Um dos motivos foi um comentário do até então ministro da Educação brasileiro, _____, em uma rede social, em que insinuou que a China iria sair fortalecida da crise atual, associando a origem da Covid-19 ao país asiático.

Assinale a alternativa que preenche, corretamente, a lacuna do texto:

- (A) Abraham Weintraub.
- (B) Milton Ribeiro.
- (C) Ricardo Vélez Rodrigues.
- (D) Fábio Faria.
- (E) Onyx Lorenzoni.

QUESTÃO 25

Muitos artistas brasileiros foram acometidos e mortos pela COVID-19. Destes, não se enquadra nesse Relato:

- (A) Agnaldo Timóteo.
- (B) Tarcísio Meira.
- (C) Orlando Drummond.
- (D) Genival Lacerda.
- (E) Nelson Sargento.

NOÇÕES DE INFORMÁTICA**QUESTÃO 26**

É a função estatística do Microsoft Excel que conta o número de células em um intervalo que satisfaz vários critérios:

- (A) = CONT.SE
- (B) = CONT.SES
- (C) = CONTAR.VAZIO
- (D) = CUPDIAS
- (E) = COVAR

QUESTÃO 27

No Microsoft Power Point, esta opção pode ser utilizada quando se deseja trabalhar na apresentação, sempre com um slide principal. Utilizada para apresentar uma explicação no slide e sempre retornar para ele, como se o mesmo fosse a tela de apoio principal. Trata-se da opção:

- (A) Efeitos.
- (B) Serviço on-line.
- (C) Hiperlink.
- (D) Apresentação de Slides.
- (E) Aplicar Estrutura.

QUESTÃO 28

No Microsoft Power Point, são opções disponíveis ao acessar a aba Exibir, exceto:

- (A) Ajustar à Janela.
- (B) Anotações.
- (C) Classificação de Slides.
- (D) Mostrar Comentários.
- (E) Zoom.

QUESTÃO 29

Observe o ícone, abaixo, extraído do Microsoft Word e assinale sua função, entre as alternativas:



- (A) Vídeos Online.
- (B) Obter Suplementos.
- (C) Adicionar Comentários.
- (D) Cabeçalho / Rodapé.
- (E) Modelos 3D.

QUESTÃO 30

Observe a imagem:



O ícone, acima, representa um:

- (A) Editor de Imagem.
- (B) Editor de Planilha.
- (C) Editor de Texto.
- (D) Antivírus.
- (E) Browser.

CONHECIMENTOS ESPECÍFICOS**QUESTÃO 31**

A Lei de Diretrizes e Bases da Educação – LDB, relata em seu artigo 1º que a educação abrange os processos formativos que se desenvolvem na vida familiar, na convivência humana, no trabalho, nas instituições de ensino e pesquisa, nos movimentos sociais e organizações da sociedade civil e:

- (A) no mundo do trabalho.
- (B) no preparo para o exercício da cidadania.
- (C) nos ideais de solidariedade humana.
- (D) nos princípios de liberdade.
- (E) nas manifestações culturais.

QUESTÃO 32

A LDB aponta que a Educação Infantil é dever do Estado, oferecida, gratuitamente, às crianças até:

- (A) 3 anos de idade.
- (B) 4 anos de idade.
- (C) 5 anos de idade.
- (D) 6 anos de idade.
- (E) 7 anos de idade.

QUESTÃO 33

São incumbências dos estabelecimentos de ensino, com base na LDB:

- (A) autorizar, credenciar e supervisionar os estabelecimentos do seu sistema de ensino.
- (B) assumir o transporte escolar dos alunos da rede estadual.
- (C) estabelecer estratégias de recuperação para os alunos de menor rendimento.
- (D) velar pelo cumprimento do plano de trabalho de cada docente.
- (E) colaborar com as atividades de articulação da escola com as famílias e a comunidade.

QUESTÃO 34

De acordo com o Estatuto da Criança e do Adolescente – ECA, considera a primazia de receber proteção e socorro em quaisquer circunstâncias, assim como a precedência de atendimento nos serviços públicos ou de relevância pública, como garantia de:

- (A) prioridade.
- (B) dignidade.
- (C) respeito.
- (D) liberdade.
- (E) direitos fundamentais.

QUESTÃO 35

De acordo com o ECA, o castigo físico é ação de natureza disciplinar ou punitiva aplicada com o uso da força física sobre a criança ou o adolescente que resulte em:

- (A) sofrimento físico ou ameaça grave.
- (B) sofrimento físico ou lesão.
- (C) tratamento degradante ou humilhação.
- (D) ameaça grave ou ridicularização.
- (E) sofrimento físico ou humilhação.

QUESTÃO 36

A comunidade formada pelos pais ou qualquer deles e seus descendentes é definida pelo ECA como:

- (A) Família Natural.
- (B) Família Matriz.
- (C) Família Adjunta.
- (D) Família Personalíssima.
- (E) Família Condicionada.

QUESTÃO 37

O Ministério da Educação relata que o movimento mundial pela educação inclusiva é uma ação política, cultural, social e pedagógica, desencadeada em defesa do direito de todos os estudantes de estarem juntos, aprendendo e participando, sem nenhum tipo de discriminação. De acordo com o órgão federal, a educação inclusiva constitui:

- (A) uma identificação dos mecanismos e processos de hierarquização que operam na regulação e produção das desigualdades.
- (B) tradicionalmente, como atendimento educacional especializado substitutivo ao ensino comum
- (C) processo de democratização da escola, um paradoxo inclusão/exclusão.
- (D) um paradigma educacional fundamentado na concepção de direitos humanos.
- (E) políticas públicas promotoras de uma educação de qualidade.

QUESTÃO 38

Uma das garantias da Educação Especial na Perspectiva da Educação Inclusiva é a Transversalidade, que deve ocorrer:

- (A) desde a educação infantil, até a educação superior.
- (B) nos níveis mais elevados do ensino.
- (C) na família e na comunidade
- (D) na formação de professores.
- (E) nos mobiliários e equipamentos, nos transportes, na comunicação e informação.

QUESTÃO 39

Sobre os primeiros socorros com crianças, considere os itens, abaixo, sobre cortes e arranhões:

I - Ferimentos pequenos devem ser, cuidadosamente, lavados com água corrente e sabão até ficarem, totalmente, limpos.

II – Depois de limpo, proteja o ferimento utilizando atadura ou gaze.

III – Para aliviar a dor, o uso de clara de ovo ou creme dental é indicado.

Está correto o que se afirma em:

- (A) I e II, apenas.
- (B) I e III, apenas.
- (C) II e III, apenas.
- (D) Todos os itens.
- (E) Nenhum dos itens.

QUESTÃO 40

De acordo com o Ministério da Educação, brincadeiras e vivências éticas e estéticas em creches, com outras crianças e grupos culturais, são utilizadas para favorecer:

- (A) desafios saudáveis.
- (B) expressões vivenciais.
- (C) a identidade e a diversidade.
- (D) o desenvolvimento motor e psicológico.
- (E) organização e construção de conteúdos.