



DOMINGO DE TARDE

PREFEITURA MUNICIPAL DE IVOTI/RS CONCURSO PÚBLICO Nº 01/2021

ALMOXARIFE

INSTRUÇÕES

Leia atentamente e cumpra rigorosamente as instruções que seguem, pois elas são parte integrante das provas e das normas que regem esse certame.

1. Atente-se aos avisos contidos no quadro da sala.
2. Seus pertences deverão estar armazenados dentro do saco plástico fornecido pelo fiscal, permanecendo em sua posse somente caneta esferográfica de ponta grossa, de material transparente, com tinta preta, documento de identidade, lanche e água, se houver. A utilização de qualquer material não permitido em edital é expressamente proibida, acarretando a sua imediata exclusão do certame.
3. Certifique-se de que este caderno:
 - contém 50 (cinquenta) questões;
 - refere-se ao cargo para o qual realizou a inscrição.
4. Cada questão oferece 5 (cinco) alternativas de respostas, representadas pelas letras A, B, C, D e E, sendo apenas 1 (uma) a resposta correta.
5. Será respeitado o tempo para realização da prova conforme previsto em edital, incluindo o preenchimento da grade de respostas.
6. Os três últimos candidatos deverão retirar-se da sala de prova ao mesmo tempo, devendo assinar a Ata de Prova.
7. A responsabilidade referente à interpretação dos conteúdos das questões é exclusiva do candidato.
8. No caderno de prova, você poderá rabiscar, riscar e calcular.
9. Os gabaritos preliminares da prova objetiva serão divulgados na data descrita no Cronograma de Execução desse certame.



V1_01/12/2021 14:27:31



Instrução: As questões de números 01 a 15 referem-se ao texto abaixo. Os destaques ao longo do texto estão citados nas questões.

As lições das árvores que perdem as folhas no outono

01 Os dias estão mais curtos, as noites, mais longas. Levanto-me cedo, para preparar o café.
02 Ainda faz escuro lá fora. Uma neblina toma conta do terraço, o frio atravessa a vidraça perto de
03 onde está posta a pequena mesa redonda da cozinha. A partir de agora, vai ser necessário
04 envergar um agasalho enquanto empunho a xícara e leio os jornais. O outono chegou na Europa.

05 Oficialmente, a mudança de estação ocorre apenas amanhã, quarta-feira, dia 22 de
06 setembro. Mas já é possível sentir a mutação térmica, bem como testemunhar a tonalidade
07 alaranjada dos primeiros raios de luz a inundar o horizonte, rompendo o nevoeiro da manhã. As
08 flores do canteiro acordam cobertas de orvalho. As árvores da rua tingem-se de vermelhos,
09 amarelos e marrons.

10 É uma de minhas épocas preferidas do ano. Ao longo do dia, o céu estará límpido, a
11 paisagem ensolarada. Mas o vento frio exigirá o uso do casaco, que esteve guardado e esquecido,
12 por tantos meses, no fundo do armário do quarto. De hoje em diante, ele terá de ficar sempre
13 ____ mão, junto ao cachecol, no cabideiro próximo ____ porta da entrada de casa.

14 Cearense que sou, gosto, sobretudo, desta combinação de sol e frio, de dias tão dourados
15 quanto amenos. Os finais de tarde, sobretudo, reservam pequenos prazeres durante o passeio
16 vespertino pela vizinhança. A dramaticidade típica do pôr-do-sol ganha contornos ainda mais
17 epressivos, suavemente melancólicos.

18 O outono é, para nós, humanos, uma bela lição natural a respeito dos instantes de
19 transição. Quando as árvores vão perdendo assim todas as folhas, aos poucos ficando desnudas
20 após nos oferecerem seus melhores frutos, estão a nos enviar silencioso recado.

21 É preciso despir-se do que já não nos serve mais, desapegar de velhas fórmulas, rancores,
22 tabus, preconceitos. Preparar-se para os dias vindouros.

23 Cada estação traz consigo as lições de um novo ciclo da vida. Outono é o momento de
24 colher e se desfrutar aquilo que se semeou na primavera. Hora de deleite e, ao mesmo tempo,
25 de introspecção. "Tempus autumnus" — tempo do ocaso, em latim.

26 Aparentemente mortas, com galhos nus, as árvores estão reagindo ____ escaez gradativa
27 de sol, luz e calor, elementos indispensáveis à fotossíntese e ao metabolismo vegetal. Manter as
28 folhas, nessas circunstâncias, seria imprevidência, desperdício de energia. Os nutrientes
29 acumulados nos últimos meses as alimentarão ao longo do outono e, mais adiante, até o final
30 do gélido inverno europeu.

31 É essa a mensagem que este raio alaranjado de sol me transmite ao adentrar agora pela
32 janela do escritório. O ocaso é apenas a lenta preparação para a manhã seguinte. Sim, o outono
33 é a véspera do friorento inverno. Mas, também, a antevéspera da primavera.

34 Pode parecer chavão, lugar-comum, mensagem de autoajuda barata. Mas aquela árvore
35 ali em frente, com suas folhas mudando de verde para marrom, não cansa em apreçoar o que
36 tanto insistimos em não ouvir.

(Disponível em: <https://diariodonordeste.verdesmares.com.br/opiniao/colunistas/lira-neto/> – texto adaptado especialmente para esta prova).

QUESTÃO 01 – Considerando o exposto pelo texto, analise as assertivas a seguir:

- I. A partir das datas e informações dadas pelo texto, pode-se inferir que o autor não está no Brasil.
- II. Nas linhas 05-09, o autor vale-se dos sentidos da visão e do olfato para compor sua descrição.
- III. Uma das lições a ser aprendida das árvores, segundo Lira Neto, é o abrir-se ao novo.

Quais estão corretas?

- A) Apenas I.
- B) Apenas II.
- C) Apenas III.
- D) Apenas I e II.
- E) Apenas I e III.

QUESTÃO 02 – Analise a estrutura e a composição do texto de Lira Neto e assinale a alternativa INCORRETA a respeito dele:

- A) O autor pontua seus sentimentos e sensações em relação a uma estação do ano.
- B) O texto apresenta uma situação cotidiana para estabelecer uma reflexão.
- C) Trata-se de um texto que mostra um ponto de vista do autor.
- D) O texto foi escrito em terceira pessoa.
- E) Pode-se identificar trechos nos quais o autor apresenta uma ideia ou argumento.

QUESTÃO 03 – A partir da leitura do texto e da charge abaixo, analise as assertivas a seguir e assinale V, se verdadeiro, ou F, se falso.



Fonte: <https://homeworkhelpers-br.com/portugues>.

- () A charge aborda um dos aspectos abordados pelo texto, a queda das folhas das árvores durante o outono.
- () O texto aborda o outono de forma idílica, ao passo que a charge o aborda de forma cômica.
- () A charge não tem relação alguma com o texto, tendo em vista que não aborda o mesmo assunto.

A ordem correta de preenchimento dos parênteses, de cima para baixo, é:

- A) V – V – V.
- B) V – V – F.
- C) V – F – F.
- D) F – F – V.
- E) F – V – V.

QUESTÃO 04 – Considerando o emprego do sinal indicativo de crase, assinale a alternativa que completa, correta e respectivamente, as duas lacunas das linhas 13 e a da linha 26.

- A) a – à – a
- B) a – a – à
- C) à – à – à
- D) à – à – a
- E) à – a – a

QUESTÃO 05 – Considerando a correta ortografia das palavras em Língua Portuguesa, assinale a alternativa que completa, correta e respectivamente, os espaços pontilhados das linhas 04, 17 e 26.

- A) x – x – ss
- B) x – s – ss
- C) ch – x – c
- D) ch – s – c
- E) ch – x – ss

QUESTÃO 06 – Considerando o emprego das vírgulas, analise as assertivas a seguir:

- I. Na linha 06, a vírgula marca a separação de um adjunto adverbial deslocado.
- II. A dupla vírgula, na linha 18, marca a separação de um vocativo.
- III. Na linha 35, o uso das vírgulas marca a separação de uma expressão explicativa, alusiva à palavra “árvore” (l. 34).

Quais estão corretas?

- A) Apenas I.
- B) Apenas II.
- C) Apenas I e II.
- D) Apenas I e III.
- E) Apenas II e III.

QUESTÃO 07 – Assinale a alternativa que indica palavra que poderia substituir o vocábulo “envergar” (l.04) sem alteração do sentido original do texto:

- A) Vergar.
- B) Torcer.
- C) Desnudar.
- D) Desdobrar.
- E) Trajar.

QUESTÃO 08 – Assinale a alternativa que mostra o emprego da figura de linguagem “personificação”, atribuição de características humanas ao que é inanimado:

- A) “primeiros raios de luz a inundar o horizonte” (l. 07).
- B) “As flores do canteiro acordam cobertas de orvalho.” (l. 07-08).
- C) “Cearense que sou, gosto, sobretudo, desta combinação de sol e frio” (l. 14).
- D) “O ocaso é apenas a lenta preparação para a manhã seguinte.” (l. 32).
- E) “Sim, o outono é a véspera do friorento inverno.” (l. 32-33).

QUESTÃO 09 – Assinale a alternativa que NÃO apresenta uma possibilidade de reescrita do trecho a seguir por desviar-se do sentido original proposto no texto: “Hora de deleite e, ao mesmo tempo, de introspecção.” (l. 24-25).

- A) Hora de contentamento e, ao mesmo tempo, de reflexão.
- B) Hora de prazer e, ao mesmo tempo, de reflexão.
- C) Hora de satisfação e, ao mesmo tempo, de recolhimento.
- D) Hora de tédio e, ao mesmo tempo, de recolhimento.
- E) Hora de gozo, e, ao mesmo tempo, de reflexão.

QUESTÃO 10 – Considerando o emprego dos conectivos, assinale a alternativa que indica o valor semântico da palavra “ao” em “ao adentrar” (l. 31).

- A) Causa.
- B) Consequência.
- C) Tempo.
- D) Adição.
- E) Condição.

QUESTÃO 11 – Assinale a alternativa que indica uma ação terminada no passado.

- A) "Os dias estão mais curtos, as noites, mais longas." (l. 01).
- B) "Mas o vento frio exigirá o uso do casaco" (l. 11).
- C) "Cearense que sou, gosto, sobretudo, desta combinação de sol e frio" (l.14).
- D) "do que já não nos serve mais" (l. 21).
- E) "aquilo que se semeou na primavera" (l. 24).

QUESTÃO 12 – Assinale a alternativa que indica quantas outras alterações devem ser obrigatoriamente realizadas para que se mantenha a correção gramatical do período a seguir caso a palavra "árvores" seja substituída por sua forma singular: "Quando as árvores vão perdendo assim todas as folhas, aos poucos ficando desnudas após nos oferecerem seus melhores frutos, estão a nos enviar silencioso recado." (l. 19-20).

- A) 3.
- B) 4.
- C) 5.
- D) 6.
- E) 7.

QUESTÃO 13 – Considerando o emprego de elementos coesivos, analise as assertivas a seguir:

- I. Na linha 01, o pronome "me", em "Levanto-me cedo", refere-se ao autor do texto que se coloca em primeira pessoa.
- II. Na linha 11, a oração relativa "que esteve guardado e esquecido" refere-se à palavra "vento" (l. 11).
- III. Na linha 24, a expressão "ao mesmo tempo" introduz a noção de "em tempos diferentes".

Quais estão corretas?

- A) Apenas I.
- B) Apenas II.
- C) Apenas III.
- D) Apenas I e II.
- E) Apenas II e III.

QUESTÃO 14 – Assinale a alternativa que indica o número correto de artigos presente no trecho a seguir: "Mas já é possível sentir a mutação térmica, bem como testemunhar a tonalidade alaranjada dos primeiros raios de luz a inundar o horizonte, rompendo o nevoeiro da manhã."

- A) 3.
- B) 4.
- C) 5.
- D) 6.
- E) 7.

QUESTÃO 15 – Assinale a alternativa que indica o número do termo que exerce a função sintática de núcleo do sujeito. Atenção: o número correspondente ao termo está inserido imediatamente após o termo sublinhado. "Cada estação (1) traz consigo (2) as lições (3) de um novo ciclo (4) da vida (5).

- A) 1.
- B) 2.
- C) 3.
- D) 4.
- E) 5.

QUESTÃO 16 – A Lei nº 11.340/2006 cria mecanismos para coibir a violência doméstica e familiar contra a mulher. A inquirição de mulher em situação de violência doméstica e familiar ou de testemunha de violência doméstica, quando se tratar de crime contra a mulher, obedecerá às seguintes diretrizes:

- I. Garantia de que, em nenhuma hipótese, a mulher em situação de violência doméstica e familiar, familiares e testemunhas terão contato direto com investigados ou suspeitos e pessoas a eles relacionadas.
- II. Revitimização da depoente, permitindo sucessivas inquirições sobre o mesmo fato nos âmbitos criminal, cível e administrativo, bem como questionamentos sobre a vida privada.
- III. Salvaguarda da integridade física, psíquica e emocional da depoente, considerada a sua condição peculiar de pessoa em situação de violência doméstica e familiar.

Quais estão corretas?

- A) Apenas I.
- B) Apenas II.
- C) Apenas III.
- D) Apenas I e II.
- E) Apenas I e III.

QUESTÃO 17 – De acordo com a Constituição Federal, à(s) _____, vinculada(s) ao órgão administrador do sistema penal da unidade federativa a que pertence(m), cabe a segurança dos estabelecimentos penais.

Assinale a alternativa que preenche corretamente a lacuna do trecho acima.

- A) polícias penais
- B) polícia federal
- C) polícias civis
- D) polícias militares
- E) polícia rodoviária

QUESTÃO 18 – De acordo com a Constituição do Estado do Rio Grande do Sul, o Estado prestará assistência social, visando, entre outros, aos seguintes objetivos:

- I. Amparo aos carentes e desassistidos.
- II. Habilitação e reabilitação das pessoas portadoras de deficiência e promoção de sua integração na vida social e comunitária.
- III. Proteção à família, à maternidade, à infância, à adolescência e à velhice.
- IV. Promoção da integração no mercado de trabalho.

Quais estão corretas?

- A) Apenas I, II e III.
- B) Apenas I, II e IV.
- C) Apenas I, III e IV.
- D) Apenas II, III e IV.
- E) I, II, III e IV.

QUESTÃO 19 – De acordo com a Lei nº 8.429/1992, assinale a alternativa que constitui ato de improbidade administrativa que causa prejuízo ao erário.

- A) Conceder benefício administrativo ou fiscal com a observância das formalidades legais ou regulamentares aplicáveis à espécie.
- B) Permitir ou facilitar a aquisição, permuta ou locação de bem ou serviço por preço inferior ao de mercado.
- C) Facilitar ou concorrer, por qualquer forma, para a incorporação, ao patrimônio particular de pessoa física ou jurídica, de bens, rendas, verbas ou valores públicos transferidos pela administração pública a entidades privadas, mediante celebração de parcerias, sem a observância das formalidades legais ou regulamentares aplicáveis à espécie.
- D) Realizar operação financeira com observância das normas legais e regulamentares ou aceitar garantia insuficiente ou inidônea.
- E) Ordenar ou permitir a realização de despesas autorizadas em lei ou regulamento.

QUESTÃO 20 – A Lei Federal nº 12.288/2010 institui o Estatuto da Igualdade Racial, destinado a garantir à população negra a efetivação da igualdade de oportunidades, a defesa dos direitos étnicos individuais, coletivos e difusos e o combate à discriminação e às demais formas de intolerância étnica. A participação da população negra, em condição de igualdade de oportunidade, na vida econômica, social, política e cultural do País será promovida, prioritariamente, por meio de algumas ações, sobre elas, analise as assertivas a seguir e assinale V, se verdadeiras, ou F, se falsas.

- () Promoção de ajustes normativos para aperfeiçoar o combate à discriminação étnica e às desigualdades étnicas em todas as suas manifestações individuais, institucionais e estruturais.
- () Vedação de medidas, programas e políticas de ação afirmativa.
- () Exclusão nas políticas públicas de desenvolvimento econômico e social.

A ordem correta de preenchimento dos parênteses, de cima para baixo, é:

- A) V – V – F.
- B) F – F – V.
- C) F – V – F.
- D) V – F – F.
- E) V – F – V.

QUESTÃO 21 – A Lei nº 13.694/2011 institui o Estatuto Estadual da Igualdade Racial e de Combate à Intolerância Religiosa contra quaisquer religiões, como ação estadual de desenvolvimento do Rio Grande do Sul, objetivando a superação do preconceito, da discriminação e das desigualdades raciais. A participação dos negros em igualdade de condições na vida social, econômica e cultural do Estado do Rio Grande do Sul será promovida através das seguintes medidas, EXCETO:

- A) Enfrentamento e superação das desigualdades raciais pelas estruturas institucionais do Estado, com a implementação de programas especiais de ação afirmativa na esfera pública, visando ao enfrentamento emergencial das desigualdades raciais.
- B) Reconhecimento e a valorização da composição pluriétnica da sociedade sul-rio-grandense, resgatando a contribuição dos negros na história, na cultura, na política e na economia do Rio Grande do Sul.
- C) O resgate, a preservação e a manutenção da memória histórica legada à sociedade gaúcha pelas tradições e práticas socioculturais negras.
- D) Políticas públicas, programas e medidas de ação afirmativa, combatendo especificamente as desigualdades raciais que atingem as mulheres negras.
- E) Vedação de ajustes normativos para aperfeiçoar o combate ao racismo em todas as suas manifestações individuais, estruturais e institucionais.

QUESTÃO 22 – De acordo com a Lei nº 2.374/2008, que institui o Regime Próprio de Previdência Social dos Servidores Efetivos do Município de Ivoti, permanece filiado ao RPPS, na qualidade de segurado, o servidor ativo que estiver:

- A) Afastado ou licenciado do cargo efetivo, sem o recebimento de remuneração, nos termos do regime jurídico dos servidores, mesmo sem observância dos prazos previstos em lei.
- B) Afastado ou licenciado do cargo efetivo, com o recebimento de remuneração, nos termos do regime jurídico dos servidores.
- C) Em disponibilidade não remunerada.
- D) Afastado ou licenciado do cargo efetivo, independentemente da opção que fizer pela remuneração, para o exercício de mandato eletivo federal, estadual, distrital, mas não municipal.
- E) Cedido, somente sem ônus, para outro órgão ou entidade da administração direta e indireta da união, dos estados, do distrito federal ou dos municípios.

QUESTÃO 23 – De acordo com a Constituição Federal, compete à União, aos Estados e ao Distrito Federal legislar concorrentemente sobre:

- A) Direito civil, comercial, penal e processual.
- B) Diretrizes da política nacional de transporte.
- C) Educação, cultura, ensino, desporto, ciência, tecnologia, pesquisa, desenvolvimento e inovação.
- D) Política de crédito, câmbio, seguros e transferência de valores.
- E) Nacionalidade, cidadania e naturalização.

QUESTÃO 24 – De acordo com a Lei Orgânica de Ivoti, são símbolos do Município, representativos de sua cultura e história:

- I. O brasão.
- II. A bandeira.
- III. O hino.
- IV. A prefeitura.

Quais estão corretas?

- A) Apenas I, II e III.
- B) Apenas I, II e IV.
- C) Apenas I, III e IV.
- D) Apenas II e III e IV.
- E) I, II, III e IV.

QUESTÃO 25 – De acordo com a Constituição Federal, a administração pública direta e indireta de qualquer dos Poderes da União, dos Estados, do Distrito Federal e dos Municípios obedecerá aos princípios, EXCETO:


- A) Eficiência.
- B) Legitimidade.
- C) Impessoalidade.
- D) Publicidade.
- E) Moralidade.

QUESTÃO 26 – Sobre o Gmail, analise as assertivas abaixo:

- I. É possível criar marcadores e adicionar vários marcadores a um e-mail.
- II. Existe uma funcionalidade chamada Modo Confidencial, na qual os destinatários não poderão encaminhar, copiar, imprimir nem fazer o download do e-mail.
- III. Você pode gerenciar os e-mails recebidos usando os filtros do Gmail para arquivar, excluir ou até mesmo marcar com estrela.

Quais estão corretas?

- A) Apenas I.
- B) Apenas II.
- C) Apenas III.
- D) Apenas II e III.
- E) I, II e III.

QUESTÃO 27 – No Gmail, ao acessar um e-mail recebido, o ícone fica  visível para que você possa:

- A) Adicionar as tarefas.
- B) Marcar como lido.
- C) Marcar como importante.
- D) Denunciar como spam.
- E) Adicionar à caixa, para ver mais tarde.

QUESTÃO 28 – Analise a Figura 1 abaixo que mostra parte de um documento no Word 2016.

O MUNICÍPIO


Ivoti acolhe com suas flores.

Ivoti, uma terra de tradição.

As culturas alemã e japonesa se mesclam em torno de uma identidade própria. A Cidade das Flores, **Título** que Ivoti assumiu devido ao seu antigo nome, Bom Jardim, tem sido fortalecido a cada dia. A cidade cresce em torno dos seus 63 quilômetros quadrados de área desde 1964, ano de sua emancipação.

Localizada a 55 quilômetros de **Porto Alegre**, tem como principais atividades a indústria de calçado, couro, alimentos, rações e sucos, bem como a **hortifruti**, flores e laticínios.

Fica em Ivoti o maior núcleo de casas **enxaimel** do Brasil e a maior colônia japonesa do Estado, ambos atrativos do roteiro turístico **Teufelsloch**. Com suas belezas naturais e ainda suas riquezas culturais trazidas por nossos imigrantes, a magia dessa cidade faz jus ao charme da Rota Romântica.



Elisa Flach
Excluído: Na encosta da serra,

Elisa Flach
Excluído: +'

Elisa Flach
Excluído: título

Elisa Flach
Excluído: a

Elisa Flach
Excluído: Capital

Elisa Flach
Excluído: hortifruti

Figura 1

Após analisar a Figura 1, é possível afirmar que está sendo utilizado o recurso de:

- A) Comparação.
- B) Comentário.
- C) Localizar e Substituir.
- D) Controlar Alteração.
- E) Restringir Edição.

QUESTÃO 29 – Suponhamos que o título 'O Município' estivesse selecionado e, logo após, você utilizasse os comandos de teclado Ctrl+Shift+> o que aconteceria? (Obs.: o sinal de + não faz parte do comando, significa que as teclas devem ser pressionadas simultaneamente).

- A) Ele colocaria um hiperlink.
- B) Aumentaria o tamanho da fonte.
- C) Seria trocada a ordem das palavras: Município O.
- D) Trocaria as palavras O Município por Ctrl+Shift+>.
- E) Nada, pois não existem esses comandos de teclado.

QUESTÃO 30 – Analise a Figura 2 abaixo que mostra uma janela do Google Chrome:

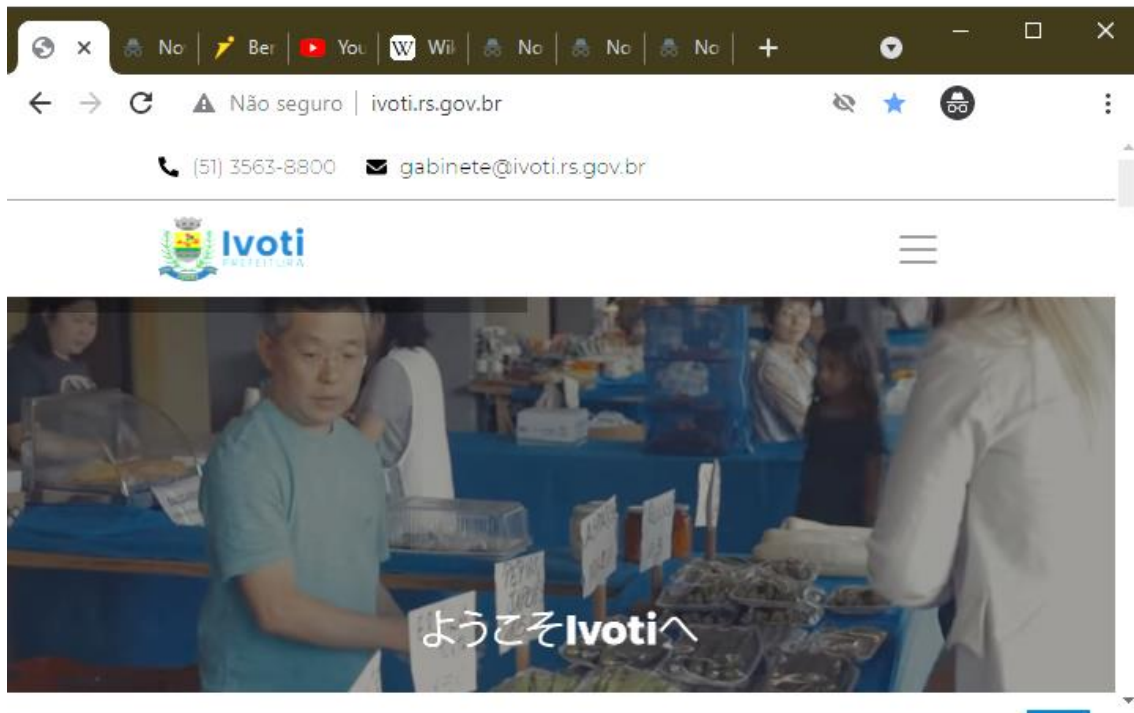


Figura 2

Com base na Figura 2, podemos afirmar que:

- I. Está sendo utilizada a opção de modo noturno.
- II. Não é possível abrir novas guias, pois já existem várias abertas.
- III. O site ivoti.rs.gov.br está na lista de favoritos.






Quais estão corretas?

- A) Apenas I.
- B) Apenas II.
- C) Apenas III.
- D) Apenas II e III.
- E) I, II e III.

QUESTÃO 31 – Dunga precisa ajustar as margens do seu documento, em qual das abas ele encontraria a parte de configuração de página e a opção margens?

- A) Inserir.
- B) Design.
- C) Layout.
- D) Exibir.
- E) Correspondência.

QUESTÃO 32 – Qual dos botões abaixo refere-se à funcionalidade de Marcadores no Word 2016?

- A) 
- B) 
- C) 
- D) 
- E) 

Para responder às questões 33 a 35, considere a Figura 3 abaixo que mostra parte do Excel.

	A	B	C	D
1	TABELA DE PRODUTOS			
2	ID DO PRODUTO	PRODUTO	VALOR	QTD
3	1	Produto A	R\$ 5,55	15
4	2	Produto B	R\$ 6,20	10
5	3	Produto C	R\$ 8,00	5
6	4	Produto D	R\$ 9,50	9
7	5	Produto E	R\$ 2,30	20
8				

Figura 3

QUESTÃO 33 – Com base na Figura 3, analise as assertivas abaixo:

- I. A célula selecionada é a D12.
- II. Existem três planilhas no arquivo.
- III. O arquivo já foi salvo.

Quais estão corretas?

- A) Apenas I.
- B) Apenas II.
- C) Apenas III.
- D) Apenas II e III.
- E) I, II e III.

QUESTÃO 34 – Com base na linha 2, podemos afirmar que foi utilizado o recurso de:

- A) Filtro.
- B) Mesclar.
- C) Localizar.
- D) Preencher.
- E) Formatação Condicional.

QUESTÃO 35 – Se fosse necessário criar um gráfico com base nos dados, você encontraria essa opção na aba:

- A) Exibir.
- B) Inserir.
- C) Desenhar.
- D) Fórmulas.
- E) Layout de Páginas.

MATEMÁTICA/RACIOCÍNIO LÓGICO

QUESTÃO 36 – Uma circunferência que tem 42 cm e apresenta um arco de 120° terá qual comprimento em x?

- A) 87,92 cm.
- B) 131,88 cm.
- C) 175,84 cm.
- D) 581,22 cm.
- E) 791,28 cm.

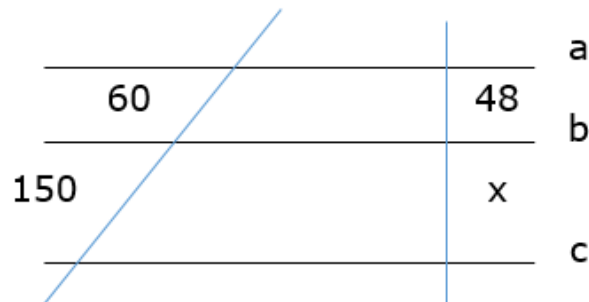
QUESTÃO 37 – A equação $x^2 + 4x - 12$ tem quantos números inteiros existentes entre suas raízes?

- A) 4.
- B) 5.
- C) 6.
- D) 7.
- E) 8.

QUESTÃO 38 – João decidiu investir R\$ 600,00, a juros simples de 2% a.m. Por quanto tempo ele precisa deixar o investimento para que tenha o triplo do valor do capital investido?

- A) 25.
- B) 50.
- C) 75.
- D) 100.
- E) 125.

QUESTÃO 39 – Na figura a seguir, temos que $a \parallel b \parallel c$ e as medidas são dadas em unidades de comprimento. Com os dados informados, qual o valor de x?



- A) 40.
- B) 60.
- C) 80.
- D) 100.
- E) 120.

QUESTÃO 40 – Joana realizou três provas de matemática. As notas obtidas foram, respectivamente, o dobro e o triplo da nota da primeira prova. A sua média aritmética das notas foi 62,5 pontos. A nota da primeira prova foi:

- A) 29,35.
- B) 31,25.
- C) 39,75.
- D) 41,65.
- E) 62,50.

CONHECIMENTOS ESPECÍFICOS

QUESTÃO 41 – Em relação às técnicas de estocagem, Dias (2012) estabelece que, entre as maneiras mais comuns de estocagem de materiais, estão:

- I. Caixas.
- II. Prateleiras.
- III. Empilhamento.

Quais estão corretas?

- A) Apenas I.
- B) Apenas I e II.
- C) Apenas I e III.
- D) Apenas II e III.
- E) I, II e III.

QUESTÃO 42 – Castiglioni (2013) salienta que, na busca constante pela rapidez e flexibilidade de armazenagem, as empresas especializadas em movimentação de materiais desenvolvem, constantemente, equipamentos altamente produtivos e personalizados para cada tipo de operação. Segundo o referido autor, na categoria dos carros de tração manual, sem propulsão, estão os que são utilizados para movimentação de material leve e em curta distância para auxílio a operações mecanizadas. Nesse sentido, o equipamento que serve para levantar e transportar cargas sobre pallets ou estrados e tem capacidade para transportar até 2.000 quilos, denomina-se carrinho:

- A) Hidráulico.
- B) De rodinhas.
- C) De armazém.
- D) Romeu e Julieta.
- E) Cegonha.

QUESTÃO 43 – Castiglioni (2013) define que a área de transporte merece atenção especial no escopo da logística, pois todos sabem que, sem os transportes, o Brasil e o mundo param. Segundo o referido autor, quanto à circulação, existem os seguintes modais ou sistemas de movimento, EXCETO o:

- A) Aquaviário.
- B) Dutoviário.
- C) Caboviário.
- D) Ferroviário.
- E) Rodoviário.

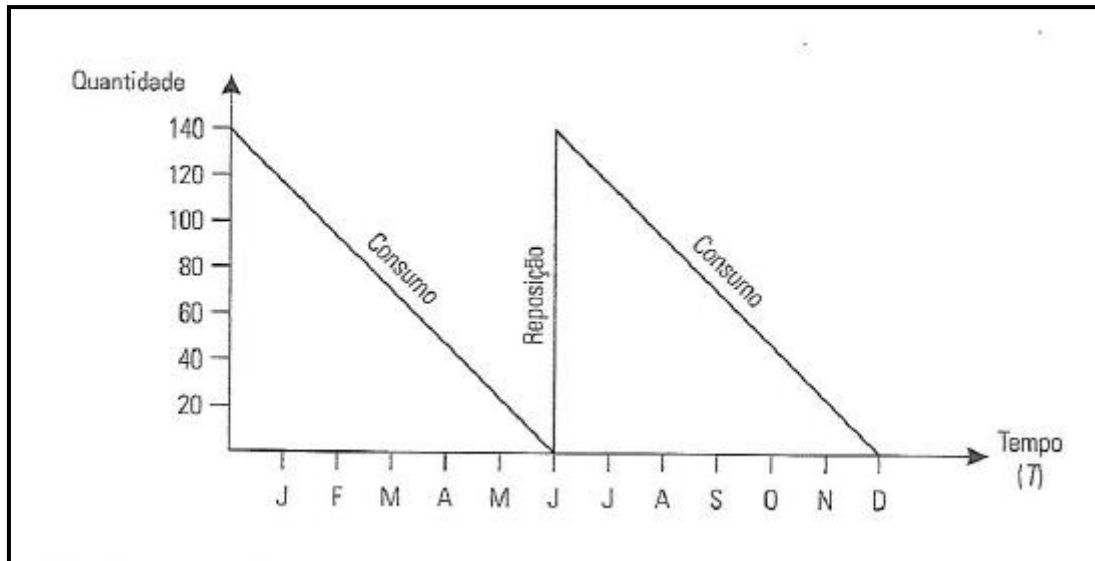
QUESTÃO 44 – Com base em Dias (2012), analise as seguintes assertivas, relacionadas às definições para os diversos tipos de estoques, assinalando C, se corretas ou I, se incorretas:

- () Estoque máximo – refere-se à quantidade determinada previamente para que ocorra o acionamento da parada de novos pedidos, por motivos de espaço ou financeiro.
- () Estoque regulador – refere-se à quantidade determinada previamente e de forma estratégica, que ainda não foi processada. Pode ser de matéria-prima ou de produtos semiacabados.
- () Estoque mínimo – refere-se à quantidade determinada previamente, que considera a metade do lote normal mais o estoque de segurança.

A ordem correta de preenchimento dos parênteses, de cima para baixo, é:

- A) I – C – C.
- B) C – I – I.
- C) C – I – C.
- D) C – C – C.
- E) I – C – I.

QUESTÃO 45 – Para responder à questão, analise a figura abaixo.



Fonte: Dias, Marco Aurélio P., Administração de Materiais: princípios, conceitos e gestão, São Paulo: Atlas, 2012.

Segundo o referido autor, a representação da movimentação (entrada e saída) de um item dentro de um sistema de estoque pode ser feita por um gráfico, em que a abscissa é o tempo decorrido (T), para o consumo, normalmente em meses, e a ordenada é a quantidade em unidades desta peça em estoque no intervalo de tempo T . Esse gráfico, acima representado, é chamado gráfico:

- A) Gantt.
- B) Triangular.
- C) Pareto.
- D) Dente de serra.
- E) Espinha de peixe.

QUESTÃO 46 – Castiglioni (2013) estabelece que os sistemas informatizados de controle estão cada vez mais avançados e já estão sendo testados e implantados outros tipos de códigos que devem substituir o código de barras. Segundo o referido autor, um deles é o _____, que significa _____, isto é, resposta rápida, um código bidimensional já em uso no Japão desde 1994. Sua principal característica é armazenar até 7.089 números ou 4.296 alfanuméricos (letras e números), incluindo endereços completos, informações sobre o produto no estoque etc., cujo tamanho impresso é um décimo do tamanho do código de barras em uso atualmente.

Assinale a alternativa que preenche, correta e respectivamente, as lacunas do trecho acima.

- A) *MP Code – Material Planning*
- B) *QR Code – Quick Response*
- C) *FI Code – Frequency Identification*
- D) *MC Code – Material Control*
- E) *PC Code – Production Control*

QUESTÃO 47 – Com base nos conceitos para efeito da Lei Federal nº 12.527/2011 – Lei de Acesso às Informações, analise as seguintes assertivas, assinalando C, se corretas, ou I, se incorretas:

- () Documento é a unidade de registro de informações, qualquer que seja o suporte ou formato.
- () Informação sigilosa é aquela submetida temporariamente à restrição de acesso público em razão de sua imprescindibilidade para a segurança da sociedade e do Estado.
- () Autenticidade é a qualidade da informação não modificada, inclusive quanto à origem, trânsito e destino.

A ordem correta de preenchimento dos parênteses, de cima para baixo, é:

- A) C – C – I.
- B) C – C – C.
- C) C – I – C.
- D) I – I – C.
- E) I – C – I.

QUESTÃO 48 – Analise as seguintes características:

- Visam distribuir as contagens de materiais ao longo do ano, com maior frequência, porém concentrada cada mês em menor quantidade de itens.
- Abrangem através de contagens programadas todos os itens de várias categorias de estoques e matéria-prima, embalagens, suprimentos, produtos em processo e produtos acabados.
- Os itens podem ser divididos em três grupos: grupo 1, os itens mais significativos; grupo 2, os itens de importância intermediária e o grupo 3, os demais itens.

As assertivas acima estão se referindo aos inventários:

- A) Gerais.
- B) Simples.
- C) Rotativos.
- D) Totais.
- E) Normais.

QUESTÃO 49 – Medeiros e Hernandes (2010) definem que, nas instituições públicas, predomina um modelo de sistema de organização de arquivos em que o documento público é controlado desde sua produção. Ele é conhecido como a "teoria das três idades", concepção moderna de arquivística, em que se distinguem três etapas quanto aos documentos e que se denominam:

- I. Específica.
- II. Temporária.
- III. Permanente.

Quais estão corretas?

- A) Apenas I.
- B) Apenas I e II.
- C) Apenas I e III.
- D) Apenas II e III.
- E) I, II e III.

QUESTÃO 50 – Paes (2012) define que a restauração de documentos exige um conhecimento profundo dos papéis e tintas empregados. Segundo a referida autora, o processo em que se envolve o documento, nas duas faces, com uma folha de papel de seda e outra de acetato de celulose, colocando-o numa prensa hidráulica, sob pressão média de 7 a 8 kg/cm e temperatura entre 145 a 155°C se se denomina:

- A) Encapsulação.
- B) Alisamento.
- C) Limpeza.
- D) *Silking*.
- E) Laminação.