



## PREFEITURA DO MUNICÍPIO DE JUNDIAÍ

ESTADO DE SÃO PAULO

CONCURSO PÚBLICO

### 001. PROVA OBJETIVA

#### ANALISTA DE PLANEJAMENTO, GESTÃO E ORÇAMENTO (ADMINISTRAÇÃO)

- ◆ Você recebeu sua folha de respostas e este caderno contendo 50 questões objetivas.
- ◆ Confira seus dados impressos na capa deste caderno e na folha de respostas.
- ◆ Quando for permitido abrir o caderno, verifique se está completo ou se apresenta imperfeições. Caso haja algum problema, informe ao fiscal da sala para a devida substituição desse caderno.
- ◆ Leia cuidadosamente todas as questões e escolha a resposta que você considera correta.
- ◆ Marque, na folha de respostas, com caneta de tinta preta, a letra correspondente à alternativa que você escolheu.
- ◆ A duração da prova é de 3 horas, já incluído o tempo para o preenchimento da folha de respostas.
- ◆ Só será permitida a saída definitiva da sala e do prédio após transcorridos 75% do tempo de duração da prova.
- ◆ Ao sair, você entregará ao fiscal a folha de respostas e este caderno.
- ◆ Até que você saia do prédio, todas as proibições e orientações continuam válidas.

**AGUARDE A ORDEM DO FISCAL PARA ABRIR ESTE CADERNO.**

Nome do candidato \_\_\_\_\_

RG \_\_\_\_\_

Inscrição \_\_\_\_\_

Prédio \_\_\_\_\_

Sala \_\_\_\_\_

Carteira \_\_\_\_\_



01. Leia a tira.



(Bob Thaves, "Frank & Ernest". Em: <https://cultura.estadao.com.br>, 08.05.2022)

Na fala do Professor Bufunfa, a conjunção "mas" estabelece entre as orações uma relação de sentido de

- (A) concessão, reforçando a ideia de que as pessoas atendem satisfatoriamente as instruções do dinheiro.
- (B) comparação, reforçando a ideia de que as pessoas reclamam de seus problemas financeiros sem razão.
- (C) oposição, reforçando a ideia de que as pessoas deveriam se orientar para não ter problema com dinheiro.
- (D) condição, reforçando a ideia de que as pessoas têm medo de usar o dinheiro e, por isso, ele é um problema.
- (E) conclusão, reforçando a ideia de que as pessoas fazem de tudo por dinheiro e, depois, acabam tendo problema.

Leia o texto para responder às questões de números **02 a 07**.

### *Os perdedores de sempre*

Continuou feio o quadro do emprego, no primeiro trimestre, com 11,9 milhões de pessoas desocupadas, grupo equivalente a 11,1% da força de trabalho. Mas as condições permaneceram muito mais feias para negros, mulheres, jovens, trabalhadores com menor escolaridade e habitantes de regiões menos industrializadas. Pode-se encontrar no mercado de trabalho uma síntese das desigualdades brasileiras, principalmente de raça, de gênero, de educação e de desenvolvimento regional. O exame dessas desigualdades poderia fundamentar planos, programas de governo e projetos econômicos e sociais.

O contraste mais notável é visível quando se examina a relação entre desemprego e escolaridade. Estiveram desocupados no primeiro trimestre 5,6% das pessoas com nível superior completo. Mais que o dobro, 11,9%, foi o desemprego encontrado entre os trabalhadores com educação superior incompleta. No caso daquelas com ensino médio incompleto, a desocupação chegou a 18,3%, taxa muito superior à taxa média geral, 11,1%. Os dados são da Pesquisa Nacional por Amostra de Domicílios (Pnad) Contínua, do Instituto Brasileiro de Geografia e Estatística (IBGE).

As pessoas menos educadas, como têm apontado outras pesquisas, são também aquelas mais sujeitas à informalidade e às piores condições de emprego e de remuneração. Um acesso mais amplo à instrução, com melhor distribuição das oportunidades educacionais, mudaria as possibilidades de trabalho de dezenas de milhares de pessoas e, ao mesmo tempo, elevaria duplamente o potencial produtivo do fator trabalho, tornando-o mais eficiente e qualificando-o para tarefas

mais complexas. Ganhariam indivíduos, famílias, empresas e, portanto, a economia nacional, se o País dispusesse de uma política bem desenhada e bem executada de formação de recursos humanos ou, como dizem alguns especialistas, de capital humano.

Formar capital humano é algo dificilmente compatível, no entanto, com políticas já aplicadas no Brasil. O Brasil dispõe de respeitadores educadores, de estudiosos da economia da educação e de experiências de sucesso em políticas estaduais. São preciosas fontes de ideias para formulação de boas políticas educacionais.

(Opinião. <https://opinioao.estadao.com.br/>, 18.05.2022. Adaptado)

**02.** A introdução do texto permite afirmar que

- (A) o quadro do emprego no Brasil, que já foi muito desolador, começa a dar sinais vigorosos de mudança.
- (B) o conhecimento das desigualdades sociais vem orientando as políticas públicas e projetos econômicos e sociais.
- (C) a situação do desemprego no Brasil, que continua desventurosa, está ligada às desigualdades sociais.
- (D) o total de 11,9 milhões de pessoas desocupadas constitui uma parcela ínfima da força de trabalho brasileira.
- (E) a falta de emprego vem afetando os brasileiros de forma geral, sem que haja grupos mais prejudicados com ela.

03. O editorial deixa claro que

- (A) a escolaridade mais alta tem um peso insignificante na manutenção do emprego, quando se examina a relação entre desemprego e escolaridade.
- (B) as regiões menos industrializadas sofrem com o desemprego tanto quanto as industrializadas, já que todas são afetadas pelos mesmos problemas.
- (C) o gasto com a qualificação profissional vem crescendo significativamente no país, sem que isso tenha impactado o potencial produtivo do fator trabalho.
- (D) a escolaridade interfere mais na empregabilidade quando se trata de ensino superior, pois pessoas com ensino médio incompleto não sofrem com desemprego.
- (E) a formulação de boas políticas educacionais permite a formação de capital humano, o que representa melhores condições de acesso e qualificação do emprego.

04. No trecho do 3º parágrafo – Um acesso mais amplo à instrução, com melhor distribuição das oportunidades educacionais, **mudaria** as possibilidades de trabalho de dezenas de milhares de pessoas e, ao mesmo tempo, **elevaria** duplamente o potencial produtivo do fator trabalho, tornando-o mais eficiente e qualificando-o para tarefas mais complexas. –, as formas verbais destacadas são empregadas com a finalidade de

- (A) organizar o enunciado sob a forma de sugestões para vencer as dificuldades encontradas atualmente.
- (B) compartilhar a informação de ações já introduzidas na educação como forma de garantir os empregos.
- (C) mostrar ações rotineiras de oportunidades educacionais, cujos resultados são ansiosamente esperados.
- (D) enfatizar ações concluídas que não conseguiram impactar positivamente na melhoria da educação nacional.
- (E) refutar o pensamento de que nem sempre o acesso a oportunidades educacionais se consolida de forma rápida.

05. Considere as passagens do texto:

- O contraste mais notável é **visível** quando se examina a relação entre desemprego e escolaridade. (2º parágrafo)
- ... são também aquelas mais **sujeitas** à informalidade e às piores condições de emprego e de remuneração. (3º parágrafo)
- ... se o País **dispusesse** de uma política bem desenhada e bem executada de formação de recursos humanos... (3º parágrafo)

Os termos destacados significam, correta e respectivamente:

- (A) incógnito; fadadas; organizasse.
- (B) perceptível; suscetíveis; contasse.
- (C) furtivo; expostas; possuísse.
- (D) flagrante; independentes; declinasse.
- (E) patente; contrárias; utilizasse.

06. Assinale a alternativa em que há emprego de vírgula(s) para separar uma expressão circunstancial de tempo no enunciado.

- (A) As pessoas menos educadas, como têm apontado outras pesquisas, são também aquelas mais sujeitas à informalidade...
- (B) ... uma síntese das desigualdades brasileiras, principalmente de raça, de gênero, de educação e de desenvolvimento regional.
- (C) No caso daquelas com ensino médio incompleto, a desocupação chegou a 18,3%, taxa muito superior à taxa média geral, 11,1%.
- (D) Continuou feio o quadro do emprego, no primeiro trimestre, com 11,9 milhões de pessoas desocupadas...
- (E) Formar capital humano é algo dificilmente compatível, no entanto, com políticas já aplicadas no Brasil.

07. Assinale a alternativa que está em conformidade com a norma-padrão de concordância e de regência.

- (A) No Brasil, as desigualdades sociais apontam de que muitas pessoas não dispõe de acesso à educação, ficando mais sujeitas à informalidade e às piores condições de emprego e de remuneração.
- (B) Dados da Pnad Contínua mostram que ainda há um contingente expressivo de pessoas desempregadas, e muitas delas, ainda que aspirem a um posto de trabalho, sofrem com a baixa instrução.
- (C) Cabe o governo à formulação de boas políticas educacionais para a formação de capital humano, com as quais ganhariam indivíduos, famílias, empresas e, portanto, a economia nacional.
- (D) O País não pode esquecer de que as pessoas menos educadas são também aquelas mais sujeitas à informalidade e às piores condições de emprego e de remuneração, devido baixa escolaridade.
- (E) Respeitados educadores, estudiosos da economia da educação e experiências de sucesso em políticas estaduais constitui preciosas fontes de ideias para formulação de boas políticas educacionais.

Dias de frio intenso castigam, e isso não é surpresa. Para quem trabalha com pessoas vulneráveis, o aviso de frente fria – ou melhor, de uma massa polar que pode levar o país a temperaturas negativas –, liga o alerta. É preciso agir.

Na noite em que a cidade de São Paulo registrou 7,9°C, e a sensação térmica foi de apenas 2°C, muitos grupos que assistem a população de rua tentaram sanar, ainda que superficialmente, o frio. Tentaram enxugar o gelo, que é a questão da população em situação de rua na cidade. Uma questão que envolve desigualdade social, planejamento urbano, saúde e administração pública.

(Mariana Agunzi, “Solidariedade aflora no frio congelante, mas é preciso avançar”. Folha de S.Paulo, 19.05.2022. Adaptado)

08. No texto, está empregada em sentido figurado a expressão

- (A) “frio intenso”, com o objetivo de intensificar uma situação que é habitual na cidade de São Paulo.
- (B) “massa polar”, com o objetivo de expor as proporções absurdas do frio que chegou ao país.
- (C) “liga o alerta”, com o objetivo de orientar as pessoas a evitarem sair de suas casas nos dias frios.
- (D) “enxugar o gelo”, com o objetivo de mostrar que as ações não alcançam plenamente suas finalidades.
- (E) “situação de rua”, com o objetivo de criticar a falta de políticas públicas aos mais vulneráveis.

09. Assinale a alternativa em que o uso do acento indicativo da crase está de acordo com a norma-padrão.

- (A) O país chegou às temperaturas negativas por causa de uma massa polar.
- (B) O alerta da frente fria estava relacionado à uma massa polar que viria.
- (C) Em São Paulo, a temperatura chegou à 7,9°C, com sensação de 2°C.
- (D) Com o frio, os voluntários foram à ruas onde há população vulnerável.
- (E) É preciso voltar-se à um planejamento urbano pensando nos desassistidos.

10. A colocação pronominal está em conformidade com a norma-padrão em:

- (A) Tendo registrado-se 7,9°C em São Paulo, a sensação térmica foi de 2°C.
- (B) Os grupos que dedicam-se à população de rua tentaram sanar o frio.
- (C) Se ligou o alerta, tão logo o aviso de frente fria no país foi divulgado.
- (D) Não espanta-nos o fato de que as pessoas sejam castigadas pelo frio.
- (E) Com o alerta de frente fria, esperava-se que as temperaturas caíssem.

11. A seguinte manchete foi apresentada em uma reportagem publicada em um jornal *on-line*:

*Brasil registra [em média] 28 multas a cada hora por uso de celular ao volante*

(<https://noticias.r7.com/brasil/brasil-registra-28-multas-a-cada-hora-por-uso-de-celular-ao-volante-12052022> - Adaptado (acessado em 17.05.2022))

Segundo a reportagem, o número apresentado foi calculado com base em dados do Registro Nacional de Infrações de Trânsito, relativos ao período total do ano 2021.

Sendo assim, é correto afirmar que o número total de multas associadas ao uso de celular ao volante, aplicadas no Brasil em 2021, ficou entre

- (A) 220 e 230 mil.
- (B) 230 e 240 mil.
- (C) 240 e 250 mil.
- (D) 250 e 260 mil.
- (E) 260 e 270 mil.

12. Segundo informações do Instituto Brasileiro de Geografia e Estatística, a população do município de Jundiá, identificada no último censo de 2010, era menor em 56 809 pessoas, quando comparada à população estimada em 2021. Se adicionadas as populações de ambos os momentos o total será de 797 061 pessoas; então, a população que foi estimada para 2021, no referido município, era de

- (A) 333 479 pessoas.
- (B) 351 844 pessoas.
- (C) 370 126 pessoas.
- (D) 401 241 pessoas.
- (E) 426 935 pessoas.

13. O salário de determinado cargo teve um aumento de 8%, passando para R\$ 2.700,00. Esse aumento correspondeu a um acréscimo, no salário anterior, de

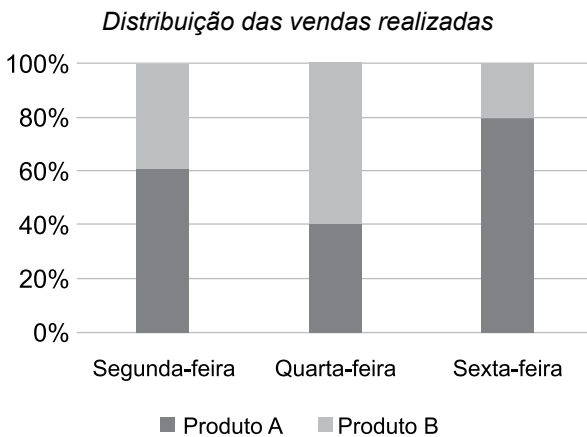
- (A) R\$ 200,00.
- (B) R\$ 205,00.
- (C) R\$ 210,00.
- (D) R\$ 215,00.
- (E) R\$ 220,00.

14. Na tabela a seguir, são apresentadas as respostas da seguinte pergunta feita para 250 pessoas: Você já visitou a França ou a Espanha?

Sim		Não
França	Espanha	
100	80	120

Com base na análise das informações apresentadas, é correto afirmar que o número de pessoas que visitaram somente a Espanha corresponde, do número total de pessoas que responderam à pesquisa, a:

- (A) 12%
- (B) 17%
- (C) 22%
- (D) 27%
- (E) 32%
15. O gráfico apresenta a distribuição das vendas realizadas de dois produtos, A e B, em três dias da semana anterior:

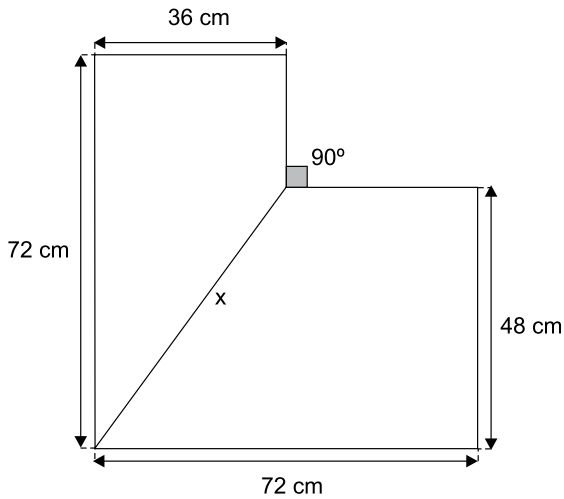


Com base nas informações apresentadas, assinale a alternativa que contém uma afirmação necessariamente verdadeira.

- (A) O dia em que foi vendida a maior quantidade de produtos B foi na quarta-feira.
- (B) A quantidade de produtos A vendidos na segunda-feira foi igual à quantidade de produtos B vendidos na terça-feira.
- (C) Na sexta-feira, a quantidade vendida de produtos B correspondeu à quarta parte da quantidade vendida de produtos A.
- (D) A quantidade vendida de produtos B, na quarta-feira, foi maior que na segunda-feira.
- (E) Nos três dias, vendeu-se a mesma quantidade total de produtos.

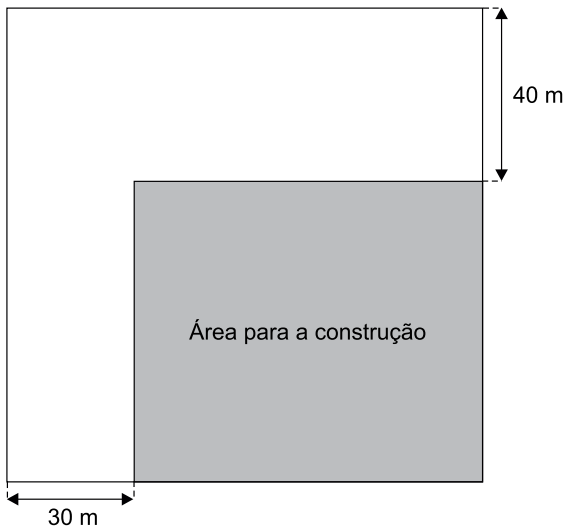
16. De acordo com estatística publicada no *site* do Conselho Regional de Odontologia de São Paulo, acessado em 17.05.2022, a razão entre o número de habitantes e o número de cirurgiões-dentistas no município de Valinhos era igual a 350, sendo que, naquele município havia 359 cirurgiões-dentistas. Já no município de Jundiaí, a mesma relação era de 295. Para que Valinhos tivesse a relação do número de cirurgiões-dentistas por habitante igual a de Jundiaí, o número de profissionais deveria ser
- (A) maior em, aproximadamente, 72 cirurgiões-dentistas.
  - (B) maior em, aproximadamente, 67 cirurgiões-dentistas.
  - (C) maior em, aproximadamente, 62 cirurgiões-dentistas.
  - (D) menor em, aproximadamente, 67 cirurgiões-dentistas.
  - (E) menor em, aproximadamente, 72 cirurgiões-dentistas.
17. Uma pesquisa sobre o preço de venda de determinado produto identificou que, em uma loja B, ele corresponde a  $\frac{6}{5}$  do preço de venda na loja A, e que, em uma loja C, ele é R\$ 60,00 maior que o preço de venda na loja A. Se a média aritmética simples dos preços de venda observados nessas três lojas é de R\$ 980,00, então, na loja B, o produto é vendido a
- (A) R\$ 1.020,00.
  - (B) R\$ 1.040,00.
  - (C) R\$ 1.060,00.
  - (D) R\$ 1.080,00.
  - (E) R\$ 2.000,00.
18. Duas máquinas foram programadas para soarem um alarme a cada período trabalhado: uma delas soa o alarme a cada 50 minutos trabalhados, e a outra, a cada uma hora e meia trabalhada. Supondo-se que, em determinado dia, as duas máquinas iniciaram seus trabalhos às 8h 30 min, a primeira vez em que ambas soaram os alarmes, ao mesmo tempo, foi às
- (A) 16h 00 min.
  - (B) 15h 30 min.
  - (C) 15h 00 min.
  - (D) 14h 30 min.
  - (E) 14h 00 min.

19. Duas chapas metálicas, retangulares e de mesma espessura, mas desprezível, medem 72 cm por 48 cm, e 72 cm por 36 cm. Elas serão recortadas, de modo a ter, ambas, um lado com medida  $x$ , em cm, para formar o objeto que está representado na figura abaixo:



Se, para a formação do objeto, não poderá haver sobreposição de uma chapa sobre a outra, então o valor de  $x$  deverá ser igual a

- (A) 56.
  - (B) 58.
  - (C) 60.
  - (D) 62.
  - (E) 64.
20. Em um terreno, no formato de quadrado, será reservada uma área retangular de  $5600 \text{ m}^2$  para a construção de um imóvel, com todos os seus anexos, conforme representado na figura.









Sabendo-se que o restante do terreno será destinado para área verde, essa área será de:

- (A)  $5425 \text{ m}^2$
- (B)  $6500 \text{ m}^2$
- (C)  $7625 \text{ m}^2$
- (D)  $8800 \text{ m}^2$
- (E)  $9925 \text{ m}^2$



## NOÇÕES DE INFORMÁTICA

21. Por meio do Explorador de Arquivos do MS-Windows 10, ambos em configuração padrão, um usuário deseja copiar todos os arquivos da pasta 2021 para dentro da pasta 2022. Considere que o usuário tem todas as permissões necessárias, há espaço disponível e os conteúdos originais das pastas 2021 e 2022 são os seguintes:

2021	2022
 arquivo1.txt	 arquivo1.txt
 arquivo2.docx	 arquivo2.xlsx
 arquivo3.xlsx	 arquivo3.docx

Após copiar os arquivos da pasta 2021, colar dentro da pasta 2022 e responder SIM sempre que perguntado se deseja substituir arquivos, o número de arquivos dentro da pasta 2022 será:

- (A) 2  
 (B) 3  
 (C) 4  
 (D) 5  
 (E) 6
22. Um usuário inseriu uma tabela 4x4 vazia em um documento do MS-Word 2016, em sua configuração padrão, conforme visto na imagem a seguir.


Feito isso, o usuário selecionou toda a tabela, escolheu o ícone Bordas, do grupo Parágrafo da guia Página Inicial, e clicou na opção Borda Direita.

Assinale a alternativa que apresenta a tabela resultante da ação descrita.

- (A) 

- (B) 

- (C) 

--
- (D) 

- (E) 


23. Observe a planilha a seguir, elaborada por meio do MS-Excel 2016, em sua configuração padrão.

	A	B	C	D	E	F
1	Produtos	Fornecedor 1	Fornecedor 2	Fornecedor 3	Fornecedor 4	Preço Mais Barato
2	Item 1	10	24	15	18	10
3	Item 2	25	18	22	20	18
4	Item 3	12	15	14	11	11
5	Item 4	11	23	17	12	11
6	Item 5	13	19	15	16	13

A fórmula aplicada na célula F2, que corresponde ao valor exibido na imagem, é:

- (A) =MAIOR(B2:E2;1)  
 (B) =MÁXIMO(B2:E2)  
 (C) =SOMA(B2:E2)  
 (D) =MENOR(B2:E2;4)  
 (E) =MAIOR(B2:E2;4)
24. No MS-PowerPoint 2016, em sua configuração padrão, "Título e Conteúdo", "Comparação" e "Somente Título" são opções de
- (A) layout de slide.  
 (B) animação.  
 (C) temas.  
 (D) transição.  
 (E) modos de exibição.

25. Um usuário abriu o Google Chrome versão 101, em sua configuração padrão. O atalho por teclado para abrir uma janela de navegação anônima é:

- (A) Ctrl + A  
 (B) Ctrl + N  
 (C) Ctrl + Shift + N  
 (D) Ctrl + T  
 (E) Ctrl + Shift + T

## CONHECIMENTOS ESPECÍFICOS

### ADMINISTRAÇÃO PÚBLICA

26. Discutida e aprovada pela Câmara de Vereadores e sancionada pelo Prefeito, uma lei municipal, em determinados casos concretos, permite ao gestor público atuar de acordo com a conveniência e oportunidade. Essa possibilidade de atuação do gestor, dentro dos limites legais estabelecidos, diz respeito ao seguinte poder da administração pública:
- (A) regulamentar.
  - (B) de polícia.
  - (C) vinculado.
  - (D) discricionário.
  - (E) hierárquico.
27. Sistema que determina o equilíbrio de poder entre os envolvidos — cidadãos, representantes eleitos (governantes), alta administração, gestores e colaboradores — com vistas a permitir que o bem comum prevaleça sobre os interesses de pessoas ou grupos.
- (A) *accountability*.
  - (B) freios e contrapesos.
  - (C) governança pública.
  - (D) governabilidade.
  - (E) nova gestão pública.
28. Políticas públicas municipais relativas à saúde e à educação possuem valores mínimos constitucionais de receitas a serem aplicados anualmente que correspondem, respectivamente, a:
- (A) 25% e 18%.
  - (B) 18% e 25%.
  - (C) 15% e 25%.
  - (D) 15% e 18%.
  - (E) 12% e 25%.
29. São funções institucionais, entre outras, do Ministério Público:
- (A) prestar orientação jurídica, promover os direitos humanos e a defesa, em todos os graus, judicial e extrajudicial, dos direitos individuais e coletivos, de forma integral e gratuita, aos necessitados.
  - (B) representar a União, os Estados, o Distrito Federal ou os Municípios, judicial e extrajudicialmente, cabendo-lhe as atividades de consultoria e assessoramento jurídico do Poder Executivo.
  - (C) guardar a Constituição Federal, as constituições estaduais e as leis orgânicas municipais.
  - (D) promover o inquérito civil e a ação civil pública, para a proteção do patrimônio público e social, do meio ambiente e de outros interesses difusos e coletivos.
  - (E) defender os clientes em litígios diversos, sendo facultada sua atuação em processos administrativos, na impetração de *habeas corpus*, em causas de pequeno valor que envolvam os juizados especiais e em processos trabalhistas em primeira e segunda instâncias.
30. A secretaria de planejamento e orçamento reuniu os analistas de planejamento e orçamento do quadro da prefeitura e deu início à elaboração do plano plurianual (PPA) referente à nova gestão municipal. Sobre o PPA, a equipe verificou corretamente que
- (A) por ser uma lei orçamentária, a iniciativa da lei cabe ao chefe da Câmara de Vereadores.
  - (B) é um plano estratégico de longo prazo, cuja vigência se inicia no segundo ano de mandato do prefeito em exercício e termina no segundo ano do mandato posterior.
  - (C) define as metas e prioridades da administração pública para os próximos quatro anos.
  - (D) planos e programas nacionais, regionais e setoriais, previstos constitucionalmente, e emendas à lei orçamentária anual (LOA), em regra, não precisam estar em consonância com o PPA.
  - (E) investimentos que ultrapassem um exercício financeiro não podem ser iniciados sem prévia inclusão no PPA, ou em lei que autorize a inclusão, sob pena de crime de responsabilidade.

31. Sobre o plano diretor, instrumento básico da política de desenvolvimento e de expansão urbana municipal, é correto afirmar que
- (A) em sua versão participativa, limita as discussões e decisões aos conselheiros eleitos pela população.
  - (B) deve ser revisado, mediante lei de iniciativa do prefeito, pelo menos a cada quatro anos.
  - (C) há a impossibilidade de desapropriação de propriedade urbana que não cumpre sua função social.
  - (D) em regra, não cabe a cobrança de imposto progressivo sobre propriedade urbana ou rural.
  - (E) é obrigatório para cidades com mais de vinte mil habitantes.
32. É procedente a seguinte afirmação sobre as relações entre os poderes e órgãos de controle municipais e os municípios:
- (A) o parecer prévio, emitido pelo órgão competente sobre as contas que o prefeito deve prestar anualmente, não deixará de prevalecer por decisão dos vereadores.
  - (B) o controle interno do poder executivo será exercido pela câmara municipal com o auxílio dos tribunais de contas dos estados ou do município ou dos conselhos ou tribunais de contas dos municípios, onde houver.
  - (C) é vedada a criação de tribunais, conselhos ou órgãos de contas municipais, salvo se houver receitas orçamentárias suficientes e discussão e aprovação pelos vereadores.
  - (D) as contas apresentadas pelo prefeito ficarão disponíveis, durante todo o exercício, na respectiva câmara de vereadores e no órgão técnico responsável pela sua elaboração, para consulta e apreciação pelos cidadãos e instituições da sociedade.
  - (E) cabe ao tribunal de justiça processar e julgar crimes de improbidade administrativa comprovadamente praticados pelo prefeito, por este gozar de foro privilegiado.
33. Um cidadão solicitou a uma repartição da prefeitura acesso à informação de caráter público, que não se enquadra em casos específicos e que não estava disponível para ser entregue imediatamente a ele. Dito isso, o prazo que o órgão público possui para atender ao pedido é de até
- (A) 20 (vinte) dias, prorrogáveis por mais 10 (dez) dias se houver justificativa expressa.
  - (B) 5 (cinco) dias úteis, improrrogáveis.
  - (C) 20 (vinte) dias, prorrogáveis por mais 20 (vinte) dias não havendo necessidade de justificativa expressa.
  - (D) 10 (dez) dias úteis, se houver servidor à disposição para a demanda.
  - (E) 24h (vinte e quatro), exceto sábados, domingos e feriados.
34. Ao acessar, por meio do portal da prefeitura, os balanços orçamentários da gestão anterior do seu município com vistas a analisar o comportamento da arrecadação tributária, um determinado gestor público recém-empossado encontrou como fontes de receitas orçamentárias correntes os seguintes impostos:
- (A) Taxa de Coleta do Lixo, Contribuição de Iluminação Pública (COSIP) e Taxa de Alvará de Funcionamento.
  - (B) Imposto sobre Propriedade Territorial Urbana (IPTU), Imposto Sobre Serviços de Qualquer Natureza (ISSQN) e Imposto de Transmissão de Bens Imóveis (ITBI).
  - (C) Imposto sobre Propriedade Territorial Urbana (IPTU), Imposto sobre Circulação de Mercadorias e Prestação de Serviços (ICMS) e Imposto de Transmissão *Causa Mortis* e Doação (ITCMD).
  - (D) Imposto Sobre Serviços (ISS), Contribuição de Iluminação Pública (COSIP) e Imposto de Transmissão de Bens Imóveis (ITBI).
  - (E) Imposto sobre Propriedade Territorial Urbana (IPTU), Imposto sobre Propriedades de Veículos Automotores (IPVA) e Imposto Sobre Serviços (ISS).

35. Além das dificuldades de concepção e redesenho de políticas públicas, a não realização ou o atraso do recenseamento demográfico decenal pode impactar o município nas transferências constitucionais, como o Fundo de Participação dos Municípios (FPM), que possui como uma de suas características
- (A) a vinculação de recursos, ou seja, atribuir uma destinação específica de receitas a despesas, sendo expressamente vedada a livre destinação pelos municípios.
  - (B) a destinação, pela União, de 22,5% do Imposto sobre a Renda e Proventos de Qualquer Natureza e do Imposto sobre Produtos Industrializados ao Fundo.
  - (C) a distribuição de recursos, considerando municípios que são capitais, municípios do interior e municípios do litoral com mais de 142 633 habitantes.
  - (D) o crédito a cada 20 (vinte) dias aos municípios por meio de conta aberta com essa finalidade no Banco do Brasil, cabendo ao Tribunal de Contas da União (TCU) efetuar o cálculo das cotas de repasses.
  - (E) a observância dos critérios populacional e do Índice de Desenvolvimento Humano Municipal (IDH-M) na distribuição dos recursos aos municípios.
36. Com vistas a garantir aos munícipes a prestação do adequado serviço de limpeza urbana, a Secretaria Municipal de Infraestrutura e Serviços Públicos iniciou os preparativos para a contratação de empresa especializada. Entre as características desse tipo de contrato administrativo, tem-se que
- (A) por ser um serviço executado de forma contínua, a duração dos contratos ficará adstrita à vigência dos respectivos créditos orçamentários.
  - (B) poderá ter a sua duração prorrogada por iguais e sucessivos períodos com vistas à obtenção de preços e condições mais vantajosas ao contratado, limitada a sessenta meses.
  - (C) a execução do contrato poderá ser acompanhada e fiscalizada por um representante da Administração especialmente designado, permitida a contratação de terceiros para subsidiá-lo.
  - (D) não é permitido a qualquer licitante o conhecimento dos termos do contrato e do respectivo processo licitatório e, a qualquer interessado, é permitida a obtenção de cópia autenticada apenas mediante o pagamento dos emolumentos devidos.
  - (E) pela inexecução total ou parcial do contrato, o poder judiciário poderá, garantida a prévia defesa, aplicar ao contratado sanções como advertência, multa, suspensão temporária e declaração de inidoneidade.
37. A Secretaria Municipal da Educação realizou licitação, na modalidade pregão, para aquisição de gêneros alimentícios para composição da merenda escolar a ser distribuída aos alunos da rede pública de ensino. Sobre esse cenário, pode-se afirmar que
- (A) é incompatível às funções do Tribunal de Contas vistoriar *in loco* as condições de fornecimento da merenda escolar.
  - (B) cópias do edital e do respectivo aviso da licitação foram disponibilizadas para consulta restrita a todos os licitantes.
  - (C) bens e serviços comuns são aqueles cujos padrões de desempenho e qualidade podem ser objetivamente definidos pelo edital, por meio de especificações usuais no mercado.
  - (D) para julgamento e classificação das propostas apresentadas, foram adotados os critérios de menor preço ou de maior desconto e melhor técnica de preparação da merenda.
  - (E) da mesma forma que ocorre nas modalidades concorrência, tomada de preços e convite, no pregão eletrônico, habilitam-se os interessados para, posteriormente, realizar-se o julgamento e a classificação das propostas.

#### NOÇÕES DE AUDITORIA

38. Após auditoria realizada pelo(a) \_\_\_\_\_, em um dado período de apuração, foi emitido por este órgão um alerta ao poder executivo de um município do interior de São Paulo por ter ultrapassado 90% do limite legal de \_\_\_\_\_ da receita corrente líquida do montante da \_\_\_\_\_.
- Assinale a alternativa que completa, correta e respectivamente, as lacunas.
- (A) Tribunal de Contas do Município ... 54% ... despesa total com pessoal
  - (B) Tribunal de Contas do Estado ... 54% ... despesa total com pessoal
  - (C) Controladoria-Geral do Estado ... 60% ... amortização da dívida
  - (D) Controladoria-Geral do Município ... 60% ... despesa total com pessoal
  - (E) Tribunal de Contas dos Municípios ... 60% ... amortização da dívida

39. Um auditor, para evidenciar os exames que realizou em uma auditoria em uma entidade do setor público e dar suporte à sua opinião, críticas, sugestões e recomendações, produziu documentos e registros dos fatos, informações e provas. Assim, essa produção é denominada:
- (A) relatórios.  
 (B) testes de observância.  
 (C) testes substantivos.  
 (D) papéis de trabalho.  
 (E) demonstrativos.
40. Concluída uma auditoria em uma prefeitura, foram evidenciados no relatório diversos tipos de fraudes e erros nos registros contábeis. A responsabilidade principal na prevenção e detecção de fraudes e erros pertence aos
- (A) administradores da entidade.  
 (B) auditores internos da entidade.  
 (C) auditores externos à entidade.  
 (D) contadores públicos da entidade.  
 (E) controladores públicos da entidade.
41. É correto afirmar sobre as características relativas à auditoria interna e externa que
- (A) o auditor interno pertence aos quadros da entidade auditada, é subordinado ao alto escalão da gestão pública e possui maior grau de autonomia em comparação ao auditor externo independente.  
 (B) a auditoria interna não pode ser exercida nas pessoas jurídicas de direito público interno ou externo.  
 (C) a auditoria interna é realizada periodicamente e tem como interessado no trabalho a entidade auditada, e a auditoria externa é realizada de forma contínua e tem como interessado o público em geral.  
 (D) o principal relatório da auditoria interna é o parecer e o da auditoria externa são as recomendações.  
 (E) a auditoria interna busca promover melhorias nos controles operacionais, e a auditoria externa opina sobre as demonstrações financeiras de uma entidade.
42. Conjunto integrado de atividades de especialistas e gestores, com foco em pessoas, no sentido de proporcionar competências e competitividade à organização. No contexto presente, esse conjunto é denominado
- (A) Gestão do Capital Organizacional.  
 (B) Administração de Seres Humanos.  
 (C) Gestão dos Trabalhadores.  
 (D) Gestão de Pessoas.  
 (E) Administração de Potencialidades.
43. No âmbito dos estudos e conceituações com enfoque comportamental na administração, é correto afirmar que
- (A) a cultura organizacional abrange, basicamente, as normas formais de conduta e os comportamentos observáveis dos trabalhadores.  
 (B) o clima organizacional é, em essência, uma medida de como as pessoas se sentem em relação à organização e a seus administradores.  
 (C) a empresa deve ser vista como um sistema de dados objetivos, que não comporta uma organização informal oculta.  
 (D) as percepções e os sentimentos dos membros de uma organização são formados individualmente, sem a participação dos grupos existentes.  
 (E) nas empresas, quando analisadas sob o ângulo do sistema social, as pessoas comportam-se como peças de máquinas ou seres estritamente profissionais.
44. Uma das teorias de liderança baseia-se na crença de que algumas pessoas são melhores líderes do que outras. Defensores dessa perspectiva para a compreensão da liderança argumentariam que quem é um bom líder em uma determinada situação, seria um bom líder em qualquer outra. Trata-se da abordagem
- (A) do comportamento do líder.  
 (B) da contingência.  
 (C) do caminho/objetivo.  
 (D) da interação líder-membro.  
 (E) das características do líder.

45. Segundo uma das teorias de motivação existentes, defendida por Bandura, a crença na própria capacidade por parte de um indivíduo
- (A) é um componente necessário para a motivação no trabalho e, conseqüentemente, para o desempenho no trabalho.
  - (B) caracteriza-se como um fator fundamental para a motivação no âmbito do trabalho, mas não possui correlação com a eficiência do desempenho.
  - (C) tem alguma influência no nível do desempenho no trabalho, mas é irrelevante para a motivação dos trabalhadores.
  - (D) é um elemento sem importância para a motivação, tendo pouca relevância também para o desempenho profissional.
  - (E) mostra-se um aspecto desnecessário para a motivação no trabalho, sendo contudo um fator que favorece a apresentação de uma boa performance.
46. No que diz respeito à avaliação da função de Gestão de Pessoas (GP), assinale a alternativa correta.
- (A) A avaliação das atividades e programas de GP contraria a elaboração de justificativas da própria existência e do orçamento de despesas de GP.
  - (B) As fontes de informação para a auditoria de GP residem basicamente em dois processos de GP: provisão e aplicação de pessoas.
  - (C) Auditoria de GP é a análise sistemática das políticas e práticas de pessoal e a avaliação do seu funcionamento, tanto para a correção dos desvios como para a sua melhoria contínua.
  - (D) A avaliação de Recursos Humanos deve evitar a participação da administração de cúpula a fim de garantir o foco em aspectos da organização que devem ser criticamente avaliados.
  - (E) A auditoria de Recursos Humanos é uma revisão esporádica e informal projetada para medir custos do programa global de GP e comparar sua eficiência atual com as perspectivas de desempenho futuro.
47. Assinale a alternativa correta, no âmbito da temática de grupos e equipes de trabalho.
- (A) A equipe é um conjunto de pessoas que interage essencialmente para compartilhar informações e tomar decisões.
  - (B) O grupo é um conjunto de pessoas com habilidades e competências suplementares que buscam atingir um propósito comum, e pelo qual se consideram coletivamente responsáveis.
  - (C) O grupo informal é o principal instrumento de trabalho do administrador em qualquer nível organizacional em que se encontre.
  - (D) Um grupo é muito mais do que uma simples equipe por causa de dois aspectos: compromisso e engajamento em relação ao objetivo a ser alcançado.
  - (E) Comunicação aberta e intensa, colaboração e ajuda mútua, são características presentes em uma equipe de elevado desempenho.
48. No contexto organizacional, uma das principais características da supervisão de primeira linha ou primeiro nível
- (A) reside em que o supervisor costuma ser o responsável pela elaboração das regras, procedimentos, políticas e diretrizes organizacionais.
  - (B) é o fato de o supervisor ter a responsabilidade de dirigir o trabalho do pessoal em geral não administrativo, que é incumbido da execução das tarefas e operações da empresa.
  - (C) refere-se à necessidade de os supervisores se orientarem mais para o planejamento, a organização e o controle, e menos para o conhecimento das tarefas que supervisionam.
  - (D) diz respeito à comunicação, pois os supervisores devem comunicar-se por meio de uma linguagem distinta – a linguagem dos administradores.
  - (E) concerne à facilidade existente para a formação da identidade dos supervisores, uma vez que são executores e têm boa aceitação como administradores pelos níveis mais elevados da organização.

**49.** A Lei Orgânica Municipal de Jundiá estabelece que a despesa com pessoal ativo e inativo do Município não poderá exceder os limites legais e constitucionais. Nesse sentido, a concessão de qualquer vantagem ou aumento de remuneração somente poderá ocorrer se houver prévia dotação orçamentária suficiente para

- (A) atender às projeções de despesa de pessoal e aos acréscimos dela decorrentes; e autorização específica na lei de diretrizes orçamentárias, incluindo as empresas públicas e as sociedades de economia mista.
- (B) cumprir com as metas previstas no plano plurianual; e for aprovada em lei complementar específica, na qual deverão constar a respectiva previsão orçamentária e valor total das despesas, ressalvadas as empresas públicas e as sociedades de economia mista.
- (C) atender às projeções de despesa de pessoal e aos acréscimos dela decorrentes; e autorização específica na lei de diretrizes orçamentárias, ressalvadas as empresas públicas e as sociedades de economia mista.
- (D) cumprir com as metas previstas no plano plurianual; e for aprovada em lei complementar específica, na qual deverão constar a respectiva previsão orçamentária e o valor total das despesas, incluindo as empresas públicas e as sociedades de economia mista.
- (E) atender as despesas globais e estar de acordo com o plano plurianual e a lei de diretrizes orçamentárias, desde que aprovada a medida em lei complementar específica, ressalvadas as empresas públicas e as sociedades de economia mista.

**50.** Rose exercia o cargo de provimento efetivo no serviço público municipal de Jundiá, mas foi demitida. No entanto, a Justiça anulou o ato de sua demissão. Quando foi reingressar no serviço público, a Administração constatou em inspeção médica limitação em sua capacidade física. Nessa situação hipotética, considerando o disposto na Lei Complementar Municipal nº 499/2010 (Estatuto dos Funcionários Públicos do Município de Jundiá), é correto afirmar que Rose

- (A) terá o direito de ser reintegrada, com redução proporcional nos vencimentos.
- (B) deverá ser aposentada compulsoriamente, com proventos proporcionais.
- (C) será aproveitada em outro cargo com vencimentos compatíveis com o anteriormente ocupado.
- (D) deverá reingressar no serviço público pela reversão, em cargo compatível com sua limitação.
- (E) terá o direito de ser reintegrada, mas poderá ser readaptada ou aposentada.

