


MOTORISTA SOCORRISTA

INSTRUÇÕES AO CANDIDATO

- **Durante a realização da prova não será permitido ao candidato, sob pena de exclusão do Processo Seletivo:**
 - a) Qualquer espécie de consulta bibliográfica, utilização de livros, manuais ou anotações;
 - b) Comunicação entre candidatos;**
 - c) Uso de máquina calculadora;
 - d) Uso de relógio de qualquer tipo;
 - e) Agendas eletrônicas, telefones celulares, smartphones, MP3, notebook, palmtop, tablet, BIP, walkman, gravador ou qualquer outro receptor ou transmissor;
 - f) Uso de óculos escuros, bonés, protetores auriculares e outros acessórios similares;
 - g) Perturbar de qualquer modo a execução dos trabalhos;

- Todas as respostas do Caderno de Prova deverão ser transportadas para o Cartão Resposta;

- Não serão computadas as questões não assinaladas ou que contenham mais de uma resposta, ementa ou rasura;

- O gabarito da letra escolhida deve ser pintado de forma a completar todo o círculo. Exemplo:


- Para a realização da Prova Escrita, o candidato deverá utilizar caneta esferográfica de tinta azul ou preta;

- Após a realização da prova, o candidato deverá afastar-se do local;

- Ao terminar a prova, o candidato entregará ao fiscal o Caderno de Prova e o Cartão Resposta devidamente **preenchido e assinado**;

- Os 03 últimos candidatos permanecerão até o último concluir, os quais assinarão a ata de encerramento, juntamente com os fiscais, efetuarão a conferência dos Cartões-Resposta, cujas irregularidades serão apontadas na referida ata, e assinarão o lacre dos envelopes em que forem guardados os Cartões-Resposta;

- A Prova escrita terá início às 08h30min com término às 10h30min. A duração mínima para realização da prova é de 30 (trinta) minutos, com tempo máximo de 02h00min (duas) horas. A Prova será composta por questões de múltipla escolha, sendo cada questão composta de 05 alternativas (a, b, c, d, e), possuindo somente uma alternativa correta;

- O Caderno de Provas será composto:

CONTEÚDO	Nº DE QUESTÕES
Língua Portuguesa	03 (três)
Raciocínio Lógico	03 (três)
Conhecimentos Gerais	02 (duas)
Informática	02 (duas)
Conhecimentos Específicos	10 (dez)
Total de Questões	20 (vinte)

- Verifique se o Caderno de Provas está completo, sem falhas de impressão e se a quantidade de questões está correta;
- Você deverá transcrever as respostas das questões para o Cartão-Resposta, que será o **único documento válido para a correção das provas.**
- **O preenchimento do Cartão Resposta é de inteira responsabilidade do candidato e não será substituído em caso de erro do candidato.**

BOA PROVA!

Língua Portuguesa

Questão 01

Assinale a alternativa que apresenta a regra que justifica a acentuação gráfica da palavra INSOLÚVEL em "A areia é insolúvel na água"

- (A) Recebem acento as palavras paroxítonas com mais de uma sílaba e que possuem ditongo nasal grafado (in)
- (B) Recebem acento agudo as paroxítonas que terminam em -l.
- (C) Recebem acento agudo as paroxítonas que terminam em ditongo decrescente.
- (D) Todas as proparoxítonas são acentuadas.
- (E) Recebem acento agudo as paroxítonas que terminam em ditongo crescente.

Questão 02

Na frase "Eu me refiro à questão que você me falou" o fenômeno linguístico da crase teve de ocorrer porque:

- (A) No contexto em que foi empregada, a crase é facultativa.
- (B) Está atendendo à regência verbal de "continuo" que exige a preposição "a" e pela presença de artigo definido feminino singular.
- (C) Trata-se de uma locução adverbial feminina que sempre é apresentada com a contração À.
- (D) Está atendendo à regência nominal de "prova" que exige a preposição "a" e pela presença de artigo definido feminino singular.
- (E) Está atendendo à regência verbal de "refiro" que exige a preposição "a" e pela presença de artigo definido feminino singular.

Questão 03

A oração "Naquele local, havia um muro com uma frase inspiradora e um portal esplendoroso" tem o sujeito classificado como:

- (A) Oculto.
- (B) Simples.
- (C) Inexistente.
- (D) Composto.
- (E) Indeterminado.

Raciocínio Lógico

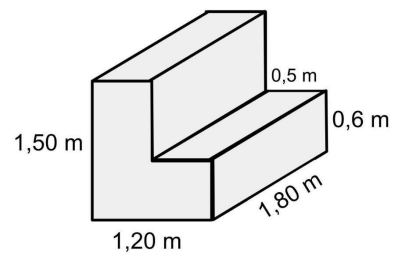
Questão 04

Mariana, Hugo e Raul são atuantes em projetos sociais, sendo frequentes as visitas que fazem a um orfanato da cidade onde moram. Mariana vai de 10 em 10 dias, Hugo vai de 12 em 12 dias e Raul vai de 15 em 15 dias. Se hoje os três visitaram o orfanato, daqui a quantos dias visitarão juntos novamente?

- (A) Os três visitarão juntos novamente daqui a 60 dias.
- (B) Os três visitarão juntos novamente daqui a 30 dias.
- (C) Os três visitarão juntos novamente daqui a 24 dias.
- (D) Os três visitarão juntos novamente daqui a 32 dias.
- (E) Os três visitarão juntos novamente daqui a 15 dias.

Questão 05

Durante a obra de sua casa, Carlos resolveu fazer um banco maciço de concreto, conforme imagem abaixo:



Se a empresa que fornece o concreto cobrou R\$ 250,00 pelo metro cúbico de concreto, quanto Carlos pagou pelo banco?

- (A) Carlos pagou R\$ 893,10.
- (B) Carlos pagou R\$ 720,40.
- (C) Carlos pagou R\$ 315,20.
- (D) Carlos pagou R\$ 509,00.
- (E) Carlos pagou R\$ 607,50.

Questão 06

Bianca é cerimonialista e em uma festa para 130 pessoas aconselhou sua cliente a encomendar 1950 salgados, porém, foram convidadas mais 20 pessoas. Quantos salgados devem ser encomendados para manter a mesma média por convidado?

- (A) Devem ser encomendados 2250 salgados.
- (B) Devem ser encomendados 3200 salgados.
- (C) Devem ser encomendados 2850 salgados.
- (D) Devem ser encomendados 2420 salgados.
- (E) Devem ser encomendados 2500 salgados.

Conhecimentos Gerais

Questão 07

"A Guerra dos Farrapos aconteceu após Porto Alegre ser dominada, em 1835, por Bento Gonçalves. No ano imediatamente posterior, os insurgentes declararam pública e solenemente constituída a República Rio-Grandense, cuja capital instalou-se na vila de Piratini."

Disponível em: <https://www.infoescola.com/historia>

Estendendo-se pelo sul do país, a Revolução Farroupilha chegou à Santa Catarina onde foi aclamada a:

- (A) República Sulista.
- (B) República Juliana.
- (C) Proclamação da República Brasileira.
- (D) Independência do Brasil.
- (E) Independência da Região Sul.

Questão 08

Quem foram os primeiros colonizadores do território onde hoje se encontra o município de Seara/SC?

- (A) Agricultores vindos do Rio Grande do Sul.
- (B) Madeireiros vindos do Paraná.
- (C) Indígenas que fugiam da dominação portuguesa.
- (D) Exploradores vindos do Uruguai.
- (E) Imigrantes europeus vindos diretamente da Alemanha e da Itália.

Informática

Questão 09

Após alguns meses de uso, é normal que o PC perca um pouco do desempenho que tinha inicialmente. Isso se deve principalmente aos programas instalados e arquivos acumulados no HD, especialmente se eles estiverem fragmentados. Para otimizar o computador com o sistema da Microsoft e deixá-lo mais rápido, uma das ações de manutenção a se fazer é.

Marque a alternativa CORRETA que corresponde ao contexto acima.

- (A) Varredura com Antivírus.
- (B) CHKDSK.
- (C) Criar ponto de recuperação.
- (D) Desfragmentar o disco.
- (E) Backup dos arquivos.

Questão 10

É o nome de um dos programas mais populares criados

pela Microsoft. Trata-se de um software que permite realizar apresentações através de dispositivos (mais conhecidos no Brasil como "slides").

Marque a alternativa CORRETA que corresponde ao contexto acima.

- (A) Microsoft PowerPoint.
- (B) Microsoft Publisher.
- (C) Microsoft Excel.
- (D) Microsoft Outlook.
- (E) Microsoft Word.

Conhecimentos Específicos

Questão 11

Analise a figura a seguir:



A sinalização de regulamentação acima indica:

- (A) Início de pista dupla.
- (B) Mão dupla adiante.
- (C) Pista dividida.
- (D) Sentido duplo.
- (E) Fim de pista dupla.

Questão 12

Direção defensiva, é a melhor maneira de dirigir e de se comportar no trânsito, porque ajuda a preservar a vida, a saúde e o meio ambiente. Registre V, para verdadeiro, ou F, para falso, nas afirmativas abaixo:

(__) Faróis queimados, em mau estado de conservação ou desalinhados: aumentam a visibilidade panorâmica e você consegue ver tudo o que deveria.

(__) Lanternas de posição queimadas ou com defeito, à noite ou em ambientes escurecidos (chuva, penumbra): comprometem o reconhecimento do seu veículo pelos demais usuários da via.

(__) Luzes de freio queimadas ou com mau funcionamento (à noite ou de dia): você freia e isso não é sinalizado aos outros motoristas. Eles vão ter menos tempo e distância para frear com segurança.

Após análise, assinale a alternativa CORRETA sobre direção defensiva:

- (A) F, F, V.
- (B) V, F, V.
- (C) F, F, F.
- (D) V, V, V.
- (E) F, V, V.

Questão 13

Sobre noções de mecânica, e os principais sistemas do veículo, leia as afirmativas abaixo:

I.Motor: dividido em sistema de alimentação, ignição e lubrificação responsável por transformar energia térmica (queima do combustível) em energia mecânica (movimento do carro).

II.Direção: responsável por transmitir a força do motor até as rodas (Embreagem, caixa de marchas, cardan...)

III.Sistema Elétrico: têm a função de gerar/armazenar/distribuir energia para todas as funções do carro.

Qual(is) afirmativa(s) está(ão) CORRETA(S)?

- (A) Somente o item I.
- (B) Os itens II e III.
- (C) Os itens I e II.
- (D) Os itens I e III.
- (E) Todos os itens.


Questão 14

Com relação a conduta em casos de desmaios, é correto afirmar, EXCETO:

- (A) Aplicar compressas frias no rosto.
- (B) Deitar a vítima de costas, com a cabeça mais baixa que o corpo ou no mesmo nível. Se possível, manter as pernas ligeiramente levantadas.
- (C) Apertar as roupas.
- (D) Manter a vítima em um local arejado.
- (E) Verificar a pulsação e respiração.

Questão 15

Durante uma viagem a cidade de Manaus, quando levava sua família para um passeio, Marcos foi indagado pelo seu filho sobre o significado da seguinte placa. Analise:



A resposta CORRETA é:

- (A) Vias laterais à frente.
- (B) Entroncamento oblíquo.
- (C) Interseção em Y.
- (D) Bifurcação em Y.
- (E) Junções sucessivas contrárias.

Questão 16

Durante atendimento um acidente automobilístico, uma equipe de socorrista visualiza o motorista com fratura exposta na perna. Qual o procedimento que o profissional que atua no atendimento pré-hospitalar, **NÃO** deverá adotar neste momento:

- (A) Prevenir o estado de choque.
- (B) Transportar a vítima para o hospital.
- (C) Imobilizar o membro na posição em que se encontra (a imobilização deve atingir uma articulação acima e outra abaixo da lesão).
- (D) Fazer um curativo com gaze ou pano limpo no local rompido.
- (E) Alinhar o membro fraturado.

Questão 17

Julgue as afirmativas abaixo referente a direção defensiva:

I.Direção defensiva, ou direção segura, é a melhor maneira de dirigir e de se comportar no trânsito, porque ajuda a preservar a vida, a saúde e o meio ambiente.

II.Para manter seu veículo em condições seguras, crie o hábito de fazer periodicamente a manutenção corretiva. Ela é fundamental para minimizar o risco de acidentes de trânsito.

III.O veículo dispõe de equipamentos e sistemas

importantes para evitar situações de perigo que possam levar a acidentes, como freios, suspensão, sistema de direção, iluminação, pneus e outros. Manter esses equipamentos em boas condições é importante para que eles cumpram suas funções.

Qual(is) afirmativa(s) está(ão) CORRETA(S)?

- (A) Somente a afirmação I está correta.
- (B) As afirmações I e II estão corretas.
- (C) Todas as afirmações estão corretas.
- (D) As afirmações I e III estão corretas.
- (E) As afirmações II e III estão corretas.

Questão 18

De acordo com manuais de primeiros socorros, a sinalização de um acidente de trânsito deve ser iniciada para ser visível aos motoristas de outros veículos antes que eles vejam o acidente. Em uma via de fluxo rápido, a noite, e com chuva, a distância CORRETA para o início da sinalização é de:

- (A) 80 passos longos.
- (B) 160 passos longos.
- (C) 120 passos longos.
- (D) 60 passos longos.
- (E) 90 passos longos.

Questão 19

Em acidentes de trânsito sempre existe o risco de incêndio. E ele aumenta bastante quando ocorre vazamento de combustível. Nesses casos é importante adotar os seguintes procedimentos:

I. Se houver risco elevado de incêndio, principalmente com vítimas presas nas ferragens, peça aos outros motoristas que deixem seus extintores prontos para uso, a uma distância segura do local de risco, até a chegada do socorro.

II. Oriente para que fumem no local.

III. Se for fácil e seguro, desligue o motor do veículo acidentado.

Qual(is) afirmativa(s) está(ão) CORRETA(S)?

- (A) Os itens I e III.
- (B) Nenhum item está correto.
- (C) Todos os itens.
- (D) Somente o item I.
- (E) Somente o item III.

Questão 20

De acordo com o Código de Trânsito Brasileiro, para conduzir veículos de emergência o condutor deverá

preencher os seguintes requisitos:

I. Ser maior de dezoito anos.

II. Não ter cometido mais de uma infração gravíssima nos últimos 6 (seis) meses.

III. Ser aprovado em curso especializado e em curso de treinamento de prática veicular em situação de risco, nos termos da normatização do CONTRAN.

Qual(is) afirmativa(s) está(ão) CORRETA(S)?

- (A) Os itens I, II e III.
- (B) Os itens II e III.
- (C) Somente o item I.
- (D) Somente o item III.
- (E) Os itens I, e II.