

CONHECIMENTOS BÁSICOS

Texto para as questões de 1 a 4.

1 Vivo só, com um criado. A casa em que moro é
própria; fi-la construir de propósito, levado de um desejo
tão particular que me vexa imprimi-lo, mas vá lá. Um dia, há
4 bastantes anos, lembrou-me reproduzir no Engenho Novo a
casa em que me criei na antiga rua de Matacavalos,
dando-lhe o mesmo aspecto e economia daquela outra, que
7 desapareceu. Construtor e pintor entenderam bem as
indicações que lhes fiz: é o mesmo prédio assobradado, três
janelas de frente, varanda ao fundo, as mesmas alcovas e
10 salas. Na principal destas, a pintura do teto e das paredes é
mais ou menos igual, umas grinaldas de flores miúdas e
grandes pássaros que as tomam nos bicos, de espaço a
13 espaço. Nos quatro cantos do teto, as figuras das estações,
e ao centro das paredes os medalhões de César, Augusto,
Nero e Massinissa, com os nomes por baixo... Não alcanço a
16 razão de tais personagens. Quando fomos para a casa de
Matacavalos, já ela estava assim decorada; vinha do
decênio anterior. Naturalmente era gosto do tempo meter
19 sabor clássico e figuras antigas em pinturas americanas.
O mais é também análogo e parecido. Tenho chacinha,
flores, legume, uma casuarina, um poço e lavadouro.
22 Uso louça velha e mobília velha. Enfim, agora, como
outrora, há aqui o mesmo contraste da vida interior, que é
pacata, com a exterior, que é ruidosa.

Machado de Assis. **Dom Casmurro**.
Internet: <machado.mec.gov.br>.

QUESTÃO 1

Depreende-se do trecho “Vivo só, com um criado.” (linha 1)
que o narrador do texto

- (A) considera o criado como um membro próximo de sua família.
- (B) desconsidera a natureza humana do criado, objetificando-o.
- (C) sugere que o criado é, na realidade, um escravo.
- (D) não ignora a presença do criado, mas não o considera uma companhia.

QUESTÃO 2

A palavra “que” (linha 8) retoma o termo

- (A) “indicações” (linha 8).
- (B) “Construtor” (linha 7).
- (C) “pintor” (linha 7).
- (D) “janelas” (linha 9).

QUESTÃO 3

Depreende-se do texto que César, Augusto, Nero e
Massinissa são nomes de

- (A) políticos brasileiros contemporâneos à publicação da obra.
- (B) pessoas importantes em tempos passados.
- (C) estrangeiros que se tornaram célebres por suas invenções.
- (D) indivíduos que trabalharam na decoração da casa do narrador.

QUESTÃO 4

Cada uma das alternativas a seguir apresenta uma proposta
de reescrita do último período do texto. Assinale a alternativa
cuja proposta mantém a correção gramatical e o sentido
original do período.

- (A) No entanto, agora, como antes, há aqui o mesmo contraste da vida interior, que é pacata, com a exterior, que é ruidosa.
- (B) Enfim, agora, como outrora, há aqui o mesmo contraste da vida interior que é pacata com a exterior que é ruidosa.
- (C) Enfim, agora, como outrora, existe aqui o mesmo contraste da vida interior, pacata, com a exterior, ruidosa.
- (D) Enfim, como outrora, há agora aqui o contraste mesmo da vida interior, que é pacata com a ruidosa do exterior.

QUESTÃO 5

Na sentença “Os reclamantes pleiteiam melhores salários.”, a
forma verbal “pleiteiam” significa o mesmo que

- (A) **reivindicam.**
- (B) **merecem.**
- (C) **conquistam.**
- (D) **perguntam.**

QUESTÃO 6

Em função da realização de uma partida de futebol em determinado dia, um estádio, que pode receber até 47.000 pessoas, recebeu um público que ocupou 90% de sua capacidade total. Nesse dia, 300 pessoas não pagaram o ingresso, cujo preço único era igual a R\$ 30.

Nessa situação hipotética, a quantia arrecadada nesse dia com os ingressos pagos foi igual a

- (A) R\$ 1.260.000.
- (B) R\$ 1.269.000.
- (C) R\$ 1.350.000.
- (D) R\$ 1.410.000.

QUESTÃO 7

Uma fábrica nordestina produz e envasa um refrigerante de caju. Atualmente, a fábrica, que mantém suas máquinas de envase ligadas ininterruptamente das 9 horas às 17 horas, é capaz de encher 120 garrafas de 2 litros por minuto. Para atender a um pedido de 259.200 garrafas de 2 litros, a fábrica colocou suas máquinas para funcionar às 9 horas de uma segunda-feira.

Nessa situação hipotética, esse pedido será finalizado às

- (A) 17 horas de uma sexta-feira.
- (B) 17 horas de uma quinta-feira.
- (C) 13 horas de uma sexta-feira.
- (D) 13 horas de uma quinta-feira.

QUESTÃO 8

Um novo hotel foi inaugurado em Barreiras, e seu proprietário decidiu numerar as portas dos quartos apenas com números ímpares de três algarismos, utilizando os dígitos 4, 5, 6, 7 e 9.

Nesse caso hipotético, o número máximo de quartos desse hotel é igual a

- (A) 15.
- (B) 36.
- (C) 48.
- (D) 75.

QUESTÃO 9

Considerado o rio da unidade nacional, o Velho Chico, como também é chamado, passa por regiões de condições climáticas diversas. Em Minas Gerais, que responde por apenas 37% da sua área total, o São Francisco recebe praticamente todo o seu deflúvio (cerca de 75%); nas demais regiões por onde passa, o clima é seco e semiárido.

O projeto de transposição do São Francisco surgiu com o argumento de sanar a deficiência hídrica na região do semiárido, por meio da transferência de água do rio para o abastecimento de açudes e rios menores na região Nordeste. O projeto prevê a retirada de 26,4 m³/s de água (1,4% da vazão da barragem de Sobradinho), que será destinada ao consumo da população urbana de 390 municípios.

Internet: <<https://www.infoescola.com>> (com adaptações).

De acordo com o texto acima, a vazão na barragem de Sobradinho é, aproximadamente, igual a

- (A) 1.775,7 m³/s.
- (B) 1.785,7 m³/s.
- (C) 1.885,7 m³/s.
- (D) 1.887,7 m³/s.

QUESTÃO 10

Considere as afirmações a seguir.

- I Existem advogados que são professores de filosofia.
- II Todo professor de filosofia gosta de ler.

Se as afirmações I e II são verdadeiras, conclui-se, necessariamente, que

- (A) todo advogado gosta de filosofia.
- (B) existe advogado que gosta de ler.
- (C) todos que gostam de ler são professores de filosofia.
- (D) todos que são professores de filosofia são advogados.

**RASCUNHO**

Nas questões que avaliem conhecimentos de informática, a menos que seja explicitamente informado o contrário, considere que: todos os programas mencionados estejam em configuração-padrão, em português; o *mouse* esteja configurado para pessoas destros; expressões como **clicar**, **clique simples** e **clique duplo** refiram-se a cliques com o botão esquerdo do *mouse*; e **teclar** corresponda à operação de pressionar uma tecla e, rapidamente, liberá-la, acionando-a apenas uma vez. Considere também que não haja restrições de proteção, de funcionamento e de uso em relação aos programas, arquivos, diretórios, recursos e equipamentos mencionados.

QUESTÃO 11

A conexão NGFF (*Next Generation Form Factor*) de um microcomputador também é conhecida como

- (A) SATA.
- (B) PATA.
- (C) PCI.
- (D) M2.

QUESTÃO 12

As expressões HD digital e HD analógico significam, respectivamente,

- (A) HD interno e HD externo.
- (B) HD externo e HD interno.
- (C) HD convencional e nuvem.
- (D) SSD e HD convencional.





QUESTÃO 13

Para fazer a translineação de palavras de forma automática no programa MS Word, deve-se deixar, no modo automático, a opção

- (A) corretor gramatical.
- (B) hifenização.
- (C) corretor ortográfico.
- (D) autocorreção.

QUESTÃO 14

Para usar a função ALEATÓRIO no programa MS Excel 365 para gerar um número aleatório, sem alterar os números quando a célula for calculada, o usuário deve inserir =ALEATÓRIO() na barra de fórmulas e pressionar a tecla

- (A) 
- (B) 
- (C) 
- (D) 

QUESTÃO 15

Um *malware* cavalo de Troia se diferencia de um *malware* vírus, principalmente,

- (A) pelo potencial de destruição de dados.
- (B) pelo potencial de destruição de *hardware*.
- (C) pelo potencial de roubo de informações.
- (D) pela ausência da capacidade de autoduplicação.

CONHECIMENTOS COMPLEMENTARES**QUESTÃO 16**

Com relação à ética no serviço público, julgue os itens a seguir.

- I Toda ausência injustificada do servidor de seu local de trabalho é fator de desmoralização do serviço público.
- II A conduta do servidor que deixa o usuário do serviço público à espera de solução, permitindo a formação de longas filas, embora reprovável, não caracteriza atitude contra a ética.
- III Os fatos verificados na conduta do dia a dia do servidor público, em sua vida privada, não podem diminuir o seu bom conceito na vida funcional.

Assinale a alternativa correta.

- (A) Apenas o item I está certo.
- (B) Apenas o item II está certo.
- (C) Apenas o item III está certo.
- (D) Todos os itens estão certos.

QUESTÃO 17

Quanto aos conceitos de ética e moral, assinale a alternativa correta.

- (A) Os termos “moral” e “ética” têm origem histórica semelhante e são considerados sinônimos.
- (B) A moral é universal e absoluta, sendo utilizada por determinados grupos sociais como um padrão para julgamento dos atos.
- (C) A ética pode ser definida como a ciência do comportamento moral dos homens em sociedade.
- (D) A ética tem por objetivo determinar o que é certo ou errado e determinar qual conduta deve ser praticada ou não.

QUESTÃO 18

João praticou ato de publicidade, no âmbito da Administração Pública, para enaltecer determinado agente público e promover a personalização de obras e serviços públicos.

Nesse caso hipotético, de acordo com a Lei n.º 8.429/1992, João praticou ato de improbidade administrativa

- (A) que atenta contra os princípios da Administração.
- (B) que importa enriquecimento ilícito.
- (C) vinculado à aplicação indevida de benefício financeiro.
- (D) decorrente da concessão indevida de benefício tributário.

QUESTÃO 19

A Lei n.º 9.784/1999, que regulamenta o processo administrativo no âmbito da Administração Pública Federal, também pode ser aplicada a estados e municípios de forma subsidiária. Considerando o disposto nessa Lei, assinale a alternativa correta.

- (A) O início e o andamento do processo administrativo dependem, obrigatoriamente, do requerimento de um interessado.
- (B) O servidor que tiver interesse, direto ou indireto, na matéria ficará impedido de atuar no processo administrativo.
- (C) O administrado pode agir de modo temerário perante a Administração Pública, em razão dos princípios do contraditório e da ampla defesa.
- (D) O princípio da segurança jurídica não se aplica aos processos administrativos.

QUESTÃO 20

De acordo com a Lei n.º 9.784/1999, o processo administrativo deve observar, entre outros, o critério de

- (A) promoção pessoal dos agentes públicos.
- (B) divulgação dos atos administrativos, vedada qualquer hipótese de sigilo.
- (C) proibição de cobrança de despesas processuais, ressalvadas as previstas em lei.
- (D) proibição da atuação de ofício por parte da Administração Pública.

QUESTÃO 21

A respeito do sistema eleitoral brasileiro e dos vários aspectos relacionados a esse assunto, assinale a alternativa correta.

- (A) Nas eleições que ocorrerão no Brasil em 2022, estarão em disputa cargos para as três esferas de poder: a eleição de presidente e governadores dar-se-á na esfera do Poder Executivo; a eleição de deputados ocorrerá no âmbito do Poder Legislativo; e a eleição de senadores configurará uma disputa para o Poder Judiciário.
- (B) O sistema adotado no Brasil na eleição para o Poder Legislativo é o distrital misto, o que significa que os candidatos mais votados não serão, necessariamente, os eleitos.
- (C) No Brasil, o mandato de senador é de oito anos, com direito à reeleição, podendo concorrer a esse cargo somente os brasileiros com mais de 35 anos de idade.
- (D) O sistema brasileiro é semelhante ao estadunidense: em ambos os sistemas, o mandato de presidente é de quatro anos, e o mandatário pode ser reeleito apenas uma vez, não podendo voltar a concorrer ao cargo em uma eleição futura.

QUESTÃO 22

A invasão da Organização do Tratado do Atlântico Norte (Otan) na Crimeia causaria uma guerra mundial, diz a Rússia. Dmitry Medvedev afirma que o território faz parte da nação russa e que qualquer tentativa de invasão é uma declaração de guerra.

Internet: <<https://www.poder360.com.br>> (com adaptações).

No que se refere à guerra entre Rússia e Ucrânia e aos vários aspectos relacionados a esse assunto, assinale a alternativa correta.

- (A) A Otan foi criada durante o período da Guerra Fria e passou a ser uma aliança militar entre os antigos países do bloco soviético, o que fez a Rússia repudiar essa instituição.
- (B) A guerra entre Rússia e Ucrânia é um dos muitos conflitos regionais ocorridos no entorno da antiga União Soviética nos últimos trinta anos.
- (C) A afirmação de Medvedev não tem o respaldo de Putin, já que ambos são inimigos políticos há décadas e jamais estiveram juntos no governo.
- (D) Apesar da grande repercussão na mídia sobre o caso, a invasão russa na Ucrânia foi logo rechaçada, e o número total de soldados mortos no conflito não chegou a mil.

QUESTÃO 23

Com relação a tópicos atuais e relevantes referentes ao cenário internacional, assinale a alternativa correta.

- (A) Após uma série de escândalos, o premiê conservador Boris Johnson renunciou ao cargo de primeiro-ministro do Reino Unido.
- (B) O rompimento do Reino Unido com a União Europeia, denominado Brexit, não impactou significativamente a economia brasileira, uma vez que o Brasil não mantém acordos comerciais com a Inglaterra.
- (C) Observou-se uma diminuição da participação da China nas exportações globais durante a pandemia de covid-19, sendo os principais parceiros econômicos desse país os Estados Unidos, a Rússia e a Índia.
- (D) Os fatores que mais contribuíram para o aumento do preço dos combustíveis no Brasil em 2022 foram a crise geopolítica na Ucrânia, a deflação e a valorização do real em relação ao dólar.

QUESTÃO 24

A respeito do conjunto de países que integram o Brics e de aspectos relacionados a esse assunto, julgue os itens a seguir.

- I Os principais objetivos do Brics são fomentar a cooperação mútua entre os países que compõem esse bloco, com base na política de interferência dos países-membros nas decisões políticas dos demais integrantes, e impulsionar a economia das maiores potências econômicas do planeta.
- II Os membros do Brics contrapõem-se à Otan, na medida em que esta se restringe ao Atlântico Norte, enquanto aqueles pretendem ser hegemônicos no hemisfério sul.
- III O Brics consiste em um agrupamento de países de economia emergente, sendo composto por cinco países: Brasil; Rússia; China; Índia; e África do Sul.

Assinale a alternativa correta.

- (A) Apenas o item I está certo.
- (B) Apenas o item II está certo.
- (C) Apenas o item III está certo.
- (D) Todos os itens estão certos.

QUESTÃO 25

Julgue os itens seguintes, referentes aos impactos da pandemia de covid-19 no Brasil e no mundo.

- I A Organização Mundial da Saúde (OMS), ainda em 2019, declarou a pandemia do novo coronavírus, e o primeiro caso oficial de covid-19 foi o de um paciente na cidade de Wuhan, na China.
- II O surto do novo coronavírus foi considerado pela OMS uma Emergência de Saúde Pública de Importância Internacional (ESPII).
- III As ações do governo federal para o combate da pandemia do novo coronavírus e de seus impactos no Brasil incluíram a compra de vacinas e o pagamento do auxílio emergencial para uma parcela de trabalhadores brasileiros.

Assinale a alternativa correta.

- (A) Nenhum item está certo.
- (B) Apenas os itens I e II estão certos.
- (C) Apenas os itens I e III estão certos.
- (D) Apenas os itens II e III estão certos.

CONHECIMENTOS ESPECÍFICOS

QUESTÃO 26

A Lei n.º 9.985/2000, que institui o Sistema Nacional de Unidades de Conservação da Natureza (SNUC), estabelece critérios e normas para a criação, a implantação e a gestão das unidades de conservação. Para os fins dessa Lei, entende-se proteção integral como o(a)

- (A) conjunto de métodos, procedimentos e políticas que visem a proteção a longo prazo das espécies, *habitats* e ecossistemas, além da manutenção dos processos ecológicos, prevenindo a simplificação dos sistemas naturais.
- (B) conservação de ecossistemas e *habitats* naturais e a manutenção e recuperação de populações viáveis de espécies em seus meios naturais e, no caso de espécies domesticadas ou cultivadas, nos meios onde tenham desenvolvido suas propriedades características.
- (C) exploração do ambiente de maneira a garantir a perenidade dos recursos ambientais renováveis e dos processos ecológicos, mantendo a biodiversidade e os demais atributos ecológicos, de forma socialmente justa e economicamente viável.
- (D) manutenção dos ecossistemas livres de alterações causadas por interferência humana, admitido apenas o uso indireto dos seus atributos naturais.

QUESTÃO 27

Com relação às fases do ciclo da água, julgue os itens a seguir.

- I A precipitação consiste no retorno da água evaporada ao solo depois de passar pelo processo de condensação na atmosfera, podendo ocorrer na forma de chuva, neve ou granizo, por exemplo, sendo a chuva o tipo mais comum de precipitação.
- II A condensação pode ser entendida como o oposto da vaporização, uma vez que consiste na transformação da água no estado gasoso para o estado líquido; no ciclo da água, costuma acontecer na atmosfera para transformar o vapor de água em precipitação.
- III A transpiração consiste na eliminação de água presente em organismos vivos — plantas e animais — em direção à atmosfera; no caso dos animais, o processo de transpiração ocorre pela pele, ao passo que, nas plantas, ocorre pelas folhas (processo também denominado evapotranspiração, neste caso).
- IV A sublimação consiste em uma transformação física caracterizada pela passagem da água no estado líquido para o estado gasoso, por meio da absorção da energia advinda dos raios solares.

Estão certos apenas os itens

- (A) I, II e III.
- (B) I, II e IV.
- (C) I, III e IV.
- (D) II, III e IV.

QUESTÃO 28

Assinale a alternativa que apresenta a tecnologia de saneamento que consiste na utilização, dentro dos reatores biológicos, de peças de plástico chamadas biomédias, estruturas caracterizadas pela formação de um biofilme concentrado em seu interior, o que permite, em um mesmo volume de reação que sistemas convencionais, uma maior população de microrganismos responsáveis pelo tratamento.

- (A) processos com biomassa aeróbica granular
- (B) sistema MBBR
- (C) membranas filtrantes
- (D) purificação da água por fotocatalização

QUESTÃO 29

Considerando o grau de degradabilidade de restos e pedaços de tecidos, assinale a alternativa que representa corretamente a classificação para esse tipo de material.

- (A) facilmente degradável
- (B) moderadamente degradável
- (C) dificilmente degradável
- (D) não degradável

QUESTÃO 30

Segundo alguns autores, a rede de esgotamento sanitário em loteamento apresenta coletores, interceptores, emissários, poços de visita, terminais de limpeza e caixas de passagem. Acerca desse assunto, assinale a alternativa correta.

- (A) Os coletores são redes de captação de resíduos sólidos domésticos ou industriais, e a rede coletora é um conjunto constituído por ligações prediais, coletores de esgoto, e seus órgãos acessórios; o coletor pode ser subdividido em predial, passeio, rua ou tronco.
- (B) O emissário é um conduto cuja função é receber e transportar o esgoto sanitário coletado, caracterizando-se pela defasagem das contribuições, da qual resulta o amortecimento das vazões máximas.
- (C) O poço de visita é um componente da rede sanitária no qual as águas residuárias são encaminhadas à estação de tratamento ou ao corpo de água receptora, como um rio, um córrego ou o mar.
- (D) O interceptor é uma câmara visitável por meio de uma abertura existente em sua parte superior, destinada à execução de trabalhos de manutenção.

QUESTÃO 31

Com base na Lei nº 9.605/1998, que dispõe sobre as sanções penais e administrativas derivadas de condutas e atividades lesivas ao meio ambiente, considere os seguintes itens.

- I promover construção em solo não edificável, ou no seu entorno, assim considerado em razão de seu valor paisagístico, ecológico, artístico, turístico, histórico, cultural, religioso, arqueológico, etnográfico ou monumental, sem autorização da autoridade competente ou em desacordo com a concedida
- II prática de grafite realizada com o objetivo de valorizar o patrimônio público ou privado mediante manifestação artística, desde que consentida pelo proprietário e, quando couber, pelo locatário ou arrendatário do bem privado e, no caso de bem público, com a autorização do órgão competente e a observância das posturas municipais e das normas editadas pelos órgãos governamentais responsáveis pela preservação e conservação do patrimônio histórico e artístico nacional
- III receber ou adquirir, para fins comerciais ou industriais, madeira, lenha, carvão e outros produtos de origem vegetal, sem exigir a exibição de licença do vendedor, outorgada pela autoridade competente, e sem munir-se da via que deverá acompanhar o produto até final beneficiamento

São consideradas práticas passíveis de punição

- (A) I e II, apenas.
- (B) I e III, apenas.
- (C) II e III, apenas.
- (D) I, II e III.

QUESTÃO 32

O Código Florestal institui as regras gerais sobre onde e de que forma a vegetação nativa do território brasileiro pode ser explorada. Nesse documento, é clara a delimitação de uma área de preservação permanente (APP). Acerca desse assunto, julgue os itens a seguir.

- I As restingas, como fixadoras de dunas ou estabilizadoras de mangues, não são consideradas regiões de APP.
- II Os manguezais, em toda a sua extensão, não são considerados como regiões de APP.
- III Não são consideradas APP as áreas em altitude superior a 1.800 metros, qualquer que seja a vegetação.

Assinale a alternativa correta.

- (A) Nenhum item está certo.
- (B) Apenas o item I está certo.
- (C) Apenas o item II está certo.
- (D) Apenas o item III está certo.

QUESTÃO 33

Em uma avaliação de impacto ambiental, a matriz de impacto é uma ferramenta importante no gerenciamento de riscos porque permite identificar quais são os elementos que devem receber mais atenção. Após a identificação e a classificação dos impactos ambientais potenciais decorrentes da realização da implantação e operação de um empreendimento, é necessário propor soluções de curto, médio e longo prazo, com vistas à maximização de ações positivas. Assinale a alternativa que apresenta o nome desse tipo de solução.

- (A) medidas corretivas
- (B) medidas protetivas
- (C) medidas mitigadoras
- (D) medidas paliativas

QUESTÃO 34

Para fins da Lei n.º 9.985/2000, entende-se unidade de conservação como

- (A) porção onde as atividades humanas estão sujeitas a normas e restrições específicas, com o propósito de minimizar os impactos negativos.
- (B) porção de ecossistemas naturais ou seminaturais, que possibilitam o fluxo de genes e o movimento da biota, facilitando a dispersão de espécies e a recolonização de áreas degradadas.
- (C) espaço territorial e seus recursos ambientais, incluindo as águas jurisdicionais, com características naturais relevantes, legalmente instituído pelo poder público, com objetivos de conservação e limites definidos, sob regime especial de administração, ao qual se aplicam garantias adequadas de proteção.
- (D) área onde há variabilidade de organismos vivos de todas as origens, compreendendo, entre outros, os ecossistemas terrestres, marinhos e outros ecossistemas aquáticos e os complexos ecológicos de que fazem parte.

QUESTÃO 35

Conforme a Resolução n.º 237 do CONAMA, o licenciamento ambiental deve obedecer a uma sequência de etapas, entre as quais se incluem as listadas nos seguintes itens.

- I análise pelo órgão ambiental competente, integrante do SISNAMA, dos documentos, projetos e estudos ambientais apresentados e a realização de vistorias técnicas, quando necessárias
- II audiência pública, quando couber, de acordo com a regulamentação pertinente
- III solicitação de esclarecimentos e complementações pelo órgão ambiental competente, integrante do SISNAMA, uma única vez, em decorrência da análise dos documentos, projetos e estudos ambientais apresentados, quando couber, podendo haver a reiteração da mesma solicitação caso os esclarecimentos e as complementações não tenham sido satisfatórios

Assinale a alternativa que apresenta a sequência correta das etapas apresentadas.

- (A) I, II e III
- (B) III, I e II
- (C) I, III e II
- (D) III, II e I

QUESTÃO 36

A respeito da Política Nacional de Resíduos Hídricos, julgue os seguintes itens.

- I É um instrumento dessa política a outorga dos direitos de uso de recursos hídricos.
- II É um instrumento dessa política a cobrança pelo uso de recursos hídricos.
- III É um instrumento dessa política incentivar e promover a captação, a preservação e o aproveitamento de águas pluviais.

Assinale a alternativa correta.

- (A) Estão certos apenas os itens I e II.
- (B) Estão certos apenas os itens I e III.
- (C) Estão certos apenas os itens II e III.
- (D) Todos os itens estão certos.

QUESTÃO 37

Quanto às atividades potencialmente poluidoras e utilizadoras de recursos ambientais, julgue os itens a seguir.

- I É uma atividade potencialmente poluidora com grau de utilização classificado como alto a fabricação de celulose e pasta mecânica.
- II É uma atividade potencialmente poluidora com grau de utilização classificado como alto a pesquisa mineral com guia de utilização.
- III É uma atividade potencialmente poluidora com grau de utilização classificado como alto o beneficiamento de minerais não metálicos, não associados à extração.

Assinale a alternativa correta.

- (A) Estão certos apenas os itens I e II.
- (B) Estão certos apenas os itens I e III.
- (C) Estão certos apenas os itens II e III.
- (D) Todos os itens estão certos.

QUESTÃO 38

A Política Nacional de Recursos Hídricos, também conhecida como Lei das Águas, é uma legislação específica que define como o Estado brasileiro fará a apropriação e o gerenciamento dos recursos hídricos nacionais. Os objetivos dessa política incluem a

- (A) integração da gestão de recursos hídricos com a gestão ambiental.
- (B) integração da gestão das bacias hidrográficas com a dos sistemas estuarinos e zonas costeiras.
- (C) articulação da gestão de recursos hídricos com a do uso do solo.
- (D) utilização racional e integrada dos recursos hídricos, incluindo o transporte aquaviário, com vistas ao desenvolvimento sustentável.

QUESTÃO 39

Com relação aos tipos de licenças ambientais, julgue os seguintes itens.

- I A licença prévia (LP) é concedida na fase preliminar do planejamento do empreendimento ou atividade, aprovando sua localização e concepção, atestando a viabilidade ambiental e estabelecendo os requisitos básicos e condicionantes a serem atendidos nas próximas fases de sua implementação.
- II A licença de operação (LO) autoriza a instalação do empreendimento ou atividade de acordo com as especificações constantes dos planos, programas e projetos aprovados, incluindo as medidas de controle ambiental e demais condicionantes, da qual constituem motivo determinante.
- III A licença de instalação (LI) autoriza a operação da atividade ou empreendimento, após a verificação do efetivo cumprimento do que consta das licenças anteriores, com as medidas de controle ambiental e condicionantes determinados para a operação.

Assinale a alternativa correta.

- (A) Apenas o item I está certo.
- (B) Apenas o item II está certo.
- (C) Apenas o item III está certo.
- (D) Todos os itens estão certos.

QUESTÃO 40

Quanto às definições descritas na Política Nacional de Resíduos Sólidos, julgue os itens seguintes.

- I Área contaminada consiste na área contaminada cujos responsáveis pela disposição não sejam identificáveis ou individualizáveis.
- II Área órfã contaminada é o local onde há contaminação causada pela disposição, regular ou irregular, de quaisquer substâncias ou resíduos.
- III Controle social corresponde ao conjunto de mecanismos e procedimentos que garantam à sociedade informações e participação nos processos de formulação, implementação e avaliação das políticas públicas relacionadas aos resíduos sólidos.

Assinale a alternativa correta.

- (A) Apenas o item I está certo.
- (B) Apenas o item II está certo.
- (C) Apenas o item III está certo.
- (D) Nenhum item está certo.