

Cada um dos itens da prova objetiva está vinculado ao comando que imediatamente o antecede. De acordo com o comando a que cada um deles esteja vinculado, marque, no cartão-resposta, para cada item: o campo designado com o **código C**, caso julgue o item **CERTO**; ou o campo designado com o **código E**, caso julgue o item **ERRADO**.

A marcação de acordo com o gabarito valerá **+ 1,00 (um ponto positivo)**. A marcação em desacordo com o gabarito valerá **- 1,00 (um ponto negativo)**. A ausência de marcação ou a marcação de ambos os campos não serão apenadas, ou seja, não receberão pontuação negativa. Para as devidas marcações, use o cartão-resposta, único documento válido para a correção da sua prova objetiva.

## CONHECIMENTOS BÁSICOS

### Texto para os itens de 1 a 17.

1 Em 776 a. C., após deixar para trás seis adversários, o grego Corobeu venceu a única prova daquela que ficaria conhecida como a primeira edição dos Jogos Olímpicos.

4 Diferentemente do que se imagina, não foi uma corrida de longa distância: o cidadão da cidade de Elis percorreu apenas os 192 metros de extensão do estádio de Olímpia, na península do Peloponeso. A ideia de que a maratona foi o primeiro esporte olímpico, portanto, não passa de um mito.

7 Segundo esse mito, em 490 a. C., durante o período de guerras entre gregos e persas, um corredor chamado Fidípides teria atravessado quase 100 quilômetros entre Atenas e Esparta para buscar ajuda. Outra versão conta que um homem chamado Eucles percorreu a distância entre Atenas e a cidade de Maratona para participar da batalha. Com a vitória dos gregos, ele retornou a Atenas para dar a notícia, um esforço de 40 quilômetros entre ida e volta que teria custado sua vida.

13 O equívoco pode ser esclarecido ao se analisar a formação social da Grécia antiga. Isso que chamamos de corrida de longa distância nunca tinha sido considerado esporte, já que o trabalho de levar mensagens entre as cidades era função de servos e escravos.

16 Na democracia grega, apenas homens livres eram considerados cidadãos. Seus direitos incluíam as decisões políticas e a participação no exército. Essa natureza bélica, enraizada na própria mitologia, também se relaciona com a atenção dada ao corpo. A prática constante de atividades físicas era a responsável por mantê-los preparados para as guerras — e acabou dando origem às Olimpíadas.

19 Embora a primeira Olimpíada tenha acolhido apenas uma disputa, novas categorias foram incluídas ao longo dos mais de mil anos do evento como forma de disputa política e militar. As corridas de biga, inicialmente com quatro cavalos, inauguraram um novo espaço de competições, o hipódromo, em 680 a.C.

22 Embates corporais também fizeram parte do calendário olímpico da Antiguidade. Um busto representando um lutador de boxe de 330 a. C. dá conta da violência da modalidade — há inúmeras cicatrizes na imagem de bronze. Não havia luvas, *rounds* ou regras claras para aliviar o sofrimento dos competidores.

25 A luta mais cruel da competição, porém, foi introduzida no calendário cerca de 100 anos depois da primeira Olimpíada. Para que se tenha ideia, os combatentes do chamado pancrácio eram punidos pelos juízes só em caso de mordidas ou quando um deles arrancasse o olho do adversário. O vencedor acabava venerado pela plateia mesmo quando provocava a morte do oponente.

28 Por mais sangue que tenha sido derramado, os atletas jamais abriram mão de alguma ambição pela vitória. Nem mesmo durante as guerras, ou quando a Grécia esteve sob o domínio dos macedônicos e dos romanos, as competições esportivas deixaram de ser realizadas.

Antonio Neto. **A verdade olímpica**. In: **Aventuras na História**, jul./2021 (com adaptações).

Acerca das ideias do texto apresentado, julgue os itens de 1 a 6.

- 1 A maratona foi a única modalidade esportiva disputada na primeira edição dos Jogos Olímpicos, cujo campeão foi o grego Corobeu.
- 2 No texto, o boxe é caracterizado como a luta mais cruel das Olimpíadas.
- 3 Na Antiguidade, a realização dos Jogos Olímpicos foi suspensa apenas por motivo de guerra, segundo as informações do texto.
- 4 Depreende-se do texto que as Olimpíadas existem há mais mil anos.
- 5 Infere-se do texto que a distância entre Atenas e Maratona é de 40 quilômetros.
- 6 Depreende-se do texto que, na Grécia antiga, escravos não podiam participar do exército.

Em relação aos sentidos e aos aspectos linguísticos do texto apresentado, julgue os itens de 7 a 17.

- 7 Cada uma das vírgulas que isola o trecho “o hipódromo” (linha 20) poderia ser substituída por travessão, sem prejuízo dos sentidos e da correção gramatical do texto.
- 8 A expressão “dá conta” (linha 22) significa o mesmo que **suportar, aguentar**.
- 9 A substituição de “quando” (linha 26) por **se** manteria a correção gramatical do texto e sua coerência.
- 10 As grafias por extenso dos numerais “100” e “40” são, respectivamente, **cem** e **quarenta**.
- 11 A forma pronominal em “mantê-los” (linha 16) retoma “homens livres” (linha 14).
- 12 O conectivo “porém” (linha 24) poderia ser substituído por **mas**, sem prejuízo dos sentidos e da correção gramatical do texto.

- 13 A oração “há inúmeras cicatrizes na imagem de bronze” (linha 22) expressa uma conclusão.
- 14 Na linha 25, a coerência das ideias do texto seria mantida se o vocábulo “só” fosse deslocado para imediatamente depois de “pancrácio”.
- 15 Na linha 12, o segmento “levar mensagens entre as cidades” exerce a função de sujeito de “era”, o que justifica a flexão desta forma verbal no singular.
- 16 A substituição de “já que” (linha 12) por **por que** manteria a correção gramatical do texto e seus sentidos originais.
- 17 O texto é essencialmente argumentativo, visto que o objetivo do autor é alegar a existência de um equívoco na história sobre a primeira edição das Olimpíadas.

Texto para os itens de 18 a 20.



Internet: <<https://laerte.art.br>> (com adaptações).

Julgue os itens de 18 a 20, referentes ao texto apresentado.

- 18 O texto é uma tirinha que mostra o diálogo entre os dois personagens ilustrados.
- 19 O emprego do pronome “Elas”, no terceiro quadrinho, evidencia que os personagens ilustrados são meninas.
- 20 Na pergunta que aparece no primeiro quadrinho, o uso do sinal de interrogação seguido do sinal de exclamação transmite a ideia de que o interlocutor achou inusitada a compra da geladeira.

Zoe, proprietária de uma livraria, vende livros em uma loja física e por meio de um *site* na Internet. Ao analisar os dados referentes às vendas dos três anos de operação da sua livraria, Zoe percebeu o seguinte:

- no segundo ano de operação da livraria, foram vendidos 10 livros a mais que no primeiro ano;
- consideradas apenas as vendas pela Internet, no segundo ano de operação da livraria, foram vendidos 127 livros a mais que no primeiro ano;
- nos três anos de operação da livraria, foram vendidos, no total, 1.710 livros;
- no terceiro ano de operação da livraria, foram vendidos 223 livros na loja física;
- as vendas pela Internet, no primeiro e no terceiro ano de operação da livraria, totalizaram 504 livros; e
- no segundo ano de operação da livraria, foram vendidos 234 livros pela Internet.

Com base na situação hipotética acima, julgue os itens de 21 a 25.

- 21 No primeiro ano de operação da livraria, foram vendidos 108 livros pela Internet.
- 22 Mais de 43% das vendas da livraria, em seus três anos de operação, aconteceram na Internet.
- 23 A soma do número de vendas na loja física nos dois primeiros anos de operação da livraria equivale a um número maior que a venda total em qualquer um dos anos de operação da livraria.

- 24 O resultado da operação de subtrair o número de vendas do segundo ano de operação da livraria do número de vendas do primeiro ano de operação é um número natural.
- 25 O número que representa o total de vendas dos três anos de operação da livraria possui 24 divisores naturais.



RASCUNHO

Considerando a hipótese de que João tenha decidido convidar 2 amigos para viajar consigo em um carro de 5 lugares, julgue os itens de **26 a 28**, sabendo que João tem  $n + 1$  amigos e que há 28 maneiras diferentes de o trio de amigos viajar junto.

- 26** João tem 8 amigos.
- 27** Considerando-se que João e seus amigos sejam habilitados a dirigir e possam assumir a direção do veículo durante a viagem, é correto afirmar que existem 36 maneiras diferentes de alocar os 3 viajantes no carro.
- 28** Se os 3 amigos dirigirem e revezarem nas posições, de modo a manter-se sempre 1 dirigindo, 1 acordado, dando assistência ao motorista, e 1 dormindo, descansando, há 9 maneiras diferentes de organizar as posições deles dentro do carro.

Considerando um cubo e um cone cuja base é o círculo inscrito na base do cubo e sabendo que o vértice do cone está no centro da face superior do cubo, julgue os itens **29 e 30**.




- 29** O volume do cone é  $\frac{1}{12}$  do volume do cubo.
- 30** Ao se escolher, aleatoriamente, um ponto dentro do volume do cubo, a probabilidade de esse ponto também estar dentro do volume do cone é de  $\frac{25}{3}\%$ .

Nos itens que avaliem conhecimentos de informática, a menos que seja explicitamente informado o contrário, considere que: todos os programas mencionados estejam em configuração-padrão, em português; o *mouse* esteja configurado para pessoas destros; expressões como **clique**, **clique simples** e **clique duplo** refiram-se a cliques com o botão esquerdo do *mouse*; e teclar corresponda à operação de pressionar uma tecla e, rapidamente, liberá-la, acionando-a apenas uma vez. Considere também que não haja restrições de proteção, de funcionamento e de uso em relação aos programas, arquivos, diretórios, recursos e equipamentos mencionados.

Com relação aos conceitos básicos de redes de computadores e ao sistema operacional Windows 10, julgue os itens de **31 a 35**.

- 31** A topologia física de uma rede de computadores representa a forma como os equipamentos, os dispositivos e o meio físico de transmissão estão interligados.
- 32** Na topologia em estrela, o ponto central da rede é o concentrador, que pode ser um *hub* ou um *switch*.
- 33** Em uma rede de computadores, o serviço de DNS realiza a conversão de um endereço físico em um endereço IP.
- 34** No Windows 10, é possível criptografar unidades de armazenamento removíveis por meio do recurso Aero Shake.
- 35** A opção “Programas e Recursos” do Painel de Controle do Windows 10 permite, além da instalação e da desinstalação de aplicativos, adicionar ou remover recursos do Windows.

Julgue os itens de **36 a 40**, relativos aos aplicativos Microsoft Excel e Word 365.

- 36** Na aplicação de fórmulas no Excel 365, o sinal de ponto e vírgula é utilizado para indicar um intervalo contínuo de células, como na fórmula =SOMA(A1;A25).
- 37** A função “AutoSoma” permite realizar o cálculo da média simples de um intervalo de células no Excel 365; para tanto, basta selecionar o intervalo de células desejado, clicar a seta presente no ícone  e selecionar a opção “Média”.
- 38** A fórmula =SOMA('Receitas'!A20;C20) realiza a soma das células A20, B20 e C20 presentes na planilha Receitas.
- 39** O recurso “Compartilhamento” () , no Office 365, possibilita ao usuário compartilhar um documento, uma planilha ou uma apresentação com outras pessoas, por meio do envio de um *link* para revisão ou edição.
- 40** O recurso “Controlar Alterações” () , presente na guia “Revisão” do Word 365, possibilita proteger o documento contra alterações mediante o uso de senha.



RASCUNHO

**CONHECIMENTOS COMPLEMENTARES**

A respeito da ética, da moral e dos valores na Administração Pública, julgue os itens de **41** a **43**.

- 41** A ética é uma ciência que se ocupa do modo de ser e do caráter do ser humano em sociedade, com bases filosóficas e reflexão dos princípios que fundamentam a vida moral.
- 42** A moralidade, na Administração Pública, não se limita à distinção entre o bem e o mal, devendo ser acrescida da ideia de que o fim é sempre o bem comum, equilibrando-se a legalidade e a finalidade na conduta do servidor público.
- 43** Fatos e atos ocorridos no dia a dia da vida privada do servidor público não interferem em sua vida funcional, pois a função pública não pode ser uma extensão da atividade privada do servidor.

---

Com fundamento na Lei n.º 8.429/1992 (Lei de Improbidade Administrativa), julgue os itens de **44** a **47**.

- 44** As sanções previstas na Lei em questão não se aplicam aos agentes políticos municipais — prefeitos, ex-prefeitos e vereadores, por exemplo.
- 45** A referida Lei só se aplica aos servidores públicos.
- 46** O ato de improbidade administrativa caracteriza-se como a conduta funcional dolosa do agente público devidamente tipificada, revestida de fins ilícitos, com o intuito de obter proveito ou benefício indevido, para si ou para outrem.
- 47** As condutas causadoras de dano por imprudência, imperícia ou negligência não configuram atos de improbidade, pois a referida Lei exige, expressamente, a existência de dolo para a responsabilização por improbidade.

À luz da Lei n.º 9.784/1999, que estabelece regras para o processo administrativo no âmbito federal, julgue os itens de **48** a **50**.

- 48** Um órgão administrativo poderá, se não houver impedimento, delegar parte de sua competência a outro órgão, desde que este seja hierarquicamente subordinado àquele.
- 49** O impedimento consiste em uma faculdade da parte interessada do processo, visto que a Lei não obriga o agente público a se declarar impedido; a suspeição, por sua vez, gera a incapacidade absoluta de o agente público praticar o ato.
- 50** Se o administrado for intimado a praticar algum ato no curso de processo administrativo, mas não o fizer, isso não importará o reconhecimento da verdade dos fatos nem a renúncia a direito pelo administrado.

---

Considerando as disposições da Lei n.º 12.527/2011 e do Decreto n.º 7.724/2012, referentes ao acesso à informação, julgue os itens de **51** a **53**.

- 51** A Lei n.º 12.527/2011 conceitua informação como todos os dados processados contidos em plataforma do Poder Judiciário que podem ser utilizados para produção e transmissão, visto que somente ao Poder Judiciário tal Lei se aplica.
- 52** Nos termos da Lei n.º 12.527/2011, informação pessoal é aquela relacionada à pessoa natural identificada ou identificável.
- 53** Se não houver possibilidade de o órgão conceder, imediatamente, acesso aos dados solicitados, ele terá vinte dias para marcar uma nova data de retorno da consulta ou indicar os motivos para a recusa da liberação da informação, podendo o referido prazo ser prorrogado por mais dez dias, desde que atendidas as circunstâncias legalmente previstas.

Julgue os itens **54** e **55**, referentes ao teor do Decreto n.º 9.830/2019.

- 54** Na interpretação das normas sobre gestão pública, deverão ser considerados, sem prejuízo dos direitos dos administrados, os obstáculos, as dificuldades reais do agente público e as exigências das políticas públicas a seu cargo.
- 55** O agente público somente poderá ser responsabilizado por suas decisões ou por suas opiniões técnicas se agir ou se omitir com dolo, direto ou eventual, no desempenho de suas funções, ou, ainda, se cometer erro grosseiro, isto é, o erro manifesto, evidente e inescusável praticado com culpa grave, caracterizado por ação ou omissão com elevado grau de negligência, imprudência ou imperícia.

---

Quanto às eleições do Brasil em 2022, julgue os itens de **56** a **60**.

- 56** Ainda no primeiro turno, institutos de pesquisa detectaram a polarização entre dois candidatos à presidência da República.
- 57** As chamadas *fake news* (notícias falsas) referentes às eleições deixaram de ocorrer após a criminalização imposta pelo Tribunal Superior Eleitoral, que estipulou a aplicação de multas e até prisões para pessoas que divulgassem informações falsas.
- 58** O compartilhamento de informações falsas pode gerar graves consequências, inclusive a morte de pessoas, como já aconteceu no Brasil.
- 59** O chefe da Missão de Observação Eleitoral da União Interamericana dos Órgãos Eleitorais (Unioere), em visita ao Brasil, afirmou que não há possibilidade de fraude nas eleições brasileiras.
- 60** A coalizão ampla entre partidos no Brasil pode transformar o sistema presidencialista em um sistema parlamentarista, situação em que um comando político de frente ampla passaria a ser exercido pelo Congresso Nacional.

A respeito dos acontecimentos da atualidade em países do Oriente Médio, julgue os itens de **61** a **65**.

- 61** No Irã, uma mulher foi presa e morta após ter sido acusada pela polícia de estar violando as regras de uso do véu islâmico, o que desencadeou uma série de protestos em diversas cidades do país.
- 62** Após Israel, Estados Unidos e Irã realizarem operações militares contínuas, a guerra na Síria, que durou mais de uma década, chegou ao fim.
- 63** No Afeganistão — um dos focos de tensão do Oriente Médio —, a violência e o cerceamento de liberdades com a população não são deflagrados devido à presença das tropas norte-americanas, que há vinte anos ocupam o país.
- 64** O Catar, país-sede da Copa do Mundo de Futebol de 2022, possui uma situação financeira próspera, com grandes reservas de gás natural em seu subsolo e uma projeção de considerável crescimento do produto interno bruto (PIB), além de investimentos que procuram diversificar a economia.
- 65** Um dos antigos conflitos do Oriente Médio que ainda está em curso é o conflito entre o Hamas, que controla os palestinos concentrados na Faixa de Gaza, e o país judeu Israel.

---

Acerca da atual guerra entre Rússia e Ucrânia, julgue os itens de **66** a **70**.

- 66** O receio dos impactos gerados pelas sanções à Rússia tem feito bilionários do país migrarem para Dubai, nos Emirados Árabes Unidos.
- 67** A explosão que danificou a única ponte que liga a Crimeia à Rússia fez o presidente russo intensificar os ataques à Ucrânia.
- 68** O embate entre Rússia e Ucrânia, devido à dificuldade financeira para a obtenção de armas mais tecnológicas, como *drones* não tripulados, arrasta-se por meses, havendo pequenos avanços fronteiriços, tanto na conquista quanto na recuperação de territórios.
- 69** Uma das fontes oficiais do governo russo afirmou que a adesão da Ucrânia à Organização do Tratado do Atlântico Norte (Otan) pode elevar a guerra entre Rússia e Ucrânia a um conflito de escala planetária.
- 70** O pelotão do exército russo, chamado de Batalhão Azov, tomou a maior usina nuclear da Ucrânia, causando, em toda a Europa, temor quanto à possibilidade de ocorrência de um acidente radioativo.

**CONHECIMENTOS ESPECÍFICOS**

Acerca da estrutura organizacional, julgue os itens de **71 a 80**.

- 71** O componente tarefas da função de organizar determina que o trabalho a ser realizado em uma organização seja dividido, gerando-se a especialização de atividades e de funções.
- 72** A estrutura organizacional como mecanismo de decisão define como a organização deve harmonizar e integrar as suas partes.
- 73** Em comparação aos outros desenhos, os desenhos mecanísticos proporcionam autoridade descentralizada, poucas regras e amplitudes administrativas maiores.
- 74** O componente pessoas da função de organizar determina que cada pessoa seja designada para ocupar um cargo ou uma função que é parte específica do trabalho global.
- 75** Os desenhos orgânicos são formas burocráticas de organização que operam com uma autoridade centralizada no topo.
- 76** O componente órgãos da função de organizar determina que, conhecidas as tarefas e as pessoas, elas sejam agrupadas em órgãos com base em características ou objetivos similares.
- 77** A função administrativa de organizar consiste em agrupar as atividades em uma estrutura lógica de departamentalização.
- 78** A organização informal é geralmente aprovada pela direção e comunicada a todos os colaboradores por meio de manuais.
- 79** A estrutura organizacional como mecanismo de coordenação estabelece o processo de tomada de decisão para encontrar consonância entre os objetivos globais da organização e os objetivos específicos de cada uma das unidades organizacionais.
- 80** As atividades ou as funções se subdividem em tarefas, que, por sua vez, devem estar em conformidade com os objetivos da organização.

Em relação aos grupos e às equipes de trabalho, julgue os itens de **81 a 90**.

- 81** Em um grupo, existe dependência mútua entre seus membros.
- 82** O desempenho de uma equipe gera resultado maior que a soma das contribuições individuais.
- 83** O grupo possui sinergia neutra e, assim, depende do esforço individual de seus membros.
- 84** Na equipe, as habilidades de seus membros são complementares.
- 85** Os grupos de interesse surgem quando as pessoas se reúnem para atingir um objetivo comum.
- 86** Ao se participar de uma equipe, busca-se agregar um resultado positivo a um interesse maior, um interesse coletivo.
- 87** Os grupos de amizade formam-se devido às características em comum das pessoas e, geralmente, extrapolam o ambiente de trabalho.
- 88** Os membros do grupo possuem um processo interno de aprendizagem.
- 89** A motivação é essencial para a composição e a manutenção dos grupos.
- 90** Na equipe, o objetivo de trabalho é individual.

Quanto à comunicação na organização, julgue os itens de **91 a 100**.

- 91** A comunicação institucional visa à difusão da visão, da missão e dos valores corporativos.
- 92** A comunicação interna busca viabilizar toda a interação entre a organização e seus colaboradores.
- 93** A comunicação interna ocorre em paralelo com a circulação normal da comunicação que perpassa todos os setores da organização.
- 94** Em sistemas autoritários e não democráticos, o conceito de comunicação institucional fica, praticamente, anulado.

- 95** A comunicação mercadológica busca garantir a divulgação dos objetivos a serem cumpridos pelos empregados.
- 96** A comunicação interna é prioritariamente informativa, porque ajuda a informar regras e normas da organização.
- 97** A comunicação administrativa tem a finalidade de orientar, atualizar, ordenar e reordenar o fluxo de atividades funcionais.
- 98** A comunicação administrativa é uma forma de compatibilizar os interesses de gestores e de colaboradores por meio do diálogo.
- 99** A comunicação organizacional integrada é a soma de todas as atividades de comunicação realizadas pelos diversos departamentos da organização.
- 100** A comunicação interna deve ser um setor planejado, com objetivos bem definidos, para viabilizar toda a interação possível entre a organização e seus empregados.

---

A respeito do protocolo, julgue os itens de **101** a **110**.

- 101** A atividade do protocolo é típica da fase intermediária, pois é nessa fase que os documentos tramitam bastante.
- 102** O protocolo executa, sinteticamente, as ações de recebimento, separação, identificação e encaminhamento da correspondência ao destinatário, que pode ser um indivíduo ou um órgão.
- 103** Na fase de registro e autuação, o setor de protocolo recebe documentos provenientes de várias origens.
- 104** A etapa do recebimento dos documentos também é conhecida como protocolização.
- 105** O protocolo visa ao controle dos documentos que ainda tramitam no órgão, de modo a assegurar a sua imediata localização.
- 106** O protocolo deve ser considerado o portal de entrada e de saída dos documentos de uma organização.
- 107** Na etapa de registro e autuação, o protocolo efetua a análise do documento, a fim de identificar o seu assunto, classificando-o de acordo com o plano de classificação da instituição.

- 108** O protocolo é responsável pela autuação de documentos advindos dos próprios setores da organização, dando início a processos administrativos internos.
- 109** A expedição é a atividade que consiste em enviar o documento ao seu destinatário interno na instituição.
- 110** Os documentos de caráter confidencial, particulares ou sigilosos, só devem ser abertos por seus destinatários.

---

Acerca da administração de pessoas, julgue os itens de **111** a **120**.

- 111** A liderança é considerada um fenômeno social que depende da presença mínima de um líder e de um liderado.
- 112** A liderança é uma faculdade inata de apenas algumas pessoas, portanto não é possível ensiná-la ou aprendê-la.
- 113** A liderança pode ser entendida como uma influência exercida sobre determinada situação pelo processo de comunicação, com vistas a um ou mais objetivos.
- 114** O chefe é a pessoa que consegue as mudanças mais efetivas no desempenho do grupo.
- 115** O processo de planejamento consiste em definir e dividir o trabalho e os recursos necessários para realizar os objetivos.
- 116** O processo de direção é conceituado como o processo de trabalhar com pessoas para assegurar a realização dos objetivos.
- 117** Por definição, liderança pressupõe a capacidade de motivar as pessoas a fazerem aquilo que deve ser feito.
- 118** A liderança envolve a tendência de os seguidores seguirem aqueles que eles percebem como instrumentais, para satisfazerem aos próprios objetivos e às necessidades pessoais.
- 119** Liderança é dar início a atos que resultem em um padrão consistente de interpretação global voltado à solução de problemas que são mútuos.
- 120** O processo de liderança implica a atribuição de responsabilidades e de autoridades a pessoas e a grupos.