

Técnico de Higiene Dental PSF

- Confira devidamente o material (CARTÃO DE RESPOSTAS e CADERNO DE QUESTÕES); se houver falha, solicite a substituição ao fiscal.
- Este caderno contém **40 questões**, distribuídas entre as seguintes áreas de conhecimento: **10** questões de **Português**; **08** questões de **Matemática**; **06** questões de **Conhecimentos Gerais**; **06** questões de **Legislação**; **10** questões de **Conhecimentos Específicos**.
- Após conferir seus dados no cartão de respostas (NOME, Nº da INSCRIÇÃO e CARGO), assine no local indicado.
- O CARTÃO DE RESPOSTAS é o único documento de correção, devendo ser preenchido com bastante atenção, à caneta esferográfica, azul ou preta, ponta grossa, marcando uma única alternativa em cada questão. Verifique no cartão de respostas as instruções para preenchimento. Não rasure, não amasse nem dobre o CARTÃO DE RESPOSTAS. É vedada a substituição do CARTÃO DE RESPOSTAS decorrente de erro cometido por candidato.
- Se o CARTÃO DE RESPOSTAS contiver maior número de alternativas e/ou de questões, preencha apenas as correspondentes à sua prova; as demais ficam em branco.

• ATENÇÃO, MUITO IMPORTANTE! No campo indicado no seu cartão de respostas, FAÇA A MARCAÇÃO DO NÚMERO CORRESPONDENTE AO SEU TIPO DE CADERNO DE PROVA, CONFORME CONSTA NO CANTO SUPERIOR DIREITO DESTA CAPA.

- Durante a realização da prova, não é permitida a comunicação entre candidatos nem a utilização de máquina calculadora e/ou similares, livros, anotações, régua de cálculo, impressos ou qualquer outro material de consulta.
- O tempo de duração da prova objetiva será de **até 3 horas**, incluído o tempo para preenchimento do Cartão de Respostas. O candidato somente poderá levar consigo seu caderno de questões **após 1 hora** contada do efetivo início das provas. Ao candidato que sair antes de uma hora contada do efetivo início das provas, será permitido copiar seu cartão de respostas, para conferência com o gabarito oficial.
- Em todas as questões de legislação desta prova (se houver), serão consideradas as emendas e/ou alterações da legislação com entrada em vigor até a data do início das inscrições. Na prova de Português será exigida a norma ortográfica atualmente em vigor. Para responder às questões de Informática (se houver), a menos que seja informado o contrário, considerar que os programas mencionados se encontram na versão Português-BR e em sua configuração padrão de instalação, possuem licença de uso, o mouse está configurado para destros, um clique ou duplo clique correspondem ao botão esquerdo do mouse, e teclar corresponde à operação de pressionar uma tecla e, rapidamente, liberá-la, acionando-a apenas uma vez.
- Ao final dos trabalhos, **DEVOLVA** ao Fiscal da sala o CARTÃO DE RESPOSTAS devidamente preenchido e assinado.
- Ao final da prova objetiva, os três últimos candidatos de cada sala de prova deverão permanecer no recinto, a fim de acompanhar os fiscais até a coordenação para o lacre dos envelopes, quando, então, poderão retirar-se do local, simultaneamente, após concluído.

Direitos autorais reservados à Objetiva Concursos Ltda. Proibida a reprodução, ainda que parcial, sem autorização prévia.

Boa Prova!

Seriedade e ética: nós acreditamos nesses valores.

Nome do(a) Candidato(a)

Nº de inscrição



Esta parte destacável serve para copiar as suas respostas, somente poderá ser destacada no ato da entrega do material na mesa do fiscal.

CADERNO DE PROVA TIPO 01

01	02	03	04	05	06	07	08	09	10
11	12	13	14	15	16	17	18	19	20
21	22	23	24	25	26	27	28	29	30
31	32	33	34	35	36	37	38	39	40

PORTUGUÊS

A influência das redes sociais na comunicação humana

Uma coisa que podemos dizer que é homônimo para todas as épocas, seja na primitiva ou na contemporânea: é a necessidade de se relacionar e garantir contatos com os grupos.

A diferença para os dias atuais é a velocidade e a forma como isso tem acontecido, deixando de ser demorada e limitada para ser mais rápida e fácil. Tudo isso graças ao surgimento da internet e das mídias de relacionamento, fazendo com que a distância deixasse de ser um fator impeditivo.

Pelas estatísticas, com a quantidade de _____ por dia, podemos constatar que as redes sociais deixaram de ser apenas uma forma de manter contatos, elas passaram a ser fonte de informação, atração de novos clientes, publicidade, oportunidade e também de lazer.

Nas redes sociais, cada indivíduo _____ sua função e identidade cultural. Sua relação com outros indivíduos vai formando um todo _____ que representa a rede e a criação de grupos de interesse como esporte, cultura, entretenimento, educação, etc.

Atualmente, temos a formação de uma nova sociedade, a qual denominamos Aldeia Global. Ela exerce influência direta no comportamento social e o comportamento social também exerce influência sobre ela.

E se alguém acha que não é influenciado pelo que está nessas mídias, se engana. As mudanças vindas desse meio afetam diretamente o cotidiano, a forma de agir e também a de pensar das pessoas.

Uma das formas mais eficazes para não sofrermos manobras e manipulações é buscar estar sempre informado e conhecer os fatos com o seu olhar e conhecimento. E não adianta se recusar, se isolar ou dizer que não faz parte, pois a tecnologia e a forma de comunicação que existem hoje estão ligadas e vinculadas a todas as outras, desde os serviços básicos, a educação, a forma como compramos e vários outros pontos.

(Fonte: Fortes Tecnologia - adaptado.)

1) Assinalar a alternativa que preenche as lacunas do texto CORRETAMENTE:

- a) acessos | tem | coeso
- b) assessos | têm | coezo
- c) acessos | teem | coeso
- d) assessos | tem | coezo

2) De acordo com texto, é CORRETO afirmar que:

- a) As redes sociais são apenas uma forma de manter contatos.
- b) Muitas empresas preferem o contato pessoal com o cliente, não utilizando a tecnologia para a comunicação.
- c) Cada indivíduo possui sua função e identidade cultural nas redes sociais.
- d) As mudanças vindas desse meio muito raramente afetam o cotidiano, a forma de agir e também a de pensar das pessoas.

3) Assinalar a alternativa em que todos os verbos estão flexionados no gerúndio:

- a) Manter | agir | dizer.
- b) É | acontecido | fazendo.
- c) Passaram | ser | agir.
- d) Deixando | formando | fazendo.

4) Em relação à classificação dos substantivos e aos exemplos correspondentes, assinalar a alternativa CORRETA:

- a) Substantivo comum: oceano | Substantivo próprio: Água.
- b) Substantivo comum: estrela | Substantivo próprio: Buraco Negro.
- c) Substantivo comum: adolescente | Substantivo próprio: Escola.
- d) Substantivo comum: país | Substantivo próprio: Brasil.

5) Considerando-se a concordância nominal, assinalar a alternativa que preenche as lacunas abaixo CORRETAMENTE:

As certidões estão _____ no e-mail. Por favor, responda-nos enviando o documento com sua rubrica em todas as folhas _____.

- a) inclusa | anexas
- b) inclusas | anexa
- c) inclusas | anexas
- d) inclusa | anexa

6) Na frase “Ana gosta de passear.”, a expressão sublinhada exerce função de:

- a) Objeto indireto.
- b) Sujeito.
- c) Predicativo do sujeito.
- d) Complemento nominal.

7) Sobre as formas plurais dos substantivos, analisar os itens abaixo:

- I. Anéis.
- II. Chapéis.
- III. Pães.
- IV. Furacões.

Estão CORRETOS:

- a) Somente os itens I e II.
- b) Somente os itens I e III.
- c) Somente os itens I, III e IV.
- d) Somente os itens II, III e IV.

8) Considerando-se a classificação de palavras homônimas e parônimas, marcar C para as afirmativas Certas, E para as Erradas e, após, assinalar a alternativa que apresenta a sequência CORRETA:

- () As palavras “Arriar” e “Arrear” têm o mesmo sentido de “pôr arreios”.
- () As palavras “Aferir” e “Auferir” têm significados distintos.
- () As palavras “Sexta” e “Cesta” são homônimas.

- a) E - C - C.
- b) C - E - E.
- c) C - C - E.
- d) E - E - E.

9) Em relação à colocação pronominal, assinalar a alternativa CORRETA:

- a) Não deve-se responder desta maneira.
- b) Não colocar-se-ia o carimbo naquele tipo de documento.
- c) Nunca deve-se assinar um documento sem lê-lo antes.
- d) Não me atreveria a dizer outra coisa.

10) Com relação ao uso dos porquês, assinalar a alternativa CORRETA:

- a) Ele faltou ao evento por que estava resfriado.
- b) A autoridade respondeu o por quê de ter adiado o discurso.
- c) O documento não foi entregue até a data marcada. Por quê?
- d) Porque mudaste a tua fala?

MATEMÁTICA

11) Sobre os conjuntos numéricos, analisar os itens abaixo:

- I. O número zero está inserido no conjunto dos números naturais (N).
- II. O conjunto dos números naturais é finito.
- III. O conjunto dos números inteiros (Z) reúne todos os elementos dos números naturais (N) e seus opostos.

Está(ão) CORRETO(S):

- a) Somente o item II.
- b) Somente os itens I e II.
- c) Somente os itens I e III.
- d) Todos os itens.

12) Uma construtora será responsável pela pintura de uma escola municipal. Sabe-se que, se 8 pintores atuarem no serviço simultaneamente, a pintura será concluída em 20 dias. Entretanto, dois dos profissionais estão em período de férias, restando apenas 6 profissionais para atuarem no serviço. Levando essas informações em consideração, é CORRETO afirmar que a pintura será concluída em:

- a) 15 dias.
- b) 20 dias.
- c) 25 dias.
- d) 27 dias.

13) Sabe-se que certa progressão geométrica possui razão igual a 6 e seu primeiro termo é igual a 2. Sendo assim, assinalar a alternativa que apresenta o valor da soma dos cinco primeiros termos dessa progressão:

- a) 2.520
- b) 3.110
- c) 3.340
- d) 3.820

14) Ciente do desaparecimento de plantações de flores usadas em perfumes campeões de vendas, a empresa de moda e cosmética Chanel comprou mais terras no sul da França para garantir o suprimento de jasmim e outras variedades. O grupo disse que adquiriu 10 hectares adicionais de terras, que se somam aos 20 hectares que já explora perto da cidade de Grasse, conhecida pelos campos de flores.

(Fonte: CNN Brasil - adaptado.)

Considerando-se as informações apresentadas e que um hectare corresponde a uma área de dez mil metros quadrados, a área total que Chanel destinada à produção de flores, em metros quadrados, é igual a:

- a) 300.000
- b) 30.000
- c) 3.000
- d) 300

15) Considerando-se que certo produto foi comprado por R\$ 150,00 e será revendido de modo que a taxa de lucro sobre o preço de venda seja 40%, qual deve ser o valor de venda desse produto para que se obtenha a taxa de lucro pretendida?

- a) R\$ 230,00
- b) R\$ 240,00
- c) R\$ 250,00
- d) R\$ 260,00

16) O quadro abaixo indica a quantidade de alunos com certa idade de determinada turma. Sendo assim, assinalar a alternativa que apresenta a média das idades dos alunos dessa turma:

Idade	Quantidade de alunos
20	4
21	6
22	13
23	8
24	3

- a) 21
- b) 22
- c) 23
- d) 24

17) Considerando-se o conjunto $X = \{a, e, i, o, u\}$, quantos são os subconjuntos de X?

- a) 16
- b) 32
- c) 64
- d) 128

18) Um aluno ficou chateado por ter sido reprovado por apenas cinco décimos. Se a média de aprovação era 60,00, é CORRETO afirmar que ele obteve nota:

- a) 59,50
- b) 55,00
- c) 50,00
- d) 59,95

CONHECIMENTOS GERAIS

19) Na lista dos problemas mais complexos em relação à conservação do meio ambiente, a produção de lixo certamente está entre os itens mais alarmantes. Por ano, são geradas dezenas de milhões de toneladas de resíduos sólidos no país. Segundo estudos recentes, o principal material poluente, que vem sendo uma ameaça crescente em todos os ecossistemas, representando a maior parte dos resíduos que chegam aos oceanos, é o:

- a) Papel.
- b) Plástico.
- c) Carvão.
- d) Plâncton.

20) Os pais ou responsáveis têm a obrigação de matricular seus filhos ou pupilos na rede regular de ensino. Profissionais da educação, famílias e sociedade em geral devem denunciar situações de abandono escolar. No Brasil, a educação básica é considerada obrigatória para crianças e adolescentes com idade de:

- a) Dois a quinze anos.
- b) Quatro a dezessete anos.
- c) Três a doze anos.
- d) Cinco a dezoito anos.

21) É um fenômeno econômico que está relacionado à perda do poder de compra, que acontece pela depreciação do dinheiro ao longo do tempo, em decorrência do aumento generalizado e contínuo dos preços de produtos e serviços. A alternativa que melhor se relaciona ao trecho descrito é:

- a) Capitalismo.
- b) Deflação.
- c) Inflação.
- d) Recessão.





22) O SSD (*Solid State Drive*) é um componente de *hardware* que vem sendo muito utilizado na atualidade em substituição ao(à):

- a) Placa de rede.
- b) Disco rígido.
- c) Placa de vídeo.
- d) Processador.

23) No Windows 10, a barra horizontal que atravessa toda a base da área de trabalho e apresenta o botão Iniciar, os botões dos Programas (fixos e abertos) e a Área de Notificação (onde está o relógio), é denominada:

- a) Menu iniciar.
- b) Barra de tarefas.
- c) Barra de menus.
- d) Barra de ferramentas.

24) O Word 2010 é o processador de textos mais conhecido e utilizado do mundo. Para sublinhar um texto que será escrito pelo usuário, qual das opções a seguir deve estar selecionada na guia “Página Inicial” do programa?

- a) 
- b) 
- c) 
- d) 

LEGISLAÇÃO

25) De acordo com a Constituição Federal, não configura violação ao domicílio ingressar na “casa” de um indivíduo sem o consentimento do morador nas seguintes situações, EXCETO:

- a) Por vontade própria.
- b) Para prestar socorro.
- c) Em caso de flagrante delito ou desastre.
- d) Por determinação judicial, durante o dia.

26) Em conformidade com a Lei Orgânica do Município, assinalar a alternativa INCORRETA:

- a) É vedado ao Município recusar fé a documento público.
- b) O Município pode utilizar tributos com efeito de confisco.
- c) Ao Município, compete legislar sobre assuntos de interesse local.
- d) É atribuição do Município estabelecer normas de edificação, de loteamento, de arruamento e de zoneamento urbano e rural, bem como as limitações urbanísticas convenientes à ordenação do seu território, observada a Lei Federal.

27) De acordo com a Lei Orgânica do Município, assinalar a alternativa que preenche as lacunas abaixo CORRETAMENTE:

A publicidade de ato, programa, projeto, obra, serviço e campanha de _____, por qualquer veículo de comunicação, somente pode ter caráter informativo, educativo ou de orientação social e dela _____ nome, cor ou imagem que caracterizam a promoção pessoal de autoridade, servidor público ou partido político.

- a) particulares | não constarão
- b) particulares | constarão
- c) órgão público | constarão
- d) órgão público | não constarão

28) Em conformidade com a Lei Municipal nº 1.065/1986 - Regime Jurídico dos Servidores Públicos do Município, assinalar a alternativa que preenche as lacunas abaixo CORRETAMENTE:

A promoção consiste na elevação de funcionário _____, pelo critério de merecimento ou antiguidade, ao cargo ou nível imediatamente _____, à razão de 2/3 por antiguidade e 1/3 por merecimento.

- a) efetivo | inferior
- b) efetivo | superior
- c) temporário | superior
- d) temporário | inferior

29) Em conformidade com a Lei Municipal nº 1.065/1986 - Regime Jurídico dos Servidores Públicos do Município, são requisitos a se apurar durante o estágio probatório:

- I. Assiduidade.
- II. Pontualidade.
- III. Eficiência.

Estão corretos:

- a) Somente os itens I e II.
- b) Somente os itens II e III
- c) Somente os itens I e III.
- d) Todos os itens.

30) De acordo com a Lei Municipal nº 1.065/1986 - Regime Jurídico dos Servidores Públicos do Município, marcar C para as afirmativas Certas, E para as Erradas e, após, assinalar a alternativa que apresenta a sequência CORRETA:

- () Nunca será exigida fiança do funcionário que tenha bens, dinheiro ou valores públicos sob sua guarda ou responsabilidade.
- () A fiança poderá ser prestada em dinheiro; em títulos da dívida pública; em apólices de seguro e fidelidade funcional, emitidas por instituto oficial ou empresas autorizadas.
- () O funcionário responsável por alcance ou desvio de bens, dinheiro ou valores públicos ficará isento de responsabilidade administrativa e criminal, ainda que o valor da fiança cubra os prejuízos verificados.

- a) C - C - E.
- b) E - C - C.
- c) C - E - E.
- d) E - C - E.

CONHECIMENTOS ESPECÍFICOS

31) Nos termos da Lei nº 8.080/1990 - SUS, a alimentação, a moradia, o saneamento básico, o meio ambiente, o trabalho, a renda, a educação, a atividade física, o transporte, o lazer e o acesso aos bens e serviços essenciais, entre outros, são definidos como:

- a) Agravos sociais.
- b) Fatores de risco à saúde.
- c) Fatores determinantes e condicionantes da saúde.
- d) Fatores agravantes da saúde.

32) De acordo com a Portaria de Consolidação nº 2/2017, a Política Nacional de Promoção da Saúde (PNPS) adota, entre outros, como princípios:

- I. Equidade.
- II. Empoderamento.
- III. Autonomia.
- IV. Territorialidade.

Estão CORRETOS:

- a) Somente os itens I e II.
- b) Somente os itens II e III.
- c) Somente os itens III e IV.
- d) Todos os itens.

33) De acordo com o Estatuto da Criança e do Adolescente, os agentes públicos executores de medidas socioeducativas ou encarregados de cuidar de crianças e adolescentes, que utilizarem castigo físico ou tratamento cruel estarão sujeitos à(ao):

- a) Reclusão de um a três anos.
- b) Reclusão de dois a seis anos.
- c) Encaminhamento a cursos ou programas de orientação.
- d) Reclusão de um a três anos e multa.

34) Em conformidade com a Lei nº 10.741/2003 - Estatuto da Pessoa Idosa, no tocante ao direito à vida, assinalar a alternativa que preenche as lacunas abaixo CORRETAMENTE:

É obrigação _____ garantir à pessoa idosa a proteção à vida e à saúde, mediante _____ que permitam um envelhecimento saudável e em condições de dignidade.

- a) da sociedade | políticas etárias
- b) da assistência social | concessões de benefícios
- c) da família | ajudas do Estado
- d) do Estado | efetivação de políticas sociais públicas

35) Em relação à placa bacteriana, analisar os itens abaixo:

- I. O acúmulo de placa dentária tende a ser maior em regiões nas quais a higiene bucal não é realizada de modo apropriado.
- II. Enquanto o biofilme não se transformou em tártaro, é possível removê-lo com higiene oral adequada e frequente.
- III. O controle da placa, por meio da higiene bucal, é a medida mais direta e abrangente de controle e prevenção da cárie dentária e de doenças gengivais.

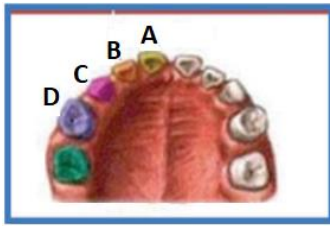
Está(ão) CORRETO(S):

- a) Somente o item I.
- b) Somente o item II.
- c) Somente os itens I e III.
- d) Todos os itens.

36) Em relação à higiene bucal, é recomendado que, nas crianças, a limpeza da cavidade bucal seja iniciada:

- a) Antes mesmo da erupção dental.
- b) A partir da erupção do primeiro dente decíduo.
- c) Com a erupção dos dentes permanentes.
- d) Quando a dentição estiver completa.

37) Considerando-se a arcada superior da dentição decídua, o canino é o dente indicado pela letra:



- a) A.
- b) B.
- c) C.
- d) D.

38) A lesão cariosa é considerada como manifestação clínica de um(a):

- a) Desequilíbrio hormonal.
- b) Inflamação de origem desconhecida.
- c) Infecção viral.
- d) Infecção bacteriana.

39) Após a realização das moldagens, dentre os descritos abaixo, o material de escolha para a confecção dos modelos é o(a):

- a) Gesso.
- b) Resina acrílica.
- c) Amálgama de prata.
- d) Alginato.

40) Sobre os dispositivos de proteção e segurança contra a radiação, assinalar a alternativa CORRETA:

- a) Quando são usados filmes radiográficos convencionais, a velocidade do filme refere-se à quantidade de radiação necessária para obtenção da imagem. Quanto mais lenta for a velocidade do filme, menor será a exposição do paciente à radiação.
- b) Um avental de chumbo deve ser usado em todos os pacientes em todas as exposições. Além do avental, um protetor de tireoide deve ser usado em todos os pacientes pediátricos devido ao período de maturação da tireoide que ocorre até os 10 anos.
- c) Se o paciente é uma criança que não seja capaz de cooperar, poderá ficar sentado no colo de um dos pais na cadeira odontológica. A criança é coberta com o avental de chumbo que, por consequência, já protege o responsável por ela.
- d) O colimador é usado para restringir o tamanho e a forma do feixe de raios X, reduzindo a exposição do paciente.